



TÜRKÇE TESTİ

1. Bu testte 15 soru vardır. Bu testin cevaplanması için tavsiye edilen süre 25 dakikadır.
2. Cevaplarınızı cevap kâğıdının Türkçe Testi için ayrılan bölümüne işaretleyiniz.

1, 2 ve 3. soruları aşağıdaki parçaya göre cevaplayınız.

Latince "hayat" anlamına gelen "vita" kelimesinden türemiş olan vitamin, canlı vücudu içerisinde yaşanan metabolik olayların işleyişinde biyokimyasal düzenleyici görevini gören ve sağlıklı bir yaşam sunan organik bileşiklerdir.

Bilinen vitaminler şunlardır: A vitamini, B vitamini, C vitamini, D vitamini, E vitamini, K vitamini. Vitaminler yağda eriyen vitaminler ve suda eriyen vitaminler olmak üzere iki gruba ayrılır. Örneğin çok sevdiğimiz C ve B vitamini suda erirken diğerleri erimemektedir.

Yağda çözünen vitaminler yağa benzer, suda çözünmez; yağlara bağlanabilir. Yağda eriyen vitaminler, daha çok yüksek yağ içerikli gıdalarda bulunur ve yağla yendiği zaman kan dolaşımı sırasında çok iyi emilir.

Suda çözünen vitaminler vücudun ihtiyacı kadar emilir ve suya karışarak idrarla birlikte atılır yani vücutta depolanmaz. Yağda çözünen vitaminler ise vücutta depolanan vitaminlerdir, yani dışarı atılmaz ve vücut ihtiyaç duyduğunda bu vitaminleri kullanır.

1. Metindeki bilgilere göre suda ve yağda eriyen vitaminler aşağıdakilerin hangisinde doğru sınıflandırılmıştır?

	SUDA ERİYENLER	YAĞDA ERİYENLER
A)	B, C	A, D, E, K
B)	A, D, E, K	B, C
C)	A, B, C	D, E, K
D)	B, C, D	A, E, K

2. Metinde vitaminler ile ilgili olarak aşağıdakilerden hangisine değinilmemiştir?

- A) Sağlık açısından önemli organik bileşiklerden olduğuna
- B) Vücudun mikroplara karşı savaşmasında önemli rol oynadığına
- C) Vücuttaki metabolik olayların işleyişinde düzenleyici görevi üstlendiğine
- D) Vücutta depolanan ve depolanmayan türlerinin olduğuna

3. Bu metne en uygun başlık aşağıdakilerden hangisi olur?

- A) Sağlıklı Yaşam
- B) Vitaminler
- C) Vitaminler ve Yağlar
- D) Vitamin Açısından Zengin Besinler

4.

Anlamca birbirinin karşısı olan, birbiriyle çelişen kelimelere zıt anlamlı kelimeler adı verilir.

Buna göre aşağıdaki sözcük çiftlerinden hangisi zıt (karşıt) anlamlı değildir?

- A) Soğuk → sıcak
- B) Kapalı → açık
- C) Derin → geniş
- D) Cömert → cimri

Yanıt Yayınları

5. ★ Adana'ya giderken Gülek Geçit'ini kullandık.
- ▲ Dolmabahçe Sarayı'nı da gezdiniz mi?
- Ömer Seyfettin'in "Falaka" hikâyesini okuduk.
- Şereflikoçhisar İlçesi, Tuz Gölü'ne çok yakın.
- Yukarıdaki cümlelerin hangisinde bir yazım yanlışlığı vardır?**
- A) ★ B) ▲ C) ● D) ■

6. 1. kurulur
2. temiz
3. hesaplarla
4. iyi
5. dostluklar

Numaralanmış sözcüklerle anlamlı ve kurallı bir cümle oluşturulduğunda sıralama aşağıdakilerden hangisi olur?

- A) 5 - 2 - 1 - 4 - 3
B) 4 - 3 - 5 - 1 - 2
C) 2 - 5 - 4 - 3 - 1
D) 3 - 1 - 5 - 2 - 4

7. Alain "Kendisinden bir şey öğrenilmeyecek tek bir insana rastlamadım." demiştir.

Alain, bu sözyle aşağıdakilerden hangisini anlatmak istemiştir?

- A) İnsanların öğrenmeye açık bir yönünün olduğunu
B) Her insandan bir şeyler öğrenilebileceğini
C) İnsanın her şeyi başkalarından öğrendiğini
D) İnsanın öğrenmesinin hayat boyu sürdüğünü

8. Mahallemizdeki çocuk parkında oynuyorduk. Hasan, eve gitmek istediğini söyledi. Karşıdan karşıya geçiyordu, hızla gelen bir kamyonet ona çarptı. Çarpmanın etkisiyle Hasan yol kenarına savruldu. Hemen onun yardımına koştuk. Betül, 112 sağlık ekiplerine haber verdi. Kısa sürede olay yerine gelen ekipler Hasan'a ilk müdahaleyi olay yerinde yaptı. İlk müdahalenin ardından Hasan en yakın hastaneye kaldırıldı. Kazanın etkisiyle Hasan'ın ayakkabıları yola fırlamıştı. Biz ayakkabıları alarak Hasan'ın ailesine teslim ettik.

Bu metinde aşağıdaki hikâye unsurlarından hangisi belirgin değildir?

- A) Olay B) Zaman
C) Yer D) Kişi

9, 10 ve 11. soruları aşağıdaki parçaya göre cevaplayınız.

Montaigne, kitapları; hayatını dolduran, doyuran, avuttan bir değer olarak kabullenir. Her türlü olumsuzlukta onlara sığınarak teselli bulduğunu söyleyerek şöyle devam eder: “Zaman yürür gider beni dertlendirmeden çünkü kitaplarımın dilediğim zaman bana sevinç verecekleri, yaşamama destek olacakları düşüncesi anlatabileceğimden daha büyük bir rahatlık verir bana. İnsan yaşamı denen bu yolculukta benim bulduğum en iyi azık kitaplardır ve ondan yoksun anlayışta insanlara çok acırım.”

9. Parçaya göre Montaigne hangi insanlara acımaktadır?

- A) Cahil olanlara
- B) Kitaptan yoksun olanlara
- C) Dertlerini kimseyle paylaşmayanlara
- D) Kendilerinden başka kimseyi sevmeyenlere

10. Parçaya göre Montaigne dertlerinden kurtulmayı neye bağlamaktadır?

- A) İnsanlarla sohbet etmeye
- B) İyimser bir yapısının olmasına
- C) Çok sayıda dostunun olmasına
- D) Kitaplarının kendisini rahatlatmasına

11. Parçadaki altı çizili cümlede nasıl bir anlam ilişkisi vardır?

- A) Tanımlama
- B) Amaç-sonuç ilişkisi
- C) Koşul-sonuç ilişkisi
- D) Neden-sonuç ilişkisi

12. Akli konuşturan, yürekte ne varsa olduğu gibi gösteren, ruhların sevgiyle mayalanmasını sağlayan, davranışların en samimi biçimde sergilenmesine yardımcı olan gerçek dost sadece kitaplardır. Kitaplarla dostluk kuranlar, onun kılavuzluğunda hayatın dinamizmini de yakalarlar. Bunu başaran şair, yazar ve fikir adamları; o dostluğu kutsal bir emanet olarak insanlığa bırakırlar.

Bu parçaya göre aşağıdakilerden hangisi kitabın kazandırdıklarından biri değildir?

- A) İnsanın içinde olanları yansıtmak
- B) İnsanlar arasında iletişimi sağlamak
- C) Davranışlara içtenlik kazandırmak
- D) Ruhlarda sevgi pınarları oluşturmak

13 ve 14. soruları aşağıdaki şiire göre cevaplayınız.

Kirazın derisinin altında kiraz,
Narın içinde nar...
Benim yüreğimde boylu boyunca
I
Memleketim var.
Canıma ciğerime dek işlemiş,
II
Canıma ciğerime,
Sapına kadar.
Elma, dalından uzağa düşmez.
III
Ne yana gitsem nâfile,
Memleketin hâli gözümden gitmez.
Bin bir yerimden bağlanmışım,
Bundan ötesine aklım ermez.
IV

Bedri Rahmi EYÜBOĞLU**13. Şiirin ana duygusu aşağıdakilerden hangisidir?**

- A) Yurt sevgisi
- B) Doğa güzellikleri
- C) Yaşama sevinci
- D) Çocukluk özlemi

14. Bu dizelerdeki numaralanmış sözcüklerin hangisinde herhangi bir ses olayı yoktur?

- A) I.
- B) II.
- C) III.
- D) IV.

15. Astronotlar uzayda sabah alarm sesiyle uyanır. Hızla temizlenip kahvaltı ettikten sonra, yeryüzündeki görev kontrol ekibiyle yapacakları günlük toplantıları için hazırlanırlar. Bu toplantıda, o gün yapılacak işler ve genel iş planı gözden geçirilir. Uzay istasyonu ile yeryüzü arasındaki telsiz bağlantısı sürekli olarak açıktır. Astronotlar günlük işlerini yaparken yeryüzündeki ekip de onları izler. Bu işlerin bir bölümü, Uluslararası Uzay İstasyonu'ndaki sistemlerin günlük bakımı ve onarımlarıyla ilgilidir. Ancak astronotların zamanının çoğu, burada yürütülen bilimsel deneylerle ilgili işleri yaparak geçer.

Bu parçanın konusu aşağıdakilerden hangisidir?

- A) Astronotların uzay istasyonundaki günlük hayatları
- B) Astronotların taşınması gereken özellikler
- C) Uzay istasyonlarında yapılan araştırmalar
- D) Uzay yolculuğunun astronotlar üzerindeki etkileri



SOSYAL BİLGİLER TESTİ

1. Bu testte 10 soru vardır. Bu testin cevaplanması için tavsiye edilen süre 15 dakikadır.
2. Cevaplarınızı cevap kâğıdının Sosyal Bilgiler Testi için ayrılan bölümüne işaretleyiniz.

1. Yorgun ve uykusuz kullanılan bir araç kazaya neden olabilmektedir. Kazalar sağlık sorunlarına, can ve mal kayıplarına yol açabilmekte, trafik sıkışıklığına neden olup insanların gidecekleri yere zamanında ulaşmasını engellemektedir.

Bu metinden, bireylerin aşağıdakilerden hangisine yönelik duyarlılık kazanması gerektiği sonucu çıkarılabilir?

- A) Farklılıklara saygılı olunmasına
- B) Yeniliklere uyum sağlanmasına
- C) Sorumlulukların yerine getirilmesine
- D) Düşüncelerin serbestçe dile getirilebilmesine

2. Sümerler ziggurat adı verilen tapınaklar inşa etmişlerdir.

Bu tapınaklar ibadet edilen mekanlar olmalarının dışında aşağıdaki işlevlerden hangisine sahip olmamıştır?

- A) Saray
- B) Okul
- C) Gözlemevi
- D) Depo

3.



Yukarıda Türkiye'nin turizm haritasından bir kesit gösterilmiştir.

Buna göre tatillerini İzmir, Denizli, Muğla ve Antalya'da geçiren turistlerin Türkiye'nin;

- I. Tarihî eserleri
- II. Kültürel özellikleri
- III. Doğal güzellikleri

değerlerinden hangileri ile ilgili bilgi edinmesi beklenir?

- A) Yalnız I
- B) Yalnız II
- C) I ve II
- D) I, II ve III

4. Bir toplumda nesilden nesile aktararak yaşatılan gelenek, görenek, inanış, düşünce ve sanat varlıklarının tümüne kültür adı verilir. Yaşadığımız bölgenin kültürel özellikleri, ülkemizin bir başka bölgesindeki kültürel özelliklere benzebilir veya farklı olabilir. Bu durumun oluşmasında iklim şartları, yeryüzü şekilleri, ekonomik faaliyetler, gelenek ve görenekler etkili olabilmektedir.

Buna göre aşağıdakilerden hangisi Türk kültürünün yörelere göre değişiklikler göstermesine örnek verilemez?

- A) Karadeniz'de balıklı, Ege'de zeytinyağlı yemeklerin ön planda olması
B) Kız isteme, nişan ve düğün törenlerinin yöreden yöreye farklılıklar göstermesi
C) Ladik, Gördes, Hereke, Bünyan ve Isparta'da halıcılık; İznik ve Kütahya'da çinçilik sanatlarının yaygın olması
D) 23 Nisan Ulusal Egemenlik ve Çocuk Bayramı'nın dünyanın birçok ülkesinden gelen çocukların da katılımıyla kutlanması

5. İyonlarda demokratik bir yönetim anlayışı vardı. Bu yönetim anlayışının sağladığı ortamda Tales ve Pisagor, matematik; Hipokrat, tıp; Homeros, edebiyat; Herodot, tarih; Diyojen, felsefe alanında önemli çalışmalar yapmıştır. Efes Antik Kenti'nin bir bölümü ile Artemis Tapınağı İyonlar döneminde inşa edilmiştir. İyonlar, Fenike alfabesini öğrenmiş ve bu alfabenin Batı'ya aktarılmasını sağlamışlardır.

Bu bilgilere göre, İyonlarla ilgili aşağıdakilerden hangisi söylenemez?

- A) Özgür düşünce ortamına sahip oldukları
B) Bilim ve sanat alanında ileri bir düzeye ulaştıkları
C) Anadolu'da yazı kullanan ilk uygarlık oldukları
D) İnsanlığın kültürel mirasının yayılmasını sağladıkları

7.

Geçmişte	Günümüzde
Sevinçlerimizi paylaştığımız günlerde halay, horon, zeybek vb. oyunlar oynanırdı.	Mutlu günlerimizde geleneksel halk oyunlarımızın yanında modern danslar da yapılır hâle geldi.
Bayramlarda aile büyüklerine, akrabalara, komşulara gidip bayramlaşıldı, kartpostallar gönderilirdi.	Yüz yüze bayramlaşmanın yanı sıra telefonda konuşarak, mesaj atarak ve sosyal medya araçları ile iletişime geçerek bayramlaşıyor.

Tabloda verilenler Türk kültüründe;

- I. Değişim
II. Süreklilik
III. Özden kopma

olgularından hangilerine örnek gösterilebilir?

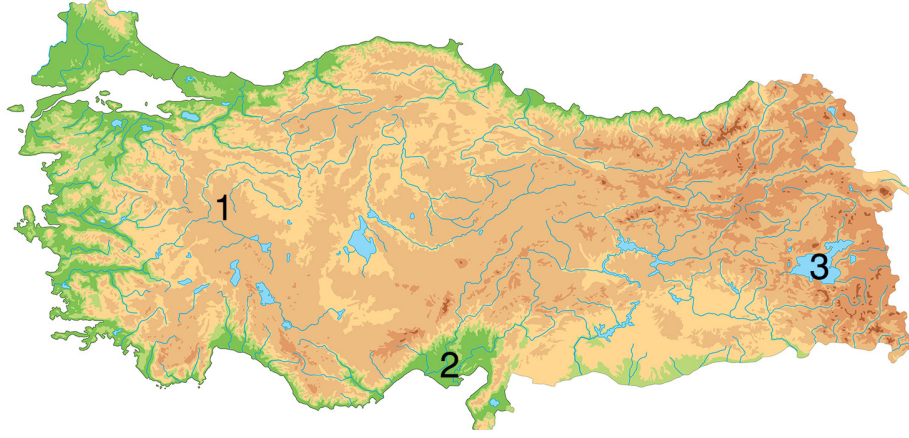
- A) Yalnız I
B) Yalnız III
C) I ve II
D) II ve III

6. Geçmişte yaşamış insan topluluklarına ait kalıntıların bulunduğu yapı ve alanlara tarihî mekân denir.

Buna göre aşağıdakilerden hangisi tarihî mekan değildir?

- A) Topkapı Sarayı
B) Manyas Kuş Cenneti Millî Parkı
C) Safranbolu Evleri
D) Çatalhöyük Antik Kenti

8. Aşağıda, Türkiye'nin dilsiz fiziki haritasında üç yer şekli numaralandırılarak gösterilmiştir.



Buna göre, bu yer şekillerinin ne olduğu, aşağıdaki seçeneklerin hangisinde doğru verilmiştir?

1	2	3
A) Ova	Plato	Göl
B) Ova	Göl	Plato
C) Plato	Ova	Göl
D) Göl	Plato	Ova

9. Türkiye arazisi, yaklaşık 783 562 km² lik bir alana sahiptir. Bu arazideki yer şekillerini, Türkiye fiziki haritası üzerinde tam tepeden görmekteyiz. Bu harita, yer şekillerinin belirli bir oranda küçültülüp, harita çizilecek kâğıda sığdırılmasıyla elde edilir.

Buna göre, Türkiye fiziki haritasıyla ilgili olarak, aşağıdakilerden hangisi söylenemez?

- A) Belirli bir ölçeğe göre çizilmiştir.
B) Türkiye'deki bitki örtüsünün dağılışı hakkında bilgi vermektedir.
C) Türkiye arazisini kuş bakışı olarak göstermektedir.
D) Yer şekillerinin düzlem üzerine aktarılmasıyla elde edilmiştir.

10. Türkiye'de görülen Akdeniz iklimiyle ilgili olarak, aşağıdakilerden hangisi söylenebilir?

- A) Yazlar sıcak ve kurak, kışlar ılık ve yağışlıdır.
B) Doğal bitki örtüsü bozkırdır.
C) Türkiye'nin denize kıyısı olmayan yerlerinde görülür.
D) Her mevsim bol yağışlı geçer.



DİN KÜLTÜRÜ VE AHLAK BİLGİSİ TESTİ

1. Bu testte 10 soru vardır. Bu testin cevaplanması için tavsiye edilen süre 15 dakikadır.
2. Cevaplarınızı cevap kâğıdının Din Kültürü ve Ahlak Bilgisi Testi için ayrılan bölümüne işaretleyiniz.

1.

Hiz. Peygamber Kadir Gecesi'nde hangi duayı okuması gerektiğini soran Hiz. Âişe'ye (r.a.), "Allah'ım! Sen affedicisin, ikram sahibisin, affetmeyi seversin, beni de affet." şeklinde dua etmesini tavsiye etmiştir.



Öğretmenin yukarıdaki açıklamasına göre duayla ilgili olarak aşağıdakilerden hangisi söylenebilir?

- A) Dua, ibadetlerin özüdür.
- B) Belli zaman dilimlerine özgü dualar vardır.
- C) Hiçbir dua karşılıksız bırakılmaz.
- D) Sadece kendimiz için değil, başkaları için de dua etmemiz gerekir.

2. Hiz. İbrahim (a.s.), Kur'an'da hayat hikâyesi anlatılan peygamberlerden biridir. Kur'an'da onun tevhid mücadelesi üzerinde durulmaktadır.

Aşağıdakilerden hangisi Hiz. İbrahim'in (a.s.) tevhid mücadelesi verdiği gösteren örneklerdendir?

- A) Oğluyla birlikte Kâbe'yi inşa etmesi
- B) Kendisine suhuf gönderilmesi
- C) Putlara tapan kavmine Allah'ın (c.c.) varlığını ve birliğini anlatması
- D) "Halilullah" yani "Allah'ın dostu" olarak nitelendirilmesi

3. Ahmet, arkadaşlarına okula gelmeden önce farz bir ibadeti yerine getirdiğini söylemiştir.

Buna göre Ahmet aşağıdaki ibadetlerden hangisini yapmış olabilir?

- A) Yaşlı bir insanın poşetlerini taşımıştır.
- B) Kur'an-ı Kerim okumuştur.
- C) Evden çıkarken dua etmiştir.
- D) Sabah namazını kılmıştır.

Yanıt Yayınları

4. Yüce Allah evreni mükemmel bir düzen ve ahenkle yaratmıştır. Allah'ın (c.c.) yarattığı bu düzen ve ahenk O'nun varlığının delillerindendir. Örneğin Allah (c.c.) atmosferle Dünya'yı çepeçevre kuşatmıştır. Eğer atmosfer olmasaydı uzayda bulunan nesneler sürtünme olayı olmadan yeryüzüne düşerdi ve bu nedenle Dünya yaşanamaz hale gelirdi. Yüce Allah bu konuda şöyle buyurmuştur:

Yukarıdaki metnin aşağıdaki ayetlerden hangisiyle devam etmesi en uygundur?

- A) "O, yedi göğü tabaka tabaka yaratandır. Rahmân'ın yaratışında hiçbir uyumsuzluk göremezsin. Bir kere daha bak! Hiçbir çatlak (ve düzensizlik) görüyor musun?" (Mülk suresi, 3. ayet)
- B) "Fakat zalimler, kendilerine söylenenleri başka sözlerle değiştirdiler. Bunun üzerine biz, yapmakta oldukları kötülükler sebebiyle zalimlerin üzerine gökten acı bir azap indirdik." (Bakara suresi, 59. ayet)
- C) "Şüphesiz ki ne yerde ne de gökte hiçbir şey Allah'a gizli kalmaz." (Âl-i İmrân suresi, 5. ayet)
- D) "Allah'ın, hakkında hiçbir delil indirmedığı şeyleri O'na ortak koşmaları sebebiyle, kâfirlerin kalplerine yakında korku salacağız..." (Âl-i İmrân suresi, 151. ayet)

5. Allah'ın (c.c.) birçok güzel ismi vardır. Bu isimleri Kur'an-ı Kerim'den ve Peygamberimizin sözlerinden öğrenmekteyiz.

Yukarıdaki metinde aşağıdakilerden hangisiyle ilgili bilgi verilmiştir?

- A) Esmâ-i Hüsnâ B) Tevhid
C) İhlâs D) Hanîf

7.

- I Allâhu's Samed.
- II Kul huvallâhu ehad.
- III Ve lem yekun lehû küfüven ehad.
- IV Lem yelid ve lem yûled.

Yukarıda ayetleri karışık olarak verilen İhlâs suresinin doğru okunuş sırası aşağıdakilerden hangisidir?

- A) I - IV - III - II B) II - I - IV - III
C) III - II - I - IV D) II - IV - I - III

6. Teravih namazı ramazan ayına özgü bir namazdır.
- Teravih namazıyla ilgili olarak aşağıda verilen bilgilerden hangisi yanlıştır?**

- A) Kılınması sünnet olan namazlardandır.
- B) Genelde yirmi rekât olarak kılınır.
- C) Yatsı namazından sonra kılınmaktadır.
- D) Cemaatle camide kılınması şarttır.

8. Din Kültürü ve Ahlak Bilgisi Öğretmeni Ömer Bey, derste oruç ibadetinin manevi arınmaya vesile olduğunu anlatmıştır.

Buna göre Ömer Öğretmen'in derste bu konuyla ilgili olarak aşağıdaki ayet ve hadislerden hangisini söylemesi beklenir?

A) "Mübarek Ramazan ayı size geldi. Yüce Allah bu ayda size oruç tutmayı farz kıldı..."

(Nesâî, Sıyâm, 5)

B) "Öyleyse içinizden kim bu aya (ramazana) ulaşırsa onu oruçla geçirsin..."

(Bakara suresi, 185. ayet)

C) "Kim inanarak ve karşılığını Allah'tan bekleyerek ramazan orucunu tutarsa geçmiş günahları bağışlanır."

(Buhârî, İman, 28)

D) "Oruçlunun ağız kokusu Allah katında misk kokusundan daha güzeldir."

(Müslim, Sıyâm, 164)

9. Kültürümüzde alışverişte, yeni bebeği olan bir aileyi ziyarette, asker uğurlarken, yemekten kalkarken söylenen, alışlagelmiş birçok dua vardır.

Aşağıdaki dualardan hangisinin yukarıdaki metinde verilen olaylarda söylenmesi uygun değildir?

- A) Verdiği nimetler için Allah'a şükürler olsun.
B) Allah bol kazanç nasip etsin.
C) Allah analı babalı büyütsün.
D) Allah bir yastıkta kocatsın.

10.

Yürekler, bir başka hislenir şimdi,
Beden değil ruhlar beslenir şimdi,
Ezanlar bir başka seslenir şimdi,
Hoş geldin, ey on bir ayın sultânı!

Cengiz Numanoğlu

Yukarıdaki şiirde ramazan ayının hangi yönüne vurgu yapılmıştır?

- A) Günahların affedildiği ay olmasına
B) Manevi güzelliklerin yaşandığı ay olmasına
C) İnsanın beden sağlığını koruyan ay olmasına
D) Toplumsal birliği güçlendiren ay olmasına



İNGİLİZCE TESTİ

1. Bu testte 10 soru vardır. Bu testin cevaplanması için tavsiye edilen süre 15 dakikadır.
2. Cevaplarınızı cevap kâğıdının İngilizce Testi için ayrılan bölümüne işaretleyiniz.

1 - 6: FOR THESE QUESTIONS, CHOOSE THE BEST OPTION TO FILL IN THE BLANKS.

1.



Jack: Where is your mom?

Kate: She's at the ----- . She wants to buy some bread and cookies.

- | | |
|-------------|-----------------|
| A) bakery | B) fire station |
| C) toy shop | D) pharmacy |

2. **Danny:** -----?

Mark: No! I don't like it. I am very bad at running fast.

- | |
|-----------------------------|
| A) What are your hobbies |
| B) Do you enjoy playing tag |
| C) Can you play chess |
| D) Why do you like camping |

3. **David:** -----?

Kate: Two. English and German.

- | |
|------------------------------------|
| A) Are you from Italy |
| B) How old are you |
| C) How many languages do you speak |
| D) Where are you from |

4. **Carla:** Do you like Science?

Eric: ----- . Maths is my favorite.

- | |
|-------------------------------|
| A) Yes, I do |
| B) I hate running and jumping |
| C) I love doing experiments |
| D) No, not really |

5.



Tom: Look at Jane!

Sue: Oh, yes! She's very good at playing -----.

Tom: Let's go and play with her.

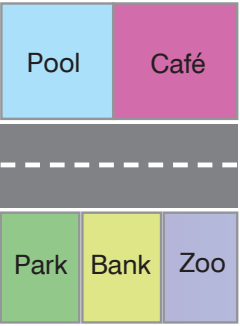
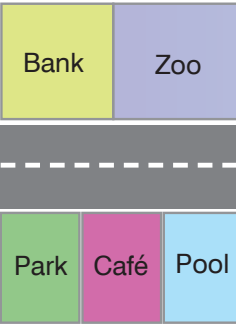
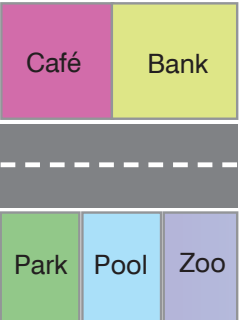
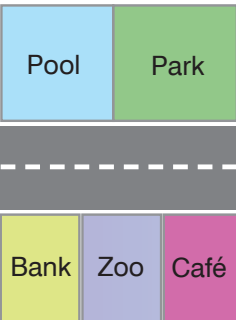
- | | |
|------------------|---------------------|
| A) hopscotch | B) Chinese whispers |
| C) hide and seek | D) blind man's buff |

6. **Linda:** -----?
George: Not bad, thanks. You?
Linda: Great. Thank you.

- A) What's your favorite class
 B) How are you doing
 C) Is Social Studies on Tuesday
 D) What about Art

7. **Jane:** Where is the zoo?
Olga: It's opposite the bank.

Which of the following maps is about the dialogue above?

- A) 
- B) 
- C) 
- D) 

8. Hi! I am Fred. My favorite hobby is sculpting. And my favorite activities are camping and climbing. Do I like playing soccer? No! I dislike it. But my brother loves playing soccer. He's very good at it.

Who cannot be Fred?

A)



B)



C)



D)



9 - 10: ANSWER THESE QUESTIONS ACCORDING TO THE CITY MAP BELOW.



9. Which of the following statements is TRUE about the city map above?

- I. The school is next to the museum.
- II. The hotel is behind the park.
- III. The cinema is in front of the pharmacy.
- IV. The theatre is between the stadium and the supermarket.

- A) I and III
- B) II and III
- C) I and IV
- D) II and IV

10. Sandra: Excuse me, how can I get to the post office?

Jason: That's easy. -----.

Sandra: Thank you.

- A) Go straight ahead. Turn left. It's on your right. It's near the bus station.
- B) Go straight ahead. Take the second right. It's on your right. It's next to the bank.
- C) Go past the cinema. Take the second left. Cross the road. It's on your left.
- D) Go past the bus station. Cross the road. It's behind the museum.



MATEMATİK TESTİ

1. Bu testte 15 soru vardır. Bu testin cevaplanması için tavsiye edilen süre 30 dakikadır.
2. Cevaplarınızı cevap kâğıdının Matematik Testi için ayrılan bölümüne işaretleyiniz.

1. A şehrine gelen turist sayıları (2014 - 2018) aşağıdaki tabloda gösterilmiştir.

Yıllar	Ziyaretçi Sayısı
2014	10 911
2015	9875
2016	5479
2017	25 687
2018	32 149



Tabloda verilen yıllardaki turist sayılarına göre, en çok ve en az turistin geldiği yıllar arasındaki turist sayıları farkı kaçtır?

- A) 26 670 B) 26 870 C) 27 001 D) 28 020

2. **Hayvan barınakları**, devlet ya da özel kuruluşlar tarafından işletilen, genellikle sokakta yetişmiş, kayıp olmuş ya da sahipleri tarafından dışlanmış hayvanlara sığınacak geçici bir yer sağlamak için, genellikle hayvan hakları savunucularının ve hayvan severlerin desteğiyle kurulan yerlerdir. Çoğunlukla kedi ve köpeklerle ev sahipliği yaparlar.

Bir hayvan barınağında bulunan 240 tane hayvanın $\frac{23}{48}$ 'i kedidir.

Buna göre, bu hayvan barınağındaki hayvanların kaç tanesi kedidir?


- A) 115 B) 120 C) 125 D) 130

3. **Problem:** “Bir çıkarma işleminde eksilen, çıkan ve farkın toplamı 480’dir. Bu çıkarma işleminde fark 150 olduğuna göre, çıkan sayı kaçtır?”

Yukarıdaki problemi çözmek için Hayati’nin sırası ile yapması gereken işlemler aşağıdakilerden hangisinde doğru olarak verilmiştir?

- A) $480 \div 2 = 240$
 $240 + 150 = 390$
- B) $480 + 150 = 630$
 $630 \div 3 = 210$
- C) $480 \div 2 = 240$
 $240 - 150 = 90$
- D) $480 \div 3 = 160$
 $160 - 150 = 10$

4. Çetincan, otomobiliyle A şehrinden B şehrine gidecektir. A şehri ile B şehri arası 1296 km uzunluğundadır. Çetincan, 322 km gittikten sonra 1. molasını, 398 km daha gidince 2. molasını vermiştir. Çetincan arabada bulunan oğluna, ikinci molasını verdikten sonra "Yaklaşık km yolumuz kaldı." demiştir.



Çetincan, kalan yolu soruda verilen sayıları en yakın yüzlüğe yuvarlayarak tahmin ettiğine göre, boş bırakılan yere (.....) kaç yazılmalıdır?

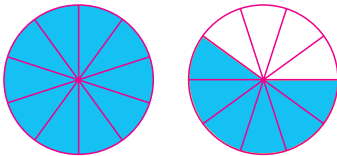
- A) 600 B) 500 C) 400 D) 300

5. Orhan maaşının $\frac{3}{10}$ 'u ile evinin aylık kirasını, $\frac{1}{4}$ 'ü ile de kredi kartı borcunu ödemiştir.

Orhan kredi kartına 1250 TL ödediğine göre, kiraya kaç TL ödemiştir?

- A) 1250 B) 1400
C) 1450 D) 1500


6.



Yukarıda modellenen kesir aşağıdakilerden hangisine denk değildir?

- A) $\frac{8}{5}$ B) $\frac{12}{15}$ C) $\frac{64}{40}$ D) $\frac{32}{20}$

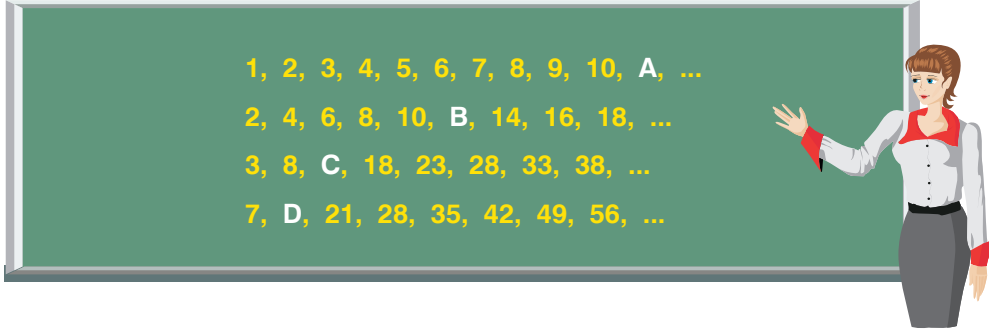
7. Aşağıda bir toplama işlemi verilmiştir.



Buna göre, kutuların içine gelmesi gereken rakamların toplamı kaçtır?

- A) 10 B) 12 C) 15 D) 18

8. Aşağıdaki tahtada Ayşe Öğretmen dört tane sayı örüntüsü vermiş, fakat bu örüntüde bazı sayıların yerine harfler yazmıştır.



Verilen sayı örüntülerindeki bu harflerin yerlerine gelmesi gereken sayılar küçükten büyüğe doğru dizildiğinde başka bir sayı örüntüsünün sırasıyla 7, 8, 9 ve 10. adımlarındaki sayılar olmaktadır.

Buna göre, oluşan bu yeni örüntünün 1. adımındaki sayı kaçtır?

- A) 4 B) 5 C) 6 D) 7

9.



Ömer'in söylediğine son üç ayda kütlesi kaç kg artmıştır?

- A) 1 B) 11 C) 15 D) 19

Yanıt Yayınları

10. Yusuf elindeki kitabın; $\frac{1}{8}$ 'ini cumartesi, $\frac{1}{4}$ 'ini pazar, $\frac{1}{24}$ 'ünü pazartesi ve $\frac{1}{48}$ 'ini de salı günü okumuştur.

Buna göre, Yusuf'un en çok kitap okuduğu gün aşağıdakilerden hangisidir?

- A) Cumartesi B) Pazar
C) Pazartesi D) Salı

11.

29 087 354

sayısı ile ilgili aşağıda verilen ifadelerden doğru olanların başına **D**, yanlış olanların başına **Y** yazılacaktır.


Milyonlar basamağında 9 rakamı vardır.



Onlar basamağındaki rakam, birler basamağındaki rakamdan 1 fazladır.



Binler bölümündeki rakamların sayı değerleri toplamı 12'dir.



Birler bölümündeki rakamların sayı değerleri toplamı 11'dir.

Buna göre, yukarıdan aşağıya doğru sırası ile **D** ve **Y** harfleri aşağıdaki hangi sırada yazılacaktır?

A) D, Y, D, Y

B) D, Y, Y, D

C) D, D, Y, Y

D) Y, D, Y, D

12. Süleyman ve Can, trenlerde tanesi 3'er TL'den oyuncak satmaktadır. Bir gün içinde Süleyman 128, Can ise 96 oyuncak satmıştır.

Buna göre, bir günlük satıştan; Süleyman'ın, Can'dan kaç TL fazla aldığını bulmak için aşağıdaki işlemlerden hangisi yapılmalıdır?

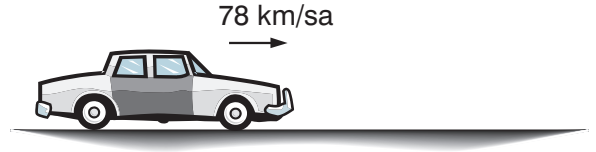
- A) $(3 \times 96) - 128$
 B) $(3 \times 128) - 96$
 C) $(3 \times 128) + (3 \times 96)$
 D) $(3 \times 128) - (3 \times 96)$

13. Eşit büyüklükteki iki karpuzun birini Şerife, diğerini de Nihan almıştır. Şerife kendi karpuzunu 4 eş dilime bölmüş ve birini yemiştir. Nihan ise kendi karpuzunu 12 eş dilime bölmüş ve bir kaç dilimini yemiştir.

Şerife ve Nihan eşit miktarda karpuz yediğine göre, Nihan kendi karpuzundan kaç dilim yemiştir?

- A) 2 B) 3 C) 4 D) 6

14. Mahmut Bey otomobiliyle saatte ortalama 78 km yol almaktadır. Mahmut Bey otomobiliyle üç günde toplam 32 saat seyahat etmiştir.



Buna göre, Mahmut Bey üç günde otomobiliyle toplam kaç km yol gitmiştir?

- A) 2496 B) 2506 C) 2512 D) 2568

15. Aşağıda matematik öğretmeni Fahrettin Bey'in tahaya yazdığı bir toplama işlemi görülmektedir.

$$2947 + 1079$$

Sınıftaki öğrencilerden; Esat, verilen bu toplama işleminin tahminî sonucunu bulurken sayıları en yakın onluğa, Sinem ise en yakın yüzlüğe yuvarlayarak yapmıştır.

Buna göre, Esat ve Sinem'in bulduğu tahminî sonuçlar arasındaki fark kaçtır?

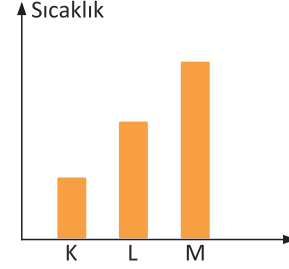
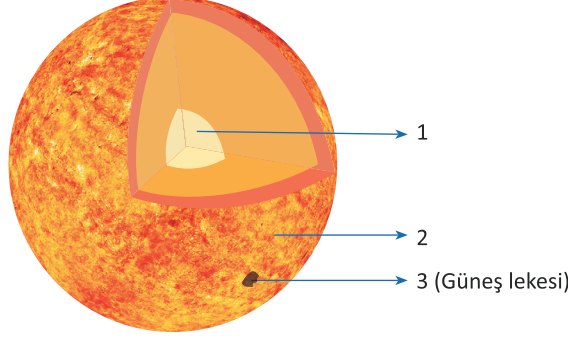
- A) 20 B) 25 C) 30 D) 33



FEN BİLİMLERİ TESTİ

1. Bu testte 15 soru vardır. Bu testin cevaplanması için tavsiye edilen süre 30 dakikadır.
2. Cevaplarınızı cevap kâğıdının Fen Bilimleri Testi için ayrılan bölümüne işaretleyiniz.

1.

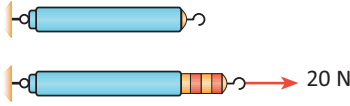


Güneş de Dünya gibi katmanlardan oluşur. Güneş'deki ısının kaynağı, yapısındaki hidrojenin helyuma dönüşmesidir. Güneş'in sıcaklığı her bölgesinde aynı değildir. Güneş üzerindeki 1, 2, 3 bölgelerinin sıcaklığının sütun grafiği şekilde verilmiştir.

Buna göre; K, L, M sıcaklıkları ile 1, 2, 3 bölgeleri için yapılan eşleştirme aşağıdakilerden hangisinde doğru verilmiştir?

- | | | | | | |
|----------|-------|-------|----------|-------|-------|
| A) 1 → K | 2 → L | 3 → M | B) 1 → K | 2 → M | 3 → L |
| C) 1 → M | 2 → K | 3 → L | D) 1 → M | 2 → L | 3 → K |

2.



Ahmet, laboratuvarındaki 10 bölmeden oluşan bir dinamometreye 20 N'lik bir kuvvet uyguladığında dinamometrenin ölçüm çubuğu 4 bölme uzamaktadır.

Buna göre, Ahmet bu dinamometre ile en fazla kaç N'lik kuvvet ölçebilir?

- A) 40 B) 50 C) 75 D) 100

3.

Dünya'dan bakıldığında Ay'ın aydınlık kısmının sürekli değiştiği görülür. Bu farklı görünümlere Ay'ın evreleri denir.

Bu evrelerden biri olan şişkin ay, art arda oluşan aşağıdaki hangi iki evre arasında gözlenebilir?

- A) Yeni ay - İlk dördün
B) Dolunay - Son dördün
C) Son dördün - Yeni ay
D) Hilal - İlk dördün

4.

Yapılan araştırmalar Ay'da yaşam için gerekli koşulların olmadığını göstermiştir.

Buna göre, aşağıda verilen özelliklerinden hangisi Ay'ın bu durumunun nedeni olabilir?

- A) Dünya'ya yakın olması
B) Güneş'e uzak olması
C) Işık kaynağı olmaması
D) Atmosferinin çok ince olması

5.

Ay'daki koşullar Dünya'dakinden farklıdır. Bu nedenle Ay'a yolculuk yapacak astronotun bu konuda tedbirli olması gerekir.

Buna göre, Ay'a uzun süreli bir yolculuk yapacak olan astronot;

- I. şemsiye,
II. gıda,
III. özel kıyafet

malzemelerinden hangilerine ihtiyaç duymaz?

- A) Yalnız I B) Yalnız II
C) I ve II D) II ve III

Yanıt Yayınları

6.



Fen laboratuvarında, öğretmeni Mine'ye "Sen, Dünya olacaksın. Bu top da Ay olacak. El feneri, Güneş olacak. Sen sürekli Ay'a bakacaksın" der. Sonra laboratuvarın ışıklarını kapatarak ortamı karartır. Topu şekilde belirtilen yörünge de Mine'nin etrafında dolaştırır. Deney tamamlandığında öğretmen Mine'nin sadece bu deneyden yola çıkarak Ay ile ilgili yorum yapmasını ister.

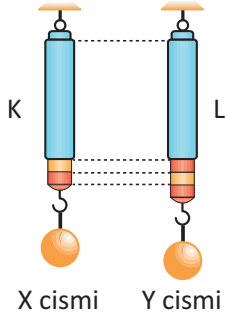
Buna göre, Mine'nin;

- I. Bu deney Ay'ın evreleri ile ilgili bir modeldir.
- II. Dünya'dan bakan birisi için, Ay'ın yüzeyindeki aydınlık bölge miktarı sürekli değişir.
- III. Ay'ın kendi etrafında dönme süresi Dünya etrafında dolanma süresine eşittir.

yorumlarından hangileri doğrudur?

- A) Yalnız I B) Yalnız III C) I ve II D) II ve III

7.



K ve L dinamometrelerine X ve Y cisimleri asılarak ölçüm yapıldığında dinamometrelerin aynı değerleri gösterdiği fakat şekildeki gibi uzama miktarlarının farklı olduğu görülmüştür.

Dinamometrelerin ölçüm çubukları eşit uzunlukta ve aynı maddeden yapıldığına göre, aşağıdakilerden hangisi kesinlikle yanlıştır?

- A) Dinamometrelerin bölme uzunlukları eşittir.
- B) Dinamometrelerin bölme sayıları eşittir.
- C) K'nin ölçebileceği en büyük değer L'nin ölçebileceğinden küçüktür.
- D) X ve Y özdeş cisimlerdir.

8.



Mine, arkadaşlarına "Şimdi, Güneş, Ay ve Dünya'nın hareketlerinden birisini yapacağım. Bu hareketin hangisine ait olduğunu bulunuz?" diyerek şekildeki gibi kendi etrafında dönmeye başlıyor.

Mine'nin yaptığı hareket hangi gök cismine ait olabilir?

- A) Yalnız Dünya
- B) Yalnız Ay
- C) Ay ya da Dünya
- D) Güneş ya da Ay ya da Dünya

9. Ay'ın ve Dünya'nın birbirlerine göre büyüklüklerini ilişkilendirmek isteyen öğretmen " Ben Dünya'yı bir cisme benzeteceğim. Siz de büyüklük olarak Ay'a uygun bir cisim seçeceksiniz" der.

Öğretmenin seçtiği cisim voleybol topu olduğuna göre, aşağıdaki öğrencilerden hangisinin seçtiği cisim Ay için en doğrudur?

- A)  Bilardo topu
- B)  Pilates topu
- C)  Madeni para
- D)  Futbol topu

10. Fen Bilimleri öğretmeni bir mikroskopik canlı çeşidiyle ilgili, aşağıdaki şemayı hazırlayarak öğrencilerine gösteriyor ve yorumlarını istiyor.



Öğrencilerin söylediği aşağıdaki ifadelerden hangisi doğru olur?

- A) Bakterilerin hepsi zararlıdır.
- B) Bakterilerin hepsi yararlıdır.
- C) Bakterilerin yararlı ve zararlı çeşitleri vardır.
- D) Bakterilerin hepsi karada yaşar.

11. 5-A sınıfında okuyan Ayhan saksı, toprak, tohum, su ve ışık kaynağı kullanarak bitkinin hayat döngüsünü anlatan aşağıdaki deneyi yapıyor. Deneyde şekilde gösterilen aşamaları yaptıktan sonra genç bitki fidesini elde ediyor.



Buna göre, Ayhan şekilde gösterilen işlemi yaparak aşağıdaki bitkilerden hangisini elde edemez?

- A) Fasulye B) Eğrelti otu C) Ceviz D) Domates

12. Çiğdem, farklı canlıların resimlerini kullanarak aşağıda gösterilen "Canlılar Dünyası" konulu posteri hazırlıyor. Bu posteri kullanarak arkadaşlarının sorduğu sorulara cevap veriyor.



Çiğdem, sadece gösterilen postere bakarak aşağıdaki arkadaşlarından hangisinin sorusuna cevap verebilir?

- A) Farklı canlıların vücut büyüklüğü ve şekli aynı mıdır?
- B) Yeryüzünde bu canlı çeşitlerinden hangisi daha çok bulunur?
- C) Canlılar nerede yaşar ve hangi tür besinlerle beslenir?
- D) Hayvanlar ve bitkilerden hangileri insanlar için zararlı olur?

13. Deniz, Şapkalı mantarların bir çeşit bitki olduğunu düşünüyordum. Oysa mantarlar bitkilerden farklıymış.

Deniz'in yaptığı açıklamada boş bırakılan yere, aşağıdaki ifadelerden hangisi yazılamaz?

- A) besinlerini kendisi üretemeyip dışarıdan hazır aldığı için
- B) karanlık yerlerde yaşadığı için
- C) kök ve yaprakları olmadığı için
- D) uygun ortamda çoğaldığı için

14.



Yukarıdaki şemada "...?..." olan yere aşağıda verilenlerden hangisi yazılabilir?

- A) Yumurtayla çoğalan hayvanlar
- B) Yavrularını sütle besleyen hayvanlar
- C) Vücutları tüylerle kaplı hayvanlar
- D) Solungaç solunumu yapan hayvanlar

15. Aşağıda hem karada hem de suda yaşayan bir hayvanın yaşam döngüsü gösterilmiştir.



Bu yaşam döngüsüne sahip olan hayvanlar aşağıda verilen gruplardan hangisinde bulunur?

- A) Kurbağalar
- B) Balıklar
- C) Sürüngenler
- D) Kuşlar

