

Ad: Soyad: Sınıf: Numara: Doğru: Yanlış: Net: Puan:

1.

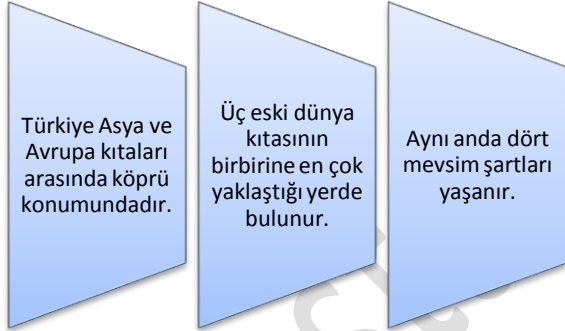


Haritalardaki küçültme oranına ölçek denir. Haritalardaki ölçek değiştiğinde haritanın bazı özellikler değişir.

Yukarıda sevimli kahramanımızın verdiği bilgilere göre haritada ölçek değiştiğinde aşağıdakilerden hangisi değişmez?

- a) Haritadaki ayrıntı.
- b) Haritadaki hata oranı.
- c) Haritanın gerçek alanı.
- d) Kullanılan kağıt.

2.



Yukarıda Türkiye'nin konumuyla ilgili bilgiler verilmiştir. Verilen bu bilgiler Türkiye'nin hangi konumuyla ilgilidir?

- a) Matematik Konum
- b) Özel Konum
- c) Coğrafi Konum
- d) Geometrik Konum

3. Aşağıdakilerden hangisi iklimi etkileyen faktörlerden değildir?

- a) Yer altı kaynakları.
- b) Enlem.
- c) Yükselti.
- d) Bakı

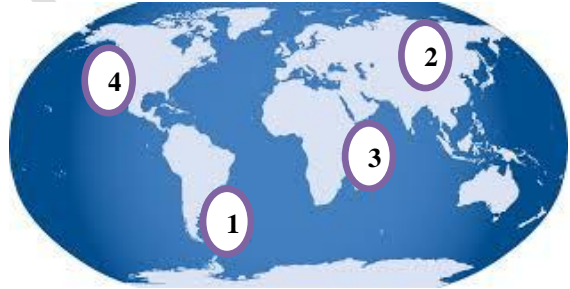
4.



Haritada ok işareti ile gösterilen, Türkiye'nin kuzey doğu ucunun koordinatı ( Paralel-Meridyen) nedir?

- a) 26 Doğu- 42 Kuzey
- b) 26 Doğu- 36 Kuzey
- c) 45 Doğu-42 Kuzey
- d) 45 Doğu-36 Kuzey

5.



Şevval ailesi ile birlikte Atlas Okyanusu kıyısında, Güney Amerika kıtasının doğusunda bir sahil kasabasına tatile gitmiştir.

Şevval'ın tatile gittiği merkez kaç numara ile gösterilmiştir?

- a) 1
- b) 2
- c) 3
- d) 4

6.

- ❖ Yıl boyunca yağışlı ve sıcak bir iklimdir.
- ❖ Evler genellikle ahşaptan yapılmıştır.
- ❖ Brezilya ve Kongo Havzası çevresinde görülür.

Yukarıda özellikleri verilen iklim hangisidir?

- a) Çöl İklimi
- b) Ekvatorial İklim
- c) Muson İklimi
- d) Kutup İklimi

7.



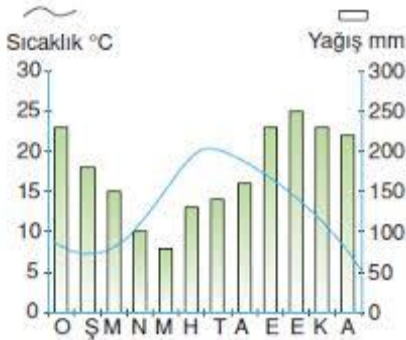
Yukarıda Türkiye'deki iklim haritası verilmiştir.

Verilen iklim haritasında görülen bitki örtüleri hangi seçenekte doğru olarak verilmiştir?

1	2	3
---	---	---

- |           |        |        |
|-----------|--------|--------|
| a) Maki   | Bozkır | Orman  |
| b) Bozkır | Orman  | Maki   |
| c) Orman  | Bozkır | Maki   |
| d) Orman  | Maki   | Bozkır |

8. Aşağıda bir şehrimize ait sıcaklık ve yağış grafiği verilmiştir.



Yukarıda verilen sıcaklık ve yağış grafiği, aşağıdaki illerimizden hangisine ait olabilir?

- Konya
- Antalya
- Erzurum
- Rize

9. Tarihciler olayları daha iyi anlamlandırabilmek ve inceleyebilmek için çağlara ayırmışlardır. **Tarihi Devirlerin** çağlara ayrılmasında dikkate alınan kriter ne olmuştur?

- Kullanılan araç ve gereçler.
- Bütün insanlığı etkileyen evrensel olaylar.
- Yazının icadı.
- Hız. İsa'nın doğumu.

10.

## Ben Kimim?

Başkentim Gordion'dur.	Sakarya Irmağı çevresinde kuruldum.	Tarımı koruyan sert kaunlarım vardır.
------------------------	-------------------------------------	---------------------------------------

Yukarıda özelliklerini belirten İlk Çağ Anadolu uygarlığı kimdir?

- Frigler
- İyonyalılar
- Lidyalılar
- Urartular

11. Anadolu'da kurulan ilk uygarlık olan Hititler'in başkenti Çorum yakınlarındaki Hattuşa'dır. Devlet işleri Kral, Kraliçe (Tavananna) ve soylulardan oluşan Pankuş Meclisi tarafından görüşülürdü. Hititlerde Kral hem devleti yönetir, hem orduya başkomutanlık eder hem başyargıç hem de başrahipti. Hititler kendi tanrılarının yanında yeni fethettikleri toprakların tanrılarını da kabul etmişler bu yüzden Hitit ülkesine *Bin Tanrı İli* denmiştir.

Hititlerle ilgili olarak verilen yukarıdaki metinde, aşağıdaki sorulardan hangisinin cevabı **yoktur**?

- Hitit Kralının görevleri nelerdir?
- Hititler laik bir yönetim yapısı ile mi yönetilirler?
- Hititlerde sınıf ayrımı var mıdır?
- Hititlerde tarafsız tarih yazıcılığı gelişmiş midir?

12. Lidyalılar ticaretle uğraşan tüccar bir toplumdur.

- Kral yolunu yapmaları.
- Parayı kullanmaları.
- Gediz ve Büyük Menderes ırmakları çevresinde kurulmaları.

Yukarıda verilen gelişmelerden hangisi/hangileri Lidyalılarda ticaretin geliştiğine kanıt oluşturabilir?

- Yalnız I
- Yalnız II
- I ve II
- I, II ve III

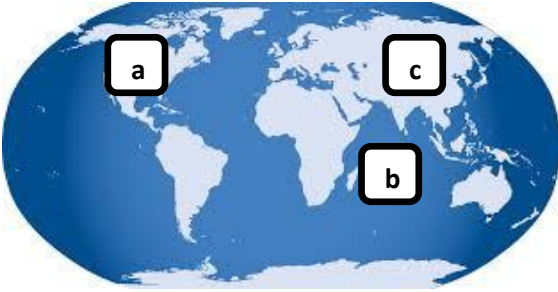
13.



**Yukarıda özellikleri verilen Mezopotamya uygarlığı aşağıdakilerden hangisidir?**

- a) Sümerler
- b) Babiller
- c) Asurlular
- d) Lidyalılar

14.



**Yukarıdaki dünya haritasında a-b-c harfleri ile gösterilen okyanus ve kıtaların doğru sıralanışı aşağıdaki seçeneklerden hangisinde doğru olarak verilmiştir?**



- a) Kuzey Amerika-Hint Okyanusu-Asya
- b) Antartika-Atlas Okyanusu-Avrupa
- c) Avrupa-Büyük Okyanus-Afrika
- d) Afrika-Okyanusya-Kuzey Amerika

15.

- Özellikle Güneydoğu Asya'da görülürüm.
- Yılın 6 ayı bol yağışlı bir iklimim.
- Bol su isteyen pirinç, çay gibi tarım ürünleri yetiştirilebilir.
- Sık sık sel ve taşkınlar yaşanır.

**Yukarıda özellikleri verilen iklim aşağıdakilerden hangisidir?**

- a) Ekvatorial
- b) Muson
- c) Çöl
- d) Kutup

16.

- I. Su kaynaklarının çokluğu.
- II. Sanayinin gelişmiş olması.
- III. İklim şartlarının elverişli olması.
- IV. Verimli toprakların olması.

Anadolu tarih öncesi devrilerden bu yana insanların yerleştiği bir coğrafya olmuştur. **Yukarıdakilerden kaç tanesi Anadolu'nun ilkçağlarda yerleşim yeri olarak tercih edilme nedenlerindendir?**

- a) 1
- b) 2
- c) 3
- d) 4

17. Mezopotamya iki nehir arası anlamına gelmektedir. Tarihte birçok uygarlık kurulmuştur.

**Aşağıdakilerden hangisi Mezopotamya'nın özelliklerinden değildir?**

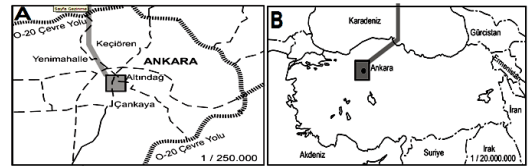
- a) Önemli su kaynaklarının olduğu bir yerdir.
- b) Toprakları verimlidir.
- c) Sık sık istilaya uğramıştır.
- d) Bölgede taş fazla olduğu için mimari eserler taştan yapılmıştır.

18. Sümerler Ziggurat adını verdikleri 7 katlı yapıların alt katını pazar yeri ve depo olarak, orta katını okul ve ibadethane olarak, üst katını gözlem evi olarak kullanmışlardır.

**Yukarıda verilen bilgilere göre Sümerler Zigguratları aşağıdaki alanlardan hangisinde kullanmamışlardır?**

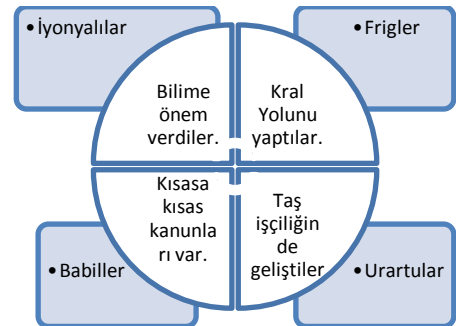
- a) Din
- b) Askeri
- c) Astronomi
- d) Eğitim

19.



Yukarıda iki farklı ölçekle çizilmiş harita verilmiştir. **Aşağıdaki bilgilerden hangisi yukarıdaki haritalar için yanlıştır?**

- a) A haritasında küçültme daha fazladır.
- b) B haritasında hata oranı daha fazladır.
- c) A haritası daha ayrıntılıdır.
- d) A haritası büyük ölçeklidir.



20.

**Yukarıdaki tabloda hangi uygarlıkla ilgili bilgi yanlış verilmiştir?**

- a) İyonyalılar
- b) Frigler
- c) Urartular
- d) Babiller