

-YERYÜZÜNDE YAŞAM-
ÜNİTE KAZANIM SINAVI 2

Ad: Soyad: Sınıf: Numara: Doğru: Yanlış: Net: Puan:

1.
I. Kuşbakışı görünüm
II. Yeryüzünün tamamı
III. Küçültme oranı

Yukarıda verilen özelliklerden hangisi ya da hangileri bir çizimin harita olması için taşıması gereken özelliklerdendir?

- a) Yalnız I
b) I ve II
c) I ve III
d) II ve III

2.

	Doğru	Yanlış
En büyük paralel İngiltere'nin Greenwich şehrinde geçer.	✓	
İki meridyen arası 111 Km.'dir.		✓
Türkiye'den geçen en büyük paralel dairesi 36 Kuzey paralelidir.		✓
Toplam 360 tane meridyen vardır.	✓	
Dünya'nın kendine has şekline geoid denir.		✓

Yukarıdaki tabloda verilen bilgilerden kaç tanesinde yanlışlık yapılmıştır?

- a) 2 b) 3 c) 4 d) 5

3. Sivas Sinop'a göre daha güneyde yer almasına rağmen yani Ekvatora daha yakın olmasına rağmen Sinop Sivas'tan kış aylarında daha ılık olmaktadır.
Bu durumun nedeni aşağıdakilerden hangisidir?

- a) Yükselti- Denizellik
b) Enlem – Yükselti
c) Denizellik – Enlem
d) Bakı – Enlem

4.

M.Ö 3500

Tarih Öncesi Devirler | Tarihi Devirler

Yukarıdaki tabloda görüldüğü çağlar ikiye ayrılmıştır.

M.Ö 3500 yılında gerçekleşen hangi olay çağları ikiye ayırmıştır?

- a) Hz. İsa'nın doğumu.
b) Kavimler Göçü
c) Fransız İhtilali
d) Yazının icadı.

5.

- I. En yağışlı mevsim İlkbahardır.
II. En yağışlı mevsim Sonbahardır.
III. En yağışlı mevsim Kışdır.

Yukarıda Türkiye'de görülen iklimlerin en yağışlı olduğu mevsimler verilmiştir. **Bu iklimlerin doğru sıralanışı aşağıdakilerden hangisinde doğru olarak verilmiştir?**

I	II	III
---	----	-----

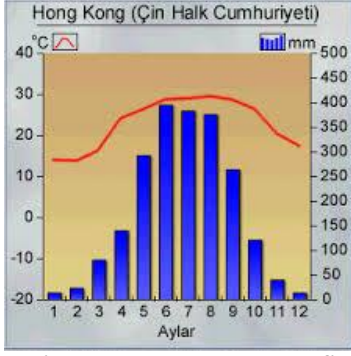
- a) Akdeniz Karasal Karadeniz
b) Karadeniz Akdeniz Karasal
c) Karasal Karadeniz Akdeniz
d) Akdeniz Karadeniz Karasal

6. Aşağıda verilen bilgilerden hangisi Türkiye'nin matematik konumunun sonuçlarından değildir?

- a) Doğusu ile batısı arasında 76 dakikalık zaman farkının olması.
b) Asya ve Avrupa kıtaları arasında köprü konumunda olması.
c) Kuzeyi ile güneyi arasında kuş uçuşu 666 km. uzaklığın olması.
d) Güney tarafa bakan yamaçların kuzey yamaçlardan daha sıcak olması.

7. Geniş bir alanda,uzun yıllar devam eden hava olaylarının ortalama sonuçlarına ne denir?

- a) Bitki Örtüsü
b) Hava Durumu
c) Meteoroloji
d) İklim



8. Verilen sıcaklık ve yağış grafiği aşağıdakiler iklimlerden hangisine aittir?

- a) Muson İklimi
- b) Ekvatorial İklim
- c) Kutup İklimi
- d) Çöl İklimi

9.

- Matematik Konum
- Denizellik
- Karasallık
- Okyanus Akıntıları
- Yükselti
- Bakı

Yukarıda iklimi etkileyen faktörler verilmiştir.

Bunlardan kaç tanesi Türkiye’de çeşitli iklimlerin görülme nedenlerindendir?

- a) 3 b) 4 c) 5 d) 6

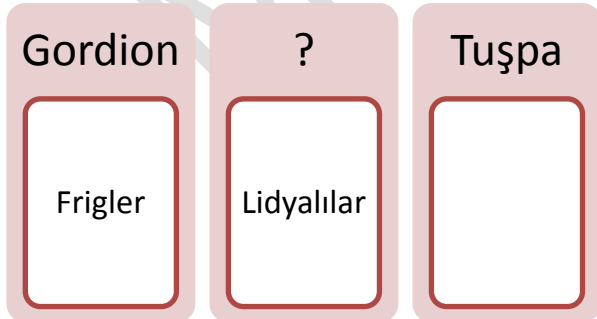
10.

- ❖ İnsanlar mağaralarda yaşamışlardır.
- ❖ Doğada bulunan hazır meyveleri toplamışlardır.
- ❖ Avcılıkla geçinmişlerdir.
- ❖ Tüketici bir toplum yapısı vardır.

Yukarıda tarih öncesi devirlerle ilgili özellikler verilmiştir. Bu özellikler hangi devre aittir?

- a) Yontma Taş Devri
- b) Cilalı Taş Devri
- c) Bakır Devri
- d) Maden Devri

11.



Yukarıda bazı Anadolu uygarlıkları ve başkentleri verilmiştir. ? ile gösterilen yere aşağıdakilerden hangisi gelmelidir?

- a) Hattuşa b) Babil c) Sard d) Ninova

12. 6. Sınıf öğrencisi İklim ‘İyonya Medeniyetindeki Bilim İnsanları’ konusunda araştırma yapmaktadır. Kafasına bir soru takılmıştır. Diğer Anadolu uygarlıklarında bilimsel çalışmaların İyonyalılardaki kadar gelişmemesi dikkatini çekmiştir.

İyonyalılarda Bilimsel çalışmaların gelişmesinin nedeni aşağıdakilerden hangisidir?

- a) Çok tanrılı dine inanmaları.
- b) Ege kıyısında kurulmuş olmaları.
- c) Ölümden sonraki hayata inanmaları.
- d) Özgür düşünce ortamının gelişmesi.

13. Sümerler Laik bir devlet yapısına sahip değildi.

Aşağıdakilerden hangisi bu ifadeyi kanıtlar niteliktedir?

- a) Ziggurat denilen yapıları inşa etmeleri.
- b) Şehirleri yöneten kralların aynı zamanda rahip olması
- c) Tarihte ilk yazılı kanunları yapmaları.
- d) Site denilen şehir devletlerinde yaşamaları.

14.



Yukarıda verilen kavramlar aşağıdaki uygarlıkların hangisiyle ilgilidir?

- a) Sümerler
- b) Asurlular
- c) Hititler
- d) Babiller

15. Frigler hiç çivi kullanmadan mobilya yapıyorlardı. Fibula adını verdikleri çengelli iğneleri yapmışlar. Ve tapates adı verilen halı ve kilimleri dokumuşlardır.

Yukarıda verilen bilgilere göre Friglerle ilgili aşağıdaki bilgilerden hangisine ulaşamaz?

- a) Çok tanrılı dine inanmışlardır.
- b) Maden işçiliğinde ileri gitmişlerdir.
- c) Hayvancılıkla uğraşmışlardır.
- d) Ahşap işçiliğinde ileri gitmişlerdir

16. 1453 yılında İstanbul'u fetheden Fatih Sultan Mehmet Osmanlı Devleti'nin yedinci padişahıdır. Kırım'ı alarak Karadeniz'i Türk gölü haline getirmiştir. 1461 yılında Trabzon Rum İmparatorluğunu ortadan kaldırmıştır.

Yukarıda Fatih Sultan Mehmet ile verilen bilgilere göre aşağıdakilerden hangisi yanlıştır?

- a) İstanbul 15. yüzyılda fethedilmiştir.
b) Trabzon Rum İmparatorluğu Yeniçağ'da fethedilmiştir.
c) Trabzon Rum İmparatorluğu 14. yüzyılda fethedilmiştir.
d) Yukarıdaki cümlelerin tamamı olgu cümlesidir.
17. Merhaba. Benim adım Kaan. İnebolu Atatürk Ortaokulu'nda 8. Sınıf öğrencisiyim. Yaz tatilinde ailemle birlikte mini bir Türkiye turuna çıktık. İlk durağımız Ankara Anıtkabir oldu. Ulu önderimiz Atatürk'ün huzuruna çıktık. Oradan Bolu Abant Gölü'ne gittik. O geceyi Abant'ta doğa ile iç içe geçirdik. Ertesi günkü durağımız İstanbul'un Karadeniz kıyısındaki Şile ilçesi oldu. Bu gizli cenneti gezdikten sonra Ege kıyıları ile turumuz devam etti. Bodrum'da Caretta Caretta kaplumbağalarını gördükten sonra dönüş yoluna geçtik. Yukarıda Kaan'ın günlüğünden bir bölüm okudunuz.
- Bu günlüğe göre aşağıdakilerden hangisi yanlıştır?**
- a) Kaan gezi sırasında bütün iklim tiplerini görmüştür.
b) Bodrum'da maki bitkileri görmüştür.
c) Şile'de ormanları görmüştür.
d) Abant'ta bozkırları görmüştür.

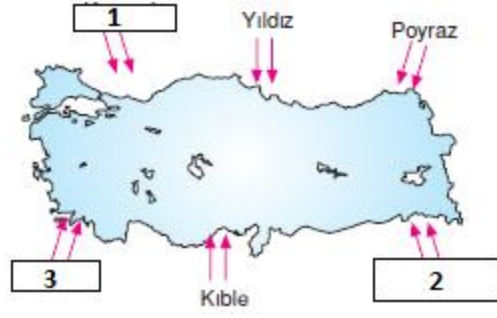
18.



Yukarıda verilen görsele göre, bölgede aşağıdaki iklimlerden hangisi yaşanmaktadır?

- a) Kutup İklimi
b) Ekvatorial İklim
c) Muson İklimi
d) Çöl İklimi

19.



Yukarıdaki Türkiye haritasında Türkiye'de etkili olan yerel rüzgarlar verilmiştir.

1-2 ve 3 numaraları ile gösterilen yerlere aşağıdakilerden hangisi gelmelidir?

1	2	3
---	---	---

- a) Karayel- Lodos – Samyeli
b) Karayel-Samyeli-Lodos
c) Samyeli-Karayel-Lodos
d) Lodos-Samyeli-Kible

20.

Hitit ülkesine Bin Tanrı İli denmiştir.
Hititlerde kral başkomutan, başyargıç, başrahip'tir.
Hititlerde kraldan sonra en yetkili kişi tavanannadır.
Tarihin ilk yazılı antlaşmasını yapmışlardır.
Pankuş Meclisi gerektiğinde kralı yargılayabilirdi.

Yukarıda Hititlerle ilgili verilen bilgilere göre aşağıdakilerden hangisi yanlıştır?

- a) Çok tanrılı dini inanış vardır.
b) Kadına değer verilmiştir.
c) Kralın yetkileri sınırsızdır.
d) Tarih çağlarını yaşıyorlardır.