



3. Verilen enerji kaynaklarının numaralarını ilgili oldukları ağaca yazınız.

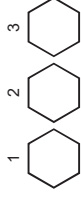

- 1) taş kömürü
2) güneş enerjisi
3) rüzgâr enerjisi
4) linyit
5) petrol
6) hidroelektrik enerjisi
7) jeotermal enerji
8) doğal gaz

YENİLENEBİLİR
ENERJİ KAYNAKLARI

TÜKENEBİLİR
(YENİLENEMEYEN)
ENERJİ KAYNAKLARI



13. Bir ürünün üretim aşamalarına göre, verilen görselleri uygun şekilde sıralayınız.



14. Aşağıda verilen doğal kaynaklar ile ilgili oldukları ekonomik faaliyetleri eşleştiriniz.

A- TOPRAK (.....)	1- Tarım
B- SU (.....)	2- Kağıt Sanayisi
C- MADENLER (.....)	3- Mobilyacılık
D- ORMANLAR (.....)	4- Hayvancılık
	5- Mermercilik
	6- Ulaştırım
	7- Demir-Çelik Sanayisi
	8- Balıkçılık