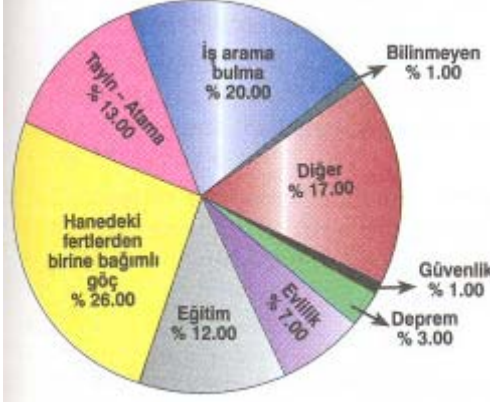


1) Aşağıdaki grafik ülkemizde yaşanan iç göçlerin nedenlerini göstermektedir.



Çan'ın babası Erzincan Devlet hastanesinde uzman hekim olarak görev yaparken görev yeri İzmir olarak değiştirilmiş ve geçen ay İzmir'de bir devlet hastanesinde göreve başlamıştır.

Çan'ın babasının Erzincan'dan İzmir'e gitmesi ve orada çalışmaya başlaması yukarıdaki grafikte verilen iç göçlerin nedenlerinden hangi gruba dahil edilebilir?

- A) Diğer olarak gösterilen grup (kan davası, töre kanunları vb.)
- B) İş arama - Bulma
- C) Tayin - Atama
- D) Hanedeki fertlerin birine bağımlı göç

2)

Bölgenin Adı	Bölge Nüfusu İçinde Okur - Yazar Olanların Oranı %		
	Erkek	Kadın	Toplam
Marmara	93,5	82,4	88,0
İç Anadolu	91,6	77,3	84,5
Karadeniz	87,6	69,8	78,7
Ege	90,9	76,7	83,8
Akdeniz	89,0	72,5	80,8
Doğu Anadolu	81,1	54,9	68,0
Güney Doğu Anadolu	75,5	44,8	60,1

Yukarıdaki tabloda coğrafi bölgelerimizin nüfuslarına göre okur-yazarlık oranları gösterilmiştir.

Sadece bu bilgilerden yararlanarak aşağıda verilenlerden hangisi söylenemez?

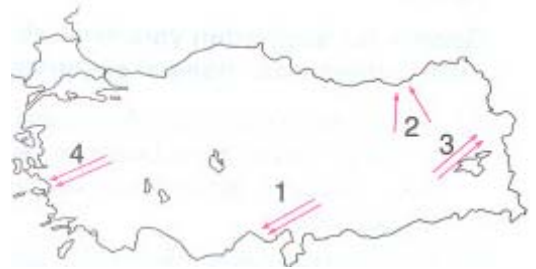
- A) Denize kıyısı olan coğrafi bölgelerimizde okur - yazar oranı Doğu ve Güneydoğu Anadolu Bölgelerindeki orandan fazladır.
- B) Karadeniz Bölgesi'nde toplam okuryazar oranı Ege Bölgesi'ndeki toplam okur - yazar oranından azdır.
- C) Denize kıyısı olan bölgelerin her birinde okur - yazar oranı, denize kıyısı olmayan bölgelerdeki okur-yazar oranlarından fazladır.
- D) Doğu Anadolu Bölgesi'nde erkek okur - yazar oranı Güneydoğu Anadolu'dan azdır.

3) "Ülkemizde tarımda makineleşme arttıkça köyden kente göç hızlanır."

Aşağıda verilen merkezlerden hangisinin çevresinde yukarıda verilen nedene dayalı göç en az ya da hiç görülmez?

- A) Ankara B) Urfa C) Giresun D) Adana

4)



Yukarıdaki haritada genel olarak mevsimlik işçilerin çalışmak için gittiği yön oklarla belirtilmiştir. Hangi okun yönü yanlıştır?

- A) 1 B) 2 C) 3 D) 4

5) Ailesi İstanbul'da olan Serhan İzmir'de üniversitede okumaktadır. Okullar kapanmadan bir hafta önce annesini telefonla arayarak arkadaşlarıyla Marmaris'e tatile gitmek için izin istemiştir. Şimdi arkadaşlarıyla tatilde olan Serhan haftaya İstanbul'a dönecektir.

Yukarıda paragrafta Serhan'ın hangi hak ve özgürlüklerinden bahsedilmemiştir?

- A) Eğitim ve öğrenim hakkı
- B) Seyahat özgürlüğü
- C) Haberleşme özgürlüğü
- D) Bilim özgürlüğü

6) Kilometrekareye düşen insan sayısına nüfus yoğunluğu denir.

Yukarı Kızılırmak Bölümü İç Anadolu Bölgesi'nin nüfus yoğunluğu en az olan bölümdür. Bunun nedeni aşağıdakilerden hangisi olamaz?

- A) Endüstrinin gelişmemiş olması
- B) Yüzölçümünün küçük olması
- C) Arazinin dağlık, tarım alanlarının dar olması
- D) Sert bir iklime sahip olması

7) Aşağıda belirtilen yörelerin hangisinde yıl içinde turizme bağlı olarak nüfusun artıp - azalması diğerlerine göre daha azdır?

- A) Bodrum
- B) Antalya
- C) Şanlıurfa
- D) Ürgüp

8) Aşağıdakilerden hangisi kırsal kesimden kentlere göçün nedenlerinden birisi değildir?

- A) Ekim - dikim alanlarının dar olması
- B) Kentler çevresinde hava ve çevre kirliliğinin fazla olması
- C) İş olanaklarının kısıtlı olması
- D) Gelir düzeyinin düşük olması

9) Sanayinin çok hızlı geliştiği büyük kentlerimizde hızlı ve çarpık bir kentleşme görülmektedir.

Aşağıdakilerden hangisi bu tür kentlerimizdeki çarpık kentleşmenin nedenlerinden biridir?

- A) Gecekondu semtlerinin yaygınlaşması
- B) Sanayi tesislerinin kent içinde kalması
- C) Kentin çok fazla göç alması
- D) Çevre kirliliğinin artması

10) Türkiye nüfusunun;

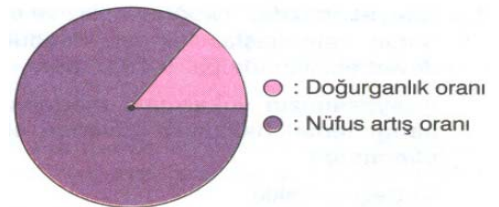
1935 yılında % 81 'i, 1955 yılında % 70'i tarım kesiminde çalışırken bu oran 1990 yılında % 40'a düşmüştür. Bu durumun en önemli nedeni aşağıdakilerden hangisi olabilir?

- A) Tarımsal üretimin eski önemini kaybetmesi
- B) Tarım ürünlerine duyulan ihtiyacın azalması
- C) Köylerde kadın sayısının çok olması
- D) Sanayinin gelişmesi nedeniyle köyden kente göçün olması

11) Bodrum, Fethiye ve Side gibi merkezlerde yaz mevsiminde nüfus çok fazla artar. Bu merkezlerdeki nüfus artışında aşağıdakilerden hangisi birinci derecede etkilidir?

- A) Tarım işçilerine duyulan ihtiyaç
- B) Bu yörelerde yapılan seracılık sayesinde yaz mevsiminde sebze ve meyve fiyatlarının düşmesi
- C) Turizm faaliyetlerinin başlaması
- D) Fuar ve panayır gibi faaliyetlerin başlaması

12)



Grafik bir kentteki doğurganlık oranı ile nüfus artış oranını göstermektedir. Buna göre bu kent ile ilgili olarak aşağıda verilenlerden hangisi kesinlikle söylenemez?

- A) İş olanakları fazladır.
- B) Dışarıdan göç almaktadır.
- C) Kent çevresinde gecekondu semtleri vardır.
- D) Göçle gidenlerin sayısı gelenlerin sayısından fazladır.

1 C	2 C	3 A	4 D	5 D	6 B	7 C	8 B	9 C	10 D
11 C	12 D								