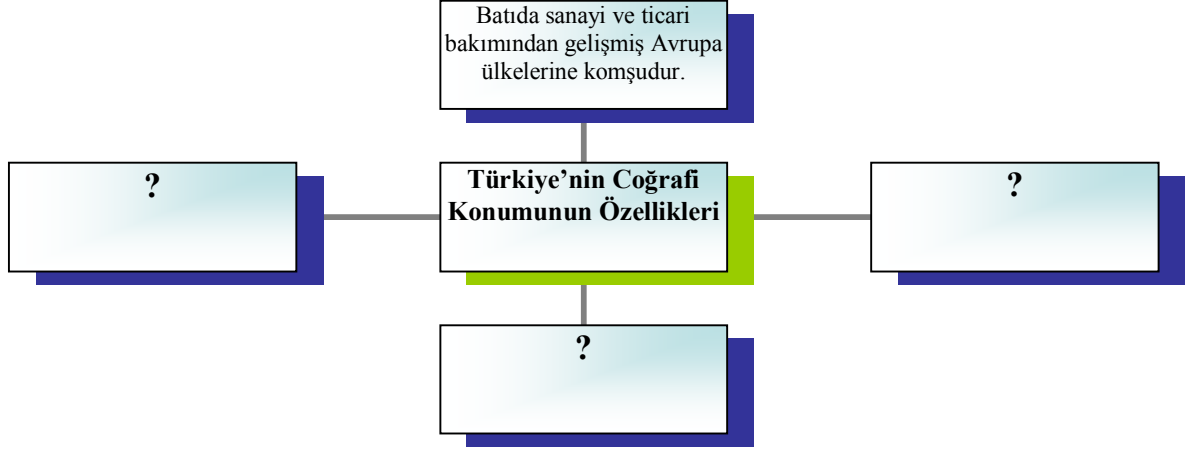


ÜLKEMİZ VE DÜNYA ETKİNLİK 1



SİBİRYA

NİL VADİSİ

GRÖNLAND

AVRUPA

ÇİN

ANTARTİKA

A.B.D

OKYANUSYA

ALASKA

DAĞLAR



NÜFUSUN SEYREK OLDUĞU YERLER

- 1.
- 2.
- 3.
- 4.
- 5.
- 6.
- 7.

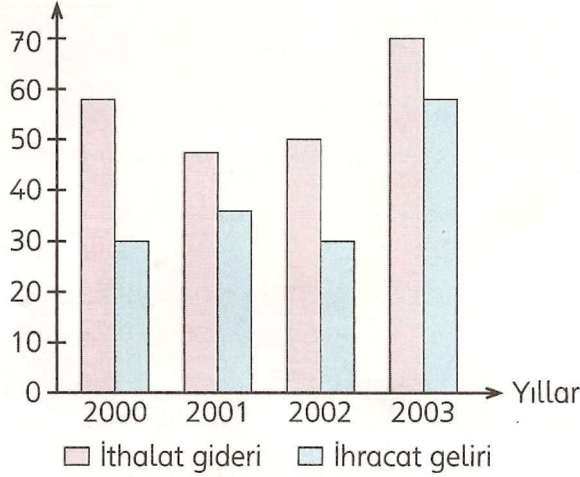
NÜFUSUN YOĞUN OLDUĞU YERLER

- 1.
- 2.
- 3.
- 4.
- 5.
- 6.
- 7.

Aşağıdaki cümlelerden Doğru olanına “D”, yanlış olanına “Y” koyunuz.	D	Y
1. Anadolu verimli topraklara sahip olduğu için ilkçağlardan beri insanların yerleşim merkezi olmuştur.		
2. İhracat; Bir ülkenin başka bir ülkeden mal veya ürün almasıdır.		
3. Gelişmiş ülkelerde insanlar daha çok Sanayi ve Hizmet alanında çalışırlar.		
4. Büyük Sahra çölü Dünyada nüfusun fazla olduğu yerlerdendir.		
5. Türkiye’nin İthalat ve İhracatını en fazla yaptığı ülke Almanya’dır.		
6. Ekvatorial Bölgedeki ormanlık alanlar Dünyada nüfusun seyrek olduğu yerlerdendir.		

Örnek Soru:

Milyar Dolar



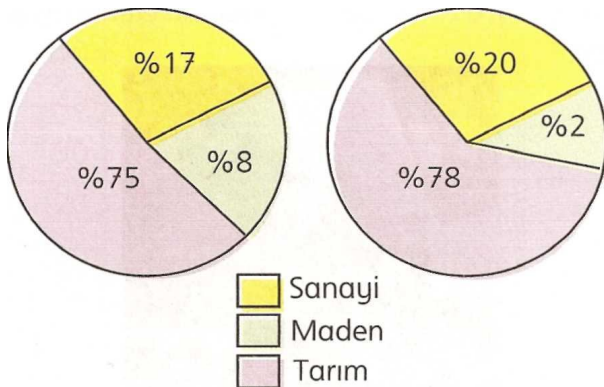
A) Türkiye’nin ithalat giderinin en fazla olduğu yıl:

B) Türkiye’de ihracatın en fazla yapıldığı yıl hangisidir?

C) Türkiye’nin ithalat giderinin ve ihracatının en fazla olduğu yıl?

D) Türkiye en fazla kaç milyar dolar ihracat geliri elde etmiştir?

E) Dış ticaret açığının en fazla olduğu yıl hangisidir?



Yandaki Tablo çalışan nüfusun sektörel dağılımını yıllara göre göstermektedir. Buna aşağıdaki soruları D-Y şeklinde cevaplandırınız.

A) Tarım ürünlerinde % 3 değişme olmuştur.(.....)

B) Nüfusun yarısından fazlası Sanayi alanında çalışmaktadır.(.....)

C) Her iki yılda da nüfusun en az çalıştığı sektör Madenciliktir.(.....)

D) Gelişmemiş bir ülkeye aittir.

E) Bu ülke hammadde alır ve işlenmiş ürünler satar.(.....)