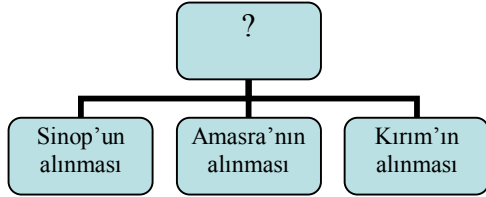


1.



**Diyagramda soru işaretiyle gösterilen yere aşağıdakilerden hangisi yazılabilir?**

- A) Anadolu'nun siyasi birliği sağlanmıştır.  
B) Karadeniz Türk gölü haline getirilmiştir.  
C) Merkezi otorite güçlenmiştir.  
D) Kanuni Sultan Süleyman döneminde alınmıştır.

2.



Istanbul'un en eski çarşılarından Kapalı çarşı Fatih Sultan Mehmet tarafından Ayasofya camisine gelir sağlamak için yapılmıştır. Bugün geçmişteki canlılığını koruyan Kapalıçarşı'yı her gün mevsimine göre 250 bin ile 400 bin kişi ziyaret etmektedir.

**Buna göre Kapalıçarşı'yla ilgili olarak aşağıdakilerden hangisine ulaşamaz?**

- A) Kimin tarafından yapıldığı  
B) Yapılış amacı  
C) İstanbul'da yapılan ilk çarşı olduğu  
D) Günümüzde bile tercih edildiği

3. Lale Devrinde,

- ▲ Çiçek aşısı yapılmıştır.
- ▲ Sultan Ahmet çeşmesi yapılmıştır.
- ▲ Matbaa getirilmiştir.

**Buna göre verilen bilgiler doğrultusunda hangi alanda yenilik yapıldığı söylenemez?**

- A) Askeri  
B) Tıp  
C) Mimari  
D) Kültürel

4.



"Ben ki Fatih Sultan Mehmet Han'ın. Bütün dünyaya ilan ediyorum ki kendilerine bu padişah fermanı verilen Bosnalı din adamları himayem altındadır ve emrediyorum: Hiç kimse bu adı geçen insanları ne de onların kiliselerini rahatsız etmesin ve zarar vermesin. Devletimde huzur içinde yaşasınlar."

**Buna göre aşağıdakilerden hangisine ulaşılabilir?**

- A) İskân politikası devam etmektedir.  
B) İslamiyeti yaymaya çalışmıştır  
C) Gayrimüslimler Osmanlıda barış içinde yaşamışlardır.  
D) Osmanlı Devletinde din adamları ayrıcalıklı sayılmıştır.

5.

|                                   |   |
|-----------------------------------|---|
| LALE DEVRİNDE YAPILAN ISLAHATLARI | I. Yalova'da kâğıt fabrikası açıldı       |
|                                   | II. Yeniçerilerden itfaiye kuruldu.       |
|                                   | III. Avrupa'da Sürekli elçilikler açıldı. |
|                                   | IV. İstanbul'da Çini fabrikası açıldı.    |

**Yukarıdaki şemada verilen bilgilerden hangisi yanlıştır?**

- A) I  
B) II  
C) III  
D) IV

6. Osmanlı Devleti ticareti geliştirmek için ilk önce Karadeniz daha sonra da Akdeniz ticaret yollarını egemenlik altına almıştır. Ancak Karadeniz ve Akdeniz ticaret yollarından yeterince faydalanmamıştır.

**Aşağıdakilerden hangisinin bu durumu neden olduğu söylenebilir?**

- A) Osmanlı Devletinin denizciliği yeterince önem vermemesi  
B) Kapitülasyonların olumsuz etkileri  
C) Coğrafi keşiflerle yeni yolların bulunması  
D) Osmanlı devletinin iç sorunlarla uğraşması

7.

İstanbul'un Fethinin Sonuçları

I. Osmanlı İstanbul'u Başkent yapmıştır.

II. Ortaçağ sona ermiş, Yeniçağ başlamıştır.

III. Bizans İmparatorluğu yıkılmıştır.

IV. Türklerin Avrupa'da ilerleyişi kolaylaşmıştır.

Yukarıdaki tabloda numaralandırılmış bilgilerden hangilerinin İstanbul'un Fethinin Türk tarihi açısından sonuçları arasında gösterilemez?

- A) I ve II
- B) II ve III
- C) III ve IV
- D) I ve III

8.

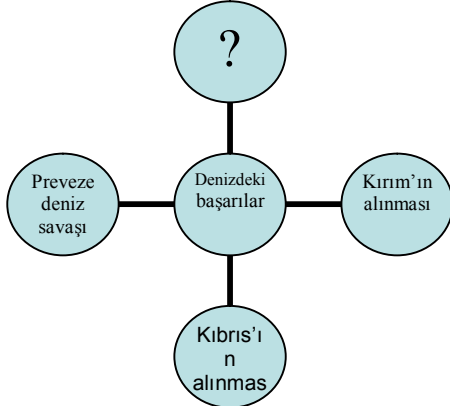


Osmanlı devleti Rumeli'de fethedilen yerlere konargöçer Türkmenleri yerleştirmiştir. Türkmenlerden vergi almamış böylece Rumeli'nin Türkleşmesini sağlamıştır.

Buna göre Osmanlı devleti aşağıdakilerden hangisini uygulamıştır?

- A) Hoşgörü politikası.
- B) İskân politikası.
- C) Cihat politikası.
- D) Gaza politikası.

9.



Yukarıdaki diyagramda soru işaretiyle gösterilen hangisi yazılabilir?

- A) Sinop baskını.
- B) İnebahtı deniz savaşı.
- C) Navarin Baskını.
- D) İstanbul'un fethi.

10. Dirlik(Tımar) sistemi tarım yapılan toprakların hizmet veya maaş karşılığında askerlere, komutanlara ve devlet adamlarına verilmesidir. Tımar sisteminde toprağın sahibi devlettir.

Buna göre aşağıdakilerden hangisi tımar sisteminin faydalarından biri değildir?

- A) Tarımsal üretimde süreklilik sağlanır.
- B) Hazineden para çıkmadan asker yetiştirilir
- C) Tımara verilen bölgenin güvenliği sağlanır.
- D) Tımarlar babadan oğla miras olarak bırakılmıştır.

11. Eski Türk devletlerinde olduğu gibi Osmanlı devletinde de "ülke hükümdar ve ailesinin ortak malıdır" anlayışı bulunmaktadır. Hatta Fatih Sultan Mehmet'in oğulları arasında uzun süren mücadeleler yaşanmıştır.

Aşağıdakilerden hangisi bu durumun sonuçlarından biri değildir?

- A) Merkezi otorite güçlenmiştir.
- B) İç karışıklıklar ortaya çıkmıştır.
- C) Fetihlerin yavaşlamasına yol açmıştır.
- D) Taht kavgaları yaşanmıştır.

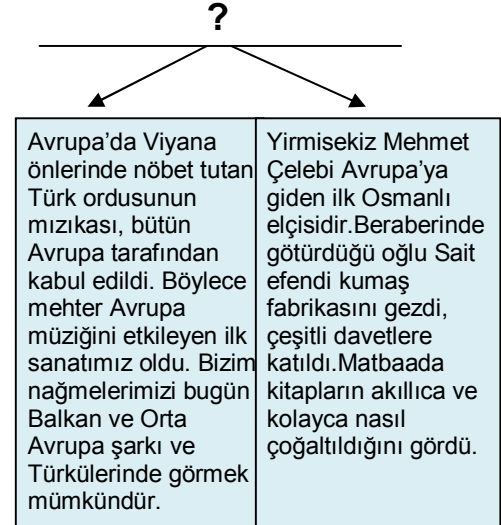
12. I.Murat Dönemi,

- ☉ Ülke hükümdar ve oğullarının ortak malıdır.
- ☉ Yeniçeri ocağı kurulmuştur.
- ☉ Mali alandaki ilk bütçe hazırlanmıştır.
- ☉ Divanı Hümayun genişletilmiştir.

Gibi gelişmelere bakarak aşağıdaki alanlardan hangisinde daha az yeniliğin olduğu söylenebilir?

- A) Askeri.
- B) Yönetim.
- C) Toplumsal.
- D) Ekonomik.

13.



Bu diyagrama verilebilecek en iyi başlık aşağıdakilerden hangisidir?

- A) Seyyahların Gözünden Osmanlı Devleti.
- B) Yenilikler ve Osmanlı Devleti.
- C) Etkiledik, Etkilendik Ama Nasıl.
- D) Farklı Kültürler Bir Arada Yaşadı.