

1. Osmanlı devleti kurulduğu sırada Türkiye Selçukluları otoritesini kaybetmiş ve Anadolu da Moğol egemenliğine girmişti. Ayrıca Doğu Karadeniz'de Trabzon Rum İmparatorluğu ve Marmara'da Bizans imparatorluğu bulunmaktaydı. Anadolu'da ise çok sayıda beylik kurulmuştu.

Buna göre Osmanlı devletinin kısa sürede gelişmesinin nedenlerinden hangisi değinilmiştir?

- A) Merkezi yönetimin güçlü olması.
B) Ahi teşkilatının desteğinin alınması
C) İskân politikası
D) Anadolu'da siyasi birliğin olmaması

2.

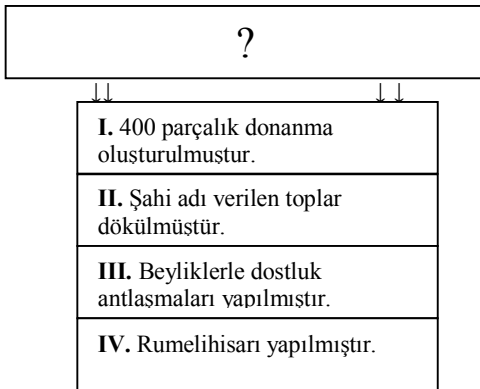


Orhan Bey İznik'i aldıktan sonra burada Cami, İmarethane, şifahane, saray ve hamam gibi mimari eserler yaptırmıştır. İznik'te ilk Osmanlı medresesini açmıştır. Ayrıca gayrimüslimlere ait kiliseler de varlığını sürdürmüştür.

Buna göre verilen bilgiler doğrultusunda Osmanlı devleti için aşağıdakilerden hangisi söylenemez?

- A) Hoşgörü politikası hâkimdir.
B) Anadolu bayındır hale getirilmiştir.
C) İmarethanelerden sadece Müslümanlar faydalanmıştır.
D) Eğitsel ve kültürel faaliyetler yaşanmıştır.

3.



Diyagramda başlıklardan yazılanlar hangisinin aşağıdaki gösterilebilir?

- A) İstanbul'un fethinin nedenleri
B) İstanbul'un fethi için yapılan hazırlıklar
C) İstanbul'un fethinin Türk tarihi açısından sonuçları
D) İstanbul'un fethinin Dünya tarihi açısından sonuçları

4.



CİHAN

Osmanlı devleti yükselme dönemine girmiştir.



TUBA

İstanbul'un İtalya'ya giden bilginler Rönesans Hareketlerine neden olmuştur.



BURHAN

Ticaret yolları Türklerin eline geçmesi Coğrafi keşiflere neden olmuştur.



ŞÜKRAN

Osmanlı devletinin toprak bütünlüğünü sağlamıştır

Yukarıdaki öğrencilerden hangileri İstanbul'un fethinin Dünya tarihi açısından sonuçlarını söylemiştir?

- A) Cihan ve Şükran
B) Tuba ve Burhan
C) Burhan ve Şükran
D) Cihan ve Tuba

5.



Fatih Sultan Mehmet İstanbul'u fethettikten sonra 1481 yılında Topkapı sarayını yaptırmıştır. Bu saray padişahın ikamet ettiği yer olmasının yanı sıra Divanı hümayun toplantılarının yapıldığı yerdir. Devletin önemli işleri burada görüşülür ve padişah tarafından onaylanırdı.

Buna göre Topkapı Sarayı ile ilgili olarak aşağıdakilerden hangisine ulaşamaz?

- A) Ne zaman yapıldığı
B) Devletin yönetim merkezi olduğu
C) Topkapı sarayının yapılış amacına
D) Kim tarafından yapıldığına

6.

- ☺ Osman Bey - Bakır Para
☺ Orhan Bey – Gümüş Para
☺ II. Mehmet – Altın Para

Osmanlı devletinde basılan paralara bakarak aşağıdakilerden hangisi söylenebilir?

- A) Ekonomisinin giderek güçlendiği
B) Anadolu'da siyasi birliğin sağlandığı
C) Kuruluş döneminin bitip yükselme döneminin başladığı
D) Denizcilik ve ticaretin geliştiği

7. **Azat:** Mısır, Suriye ve Filistin Osmanlı Devletinin eline geçmiştir.

Ruken: Halifelik Osmanlı Devletine geçmiştir.

Songül: Kutsal emanetler İstanbul'a getirilmiştir.

Surşirin: İpek yolunun denetimi Osmanlı Devletinin eline geçmiştir.

Yavuz sultan Selim'in Mısır Seferinin sonuçları düşünüldüğünde hangi öğrencinin yanlış bilgi verdiği söylenebilir?

- A) Azat
B) Ruken
C) Songül
D) Surşirin

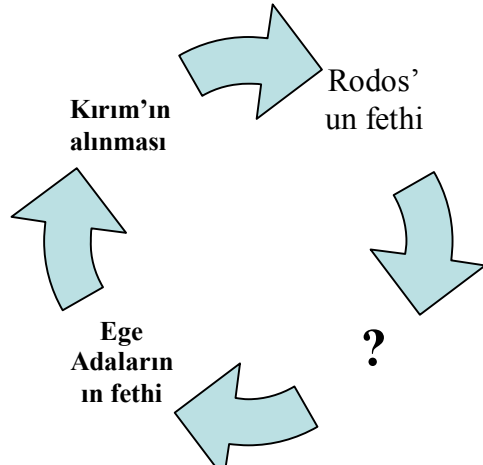
8. ▲ Orhan Bey'in Karesi Beyliğine son vermesi
▲ II. Murat'ın Aydın oğulları beyliğine son vermesi

▲ Yavuz Sultan Selim'in Dulkadir oğulları beyliğini alması

gibi faaliyetler düşünüldüğünde Osmanlı padişahlarının aşağıdakilerden hangisini amaçladığı söylenebilir?

- A) Denizcilik ve ticaretin geliştirdiği
B) Gerileme ve dağılmaya son vermeyi
C) Anadolu'da siyasi birliğin sağlamayı
D) Ekonomisinin giderek güçlendirmeyi

9.



Diyagrama Osmanlı Devletinin ticareti ve denizciliği geliştirmek için aldığı yerler yazılmıştır.

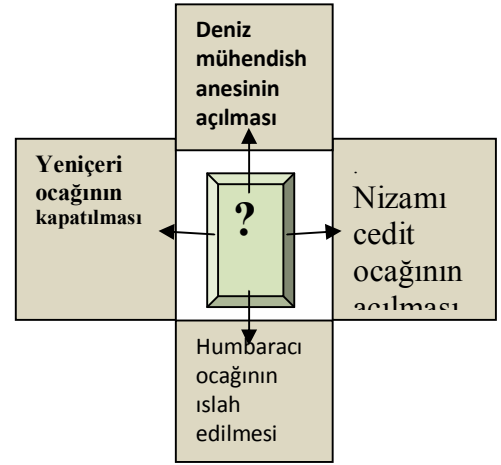
Buna göre soru işaretiyle gösterilen yere aşağıdakilerden hangisi yazılamaz?

- A) Kıbrıs'ın fethi
B) İstanbul'un alınması
C) Karaman beyliğinin alınması
D) Candar oğulları beyliğinden Amasra'nın alınması

10. **Fatih Sultan Mehmet Döneminde,**

- Ⓐ Ülke padişahın malıdır.
Ⓑ Topkapı sarayının yapılması
Ⓒ Kanunname-i Ali Osman isimle yasalar oluşturmaları
Ⓓ Divan başkanlığını Sadrazama bırakması
gibi gelişmelere bakarak hangi alanda bir gelişmenin olduğu söylenemez?
A) Yönetim
B) Mimari
C) Hukuk
D) Askeri

11.



Yukarıda verilen ıslahatlar daha çok hangi alanla ilgilidir?

- A) Yönetim
B) Mimari
C) Hukuk
D) Askeri

12.

| | Neden | Sonuç |
|-----|---------------------|------------------------------|
| I | Askeri Başarısızlık | Toprak Kayıpları |
| II | Vakayı Hayriye | Lale Devrinin Sona Ermesi |
| III | İskân Politikası | Balkanlarda Kalıcı Egemenlik |
| IV | Kıbrıs'ın Alınması | İnebahtı Deniz Savaşı |

Yukarıdaki tabloda verilen neden sonuç eşleştirmelerinden hangisi yanlıştır?

- A) I
B) II
C) III
D) IV