

1. Aşağıdakilerden hangisi Atatürk'ün ülkemizde sosyal bilimlerin gelişmesi için yaptığı çalışmalardan birisi değildir?

- A) Türk Dil Kurumunun kurulması
- B) Gazi Üniversitesinin açılması
- C) Türk Tarih Kurumunun kurulması
- D) Mustafa Kemal Üniversitesinin açılması

2. Aşağıdakilerden hangisi sosyal bilgilerin sağladığı yaralardan birisi değildir?

- A) Haklarımızı ve sorumluluklarımızı öğreniriz.
- B) İyi bir vatandaş olarak yetişmemizi sağlar.
- C) Bedensel olarak gelişmemizi sağlar.
- D) İnsanlar arası yardımlaşmanın önemini öğreniriz.



- I. Kediler çok sevimlidir.
- II. Papağan en güzel kuştur.
- III. İnekler otobur hayvanlardır.

3. Hakan'ın yukarıdaki cümlelerinden den hangisi ya da hangileri görüş cümlesidir?

- A) Yalnız I
- B) I ve II
- C) II ve III
- D) Yalnız III

4. Türk Tarih Kurumunun kuruluş amacı aşağıdakilerden hangisidir?

- A) Türk tarihi ile ilgili konuları araştırmak ve yaymak
- B) Türk dilinin gelişmesinin sağlamak
- C) İnsanların haklarını öğrenmesini sağlamak
- D) Ülkemizin coğrafi özelliklerini araştırmak

5. Aşağıdakilerden hangisi bilimsel araştırma basamaklarına uygun bir yaklaşım değildir?

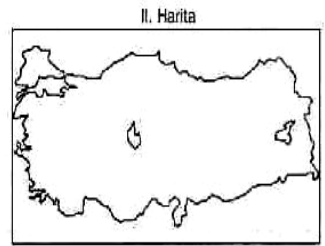
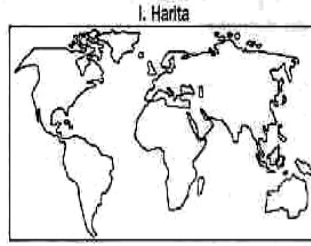
- A) Araştırmak istediğimiz konuyu belirlemek ve konuyu sınırlandırmak
- B) Yaralandığımız kaynakları dipnot ve kaynakça olarak göstermek
- C) Ulaştığımız her bilgiyi doğru olarak kabul etmek
- D) Kapak ve içindekiler bölümü hazırlamak

6. Aşağıdaki ölçeklerden hangisi ile yapılacak bir dünya haritası daha ayrıntılı olacaktır?

- A) 1/3 000 000
- B) 1/6 000 000
- C) 1/10 000 000
- D) 1/20 000 000

7. Aşağıdakilerden hangisi büyük ölçekli haritaların özelliklerinden birisi değildir?

- A) Ayrıntıyı gösterme gücü fazladır.
- B) Küçültme oranı fazladır.
- C) Küçük alanların (iller gibi) gösterilmesine kullanılır.
- D) Kesirli ölçeğin payda kısmı küçüktür.



8. Yukarıda, aynı büyüklükteki kâğıtlara çizilmiş haritalar gösterilmiştir. Haritalarla ilgili aşağıdaki yargılardan hangisine ulaşamaz?

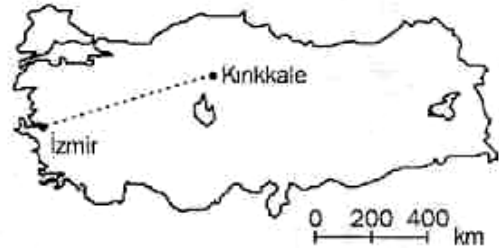
- A) I. haritanın ölçeği daha küçüktür.
- B) I. haritada yer şekillerinin ayrıntısı azdır.
- C) II. haritada küçültme oranı daha fazladır.
- D) II. haritanın ölçeğinin paydası daha küçüktür.

Ölçeklerin paydasındaki sayı haritalarda uzunluğun ne kadar küçültüldüğünü gösterir. Küçültme oranı az ise yer şekilleri daha ayrıntılı gösterilebilir.



9. Bülent'in Sosyal Bilgiler kitabından okuduklarına göre, aşağıdaki ölçeklerden hangisiyle çizilen Türkiye haritasında yer şekillerinin ayrıntısı azdır?

- A) 1/50 000
- B) 1/200 000
- C) 1/500 000
- D) 1/2 000 000



10. Çizgi ölçek, haritadaki bir uzunluğun gerçekte kaç km'lik bir uzunluğu gösterdiğinin bir çizgi üzerinde gösterilmesidir.

Yukarıdaki haritanın çizgi ölçeği km şeklinde ise, haritada verilen İzmir - Kırıkkale arası uzaklık yaklaşık kaç km'dir?(İzmir-Kırıkkale arası 3'cm,çizgi ölçeğin uzunluğu 2'cmdir.)

- A) 300
- B) 600
- C) 900
- D) 1200

11. Bir haritada A ve B şehirlerinin arası 5 cm olarak ölçülmüştür. Ölçülen bu uzaklığın gerçekte 200 km olduğu bilinmektedir.

Buna göre yukarıdaki ölçümün yapıldığı haritanın ölçeği aşağıdakilerden hangisidir?

- A) $\frac{1}{4.000.000}$
- B) $\frac{1}{40.000}$
- C) $\frac{1}{40.000.000}$
- D) $\frac{1}{4000}$

12. Meridyenlerle ilgili olarak aşağıda verilen bilgilerden hangisi yanlıştır?

- A) Meridyenlerin uzunlukları her yerde aynı değildir?
- B) Tüm meridyenler ekvatoru dik keser.
- C) Başlangıç meridyeni Greenwich gözlem evinden geçer.
- D) Meridyenler kutuplarda birleşen yarım dairelerdir.

13. Ekvator'dan kutuplara gidildikçe paralellerin boyu kısalır. Bu durumun ana nedeni aşağıdakilerden hangisidir?

- A) Yer ekseninin eğikliği
- B) Dünya'nın şekli
- C) Kara ve denizlerin dağılışı
- D) Yörünge'nin şekli



Bir kutuptan diğer kutba uzanan ve Ekvator'u dik olarak kesen yarım dairelere meridyen denir.

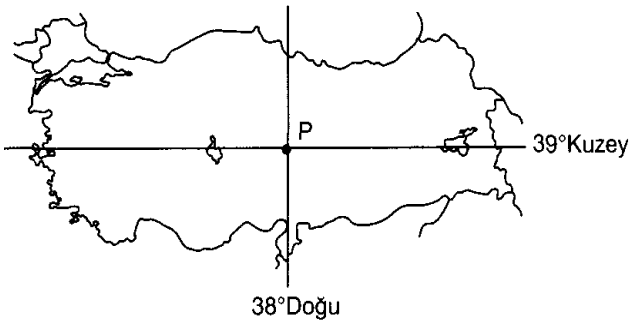
14. Aşağıdakilerden hangisi Birgül'ün sözünü ettiği meridyenlere ait bir özellik değildir?

- A) 360 tane meridyen vardır.
- B) Uzunlukları birbirine eşittir.
- C) Başlangıç meridyeni Greenwich'ten geçer.
- D) Meridyenler birbirlerine paralel çizilmiş çizgilerdir.

15. Dünya'yı iki eşit parçaya bölen Ekvator'a paralel olarak çizilen dairelere paralel denir.

Aşağıdakilerden hangisi paralellere ait bir özellik değildir?

- A) 180 tane paralel vardır.
- B) En büyük paralel Ekvator'dur.
- C) Bütün paralellerin uzunlukları (boyları) aynıdır.
- D) Paraleller arası uzaklık 111 km'dir.

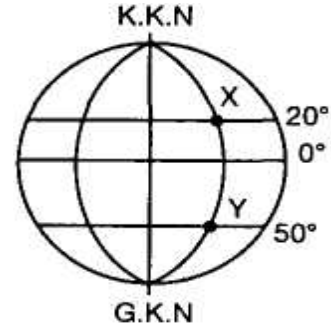


16. Yukarıda P noktasının coğrafi koordinatları verilmiştir. Aşağıda coğrafi koordinatları verilen noktalardan hangisi P noktasının güneybatısında yer alır?

- | Paralel | Meridyen |
|--------------|----------|
| A) 36° Kuzey | 30° Doğu |
| B) 41° Kuzey | 28° Doğu |
| C) 39° Kuzey | 26° Doğu |
| D) 37° Kuzey | 44° Doğu |

17. Kapladığı alan bakımından en büyük okyanus olan Pasifik (Büyük) okyanusu hangi kıtalar arasında yer almaktadır.

- A) K. Amerika - G. Amerika - Afrika - Avrupa
- B) Avustralya - Asya - K. Amerika - G. Amerika
- C) Antarktika - Asya - Avrupa - Afrika
- D) Afrika - Asya - Avustralya - Antarktika



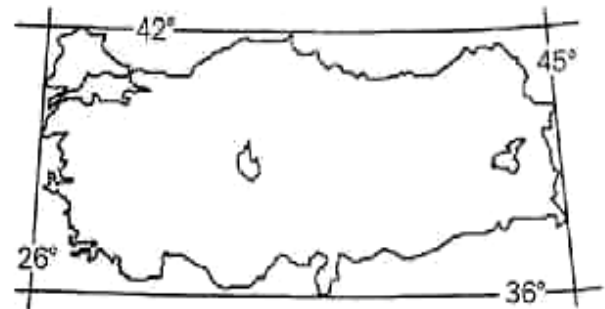
18. Yukarıdaki şekilde coğrafi koordinatları verilen X ve Y noktaları için verilenlerden hangisi yanlıştır.

- A) Aynı meridyen üzerindedirler.
- B) Aralarında 7770 km uzaklık vardır.
- C) Y noktası güney yarımkürede X noktası kuzey yarımkürede yer alır.
- D) Başlangıç paraleline olan uzaklıkları eşittir.

19. Türkiye'nin Dünya üzerindeki yeri ile ilgili bilgilerden hangisi yanlıştır?

- A) Türkiye 26 ve 45 doğu meridyenleri arasında yer alır.
- B) Türkiye 36 ve 42 kuzey paralelleri arasında yer alır.
- C) Türkiye başlangıç meridyeninin batısında yer alır.
- D) Türkiye başlangıç paralellinin kuzeyindedir.

20. Aşağıda, Türkiye'nin uç noktalarından geçen paralel ve meridyenler gösterilmiştir.



Haritaya göre, aşağıdaki yargılardan hangisi yanlıştır?

- A) Türkiye'den 19 tane meridyen geçmektedir.
- B) Türkiye, Kuzey Yarım Küre'de bulunmaktadır.
- C) Türkiye'den geçen paralel sayısı meridyen sayısından azdır.
- D) Türkiye, Greenwich'in batısında bulunmaktadır.