

SOSYAL BİLGİLER

7

SINIF



Yazarlar

ÇETİN KAYADELEN
BETÜL DERİCİ
CUMALİ GÜLER
YASİN GÖKÇE
REŞİT ÜNAL

Toplam süreniz

40 Dakika



Soru Sayısı

20

Deneme Formatı

SADECE BİRİNCİ DÖNEM
KONULARINI KAPSAMAKTADIR.

DENEMEDE SORULAN SORULARIN ÜNİTELERE GÖRE DAĞILIMLARI

	1	2	3	4	5	6	7	8	9	10	11	12	13	14	15	16	17	18	19	20
1. Ünite:	1	2	3			6														20
2. Ünite:				4			7			10			13		15	16		18		
3. Ünite:					5			8	9		11	12		14			17		19	
4. Ünite:																				
5. Ünite:																				
6. Ünite:																				
7. Ünite:																				

Daha fazla
doküman için:

fb.com/groups/ortaokulpaylasim

Online denemelere www.modeldeneme.com adresinden ulaşabilirsiniz



DENE MEVAKTİ
Hedef Bizimle Daha Yakın

MODEL
EĞİTİM YAYINLARI

Adı:

Soyadı:

Sınıf-Şube:

No:

Bu denemede toplam 20 soru bulunmaktadır. Soruların tamamını yanıtlamak için toplam 40 dakikanız vardır.

1.

İletişimde etkin dinleme en az etkili konuşma kadar önemli bir unsurdur. İletişim sürecinde konuşmacı ve dinleyicinin sağlıklı iletişime engel oluşturabilecek her türlü tehdidi ortadan kaldırması gerekir.



Buna göre aşağıdakilerden hangisi konuşmacıdan kaynaklanan bir iletişim hatası olamaz?

- A) Yetersiz algılama ve yanlış yorumlamalarda bulunulması
- B) Bozuk ses, monoton sunuş, duygu ve anlam eksikliği yaşanması
- C) Ses tonunun yeterli seviyede olmaması
- D) Eksik bilgi ve yanlış mesajlar verilmesi

2.

	<p>Düzeltilme ve cevap hakkı</p> <p>Madde 32 – Düzeltilme ve cevap hakkı, ancak kişilerin haysiyet ve şereflerine dokunulması veya kendileriyle ilgili gerçeğe aykırı yayınlar yapılması hâllerinde tanınır ve kanunla düzenlenir.</p>	<p>1982 Anayasası</p>
--	---	-----------------------

Buna göre aşağıdaki durumlardan hangisinde düzeltilme ve cevap hakkı kullanılamaz?

- A) Spor programında, kırmızı kart gören futbolcu bilgisi yanlış verildiğinde
- B) Japonya’da toplanan “2019 G-20 Dünya Liderler Zirvesi Fransa’da toplandı.” bilgisi verildiğinde
- C) Canlı yayın sunucusunun, konuklardan birine hakaret etmesi halinde
- D) Genel Cerrah Rıfat Bey’in katıldığı programda mesleki deneyimlerini izleyiciyle paylaştığında

3.

MODEL AĞ HABERİ

Son yıllarda yapılan bir araştırmaya göre ülkemizde kitap okuma oranının azaldığı buna karşılık televizyon izleme sürelerinin arttığı tespit edilmiştir. Ülkemizde kitaba ayrılan süre günde ortalama 1 saattir. Buna karşın televizyon başında geçirilen ortalama süre 6 saat, internette 3 saattir.

Model Ağ Haberine göre;

- I. Kitle iletişim araçlarının dijital ortamda kitap okumasını kolaylaştırdığına
 - II. İnsanların alışkanlıklarının farklılaştığına
 - III. Kitap okuma oranında düşüş yaşandığına
- yargılarından hangilerine ulaşılabilir?**

- A) Yalnız I
- B) I ve II
- C) II ve III
- D) I, II ve III

4.

500 Yıllık Bir Öykü

XVI. yüzyılda hayatımıza giren kahve Osmanlı’da pişirilmesi emek isteyen, çok sayıda insanla yapılan ihtişamlı bir törenin başkahramanıydı. Bu törenin en önemli detayı da şüphesiz kahve sunumunun yapıldığı fincanlardı. Lezzeti özel olan bu içecek yine çok özel fincanlarla servis edilirdi.

Verilen bilgilere göre kahve ile ilgili aşağıdakilerden hangisine ulaşılamaz?

- A) Türk kültüründe önemli bir yeri olduğu
- B) Özel bir sunumla içildiği
- C) Osmanlıya Avrupa’dan geldiği
- D) Pişirilmesinin zahmetli olduğu

5.

İlk insanlar, avcı-toplayıcı olarak yaşamalarını sürdürmekteydi. Ancak günümüzden yaklaşık 10. 000 yıl kadar önce toprağı işlemeyi öğrenmiş ve hayvanları da evcilleştirerek yerleşik hayata geçmeye başlamışlardır. Yerleşik hayata geçen ilk insanlar, yerleşim yeri belirlerken daha çok iklim şartlarının uygun, tarım yapılabilecek arazilere ve su kaynaklarına yakın yerleri tercih etmişlerdir. İlk olarak birkaç evden oluşan köy yerleşimleri zamanla büyüyecek büyük şehirlere ve sonra da şehir devletlerine dönüşmüşlerdir.



Paragrafta verilen bilgilere göre hangisi söylenmez?

- A) İnsanoğlu, başlangıçta tüketici konumdayken, üretici konuma geçmiştir.
- B) Yerleşme üzerinde en belirleyici etken iklim koşulları olmuştur.
- C) Tarımla birlikte zamanla şehirleşmeler meydana gelmiştir.
- D) İnsanların yaşam tarzlarında değişimler olmuştur.

6. Kurtuluş Savaşı'nın yaşandığı yıllarda vatanın içinde bulunduğu durumu İrade-i Milliye Gazetesinden okuyan Cumali vatanın geleceğinden endişe ettiği için gönüllü olarak savaşa katılmıştır.

Buna göre Cumali'nin Kuruluş Savaşı'na katılmasında aşağıdaki alanlardan hangisi etkili olmuştur?

- A) İletişim
- B) Ulaşım
- C) Ekonomi
- D) Eğitim

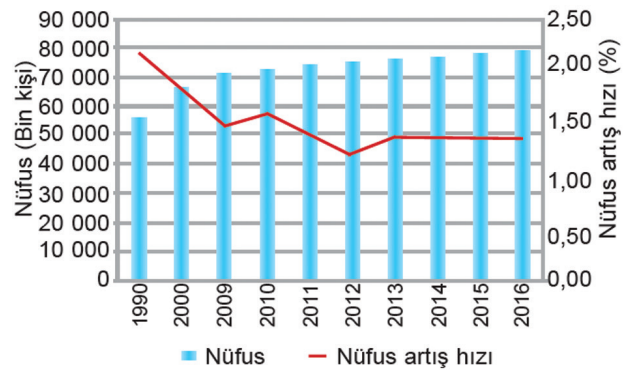
7.

Balkanlarda ele geçirilen topraklarda İskân politikası uygulanmış, Balkan topraklarına Türk aileler yerleştirilmiştir. Balkanlara yerleşen Türkler, Türk kültürünün bu bölgede yayılmasında etkili olmuştur. Burada yaşayan Hristiyan halk bu sayede İslamiyet ile tanışma fırsatı bulmuştur. Devlet bu bölgelere yerleştirdiği ailelerin daha iyi yaşaması için bedesten, köprü gibi yapılar yaptırmış, araziler boş kalmasın diye halka dağıtmıştır. Dağıtılan topraklarda halk tarımsal faaliyetlerde bulunmuştur.

Bu bilgide aşağıdaki sorulardan hangisinin cevabı yoktur?

- A) İskân politikasının faydaları neler olmuştur?
- B) Balkanların güvenliği nasıl sağlanmıştır?
- C) Bölgede hangi imar faaliyetleri yapılmıştır?
- D) Balkanlarda hangi ekonomik faaliyet yapılmıştır?

8.



Yalnızca grafikte verilen bilgilere göre aşağıdaki-lerden hangisine ulaşılabilir?

- A) Nüfusun yarısından fazlasını kadınlar oluşturmaktadır.
- B) Nüfusun en fazla olduğu yıl 2014'tür.
- C) Nüfus artış hızı yıllara göre değişim göstermiştir.
- D) Nüfus artış hızı giderek artmaktadır.

9. Ülkemizde nüfusun dağılışı incelendiğinde, iklimin sert olduğu Doğu Anadolu Bölgesi, yağışın az olduğu İç Anadolu Bölgesi ve Güneydoğu Anadolu Bölgesi daha seyrek nüfuslanmıştır. İklimin ılıman olduğu Akdeniz, Ege ve Marmara Denizi kıyıları ise daha sık nüfuslanmıştır.

Verilen bilgilerden hareketle haritada yer alan,



şehirlerden hangilerinin daha sık nüfuslanmış olması beklenebilir?

- A) I ve II B) I ve III
C) II ve IV D) III ve IV

10.

Dünyada üç milyar insan, yani toplam nüfusun yüzde 40'ı sosyal medya kullanıyor. Araştırmalar günde ortalama iki saatimizi sosyal medyada geçirdiğimizi gösteriyor. İnsanlar artık alışverişlerini yüz yüze yapmak yerine genel ağ üzerinden yapıyor. Duygularını, beğenilerini ve isteklerini konuşmak yerine sosyal medya üzerinden ifade ediyor.

Verilen bilgilere göre aşağıdakilerden hangisine ulaşamaz?

- A) İnsanların alışveriş şekilleri değişmektedir.
B) Genel ağ hayatımızda önemli bir yere sahiptir.
C) Yüz yüze iletişim giderek önem kazanmaktadır.
D) İletişim kurmada sosyal medyanın önemi artmaktadır.

11. Nüfus yoğunluğu kilometre kareye düşen insan sayısını gösterir. Nüfus yoğunluğunun bulunabilmesi için nüfus sayısı, yüz ölçümüne bölünmelidir.

Iğdır	Sinop	Nevşehir	Yalova
Nüfus: 197.456	Nüfus: 219.733	Nüfus: 298.339	Nüfus: 262.234
3664 km ²	5717 km ²	5485 km ²	798 km ²

Bu bilgilerden hareketle, verilen illerden nüfusu en yoğun olan hangisidir?

- A) Yalova B) Iğdır
C) Sinop D) Nevşehir

12. → İstanbul geçmişte Roma ve Osmanlı gibi büyük devletlere başkentlik yapmıştır.
→ Taş kömürünün bulunmasıyla Zonguldak ilinin çehresi değişmiştir.
→ Ankara'nın başkent olması şehrin büyük bir değişim yaşamasına yol açmıştır.
→ Doğal güzelliklerinin varlığı nedeniyle yerli ve yabancı pek çok kişinin ziyarete geldiği Antalya'da nüfus artmıştır.

Buna göre verilen illerin nüfuslarının yoğun olmasının sebepleri,

- I. İstanbul-Tarihi faktör
II. Zonguldak-Yeraltı kaynakları
III. Ankara-Sanayi
IV. Antalya-Turizm

hangilerinde doğru olarak verilmiştir?

- A) I, II ve III B) I, II ve IV
C) I, III ve IV D) II, III ve IV

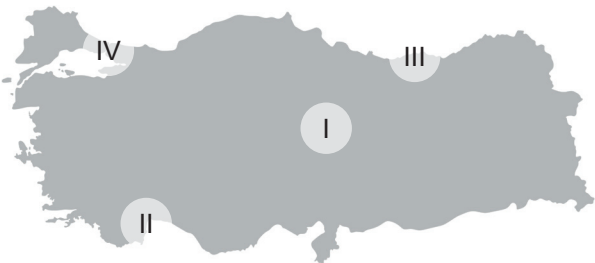


13. Osmanlı Devleti, Ertuğrul Gazi'den itibaren fetihler yapmış, devletin sınırlarını genişletmiştir. Yaptıkları fetihler sırasında İslam dinini korumak ve yaymak amacını kutsal bir görev kabul etmişlerdir. Bu nedenle Müslümanlar üzerine seferler düzenlemekten daha çok Bizans veya Hristiyan devletlere yönelik seferler düzenlemeyi tercih etmişlerdir.

Buna göre Osmanlı Devleti'nin fetih politikası için aşağıdakilerden hangisi söylenebilir?

- A) Sınırlarını doğuya doğru genişletilmesi politikası izlenmiştir.
B) Jeopolitik konum, avantaja dönüştürülmek istenmiştir.
C) Ordunun istekleri doğrultusunda seferler düzenlenmiştir.
D) Gaza ve cihat anlayışı doğrultusunda hareket edilmiştir.

14. Bir bölgenin nüfusunu etkileyen etkenler arasında,
- * Ulaşım koşullarının gelişmiş olması
 - * Verimli tarım arazilerinin olması
 - * Sanayinin gelişmiş olması
 - * Yükseltinin az yer şekillerinin engebesiz olması gibi etkenler bulunur.



Yukarıda verilen özelliklerin tamamı, haritada işaretlenmiş alanların hangisinin nüfusunun fazla olmasında etkili olmuştur?

- A) I B) II
C) III D) IV

MODEL EĞİTİM YAYINLARI

MODEL EĞİTİM YAYINLARI

15. İstanbul'un Fethi'nin sebeplerinden bazıları şunlardır;
- Osmanlı Devleti'nin toprak bütünlüğünü bozması
 - Deniz ve kara ticaret yolları üzerinde bulunması
 - Ortodoks Hristiyanlarının merkezi konumunda olması

İstanbul'un Fethi'nin verilen sebeplerine göre, Fatih Sultan Mehmet, İstanbul'un Fethi ile;

- I. Anadolu ve Rumeli arasındaki bağlantıyı sağlamak
II. İstanbul'u başkent yapmak
III. Ekonomik olarak daha güçlü hale gelmek
- hangilerini gerçekleştirmek istemiştir?**

- A) I ve II B) I ve III
C) II ve III D) I, II ve III

16. Avrupa'da buharlı makinelerin kullanılmaya başlanmasının ardından buharla çalışan gemiler de yapılmaya başlandı. Osmanlı Devleti ise ilk buharlı gemi ile II. Mahmut döneminde tanıştı. Halk getirilen gemiden o kadar etkilenmişti ki başkalarının da alınmasını ve hatta kendi tersanelerinde de yaptırılmasını istedi. Yurt dışından gelen ve inşa ettirilen gemiler ile yolcu ve yük taşımacılığına başlandı. Fakat kapitülasyonların yabancılara sağladığı haklar durumu zorlaştırıyordu. Kendi sularımızda ilk düzenli taşımacılık ise 1851 yılında kurulan Şirket-i Hayriye sayesinde gerçekleştirildi. Şirketin hissedarları arasında padişah ve ailesi, devlet adamları bulunmaktaydı. Şirkete bağlı gemilerde Türk Bayrağı dalgalanmaktaydı.

Verilen bilgilere göre hangisine ulaşamaz?

- A) Yabancıların karasularımızda ticaret yapmaları engellenmiştir.
B) Kurulan şirket, milli bir şirket olma özelliği taşımıştır.
C) Avrupa'da yaşanan gelişmelerden etkilenilmiştir.
D) Şirketi Hayriye ile birlikte düzenli taşımacılık başlamıştır.

17.



Anadolu'nun ilk yerleşim yerlerinden biri olan Çatalhöyük'te yapılan incelemelere göre, binden fazla konut olduğu, 5-10 bin arasında nüfusun yaşadığı düşünülüyor. Evlerin girişinin yabani hayvanlardan korunmak amacıyla çatıdan yapıldığı belirlenmiştir. Yerleşim yeri seçiminde höyük çevresinde bulunan su kaynakları, verimli araziler ve ev yapımında kullanılan kerpiç malzemelerinin bulunması etkili olmuştur.



Anadolu'nun en eski yerleşim yerlerinden biri olan Karain mağarası, Antalya merkeze 27 km uzaklıktadır. Mağara duvarlarında o dönem yaşayan insanların yaptıkları bitki ve hayvan resimleri bulunmaktadır. Mağarada Anadolu'daki en eski insan kalıntılarına ve sanat örneklerine rastlanmıştır. 1946'da başlayan kazılar hala devam etmektedir.

Çatalhöyük ve Karain ile ilgili verilen bilgilere göre;

- I. Anadolu çok eski tarihlerden itibaren yerleşim yeri olarak tercih edilmiştir.
- II. İnsanların yerleşim yeri seçiminde doğal faktörler etkili olmuştur.
- III. İnsanlar, yaşam alanlarını kendilerine uygun olarak şekillendirmişlerdir.
- IV. Dünya'nın ilk yerleşim yeri Çatalhöyük'tür.

hangilerine ulaşılabilir?

- A) Yalnız I
- B) I ve II
- C) I, II ve III
- D) II, III ve IV

18.

1831 yılında Osmanlı Devleti sınırları içinde yayınlanmaya başlanan Takvim-i Vekayi, ilk resmi gazete olma özelliği göstermektedir. Haftalık olarak yayın hayatına başlayan gazete Osmanlıca yanında Arapça, Ermenice, Rumca, Farsça gibi dillere de çevrilerek basılmıştır. Ülkenin her yerine gönderilmesi sağlanan gazetede devlet içi ve dışında yaşanan gelişmelere yer verildi. Gazetenin yayın hayatına başlamasıyla birlikte birçok alanda gazete ve dergi basılmaya başlandı. Osmanlı halkı çıkarılan gazete ve dergiler sayesinde bilim ve teknoloji ile ilgili bilgi edinme fırsatı buldu. Takvim-i Vekayi, 1878 ile 1891 yılları arasında basımına ara verildi. Türkiye Cumhuriyeti'nin kurulmasının ardından görevini Resmi Gazete'ye devretmiş oldu.

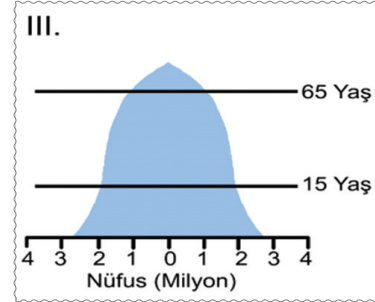
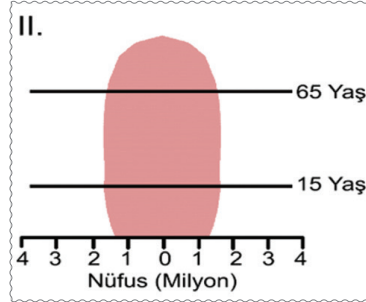
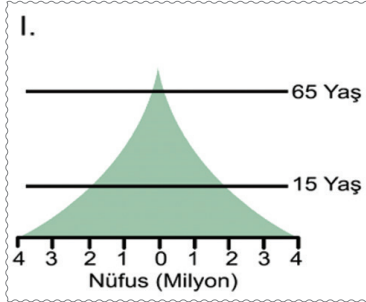
Verilen bilgilere göre Takvim-i Vekayi ile ilgili aşağıdakilerden hangisine ulaşamaz?

- A) Osmanlı Devleti sınırları içinde yayınlanan ilk resmi gazete olma özelliğini gösterir.
- B) Kesintisiz bir şekilde, uzun yıllar yayın hayatına devam etmiştir.
- C) Osmanlı sınırları içinde yaşayan azınlıkların da gazeteyi okuması için çalışma yapılmıştır.
- D) Ulusal ve uluslararası gelişmeler konu edinilmiştir.



19. Nüfus sayımının faydalarından biri de elde edilen bilgilerle yapılacak yatırımlara karar verilebilmesidir. Yatırım yapmak için bilinmesi gereken yaş özellikleri aşağıdaki gibidir,

- * 0 – 14 yaş: Genç Nüfus (Pasif-Bağımlı-Çalışmayan Nüfus)
- * 15 – 64 yaş: Yetişkin Nüfus (Aktif-Çalışan Nüfus)
- * 65 yaş üstü: Yaşlı Nüfus (Pasif-Bağımlı-Çalışmayan Nüfus)



Verilen bilgilerden hareketle nüfus pramitlerinin ait olduğu ülkelere aşağıdaki yatırımlardan hangilerinin yapılması daha doğru olur?

- | | | | |
|--|--|--|--|
| A) I. Huzurevi
II. Anaokulu
III. Sanayi Tesisi | B) I. Sanayi Tesisi
II. Anaokulu
III. Huzurevi | C) I. Anaokulu
II. Huzurevi
III. Sanayi Tesisi | D) I. Huzurevi
II. Sanayi Tesisi
III. Anaokulu |
|--|--|--|--|

20. Bir insanın hareketleri, sözlerinden daha yüksek sesle konuşur.

Dale Carnegie

Benliğimizin yüzümüzdeki izlerden belli olması, bizi ele veren en zayıf tarafımızdır, çünkü yüzümüz gözetilir ve onun ifadesine sözlerimizden çok daha fazla inanılır.

Francis Bacon

Bir kimsenin sesindeki, gözlerindeki ve davranışındaki mana, kullandığı sözlerdekenden az değildir.

François de La Rochefaucauld

Yukarıda verilen sözler etkili iletişim kuralabilmesi için hangisine dikkat edilmesi gerektiği üzerine söylenmiştir?

- | | |
|----------------------------------|--|
| A) İyi bir dinleyici olmak | B) Karşı tarafla göz temasını sağlamak |
| C) Beden dilini etkili kullanmak | D) İletişim hatalarından kaçınmak |

Doğru Sayısı	
Yanlış Sayısı	
Boş Sayısı	
Net Sayısı	

Öğrenci Numarası		A	B	C	D	A	B	C	D
1513	0					11			
	1					12			
	2					13			
	3					14			
	4					15			
	5					16			
	6					17			
	7					18			
	8					19			
	9					20			

Model Optik Okuma Uygulaması