

# SOSYAL BİLGİLER

## 6. SINIF



### Yazarlar

ÇETİN KAYADELEN  
BETÜL DERİCİ  
CUMALİ GÜLER  
YASİN GÖKÇE  
REŞİT ÜNAL

### Toplam süreniz

**40** Dakika



### Soru Sayısı

**20**

### Deneme Formatı

SADECE BİRİNCİ DÖNEM  
KONULARINI KAPSAMAKTADIR.

#### DENEMEDE SORULAN SORULARIN ÜNİTELERE GÖRE DAĞILIMLARI

	1	2	3	4	5	6	7	8	9	10	11	12	13	14	15	16	17	18	19	20
1. Ünite:	1	2	3	4															19	
2. Ünite:							7	8	9		11							18		
3. Ünite:					5	6				10		12	13	14	15	16	17			20
4. Ünite:																				
5. Ünite:																				
6. Ünite:																				
7. Ünite:																				

Daha fazla  
doküman için:

[fb.com/groups/ortaokulpaylasim](https://fb.com/groups/ortaokulpaylasim)



**DENE MEVAKTİ**  
*Hedef Bizimle Daha Yakın*

Online denemelere [www.modeldeneme.com](http://www.modeldeneme.com) adresinden ulaşabilirsiniz

**MODEL**  
EĞİTİM YAYINLARI

Adı:

Soyadı:

Sınıf-Şube:

No:

Bu denemede toplam 20 soru bulunmaktadır. Soruların tamamını yanıtlamak için toplam 40 dakikanız vardır.

1.

Deprem haberini alır almaz harekete geçen Uludağ Üniversitesi öğrencileri, sosyal paylaşım siteleri vasıtasıyla örgütlenecek yardım kampanyası başlattı. Deprem ardından soğuk havayla mücadele eden Van halkının içinde bulunduğu zor durumu bir nebze olsun hafifletmek isteyen Uludağ Üniversitesi öğrencileri, giymedikleri kışlık giyeceklerin yanı sıra cep harçlıklarından biriktirdikleri paralarla battaniye, kuru gıda, çocuk maması, çocuk bezi satın alarak Van'a gönderdi. Öğrenciler ülkemizin bu zor zamanlarında birlikte olmanın çok önemli olduğunu söylediler.

**Verilen bilgilere göre aşağıdakilerden hangisi söylenemez?**

- A) Öğrenciler toplumsal duyarlılık göstermiştir.
- B) Öğrenciler grup içerisinde bireysel hareket etmiştir.
- C) Toplumsal birliktelik düşüncesi ile hareket edilmiştir.
- D) Toplumsal dayanışmanın güzel bir örneği verilmiştir.

2.



Merhaba! Ben Sıla, 12 yaşındayım. Annem, babam ve ablamla birlikte Mersin'de yaşıyorum. Okulda satranç kulübünün üyesi ve okul voleybol takımının kaptanıyım. Bu görevleri alırken yerine getirmem gereken sorumluluklar olduğunun farkındayım. Aldığım görevleri ve çalışmayı çok seviyorum.

**Sıla hakkında aşağıdaki çıkarımlardan hangisine ulaşamaz?**

- A) Farklı gruplarda farklı rolleri vardır.
- B) En önemli rolü takım kaptanlığıdır.
- C) Sorumluluklarının farkındadır.
- D) Bazı rollerini doğuştan kazanmıştır.

3.

Mahallesindeki çöplerin iki gündür toplanmadığını gören Mehmet Bey, önce mahalle muhtarlığına daha sonra da belediyeye dilekçe ile başvuruda bulunmuştur. Aynı gün içerisinde belediye görevlileri gelerek çöpleri toplamışlardır.



**Verilen bilgilere göre;**

- I. Mehmet Bey, hak ve sorumluluklarını bilmektedir.
- II. Mehmet Bey, etkin bir vatandaşdır.
- III. Mehmet Bey'in mahallesinde yaşanan temizlik sorunu çözüme kavuşturulmuştur.

**yargılarından hangilerine ulaşılabilir?**

- A) Yalnız I
- B) I ve II
- C) II ve III
- D) I, II ve III

4.

Bir kimse veya bir şeyle ilgili olarak belirli şart, olay ve görüntülere dayanarak önceden edinilmiş olumlu veya olumsuz peşin fikre, ön yargı denir. Örneğin; kadınlar araba kullanamaz, köylüler şehre uyum sağlayamaz gibi tutumlar ön yargı olarak değerlendirilebilir. Ön yargılar insanlar arasında duvarlar ördüğü için toplumsal birlik ve beraberliğimize büyük zarar verir.

**Ön yargı ile ilgili ;**

- I. Farklı alanlarda ortaya çıkabilmektedir.
- II. Olumlu veya olumsuz olabilir.
- III. Toplumu olumsuz yönde etkileyebilir.

**yargılarından hangileri vurgulanmaktadır?**

- A) I ve II
- B) I ve III
- C) II ve III
- D) I, II ve III



5.

Benim yaşadığım bölgede hava çok soğuk olduğu için burada yaşayanlar kalın ve koyu renkli giysiler giymeyi tercih eder. Karın yerde uzun süre kalmasından dolayı tarımsal faaliyet yapılamaz. Bu yüzden balıkçılık ve avcılık temel geçim kaynağı olmuştur. İgloo ismini verdiğimiz geleneksel evlerimiz vardır.



Buna göre aşağıdaki iklimlerden hangisinde yaşadığımız söylenebilir?

- A) Akdeniz İklimi      B) Muson İklimi  
C) Ekvatorial İklim      D) Kutup İklimi

6.

Ülkemizin ortalama yükseltisi 1141 metredir. Doğu Anadolu Bölgesi'nin ortalama yükseltisi ..... metreye ülkemizin ortalama yükseltisinin üzerindedir ve ortalama yükseltisi en yüksek olan bölgemizdir. Marmara Bölgesi'nin ortalama yükseltisi ise .....metreye, ülkemizin ortalamasının altındadır ve ortalama yükseltisi en az olan bölgemizdir.

Verilen bilgilere göre aşağıdaki yorumlardan hangisi yapılabilir?

- A) Doğu Anadolu Bölgesi 2607 metre; Marmara Bölgesi 1150 metre olabilir.  
B) Doğu Anadolu Bölgesi 280 metre; Marmara Bölgesi 1150 metre olabilir.  
C) Doğu Anadolu Bölgesi 2200 metre; Marmara Bölgesi 280 metre olabilir.  
D) Doğu Anadolu Bölgesi 1140 metre; Marmara Bölgesi 260 metre olabilir.

MODEL EĞİTİM YAYINLARI

MODEL EĞİTİM YAYINLARI

7.

Malazgirt Savaşı'nın kazanılmasının ardından Sultan Alparslan, komutanlarına Anadolu'da fetihler yapmalarını ve fethettikleri topraklarda kendilerine ait beylikler kurmalarını istemiştir. Böylece Anadolu'nun dört bir yanında komutanların kendi adları ile kurdukları beylikler dönemi başlamıştır. Bu beylikler iç işlerinde bağımsız, dış işlerinde ise Selçuklu Devletine bağlı olarak kurulmuşlardır. Ele geçirilen yerlere Türkçe isimler verilmiştir. Cami, medrese, kervansaray gibi mimari eserler yapmışlardır.



Verilen bilgilere göre hangisine ulaşamaz?

- A) Anadolu'da Türk nüfusu azalma göstermiştir.  
B) Ele geçirilen yerlerde Türk kültürünün yerleşmesini sağlama çalışmaları vardır.  
C) Anadolu'da ticareti geliştirmeye yönelik yapılar inşa edilmiştir.  
D) Beyliklerin dış ilişkilerde Selçuklu Devleti'ne bağlı hareket edilmesi istenmiştir.

8.

Türklerin ana yurdu Orta Asya'dır. Tarihte bilinen ilk Türk devletleri bu coğrafyada kurulmuştur. Göçebe bir yaşam süren Türkler, genellikle hayvancılıkla uğraşmışlardır. Hayvancılığın yanında az da olsa tarım ile uğraştıkları yapılan kazı çalışmalarında ortaya çıkmıştır. Hayvancılığın yaygın olmasında coğrafi şartlar ve iklim etkili olmuştur.

Verilen parçadan, ilk Türk devletleri hakkında aşağıdaki sorulardan hangisinin cevabına ulaşamaz?

- A) Temel geçim kaynakları nedir?  
B) Nasıl bir yaşam tarzı benimsemişlerdir?  
C) Coğrafi özellikleri yaşamlarını nasıl etkilemiştir?  
D) İlk Türk devleti hangisidir?

9. Cahiliye Dönemi'nde Arap Yarımadası'nda putlara tapılırdı. Helvadan yapılan putlar, acıkılınca yenilirdi. Önemli putlar Kâbe'de bulunurdu. Putları yapıp satan insanlar vardı. Her yıl binlerce insan bu putları görmek için Kâbe'yi ziyarette gelirdi. Gelen ziyaretçiler günlerce burada kalıp, putlardan isteklerde bulunurlar, yapılan panayıra katılırlardı.

**Verilen bilgide Cahiliye Dönemi'nin;**

- I. Dini
- II. Ekonomik
- III. Siyasi

**hangi alanlardaki özelliklerine vurgu yapılmıştır?**

- A) Yalnız I
- B) Yalnız II
- C) I ve II
- D) I ve III

10.

"Yaşadığım bölge bol yağış aldığı için çevrede geniş alanlara yayılmış gür ormanlar mevcut. Bu ormanın içerisinde yer alan köyümüzdeki evimiz ise ahşap olduğu için uzun yıllar yağmura dayanabilecek. Dışarıya çıkacağımız zaman daima yanımıza yağmurluk alıyoruz. Ne de olsa burada her gün yağmur yağıyor."



**Mehmet'in anlattıklarından hareketle yaşadığı bölgede hissedilen iklimin hangi etmenler üzerinde etkili olduğu söylenemez?**

- A) Bitki Örtüsü
- B) Tarım
- C) Konut Tipi
- D) Giyim

11. İlk Türk-İslam Devleti olan Karahanlılar, İslamiyet'i resmi din olarak kabul etmelerine rağmen Türkçeyi resmi dil olarak kullanmaya devam etmişlerdir. Ülke yönetiminde ikili yönetime devam etmiş, ülke yöneticilerine Han, Kağan, Hakan gibi unvanlar vermeyi sürdürmüşlerdir.

**Buna göre Karahanlıların;**

- I. Millî kültürü korumayı
- II. Siyasi olarak güçlü olmayı
- III. Yönetim anlayışını değiştirmeyi

**hangilerini amaçladıkları savunulabilir?**

- A) Yalnız I
- B) I ve II
- C) II ve III
- D) I, II ve III

12.



**İklimlerin yağış grafiklerinden hareketle aşağıdaki yorumlardan hangisi yapılamaz?**

- A) Yıl içerisinde en fazla yağış, Karadeniz ikliminde görülmektedir.
- B) Karasal iklimde, yağışlar genellikle kar şeklinde düşmektedir.
- C) İklimler arasında yağışın eşit miktarda yağdığı aylar vardır.
- D) Akdeniz ikliminin toplam yağış miktarı, Karasal iklimin yağış miktarından fazladır.

13. Ekvator çizgisi boyunca uzanan bölgelerde görülen Ekvatorial iklimde yıllık yağış miktarı oldukça fazladır. Yağışın ve sıcaklığın fazla olmasından dolayı bu bölgede yağmur ormanları denilen oldukça sık bir orman örtüsü bulunur.



Verilen bilgilere göre yukarıdaki haritada işaretli alanların hangisinde ekvatorial iklim görülür?

- A) I B) II C) III D) IV

14. Sıcaklık ve yağış şartlarının elverişliliği sayesinde ülkemizin %28'i ormanlarla kaplıdır. Bu ormanların çoğunluğu kıyı kesimlerde yer almaktadır. Ülkemizde kuraklığın fazla olduğu İç Anadolu ve Güneydoğu Anadolu Bölgeleri hariç tüm bölgelerimiz orman gelişimi için elverişlidir.



Verilen metinden hareketle aşağıdakilerden hangisine kesinlikle ulaşılır?

- A) Ülkemizde ormanların gelişmesi için elverişli koşullar genellikle kıyı kesimlerde yer almaktadır.  
B) Ülkemizin tüm bölgeleri orman yetiştirilmesi için uygun şartlar taşımaktadır.  
C) İç Anadolu Bölgesi'nin orman varlığı, Güneydoğu Anadolu Bölgesi'ne göre daha fakirdir.  
D) Orman varlığı bakımından en zengin bölgemiz, Karadeniz Bölgesi'dir.

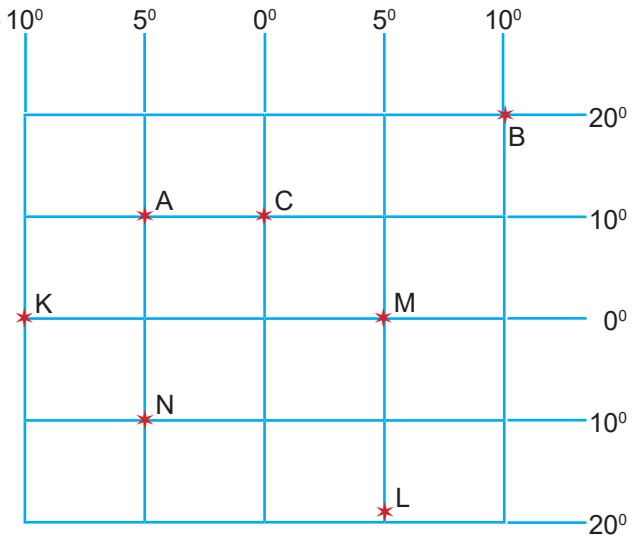
- 15.



Ülkemizin mutlak konumunu gösteren haritaya göre hangisine ulaşamaz?

- A) Kuzey yarım kürede yer alır.  
B) Başlangıç meridyeninin doğusundadır.  
C) Batıdan doğuya doğru yükselti artar.  
D) Güneyinden 36. paralel geçer

- 16.

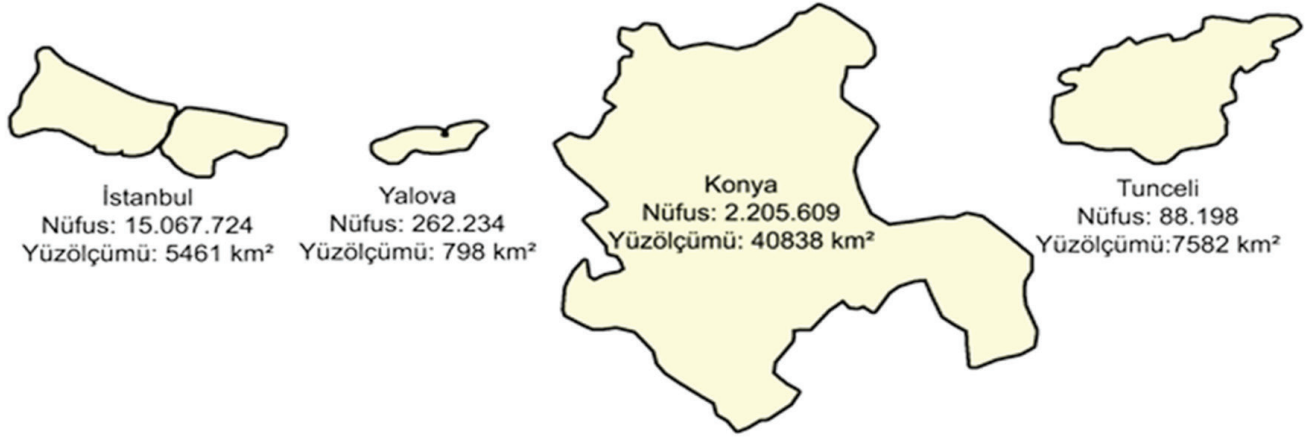


Koordinat sisteminde verilen merkezlerle ilgili aşağıdakilerden hangisine ulaşamaz?

- A) N noktası güney yarım kürededir.  
B) A ve C noktaları aynı paralel üzerindedir.  
C) Başlangıç meridyeni üzerinde K ve L şehirleri yer almaktadır.  
D) M noktası başlangıç paralelindedir.



17. Nüfus yoğunluğu, kilometre kareye düşen insan sayısını gösterir. Nüfus yoğunluğunu bulabilmek için nüfus sayısını, yüz ölçümüne bölmek gereklidir.



Yukarıdaki bilgilerden hareketle, verilen illerimizin nüfus yoğunluğu en yoğun olandan en seyrek olana doğru sıralanışı aşağıdakilerden hangisidir?

- A) İstanbul, Yalova, Konya, Tunceli  
 B) Yalova, İstanbul, Konya, Tunceli  
 C) İstanbul, Yalova, Tunceli, Konya  
 D) Yalova, İstanbul, Tunceli, Konya

18.



Dört Halife döneminde yaşanan gelişmelerin bazıları aşağıdaki tabloda verilmiştir.

Hiz. Ebubekir Dönemi	Kur'an-ı Kerim kitap haline getirilmiştir.
Hiz. Ömer Dönemi	Yapılan fetihlerle devletin sınırları genişlemiştir.
Hiz. Osman Dönemi	İlk İslam donanması kurularak Kıbrıs fethedilmiştir.
Hiz. Ali Dönemi	Toplumda iç karışıklıklar yaşanmıştır.

Harita ve tabloya göre Dört Halife Dönemi'nde;

- I. Askeri  
 II. Siyasi  
 III. Ekonomik  
 IV. Sosyal

hangi alanlarda gelişmeler yaşanmıştır?

- A) I ve II  
 B) I, II ve III  
 C) I, II ve IV  
 D) I, II, III ve IV



19. İnsanın geçmişini öğrenmesinde, bu günü yaşamasında, geleceğine yön vermesinde, kişiliğini kazanmasında, aynı dili konuşan diğer insanlarla iletişim kurmasında ve kendisini ifade etmesinde dilin çok önemli bir araç olduğu kesindir. Ortak değerlerin oluşturulmasında, paylaşılmasında, nesilden nesile aktarılmasında, milletin varlığını devam ettirmesinde dil, çok önemli bir görevi yerine getirir. Çünkü millet olmanın birinci şartı, aynı dili konuşmaktır. Mustafa Kemal Atatürk, Türkçemizin korunup geliştirilmesi için 1932'de Türk Dil Kurumunun kurulmasına öncülük etmiştir.



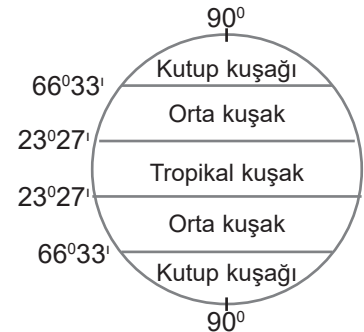
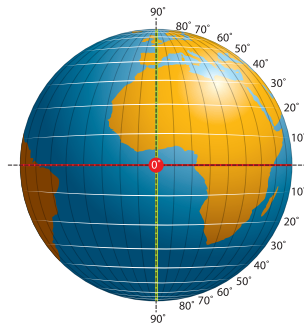
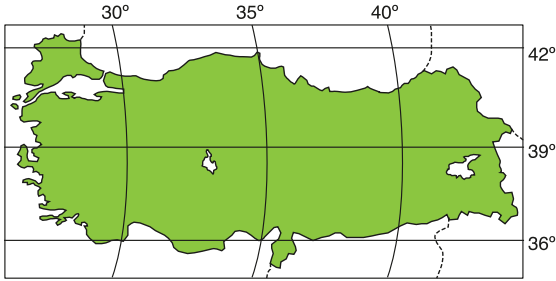
**Metne göre;**

- I. Dil, önemli ortak değerlerimizdendir.
- II. Mustafa Kemal Atatürk, dilimize çok önem vermiştir.
- III. Dil, aynı duygular etrafında birleşmemizi sağlamaktadır.

**yargılarından hangilerine ulaşılabilir?**

- A) Yalnız II                      B) I ve II                      C) I ve III                      D) I, II ve III

20.



**Verilen Türkiye ve Dünya haritalarına göre aşağıdaki çıkarımlardan hangisi doğrudur?**

- A) Türkiye, kuzey yarımkürede ve orta kuşakta yer almaktadır.
- B) Türkiye'nin 40 derece paralelleri üzerinde bulunan şehirlerin yerel saatleri birbirleri ile eşittir.
- C) Türkiye'nin verilen koordinatlarına göre kuzeyinde ve doğusunda deniz bulunmaktadır.
- D) Türkiye'nin kuzey kesimleri güney kesimlerine oranla daha sıcaktır.

Doğru Sayısı	
Yanlış Sayısı	
Boş Sayısı	
Net Sayısı	

Öğrenci Numarası		A	B	C	D	A	B	C	D
0									
1									
2									
3									
4									
5									
6									
7									
8									
9									
10									
11									
12									
13									
14									
15									
16									
17									
18									
19									
20									

Model Optik Okuma Uygulaması