

1.

## LİDYALILAR

Mezopotamya'ya uzanan ticaret yolu kabul edilen Kral Yolu'nu yapmışlardır.



İyonlar gibi saraylar, Frigler gibi Tümülüsler yapmışlardır.



Batı Anadolu'da kurulmuşlardır.



İlk kez parayı icat ederek kullanmaları değiş-tokuşu sona erdirmiştir.

**Lidyalılar ile ilgili verilen inografik tabloya göre;**

- I. Medeniyetler arasında etkileşim yaşanmıştır.
- II. Alışverişte takas usulünden vazgeçilmeye başlanmıştır.
- III. Mezopotamya ile ticari faaliyet gerçekleşmiştir.

**gibi sonuçlardan hangilerinin yaşanması beklenmektedir?**

- A) Yalnız I                      B) I ve II                      C) II ve III                      D) I, II ve III

2.

1923 yılında John Logie Baird tarafından icat edilen televizyonda 1926 yılında ilk görüntü yayınlanmaya başlamıştır. İlk başlarda tek kanal üzerinden belli zamanlarda yayın yapılırken zamanla kanal sayısı artmış, süresiz yayına başlanmış ve siyah beyaz televizyonlardan renkli televizyonlara geçilmiştir. Günümüzde kullandığımız televizyonlar ise sadece televizyon işlevini yerine getirmekle kalmamış aynı zamanda çeşitli uygulamalarla hem bilgisayar hem oyun aracı haline gelmiştir. Evde kalmak zorunda olduğumuz bu günlerde ise MEB tarafından yayınlanan dersler sayesinde eğitim işlevini de yerine getirdiğini görmekteyiz.



**Televizyonun gelişimi ile ilgili verilen metne göre hangisine ulaşamaz?**

- A) Zamanla birden fazla amaç için kullanılır hale gelmiştir.
- B) Önceden zaman sınırlaması varken günümüzde bu kısıtlama sona ermiştir.
- C) Zor günlerde bile kullanılan teknolojik bir alet halini almıştır
- D) Gün geçtikçe kendini yenilemesi ile iletişimi olumsuz etkilemiştir.







3. Öğretmenimiz ülkemize ait kültürel özelliklerden bahsederken yemeklerimiz konusunda garip bir durum dikkatimi çekmişti. Mesela Doğu Anadolu'da meşhur olan yemekleri sıralarken et yemekleri çoğunlukta-yken Ege'de ise zeytinyağlı yemekler daha ağırlıkta-ydı. Ayrıca Karadeniz'de de hamsi ile yapılan çok çeşitli yemekler sıralanmıştı.

**Kültürel öğelerimizden olan yemeklerin bölgeden bölgeye değişmesinin sebebi ne olabilir?**

- A) Damak zevklerinin ülkede yaşayan kişilere göre farklılık göstermesi.
- B) Kalabalık olan yerlerde et ihtiyacının fazla karşılanamaması.
- C) Yemeklerin çeşidinin bölgenin coğrafi ve iklim özellikleri ile ilgili olması.
- D) Ekonomik durumun bölgeden bölgeye değişiklik göstermesi.

4. Aşağıda yer alan öğrencilerden hangisi sosyal bilgiler dersinin kazandırdıklarına uygun hareket etmemektedir?

- A)  Çevremizdeki doğal ve tarihi varlıklarımızı korumak için kampanya hazırladım.
- B)  Özgürlüklerimizden yola çıkarak sevdiğim şarkıları yüksek sesle dinledim.
- C)  Demokrasinin gereği olarak okul seçimlerinde serbestçe oy kullandım.
- D)  Çevre kirliliğinin önlenmesi için yapılan çalışmalarda görev aldım.

5. Ülkemizde farklı iklim tipleri görülmektedir. Buna bağlı olarak da insan faaliyetleri değişiklik gösterebilmektedir?

**Verilenlerden hangisinde yaşanan değişiklik iklimde görülen değişiklikten en az etkilenir?**

- A) Yetiştirilen tarım ürünleri.
- B) Bitki örtüsündeki farklılıklar.
- C) Madenlerin çeşitliliğinin artması.
- D) Giysilerimizdeki çeşitlilikler.

6. İnsanlar yaşamları boyunca birçok kurum ve grupta yer almaktadır. Dâhil oldukları bu oluşumlarda üstlendikleri rolleri gereği bazı sorumlulukları almaları gerekmektedir.

**Aşağıdakilerden hangisi bir bireyin öğretmen rolü içinde sahip olması gereken sorumluluklardan olamaz?**

- A) Derse zamanında girmelidir.
- B) Bilgilerini sürekli geliştirmelidir.
- C) Okulun alışverişini yapmalıdır.
- D) Sınıf içinde düzeni sağlamalıdır.

7.

Günümüzde sanal ortamda kredi kartı kullanımı her geçen gün artmaktadır. İnsanlar; giyim, ulaşım, ev eşyası hatta gıda ürünlerini bile internetten almaktadır. İnternette güvenli bir şekilde alışveriş yapmanın belli kuralları vardır.

**Aşağıdakilerden hangisi bu kurallar içinde sayılamaz?**

- A) Bilindik ve güvenilir sitelerden alışveriş yapılmalıdır.
- B) Ödeme yapılacak sayfanın güvenilirliği sorgulanmalıdır.
- C) İnternet ortamından kesinlikle alışveriş yapılmalıdır.
- D) Kimlik bilgileri internet ortamında paylaşılmamalıdır.



8. İstanbul; sanayinin, turizmin, tarımın, hizmet sektörünün geliştiği şehirlerdendir. Bu sebeple sürekli olarak şehre olan göç artmaktadır. Bu durum bazı sorunları da beraberinde getirmektedir.



**Aşağıdakilerden hangisi İstanbul'da yaşanabilecek sorunlardan değildir?**

- A) Yeni iş alanları ortaya çıkmıştır.  
B) Gecekondulaşma başlamıştır.  
C) Ulaşım sıkıntısı yaşanmaktadır.  
D) Altyapı sorunları oluşmuştur.

9. Adım Sila. Ben de sizler gibi 5. Sınıf öğrencisiyim. Annem bana iyi bir liseyi kazanabilmem için artık çok fazla ders çalışmam gerektiğini söyledi. Bu yüzden okuldan çıkışta yemeğimi yedikten sonra babam beni etüt merkezine bırakıyor. Eve geldiğimde ise yemek saatlerinin dışında yatma saatim gelene kadar sürekli ders çalışıyorum.



**Yukarıda anlatılanlara göre Sila'nın hangi hakkını kullanamadığını söyleyebiliriz?**

- A) Eğitim  
B) Yaşama  
C) Oyun  
D) Beslenme

10.

Grup ya da kurum	Sahip olunan rol
Aile	a. Anne
Akraba	b. Öğrenci
Okul	c. Kuzen
Futbol kulübü	d. Kaleci

Kişilerin rolleri yer aldığı grup veya kuruma göre değişiklik gösterir. Yukarıdaki tablo buna göre oluşturulurken bir hata yapılmıştır.

**Bu hatanın düzeltilmesi için hangi roller yer değiştirmelidir?**

- A) a ve b  
B) b ve c  
C) c ve d  
D) a ve d

11.

Bayramlarımız toplumu oluşturan bireyler olarak ortak duygu ve düşüncelerde hareket etmemizi sağlar. Ayrıca birbirimize karşı olan sevgi ve saygımız artar, birlik ve beraberliğimiz güçlenir.

**Aşağıda verilenlerden hangisi bayramlarda gerçekleştirdiğimiz davranışlardan biri olamaz?**

- A) Dini bayramlarımızda eğer tatile gideceksek demizin bayramını mesaj atarak kutlayabiliriz.  
B) Milli bayramlarımızda atalarımızın bize bıraktıkları değerleri hatırlarız.  
C) Mevsimlik bayramlarımızı kutlarken bir araya gelerek eğlenceler düzenleyebiliriz.  
D) Dini bayramlarda huzurevlerini ziyaret ederek onlara yalnız olmadıklarını hissettirebiliriz.

12.

Osmanlı döneminde esnafların kullanmış oldukları "zimem" adlı defterleri vardı. Esnaflar, dükkânlarından alışveriş yapan kişiler ücretlerini daha sonra ödemek koşulu ile aldıklarını bu deftere yazdırırdı. Hali vakti bir hayli yerinde olan insanlar da arada bir bu esnafları ziyaret eder ve defterde yazan borçları öderdi. Günümüzde ise küçük mahallelerdeki bakkallarda "veresiye" defteri olarak geçmektedir. Bu gelenek hala bazı yerlerde kullanılmakla birlikte çoğu yerde büyük marketlerin açılması ile unutulmuş dayanışma örneklerimizdendir.

**Yukarıda verilen bilgilere göre hangisi çıkarılamaz?**

- A) Günümüzde kimse kimseye yardım etmemektedir.  
B) Zimem defteri adı değişse de bazı yerlerde hala kullanılmaktadır.  
C) Değişen koşullar insanların kültürel unsurlarını da değiştirir.  
D) Zimem defteri, dayanışmaya örnek olarak gösterilebilir.

13.



Verilen Türkiye Kültür ve Seyahat haritasına göre hangisine ulaşılamaz?

- A) Kapadokya ve Pamukkale doğal güzelliklerimiz arasında yer almaktadır.
- B) Turistler çoğunlukla tarihi mekanların fazla olduğu Karadeniz Bölgesi'ni ziyaret etmektedirler.
- C) Türkiye'de hem tarihi eserler hem de doğal güzellikler birlikte bulunmaktadır.
- D) Tarihi eserlerimizden olan Sultan Ahmet Camii Marmara Bölgesi'nde yer almaktadır.

14. Deprem, gerçekleşeceği önceden kestirilemeyen doğal afetlerden bir tanesidir. Depremden en az zararla kurtulabilmek için önceden alınması gereken birçok önlem vardır. Aynı zamanda deprem anında da kendimizi korumak için dikkatli hareket etmeliyiz.



Aşağıdakilerden hangisi deprem sırasında yapacaklarımız arasında yer almaz?

- A) Cam ve pencere kenarlarından uzak durmalıyız.
- B) Ocakta ateş varsa kısa sürede söndürmeliyiz.
- C) Elektrik ve gaz vanalarını kapatmalıyız.
- D) Hemen asansörle aşağıya inip koşmalıyız.

15. Sınıfa geçen oğlumuzla bu yaz tatilimizi Ege ve Akdeniz Bölgeleri'ni bir uçtan diğer uca gezerek geçirdik. Gezimiz esnasında birçok tarihi ve doğal güzellikleri gördük. Memleketimizin her bir karış toprağı ayrı bir cennet. Görmüş olduğumuz yerler bu sene oğlumun Sosyal bilgiler dersinde işlediği konulara da çok büyük katkı sağladı.



Verilen bilgilere göre hangisi yaz tatilini Ege ve Akdeniz Bölgesi'nde geçiren ailenin görmüş olduğu yerlerden olamaz?

- A) Karain Mağarası
- B) Saklıkent
- C) Uludağ
- D) Ölüdeniz