

SOSYAL BİLGİLER

5. SINIF



Yazarlar

ÇETİN KAYADELEN
BETÜL DERİCİ
CUMALİ GÜLER
YASİN GÖKÇE
REŞİT ÜNAL

Toplam süreniz

40 Dakika



Soru Sayısı

20 ???



Deneme Formatı

SADECE BİRİNCİ DÖNEM
KONULARINI KAPSAMAKTADIR.

DENEMEDE SORULAN SORULARIN ÜNİTELERE GÖRE DAĞILIMLARI

	1	2	3	4	5	6	7	8	9	10	11	12	13	14	15	16	17	18	19	20
1. Ünite:	1						7				11		13			16	17		19	
2. Ünite:		2	3		5	6				10										20
3. Ünite:				4				8	9			12		14	15			18		
4. Ünite:																				
5. Ünite:																				
6. Ünite:																				
7. Ünite:																				

Daha fazla
döküman için:

fb.com/groups/ortaokulpaylasim



DENE MEVAKTİ
Hedef Bizimle Daha Yakın

Online denemelere www.modeldeneme.com adresinden ulaşabilirsiniz

MODEL
EĞİTİM YAYINLARI

Adı:

Soyadı:

Sınıf-şube:

No:

Bu denemede toplam 20 soru bulunmaktadır. Soruların tamamını yanıtlamak için toplam 40 dakikanız vardır.

1.


Merhaba arkadaşlar! Ben Asya, 5. Sınıf öğrencisiyim. Öğretmenlerimiz hafta sonu yapılacak okul gezisi için "Nereye gitmek istersiniz? sorusunu sorduğunda parmak kaldırıp Atatürk Evi'ne gitmek istediğimi söyledim.



Buna göre Asya aşağıdaki haklarından hangisini kullanmıştır?

- A) Haber alma B) Barınma
C) Sağlık D) Düşünce ve İfade

2.



Yukarıda numaralandırılmış kutularda verilenlerden hangisi geleneksel el sanatlarımızdan biri değildir?

- A) I B) II C) III D) IV

3.

Ülkemizde ev yapımında kullanılan malzemeler o bölgenin iklimi ile doğrudan alakalıdır. Üç farklı iklim tipinin görüldüğü ülkemizde yağışların bol olduğu bölgelerde evler genelde ahşaptan yapılır.



Verilen bilgiye göre ahşap evlerin ülkemizde daha çok hangi bölgede görülmesi beklenir?

- A) Doğu Anadolu Bölgesi
B) Karadeniz Bölgesi
C) Güneydoğu Anadolu Bölgesi
D) İç Anadolu Bölgesi

4.

Ülkemizde nüfus yoğunluğu her bölgede ve her ilde aynı değildir. Bu durumun oluşmasında doğal ve beşeri faktörler etkili olmuştur.



Buna göre bölge ve illerin beşeri ve doğal özellikleri düşünüldüğünde aşağıdakilerden hangisi söylenemez?

- A) Doğu Anadolu Bölgesi'nde yer şekillerinin engebeli olması ve iklim şartlarının sert oluşu nedeniyle nüfus seyrektr.
B) İstanbul'da sanayi geliştiği için nüfus fazladır.
C) İzmir'de nüfus yoğunluğunun fazla olmasının sebebi madenciliğin gelişmesidir.
D) Antalya'da nüfusun fazla olması turizm ile alakalıdır.



5. Babiller, Dünya'da bilinen ilk mutlak krallığın kurucularıdır. En önemli krallarından olan Hammurabi, kendi adını taşıyan ilk anayasayı hazırlatmıştır. Bu anayasaya göre sağlam yapılmadığı için yıkılan binanın içinde ölen olursa o binayı yapan usta da öldürülecektir. Ayrıca inşa etmiş oldukları Babil Kulesi ile en önemli tanrılarından olan Marduk'a ulaşmayı hedeflemişlerdir.

Buna göre Babil uygarlığı ile ilgili;

- I. Çok tanrılı dine inanmışlardır.
- II. Kanunları kısasa kısas özelliği taşımaktadır.
- III. Hukuk devleti anlayışı bulunmaktadır.

hangilerine ulaşılabilir?

- A) Yalnız I
- B) I ve II
- C) II ve III
- D) I, II ve III

6. Aksaray ilimizde bulunan İhlara Vadisi'nin derinliği 100-150 metre arasında değişmektedir. Oluşumunda Melendiz Çayı etkilidir. Vadiyi çevreleyen kayaların yontulması ile oluşan çok sayıda kilise bulunmaktadır. Kiliselerde yer alan süslemeler 6. yüzyıldan 13.yüzyıla kadar uzanan bir birikim eseridir. Vadi içerisinde kilise ile birlikte çok sayıda mezar ve barınak bulunmaktadır.




Ülkemizdeki vadilere önemli bir örnek olan İhlara Vadisi ile ilgili verilen bilgiler dikkate alındığında vadiler ile ilgili hangisine ulaşamaz?

- A) Vadiler, yerleşim yeri olarak da kullanılabilir.
- B) Çevresine göre alçakta kalmaktadırlar.
- C) Oluşumunda doğal faktörlerin etkisi vardır.
- D) Etrafını çevreleyen sıradağlar bulunmaktadır.

7. Aralarında iş birliği ve görev dağılımı olan; en az iki kişiden oluşan ve üyeleri arasında sosyal ilişkiler bulunan kimselere grup denir.

Bu bilgilere göre aşağıdakilerden hangisi gruba örnek olarak gösterilemez?



8. Rize'de yazlar serin, kışlar ılıman geçer. Doğu Karadeniz Bölgesi'nin bu güzel ve şirin ili, ülkemizin en çok yağış alan şehridir. Her mevsim yağış görülen ilde, dağların kıyıya paralel uzanması bu durumda etkilidir. Yağışın çok olmasından dolayı şehirde bulutlu gün sayısı da fazladır. Rize'de ortalama yıllık sıcaklık 14 derecedir. Nemi ve sıcaklığı seven tarım ürünleri Rize'nin bu özelliklerinden dolayı bolca yetiştirilir. Başka şehirlerimizde yetiştirme ortamı bulamayan Rize'de rahatlıkla yetiştirilebilir. Bu nedenle Rize ülkemizde en çok yetiştirilen şehir özelliğine sahiptir. Bu tarım ürünü Rize'nin sembolü haline gelmiştir.

Verilen bilgide boş bırakılan yerlere aşağıdakilerden hangisi yazılırsa bilgi bütünlüğü doğru sağlanmış olur?

- A) Buğday
- B) Çay
- C) Mısır
- D) Fındık

9. Akarsu, yeryüzü ve yeraltında belli bir yatak içinde sürekli veya zaman zaman akan sulara verilen addır. Ülkemizde akarsulardan; sulama, turizm, enerji üretimi, içme suyu, balıkçılık amaçlı faydalanılmaktadır.



Buna göre ülkemizde yer alan akarsular genel olarak hangi alanda yarar sağlamaktadır?

- A) Ekonomi B) Sağlık
C) Ticaret D) Hukuk

10.

Osmanlı evlerinden birinin kapısını çalmak istediğinizde iki tokmak arasında bir tercih yapmak zorunda kalırsınız. Büyük olanı çaldığınızda gür bir ses çıkarır ve ev sahibine gelenin bir erkek olduğunu haber verir. Küçük olanı çaldığınızda ise ince bir ses çıkmaktadır. Gelen misafirin hanım olduğu anlaşılır. Ev sahibi de misafire göre kendine çeki düzen verir. Günümüzde ise artık sesli ve görüntülü diyafonlar sayesinde gelenin kim olduğu bilinmektedir. Tokmak geleneği de bu yüzden unutulmuş değerler arasına girmiş, bazı evlerde ise süs objesi olarak yerini korumuştur.

Buna göre en kapsamlı yargı aşağıdakilerden hangisidir?

- A) Geçmişte kalan geleneklere duyulan özlem dile getirilmiştir.
B) Bazı geleneklerimiz zaman içinde değişikliğe uğrayabilir.
C) Geleneklerimizi yaşatmak bizim en önemli görevimizdir.
D) Tokmak olmayan evlere diyafon takmak zorunda kalınmıştır.

11.

Bir komşusundan aşı yaptırtmanın zararlı olduğunu duyan Canan, hiçbir bilimsel temeli olmamasına rağmen çocuğuna aşı yaptırmamıştır. Bunun üzerine Canan'ın çocuğu hastalıklara karşı güçsüz kalmış ve pek çok hastalığa yakalanmıştır.

Buna göre Canan'ın çocuğunun;

- I. Sağlık
II. Yaşama
III. Barınma

haklarından hangilerinden yararlanamadığı söylenebilir?

- A) Yalnız I B) Yalnız II
C) I ve II D) I, II ve III

12. Fiziki haritalarda yeryüzü şekillerinin daha belirgin bir şekilde gösterilebilmesi için renklendirme yöntemi kullanılmaktadır. Bu yöntemle göre yükselti basamakları tabloda gösterilen renkler ile belirtilmektedir.

0 – 500 metre	Yeşil
500 – 1000 metre	Sarı
1000 – 1500 metre	Turuncu
1500 – 2000 metre	Açık kahverengi
2000 + metre	Koyu kahverengi

Tabloda verilen renklere göre Türkiye fiziki haritasında hangi bölgede yeşil rengin daha az kullanılması beklenir?

- A) Marmara Bölgesi
B) Ege Bölgesi
C) Karadeniz Bölgesi
D) Doğu Anadolu Bölgesi



13.



Şekildeki numaralı bilgilerden hangisi sosyal bilgiler dersinin bireylere kazandırdıklarından değildir?

- A) I B) II
C) III D) IV

14. Ülkemizde aynı anda farklı turizm faaliyetleri yapılabilmektedir. Örneğin Antalya'da insanların denize girdiği gün Kayseri'de Erciyes Dağı'nda kayak yapılabiliyor. Yani ülkemizde aynı anda hem yaz, hem kış turizmi yapılabilmektedir.




Aynı gün Antalya ve Kayseri

Ülkemizin farklı yerlerinde farklı ekonomik faaliyetlerinin yapılabilmesinin temel nedeninin aşağıdakilerden hangisi olduğu söylenebilir?

- A) Ülkemizin jeopolitik konumu
B) İnsanların giydiği kıyafetler
C) Farklı iklimlerin görülmesi
D) Nüfus özelliklerinin farklı olması

15.



Yukarıdaki görsellerden hareketle verilen tabloda “?” yerine aşağıdakilerden hangisi yazılmalıdır?

- A) Akdeniz iklimi B) Karadeniz iklimi
C) Karma iklim D) Karasal iklim

16.

Merhaba arkadaşlar! Ben 5. Sınıf öğrencisi Hilal. Sabahları okuluma gidiyorum. Derslerime zamanında girip öğretmenlerimi güzelce dinliyorum. Derslerime çalışıyorum. Eve geldiğimde ödevlerimi yapıyorum. Ödevlerim bittikten sonra arkadaşlarımla oyun oynuyorum. Eve gelip bir gün sonraki derslerime hazırlıyorum ve akşam babam işten gelince beraber yemek yedikten sonra bilgisayarımda zaman geçirip; kitabımı okuyup uyuyorum.



Buna göre Hilal için;

- I. Sorumluluklarını yerine getirir.
II. Ailesi ve arkadaşları ile nitelikli zaman geçirir.
III. Zamanını iyi planlar.

yargılarından hangileri söylenebilir?

- A) Yalnız II B) I ve II
C) I ve III D) I, II ve III

17.

DANS KULÜBÜ

Kulübümüze sekiz farklı ülkeden katılım mevcut.

Hislerimizi dansa döküyoruz!



Modern dans.

Ekip çalışmaları ve sosyallaşma imkânı burada.

Yukarıdaki afişe göre dans kulübüyle ilgili aşağıdaki yargılardan hangisine ulaşamaz?

- A) Kulübe katılanlar kültürel değerlerini öğrenecektir.
- B) Farklı kültürlerden insanlar bir araya gelecektir.
- C) Kulübün üyeleri iş birliği yapacaktır.
- D) Kulübe katılan kişiler duygu ve düşüncelerini sanat yoluyla aktarabileceklerdir.

18.

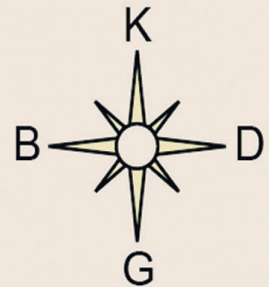
TÜRKİYE FİZİKİ HARİTASI**İŞARETLER**

- Limanlar
- Akarsular
- Eşyüksekti eğrileri
- Karayolları
- Otoyollar
- Demiryolları
- Ülke sınırları

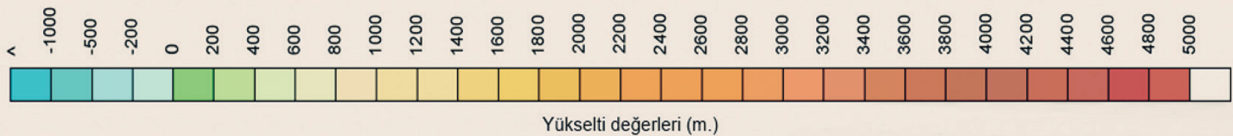
- İlçe merkezleri
- Şehirler
- Büyük şehirler
- Dağ zirveleri
- Doğal geçitler
- Baraj setti ve gölleri

KISALTMALAR

- Brj. : Baraj
- Ov. : Ova
- Dğ. : Dağı
- T. : Tepe
- Kör. : Körfez
- Ad. : Ada
- Br. : Burun
- Geç. : Geçit



50 40 30 20 10 0 50 100 150 Km

Verilen lejanta göre fiziki harita üzerinde aşağıdakilerden hangisi ile ilgili bir bilgiye ulaşamaz?

- A) Dağların uzanış yönlerine
- B) Yer şekillerinin yüksekliklerine
- C) Yerleşim yerlerinin nüfuslarına
- D) Akarsuların uzunluklarına



19.

Bundan birkaç yıl öncesine kadar mahallemizde çocuklarımızın oynayabileceği, büyüklerin ise keyifle çaylarını içebilecekleri bir parkımız bulunmamaktaydı. Hem çocukların hem de biz büyüklerin istekleri dikkate alınarak park yapılmaya başlandı. Parkın inşaatına başlanması ile birlikte o civardaki ev fiyatları arttı. Ayrıca parka yakın yerlerde market, kırtasiye, araç yıkama gibi dükkânlar açıldı. Buna bağlı olarak park ve dükkânlarda çalışmak için işçi alımı yapıldı. Parkın açılması ile birlikte çocuklarımız ile gidebileceğimiz bir yapıya kavuşmuş olduk.

Yukarıda anlatılanlar ile ilgili en kapsamlı yargı aşağıdakilerden hangisidir?

- A) Yeni parkın yapılması ile en fazla kâra geçen sektör inşaat şirketleridir.
- B) Çocukların güzel vakit geçirmelerine olanak sağlanmıştır.
- C) Bir olayın birden çok nedeni ve sonucu olabilmektedir.
- D) Her olay mutlaka herkes tarafından olumlu karşılanmaktadır.

20.



Benim adım Midas. Friglerin en meşhur kralıyım. Tuttuğum her şeyi altına çevirdiğim söylenir. Ülkemde tunç kullanılarak oluşturulan fibula adlı çengel-
li iğneler yapılmıştır.

Benim medeniyetim olan İyonya'da Polis adı verilen şehir devletleri şeklinde örgütlendik. Matematikte Tales ve Pisagor, tarihte Herodot gibi bilim adamları yetiştirdik.



Frigler ve İyonlar ile ilgili verilen diyaloga göre hangisine ulaşamaz?

- A) Frig medeniyetinde, efsanelere yer verildiği görülmektedir.
- B) İyon medeniyetinde, şehir devletlerinin olması siyasal birliğin olmadığını gösterir.
- C) Frig medeniyetinde temel geçim kaynağı tarımdır.
- D) İyonların bilimde ilerledikleri, Friglerin madencilik ile uğraştıkları görülmektedir.

Doğru Sayısı	
Yanlış Sayısı	
Boş Sayısı	
Net Sayısı	

Öğrenci Numarası		A	B	C	D	A	B	C	D
0	1487								
1									
2									
3									
4									
5									
6									
7									
8									
9									
10									
11									
12									
13									
14									
15									
16									
17									
18									
19									
20									

Model Optik Okuma Uygulaması