

Ad :
Soyad :
No :
Sınıf :

2018-2019 ÖĞRETİM YILI
SOSYAL BİLGİLER 7. SINIF 1.
DÖNEM 2. YAZILI

Puanı:

02.01.2019

A

1. Aşağıda bazı muhabirlerin verdiği haberler yer almaktadır

Muhabir 1 : Politikacı Mehmet Bey, katıldığı televizyon programında anılarını anlattı.

Muhabir 2 : Ünlü yazar Ali Bey'in ailesi ile birlikte tatil yaparken gizlice çektiğimiz fotoğrafları yayınlandı.

Muhabir 3 : Televizyonda yayınlanan açık oturuma katılan vatandaşlar, eğitim konusundaki fikirlerini özgürce tartıştı.

Muhabir 4 : Ses sanatçısı Serap Hanım, fotoğraflarını ve günlüklerini yayımladı.

Hangi muhabirin verdiği haberde özel hayatın gizliliği hakkının ihlal edildiği söylenebilir?

- A) Muhabir 1 B) Muhabir 2 C) Muhabir 3
D) Muhabir 4

2. Televizyon, radyo, gazete, dergi ve sinema gibi kitle iletişim araçları, kamuoyunun oluşturulmasında ve fikirlerin serbestçe ifadesinde önemli rol oynamaktadır. Bu açıklamadan kitle iletişim araçları ile ilgili olarak, aşağıdakilerden hangisi çıkarılamaz?

- A) Fikir paylaşımını sağladıkları
B) Yargının kararlarını etkiledikleri
C) Toplumu yönlendiren bilgiler verdikleri
D) Özgür düşünce ortamını oluşturdıkları

**3. Ayla : Hadi bahçeye çıkıp oyun oynayalım.
Seray : Çok hastayım, çıkamayacağım.
Ayla : Hadi çıkalım ...
Seray : Oyun oynayacak hâlim yok.
Ayla : Bir daha seninle oynamayacağım. Seray : Ben de seninle oynamayacağım.
Verilen diyalogda yapılan iletişim hatası öncelikle aşağıdakilerden hangisidir?**

- A) Beden dilini kullanmama
B) Empati kuramama
C) Eleştiriye açık olmama
D) Kendini doğru ifade edememe

4. İletişimde en önemli becerilerden biri iyi bir dinleyici olmaktır.

Aşağıdaki davranışlardan hangisini iyi bir dinleyicinin yapmaması gerekir?

- A) Konuşmacıyı, sözünü kesmeden dinlemek
B) Konuşmacının söylediklerini anlamaya çalışmak
C) Konuşmacının jest ve mimiklerine dikkat etmek
D) Konuşmacıyla göz teması kurmaktan kaçınmak

5. İnsanlarla olumlu iletişim kurmak için;

- İnsanlara saygı içeren ifadelerle hitap edilmelidir.
- İnsanlara karşı güler yüzlü olunmalıdır.
- Farklı da olsa insanların görüşleri ve fikirleri dinlenmelidir.
- İnsanların içinde bulundukları durum gözardı edilmemelidir.

Buna göre, aşağıdakilerden hangisi olumlu bir iletişime örnek olarak gösterilemez?

- A) Sınıfa giren öğretmenin öğrencilere "Günaydın arkadaşlar, nasılsınız " demesi.
B) Marketten alınan ürünün bozuk çıkması halinde, bu ürünün yenisi ile değiştirilmesinin talep edilmesi
C) Bir gencin, otobüste ayakta kalan yaşlı insanlara yer vermesi.
D) Televizyon programındaki parti yetkililerinin, seçim hakkında birbirini suçlaması.

İdris Bacak

6. Babamın anlattıklarına hâlâ inanamıyorum. Bugün yaşadığımız şehir, 30 yıl önce balıkçılık ve hayvancılıkla geçinen, kendi ihtiyaçlarına yönelik sebze ve meyve yetiştiren küçük bir sahil kasabasıymış. Etrafı dağlık olduğu için yolu da yokmuş elektriği de. Çevresindeki dağlarda bakır yataklarının bulunmasıyla kaderi değişmiş! Bakırı işleyen tesisler, modern yollar yapılmış. Başka yerlerden de kasabaya çok sayıda insan yerleşmiş. Ticaret hayatı canlanmış. Eskiden 2.000 kişiyi aşmayan nüfusu bugün 200.000 kişiye yükselmiş. **Metne göre kasabanın gelişmesini sağlayan temel unsur aşağıdakilerden hangisidir?**

- A) Bakır madeninin bulunması
B) Modern yolların yapılması
C) Kasabanın göç alması
D) Ticaret hayatının gelişmesi

7. I. Preveze Deniz Zaferi
II. Ridaniye Savaşı
III. İstanbul'un Fethi
IV. Kıbrıs'ın Fethi

Verilen olayların kronolojik sıralaması aşağıdakilerden hangisidir?

- A) II - III - I - IV B) III - IV - II - I C) I - II - III - IV
D) III - II - I - IV

8. **Fatih Sultan Mehmet Dönemi'nde;**

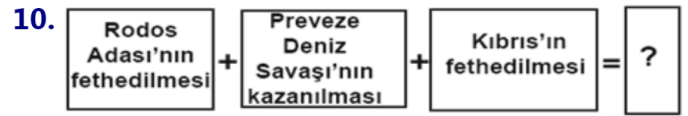
- Medreseler kurulmuş,
- Değişik ülkelerden bilim insanları İstanbul'da toplanmış,
- Yabancı dillerden Türkçeye, Türkçeden de yabancı dillere çeviriler yapılmıştır.

Buna göre Fatih Sultan Mehmet Dönemi ile ilgili aşağıdakilerden hangisine değinilmemiştir?

- A) Bilimsel çalışmaların desteklendiğine
B) Ticaretin gelişmesi için çalışmalar yapıldığına
C) Yabancı eserlerden yararlanıldığına
D) Bilimsel araştırmalar için kurumlar oluşturulduğuna

9. Trabzon'un Fethi + Amasra'nın Fethi + ? = **Karadeniz'de Türk hakimiyetinin sağlanması**
Şemada "?" ile boş bırakılan yere aşağıdakilerden hangisi yazılabilir?

- A) Rodos'un fethi B) Belgrat'ın fethi
C) Mora'nın fethi D) Kırım'ın fethi



Verilen diyagramda "?" ile gösterilen yere aşağıdakilerden hangisi getirilebilir?

- A) Boğazlar Türk egemenliğine girmiştir.
B) Haçlılar Türkleri yenilgiye uğratmıştır.
C) Akdeniz'de Türk egemenliği güçlenmiştir.
D) Barbaros Hayrettin Paşa Kaptanıderya olmuştur.

11. **Aşağıdakilerden hangisi İstanbul'un fethiyle Osmanlı Devleti'nin ekonomik kazanç elde ettiğinin göstergesi olamaz?**

- I- Önemli ticaret yollarının İstanbul ve Çanakkale boğazlarından geçmesi
II- Bizans'ın Karadeniz ticaret yolundan vergi alması
III- İstanbul'daki Hristiyan bilim adamlarının İtalya'ya göç etmesi

- A) Yalnız I B) Yalnız III C) I-II D) II-III

12.



Osmanlılar, Kuruluş
Döneminde büyük askerî
zaferler kazanmışlardır.

diyen Ayşe, aşağıdakilerden hangisini bu görüşüne örnek gösteremez?

- A) Niğbolu Savaşı B) Ankara Savaşı
C) Varna Savaşı D) I. Kosova Savaşı

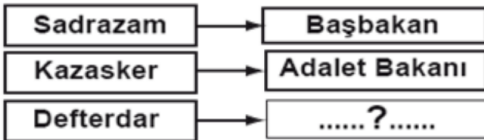
13. Orhan Bey, Bursa'nın fethinden sonra Rumlara şehri teslim etmelerinin sebebini sorduğu zaman onlardan şu cevabı aldı:

"- Sizin devletinizin günden güne büyüdüğünü ve bizim devletimizin zayıfladığını anladık. Babanızın idaresine geçen köylülerin memnun kalıp bizi anmadıklarını gördük. Biz de bu rahatlığa heves ettik."

Rumların cevabı, Osmanlı'nın kısa zamanda büyümesini sağlayan aşağıdaki nedenlerden hangisi ile ilişkilendirilebilir?

- A) Kurulduğu bölgenin coğrafi konumu
B) Adaletli ve hoşgörülü politika izlenmesi
C) Güçlü bir merkezî yönetime sahip olması
D) Başarılı bir iskân siyasetinin uygulanması

14.



Şemada bazı divan üyelerinin günümüzde hangi bakanlıklarla benzerlik gösterdiği belirtilmiştir.

Buna göre şemadaki boş yere, aşağıdakilerden hangisi yazılabilir?

- A) Maliye Bakanı B) Devlet Bakanı
C) Millî Eğitim Bakanı D) Millî Savunma Bakanı

15.



Verilen şemada "?" ile gösterilen yere, aşağıdakilerden hangisi yazılabilir?

- A) Maltepe (Pelekanon) Savaşı
B) Varna Savaşı
C) Ankara Savaşı
D) Otlukbeli Savaşı

16. Osmanlı Beyliği'nin kısa sürede genişlemesinin sebeplerinden bazıları şunlardır:

- ① Moğollardan kaçan birçok Oğuz boyunun Osmanlılara katılması
- ② Komşu Türk beylikleriyle barış içinde kalmaya önem vermesi
- ③ Yöneticilerinin yetenekli olması
- ④ Taht kavgaları ve iç karışıklıklar içinde bulunan Bizans sınırında kurulması

Kaç numaralı kutuda verilen bilgi ile Osmanlı Beyliği'nin kısa sürede genişlemesinde coğrafi konumunun önemi belirtilmiştir?

- A) 1 B) 2 C) 3 D) 4

17. Osmanlı ıslahat hareketleri sonucunda;

- Posta Nezareti kuruldu.
- Memleket Sandıkları oluşturuldu.
- Şirketihayriye kurularak İstanbul'da düzenli vapur seferleri başladı.

Bu ıslahatlarla;

- I. Eğitim II. Ulaşım
III. Ekonomi IV. Haberleşme

alanlarından hangilerinde ülkenin ilerlemesi amaçlanmıştır?

- A) I ve IV B) I, II ve III C) II, III ve IV
D) I, II, III ve IV

18. Lale Devrinde, Osmanlı Devleti'nin Viyana, Paris ve Londra gibi başkentlere ilk kez elçi göndermesinin gerekçesi aşağıdakilerden hangisidir?

- A) Batı'dan borç para alabilmek
- B) Avrupa ülkeleri ile iyi ilişkiler kurmak
- C) Avusturya ile yapılan savaşlara son vermek
- D) Avrupa'daki gelişmeleri yakından izlemek

19.

OLAY	SONUCU
Coğrafi Keşifler	Yeni ticaret yollarının bulunması
Reform	Kiliseye güvenin azalması
Rönesans?.....

Yukarıdaki tabloda 15 ve 19. yüzyıllar arasında Avrupa'da yaşanan gelişmelere ait olay ve sonuçları eşleştirilerek verilmiştir. **Verilen eşleştirme tablosunda (?) ile belirtilen yere, aşağıdakilerden hangisi yazılmalıdır?**

- A) Milliyetçilik hareketlerinin başlaması
- B) İşçi sınıfının ortaya çıkması
- C) Gözlem ve deneye dayalı bilginin önem kazanması
- D) Kol gücünün yerini makine gücünün alması.

20. 19. yüzyılda Osmanlı topraklarından geçen seyyah Sanz, gördüklerini şu şekilde anlatmıştır: "... Adalet ve hukuk yoluyla toplum düzenini sağlayan Türkler, Hristiyan ve Müslüman farkı gözetmeksizin adaleti herkese eşit olarak tatbik ederler. Belli başlı kadıların masalarında İncil ve Tevrat birlikte bulunur. Hristiyanları İncil, Yahudileri Tevrat üzerine yemin ettirirler..." (Sanz, Türkiye'nin Dört Yılı, sf: 93)
Seyyah Sanz'ın anlatımından hareketle, Osmanlı toplum yaşamı ile ilgili olarak aşağıdakilerden hangisi söylenemez?

- A) Farklı inanç ve kültürler bir arada yaşamıştır.
- B) Osmanlı toplumu Türklerden oluşmuştur.
- C) Adalet ve hoşgörü anlayışı gelişmiştir.
- D) İnanç hürriyeti sağlanmıştır

Yönlendirme:

Öğrencilerin birbirinden bilgi, kalem v.b. alış verişi yapması yasaktır. Her doğru cevap 5 puandır. Süre 40 dakikadır.

İdris BACAK
Sosyal Bilgiler Öğretmeni

Ad :
Soyad :
No :
Sınıf :

2018-2019 ÖĞRETİM YILI
SOSYAL BİLGİLER 7. SINIF 1.
DÖNEM 2. YAZILI

Puanı:

02.01.2019

B

1. Babamın anlattıklarına hâlâ inanamıyorum. Bugün yaşadığımız şehir, 30 yıl önce balıkçılık ve hayvancılıkla geçinen, kendi ihtiyaçlarına yönelik sebze ve meyve yetiştiren küçük bir sahil kasabasıymış. Etrafı dağlık olduğu için yolu da yokmuş elektriği de. Çevresindeki dağlarda bakır yataklarının bulunmasıyla kaderi değişmiş! Bakırı işleyen tesisler, modern yollar yapılmış. Başka yerlerden de kasabaya çok sayıda insan yerleşmiş. Ticaret hayatı canlanmış. Eskiden 2.000 kişiyi aşmayan nüfusu bugün 200.000 kişiye yükselmiş.
- Metne göre kasabanın gelişmesini sağlayan temel unsur aşağıdakilerden hangisidir?**

- A) Bakır madeninin bulunması
B) Modern yolların yapılması
C) Kasabanın göç alması
D) Ticaret hayatının gelişmesi

2. İnsanlarla olumlu iletişim kurmak için;

- İnsanlara saygı içeren ifadelerle hitap edilmelidir.
- İnsanlara karşı güler yüzlü olunmalıdır.
- Farklı da olsa insanların görüşleri ve fikirleri dinlenmelidir.
- İnsanların içinde bulundukları durum göz ardı edilmemelidir.

Buna göre, aşağıdakilerden hangisi olumlu bir iletişime örnek olarak gösterilemez?

- A) Sınıfa giren öğretmenin öğrencilere “*Günaydın arkadaşlar, nasılsınız*” demesi.
B) Marketten alınan ürünün bozuk çıkması halinde, bu ürünün yenisi ile değiştirilmesinin talep edilmesi
C) Bir gencin, otobüste ayakta kalan yaşlı insanlara yer vermesi.
D) Televizyon programındaki parti yetkililerinin, seçim hakkında birbirini suçlaması.

3. Osmanlı ıslahat hareketleri sonucunda;
- Posta Nezareti kuruldu.
 - Memleket Sandıkları oluşturuldu.
 - Şirketihayriye kurularak İstanbul'da düzenli vapur seferleri başladı.

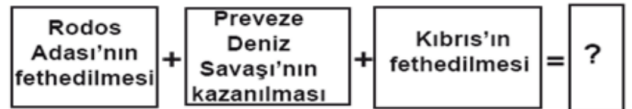
Bu ıslahatlarla;

- I. Eğitim
II. Ulaşım
III. Ekonomi
IV. Haberleşme
- alanlarından hangilerinde ülkenin ilerlemesi amaçlanmıştır?**

- A) I ve IV
B) I, II ve III
C) II, III ve IV
D) I, II, III ve IV

İdris Bacak

4.



Verilen diyagramda “?” ile gösterilen yere aşağıdakilerden hangisi getirilebilir?

- A) Boğazlar Türk egemenliğine girmiştir.
B) Haçlılar Türkleri yenilgiye uğratmıştır.
C) Akdeniz'de Türk egemenliği güçlenmiştir.
D) Barbaros Hayrettin Paşa Kaptanıderya olmuştur.

5. Osmanlı Beyliği'nin kısa sürede genişlemesinin sebeplerinden bazıları şunlardır:

- ① Moğollardan kaçan birçok Oğuz boyunun Osmanlılara katılması
- ② Komşu Türk beylikleriyle barış içinde kalmaya önem vermesi
- ③ Yöneticilerinin yetenekli olması
- ④ Taht kavgaları ve iç karışıklıklar içinde bulunan Bizans sınırında kurulması

Kaç numaralı kutuda verilen bilgi ile Osmanlı Beyliği'nin kısa sürede genişlemesinde coğrafi konumunun önemi belirtilmiştir?

- A) 1 B) 2 C) 3 D) 4

6. Fatih Sultan Mehmet Dönemi'nde;

- Medreseler kurulmuş,
- Değişik ülkelerden bilim insanları İstanbul'da toplanmış,
- Yabancı dillerden Türkçeye, Türkçeden de yabancı dillere çeviriler yapılmıştır.

Buna göre Fatih Sultan Mehmet Dönemi ile ilgili aşağıdakilerden hangisine değiniilmemiştir?

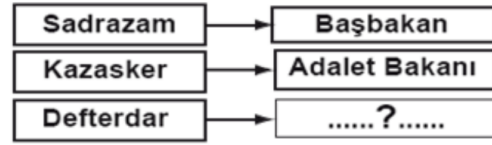
- A) Bilimsel çalışmaların desteklendiğine
B) Ticaretin gelişmesi için çalışmalar yapıldığına
C) Yabancı eserlerden yararlanıldığına
D) Bilimsel araştırmalar için kurumlar oluşturulduğuna

7. 19. yüzyılda Osmanlı topraklarından geçen seyyah Sanz, gördüklerini şu şekilde anlatmıştır: "... Adalet ve hukuk yoluyla toplum düzenini sağlayan Türkler, Hristiyan ve Müslüman farkı gözetmeksizin adaleti herkese eşit olarak tatbik ederler. Belli başlı kadınların masalarında İncil ve Tevrat birlikte bulunur. Hristiyanlar İncil, Yahudiler Tevrat üzerine yemin ettirirler..." (Sanz, Türkiye'nin Dört Yılı, sf: 93)

Seyyah Sanz'ın anlatımından hareketle, Osmanlı toplum yaşamı ile ilgili olarak aşağıdakilerden hangisi söylenemez?

- A) Farklı inanç ve kültürler bir arada yaşamıştır.
B) Osmanlı toplumu Türklerden oluşmuştur.
C) Adalet ve hoşgörü anlayışı gelişmiştir.
D) İnanç hürriyeti sağlanmıştır

- 8.



Şemada bazı divan üyelerinin günümüzde hangi bakanlıklarla benzerlik gösterdiği belirtilmiştir.

Buna göre şemadaki boş yere, aşağıdakilerden hangisi yazılabilir?

- A) Maliye Bakanı B) Devlet Bakanı
C) Millî Eğitim Bakanı D) Millî Savunma Bakanı

9. Orhan Bey, Bursa'nın fethinden sonra Rumlara şehri teslim etmelerinin sebebini sorduğu zaman onlardan şu cevabı aldı:

"- Sizin devletinizin günden güne büyüdüğünü ve bizim devletimizin zayıfladığını anladık. Babanızın idaresine geçen köylülerin memnun kalıp bizi anmadıklarını gördük. Biz de bu rahatlığa heves ettik."

Rumların cevabı, Osmanlı'nın kısa zamanda büyümesini sağlayan aşağıdaki nedenlerden hangisi ile ilişkilendirilebilir?

- A) Kurulduğu bölgenin coğrafi konumu
B) Adaletli ve hoşgörülü politika izlenmesi
C) Güçlü bir merkezî yönetime sahip olması
D) Başarılı bir iskân siyasetinin uygulanması

- 10.

OLAY	SONUCU
Coğrafi Keşifler	Yeni ticaret yollarının bulunması
Reform	Kiliseye güvenin azalması
Rönesans ?

Yukarıdaki tabloda 15 ve 19. yüzyıllar arasında Avrupa'da yaşanan gelişmelere ait olay ve sonuçları eşleştirilerek verilmiştir. **Verilen eşleştirme tablosunda (?) ile belirtilen yere, aşağıdakilerden hangisi yazılmalıdır?**

- A) Milliyetçilik hareketlerinin başlaması
B) İşçi sınıfının ortaya çıkması
C) Gözlem ve deneye dayalı bilginin önem kazanması
D) Kol gücünün yerini makine gücünün alması.

11. Aşağıda bazı muhabirlerin verdiği haberler yer almaktadır

Muhabir 1 : Politikacı Mehmet Bey, katıldığı televizyon programında anılarını anlattı.

Muhabir 2 : Ünlü yazar Ali Bey'in ailesi ile birlikte tatil yaparken gizlice çektiğimiz fotoğrafları yayınlandı.

Muhabir 3 : Televizyonda yayınlanan açık oturuma katılan vatandaşlar, eğitim konusundaki fikirlerini özgürce tartıştı.

Muhabir 4 : Ses sanatçısı Serap Hanım, fotoğraflarını ve günlüklerini yayımladı.

Hangi muhabirin verdiği haberde özel hayatın gizliliği hakkının ihlal edildiği söylenebilir?

- A) Muhabir 1 B) Muhabir 2 C) Muhabir 3
D) Muhabir 4

12. Aşağıdakilerden hangisi İstanbul'un fethiyle Osmanlı Devleti'nin ekonomik kazanç elde ettiğinin göstergesi olamaz?

I- Önemli ticaret yollarının İstanbul ve Çanakkale boğazlarından geçmesi

II- Bizans'ın Karadeniz ticaret yolundan vergi alması

III- İstanbul'daki Hristiyan bilim adamlarının İtalya'ya göç etmesi

- A) Yalnız I B) Yalnız III C) I-II D) II-III

13. Trabzon'un Fethi + Amasra'nın Fethi + ? =

Karadeniz'de Türk hakimiyetinin sağlanması

Şemada “?” ile boş bırakılan yere aşağıdakilerden hangisi yazılabilir?

- A) Rodos'un fethi B) Belgrad'ın fethi
C) Mora'nın fethi D) Kırım'ın fethi

14. I. Preveze Deniz Zaferi

II. Ridaniye Savaşı

III. İstanbul'un Fethi

IV. Kıbrıs'ın Fethi

Verilen olayların kronolojik sıralaması aşağıdakilerden hangisidir?

- A) II - III - I - IV B) III - IV - II - I C) I - II - III - IV
D) III - II - I - IV

15. İletişimde en önemli becerilerden biri iyi bir dinleyici olmaktır.

Aşağıdaki davranışlardan hangisini iyi bir dinleyicinin yapmaması gerekir?

A) Konuşmacıyı, sözünü kesmeden dinlemek

B) Konuşmacının söylediklerini anlamaya çalışmak

C) Konuşmacının jest ve mimiklerine dikkat etmek

D) Konuşmacıyla göz teması kurmaktan kaçınmak

16. Televizyon, radyo, gazete, dergi ve sinema gibi kitle iletişim araçları, kamuoyunun oluşturulmasında ve fikirlerin serbestçe ifadesinde önemli rol oynamaktadır.

Bu açıklamadan kitle iletişim araçları ile ilgili olarak, aşağıdakilerden hangisi çıkarılamaz?

A) Fikir paylaşımını sağladıkları

B) Yargının kararlarını etkiledikleri

C) Toplumı yönlendiren bilgiler verdikleri

D) Özgür düşünce ortamını oluşturdukları

17. Ayla : Hadi bahçeye çıkıp oyun oynayalım.
 Seray : Çok hastayım, çıkamayacağım.
 Ayla : Hadi çıkalım ...
 Seray : Oyun oynayacak hâlim yok.
 Ayla : Bir daha seninle oynamayacağım. Seray : Ben de seninle oynamayacağım.

Verilen diyalogda yapılan iletişim hatası **öncelikle** aşağıdakilerden hangisidir?

- A) Beden dilini kullanmama
 B) Empati kuramama
 C) Eleştiriye açık olmama
 D) Kendini doğru ifade edememe

18.



Verilen şemada “?” ile gösterilen yere, aşağıdakilerden hangisi yazılabilir?

- A) Maltepe (Pelekanon) Savaşı
 B) Varna Savaşı
 C) Ankara Savaşı
 D) Otlukbeli Savaşı

19. Lale Devrinde, Osmanlı Devleti’nin Viyana, Paris ve Londra gibi başkentlere **ilk kez** elçi göndermesinin gerekçesi aşağıdakilerden hangisidir?

- A) Batı’dan borç para alabilmek
 B) Avrupa ülkeleri ile iyi ilişkiler kurmak
 C) Avusturya ile yapılan savaşlara son vermek
 D) Avrupa’daki gelişmeleri yakından izlemek

20.



Osmanlılar, Kuruluş Döneminde büyük askerî zaferler kazanmışlardır.

diyen Ayşe, aşağıdakilerden hangisini bu görüşüne örnek **gösteremez**?

- A) Niğbolu Savaşı B) Ankara Savaşı
 C) Varna Savaşı D) I. Kosova Savaşı

Yönlendirme:

Öğrencilerin birbirinden bilgi, kalem v.b. alış verişi yapması yasaktır.
 Her doğru cevap 5 puandır. Süre 40 dakikadır.

İdris BACAK
 Sosyal Bilgiler Öğretmeni

Ad :
Soyad :
No :
Sınıf :

**2018-2019 ÖĞRETİM YILI
SOSYAL BİLGİLER 7. SINIF 1.
DÖNEM 2. YAZILI**

Puanı:

02.01.2019

A

CEVAP ANAHTARI

- 1 B
- 2 B
- 3 B
- 4 D
- 5 D
- 6 A
- 7 D
- 8 B
- 9 D
- 10 C
- 11 B
- 12 B
- 13 B
- 14 A
- 15 B
- 16 D
- 17 C
- 18 D
- 19 C
- 20 B

Yönlendirme:

**Öğrencilerin birbirinden bilgi, kalem v.b. alış veriş yapması yasaktır.
Her doğru cevap 5 puandır. Süre 40 dakikadır.**

**İdris BACAK
Sosyal Bilgiler Öğretmeni**

Ad :
Soyad :
No :
Sınıf :

**2018-2019 ÖĞRETİM YILI
SOSYAL BİLGİLER 7. SINIF 1.
DÖNEM 2. YAZILI**

Puanı:

02.01.2019

B

CEVAP ANAHTARI

- 1 A
- 2 D
- 3 C
- 4 C
- 5 D
- 6 B
- 7 B
- 8 A
- 9 B
- 10 C
- 11 B
- 12 B
- 13 D
- 14 D
- 15 D
- 16 B
- 17 B
- 18 B
- 19 D
- 20 B

Yönlendirme:

**Öğrencilerin birbirinden bilgi, kalem v.b. alış veriş yapması yasaktır.
Her doğru cevap 5 puandır. Süre 40 dakikadır.**

**İdris BACAK
Sosyal Bilgiler Öğretmeni**