


Çengel bulmaca



RENGARENK_SOSYAL BİLGİLER

DİKEY

1. Friglerin kralları için yaptıkları mezarlara verilen isim
3. Tarihteki bilinen il yazılı antlaşma
4. Tarihte bilinen ilk madeni parayı kullanan ve ticaret yapmak için Kral yolunu açan Anadolu uygarlığının adı
5. Babillerin en önemli hükümdarı kimdir
6. İyonya medeniyetinde yaşamış Tıp biliminin kurucusu sayılan kişi kimdir
9. hititlerdeki meclise verilen isim?
11. Friglerin bereket tanrıçasına verilen isim
13. asurların başkenti neresidir?

YATAY

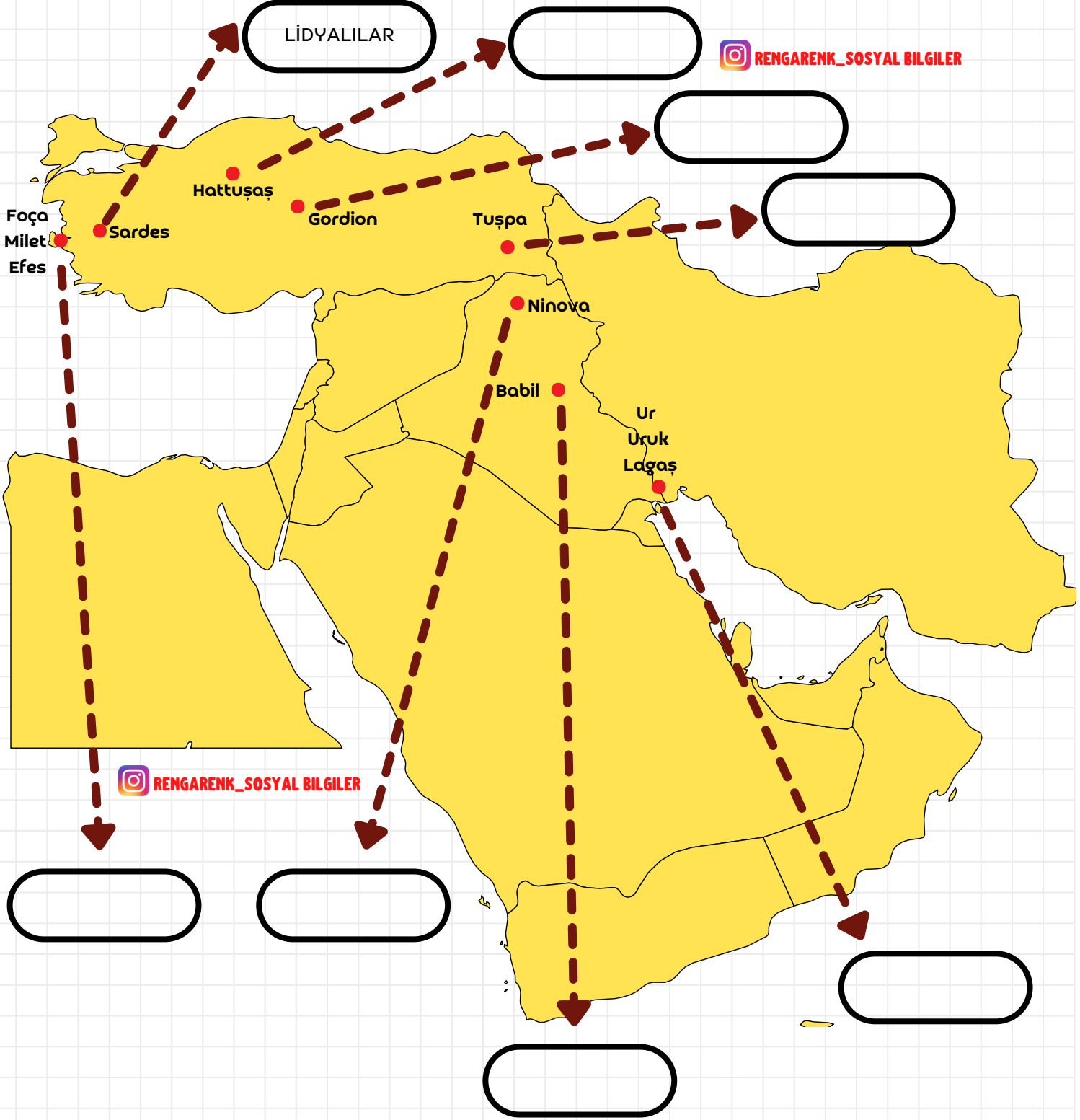
2. Urartuların yaptığı ve günümüze kadar gelen sulama kanallarının ismi
7. sümerlerin bulduğu takvim
8. toplumu oluşturan insanların her birine ne denir?
10. Yazıyı icat eden medeniyet
12. bir dini bayramımız
14. Eski yunancada "iki nehir" anlamına gelen bölgeye ne denir?
15. izmirde bulunan bir tarihi eser



Harita bulmaca



Aşağıdaki haritada başkentleri işaretli, Anadolu ve Mezopotamya'da kurulmuş olan Medeniyetlerin isimlerini kutucuklara örnekteki gibi yazınız.




Dallanmış ağaç etkinliği

Tanılayıcı dallanmış ağaçtaki bilgilerden bazısı doğru, bazısı yanlıştır. İlk ifadeden başlayıp, cevap oklarını takip ederek doğru çıkışı ulaşıınız.



••• Sümerler yazıyı icat ederek bilgileri saklanır hale getirmiş böylelikle geçmişteki olaylardan haberdar olmamızı sağlamışlardır.



RENGARENK_SOSYAL BİLGİLER

••• Frigyalıların Fibula adında çengelli iğne yapmaları ekonomiyle uğraştıklarının kanıtıdır.

••• Urartulardan kalan kalelerin günümüze kadar ulaşması taş işçiliğinde ileri gittiklerinin göstergesidir.

D

Y

D

Y

••• Dünyanın bilinen ilk kütüphanesi Asurların başkenti sard'da yapılmıştır.

••• Bilinen ilk yazılı antlaşma olan kadeş antlaşması Hititler tarafından hazırlanmıştır.

••• Lidyalılar parayı icat ederek ticarete takas usulüne son vermişlerdir.

••• İyonyalılar deniz ticareti ile uğraştıkları için fakirleşmişlerdir.

D

Y

D

Y

D

Y

D

Y

1. çıkış

2. çıkış

3. çıkış

4. çıkış

5. çıkış

6. çıkış

7. çıkış

8. çıkış

RENGARENK_SOSYAL BİLGİLER

Harita etkinliđi

Aşağıda şehirlerimizde bulunan bazı tarihi-doğal varlıklarımız gösterilmiştir. Bu varlıkların hangilerinin tarihî eser hangilerinin doğal varlık olduklarını örneklerdeki gibi yazınız.

1

Saat
Kulesi

2

Agustus
Tapınağı

3

Erciyes
Dağı

4

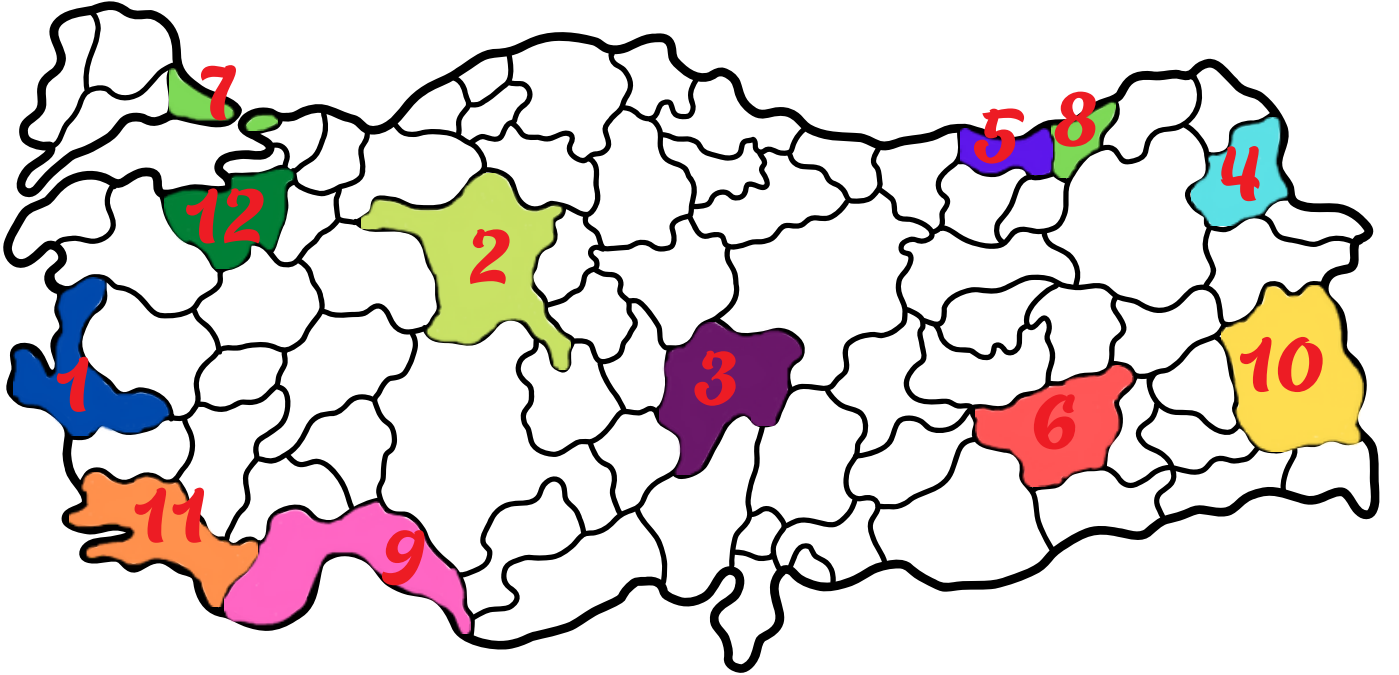
Ani
Harabeleri

5

Sümela
Manastırı

6

Hevsel
Bahçeleri

**7**

Sultan
Ahmet
Camii

8

Ayder
Yaylası

9

Manavgat
Şelalesi

10

Tuşpa
Kalesi

11

Ölü
Deniz

12

Uludağ



1 İzmir: **Tarihi eser**

2 Ankara:

3 Kayseri:

4 Kars:

5 Trabzon:

6 Diyarbakır:

7 İstanbul:

8 Rize:

9 Antalya: **Doğal varlık**

10 Van:

11 Muğla:

12 Bursa: