

# 5. SINIF

# 1.

## İZLEME SINAVI

Düşlerinize Yaklaştıran Köprüler kuruyoruz.

# KÖPRÜ

Projesi

Kurslarda Öğretimin Planlanması ve Rehberlikte Üstünleşme

### AÇIKLAMALAR

1. Bu sınavda **Türkçe** (15 soru) - **Sosyal Bilgiler** (10 soru) - **Din Kültürü ve Ahlak Bilgisi** (10 soru) - **İngilizce** (10 soru) - **Matematik** (10 soru) - **Fen Bilimleri** (10 soru) olmak üzere altı bölüm bulunmaktadır.
2. Sınavın süresi **90 dakikadır**.
3. Her sorunun sadece bir doğru cevabı vardır. Bir soru için birden çok cevap yeri işaretlenmişse o soru yanlış cevaplanmış sayılacaktır.
4. Puanlama; her test için yanlış cevap sayısının **üçte biri, doğru cevap sayısından çıkarılarak** elde edilecek geçerli cevaplar üzerinden yapılacaktır.
5. Cevaplamaya, istediğiniz testin sorusundan başlayabilirsiniz. Cevabını bilmediğiniz sorular üzerinde fazla zaman kaybetmeden diğer sorulara geçiniz. Zamanınız kalırsa bu sorulara daha sonra dönebilirsiniz.



**SİVAS MİLLÎ EĞİTİM  
MÜDÜRLÜĞÜ**



## İZLEME SINAVI - 1

1.



Ey şimdi süzgün, rüzgârlarda dalgalı;  
Barışın güvercini, savaşın kartalı  
Yüksek yerlerde açan çiçeğim.  
Senin altında doğdum.  
Senin altında öleceğim.

Arif Nihat Asya

Yukarıdaki şiirde altı çizili sözcükler arasında zıt anlamlılık ilişkisi vardır.

Buna göre aşağıdakilerin hangisinde zıt anlamlılık ilişkisi bulunmaktadır?

- A) Aydınlık - karanlık  
B) Kılık - kıyafet  
C) Hediye - armağan  
D) Sevmek - sevmemek

2.



Kübra Öğretmen

**Karşılaştırma cümleleri;** birden fazla kavramın, varlığın veya durumun çeşitli yönlerden birbirleriyle kıyaslandığı cümlelerdir. Karşılaştırma anlamı daha, gibi, kadar, en, göre, çok gibi ifadelerle sağlanabilir.

Karşılaştırma cümlelerini yukarıdaki gibi açıklayan öğretmen, öğrencilerinden karşılaştırma cümleleri söylemelerini istemiştir.



Hasan

Bu sene geçen seneden daha soğuk bir kış bizi bekliyor.

Sahil yolundan sonra çok güzel bir kasabaya ulaştık.



Reyhan



Hızır

Bakır, bu yörede en çok çıkarılan ve işlenen madendir.

Kitap okumayı sevdiğim için öğretmenim kadar kitap okuyorum.



Elif

Yukarıdaki cümleleri söyleyen öğrencilerden hangisi karşılaştırma cümlesi kuramamıştır?

- A) Hasan  
B) Reyhan  
C) Hızır  
D) Elif



3.

- I. çanta
- II. çarşı
- III. çeşme
- IV. çelik
- V. çuval

Mustafa, yukarıdaki kelimeleri sözlük sırasına göre dizmiştir.

Hangi kelimeler yer değiştirirse Mustafa'nın yaptığı hata düzeltilmiş olur?

- A) I-II
- B) II-III
- C) III-IV
- D) IV-V

4.

- I. daha büyük bir suç
- II. kitapları yakmaktan
- III. varsa
- IV. okumamaktır
- V. o da onları

Yukarıda numaralandırılmış sözcük ve sözcük gruplarından anlamlı ve kurallı bir cümle oluşturmak istenirse sıralama aşağıdakilerden hangisi olmalıdır?

- A) I-III-V-II-IV
- B) II-I-III-V-IV
- C) IV-V-I-II-III
- D) II-III-I-IV-V

5.

(I) Şehre vardığımda güneş batmak üzereydi. (II) Yolculuğun vermiş olduğu yorgunlukla iyice acıkmıştım. (III) Güzel bir yemekhane bularak yemek yemeye karar verdim. (IV) Biraz araştırmadan sonra self servis hizmet veren kaliteli bir yemekhane buldum.

Numaralandırılmış cümlelerin hangisinde dilimizde karşılığı olduğu hâlde yabancı bir sözcük kullanılmıştır?

- A) I
- B) II
- C) III
- D) IV

6.

*Dolaştım İstanbul'u sabaha karşı  
Aşıyan, Eyüp Sultan, Kapalıçarşı.  
İçimdeki hüznle durdum önünde,  
Ayasofya hüznünlüydü; ben mutsuz.*

İnsana özgü özelliklerin insan dışındaki varlıklara verilmesine kişileştirme denir.

Bu açıklamaya göre yukarıdaki şiirin kaçınıcı dizesinde kişileştirme sanatı kullanılmıştır?

- A) 1.dize
- B) 2.dize
- C) 3.dize
- D) 4.dize

7.

- Söyleyenin kendi düşüncesini, duygusunu veya beğenisini içeren cümlelere öznel cümleler denir.
- Söyleyenin duygu veya düşüncesini içermeyen, doğruluğu ya da yanlışlığı kişiden kişiye göre değişiklik göstermeyen cümlelere nesnel cümleler denir.

Yukarıda verilen bilgiler çerçevesinde,

(I) Profesyonel futbolculuk hayatımın ilk maçıydı. (II) Teknik direktörümüz, ikinci yarı başlarken oyuna girmemi istedi. (III) Sahaya ilk adımımı attığım an bacaklarım titriyordu. (IV) Kendimi toparlayarak maçın sonlarına doğru harika bir gol atmayı başardım.

Parçada numaralandırılmış cümlelerden hangisi öznel bir cümledir?

- A) I
- B) II
- C) III
- D) IV

8. Aşağıda noktanın bazı kullanım alanları verilmiştir:

- Bazı kısaltmaların sonunda kullanılır.
- Sayılardan sonra sıra bildirmek için kullanılır.
- Saat ve dakika gösteren sayıları birbirinden ayırmak için kullanılır.
- Tarihlerin yazılışında gün, ay ve yılı gösteren sayıların arasında kullanılır.

Buna göre aşağıdaki cümlelerden hangisi noktanın yukarıda verilen görevlerinden birini örneklen-dirmez?

- A) Önceki yarışmada ilk üçe giremeyerek elendi.  
B) Sıradaki davaya Av. Azize Özdemir girecek.  
C) Sivasspor'un maçı akşam 21.45'te başlayacak.  
D) Cumhuriyet 29.10.1923 tarihinde ilan edilmiştir.

9. Enes Bey, bilgisayarına şifre koyacaktır. Enes Bey'in koyacağı şifreyle ilgili şunlar bilinmektedir:



- Şifre altı karakterden oluşacaktır.
- Her karakter yalnızca bir kez kullanılacaktır.
- Şifrede en az iki rakam kullanılmalıdır.

Yukarıda verilen bilgilere göre Enes Bey'in belirlediği şifre hangisi olabilir?

- A) 9a5çm B) kmops6  
C) 24zysy D) 7zgt1e


10. Aşağıda büyük harflerin kullanımıyla ilgili kurallar verilmiştir.

- Kişi adlarından önce ve sonra gelen unvanlar, saygı sözleri büyük harfle başlar.
- Millet, boy, oymak adları büyük harfle başlar.
- Kurum, kuruluş ve kurul adlarının her kelimesi büyük harfle başlar.
- Hayvanlara verilen özel adlar büyük harfle başlar.

Aşağıdakilerin hangisinde bu kurallardan birine uymamaktan dolayı yazım yanlışı yapılmıştır?

- A) Annemin aldığı kedinin adını Pamuk koyduk.  
B) Bu yıl İngiliz futbolunu yakından takip ediyorum.  
C) Türkiye Büyük Millet meclisi törenle açıldı.  
D) Nusret Bey, okulumuzun yeni müdürü oldu.

11. ve 12. soruları aşağıdaki metne göre cevaplayınız.



Hindistan'ın Divar adasında yaşayan Hintli bir adam varmış. Bu adam bir gün kıyıya inmiş ve burada yanına bir akrep yanaşmış. Akrep zor durumdaymış. Adam da akrebi kurtarmak istemiş ve parmağını ona doğru uzatmış. Fakat akrep adamı sokmuş. Hintli adam bu duruma çok şaşırarak, tekrardan parmağını akrebe doğru uzatmış. Akrep, tekrar adamın parmağını sokmuş. Bu olayı gören başka bir adam, kendisini sürekli sokan bu akrebi kurtarmaktan vazgeçmesi gerektiğini söylemiş. Hintli adam buna şu şekilde cevap vermiş: Akreplerin doğasında sokmak var fakat ben insanım. İnsanın doğasında ise sevmek var, akrebin doğasında sokmak var diye kendi doğamda olan sevmekten mi vazgeçeyim?

11. Hikâyenin Unsurları:

**Olay:** Hikâyede üzerinde söz söylenen yaşantı ya da durumdur.

**Kişi:** Olayın oluşmasında etkili olan ya da olayı yaşayan varlıklardır.

**Yer:** Olayın yaşandığı çevre veya mekândır.

**Zaman:** Olayın yaşandığı dönem, an, mevsim ya da gündür.

Bu açıklamaya göre yukardaki metinde hikâyenin hangi unsuruna yer verilmemiştir?

- A) Olay B) Zaman  
C) Yer D) Kişi

12. Yukarıdaki hikâyede asıl anlatılmak istenen aşağıdakilerden hangisidir?

- A) Ne olursa olsun ruhumuzda taşıdığımız güzel duygulardan uzaklaşmamalıyız.  
B) Bize zarar veren insanlardan ve varlıklardan her zaman uzak durmalıyız.  
C) Beceremediğimiz işlerde başkalarının yardımına başvurmadan çekinmemeliyiz.  
D) Yılmadan çabalarsak zamanı geldiğinde istediğimiz her şeyi başarırız.



13. Aşağıda "Rafadan Tayfa" adlı çizgi filme ait bazı karakterler hakkında bilgiler verilmiştir.



Akin

En küçük erkek karakterdir. Mert'in kardeşidir. Akıllıdır ve sorunlara kimsenin aklına gelmeyen çözümler üretir. Bir de köpeği vardır. Köpeğinin adı da Yumak'tır. Fakat apartmanda yaşadığı için köpeğini Basri Amca'ya emanet eder.



Hayri

Ekibin en oburudur. Sık sık canı yemek yemek ister ve bu tüm olayları etkiler. Rafadan Tayfa ismi onun fikridir. Kamil'in onla didiştği gibi o da Kamil ile didişir ama Kamil'in en iyi arkadaşısıdır. Bazı şeyleri abartır.



Kamil

Ailesi mahalledeki tek bakkalın sahibidir. Orada ailesine yardım eder. Hayri'yle sürekli didişir ama aslında onun en iyi arkadaşısıdır. Uyumayı çok sevmesine rağmen sorumluluk almaktan kaçmayan ve çalışkan bir karakterdir.



Mert

Erkeklerin en sinirlisi ve de kardeşi gibi aklı başında olan bir karakterdir. Kamil ile Hayri'nin her didiştiklerinde onlara sinirlenir ve genellikle onları ayırır. Akin'ın abisidir. Rafadan Tayfa'nın lideridir. Her soruna bilgece çözümler üretir.


Verilen bilgilere göre Rafadan Tayfa karakterleri hakkında yapılan yorumlardan hangisine ulaşılabilir?

- A) Rafadan Tayfa'nın üyeleri olan Mert ve Akin aynı zamanda kardeşlerdir.
- B) Kamil ve Hayri birçok konuda tartışsa da birbirlerinin en iyi arkadaşlarıdır.
- C) Problemlere akılcı çözümler üreten Kamil, aynı zamanda grubun önderidir.
- D) Grubun ismini bulan ve en çok yemek yiyen karakteri Hayri'dir.

14. Aşağıda kitaplarla ilgili bazı görseller verilmiştir.



I



II



III



IV

- a. Kitaplar aklın tedavi yerleridir. Genç zekâları kitaplarla beslemeyen milletler hüsrana uğramaya mahkûmdur.
- b. İçinde yaşadığımız küre iki dünyaya ayrılır: Kitapların olmadığı karanlık dünya ve kitapların ışık verdiği aydınlık dünya.
- c. Çocuklarımızı teknolojinin olumsuz yönlerinden koruyan ve gerçek dünyaya kapılar açan en önemli şey kitaplardır.
- d. Kitap, beni her zaman eğlendiren, avutan bir arkadaş; bana akıl öğreten bir dost olmuştur.

Yukarıdaki numaralandırılmış görsellerle harflerin karşısındaki ifadeler eşleştirildiğinde doğru olan seçenek aşağıdakilerden hangisidir?

- A) I-a, II-d, III-c, IV-b
- B) I-c, II-b, III-a, IV-d
- C) I-d, II-a, III-b, IV-c
- D) I-b, II-c, III-d, IV-a

15.



Uçmak, insanlık tarihi boyunca hep hayalleri süsledi. Bu yüzden dünyanın farklı yerlerinde, farklı toplumlar uçmanın sırrını keşfetmeye çalışmıştır. Sümerler, Mısırlılar, Çinliler, Eski Yunanlar, Endülüslüler ve Türkler başta olmak üzere birçok millettten insan, uçmak konusunda havacılık bilimine önemli katkılar sağladılar. İstedğini elde edemese de dünyada bilinen ilk uçuş denemesini ise Endülüslü İslam bilgini Abbas İbn-i Firnas gerçekleştirmiştir.

**Yukardaki parçada aşağıdakilerden hangisine değinilmemiştir?**

- A) Tarihteki başarılı ilk uçuşu Abbas İbn-i Firnas gerçekleştirmiştir.
- B) Uçma isteği, insanların çok eskilere dayanan bir arzusudur.
- C) Havacılık bilimi, farklı kültürlerin çabalarıyla gelişme göstermiştir.
- D) Dünyada birçok millet uçmanın gizemini çözmeye çalışmıştır.



## İZLEME SINAVI - 1

1.



Sümerler, şehir devletlerinin tam ortasına “ziggurat” adı verilen çok katlı tapınaklar inşa etmişlerdir. Piramide benzeyen bu yapıların en üst katı gözlemevi olarak kullanılmıştır. Ay’ı, gezegenleri ve yıldızları gözlemleyen Sümerler, ay yılı esasına dayanan takvimi icat etmiş, ayrıca Ay ve Güneş tutulmalarını hesaplamışlardır. Zigguratlar aynı zamanda okul ve tüketim fazlası malların saklandığı depo olarak da kullanılmıştır.

Verilen metne göre zigguratlar için aşağıda yapılan yorumlardan hangisinin doğru olduğu söylenemez?

- A) Zigguratlar eğitim hizmetleri için de kullanılmıştır.
- B) Sümerler, zigguratlar sayesinde astronomide ilerlemişlerdir.
- C) Zigguratlar sadece dini törenleri düzenlemek için yapılmıştır.
- D) Zigguratlar üretim fazlası malları depolanması ile ekonomiye katkı sağlamıştır.

2. Aşağıdaki görsellerde farklı yörelerimize ait yemekler verilmiştir.



Hamsi Tava



Enginar



Manti



Kebap

Verilen görsellere bakılarak aşağıdaki yorumlardan hangisi yapılabilir?

- A) Ülkemiz zengin bir yemek kültürüne sahiptir.
- B) Kültürel öğelerimiz zamanla değişiklik göstermiştir.
- C) Görsellerdeki yemekler Akdeniz Bölgesi’nde daha çok tüketilmektedir.
- D) Yemek kültürümüzde et yemekleri daha çok yapılmaktadır.



3. Ahmet, 5. sınıf öğrencisidir. Maddi durumları iyi olmadığı için babası Ahmet'i okuldan alıp çalışması için bir tamirhaneye götürmüştür. Derslerde başarılı olan Ahmet, okula devam etmek istemektedir.

**Buna göre Ahmet'in;**

- I. Çocuklar yeteneklerine ve ilgilerine göre eğitim görme hakkına sahiptir.
- II. Hiçbir çocuğun özel hayatına ve bedenine keyfi olarak müdahalede bulunulamaz.
- III. Çocuklar dinlenme, boş zaman değerlendirme, oynama ve yaşına uygun etkinliklere katılma hakkına sahiptir.

**sahip olduğu haklarından hangileri ihlal edilmiş olabilir?**

- A) Yalnız I  
B) I ve II  
C) I ve III  
D) II ve III

4. Yer aldığımız gruptaki rollerimizin gereklerini yapmaya sorumluluk denir. Rollerimize uygun davrandığımızda o rolle ilgili sorumluluklarımızı yerine getirmiş oluruz. Sorumluluklarımızı yaparken başarılı ve mutlu bireyler olduğu bir toplumun oluşmasına katkıda bulunuruz.

**Verilen metne bakılarak aşağıdakilerden hangisi söylenemez?**

- A) Sorumluluk, grupta yer aldığımız rollerin gereklerini yerine getirmektir.
- B) Sorumluluklarımızı yerine getirmemiz mutlu toplumun oluşmasını sağlar.
- C) Rollerinin gereklerini yerine getiren bireyler başarılı ve mutlu olurlar.
- D) Sahip olduğumuz rollerimiz değişse de sorumluluklarımız hiçbir zaman değişmez.

5. Hammurabi Kanunlarında yer alan maddelerden bazıları şunlardır:

- Bir kişi başka bir kişinin özgürlüğünü kısıtlayacak harekette bulunursa yaptığı kısıtlama ona da uygulanır.
- Birini suçlayan, ispata mecburdur. İspat etmezse ölüm cezasına çarptırılır.
- Bir kişi kendisiyle aynı sınıftaki bir kişinin dişine zarar verirse onun da dişi çekilir.

**Verilen bilgilere göre Hammurabi Kanunları için yapılan yorumlardan hangisinin doğru olduğu söylenebilir?**

- A) Bütün suçlular idam cezası ile cezalandırılmıştır.
- B) Kısasa kısas esasına dayanan çok sert kanunlardır.
- C) İnsan haklarına uygun bir şekilde hazırlanmıştır.
- D) Herkes istediği insanı cezalandırma hakkına sahiptir.

6. Anadolu, elverişli iklim koşullarına, zengin su kaynaklarına yakın bereketli ovalara sahiptir. Ayrıca önemli ticaret yolları üzerinde olduğu için dünyanın en eski ve en önemli yerleşim merkezlerinden biri olmuştur.

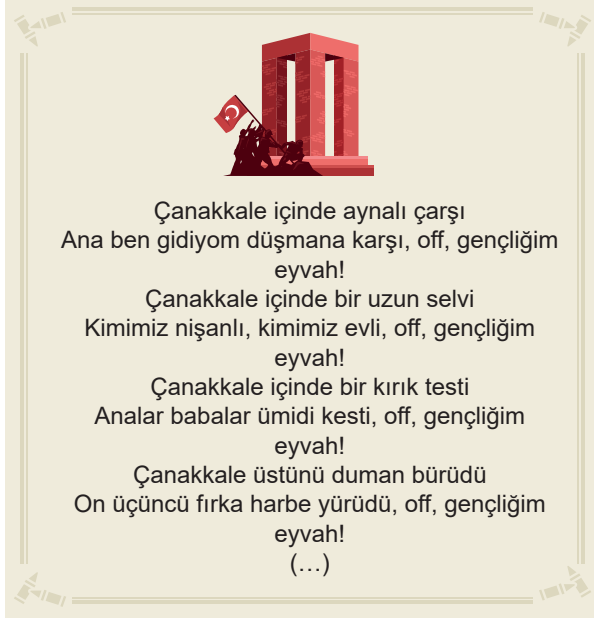
**Verilen metne göre Anadolu'nun en eski yerleşim yerlerinden biri olmasında;**

- I. Verimli topraklara sahip olması
- II. Su kaynaklarının bulunması
- III. Ticaret yolları üstünde bulunması

**yukarıdaki verilenlerden hangilerinin etkili olduğu söylenebilir?**

- A) Yalnız I  
B) Yalnız II  
C) I ve II  
D) I, II ve III

7. Osmanlı Devleti'nin I. Dünya Savaşı'nda mücadele ettiği cephelerden biri de Çanakkale Cephesi'dir. Anadolu'nun farklı yerlerinden Çanakkale'ye giden askerlerin birçoğu burada şehit düşmüştür. Bu cephede yaşanan acılar ve kaybedilenlere duyulan özlem Çanakkale Türküsü 'ne konu olmuştur.



Verilen metin ve türküye bakılarak aşağıdaki yorumlardan hangisi yapılamaz?

- A) Tarihimizde yaşanan acılar türkülerle dile getirilmiştir.  
B) Bütün türkülerimizin ana çıkış kaynağı savaşlardır.  
C) Yaşanan olaylar kültürümüze şekil vermiştir.  
D) Ortak acılar toplumda iz bırakmıştır.

8. Doğada insan etkisi olmadan oluşan vadi, göl, deniz, plato gibi gezip görülebilecek unsurların tümüne "doğal varlık" adı verilir.

Verilen metni dikkate alarak aşağıdakilerden hangisinin doğal varlık olduğu söylenemez?

- A) Yıldız Dağı  
B) Sızır Şelalesi  
C) Gökpinar Gölü  
D) Dört Eylül Baraj Gölü

9. Çevremizde yaşanan olayların birden çok sebebi ya da sonucu olabilir. Örneğin yaşadığınız yerde meydana gelen kar yağışı, dolu fırtınası gibi çeşitli hava olayları eğitim-öğretimin aksamasına, trafik kazalarına, tarım alanlarının zarar görmesine neden olabilir. Hava koşullarının kötü olması nedeniyle eğitim ve öğretim faaliyetlerine ara verilmesi sizin okula gitmemenize neden olarak sizi etkilerken tarım alanlarının zarar görmesi hem burada çalışan üreticiyi hem de buradan gelecek ürünleri bekleyen tüketiciyi etkiler. Kötü hava koşullarına, sürücülerin dikkatsizliği gibi etkenler eklenince trafik kazalarına yol açabilir. Bu durum o yolu kullanan kişileri, trafik polislerini, yol çalışmalarını etkiler.

Verilen metin dikkate alındığında anlatılan olayı aşağıdaki konu başlıklarından hangisi karşılar?

- A) Olayların Çok Boyutluluğu  
B) Çocuk Hakları  
C) Etkin Vatandaşlık  
D) Ülkemizin Güzellikleri

10. Sosyal Bilgiler dersinin faydaları için şunları söyleyebiliriz:

- Etkin bir vatandaş olmamıza yardımcı olur. Sorun çözme becerimizi geliştirir.
- Hak ve sorumluluklarımızı öğretir. İçinde bulunduğumuz toplumla uyum içinde yaşamamızı sağlar.
- Millet olma bilincimizi güçlendirir.
- Ülkemizi ve dünyamızı daha iyi tanımamızı sağlar.

Verilen bilgilere göre aşağıdakilerden hangisi Sosyal Bilgiler dersinin bireye kazandıracığı davranışlara örnek gösterilemez?

- A) Karşılaştığımız problemleri hak ve sorumluluk çerçevesinde çözmek.  
B) Dilimizi etkin bir şekilde öğrenmek ve günlük hayatta kullanmak.  
C) Ülkemizin doğal güzelliklerini ve tarihi eserlerini tanımak.  
D) Bizi diğer milletlerden ayıran kültürel özelliklerimizi öğrenmek.

Sosyal Bilgiler testi bitti.  
Din Kültürü ve Ahlak Bilgisi testine geçiniz.





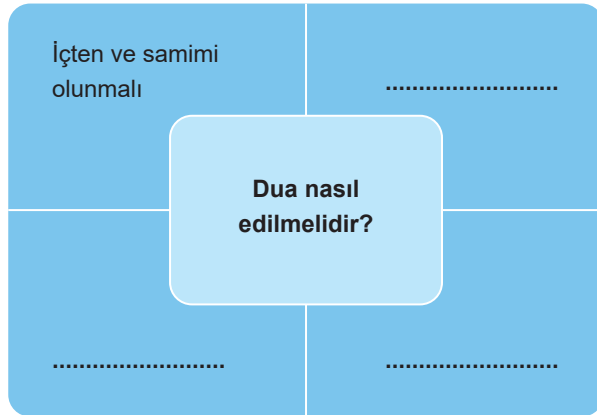
## İZLEME SINAVI - 1

1. Hz. İbrahim (a.s.) peygamber olmadığı dönemde de halkı gibi putlara tapıp şirk koşanlardan olmamıştır. Babası Azer bu putları yapan kişilerden birisiydi. Babasına birçok defa put inancının ve put yapmanın yanlışlığını güzel bir dille anlatmıştır. Babasının verdiği cevabı Kuran şöyle aktarmıştır: “(Babası:) Ey İbrahim! dedi, sen benim tanrılarımdan yüz mü çeviriyorsun? Eğer vazgeçmezsen, andolsun seni taşlarım! Uzun bir zaman benden uzak dur!”

**Hz. İbrahim (a.s.) ve babası hakkında aşağıda yapılan yorumlardan hangisi yanlıştır?**

- A) Hz. İbrahim (a.s.) babasını yanlış inançtan uzaklaştırmak istemektedir.  
B) Hz. İbrahim (a.s.) putlara tapmamaktadır.  
C) Hz. İbrahim (a.s.) peygamberliğini ilk babasına açıklamıştır.  
D) Babası Hz. İbrahim’in (a.s.) teklifini kötü karşılamıştır.

2.



**Verilen tabloya aşağıdakilerden hangisi yazıl-mamalıdır?**

- A) Yalnız Yüce Allah’tan istemeli.  
B) Duada olmayacak şeyler istenilmemeli.  
C) Kabul edileceği niyetiyle dua etmeli.  
D) Sadece ibadetlerin ardından dua edilmeli.

3. Ali ve Mehmet kantinden bir şeyler almak için beklemektedir. Mehmet iki simit alır ve parasını kantinciye verir. Mehmet kantincinin kendisinden eksik para aldığını anlar ve arkadaşına “bir şey olmaz, kantinci nerden bilecek” der. Ali ise arkadaşının sözlerine karşılık “ insanlar görmez, bilmez ama .....” cevabını verir.

**Paragrafın bütünlüğü açısından boş bırakılan alana hangisi getirilmelidir?**

- A) Allah her şeyi yaratandır.  
B) Allah kullarına karşı çok merhametlidir.  
C) Allah her şeyi bilmektedir.  
D) Allah’ın her şeye gücü yetmektedir.

4. **Evrenin tesadüfen veya kendiliğinden oluşmadığını anlatan öğretmen aşağıdaki ayetlerden hangisini kullanmamalıdır?**

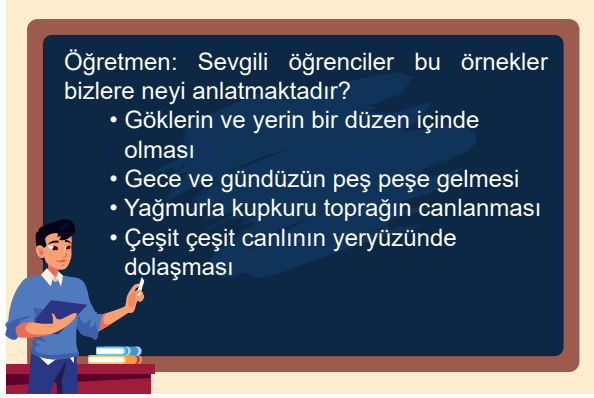
- A) “Şüphesiz Allah açığa vurulan sözü de bilir, gizlediklerinizi de bilir.” (Enbiya/110)  
B) “Yeryüzünde ne varsa hepsini sizin için yaratan, sonra semâya yönelip onları yedi kat gök olarak tastamam tanzîm eden O’dur...” (Bakara/29)  
C) “O, gökleri ve yeri hiç yoktan, eşsiz ve benzersiz şekilde yaratandır...” (Enam/101)  
D) “O ki, her şeyi yarattı ve onları güzel ve düzgün bir şekilde biçimlendirdi.” (A’la/2)

5. Allah’ın (c.c.) güzel isimlerine ..... denir. Bu isimleri Kur’an-ı Kerim’den ve Hz. Muhammed’in (sav.) sözlerinden öğreniriz. Rahman, Rahîm, Semi, Alim ve Samed bu isimlerden bazılarıdır.

**Parçada boş bırakılan alana hangi kavram getirilmelidir?**

- A) Kudret  
B) Esmâ-i Hüsnâ  
C) El-emin  
D) Melek

6.



Öğretmenin sorusuna hangi öğrenci doğru cevap vermiştir?

- A) İsmail: Allah'ın yaratmasındaki mükemmelliği
- B) Abdullah: Doğanın kendini sürekli yenilemesi
- C) Ayşe: İnsanın çevresini gözlem gücü
- D) Elif: Allah'ın her şeyden haberdar olması

7. Çalılıkta dolaşırken, bulduğum bir kuş yuvasından yavruları almıştım. Tam bu sırada yavrunun anası başımda dolaşmaya başladı, yavruları bırakmak için ihramımı açmaya çalıştığım sırada kuş hemen kolumdaki yavrusunun yanına daldı, kanatlarını yavruları üzerine gerip onu korumaya başladı. Bunu gören Peygamberimiz (sav) şöyle dedi:
- Bu annenin yavrusuna bu kadar acıması sizi hayrete mi düşürdü?
- Peygamberimiz (sav) şöyle devam etti:
- Hiç şüphenez olmasın, Allah (cc)'ın kullarına acıması, bu annenin acımasından fazladır.

**Bu olayda Yüce Allah'ın hangi özelliğinden bahsedilmektedir?**

- A) Allah'ın sonsuz güç sahibi olması
- B) Allah'ın her şeyi bilmesi
- C) Allah'ın sonsuz merhameti
- D) Allah'ın her canlıyı yaratması

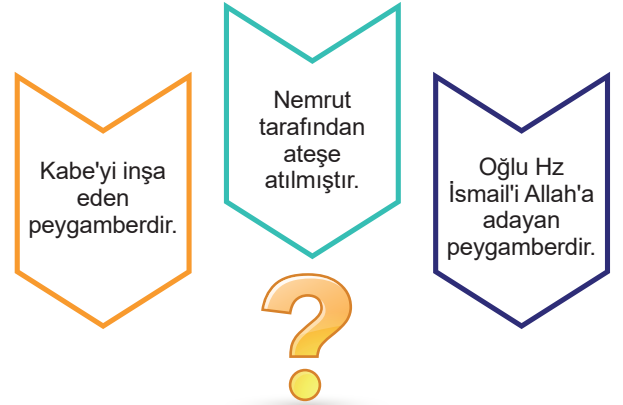
8.

- |    |   |
|----|---|
| 1. | "Eğer yerde ve gökte Allah'tan başka ilahlar olsaydı kesinlikle ikisinin de düzeni bozulurdu..."<br>(Enbiyâ suresi, 22) |
| 2. | "Allah her şeyin yaratıcısıdır ve her şeyi koruyup yöneten de O'dur."<br>(Zümer suresi, 62)                             |
| 3. | "O, gökleri ve yeri örneksiz yaratandır..."<br>(Bakara suresi, 117)   |
| 4. | "Sizin ilahınız bir tek ilahtır. Ondandır başka ilah yoktur."<br>(Bakara suresi, 163)                                   |

**Tabloda bulunan ayet meallerinden kaç tanesi Allah'ın eşi ve benzeri olmadığının delilidir?**

- A) 1
- B) 2
- C) 3
- D) 4

9.



**Tabloda bahsedilen peygamber aşağıdakilerden hangisidir?**

- A) Hz. Muhammed (sav)
- B) Hz. Adem (as)
- C) Hz. İbrahim (as)
- D) Hz. İsa (as)

10. Bir yakını vefat eden kişiye başsağlığı için gittiğimizde aşağıdaki ifadelerden hangisini kullanmamalıyız?

- A) Allah size sabır versin
- B) Allah rahmet eylesin
- C) Mekânı cennet olsun
- D) Hepinize geçmiş olsun

*Din Kültürü ve Ahlak Bilgisi testi bitti.  
İngilizce testine geçiniz.*



## İZLEME SINAVI - 1

1. Look at the card and answer the question.



**Name:** Albert  
**Surname:** Bronte  
**Age:** 11  
**Nationality:** American  
**Languages:** English and French

Which of the following does NOT have an answer in the card?

- A) How old is he?  
B) How many languages does he speak?  
C) What nationality is he?  
D) When is his English class?

- 2.



Martin

What is your favorite school subject?

It's - - - -. I like solving problems.



Oliver

Which of the following picture is suitable for the blank?



3. Read the dialogue and answer the question.



Harry


Which activities do you enjoy doing at school?

I enjoy playing my guitar, drawing pictures and learning languages.



Linda

Which of the following classes is NOT one of Linda's favorites?




4. **Tim :** Hello I'm Tim.  
**Sam :** Hello. My name is Sam.  
**Tim :** - - - -?  
**Sam:** I'm from England.

Which of the following can complete the dialogue?

- A) Where are you from?  
B) How old are you?  
C) What is your name?  
D) How are you?

5. Look at the visual and answer the question.



---- is sitting in front of Alex next to Alfred.

- A) Sandy  
B) Emma  
C) Nick  
D) Maria

- 6.



The library is - - - - the cafe and the school and - - - - the toy shop.

Which of the following can complete the sentence?

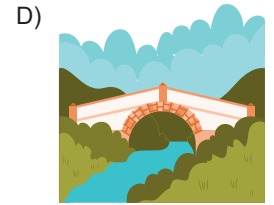

- A) behind / in front of  
B) next to / between  
C) between / behind  
D) in front of / near

- 7.



Hello, I'm George. There is a long bridge, an old castle and a large museum in my city.

Which of the following places is NOT in George's city?



8. Julia : Hello Tina, where is Susan?

Tina : She is at the - - - - . She will buy bread.

Where is Susan?



9.



Clara

My uncle's favorite activity is sculpting.

Which picture shows Clara's uncle's hobby?

A)



B)



C)



D)



10.



✓ do puzzles  
✗ play soccer

A) Tom likes playing soccer, but he doesn't like doing puzzles.

B) Tom doesn't like doing puzzles and playing soccer.

C) Tom likes doing puzzles, but he doesn't like playing soccer.

D) Tom likes playing soccer and doing puzzles.





## İZLEME SINAVI - 1

1. Aşağıda Mete'nin matematik defteri gösterilmiştir.




Mete, okulda defterine dokuz basamaklı bir sayı yazmış fakat eve geldiğinde sayının iki basamağının silindiğini görmüştür.

**Buna göre Mete'nin yazdığı sayı aşağıdakilerden hangisi olabilir?**

- A) Beş yüz yetmiş milyon sekiz yüz altmış üç bin dokuz yüz otuz yedi  
B) Beş yüz yetmiş milyon seksen üç bin dokuz yüz altmış yedi  
C) Beş yüz yetmiş milyon sekiz yüz üç bin doksan yedi  
D) Beş yüz yetmiş milyon sekiz yüz otuz bin dokuz yüz seksen yedi

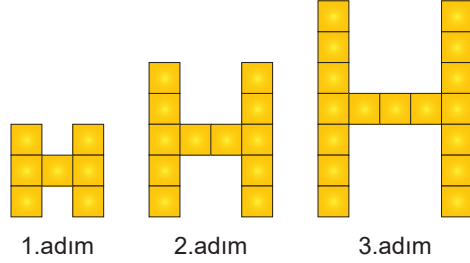
2. Dokuz basamaklı bir sayının bölüklerine ayrılmış halinin legolarla modellenmesi aşağıda verilmiştir.



**Bu sayının, on milyonlar basamağındaki rakamın sayı değeri ile onlar basamağındaki rakamın basamak değeri toplamı kaçtır?**

- A) 20 000 009      B) 20 000 090  
C) 11      D) 92

3. Aşağıda kare şeklindeki kartonların birleştirilmesiyle oluşturulmuş bir örüntünün ilk üç adımı verilmiştir.



**Verilen örüntünün 5. adımında kullanılan kare karton sayısı kaçtır?**

- A) 22      B) 25  
C) 27      D) 32

- 4.

$$\begin{array}{r} 27 \blacksquare 18 \\ + 48 \star 2 \\ \hline 32170 \end{array}$$

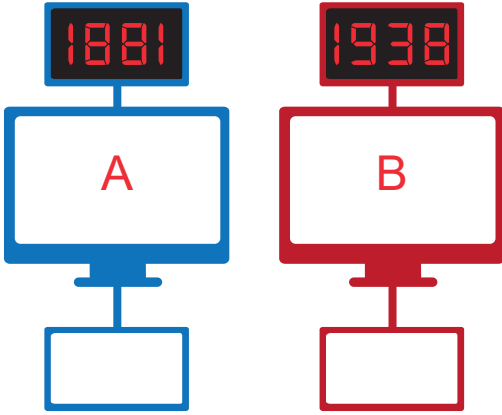
Yukarıdaki toplama işleminde  $\blacksquare$  ve  $\star$  sembolleri yerine gelecek sayılar bulunarak, aşağıda verilen çıkarma işlemindeki yerlerine yazılacaktır.

$$\begin{array}{r} 80 \blacksquare 1 \\ - 6 \star 78 \\ \hline ? \end{array}$$

**Buna göre çıkarma işleminin sonucu kaçtır?**

- A) 1463      B) 1453  
C) 1373      D) 1353

5. Yuvarlama işlemi yapabilen iki bilgisayar verilmiştir.



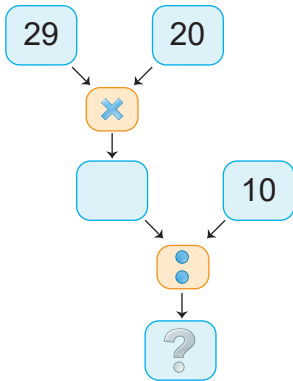
A bilgisayarı girilen sayıyı en yakın binliğe, B bilgisayarı ise girilen sayıyı en yakın yüzlüğe yuvarlamaktadır.

A bilgisayarına 1881, B bilgisayarına 1938 sayıları giriliyor.

Buna göre bu iki bilgisayardan elde edilen sonuçların toplamı kaçtır?

- A) 3940 B) 3900  
C) 3830 D) 3800


6. Aşağıda verilen işlemler soldan sağa doğru ok yönünde yapılacaktır.



Buna göre “?” yerine yazılacak sayı aşağıdakilerden hangisidir?

- A) 43 B) 48  
C) 58 D) 68


7. Aşağıda verilen özdeş K, L ve M tuzluklarının üzerinde yazan kesirler, tuzlukların kaçta kaçının tuzla dolu olduğunu göstermektedir.



Buna göre tuzluklardaki tuz miktarlarının küçükten büyüğe doğru sıralanışı aşağıdakilerden hangisidir?

- A)  $M < K < L$  B)  $L < K < M$   
C)  $M < L < K$  D)  $K < L < M$

8. Her biri 30 yumurta alabilen yumurta kolisi görseli aşağıda verilmiştir.



Veli, 282 tane yumurtanın tamamını kolilere koymak istiyor.

Her bir kolinin ücreti 3 TL olduğuna göre Veli'nin kolilere vereceği ücret en az kaç Türk Lirası olur?

- A) 9 B) 10  
C) 27 D) 30



9.

$$\begin{array}{r|l} 923 & 43 \\ - & \text{▲} \end{array}$$

Yukarıda verilen bölme işleminde bölüm ▲ ve kalan ▲ sembolleriyle gösterilmiştir.

Buna göre ▲ ve ▲ sembollerine karşılık gelen sayıların toplamı aşağıdakilerden hangisidir?

- A) 39 B) 41  
C) 43 D) 45

10. Bir işveren, çalışanlarına hafta içi günlük 80 TL, hafta sonu günlük 110 TL vermektedir.

Bu iş yerinde aralıksız bir hafta çalışan Orhan toplam kaç Türk Lirası kazanmıştır?

- A) 190 B) 510  
C) 620 D) 710

11. Bir fabrikanın servisi 5 durakta fabrika çalışanlarını almaktadır. Bu servis geçtiği her durakta, durak numarasının karesi kadar fabrika çalışanını almaktadır.

Örneğin: Bu servis üçüncü duraktan  $3^2 = 3 \times 3 = 9$  fabrika çalışanı almıştır.

Beşinci duraktan sonra bu servisin içindeki fabrika çalışanı sayısı kaçtır?

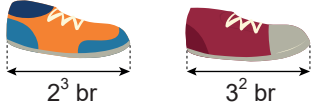
- A) 55 B) 54  
C) 30 D) 25

12. Öğretmeni Ahmet'ten 146 ve 44 sayılarının çarpımını sayıları en yakın onluğa yuvarlayarak tahmin etmesini istemiştir.

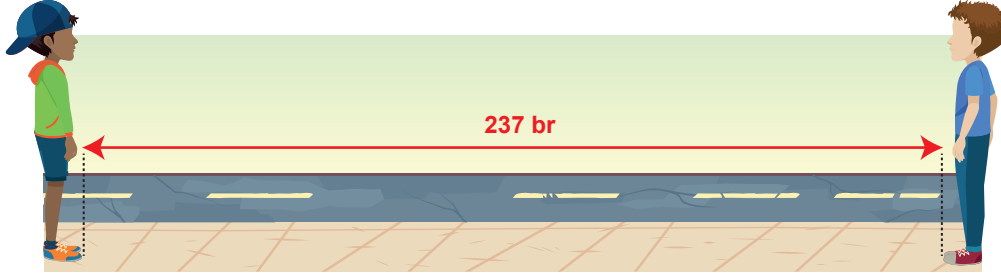
Buna göre Ahmet'in tahmin ettiği değer aşağıdakilerden hangisidir?

- A) 7500 B) 6000  
C) 5600 D) 5000


13. Birinin uzunluğu  $2^3$  br, diğerinin uzunluğu  $3^2$  br olan iki ayakkabı aşağıda verilmiştir.



Bu ayakkabıları giyen iki kişi aşağıdaki gibi karşılıklı durduklarında ayak uçları arasındaki mesafe 237 br oluyor.



Bu iki kişi birbirlerine doğru aşağıdaki gibi birer ayak ilerlediklerinde ayak uçları aralarındaki mesafe ölçülüyor.



Buna göre son durumda aralarındaki mesafe kaç birimdir?

- A) 254                      B) 236                      C) 230                      D) 220

14.  $7 \times 7 \times 7 = \triangle^3$ ,  
 $5 \times 5 = 5 \bullet$  eşitlikleri veriliyor.

Buna göre  $\triangle$  ve  $\bullet$  sembollerine karşılık gelen sayıların toplamı aşağıdakilerden hangisidir?

- A) 6                      B) 7  
 C) 8                      D) 9

15.  $(346 - 227) \times 3^2$  işleminin sonucu kaçtır?

- A) 714                      B) 774  
 C) 1071                      D) 1161

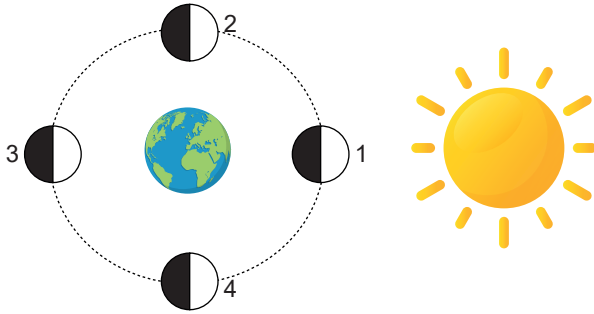


## İZLEME SINAVI - 1

1. Güneş, Dünya ve Ay'ın hareketleriyle ilgili olarak aşağıdakilerden hangisi doğrudur?

- A) Güneş, kendi eksenini etrafında saat yönünde döner.  
B) Ay, Dünya ile birlikte Güneş'in etrafında saat yönünün tersine dolanır.  
C) Dünya, Ay'ın etrafında dolanma hareketi yapar.  
D) Ay, kendi eksenini etrafında dolanma hareketi yapar.

2. Güneş, Dünya ve Ay'ın uzaydan görünüşleri verilmiştir.



Ay'ın verilen konumlarıyla ilgili olarak aşağıdaki ifadelerden hangisi yanlıştır?

- A) Ay, 2 numaralı konumda son dördün evresindedir.  
B) Ay, 1 numaralı konumdayken Dünya'dan görülmez.  
C) 3 numaralı konumda, Ay'ın Dünya'ya bakan kısmı tamamen aydınlıktır.  
D) Ay, 1 numaralı konumdan 3 hafta sonra 4 numaralı konumda bulunur.

3. Aşağıda verilen özelliklerden;

- I. Katmanlardan oluşması  
II. Küresel şekle sahip olması  
III. Dolanma hareketi yapması  
IV. Isı ve ışık kaynağı olması

hangileri Dünya ve Güneş için ortak değildir?

- A) I ve II  
B) III ve IV  
C) I, III ve IV  
D) II, III ve IV

4. Galileo, 1612 yılında kendi yaptığı teleskopla kâğıt üzerine düşürdüğü görüntülerde Güneş lekelerini gözlemlemiştir. Gözlemleri sonucunda Güneş lekelerinin aynı yöne doğru kaydığını fark etmiştir.



Galileo, bu gözlemiyle hangi sonuca ulaşmıştır?

- A) Güneş lekeleri meteor çarpması sonucunda oluşan kraterlerdir.  
B) Güneş lekeleri etraflarına göre daha soğuk olan bölgelerdir.  
C) Güneş, kendi eksenini etrafında dönme hareketi yapar.  
D) Güneş'in iç kısmının sıcaklığı yüzey sıcaklığından fazladır.

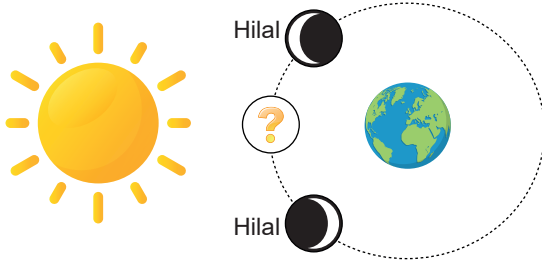
5. Güneş, Ay'dan çok daha büyük bir gök cismi olmasına rağmen Dünya'dan bakıldığında her ikisi de hemen hemen aynı büyüklükte görülür. Bunun sebebi Ay'ın Dünya'ya Güneş'ten daha yakın olmasıdır.

Aşağıda verilenlerden hangisi bu durumla benzerlik göstermez?

- A) Uçakta yolculuk yaparken aşağıya bakıldığında evlerin çok küçük boyutlarda görülmesi.  
B) Elimizden kaçırdığımız uçan balonun gökyüzüne çıktıkça küçük görülmesi.  
C) Yüksek katlı binaların balkonlarından aşağıya bakıldığında insanların küçük görülmesi.  
D) Yan yana duran otomobil ve kamyonu uzaktan bakıldığında otomobilin daha küçük görülmesi.



6. Halil Öğretmen fen bilimleri dersinde iki hilal evresi arasında Ay'ın Dünya'dan nasıl görüldüğünü sormuştur.



Ayça soruya doğru yanıt verdiğiğine göre hangi seçenekteki evreyi işaretlemiştir?

- A)  B)   
C)  D) 

7. Dünya, Güneş'in etrafında dolanma, kendi eksen etrafında dönme hareketi yapar.

Dünya, Güneş'in etrafında 1 tam tur dolandığında kendi etrafında kaç kez döner?

- A) 1 B) 12  
C) 52 D) 365

8. Ay'ın atmosferi yok denecek kadar azdır.

Buna göre aşağıdakilerden hangisi Ay'da gözlemlenebilecek bir durum değildir?

- A) Yağmur nedeniyle kraterlerin suyla dolması.  
B) Meteor çarpması sonucu krater oluşması.  
C) Astronotların ayak izlerinin bozulmadan kalması.  
D) Gece ve gündüz arasında yüksek sıcaklık farklarının oluşması.

9. 20 Temmuz 1969'da Neil Armstrong, Apollo 11 uzay aracı ile Ay'a gitmiş ve Ay'a ilk ayak basan kişi olmuştur. Armstrong'un ardından birçok astronot gözlem yapmak için Ay'a gitmiştir. Ay'a sonradan gözlem için giden astronotlar Armstrong'un çektiği Ay yüzeyi fotoğraflarını gözlemleriyle karşılaştırdıklarında, bazı ayak izlerinin hiç değişmeden kaldığını, bazılarının yok olduğunu görmüşlerdir.

**Armstrong'un ayak izlerinden bazılarının yok olmasının nedeni aşağıdakilerden hangisi olabilir?**

- A) Ay'da rüzgâr ve yağmur gibi hava olaylarının görülmesi.  
B) Ay'da gece ve gündüz sıcaklık farkının fazla olması.  
C) Atmosfer yapısı nedeniyle çok fazla meteor çarpması.  
D) Ay'ın bazı bölgelerinde çekim kuvvetinin fazla olması.

10. Canlıların belli özelliklerine göre gruplara ayrılmasına **sınıflandırma** denir.

**Buna göre aşağıda verilen örneklerin hangisini canlıların sınıflandırılmasına benzetebiliriz?**

- A) Apartmandaki dairelere kapı numarası verilmesi.  
B) Marketlerdeki ürünlerin özelliklerine göre reyonlara konulması.  
C) Otoparklarda arabaların düzenli şekilde park edilmesi.  
D) Beden eğitimi dersinde öğrencilerin boy sırasına göre dizilmesi.

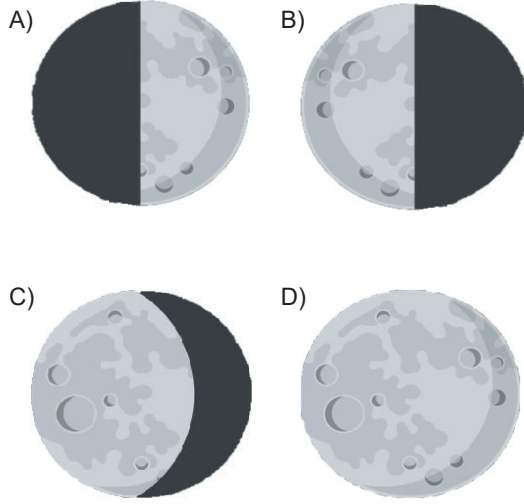
11. Ay'ın kendi eksen etrafında dönme süresi ile Dünya etrafında dolanma süresi aynıdır. Yaklaşık 29,5 gün süren bu durum nedeniyle .....

**Verilen metinde boş bırakılan kısma aşağıdaki ifadelerden hangisi getirilmelidir?**

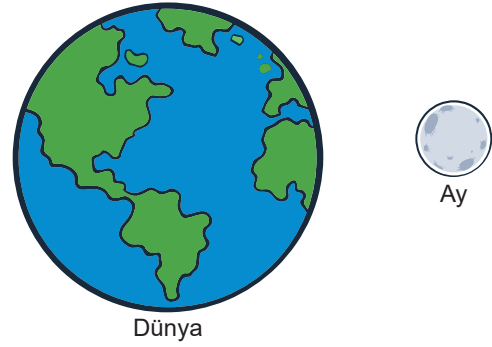
- A) Dünya'dan bakıldığında Ay'ın sürekli aynı evresi gözlenir.  
B) Ay'ın diğer yüzüne Güneş ışınları hiç ulaşmaz.  
C) Dünya'dan bakıldığında Ay'ın hep aynı yüzü görülür.  
D) Dünya'da gece gündüz oluşumu gerçekleşir.

12. Aşağıda Ay'ın evreleri verilmiştir.

Buna göre hangi seçenekte ara evre görseli verilmiştir?



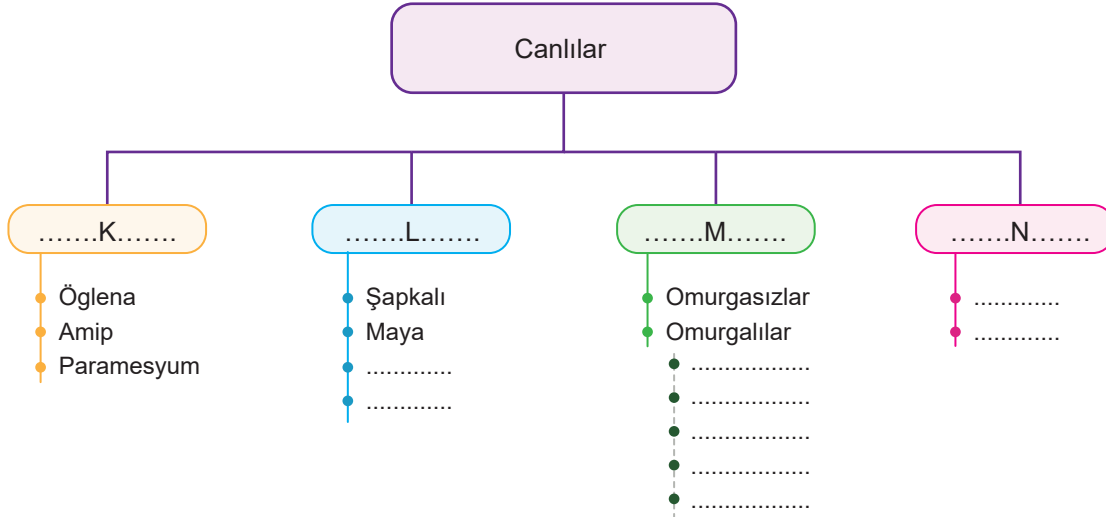
13. Aşağıdaki görselde Dünya ve Ay modelleri verilmiştir.



Dünya ve Ay'la ilgili yapılan yorumlardan hangisi yanlıştır?

- A) Dünya ve Ay küresel şekle sahiptir.
- B) Dünya ve Ay ışık kaynağıdır.
- C) Güneş etrafında dolanırlar.
- D) Kendi eksenleri etrafında dönerler.

14. Ali Öğretmen, fen bilimleri dersinde canlılar ünitesini işlerken aşağıdaki kavram haritasını oluşturmuştur.

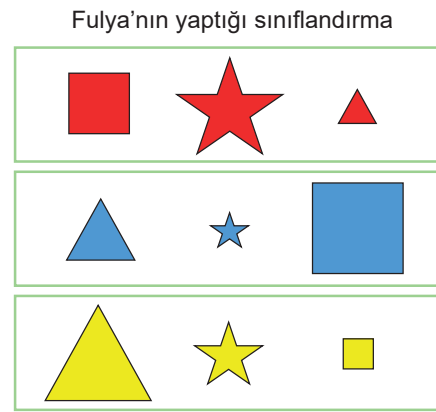
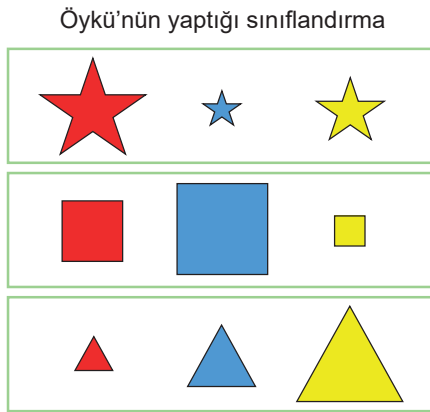
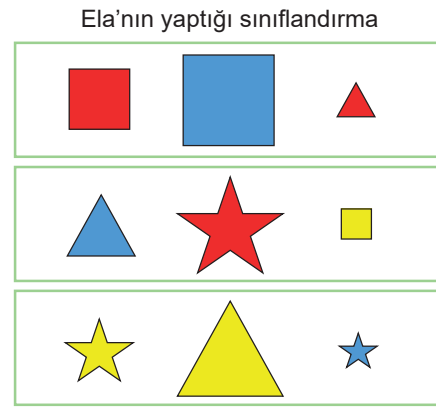
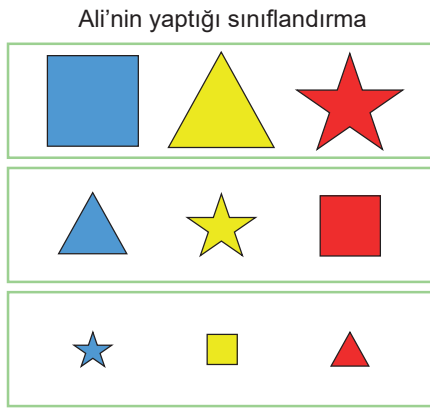



Ali Öğretmen öğrencilerinden K, L, M, N harfleri yerine yazılacak ifadeleri tahmin etmelerini istemiştir.

Buna göre aşağıdaki tahminlerden hangisi doğrudur?

K	L	M	N
A) Mikroskopik canlılar	Mantarlar	Hayvanlar	Bitkiler
B) Hayvanlar	Bitkiler	Mantarlar	Mikroskopik canlılar
C) Mikroskopik canlılar	Bitkiler	Hayvanlar	Mantarlar
D) Bitkiler	Mantarlar	Hayvanlar	Mikroskopik canlılar

15. Fen bilimleri dersine farklı şekil, renk ve büyüklükte cisimler getiren Fahri Öğretmen öğrencilerinden bu cisimleri sınıflandırmalarını istemiştir.



Buna göre yapılan sınıflandırmalar ile ilgili aşağıdaki yorumlardan hangisi yanlıştır?

- A) Öğretmen cisimleri boyutlarına göre sınıflandırmalarını istemişse Ali doğru sınıflandırma yapmıştır.  
 B) Fulya cisimleri renklerine göre sınıflandırmayı doğru yapmıştır.  
 C) Öğretmen cisimleri şekillerine göre sınıflandırmalarını istemişse Öykü doğru sınıflandırma yapmıştır.  
 D) Öğretmen cisimleri renklerine göre sınıflandırmalarını istemişse Ela doğru sınıflandırma yapmıştır.





## SİVAS MİLLÎ EĞİTİM MÜDÜRLÜĞÜ



Kurslarda Öğretimin Planlanması ve Rehberlikte Üstünleşme



Köprü Projesi Youtube Kanalı

sivasmem

