

Yeni Müfredat

# SINIF İÇİ ÖLÇME ETKİNLİKLERİ

# 5



Sosyal Bilgiler  
5. Sınıf


SB.5.2.4

ÜLKEMİZE KOMŞU  
DEVLETLER



A) Aşağıda verilen kavramlar arasında bağımsızlık sembollerimiz olanları "✓"sembolü ile işaretleyiniz.

a.



# İstiklal Marşımız


**b.**



## Doğal Varlıklar



C.



**Dilimiz  
Türkçe**

d.



## Para Birimimiz



**B) Ülkemizin komşularını harita üzerinde uygun yerlere yazınız.**



**C) Yukarıdaki haritaya bakarak aşağıdaki soruları cevaplayınız.**

1. En uzun kara sınırına sahip komşumuz hangisidir? Yazınız.

**CEVAP:**

[illegible]

2. Ülkemizin batısında yer alan sınır komşularımız hangileridir? Yazınız.

**CEVAP:**


[illegible]

3. Ülkemizin güneyinde yer alan sınır komşularımız hangileridir? Yazınız.


### CEVAP:

[illegible]

D) Aşağıda ülkemizin komşularından bazıları hakkında bilgiler verilmiştir. Tabloda verilen bilgilerle ülkeleri doğru şekilde eşleştiriniz.




Ülkemizle arasındaki en işlek geçiş noktası Artvin ilimizdeki Sarp Sınır Kapısı'dır.



Türkiye Cumhuriyeti'nin kurucusu olan Mustafa Kemal Atatürk'ün doğduğu Selanik şehri bu ülkenin sınırları içinde bulunmaktadır.



Ülkemizin batısında yer alan iki komşu ülkeden biridir. Başkenti Sofya'dır.



Başkenti Bağdat'tır. Bu komşumuz ile aramızda güçlü tarihî ve kültürel bağlar vardır.

1.

2.

3.


4.



BULGARİSTAN



YUNANİSTAN



GÜRCİSTAN



IRAK

E) Başkentlerinden görüntüler verilen komşularımızın adlarını doğru şekilde yazınız.



a) Atina

(.....)




b) Bakü

(.....)



c) Tiflis

(.....)



d) Sofya

(.....)

**F) Aşağıdaki metni okuyunuz. Metinden hareketle açık uçlu soruları cevaplayınız.**

Halkın heyecan ve millî duygularını canlı tutmak, millî birlik ve beraberliğini sağlamak, vatan ve millet sevgisini güçlendirmek için ordunun ve halkın moralini yükseltecek millî marş yazılması fikri gündeme geldi. Bu amaçla Millî Eğitim Bakanlığı (Maarif Vekaleti), 1920 yılının Ekim ayında bir yarışma düzenleyerek kazanan kişiye 500 lira ödül verileceğini gazeteler aracılığıyla halka duyurmuştur. Yarışmaya 700'den fazla eser katılmıştır. Ancak bu eserler arasında milli duyguları dile getirme konusunda ustalığını kanıtlamış Mehmet Akif (Ersoy) Bey'in şiiri yoktur. Mehmet Akif Bey, millete ait olacak ulusal bir marşın para karşılığı yazılması fikrine karşı çıkmış ve bu nedenle yarışmaya katılmamıştır. Ödül konusundaki endişeleri giderilen Mehmet Akif'in yazdığı şiir, 12 Mart 1921 tarihinde TBMM tarafından millî marş olarak kabul edilmiştir. Mehmet Akif, yarışmada ödül olarak verilen 500 lirayı almamış, yoksul kadın ve çocukları meslek sahibi yapmak için kurulmuş Darülmesai adı verilen bir hayır kurumuna bağışlamıştır.

a) Ülkemizde o dönemde milli marş yazılmak istenmesinin gerekçeleri nelerdir ? Yazınız.

### CEVAP:

[illegible]

b) Mehmet Akif ilk başta şiir yarışmasına neden katılmak istememiştir? Yazınız.

**CEVAP:**

[illegible]

c) İstiklal Marşımız milletimiz için ne ifade etmektedir? Düşüncelerinizi açıklayınız.

**CEVAP:**

[illegible]

**G) Aşağıdaki afişte Azerbaycan'a ait boş bırakılan özellikleri uygun şekilde doldurunuz.**

The infographic features a central map of Turkey with the national flag's colors (blue, red, and green). Surrounding the map are five circular icons, each with a label and a sub-question:

- Yönetim Şekli** (Form of Government): Icon shows a hand putting a ballot into a box. Sub-question: **a) .....**
- Başkenti** (Capital): Icon shows a group of people. Sub-question: **a) .....**
- Nüfusu** (Population): Icon shows a group of people. Sub-question: **c) 465,194 (2022)**
- Resmî Dili** (Official Language): Icon shows a group of people. Sub-question: **d) .....**
- Para Birimi** (Currency): Icon shows a Turkish Lira banknote. Sub-question: **e) .....**



1. Mustafa Kemal, İzmir'in kurtuluşu sonrası 10 Eylül 1922'de İzmir'e ulaştığında İzmirlilerin bir sürprizi ile karşılaştı. Karşıyaka'da kendisi için bir ev ve bu eve ulaşması için çiçek buketi gibi görünen bir de otomobil hazırlanmıştı. Yunan Kralı Konstantin'in de konakladığı Beyaz Köşk'e doğru yola çıkılmıştı. Konvoy, Köşk'ün önünde durdu. Mustafa Kemal otomobilden indi. Köşk'ün merdivenlerinden çıktı ve birden durdu. Mustafa Kemal sordu:

– Bu nedir?

Orta yaşlı bir kadın cevap verdi:

Yunan bayrağı Paşa'm!.. Bu eve yerleşen Yunan Kralı Konstantin; buraya ilk geldiğinde, bu taşlığa serilen Türk bayrağını çiğneyerek geçmişti.

– Hata etmiş. Ben bu hatayı tekrar edemem. Bayrak milletin şerefidir. Ne olursa olsun, yerlere serilmez ve çiğnenmez. Kaldırınız!..

**Bu olaydan hareketle Mustafa Kemal ile ilgili;**

I. Bayrak konusunda duyarlı bir kişiliğe sahip olduğunu göstermiştir.

II. Konstantin'in bayrağımıza karşı tutumunu yanlış bulmuş aynı yanlış kendisi tekrar etmemiştir.

III. Bayrağın milletler için kutsal bir değer ifade ettiğini vurgulamıştır.

**yargılarından hangilerine ulaşılabilir?**

A) I ve II

B) I ve III

C) II ve III

D) I, II ve III

2.



Yukarıdaki haritada "?" ile gösterilen yer sınır komşularımızdan hangisine aittir?

A) Gürcistan

B) Yunanistan

C) Ermenistan

D) Irak

3. Ülkemizin üç tarafı denizlerle çevrilidir. Ülkemizin toprakları Asya ve Avrupa kıtalarında bulunmaktadır. Ülkemizin Asya topraklarına Anadolu, Avrupa topraklarına Trakya denmektedir. Ülkemizin kara sınırlarında birçok devlet bulunmaktadır. Bu sınır devletleri ülkemizin komşularıdır.

**Buna göre ülkemizin komşuları arasında;**

I. İran,

II. Gürcistan,

III. Kazakistan,

IV. Bulgaristan

**devletlerinden hangileri yer almaz?**

A) Yalnız III

B) I ve II

C) I, II ve III

D) I, II ve IV



# SOSYAL BİLGİLER

## T.C. İNKILAP TARİHİ ve ATATÜRKÇÜLÜK



Mustafa PETEK

Değerli Arkadaşlarım;

Alanımıza katkı sunmak, öğrencilerimize destek olmak ve öğretmen arkadaşlarımızın öğretim süreçlerini verimli kullanmalarını sağlamak amacıyla hazırlamış olduğum tüm çalışmalara "SosyalKampüs" instagram sayfasından ulaşabilirsiniz.