

TÜRKÇE TESTİ

1. Aşağıdaki cümlelerin hangisinde ikileme cümleye "yaklaşık olarak" anlamı katmıştır?

- A) Burada iyi kötü bir işim var.
- B) Kendine doğru dürüst bir iş bulsaydın.
- C) Aşağı yukarı beş günde bu işi bitiririz.
- D) Bütün işçiler gece gündüz demeden çalıştı.

2. Aşağıdaki cümlelerin hangisinde "çocuk" kelimesi, ötekilerden farklı anlamda kullanılmıştır?

- A) Çocuk, dil bilincini küçük yaşlarda kazanır.
- B) Otuz yaşına geldi, ama hâlâ çocuk o.
- C) Bu çocuk neden ağlayıp duruyor?
- D) Savaşlar çocukları olumsuz etkiliyor.

3. Aşağıdaki dizelerin hangisinde deyim kullanılmamıştır?

- A) Eğil de kulak ver, bu sessiz yığın
Bir vatan kalbinin attığı yerdir
- B) Ağız dil vermeyen köylüler
Odun mu, tuz mu, hasta mı götürürler
- C) Arabaya taş koydum
Ben bu yola baş koydum
- D) Bende hiç tükenmez bir hayat vardı
Kırlara yayılan ilkbahar gibi

4. Akşam olunca herkes evine çekildi.

"Çekilmek" sözcüğü, aşağıdaki cümlelerin hangisinde bu cümledeki anlamıyla kullanılmıştır?

- A) Yemekten sonra çayını alan bir köşeye çekildi.
- B) Sıcaklar arttıkça karlar tepelere çekildi.
- C) Ağır kayıp veren düşman geri çekildi.
- D) Yaz kurak geçince, kuyuların suyu bile çekildi.

5. Hiçbir çileye katlanmadan hangi işin üstesinden gelinmiş?

Bu cümleyle anlatılmak istenen aşağıdakilerden hangisidir?

- A) Her işin zamanında yapılması gerektiği
- B) Sıkıntıların, yapılan işin değerini artırdığı
- C) Sıkıntı çekilmeden bir iş yapılamayacağı
- D) Sıkıntıların iş yapmaya engel olduğu

6. Kendi gücümüzün dışında, bir başka varlığa, bir kimseye güvenmememiz gerektiğini öğütleyen atasözü aşağıdakilerden hangisidir?

- A) Dostluk başka, alışveriş başka.
- B) Ağaca dayanma kurur, insana dayanma ölür.
- C) Ateş düştüğü yeri yakar.
- D) Kişi ne yaparsa kendine yapar.

7. (1) Milletler ana dillerine özel önem verir. (2) Çünkü ana dil, milletin varlığı ile doğrudan ilişkilidir. (3) Ancak Türkçe, dil bilgisi kuralları içinde değil, söze dayalı metinler aracılığıyla öğrenciye verilmelidir. (4) Bu metinler, masallar, halk hikâyeleri, atasözleri, deyimler, bilmeceler, tekerlemeler olmalıdır. (5) Dilin büyüğü dünyası bu metinlerle öğrenciye hissettirilmelidir.

Bu parçada numaralanmış cümlelerin hangisinden itibaren öneri söz konusudur?

- A) 2. B) 3. C) 4. D) 5.

8. Aşağıdaki cümlelerin hangisinde bir görüş ileri sürülmemiştir?

- A) Önümüzdeki hafta sıcaklar artacakmış.
B) Kişi, hatalarından ders alırsa başarılı olur.
C) Kazaların önlenmesi için sürücüler bilinçlendirilmelidir.
D) Çocuklara, kitap okuma alışkanlığı küçük yaşlarda kazandırılabilir.

9. (1) Yazı yazmaya başlayalı tam yirmi yıl oldu. (2) Başlangıçta şiir denemelerim oldu; ama bu, içime sinmedi. (3) Şiirde başarılı olamayacağımı anlayınca öyküde karar kıldım. (4) Sanırım öykülerimdeki şiirsel anlatım, şiirle uğraşmamdan olsa gerek.

Bu parçada numaralanmış cümlelerin hangisinde gereksiz sözcük kullanılmasından kaynaklanan bir anlatım bozukluğu vardır?

- A) 1. B) 2. C) 3. D) 4.

10. Günün son turuncu ışığı sönmek üzereydi. Denizin mavisi koyulaşmıştı. Dalga başlarında ise çakmak çakılıyormuş gibi turuncu kıvılcımlar uçuyordu. Ufkun üzerinde parıldayan akşam yıldızı gökte bir gülüştü sanki.

Bu parçanın anlatımında aşağıdakilerden hangisi ağır basmaktadır?

- A) Öyküleyici anlatım
B) Betimleyici anlatım
C) Açıklayıcı anlatım
D) Tartışmacı anlatım

11. Duymak ile dinlemek birbirinden farklı kavramlardır. Duymak, ses dalgalarının işitme organlarıyla algılanması demektir. Duymak, herhangi bir şeyin çıkardığı sesleri, sözleri, müziği işitmedir. Dinlemek ise sesleri duymak, anlamak ve saklamak için dikkati onun üzerinde yoğunlaştırmaktır. Bir ses, gürültü ya da müzik duyulabilir. Ancak bunlara istekle kulak vermek birer dinlemedir.

Bu paragrafa en uygun başlık aşağıdakilerden hangisi olabilir?

- A) Dinlemenin Önemi
B) Duyma Biçimleri
C) Duyma ve Dinleme
D) Duyma ve Dinlemenin Yararları

12. Nasrettin Hoca, kişilik özellikleriyle, günlük yaşamı içindeki Anadolu insanının simgesidir. Bilgin, zeki, doğru ve açık sözlü biridir. Yoksuldur, odununu dağdan kendisi getirir. Buğdayını değirmene kendisi götürür. Aynı zamanda her şeyi anlayışla karşılayan, sabırlı ve hazırcevap biridir.

Bu parçada Nasrettin Hoca'yla ilgili olarak aşağıdakilerden hangisine değinilmemiştir?

- A) Dünyaca tanınan biri olduğuna
- B) Hoşgörülü olduğuna
- C) Anadolu insanını temsil ettiğine
- D) Yerinde ve çabuk cevaplar verdiğine

14. Yaşar Kemal'e şair sıfatını yükleyen ben değilim. Sanat dünyasında bu konuda genel bir düşünce oluşmuştur. Bu, bir dönem halk şiiri ve ağıt derlemeciliği yapmasından kaynaklanabilir. Destansı öykülerinde şiirsel bir anlatım kullanması da etkili olmuştur şair olarak anılmasında. Belki de bunda günümüzde pek bilinmeyen ilk şiir denemelerinin payı da vardır.

Bu paragrafta yazar, aşağıdakilerin hangisinden söz etmektedir?

- A) Yaşar Kemal'in, eserlerinde kullandığı şiirsel anlatımdan
- B) Yaşar Kemal'in yazdığı güzel şiirlerden
- C) Yaşar Kemal'in şiirlerinde işlediği konulardan
- D) Yaşar Kemal'e şair denme nedenlerinden

13. Alıp verir dizlerimin yelini
Eğdin de boyumu, büktün belimi
Yakın iken uzak ettin yolumu
Günlük yolum oldu ay ihtiyarlık

Bu dörtlüğün şairi, aşağıdakilerin hangisinden şikâyet etmektedir?

- A) Zamandan
- B) Yaşlılıktan
- C) Yalnızlıktan
- D) İlgisizlikten

15. İlköğretimin en büyük amaçlarından biri öğrencilerin okuma becerilerini geliştirmektir. Böylece düşünen, anlayan, eleştiren, tartışan öğrenciler yetiştirilmiş olacak. Bu öğrenciler, ön bilgileriyle okudukları arasında ilişkiler kuracak, yeni anlamlara ulaşan okuyucular hâline geleceklerdir.

Bu parçaya göre, aşağıdakilerden hangisi okuma becerilerinin gelişmesiyle öğrencilerin kazandıkları arasında sayılmamıştır?

- A) Yaşama farklılık katma
- B) Düşünen bireyler olma
- C) Okuduklarını yorumlama
- D) Eleştiri becerisi kazanma

16. (1) Okumak için kitap seçimi kadar, kitap okuma biçimi de önemlidir. (2) Örneğin hikâye ve romanlardaki okuma anlayışını, ciddi kitaplar karşısında sürdüremeyiz. (3) Bu açıdan düşünce kitaplarını daha dikkatli bir şekilde okumalıyız. (4) Okuma yeteneğinin gelişmesi için, hemen her kesimde yeni bir "okuma" seferberliği başlatılmalıdır. (5) Böylece toplumda güncel konulara; tarihî, kültürel değerlendirmelere daha geniş kesimlerin katılabilmesi de mümkün olacaktır.

Bu parça, açıklanan düşünceler bakımından iki paragrafa ayrılmak istendiğinde, ikinci paragraf hangi numaralı cümleyle başlar?

- A) 2 B) 3 C) 4 D) 5

18. Aşağıdaki cümlelerin hangisinde noktalama yanlışı yapılmıştır?

- A) 1999'da Moda'da otururken buraya sık sık gelirdik.
B) O, gece - gündüz şiir düşünen, şiir yazan biridir.
C) Ben, bu sanatçıyı "Akıncı" şiirini okuyunca sevdim.
D) Kişi, hatalarının farkına varmaz mı hiç?

17. Senin oturduğun şehirde,
Gökyüzü mavidir benimkinden.
Çiçekler daha taze,
Kuşlar bile güzeldir birbirinden.

(Cahit Külebi)

Bu dördlük için aşağıdakilerden hangisi söylenemez?

- A) Karşılaştırma yapılmıştır.
B) Birden çok zamire yer verilmiştir.
C) Hem basit hem birleşik sözcük vardır.
D) Redif kullanılmamıştır.

19. Aşağıdaki cümlelerin hangisinin yüklemde ek fiil vardır?

- A) Arkadaşımın elindeki, kırmızı bir güldü.
B) Evi, eşyalar gelmeden temizlemelisin.
C) Yolcular saat beş gibi İzmit'e vardı.
D) Oturma odasını krem rengine boyadı.

20. Aşağıdaki cümlelerin hangisinde yapım eki, eklendiği sözcüğün türünü değiştirmemiştir?

- A) Yaşlı adamın öğüdünü dikkatle dinledim.
- B) Olgun meyveler dalından düşüyor.
- C) Eve bir yolluk daha almak gerekiyor.
- D) Kırıcı konuşmalardan sakınmalısınız.

TÜRKÇE TESTİ BİTTİ.
CEVAPLARINIZI KONTROL EDİNİZ.

21. Aşağıdaki cümlelerin hangisinde altı çizili sözcük zaman bildirmez?

- A) Bu mahalleye yakında taşınacağız.
- B) Geldiğimde iş yerinde kimseyi bulamadım.
- C) Yazın bol bol hikâye ve roman okuyacağım.
- D) Akıllı insan elbette yarınını da düşünür.

MATEMATİK TESTİ

1. I. $(-12) \cdot (-20) \cdot (-35) \dots 0$

II. $(-100) \cdot 0 \cdot (-200) \dots 0$

III. $(-54) \cdot (-87) \dots 54 \cdot (-87)$

ifadelerinde ... yerine; =, <, > sembollerinden sırasıyla hangileri yazılmalıdır?


A) >, =, <

B) <, =, >

C) >, >, =

D) <, =, =

2.



Dört arkadaş Excel de birer adet farklı program hazırlıyor. Bu programlarda bir kutucuğa bir sayı girildiğinde aşağıdaki işlemler yapılıyor.

Gül'ün programı girilen sayıyı -2 ile topluyor.

Ayten'in programı girilen sayıdan -2 çıkarıyor.

Can'ın programı girilen sayıyı -2 ile çarpıyor.

Cenk'in programı girilen sayıyı -2 ye bölüyor.

Buna göre, bu dört kişinin yaptığı programa -8 sayısı girildiğinde kimin programında çıkan sonuç diğerlerinden daha büyük olur?

A) Gül

B) Ayten

C) Can

D) Cenk

3.

$$\frac{5}{12} + x = \frac{5}{12}$$

$$\frac{4}{5} + y = \frac{3}{5}$$

$$\frac{1}{7} + z = \frac{6}{7}$$

olduğuna göre, x, y ve z sayılarının sıralanışı aşağıdakilerden hangisidir?

A) $x < y < z$

B) $x < z < y$

C) $y < z < x$

D) $y < x < z$

4. Çarpma işlemine göre tersi $\frac{12}{23}$ olan rasyonel sayı kaçtır?

A) $\frac{21}{32}$

B) $\frac{32}{21}$

C) $\frac{23}{12}$

D) $-\frac{23}{12}$

5.

$$a = \frac{4}{4}, b = \frac{1}{2}, c = \frac{9}{8}$$

olduğuna göre, **a, b ve c** sayılarının sıralanışı aşağıdakilerden hangisidir?

A) $a < b < c$

B) $a < c < b$

C) $c < b < a$

D) $b < a < c$

6.



Depremde ağır hasar gören bir yere yardım için, 24 kişilik bir sınıftaki bazı öğrenciler 20 şer TL, geri kalan öğrenciler de 25'er TL vermiş ve sınıftan toplam 580 TL para toplanmıştır. **Buna göre, sınıfta kaç öğrenci 20 TL vermiştir?**


A) 4

B) 5

C) 6

D) 7

7.



Bülent usta birbirinin aynı 4 satranç tahtasını 8 günde bitirebildiğine göre, **bu satranç tahtalarından 12 tanesini kaç günde bitirebilir?**

A) 16

B) 24

C) 32

D) 40

8.

$$5^n + n$$

kuralı ile tanımlı sayı örüntüsünde, **üçüncü terim kaçtır?**

A) 128

B) 133

C) 144

D) 155

9.

$$x(x + 2) - x(x - 2) = 12$$

olduğuna göre, **x kaçtır?**

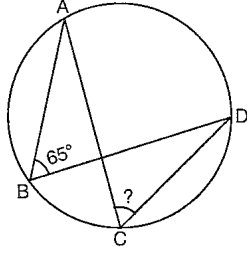
A) 1

B) 2

C) 3

D) 4

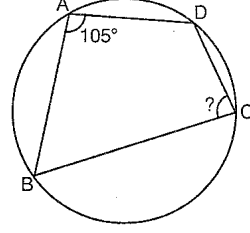
10.



Şekildeki çemberde $s(\widehat{ABD}) = 65^\circ$ olduğuna göre, $s(\widehat{ACD})$ kaç derecedir?

- A) 80 B) 75 C) 70 D) 65

12.

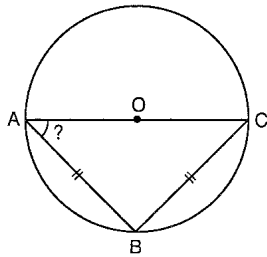


Şekildeki çemberde $s(\widehat{BAD}) = 105^\circ$ olduğuna göre, $s(\widehat{BCD})$ kaç derecedir?

- A) 80 B) 75 C) 70 D) 65

www.egitimportali.com

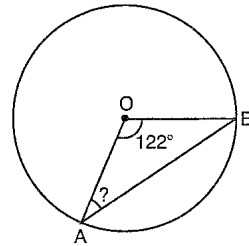
11.



Şekildeki O merkezli çemberde $|AB| = |BC|$ olduğuna göre, $s(\widehat{CAB})$ kaç derecedir?

- A) 30 B) 45 C) 60 D) 75

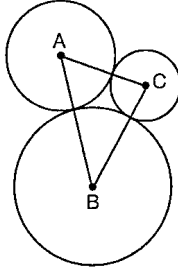
13.



Şekildeki O merkezli çemberde $s(\widehat{AOB}) = 122^\circ$ olduğuna göre, $s(\widehat{OAB})$ kaç derecedir?

- A) 29 B) 28 C) 27 D) 26

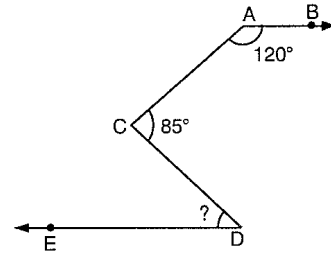
14.



Şekildeki A, B ve C merkezli çemberlerin yarıçapları sırasıyla 7 cm, 10 cm ve 5 cm olduğuna göre, **ABC üçgeninin çevre uzunluğu kaç cm dir?**

- A) 22 B) 33 C) 44 D) 55

16.

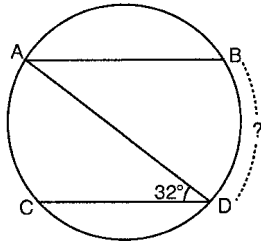


Şekilde; $[AB \parallel DE]$, $s(\widehat{BAC}) = 120^\circ$ ve $s(\widehat{ACD}) = 85^\circ$ olduğuna göre, **$s(\widehat{CDE})$ kaç derecedir?**

- A) 25 B) 30 C) 35 D) 40

www.egitimportalı.com

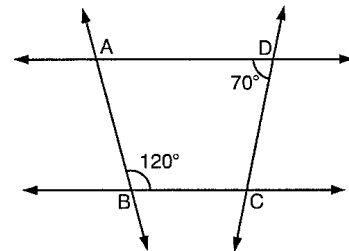
15.



Şekildeki çemberde $[AB] \parallel [CD]$ ve $s(\widehat{ADC}) = 32^\circ$ olduğuna göre, **BD yayının ölçüsü kaç derecedir?**

- A) 32 B) 48 C) 56 D) 64

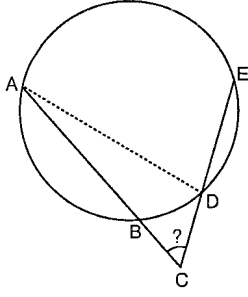
17.



Şekilde; $AD \parallel BC$, $s(\widehat{ABC}) = 120^\circ$ ve $s(\widehat{ADC}) = 70^\circ$ olduğuna göre, **$s(\widehat{BCD}) - s(\widehat{DAB})$ farkı kaç derecedir?**

- A) 40 B) 50 C) 60 D) 70

18.

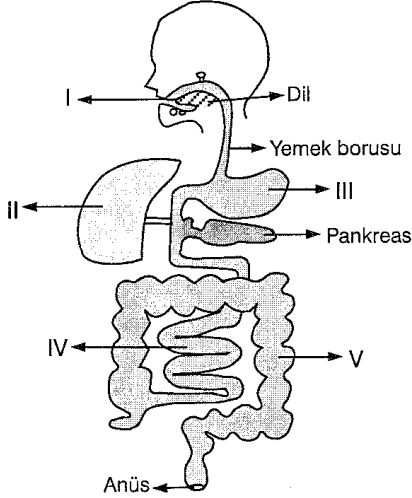


Şekildeki çemberde $s(\widehat{BD}) = 40^\circ$ ve $s(\widehat{AE}) = 150^\circ$ olduğuna göre, $s(\widehat{ACE})$ kaç derecedir?

- A) 45 B) 50 C) 55 D) 60

FEN VE TEKNOLOJİ TESTİ

1.



Sindirim sistemini gösteren yukarıdaki şekilde ağız, mide ve ince bağırsak hangisinde doğru eşleştirilmiştir?

	Mide	İnce bağırsak	Ağız
A)	I	II	III
B)	III	IV	I
C)	II	V	I
D)	I	II	V

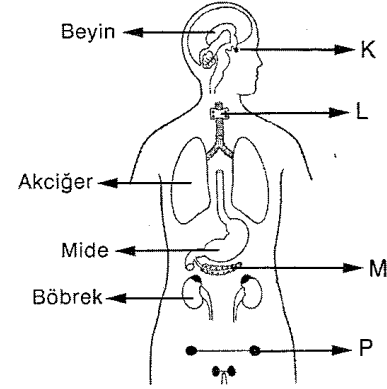
2. Vücudumuzdaki atıkların boşaltımı için;

- Su, mineral ve bir miktar ısıyı uzaklaştırma
- Karbondioksit ve su uzaklaştırma
- Proteinlerin parçalanması sırasında oluşan, zehirli maddeleri üreye dönüştürme

şeklinde görevleri yapan organlar, aşağıdakilerin hangisinde doğru eşleştirilmiştir?

	I	II	III
A)	Deri	Akciğer	Karaciğer
B)	Akciğer	Karaciğer	Deri
C)	Karaciğer	Akciğer	Deri
D)	Deri	Karaciğer	Akciğer

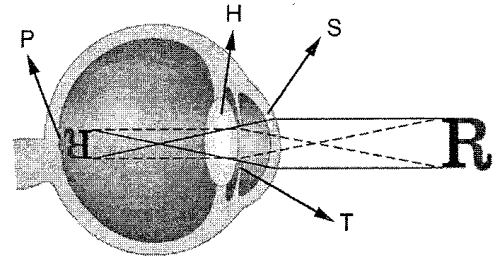
3. İç salgı bezlerimizden dört tanesi, aşağıdaki şekilde harflerle işaretlenmiştir.



Glukagon ve tiroksin hormonlarını üreten bezler hangisinde doğru eşleştirilmiştir?

	Glukagon üreten	Tiroksin üreten
A)	P	M
B)	K	L
C)	M	P
D)	M	L

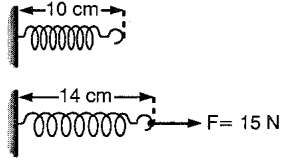
4. Gözde R harfinin görülme durumu, aşağıdaki şekilde gösterilmiştir.



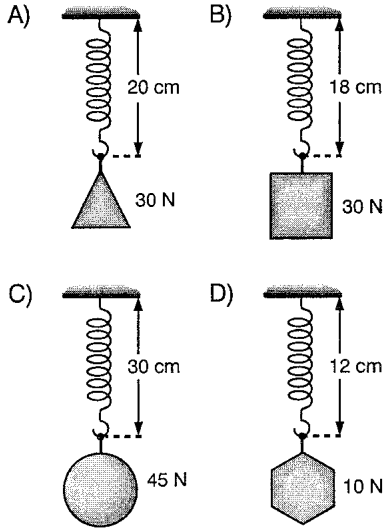
Buna göre, işaretlenen organlarda gerçekleşen olaylarla ilgili, hangi ifade doğrudur?

- P – Işığı kırma
- H – Işık uyarılarını sinirlere aktarma
- S – Işığı kırma
- T – Gözyaşı salgılama

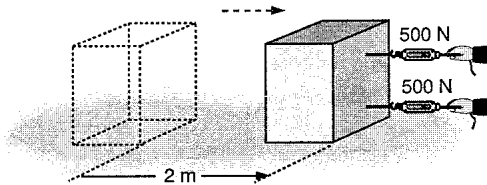
5. Aşağıdaki şekilde önce boş bir yayın boyu, sonra da bir kuvvet etkisindeki yayın boyu verilmiştir.



Buna göre, aşağıdaki durumlardan hangisinde bu yaya asılmış bir cismin meydana getireceği uzama doğru gösterilmiştir?



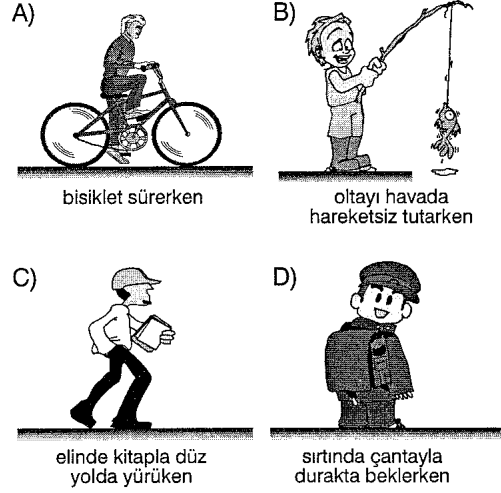
6. **Bilgi :** Bir cisim 1 N luk kuvvetle hareket doğrultusunda 1 m çekildiğinde, cisim üzerinde yapılan iş 1 J dır.



Yukarıdaki gibi bir cisim iki dinamometre ile birlikte 2 m çekildiğinde, cisim üzerinde yapılan iş kaç joule olur?

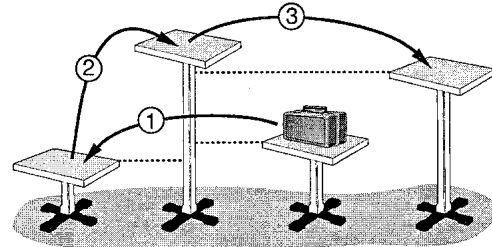
- A) 100 B) 200 C) 1000 D) 2000

7. Aşağıda verilen durumlardan hangisinde iş yapılır?



www.egitimportalı.com

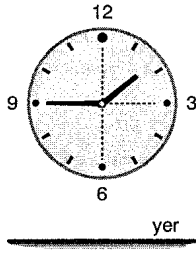
8. Bir çanta şeklindeki gibi farklı yüksekliklerdeki masalara belirtilen sırayla konuyor.



Buna göre çantanın potansiyel enerjisindeki değişim, aşağıdakilerden hangisindeki gibidir? (+ : artış ; - : azalış)

	1	2	3
A)	+	+	-
B)	-	+	-
C)	-	-	+
D)	-	+	+

9.



2'ye çeyrek kala bir duvar saatinin akrep ve yelkovanı şekildeki konumlarındadır.

Buna göre, akrep ve yelkovan ile ilgili aşağıdaki yorumlardan hangisi yanlıştır?

A)

Hem akrep hem de yelkovanın yere göre potansiyel enerjileri vardır.



B)

Yelkovanın sürati değişmez, hareket enerjisi de değişmez.



C)

Saat 2 ye gelene kadar yelkovanın potansiyel enerjisi artar.



D)

Saat 2 ye gelene kadar akrebin potansiyel enerjisi artar.



10. Bir yüzey üzerinde hareket eden cismin kinetik ve potansiyel enerjisi zamanla aşağıdaki tablodaki gibi değişiyor.

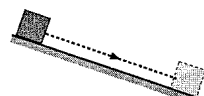
Zaman (s)	0	5	10	15	20	25	30
Kinetik enerji (J)	900	400	100	0	100	400	900
Potansiyel enerji (J)	0	500	800	900	800	500	0

Buna göre cisim, sürtünmelerin önemsenmediği aşağıdaki yollardan hangisinde hareket etmiş olabilir?

A)



B)



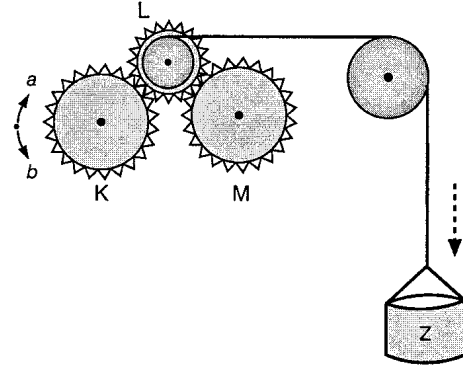
C)



D)




11.



Yukarıdaki gibi makara ve dişlilerden meydana gelen sisteme bağlı Z yükü aşağı doğru inerken K, L ve M dişlilerinin dönüş yönleri aşağıdakilerden hangisindeki gibi olur?

	K	L	M
A)	b	b	a
B)	a	a	a
C)	b	a	a
D)	b	a	b

12.



Bir bisikletli yukarıdaki gibi sabit süratle yokuş çıkıyor. Buna göre,

- Bisikletli T noktasında, en büyük mekanik enerjiye sahiptir.
- R noktasında bisikletli T noktasındakine göre daha az kinetik enerjiye sahiptir.
- P noktasında bisikletlinin kinetik enerjisi en küçüktür.
- P - R arasında bisikletlinin potansiyel enerjisi artmaktadır.

yargılarından hangileri doğrudur?

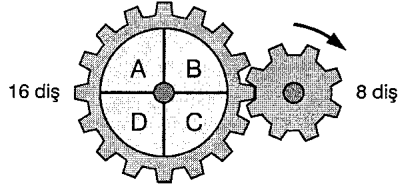
A) I ve IV

B) II ve III

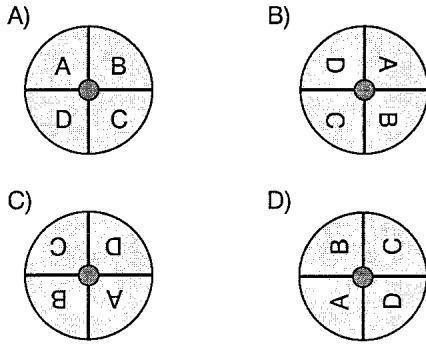
C) I, II ve III

D) I, II ve IV

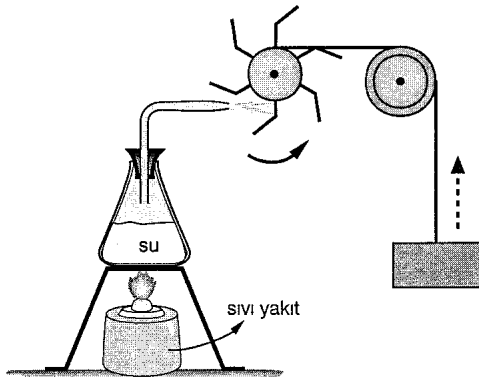
13.



Şekildeki gibi birbirine temas hâlindeki iki dişliden küçük olanı ok yönünde 2,5 tur attığında büyük dişlinin üzerindeki harflerin görünümü aşağıdakilerden hangisindeki gibi olur?



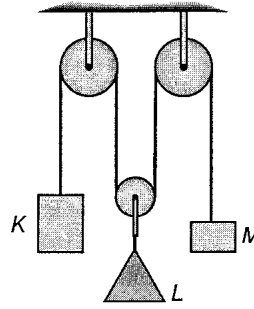
14.



Yukarıdaki sistemde gerçekleşen enerji dönüşümlerinde, aşağıda belirtilen enerji türlerinden hangisi yoktur?

- A) Potansiyel enerji B) Kinetik enerji
C) Elektrik enerjisi D) Işık enerjisi

15.



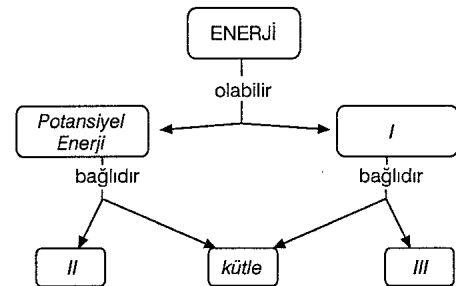
Ağırlığı ve sürtünmesi önemsiz makaralarla kurulmuş şekildeki düzenek dengededir.

Buna göre K, L ve M'nin ağırlıkları aşağıdakilerden hangileri olabilir?

	K(N)	L(N)	M(N)
A)	60	30	60
B)	15	30	15
C)	80	80	80
D)	100	50	100

www.egitimportalı.com

16.




Yukarıdaki enerji ile ilgili kavram ağında boş bırakılan yerlere, aşağıdakilerden hangileri yazılmalıdır? (K.E.:Kinetik enerji)

	I	II	III
A)	K.E.	yükseklik	sürat
B)	yükseklik	sürat	K.E.
C)	K.E.	sürat	yükseklik
D)	sürat	yükseklik	K.E.

17. Aşağıdaki ifadelerden hangisi doğru bilgi içerir?

- A) Sürtünme kuvvetinden dolayı basit makinelerde verim düşer.
- B) Basit makineler enerji tasarrufu sağlamak için kullanılan araçlardır.
- C) Sürtünmelerin önemsenmediği sistemlerde mekanik enerji korunmaz.
- D) Basit makine kullanmak her zaman kuvvetten kazanç sağlar.

18.



Bir öğrenci yukarıdaki gibi düz bir tahta, oyuncak araba ve kitaplarla şekillerdeki düzenekleri kurarak arabanın hareketlerini gözlemliyor.

Buna göre öğrenci,

- I. Eğik düzlemin yüksekliği, arabanın yere ulaşma süresini etkiler mi?
- II. Arabanın tekerleklerinin yüksekliği, hızını etkiler mi?
- III. Eğik düzlem üzerinde serbest bırakılan bir cisimde, potansiyel enerji - kinetik enerji dönüşümü gerçekleşebilir mi?
- IV. Eğik düzlemin boyu ile aracın yere ulaşma süresi arasında bir ilişki var mı?

sorularından hangilerinin cevabını bulabilir?

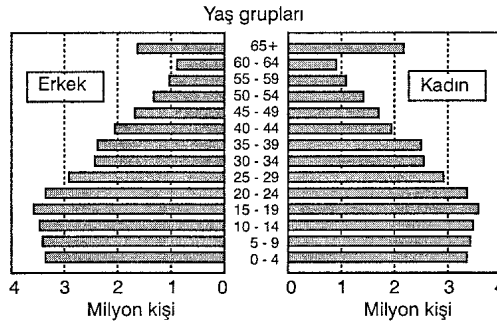
- A) Yalnız I
- B) I ve III
- C) I, II ve III
- D) I, II ve IV

SOSYAL BİLGİLER - DİN KÜLTÜRÜ VE AHLÂK BİLGİSİ TESTİ

1. İletişimle ilgili aşağıdaki yargıların hangisi yanlıştır?

- A) İletişimin temel amacı, insanlar arasındaki etkileşimi sağlamaktır.
- B) İnsanlar kitle iletişim araçları sayesinde yaşadıkları çevreyi tanır.
- C) Kitle iletişim araçları insanlar arasındaki kültür alışverişini yavaşlatmaktadır.
- D) Radyo, televizyon ve gazete gibi iletişim araçları insanlarda yeni davranışların ortaya çıkmasına neden olur.

2. Aşağıdaki grafik, 2000 yılında Türkiye nüfusunun yaş gruplarına ve cinsiyete göre dağılımını göstermektedir.



Grafikteki bilgilere göre, Türkiye nüfusuyla ilgili aşağıdakilerden hangisi öğrenilemez?

- A) Toplam kadın nüfus sayısı
- B) 20 yaşından küçük olan erkek nüfus sayısı
- C) 10 - 14 yaş grubundaki nüfus miktarının toplam nüfusa oranı
- D) 0 - 4 yaş grubunda nüfus miktarındaki artış oranı

3. Ülkemizde yıllık yağış miktarının az, kuraklığın fazla olduğu yerler seyrek nüfuslanmıştır.

Aşağıdakilerden hangisi, yukarıdaki açıklamada belirtilen yerlere örnek olarak gösterilebilir?

- A) Tuz Gölü çevresi
- B) Menteşe Yöresi
- C) Hakkâri Yöresi
- D) Zonguldak ve çevresi

4. Aşağıdakilerden hangisi, bir yerleşim merkezinin aşırı nüfuslanmasının beraberinde getireceği sorunlar arasında gösterilemez?

- A) Çevre kirliliğinin artması
- B) Trafik sorunlarının artması
- C) Yeni iş kollarının ortaya çıkması
- D) Alt yapı yatırımlarının yetersiz kalması

5. Türklerin Anadolu'ya yerleşmek için yaptıkları akınlar Çağrı Bey'in 1015 yılındaki Doğu Anadolu seferi ile başlamıştır. Ancak Türklerin Anadolu'ya yerleşmeye başlaması daha çok Malazgirt Savaşı'ndan sonra olmuştur.

Bu bilgilere bakarak aşağıdaki yargılardan hangisine ulaşılabilir?

- A) Çağrı Bey, Türklerin Anadolu'ya yerleşmesine karşı çıkmıştır.
- B) Türkler Anadolu'ya yerleşmekte isteksiz davranmıştır.
- C) Haçlı Seferleri hedefine ulaşamamıştır.
- D) Malazgirt Savaşı, Türklerin Anadolu'ya yerleşmesini engelleyen unsurları ortadan kaldırmıştır.

6. "Türkiye Selçukluları Dönemi'nde halk; şehirli-ler, köylüler ve konargöçerler olmak üzere üçe ayrılırdı. Şehirli-ler; ticaret, zanaat, devlet me-murluğu, köylüler; çiftçilik, konargöçerler ise hayvancılıkla uğraşırlardı."

Türkiye Selçukluları hakkında verilen yukarıdaki bilgiler için en uygun başlık hangisi olabilir?

- A) Din ve inanış
- B) Siyasi ve askeri durum
- C) Sosyal ve ekonomik hayat
- D) Bilim ve sanat alanındaki gelişmeler

8. Haçlı Seferleri Anadolu, Suriye ve Filistin'de büyük yıkımlara, yağma ve katliamlara neden olmuştur. Bununla birlikte Avrupalılar ile Müslümanlar arasında ticaretin gelişmesine, Avrupalıların bilim ve teknik alanında pek çok yeniliği öğrenmelerine ortam hazırlamıştır.

Bu bilgilere bakarak Haçlı Seferleri hakkında aşağıdaki yorumlardan hangisi yapılabilir?

- A) Dini ayrılıkları artırmıştır.
- B) Ekonomik nedenlerle yapılmıştır.
- C) Hem olumlu hem de olumsuz sonuçları olmuştur.
- D) Avrupalıların, Müslümanlara üstünlük kurmalarını sağlamıştır.

7. Malazgirt Savaşı'ndan sonra;

- Türk komutanlarının Ege kıyılarına kadar ilerlemesi
- Medrese, cami, kervansaray gibi mimari eserlerin yapılarak Anadolu topraklarının imar edilmesi

gibi gelişmeler aşağıdakilerden hangisini sağlamış olamaz?

- A) Anadolu'nun Türkleşmesini
- B) İslam devletlerinin tek bir yönetim altında toplanmasını
- C) Anadolu'nun ekonomik ve kültürel yönlerden ilerlemesini
- D) Türklerin denizcilikle uğraşmaya başlamasını

9. Ankara Savaşı'nı kazanan Timur, Yıldırım Bayezid'in ortadan kaldırdığı Anadolu Türk beyliklerinin yeniden kurulmalarını sağlamıştır.

Timur'un bu yolla,

- I. Osmanlı Devleti'nin güçlenmesini önleme
- II. Rumeli'de egemenlik kurma
- III. Anadolu'daki etkinliğini artırma

hedeflerinden hangisi ya da hangilerine ulaşmak istediği söylenebilir?

- A) Yalnız II
- B) I ve III
- C) II ve III
- D) I, II ve III

10. Osmanlı Devleti, Balkanlarda fethedilen topraklara konargöçer Türkmenleri yerleştirmiştir.

Osmanlı Devleti'nin takip ettiği bu iskan politikasının aşağıdakilerden hangisi üzerinde etkili olduğu savunulamaz?

- A) Balkanların Türkleşip İslamlaşması
- B) Anadolu'da Türk siyasi birliğinin kurulması
- C) Fethedilen toprakların elde tutulması ve güvenliğinin sağlanması
- D) Batı yönündeki fetih hareketlerinin kolaylaşması

11. Osmanlı Devleti'nin en önemli askeri kuvveti olan tımarlı sipahilerin giderleri, devlete ait dirlik topraklarından elde edilen vergi gelirleri ile karşılanmıştır.

Bu uygulamanın aşağıdakilerden hangisine katkıda bulunması beklenebilir?

- A) Ordunun savaş gücünün azalmasına
- B) Osmanlı Devleti'nin İpek Yolu üzerindeki etkinliğinin artmasına
- C) Askeri birliklerin, Avrupa örnek alınarak oluşturulmasına
- D) Osmanlı hazinesinden ülke savunması için ayrılan payın azalmasına

12. Divan-ı Hümayun'un aşağıdaki özelliklerinden hangisi, yüksek mahkeme gibi çalıştığına kanıt olarak gösterilebilir?

- A) Kadıların verdiği kararlara yapılan itirazların son inceleme yeri olması
- B) Devletin gelir giderlerinin görüşülmesi
- C) Sefer ve savaş hazırlığına karar verilmesi
- D) Fatih döneminden itibaren sadrazamın başkanlığında toplanması

13. II. Mehmet'in İstanbul'u fethetmesinde,

- Osmanlı Devleti'nin toprak bütünlüğünü sağlama
- Karadeniz - Akdeniz arasındaki deniz ticaret yolları üzerinde denetim kurma
- Osmanlı ordusunun Anadolu ve Rumeli arasındaki geçişlerini kolaylaştırma

amaçları etkili olmuştur.

Buna göre II. Mehmet'in İstanbul'u almak istemesinde,

- I. Sosyal
- II. Siyasi
- III. Ekonomik

çıkarlardan hangisi ya da hangilerinin doğrudan etkili olduğu söylenemez?

- A) Yalnız I
- B) Yalnız II
- C) Yalnız III
- D) I ve III

14. Osmanlı sınırlarının genişlemesi aşağıdaki sonuçlardan hangisine ortam hazırlamıştır?

- A) Devletin gelir ve giderlerin artmasına
- B) Birbirinden farklı özellikleri olan milletlerin egemenlik altına alınmasına
- C) Osmanlı Devleti'ni yöneten ailenin değişmesine
- D) Osmanlıların denizler ve ticaret yolları üzerindeki etkinliğinin artmasına

DİN KÜLTÜRÜ VE AHLAK BİLGİSİ DERSİNİ OKUYANLAR AŞAĞIDAKİ SORULARI CEVAPLAYACAKLAR. OKUMAYANLAR BUNUN YERİNE, AYNI NUMARALI SOSYAL BİLGİLER SORULARINI CEVAPLAYACAKLAR.

15. Hz. Muhammed (sav), "Bana, konuştuğunuz zaman doğru konuşma, verdiğiniz sözü yerine getirme ve emaneti koruma konularında söz verin, ben de size cenneti müjdeleyeyim." buyurmuştur.

Hız. Muhammed (sav) bu sözüyle Müslümanların hangi özelliğe sahip olması gerektiğini vurgulamıştır?

- A) Çalışkan olma
- B) Güvenilir olma
- C) Merhametli olma
- D) İhtiyaç sahiplerine yardım etme

DİN KÜLTÜRÜ VE AHLAK BİLGİSİ DERSİ OKUMAYANLAR, AŞAĞIDAKİ SOSYAL BİLGİLER SORULARINA CEVAP VERECEKLER. OKUYANLAR CEVAP VERMEYECEK.

15. Aşağıdakilerden hangisi, Türkiye’de nüfus dağılışının düzensiz olmasının nedenleri arasında gösterilemez?

- A) Yer şekillerinin farklılık göstermesi
- B) Okuryazar oranının yörelere göre değişmesi
- C) Sanayi tesislerinin dengesiz dağılıması
- D) İklim koşullarının farklılık göstermesi

www.egitimportali.com

16. Kur’an’da; "Dinde zorlama yoktur" (Bakara, 256) ve "İnanmaları için insanları zorlayacak mısın" (Yunus, 99) gibi ayetler bulunmaktadır. Medine Sözleşmesi’nin 25. maddesinde, "Yahudilerin dinleri kendilerine, mü’minlerin dinleri kendilerinedir" biçiminde bir ifade bulunmaktadır.

Kur’an-ı Kerim’de yer alan bu ayetler ve efendimizin uygulamalarına dayanarak,

- I. İslamiyet, bir hoşgörü dinidir.
- II. Müslümanların İslamiyet’i yaymak gibi bir görevleri yoktur.
- III. Müslümanlar diğer din mensupları ile bir arada yaşayabilir.

yorumlarından hangileri yapılabilir?

- A) Yalnız I
- B) Yalnız II
- C) I ve II
- D) I ve III

16. Türkiye Selçukluları komşu ülkelerle ticaret antlaşmaları yapmış, Antalya, Alanya, Sinop ve Suğdak gibi şehirleri fethetmişlerdir.

Bu durumun aşağıdakilerden hangisine katkısı olduğu söylenemez?

- A) Ekonomik faaliyetlerin hızlanmasına
- B) Akdeniz ve Karadeniz arasında ticaretinin gelişmesine
- C) Selçukluların gümrük gelirlerinin artmasına
- D) Moğolların Anadolu’yu istila etmelerinin engellenmesine

17. Aşağıdaki ibadetlerden hangisinin, temel ihtiyaçlarını rahatlıkla karşılayabilen kişilerin muhtaçların durumunu anlamasına yardımcı olduğu söylenebilir?

- A) Oruç tutmak
- B) Hacca gitmek
- C) Namaz kılmak
- D) Kur'an okumak

17. Osmanlı Devleti'nin kısa zamanda büyümesinin nedenlerinden bazıları şunlardır:

- I. Balkanlarda siyasal birliğin olmaması
- II. Devletin yetenekli padişahlar tarafından yönetilmesi
- III. Güçlü bir askeri ve idari teşkilatın oluşturulması

Bu nedenlerden hangileri, Osmanlı Devleti'nin kısa zamanda büyümesinde dış faktörlerin de önemli rol oynadığını gösterir?

- A) Yalnız I
- B) Yalnız II
- C) Yalnız III
- D) I ve III

18. İslâm inancına göre ölüm, bir yok oluş değildir. Ölen her insan ahiret gününde mutlaka dirilecektir. Akıllı ve irade sahibi bir varlık olduğu için de dünyadaki yaptıklarından sorumlu tutulacaktır. Dünyada iken iyi ve yararlı işler yapanlar ödüllendirilecek, kötü ve zararlı işler yapanlar ise cezalandırılacaktır.

Bu bilgilere bakarak aşağıdakilerden hangisi ahiret inancının bir sonucu olamaz?

- A) İnsanların iyi ve yararlı işler yapmaya yönelmesi
- B) İnsanların kötülükten kaçınmaya özen göstermesi
- C) Ahirete inananların dünya işlerinden tamamen çekilmesi
- D) Toplum ilişkilerinin daha sağlıklı yürütülmesi

18. Bizans, tahtı ele geçirmek için isyan eden Osmanlı şehzadelerini desteklemiş, kendilerine sığınan şehzadeleri de korumuştur.

Bizans'ın böyle bir politika izlemesinde,

- I. Osmanlı hükümdarlarının Anadolu'da Türk siyasal birliğini sağlamak için çalışmaları
- II. Osmanlılara karşı sürekli Haçlı saldırılarının olması
- III. Osmanlıların sınırlarını Bizans yönünde genişletmeleri

gelişmelerinden hangisi ya da hangilerinin doğrudan etkili olduğu söylenebilir?

- A) Yalnız I
- B) Yalnız II
- C) Yalnız III
- D) II ve III

İNGİLİZCE TESTİ

1. soruda farklı olan kelimeyi bulunuz.


1.

- A) lovely B) early
C) carry D) lucky

2. – 3. sorularda verilen boşlukları yandaki resimlere bakarak cevaplayınız.

2. It is a(n) village, far away from the city.

- A) noisy
B) quiet
C) crowded
D) easy



3. My sister does the at home.

- A) cleaning
B) washing-up
C) cooking
D) ironing



4. – 7. sorularda cümlede boş bırakılan yerlere uygun düşen sözcük ya da ifadeyi bulunuz.

4. I think health is important than money.

- A) much B) less
C) more D) very

5. A: Do you prefer reading books or watching TV?
B: Watching TV because reading books is watching TV.

- A) more enjoyable than
B) as enjoyable as
C) the same as
D) not as enjoyable as

6. Hurry up, Dad. There's on the phone.


- A) anyone
B) someone
C) nobody
D) anybody

7. A:
B: No, thanks, just coffee, please.

- A) What would you like to have?
B) Which one would you like?
C) Would you like something to eat?
D) Would you like a drink?


8. – 9. sorularda karşılıklı konuşmanın boş bırakılan kısmını tamamlayabilecek ifadeyi bulunuz.

8.



- A) Is the Eiffel Tower older than the Galata Tower?
- B) Which is older, the Galata Tower or the Eiffel Tower?
- C) Which is the oldest tower in the world?
- D) Galata Tower is older than the Eiffel Tower, isn't it?


9.



- A) The weather was very nice.
- B) The hotel was beautiful.
- C) We had a great time.
- D) We had some problems.

10. soruda aşağıda verilen resme göre cümleyi tamamlayan ifadeyi bulunuz.

10.



She doesn't feel well because

- A) she has got a stomach ache
- B) she has got a headache
- C) there is no school today
- D) she is on holiday

11. soruda aşağıda verilen resme göre doğru ifadenin bulunduğu seçeneği işaretleyiniz.

11.



- A) The women are on the plane.
- B) There are a lot of passengers on the bus.
- C) The women are on the bus.
- D) The driver is angry with the two women.

12. soruda aşağıda verilen ifadeye göre doğru resmin bulunduğu seçeneği işaretleyiniz.

12. I think quiz shows are more interesting than cartoons.

A)



B)



C)



D)



13. soruda aşağıda verilen eylemlerin yapılış sırasının bulunduğu seçeneği bulunuz.

13. I. I bought a pair of football boots and he bought a football shirt.
II. We went shopping together.
III. After that we walked back home.
IV. I met Hakan after school yesterday.


A) III - IV - I - II

B) IV - II - I - III

C) I - III - IV - II

D) II - IV - I - III

14. - 15. soruları aşağıdaki parçaya göre cevaplayınız.



Dear Mum and Dad,
Last week I was in Jordan and Syria and now I'm in Antalya. I'm having a great time here. Our hotel is very relaxing and clean. It's not a seaside hotel but it's just a five-minute walk to the sea. The people are very friendly here. The weather is hot and sunny all the time and the beaches are very crowded.
I miss you all and our small village in Ireland.

See you next week,
John

14. Where do John's parents live?

- A) Jordan
B) Syria
C) Ireland
D) Turkey

15. Which of the following is false?

- A) John was in Jordan last week.
B) John can go to the seaside on foot.
C) The weather in Antalya is sunny.
D) John is on holiday with his parents.