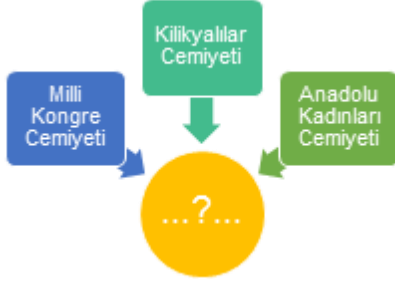


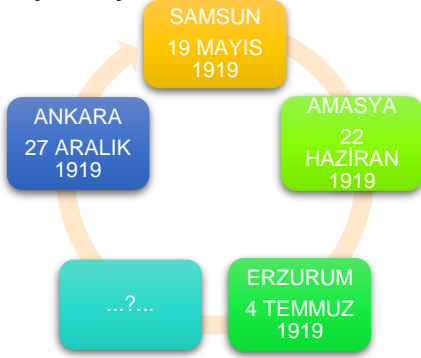
1.



Yukarıdaki tabloya verilebilecek en uygun başlık aşağıdakilerden hangisidir?

- A) Milli Varlığa Düşman Cemiyetler
- B) Azınlıkların Kurduğu Cemiyetler
- C) Milli Cemiyetler
- D) TBMM'ye Karşı Ayaklanmalar

2. Kurtuluş Savaşında Mustafa Kemal'in Yol Haritası



Yukarıdaki diyagramda ? işareti olan bölüme aşağıdakilerden hangisini getirirsek diyagramı doğru bir şekilde tamamlamış oluruz?

- A) İstanbul
- B) Trabzon
- C) İzmir
- D) Sivas

3. Mustafa Kemal 1. Dünya Savaşı bittikten sonra İstanbul'a geldiğinde boğazda, İtilaf Devletlerinin donmasına ait gemileri görmüş ve tarihe geçen " Geldikleri gibi giderler. " sözünü söylemiştir.

Mustafa Kemal'in bu sözü söylemesinde aşağıdaki durumlardan hangisinin etkisi olduğunu söyleyebiliriz?

- A) Türk Milletine olan güveninin
- B) İstanbul Hükümetinin teslimiyetçi tutumunun
- C) İtilaf Devletlerinin barışçıl tutumunun
- D) Almanya'nın Osmanlı Devletini desteklemesinin

4. Havza Genelgesinde;

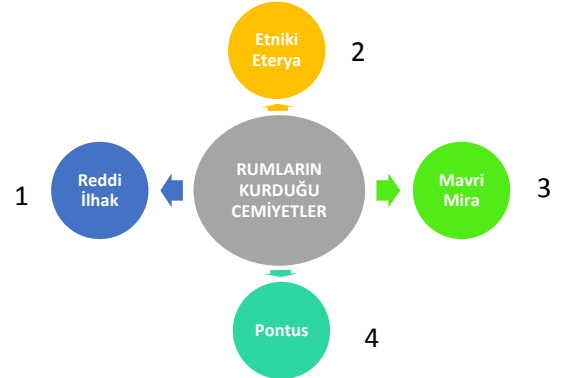
- I. İzmir'in ve Anadolu'nun işgalini protesto eden mitingler düzenlenecek
- II. İşgalleri protesto etmek amacıyla İtilaf devletlerine ve İstanbul Hükümetine telgraflar çekilecek
- III. Protestolar sırasında azınlıklara zarar verilmeyecektir

maddeleri yer almıştır.

Yukarıdaki maddelere göre aşağıdaki sonuçlardan hangisini çıkaramayız?

- A) İzmir'in işgaline karşı tepki koyulmuştur.
- B) Anadolu'nun işgaline karşı sessiz kalınmıştır.
- C) İşgallere karşı halk bilinçlendirilmeye çalışılmıştır.
- D) Anadolu'da yaşayan diğer milletlere zarar verilmeye çalışılmıştır.

5.



Yukarıdaki tabloda kaç numaralı cemiyet Rumlar tarafından kurulmamıştır?

- A) 4
- B) 3
- C) 2
- D) 1



Erzurum Kongresi kararlarında aşağıdaki hangi kavrama vurgu yapılmamıştır?

- A) Milli Sınırlar
- B) Milli Bağımsızlık
- C) Milli Ekonomi
- D) Milli Egemenlik

7. Sivas Kongresinin aşağıdaki kararlarından hangisi " Milli Mücadeleyi tek elden yürütmek " amacıyla alınmıştır?

- A) Manda ve himaye fikri kesin olarak reddedilmiş.
- B) Milli Mücadelenin sesini duyurmak için İrade-i Milliye Gazetesi kurulmuş.
- C) Erzurum Kongresi kararları kabul edilmiş.
- D) Bütün Milli cemiyetler " Anadolu ve Rumeli Müdafaa-i Hukuk Cemiyeti " adı altında birleştirilmiş

8. Milli Cemiyetlerin Özellikleri;

- * Vatanseverlik duygusuyla kurulmuşlar
- * Milli bilinci uyandırmışlar
- * Bölgesel kurtuluşu amaçlamışlar
- * İtilaf Devletlerinin desteğini almışlar

Yukarıda verilen ifadelerden kaç tanesi Milli Cemiyetlerin özellikleridir?

- A) 1
- B) 2
- C) 3
- D) 4

9. " İzmir'in işgali dünya kamuoyunda büyük bir yankı ve kınamaya sebep olunca; olayın sorumlusu durumunda olan İtilaf Devletleri kamuoyunu yatıştırmak ve İzmir bölgesindeki durumu öğrenebilmek için bölgeye Amiral Bristol önderliğinde bir heyet göndermişlerdir. Bu heyetin hazırladığı raporda Yunanlıların Türk halkına katliam yaptığı, işgalin haksız olduğu, bölgenin tamamen Türklere ait olduğu belirtilmiştir."

Yukarıdaki açıklamaya göre aşağıdaki çıkarımlardan hangisine ulaşamaz?

- A) İzmir'in Türk Milletine ait olduğu
- B) Yunanlıların bölgeyi haksız yere işgal ettiği
- C) İzmir'in nüfusunun çoğunu Rumların oluşturduğu
- D) Dünyanın İzmir'in işgaline tepki gösterdiği

10. " Anadolu'nun işgali karşısında Türk Milleti bulundukları bölgeleri savunmak amacıyla Kuvayı Milliye birlikleri kurmuş ve canlarını ortaya koymuştur. İzmir'de, Antep'te, Maraş'ta ve yurdun dört bir köşesinde vatan savunması yapılmıştır. "

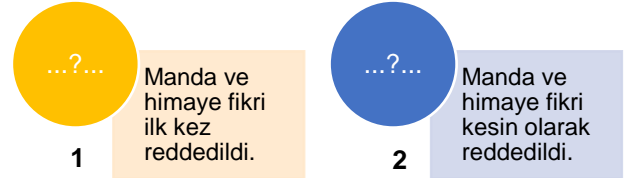
Yukarıdaki açıklamada Türk Milletinin hangi özelliğine vurgu yapılmıştır?

- A) Vatanseverliğine
- B) Hoşgörüsüne
- C) Çatışmaçılığına
- D) Çalışkanlığına

11. Mondros Ateşkes Anlaşmasının aşağıdaki hangi maddesi Kuvayı Milliye birliklerinin kurulmasına neden olmuştur?

- A) Osmanlı ordusu terhis edilecek.
- B) Boğazlar İtilaf devletlerine bırakılacak.
- C) Doğuda altı ilde bir karışıklık çıkarsa İtilaf devletleri buraları işgal edebilecek.
- D) İtilaf devletleri güvenliklerini tehlikede gördükleri herhangi bir stratejik noktayı işgal edebilecek.

12.



Yukarıdaki 1 ve 2 numaralı yerlere sırasıyla hangi kongreleri yazarsak tabloyu doğru bir şekilde tamamlamış oluruz?

1	2
A) Balıkesir Kongresi	Sivas Kongresi
B) Erzurum Kongresi	Alaşehir Kongresi
C) Erzurum Kongresi	Sivas Kongresi
D) Amasya Genelgesi	Havza Genelgesi