



A-) Aşağıda verilen şekil 1 üzerine paralel çizgilerinden olan ekvator yengeç ve oğlak dönenceleri güney ve kuzey kutup daireleri ile güney ve kuzey kutup noktalarını çizerek isimlerini ve derecelerini yazınız. Şekil 2 üzerine başlangıç meridyenini çizerek doğusuna 3 batısına 3 meridyen daha çiziniz.



ŞEKİL-1



ŞEKİL-2

B-)Aşağıda verilen kavramları ilgili oldukları uygun boşluklara yerleştiriniz.

COĞRAFİ KONUM – PARALEL – MERİDYEN – ÖZEL KONUM– EKVATOR – MATEMATİK KONUM – DÖNENCE

1. Bir şehrin, bölgenin ya da ülkenin dünya üzerindeki yerine .....denir.
2. Bir şehrin ,bölgenin veya ülkenin yerinin paralel ve meridyenler yardımıyla belirlenmesine.....denir.
3. Dünyayı kuzey ve güney olmak üzere iki eşit parçaya ayırdığı varsayılan daire şeklindeki çizgiye.....denir.
4. Bir şehrin, bölgenin veya ülkenin yerinin önemli yollara, boğazlara, kıtalara, denizlere, maden yataklarına göre konumuna .....denir.
5. Bir kutup noktasından diğer kutup noktasına uzanan paralel ve ekvatoru dik kestiği varsayılan çizgilere.....denir.
6. Yer küre etrafında doğudan batıya doğru uzandığı varsayılan daire şeklindeki çizgilere.....denir.

C-)Aşağıda verilen cümlelerin doğru olanlarına “D” yanlış olanlarına “Y” yazınız. Yanlışların doğrularını yanına yazınız.

1. (.....) Dünya ekvatora göre güney ve kuzey olmak üzere iki yarım küreye ayrılır.
2. (.....) Roma İmparatorluğu döneminde yapılan Milyon Taşı dünyanın merkezi olarak bilinirdi.
3. (.....) Ülkemiz güney yarım kürede yer alır.
4. (.....) Ülkemizin İstanbul ve Çanakkale Boğazlarına sahip olması matematik konumla ilgilidir.
5. (.....) Ülkemizde güneyden kuzeye gidildikçe sıcaklık azalır.
6. (.....) Ülkemizin üç tarafının denizlerle çevrili olması göreceli konumla ilgilidir.
7. (.....) Asya Avrupa ve Afrika kıtasına eski dünya kıtaları denir.

**D-) Aşağıda paralel ve meridyenlerin özellikleri karışık olarak verilmiştir. Bunları ayırt etmek için paralele ait özelliğin karşısına “P” meridyene ait özelliğin karşısına “M” yazınız.**

1	Aralarında dünyanın her yerinde 111 km uzaklık vardır.	
2	Aralarında 4 dakikalık zaman farkı vardır.	
3	Boyları kutuplara doğru kısalır.	
4	Dünya üzerinde toplam 90 tane vardır.	
5	Dünyayı doğu ve batı yarımküre olmak üzere ikiye ayırır.	
6	Aralarındaki uzaklık kutuplara doğru azalır.	
7	Dünyayı kuzey ve güney yarımküre olmak üzere ikiye ayırır.	
8	Boyları dünyanın her yerinde eşittir.	
9	En büyükleri ekvatordur.	
10	Dünya üzerinde toplam 360 tane vardır.	

**E-) Aşağıda verilen dilsiz dünya haritası üzerine kıta ve okyanusların adlarını bilgi notundan faydalanarak yazınız.**

#### BİLGİ NOTU

**KİTA:** Su kütleleri tarafında birbirinden ayrılmış büyük kara parçalarına denir. Dünyada eski dünya kıtaları ve yeni dünya kıtaları olmak üzere yedi kıta vardır.

1- Asya Kıtası 2- Avrupa Kıtası 3- Afrika Kıtası 4- Güney Amerika Kıtası 5- Kuzey Amerika Kıtası 6- Avustralya (Okyanusya) Kıtası 7- Antarktika Kıtası

**OKYANUS:** Kıtaları birbirinden ayıran büyük su kütlelerine denir. Dünyada üç tane okyanus vardır.

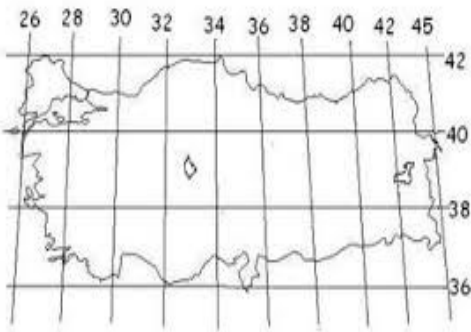
1-Büyük (pasifik) Okyanus 2- Atlantik Okyanusu 3- Hint Okyanusu



DÜNYA DİLSİZ HARİTASI

cografyaharita.com R. SAYGILI 2015

**F-) Aşağıda verilen haritadan da yararlanarak ülkemizin mutlak ve göreceli konumunu tanımlayınız.**



#### TÜRKİYE’NİN MUTLAK KONUMU

.....  
.....  
.....

#### TÜRKİYE’NİN GÖRECELİ KONUMU

.....  
.....  
.....