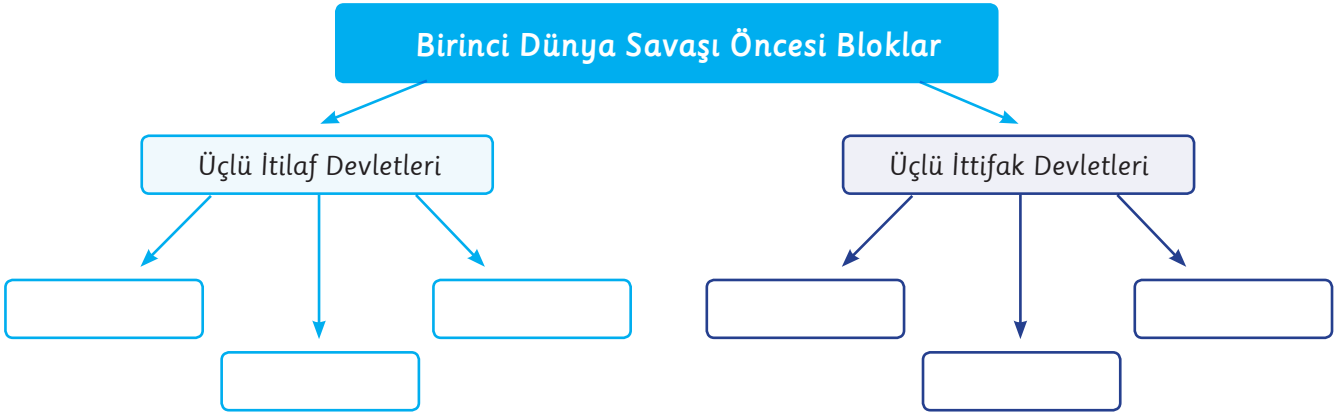




Osmanlı Devleti Hangi Cepheye?-1

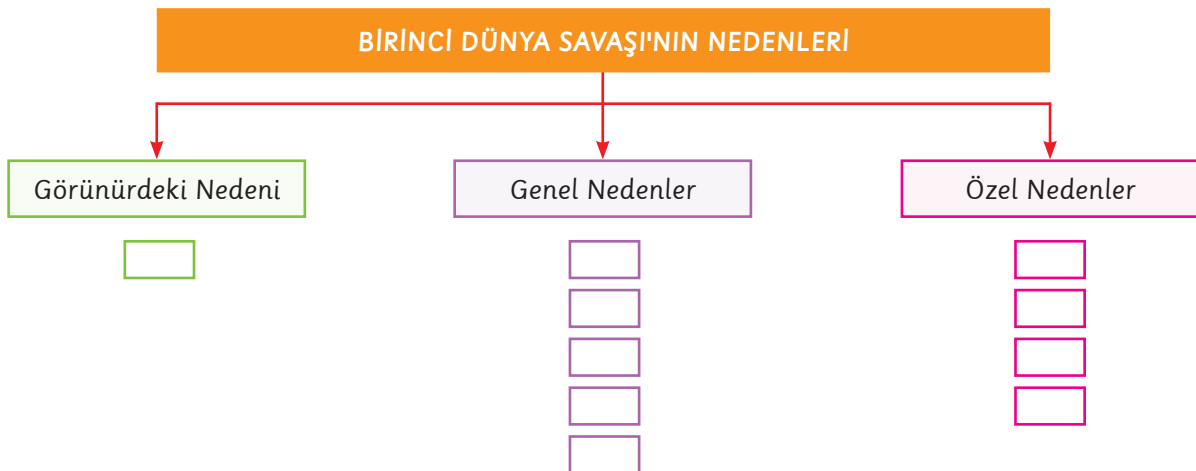
3. Aşağıdaki kavram haritasını doldurunuz.



4. Aşağıda Birinci Dünya Savaşı'nın "görünürdeki nedeni", "genel nedenleri" ve "özel nedenleri" karışık olarak verilmiştir.

Verilen nedenleri şemaya doğru bir şekilde yerleştiriniz.

- | | |
|---|--|
| 1 Sömürgecilik | 6 Hammadde yarışı |
| 2 Sırlı bir öğrencinin, Avusturya-Macaristan veliahdını öldürmesi | 7 Pazar rekabeti |
| 3 Almanya ve Fransa arasındaki Alsas-Loren kömür havzası sorunu | 8 Avusturya-Macaristan'ın Balkanları ele geçirmek istemesi |
| 4 Silahlanma yarışı | 9 Rusya'nın sıcak denizlere inme isteği |
| 5 Rusya'nın Panslavizm politikası | 10 Milliyetçilik akımı |





Öğrenci Adı Soyadı

Sınıfı

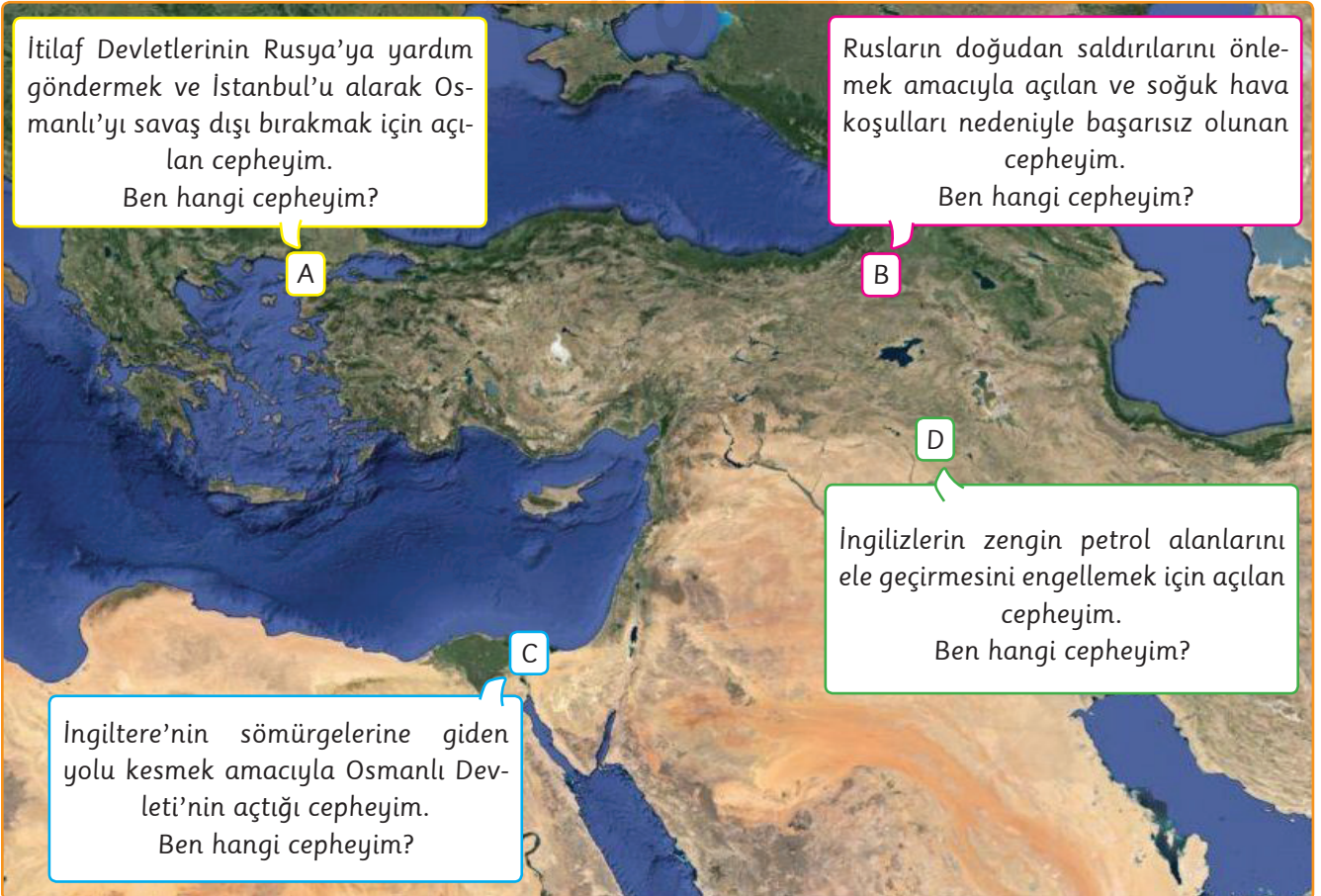
Ödev Teslim Tarihi

Öğretmen Görüşü

1. Nilgün Öğretmen'in tahtaya yazdığı soruya Ahmet'in vermesi gereken cevapları aşağıya yazınız.



2. Aşağıda Osmanlı Devleti'nin Birinci Dünya Savaşı'nda savaştığı cephelerden bazıları işaretlenmiştir. Kutuların içindeki açıklamaları okuyarak, harflerin hangi cepheye ait olduğunu haritanın altındaki kutucuklara yazınız.



A

B

C

D



Osmanlı Devleti Hangi Cephede?-II

3. Aşağıdaki öğrenciler Osmanlı Devleti'nin Birinci Dünya Savaşı'nda savaştığı cephelerle ilgili bilgiler vermişlerdir.

Öğrencilerin bilgi verdikleri cephelerin adlarını altlarındaki kutucuklara yazınız.

- Tarihimizde Sarıkamış Harekatı olarak da bilinir.
- Enver Paşa komutasında Ruslara karşı açtığımız cephedir.
- 90 bin askerimizin donarak şehit olduğu cephedir.



Emel



Murat

- İngiltere'den Mısır'ı geri almak ve İngiltere'nin sömürgelerine giden yolu kesmek için Osmanlı Devleti tarafından açılan cephedir.
- Lojistik destek yetersizliğinden başarısız olunmuştur.

- Osmanlı ordusu bu cephede İngilizlere karşı savaştı.
- Mustafa Kemal, Birinci Dünya Savaşı'nda en son bu cephede 7. Ordu Komutanı olarak görev yapmıştır.



Mehmet



Elif

- Bu cephede Osmanlı ordusu hem İngilizlerle hem de ayaklanan Araplarla savaştı.
- Türk kuvvetleri kutsal toprakları kahramanca savunmuş ancak bu yerler düşman işgaline uğramıştır.

4. Aşağıda Osmanlı Devleti'nin Birinci Dünya Savaşı'nda savaştığı cepheler verilmiştir.

Kanal Cephesi

Suriye Cephesi

Makedonya Cephesi

Çanakkale Cephesi

Romanya Cephesi

Galiçya Cephesi

Irak Cephesi

Kafkas Cephesi

Hicaz-Yemen Cephesi

Filistin Cephesi

Verilen cepheleri aşağıdaki şemaya doğru bir şekilde yerleştiriniz.

BİRİNCİ DÜNYA SAVAŞI'NDA OSMANLI'NIN SAVAŞTIĞI CEPHELER

Taarruz Cepheleri

Savunma Cepheleri

Yardım Gönderdiğimiz Cepheler