






















1.Hazine Avı

Rakamlar çevrelerindeki komşu hücrelerde kaç elmas olduğunu gösteriyor. Diyagramdaki tüm elmasların yerini bulun.

Örnek

				3		2
3		3				
3			5			3
	3			4		
2		3				2
				5		

				3		2
3		3				
						
3			5			3
	3			4		
2		3				2
				5		

Cevap Anahtarı: Her satır için o satırda yer alan toplam elmas sayısını yukarıdan aşağıya olacak şekilde yazın. Örnek için cevap şöyle olurdu:

2	2	7	2	2	3	3
---	---	---	---	---	---	---

2	2				
			1	2	
	2			2	
2					2
				2	
2		3	2	2	

		2				1
1	2			2	2	
2		3	1	2		3
		3	1	3		
						4
2			3	3		
1	3					3