

26.



Orman, bir ülkenin en önemli doğal kaynaklarından. Ülkemizin %28,6'sı ormanlarla kaplıdır. Ormanlarımızın büyük bölümü yağışın bol olduğu kıyı kesimlerimizde toplanmıştır. Ormanların birçok faydası vardır. Örnek olarak kâğıt, kereste ve mobilya sanayisinde ve inşaat alanında yararlanılan ormanlar; erozyonu azaltır, atmosfere oksijen kazandırır, dinlenme alanı oluşturur. Ayrıca çam ağaçlarının yağı kozmetik len çam fıstığı ve reçinesi, siğla ağaçlarının yağı kozmetik alanında kullanılmakta, böylece ülke ekonomisine katkı sağlanmaktadır.

Yukarıda verilen bilgilere göre,

- Ülkemizin yarısından çoğu ormanlarla kaplıdır.
- Ormanlar geniş bir üretim ve kullanım alanına sahiptir.
- Ormanlık ülke ekonomisine en fazla katkı sağlayan faaliyetler; yargılarından hangilerine ulaşılabilir?

- A) Yalnız II B) I ve III C) II ve III D) I, II ve III

27.

Dünya Bor Rezervlerinin Dağılımı (2017)

ÜLKE	TOPLAM REZERV (Bin ton B.O ₂)	TOPLAM REZERV (%B.O ₂)
Türkiye	948.712	73,4
Rusya	100.000	7,7
A.B.D.	80.000	6,2
Şili	41.000	3,2
Çin	36.000	2,8
Peru	22.000	1,7

Verilen bilgiler doğrultusunda,

- Ülkemiz bor satışından elde edilen gelir bakımından birinci sıradadır.
- Türkiye, dünya bor rezervinin dörtte üçüne yakın bir paya sahiptir.
- Rusya'nın rezerv oranı Şili, Çin ve Peru'nun toplam rezerv oranına eşittir.

yorumlarından hangileri yapılabilir?

- A) Yalnız I B) I ve II C) II ve III D) I, II ve III

16

28.




Merhaba benim adım Doruk. Sosyal bilgiler öğretmenimiz bu haftaki araştırma ödevimizde bizlerden; ilimiz için yatırım ve kalkınma projesi örnekleri yapmamızı istedi. Ben de ödevim için hazırlık yaptım. Doğduğum köyün yakınlarında bulunan Taşyarar Vadisi doğal güzellikleriyle göze çarpmaktadır. Bu doğal güzelliğin herkes tarafından bilinmesini ve görülmesini istedim. Taşyarar Vadisi'ni aktif kullanılır hâle getirerek Uşak'ın ve Türkiye'nin ekonomisine katkı sağlamayı hedefledim.

Buna göre Doruk'un yatırım ve kalkınma projesi özellikle hangi ekonomik faaliyetle yakından ilgilidir?

- A) Sanayi B) Tarım C) Hayvancılık D) Turizm

29.



Yukarıda numaralarla gösterilen enerji kaynakları hakkında verilen yargılardan hangisi yanlıştır?

- A) Yenilenebilir enerji kaynakları arasında yer alırlar.
B) Doğada varlıkları asla sona ermez.
C) Alternatif enerji kaynakları olarak nitelendirilirler.
D) Kullanımları hava, su ve toprak kirliliğine sebep olmaktadır.

17

26.



Orman, bir ülkenin en önemli doğal kaynaklarından. Ülkemizin %28,6'sı ormanlarla kaplıdır. Ormanlarımızın büyük bölümü yağışın bol olduğu kıyı kesimlerimizde toplanmıştır. Ormanların birçok faydası vardır. Örnek olarak kâğıt, kereste ve mobilya sanayisinde ve inşaat alanında yararlanılan ormanlar; erozyonu azaltır, atmosfere oksijen kazandırır, dinlenme alanı oluşturur. Ayrıca çam ağaçlarının yağı kozmetik len çam fıstığı ve reçinesi, siğla ağaçlarının yağı kozmetik alanında kullanılmakta, böylece ülke ekonomisine katkı sağlanmaktadır.

Yukarıda verilen bilgilere göre,

- Ülkemizin yarısından çoğu ormanlarla kaplıdır.
- Ormanlar geniş bir üretim ve kullanım alanına sahiptir.
- Ormanlık ülke ekonomisine en fazla katkı sağlayan faaliyetler; yargılarından hangilerine ulaşılabilir?

- A) Yalnız II B) I ve III C) II ve III D) I, II ve III

27.

Dünya Bor Rezervlerinin Dağılımı (2017)

ÜLKE	TOPLAM REZERV (Bin ton B.O ₂)	TOPLAM REZERV (%B.O ₂)
Türkiye	948.712	73,4
Rusya	100.000	7,7
A.B.D.	80.000	6,2
Şili	41.000	3,2
Çin	36.000	2,8
Peru	22.000	1,7

Verilen bilgiler doğrultusunda,

- Ülkemiz bor satışından elde edilen gelir bakımından birinci sıradadır.
- Türkiye, dünya bor rezervinin dörtte üçüne yakın bir paya sahiptir.
- Rusya'nın rezerv oranı Şili, Çin ve Peru'nun toplam rezerv oranına eşittir.

yorumlarından hangileri yapılabilir?

- A) Yalnız I B) I ve II C) II ve III D) I, II ve III

28.




Merhaba benim adım Doruk. Sosyal bilgiler öğretmenimiz bu haftaki araştırma ödevimizde bizlerden; ilimiz için yatırım ve kalkınma projesi örnekleri yapmamızı istedi. Ben de ödevim için hazırlık yaptım. Doğduğum köyün yakınlarında bulunan Taşyarar Vadisi doğal güzellikleriyle göze çarpmaktadır. Bu doğal güzelliğin herkes tarafından bilinmesini ve görülmesini istedim. Taşyarar Vadisi'ni aktif kullanılır hâle getirerek Uşak'ın ve Türkiye'nin ekonomisine katkı sağlamayı hedefledim.

Buna göre Doruk'un yatırım ve kalkınma projesi özellikle hangi ekonomik faaliyetle yakından ilgilidir?

- A) Sanayi B) Tarım C) Hayvancılık D) Turizm

29.



Yukarıda numaralarla gösterilen enerji kaynakları hakkında verilen yargılardan hangisi yanlıştır?

- A) Yenilenebilir enerji kaynakları arasında yer alırlar.
B) Doğada varlıkları asla sona ermez.
C) Alternatif enerji kaynakları olarak nitelendirilirler.
D) Kullanımları hava, su ve toprak kirliliğine sebep olmaktadır.

26.



Orman, bir ülkenin en önemli doğal kaynaklarından. Ülkemizin %28,6'sı ormanlarla kaplıdır. Ormanlarımızın büyük bölümü yağışın bol olduğu kıyı kesimlerimizde toplanmıştır. Ormanların birçok faydası vardır. Örnek olarak kâğıt, kereste ve mobilya sanayisinde ve inşaat alanında yararlanılan ormanlar; erozyonu azaltır, atmosfere oksijen kazandırır, dinlenme alanı oluşturur. Ayrıca çam ağaçlarının yağı kozmetik len çam fıstığı ve reçinesi, siğla ağaçlarının yağı kozmetik alanında kullanılmakta, böylece ülke ekonomisine katkı sağlanmaktadır.

Yukarıda verilen bilgilere göre,

- Ülkemizin yarısından çoğu ormanlarla kaplıdır.
- Ormanlar geniş bir üretim ve kullanım alanına sahiptir.
- Ormanlık ülke ekonomisine en fazla katkı sağlayan faaliyetler; yargılarından hangilerine ulaşılabilir?

- A) Yalnız II B) I ve III C) II ve III D) I, II ve III

27.

Dünya Bor Rezervlerinin Dağılımı (2017)

ÜLKE	TOPLAM REZERV (Bin ton B.O ₂)	TOPLAM REZERV (%B.O ₂)
Türkiye	948.712	73,4
Rusya	100.000	7,7
A.B.D.	80.000	6,2
Şili	41.000	3,2
Çin	36.000	2,8
Peru	22.000	1,7

Verilen bilgiler doğrultusunda,

- Ülkemiz bor satışından elde edilen gelir bakımından birinci sıradadır.
- Türkiye, dünya bor rezervinin dörtte üçüne yakın bir paya sahiptir.
- Rusya'nın rezerv oranı Şili, Çin ve Peru'nun toplam rezerv oranına eşittir.

yorumlarından hangileri yapılabilir?

- A) Yalnız I B) I ve II C) II ve III D) I, II ve III

28.




Merhaba benim adım Doruk. Sosyal bilgiler öğretmenimiz bu haftaki araştırma ödevimizde bizlerden; ilimiz için yatırım ve kalkınma projesi örnekleri yapmamızı istedi. Ben de ödevim için hazırlık yaptım. Doğduğum köyün yakınlarında bulunan Taşyarar Vadisi doğal güzellikleri ile göze çarpmaktadır. Bu doğal güzelliğin herkes tarafından bilinmesini ve görülmesini istedim. Taşyarar Vadisi'ni aktif kullanılır hâle getirerek Uşak'ın ve Türkiye'nin ekonomisine katkı sağlamayı hedefledim.

Buna göre Doruk'un yatırım ve kalkınma projesi özellikle hangi ekonomik faaliyetle yakından ilgilidir?

- A) Sanayi B) Tarım C) Hayvancılık D) Turizm

29.



Yukarıda numaralarla gösterilen enerji kaynakları hakkında verilen yargılardan hangisi yanlıştır?

- A) Yenilenebilir enerji kaynakları arasında yer alırlar.
B) Doğada varlıkları asla sona ermez.
C) Alternatif enerji kaynakları olarak nitelendirilirler.
D) Kullanımları hava, su ve toprak kirliliğine sebep olmaktadır.

26.



Orman, bir ülkenin en önemli doğal kaynaklarından. Ülkemizin %28,6'sı ormanlarla kaplıdır. Ormanlarımızın büyük bölümü yağışın bol olduğu kıyı kesimlerimizde toplanmıştır. Ormanların birçok faydası vardır. Örnek olarak kâğıt, kereste ve mobilya sanayisinde ve inşaat alanında yararlanılan ormanlar; erozyonu azaltır, atmosfere oksijen kazandırır, dinlenme alanı oluşturur. Ayrıca çam ağaçlarının yağı kozmetik len çam fıstığı ve reçinesi, siğla ağaçlarının yağı kozmetik alanında kullanılmakta, böylece ülke ekonomisine katkı sağlanmaktadır.

Yukarıda verilen bilgilere göre,

- Ülkemizin yarısından çoğu ormanlarla kaplıdır.
- Ormanlar geniş bir üretim ve kullanım alanına sahiptir.
- Ormanlık ülke ekonomisine en fazla katkı sağlayan faaliyetler; yargılardan hangilerine ulaşılabilir?

- A) Yalnız II B) I ve III C) II ve III D) I, II ve III

27.

Dünya Bor Rezervlerinin Dağılımı (2017)

ÜLKE	TOPLAM REZERV (Bin ton B.O ₂)	TOPLAM REZERV (%B.O ₂)
Türkiye	948.712	73,4
Rusya	100.000	7,7
A.B.D.	80.000	6,2
Şili	41.000	3,2
Çin	36.000	2,8
Peru	22.000	1,7

Verilen bilgiler doğrultusunda,

- Ülkemiz bor satışından elde edilen gelir bakımından birinci sıradadır.
- Türkiye, dünya bor rezervinin dörtte üçüne yakın bir paya sahiptir.
- Rusya'nın rezerv oranı Şili, Çin ve Peru'nun toplam rezerv oranına eşittir.

yorumlarından hangileri yapılabilir?

- A) Yalnız I B) I ve II C) II ve III D) I, II ve III

28.



Merhaba benim adım Doruk. Sosyal bilgiler öğretmenimiz bu haftaki araştırma ödevimizde bizlerden; ilimiz için yatırım ve kalkınma projesi örnekleri yapmamızı istedi. Ben de ödevim için hazırlık yaptım. Doğduğum köyün yakınlarında bulunan Taşyarar Vadisi doğal güzellikleriyle göze çarpmaktadır. Bu doğal güzelliğin herkes tarafından bilinmesini ve görülmesini istedim. Taşyarar Vadisi'ni aktif kullanılır hâle getirerek Uşak'ın ve Türkiye'nin ekonomisine katkı sağlamayı hedefledim.

Buna göre Doruk'un yatırım ve kalkınma projesi özellikle hangi ekonomik faaliyetle yakından ilgilidir?

- A) Sanayi B) Tarım C) Hayvancılık D) Turizm


29.



Yukarıda numaralarla gösterilen enerji kaynakları hakkında verilen yargılardan hangisi yanlıştır?

- A) Yenilenebilir enerji kaynakları arasında yer alırlar.
B) Doğada varlıkları asla sona ermez.
C) Alternatif enerji kaynakları olarak nitelendirilirler.
D) Kullanımları hava, su ve toprak kirliliğine sebep olmaktadır.

26.



Orman, bir ülkenin en önemli doğal kaynaklarından. Ülkemizin %28,6'sı ormanlarla kaplıdır. Ormanlarımızın büyük bölümü yağışın bol olduğu kıyı kesimlerimizde toplanmıştır. Ormanların birçok faydası vardır. Örnek olarak kâğıt, kereste ve mobilya sanayisinde ve inşaat alanında yararlanılan ormanlar; erozyonu azaltır, atmosfere oksijen kazandırır, dinlenme alanı oluşturur. Ayrıca çam ağaçlarının yağı kozmetik len çam fıstığı ve reçinesi, siğla ağaçlarının yağı kozmetik alanında kullanılmakta, böylece ülke ekonomisine katkı sağlanmaktadır.

Yukarıda verilen bilgilere göre,

- Ülkemizin yarısından çoğu ormanlarla kaplıdır.
- Ormanlar geniş bir üretim ve kullanım alanına sahiptir.
- Ormanlık ülke ekonomisine en fazla katkı sağlayan faaliyetler; yargılarından hangilerine ulaşılabilir?

- A) Yalnız II B) I ve III C) II ve III D) I, II ve III

27.

Dünya Bor Rezervlerinin Dağılımı (2017)

ÜLKE	TOPLAM REZERV (Bin ton B.O ₂)	TOPLAM REZERV (%B.O ₂)
Türkiye	948.712	73,4
Rusya	100.000	7,7
A.B.D.	80.000	6,2
Şili	41.000	3,2
Çin	36.000	2,8
Peru	22.000	1,7

Verilen bilgiler doğrultusunda,

- Ülkemiz bor satışından elde edilen gelir bakımından birinci sıradadır.
- Türkiye, dünya bor rezervinin dörtte üçüne yakın bir paya sahiptir.
- Rusya'nın rezerv oranı Şili, Çin ve Peru'nun toplam rezerv oranına eşittir.

yorumlarından hangileri yapılabilir?

- A) Yalnız I B) I ve II C) II ve III D) I, II ve III

28.




Merhaba benim adım Doruk. Sosyal bilgiler öğretmenimiz bu haftaki araştırma ödevimizde bizlerden; ilimiz için yatırım ve kalkınma projesi örnekleri yapmamızı istedi. Ben de ödevim için hazırlık yaptım. Doğduğum köyün yakınlarında bulunan Taşyarar Vadisi doğal güzellikleriyle göze çarpmaktadır. Bu doğal güzelliğin herkes tarafından bilinmesini ve görülmesini istedim. Taşyarar Vadisi'ni aktif kullanılır hâle getirerek Uşak'ın ve Türkiye'nin ekonomisine katkı sağlamayı hedefledim.

Buna göre Doruk'un yatırım ve kalkınma projesi özellikle hangi ekonomik faaliyetle yakından ilgilidir?

- A) Sanayi B) Tarım C) Hayvancılık D) Turizm

29.



Yukarıda numaralarla gösterilen enerji kaynakları hakkında verilen yargılardan hangisi yanlıştır?

- A) Yenilenebilir enerji kaynakları arasında yer alırlar.
B) Doğada varlıkları asla sona ermez.
C) Alternatif enerji kaynakları olarak nitelendirilirler.
D) Kullanımları hava, su ve toprak kirliliğine sebep olmaktadır.

26.



Orman, bir ülkenin en önemli doğal kaynaklarından. Ülkemizin %28,6'sı ormanlarla kaplıdır. Ormanlarımızın büyük bölümü yağışın bol olduğu kıyı kesimlerimizde toplanmıştır. Ormanların birçok faydası vardır. Örnek olarak kâğıt, kereste ve mobilya sanayisinde ve inşaat alanında yararlanılan ormanlar; erozyonu azaltır, atmosfere oksijen kazandırır, dinlenme alanı oluşturur. Ayrıca çam ağaçlarının yağı kozmetik len çam fıstığı ve reçinesi, siğla ağaçlarının yağı kozmetik alanında kullanılmakta, böylece ülke ekonomisine katkı sağlanmaktadır.

Yukarıda verilen bilgilere göre,

- Ülkemizin yarısından çoğu ormanlarla kaplıdır.
- Ormanlar geniş bir üretim ve kullanım alanına sahiptir.
- Ormanlık ülke ekonomisine en fazla katkı sağlayan faaliyetler; yargılarından hangilerine ulaşılabilir?

- A) Yalnız II B) I ve III C) II ve III D) I, II ve III

27.

Dünya Bor Rezervlerinin Dağılımı (2017)

ÜLKE	TOPLAM REZERV (Bin ton B.O ₂)	TOPLAM REZERV (%B.O ₂)
Türkiye	948.712	73,4
Rusya	100.000	7,7
A.B.D.	80.000	6,2
Şili	41.000	3,2
Çin	36.000	2,8
Peru	22.000	1,7

Verilen bilgiler doğrultusunda,

- Ülkemiz bor satışından elde edilen gelir bakımından birinci sıradadır.
- Türkiye, dünya bor rezervinin dörtte üçüne yakın bir paya sahiptir.
- Rusya'nın rezerv oranı Şili, Çin ve Peru'nun toplam rezerv oranına eşittir.

yorumlarından hangileri yapılabilir?

- A) Yalnız I B) I ve II C) II ve III D) I, II ve III

28.




Merhaba benim adım Doruk. Sosyal bilgiler öğretmenimiz bu haftaki araştırma ödevimizde bizlerden; ilimiz için yatırım ve kalkınma projesi örnekleri yapmamızı istedi. Ben de ödevim için hazırlık yaptım. Doğduğum köyün yakınlarında bulunan Taşyaran Vadisi doğal güzellikleriyle göze çarpmaktadır. Bu doğal güzelliğin herkes tarafından bilinmesini ve görülmesini istedim. Taşyaran Vadisi'ni aktif kullanılır hâle getirerek Uşak'ın ve Türkiye'nin ekonomisine katkı sağlamayı hedefledim.

Buna göre Doruk'un yatırım ve kalkınma projesi özellikle hangi ekonomik faaliyetle yakından ilgilidir?

- A) Sanayi B) Tarım C) Hayvancılık D) Turizm

29.



Yukarıda numaralarla gösterilen enerji kaynakları hakkında verilen yargılardan hangisi yanlıştır?

- A) Yenilenebilir enerji kaynakları arasında yer alırlar.
B) Doğada varlıkları asla sona ermez.
C) Alternatif enerji kaynakları olarak nitelendirilirler.
D) Kullanımları hava, su ve toprak kirliliğine sebep olmaktadır.

26.



Orman, bir ülkenin en önemli doğal kaynaklarından. Ülkemizin %28,6'sı ormanlarla kaplıdır. Ormanlarımızın büyük bölümü yağışın bol olduğu kıyı kesimlerimizde toplanmıştır. Ormanların birçok faydası vardır. Örnek olarak kâğıt, kereste ve mobilya sanayisinde ve inşaat alanında yararlanılan ormanlar; erozyonu azaltır, atmosfere oksijen kazandırır, dinlenme alanı oluşturur. Ayrıca çam ağaçlarının yağı kozmetik len çam fıstığı ve reçinesi, siğla ağaçlarının yağı kozmetik alanında kullanılmakta, böylece ülke ekonomisine katkı sağlanmaktadır.

Yukarıda verilen bilgilere göre,

- Ülkemizin yarısından çoğu ormanlarla kaplıdır.
- Ormanlar geniş bir üretim ve kullanım alanına sahiptir.
- Ormanlık ülke ekonomisine en fazla katkı sağlayan faaliyetler; yargılarından hangilerine ulaşılabilir?

- A) Yalnız II B) I ve III C) II ve III D) I, II ve III

27.

Dünya Bor Rezervlerinin Dağılımı (2017)

ÜLKE	TOPLAM REZERV (Bin ton B.O ₂)	TOPLAM REZERV (%B.O ₂)
Türkiye	948.712	73,4
Rusya	100.000	7,7
A.B.D.	80.000	6,2
Şili	41.000	3,2
Çin	36.000	2,8
Peru	22.000	1,7

Verilen bilgiler doğrultusunda,

- Ülkemiz bor satışından elde edilen gelir bakımından birinci sıradadır.
- Türkiye, dünya bor rezervinin dörtte üçüne yakın bir paya sahiptir.
- Rusya'nın rezerv oranı Şili, Çin ve Peru'nun toplam rezerv oranına eşittir.

yorumlarından hangileri yapılabilir?

- A) Yalnız I B) I ve II C) II ve III D) I, II ve III

28.




Merhaba benim adım Doruk. Sosyal bilgiler öğretmenimiz bu haftaki araştırma ödevimizde bizlerden; ilimiz için yatırım ve kalkınma projesi örnekleri yapmamızı istedi. Ben de ödevim için hazırlık yaptım. Doğduğum köyün yakınlarında bulunan Taşyarar Vadisi doğal güzellikleriyle göze çarpmaktadır. Bu doğal güzelliğin herkes tarafından bilinmesini ve görülmesini istedim. Taşyarar Vadisi'ni aktif kullanılır hâle getirerek Uşak'ın ve Türkiye'nin ekonomisine katkı sağlamayı hedefledim.

Buna göre Doruk'un yatırım ve kalkınma projesi özellikle hangi ekonomik faaliyetle yakından ilgilidir?

- A) Sanayi B) Tarım C) Hayvancılık D) Turizm

29.



Yukarıda numaralarla gösterilen enerji kaynakları hakkında verilen yargılardan hangisi yanlıştır?

- A) Yenilenebilir enerji kaynakları arasında yer alırlar.
B) Doğada varlıkları asla sona ermez.
C) Alternatif enerji kaynakları olarak nitelendirilirler.
D) Kullanımları hava, su ve toprak kirliliğine sebep olmaktadır.

26.



Orman, bir ülkenin en önemli doğal kaynaklarından. Ülkemizin %28,6'sı ormanlarla kaplıdır. Ormanlarımızın büyük bölümü yağışın bol olduğu kıyı kesimlerimizde toplanmıştır. Ormanların birçok faydası vardır. Örnek olarak kâğıt, kereste ve mobilya sanayisinde ve inşaat alanında yararlanılan ormanlar; erozyonu azaltır, atmosfere oksijen kazandırır, dinlenme alanı oluşturur. Ayrıca çam ağaçlarının yağı kozmetik len çam fıstığı ve reçinesi, siğla ağaçlarının yağı kozmetik alanında kullanılmakta, böylece ülke ekonomisine katkı sağlanmaktadır.

Yukarıda verilen bilgilere göre,

- Ülkemizin yarısından çoğu ormanlarla kaplıdır.
- Ormanlar geniş bir üretim ve kullanım alanına sahiptir.
- Ormanlık ülke ekonomisine en fazla katkı sağlayan faaliyetler; yargılarından hangilerine ulaşılabilir?

- A) Yalnız II B) I ve III C) II ve III D) I, II ve III

27.

Dünya Bor Rezervlerinin Dağılımı (2017)

ÜLKE	TOPLAM REZERV (Bin ton B.O ₂)	TOPLAM REZERV (%B.O ₂)
Türkiye	948.712	73,4
Rusya	100.000	7,7
A.B.D.	80.000	6,2
Şili	41.000	3,2
Çin	36.000	2,8
Peru	22.000	1,7

Verilen bilgiler doğrultusunda,

- Ülkemiz bor satışından elde edilen gelir bakımından birinci sıradadır.
- Türkiye, dünya bor rezervinin dörtte üçüne yakın bir paya sahiptir.
- Rusya'nın rezerv oranı Şili, Çin ve Peru'nun toplam rezerv oranına eşittir.

yorumlarından hangileri yapılabilir?

- A) Yalnız I B) I ve II C) II ve III D) I, II ve III

28.




Merhaba benim adım Doruk. Sosyal bilgiler öğretmenimiz bu haftaki araştırma ödevimizde bizlerden; ilimiz için yatırım ve kalkınma projesi örnekleri yapmamızı istedi. Ben de ödevim için hazırlık yaptım. Doğduğum köyün yakınlarında bulunan Taşyarar Vadisi doğal güzellikleriyle göze çarpmaktadır. Bu doğal güzelliğin herkes tarafından bilinmesini ve görülmesini istedim. Taşyarar Vadisi'ni aktif kullanılır hale getirerek Uşak'ın ve Türkiye'nin ekonomisine katkı sağlamayı hedefledim.

Buna göre Doruk'un yatırım ve kalkınma projesi özellikle hangi ekonomik faaliyetle yakından ilgilidir?

- A) Sanayi B) Tarım C) Hayvancılık D) Turizm


29.



Yukarıda numaralarla gösterilen enerji kaynakları hakkında verilen yargılardan hangisi yanlıştır?

- A) Yenilenebilir enerji kaynakları arasında yer alırlar.
B) Doğada varlıkları asla sona ermez.
C) Alternatif enerji kaynakları olarak nitelendirilirler.
D) Kullanımları hava, su ve toprak kirliliğine sebep olmaktadır.

26.



Orman, bir ülkenin en önemli doğal kaynaklarından. Ülkemizin %28,6'sı ormanlarla kaplıdır. Ormanlarımızın büyük bölümü yağışın bol olduğu kıyı kesimlerimizde toplanmıştır. Ormanların birçok faydası vardır. Örnek olarak kâğıt, kereste ve mobilya sanayisinde ve inşaat alanında yararlanılan ormanlar; erozyonu azaltır, atmosfere oksijen kazandırır, dinlenme alanı oluşturur. Ayrıca çam ağaçlarının yağı kozmetik len çam fıstığı ve reçinesi, siğla ağaçlarının yağı kozmetik alanında kullanılmakta, böylece ülke ekonomisine katkı sağlanmaktadır.

Yukarıda verilen bilgilere göre,

- Ülkemizin yarısından çoğu ormanlarla kaplıdır.
- Ormanlar geniş bir üretim ve kullanım alanına sahiptir.
- Ormanlık ülke ekonomisine en fazla katkı sağlayan faaliyetler; yargılarından hangilerine ulaşılabilir?

- A) Yalnız II B) I ve III C) II ve III D) I, II ve III

27.

Dünya Bor Rezervlerinin Dağılımı (2017)

ÜLKE	TOPLAM REZERV (Bin ton B.O ₂)	TOPLAM REZERV (%B.O ₂)
Türkiye	948.712	73,4
Rusya	100.000	7,7
A.B.D.	80.000	6,2
Şili	41.000	3,2
Çin	36.000	2,8
Peru	22.000	1,7

Verilen bilgiler doğrultusunda,

- Ülkemiz bor satışından elde edilen gelir bakımından birinci sıradadır.
- Türkiye, dünya bor rezervinin dörtte üçüne yakın bir paya sahiptir.
- Rusya'nın rezerv oranı Şili, Çin ve Peru'nun toplam rezerv oranına eşittir.

yorumlarından hangileri yapılabilir?

- A) Yalnız I B) I ve II C) II ve III D) I, II ve III

28.




Merhaba benim adım Doruk. Sosyal bilgiler öğretmenimiz bu haftaki araştırma ödevimizde bizlerden; ilimiz için yatırım ve kalkınma projesi örnekleri yapmamızı istedi. Ben de ödevim için hazırlık yaptım. Doğduğum köyün yakınlarında bulunan Taşyarar Vadisi doğal güzellikleriyle göze çarpmaktadır. Bu doğal güzelliğin herkes tarafından bilinmesini ve görülmesini istedim. Taşyarar Vadisi'ni aktif kullanılır hâle getirerek Uşak'ın ve Türkiye'nin ekonomisine katkı sağlamayı hedefledim.

Buna göre Doruk'un yatırım ve kalkınma projesi özellikle hangi ekonomik faaliyetle yakından ilgilidir?

- A) Sanayi B) Tarım C) Hayvancılık D) Turizm

29.



Yukarıda numaralarla gösterilen enerji kaynakları hakkında verilen yargılardan hangisi yanlıştır?

- A) Yenilenebilir enerji kaynakları arasında yer alırlar.
B) Doğada varlıkları asla sona ermez.
C) Alternatif enerji kaynakları olarak nitelendirilirler.
D) Kullanımları hava, su ve toprak kirliliğine sebep olmaktadır.

26.



Orman, bir ülkenin en önemli doğal kaynaklarından. Ülkemizin %28,6'sı ormanlarla kaplıdır. Ormanlarımızın büyük bölümü yağışın bol olduğu kıyı kesimlerimizde toplanmıştır. Ormanların birçok faydası vardır. Örnek olarak kâğıt, kereste ve mobilya sanayisinde ve inşaat alanında yararlanılan ormanlar; erozyonu azaltır, atmosfere oksijen kazandırır, dinlenme alanı oluşturur. Ayrıca çam ağaçlarının yağı kozmetik len çam fıstığı ve reçinesi, siğla ağaçlarının yağı kozmetik alanlarda kullanılmakta, böylece ülke ekonomisine katkı sağlanmaktadır.

Yukarıda verilen bilgilere göre,

- Ülkemizin yarısından çoğu ormanlarla kaplıdır.
- Ormanlar geniş bir üretim ve kullanım alanına sahiptir.
- Ormanlık ülke ekonomisine en fazla katkı sağlayan faaliyetler; yargılardan hangilerine ulaşılabilir?

- A) Yalnız II B) I ve III C) II ve III D) I, II ve III

27.

Dünya Bor Rezervlerinin Dağılımı (2017)

ÜLKE	TOPLAM REZERV (Bin ton B.O ₂)	TOPLAM REZERV (%B.O ₂)
Türkiye	948.712	73,4
Rusya	100.000	7,7
A.B.D.	80.000	6,2
Şili	41.000	3,2
Çin	36.000	2,8
Peru	22.000	1,7

Verilen bilgiler doğrultusunda,

- Ülkemiz bor satışından elde edilen gelir bakımından birinci sıradadır.
- Türkiye, dünya bor rezervinin dörtte üçüne yakın bir paya sahiptir.
- Rusya'nın rezerv oranı Şili, Çin ve Peru'nun toplam rezerv oranına eşittir.

yorumlarından hangileri yapılabilir?

- A) Yalnız I B) I ve II C) II ve III D) I, II ve III

28.




Merhaba benim adım Doruk. Sosyal bilgiler öğretmenimiz bu haftaki araştırma ödevimizde bizlerden; ilimiz için yatırım ve kalkınma projesi örnekleri yapmamızı istedi. Ben de ödevim için hazırlık yaptım. Doğduğum köyün yakınlarında bulunan Taşyarar Vadisi doğal güzellikleriyle göze çarpmaktadır. Bu doğal güzelliğin herkes tarafından bilinmesini ve görülmesini istedim. Taşyarar Vadisi'ni aktif kullanılır hâle getirerek Uşak'ın ve Türkiye'nin ekonomisine katkı sağlamayı hedefledim.

Buna göre Doruk'un yatırım ve kalkınma projesi özellikle hangi ekonomik faaliyetle yakından ilgilidir?

- A) Sanayi B) Tarım C) Hayvancılık D) Turizm

29.



Yukarıda numaralarla gösterilen enerji kaynakları hakkında verilen yargılardan hangisi yanlıştır?

- A) Yenilenebilir enerji kaynakları arasında yer alırlar.
B) Doğada varlıkları asla sona ermez.
C) Alternatif enerji kaynakları olarak nitelendirilirler.
D) Kullanımları hava, su ve toprak kirliliğine sebep olmaktadır.