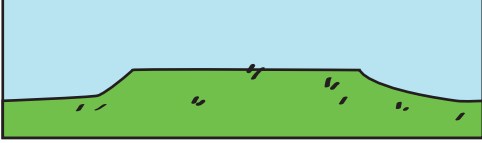


FARKLI YERYÜZÜ ŞEKİLLERİ

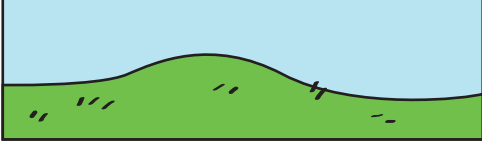
YÖNERGE:

Doğru açıklamalarla, doğru resimleri aralarında bir çizgi çizerek eşleştir.

1. Plato



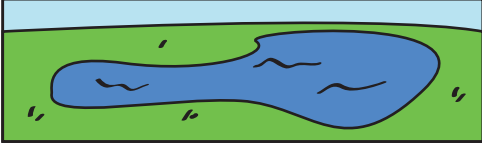
2. Tepe




3. Dağ




4. Göl



5. Nehir




6. Okyanus



7. Ova



8. Ada



a. Etrafı sularla kaplı küçük toprak parçası.

b. Yüksekte bulunan geniş düzlükler.

c. Genellikle uzun boylu ve dik olan arazi.

d. Kıvrımlı hatlara sahip olabilen su yolu.

e. Düz, açık arazi.

f. Küçük yükseklik, tümsek.

g. Etrafı karalarla çevrili su birikintisi

h. Büyük bir yüzeye sahip su birikintisi

