

Adı-Soyadı: Okul No:

1. SORU (25 Puan)	2. SORU (15 Puan)	3. SORU (16 Puan)	4. SORU (9 Puan)	5. SORU (15 Puan)	6. SORU (20 Puan)	ALDIĞI PUAN
.....



Yukarıdaki Türkiye Siyasi Haritası'na göre Afyonkarahisar'ın göreceli konumu şu şekildedir:

- Yedi il ile sınırı vardır.
- Batısında Denizli, Uşak ve Kütahya bulunmaktadır.
- Güneyinde Burdur ve Isparta vardır.
- Doğusunda Konya yer almaktadır.
- Kuzeyinde Eskişehir bulunmaktadır.

Bu bilgilerden yola çıkarak siz de **yaşadığınız ilin** göreceli konumunu yazınız.

- Benim yaşadığım il Antalya'dır. Antalya'nın altı il ile sınırı vardır.
- Batısında Muğla bulunmaktadır.
- Güneyinde Akdeniz vardır.
- Doğusunda Mersin ve Karaman yer almaktadır.
- Kuzeyinde Konya, Isparta ve Burdur bulunmaktadır.

2)



Yaşadığınız yere bu şekilde yeni bir fabrika kurulacak olmasının olumlu sonuçları neler olabilir? Düşüncelerinizi yazınız.

İşsizlik oranları düşer ve bölgedeki ekonomik kalkınma hızlanır. Yeni iş imkânları, yerel halkın gelir seviyesini yükseltir ve yaşam kalitesini artırır. Ayrıca fabrika çevresindeki hizmet sektörlerinde, örneğin restoranlar, oteller ve mağazalar gibi işletmelerde canlanma yaşanır. Bu durum, bölgeye olan yatırımların artmasına ve alt yapı hizmetlerinin gelişmesine olanak tanır. Bununla birlikte fabrikaların sağladığı üretim, bölgenin ihracat potansiyelini artırabilir ve yerel ekonomiyi daha rekabetçi bir hâle getirebilir. Sonuç olarak yeni bir fabrika açılması, ekonomik refahı ve sosyal gelişimi destekleyen çeşitli olumlu etkiler yaratır.

- 3) **Doğal Varlık:** Var oluşunda insanların etkisinin olmadığı, yeryüzünde kendiliğinden oluşmuş varlıklara denir.
Beşerî Varlık: İnsanların doğayı değiştirmesi sonucunda ortaya çıkan varlıklara denir.
Buna göre çevremizdeki doğal ve beşerî varlıklara örnekler veriniz.

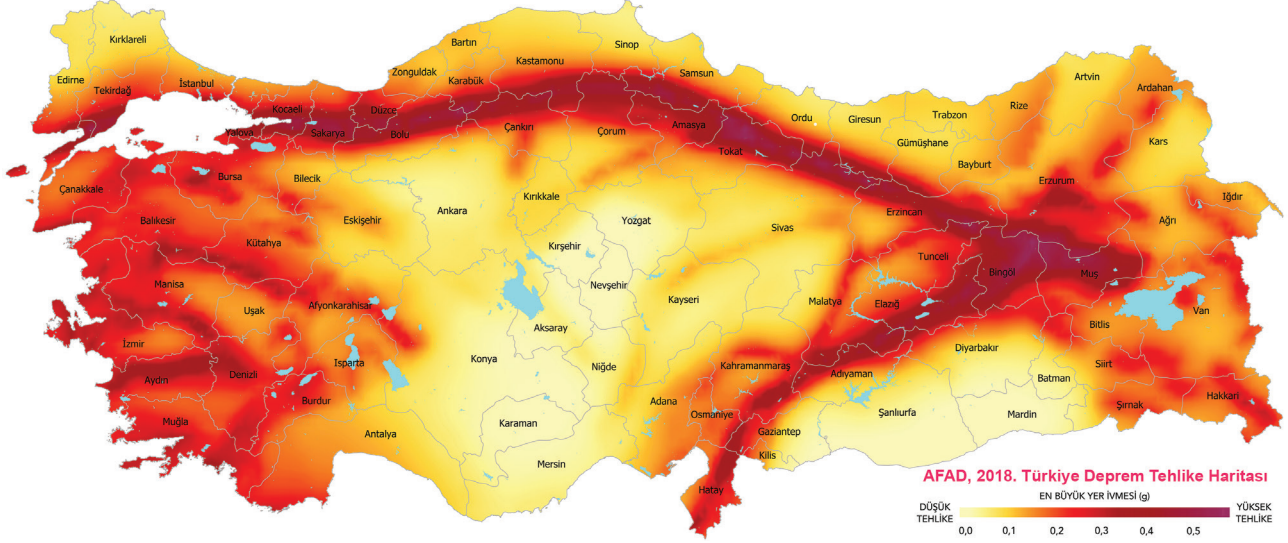
Doğal Varlıklar

- Dağ
- Ova
- Akarsu
- Vadi

Beşerî Varlıklar

- Antik kent
- Cami
- Kale
- Müze

- 4) Aşağıda Türkiye Deprem Risk Haritası verilmiştir.



Türkiye Deprem Risk Haritası'na göre deprem riski en az olan illerden üç tanesini yazınız.






- Konya
- Karaman
- Nevşehir

- 5) Dağlık ve engebeli yamaçlarda tutunamayan kar kütlelerinin aşağı doğru hareket etmesi sonucu meydana gelen ve afete neden olan olaya ne denir? Yazınız.

Çığ

- 6) Verilen görsellerin hangi komşu ülkeye ait olduğunu “.....” ile boş bırakılan yerlere yazınız.

Yönetim Şekli  Cumhuriyet	ÜLKE ADI: Nahçıvan Özerk Cum.	Nüfusu  465 bin
Resmî Dili  Türkçe	Başkenti  Bakü	Para Birimi  Manat

Yönetim Şekli  Cumhuriyet	ÜLKE ADI: İran	Nüfusu  86,55 milyon
Resmî Dili  Farsça	Başkenti  Tahran	Para Birimi  Riyal