

LGS DENEME SINAVI

Ekonomi Alanında Yapılan Yenilikler

ADI :

SOYADI :

ÖĞRENCİ NO :


OKULU :

DOĞRU: YANLIŞ: BOŞ:

Sevgili öğrenciler!
Kolay gelsin.
Başarılar diliyorum.



8 SINIF




Yusuf BAYRAM
Sosyal Bilgiler Öğretmeni
www.benimsosyalhocam.com

İnstagram
↓
[@benimsosyalhocam](https://www.instagram.com/benimsosyalhocam)



Her türlü paylaşıma açıktır. Ticari amaçlı kullanılamaz. ©



Türkiye İktisat Kongresi bazı kararları;

- Öncelikle, ham maddesi yurt içinden temin edilen sanayi dalları kurulmalıdır.
- Kısa sürede, küçük işletme ve el tezgâhlarından fabrika ve büyük işletmelere geçilmelidir.
- Özel sektöre kredi verecek bir banka kurularak sanayi kuruluşları teşvik edilmelidir.
- Özel sektörün gerçekleştiremediği yatırımları devlet yapmalıdır.

1) Yukarıdaki bilgilerden hangisine ulaşılabilir?

- A) Devletçilik ilkesine uygun kararlardır.
- B) Milliyetçilik ilkesine uygun kararlardır.
- C) Küçük işletmelerde süreklilik esas alınmıştır.
- D) Sanayi faaliyetleri ön plana alınmıştır.

Millî bağımsızlığını kazanan Türk devleti, ekonomik bağımsızlığını kazanmak için tarım, ticaret, sanayi ve bayındırlık alanlarının tümünde önemli atılımlar yapmayı gerekli görmüştü. Çünkü, Kurtuluş Savaşı'nın kazanılmasından sonra ülkenin her alanda kalkınmaya ihtiyacı vardı.

2) Buna göre hangisi ekonomik bağımsızlık adına atılan adımlardan değildir?

- A) Sümerbank'ın kurulması.
- B) Karabük Demir Çelik fabrikasının açılması.
- C) Kabotaj kanununun çıkarılması.
- D) Hıfzıssıhha Enstitüsünün kurulması.

Amerika Birleşik Devletleri'nde borsanın 21 Ekim 1929'da çökmesiyle başlayan 1929 Ekonomik Krizi ya da diğer adıyla Büyük Buhran, 20. yüzyıl dünya tarihindeki en önemli olaylardan biridir. Kriz, ABD'den başlayarak bütün dünya piyasalarına yayıldı. Sanayileşmiş ülkelerin tamamı bu krizden etkilendi.


3) Aşağıdakilerden hangisi dünya ekonomik krizinin Türkiye'ye olumsuz etkisi sayılamaz?

- A) Üretilen tarım ürünleri ihraç edilemedi.
- B) Merkez Bankasının kurulması.
- C) Osmanlıdan kalan borçlar ödenemedi.
- D) Türk parası hızla değer kaybetti.

O yıllarda büyük ölçüde bataklık ve sazlıklarla kaplı olan 52.000 dekarlık alanda Mustafa Kemal Paşa'nın talimatı ile gerçekleştirilen başarılı çalışmalar; fidan yetiştirme, bahçecilik, bağcılık ve hayvancılık alanlarında çiftçilere örnek ve yol gösterici oldu. Çiftlikteki tarım ve hayvancılık faaliyetleri doğrultusunda bünyesinde endüstriyel tesisler de kuruldu. Mustafa Kemal'in Ankara'da bir çiftlik kurma arzusunda bozkır ortasına kurulmuş olan yeni başkent Ankara'nın halkı için bir doğa güzelliği ve sosyal yaşam alanı yaratma isteği de önemlidir.

4) Atatürk ve Atatürk Orman Çiftliği ile ilgili bu bilgilerden hangisine ulaşılabilir?

- A) Sosyal alan oluşturmak ön plandadır.
- B) Hayvancılık faaliyetleri ağırlıktadır.
- C) Mevcut doğal ortam bozulmuştur.
- D) Çiftçilere örnek ve yol gösterici oldu.



Dünya ekonomik krizinin Türkiye’de hissedildiği 1929 ile 1933 yılları arasında hükûmet bir dizi önlem alarak krizin etkilerini hafifletmeye çalıştı. Türkiye, bu zor yıllarda Türkiye İktisat Kongresi politikasında belirlediği ekonomi ilkelerinden vazgeçerek daha devletçi bir ekonomi politikası gütmeye başladı. Bu yıllarda özel sektör sermaye birikimi konusunda yetersiz kaldığı için devlet kendi eliyle sanayileşmeyi hızlandırmaya çalıştı.

5) Aşağıdaki fabrikalardan Dünya ekonomik krizinin etkisi ile açılmamıştır?

- A) Uşak Şeker Fabrikası (1926)
- B) Konya Ereğli Bez Fabrikası (1934)
- C) İzmit Kâğıt ve Karton Fabrikası (1934)
- D) Bursa Merinos Fabrikası (1935)

İkinci Beş Yıllık Sanayi Planı ilk planın aksine ara malları ve yatırım malları üretimine öncelik vermek-teydi. Ayrıca elektrifikasyon, madencilik ve limanlar gibi altyapısal gelişmeleri dikkate almaktaydı. Bu nitelikler itibarıyla İkinci Beş Yıllık Sanayi Planı’nın bir bakıma kendine yeterlilik ilkesine önem verdiği ve ilk planın doğal bir uzantısı olduğu söylenebilir. Ancak İkinci Beş Yıllık Sanayi Planı, II. Dünya Savaşı nedeniyle uygulamaya konulamamıştır.

6) İkinci Beş Yıllık Sanayi planı uygulamaya konulamamasının nedeni hangisi olamaz?

- A) Kaynakların askeri alana aktarılması.
- B) Güvenlik ihtiyacının ön plana alınması.
- C) Birinci planda hedefe ulaşılamaması.
- D) Savaşın içerde ve dışarıda olumsuz etkisi.

Osmanlı Devleti’nde denizlerdeki taşıma ve işletme hakları yabancı şirketlerin elinde bulunuyordu. Bu durum millî egemenlik haklarına aykırı idi. Ayrıca Türk denizciliği bu uygulamadan zarar görüyordu. Türkiye İktisat Kongresi’nde, denizlerimizde faaliyet gösteren yabancı işletmelerin millîleştirilmesi kararı alındı.

7) Yukarıdaki gelişmeler doğrultusunda hangi kanun çıkarılmıştır?

- A) Kabotaj Kanunu.
- B) Teşvik-i Sanayi Kanunu.
- C) Uluslararası Rakamların Kabulü Kanunu.
- D) Medeni Kanun.

Yerli Malı Kullanımı

18 Aralık 1929’da “Millî İktisat ve Tasarruf Cemiyeti” kuruldu. 1929’dan 1946’ya kadar “Millî İktisat ve Tasarruf Haftası”, 1946-1983 arasında ise “Yerli Malı Haftası” olarak kutlandı. Günümüzde ise “Tutum, Yatırım ve Türk Malları Haftası” olarak kutlamalar yapılmakta ve cumhuriyetin genç kuşaklarına tasarruf ve millî ekonomi bilinci aşılanmaya çalışılmaktadır.

(www.tek.org.tr) (Düzenlenmiştir.)

8) Hangisi yerli malı kullanımının gerekçelerinden sayılamaz?

- A) Yerli fabrikaların kurulmasını sağlamak.
- B) Paranın yabancı ülkelere gitmesini önlemek.
- C) Tüketim maddelerinin öz kaynaklardan karşılanmasını sağlamak.
- D) Tarımda iş gücünün artmasını sağlamak.

Kurtuluş Savaşı sırasında elindeki tüm imkânı ortaya koyan Türk milleti bağımsızlığını kazanmıştı. Fakat, geride ekonomisi tamamen bozulmuş bir ülke kalmıştı. Bütün bu olumsuzluklara rağmen Türk milleti, ekonomik kalkınmayı gerçekleştirmek ve çağdaş ülkeleri yakalamak zorundaydı. Mustafa Kemal, daha cumhuriyeti ilan etmeden önce ülke ekonomisinin bağımsız ve millî olabilmesi için İzmir’de Türkiye iktisat Kongresi’ni topladı.

9) Yukarıdaki bilgilerden

- I.Ekonomide gelişmeye ihtiyacımız var.
II.Mustafa Kemal için milli ve bağımsız bir ekonomi cumhuriyetten daha önemlidir.
III.Ekonominin mevcut hali bu sorunların çözümüne öncelik verilmesini sağlamıştır.

hangisine ulaşılabilir?

- A) Yalnız I
B) Yalnız II
C) I ve III
D) I, II ve III

	Fransa	Büyük Britanya	Hollanda	Venedik	Prusya	Avusturya	Danimarka	İsveç	İki Sicilya	Toplam
İstanbul	17	14	5	1	4	—	4	4	3	52
İzmir		5	9	1	1	1	1	8	4	36
Halep	6	12	9	6	2	1	1	5	5	47
Selanik	3	4	2	—	2	—	1	3	5	20
Mora	3	3	4	—	2	—	—	—	—	10
Sidon- Akra- Beyrut	3	—	—	—	1	—	—	2	—	6
Kıbrıs	2	1	1	1	1	1	1	4	1	13
Khios	1	—	1	—	—	1	—	1	—	4
Trablus	4	2	—	—	1	1	—	—	—	8
Yanina	2	—	—	—	—	—	1	1	1	5
Girit	2	1	—	—	1	—	—	2	2	8
Atina	—	2	—	—	1	—	—	2	2	7
Diğer limanlar	1	—	—	—	3	2	3	14	8	31
TOPLAM	50	44	31	9	17	7	12	46	31	247

“1793’te Ülkelere göre Osmanlı Devleti’nde berat (iş belgesi) alan yabancı tüccar sayıları.”

Yabancı devletlere verilen “kapitülasyonlar” Osmanlı topraklarının yabancı ürünlerle dolmasına neden olmuştu. Bunun sonucunda yerli sanayi çökmüş ve ülke ekonomisi ağır bir darbe almıştı. Giderlerini karşılayamaz hâle gelen devlet, dışarıdan borç almış ancak borçlarını ödeyemeyip kısa sürede iflas etmişti. Bunun üzerine alacaklı devletler tarafından kurulan “Düyun-u Umûmiye” teşkilatı, devletin vergilerine el koymuştu. Ayrıca ülkedeki birçok demir yolu ve liman yabancı şirketler tarafından işletiliyordu. Tüm bunların etkisiyle Osmanlı Devleti ekonomik bağımsızlığını kaybetmişti.

10) Osmanlı devleti döneminde ekonomi ile ilgili yukarıdaki bilgilere bakarak hangisine ulaşamaz?

- A) Kapitülasyonlar yerli üretimi etkilenmiştir.
B) Devletin giderlerine el konmuştur.
C) Osmanlı giderleri borçlar ile karşılanmıştır.
D) Osmanlı açık pazar haline gelmiştir.