

8. SINIFLAR SENE BAŞI SEVİYE TESPİT SINAVI

1)

Dönemi	Önceki Döneme Göre Durumu	Nedenler
1935-1945	azalma	İkinci Dünya Savaşı
1950-1960	artma	Ekonomik yatırımlar
1960-1975	azalma	Yurt dışına işçi göçleri
1975-1980	azalma	Ülke içi sosyal sorunlar
1980-1990	artma	Sağlık hizmetleri ve ekonomik yatırımlar
1990 Sonrası	azalma	Nüfus ve aile planlaması çalışmaları ve eğitim seviyesinin yükselmesi





Yukarıdaki Türkiye’de nüfus sayımlarını ve nüfusun durumlarına gösteren tabloya göre aşağıdakilerden hangisi söylenemez?

- a) Nüfusumuz sürekli azalmıştır.
- b) Sağlık hizmetlerinin artması nüfusun artmasını sağlamıştır.
- c) Sosyal, siyasi ve askeri sorunlar nüfusun artıp azalmasında etkili olmuştur.
- d) Devlet, aile planlaması çalışmaları ile nüfusu artması veya azalması konusunda çalışma yapmıştır.

2) Bir yasanın yürürlüğe girip uygulanabilmesi için aşağıdakilerden hangisi gereklidir?

- a) TBMM’de kabul edilmesi
- b) Cumhurbaşkanının onaylaması
- c) TBMM’de komisyondan geçmesi
- d) Resmi Gazete’de yayınlanması

2) Aşağıdakilerden hangisi beyin göçüdür?

- a)  İşçi Mehmet’in Almanya’ya göç etmesi.
- b)  Doktor Ahmet’in ABD’ye göç etmesi
- c)  Mühendis Mehmet Bey’in Mersin’den Kayseri’ye gelerek başka bir fabrikada işe başlaması
- d)  Mehmet Amca’nın yaz gelince yaylaya çıkması

4) Türkiye Selçukluları döneminde yapılan aşağıdaki savaşlardan hangisi Anadolu'nun kesin olarak Türk yurdu olduğu ispatlayarak Anadolu'nun Türkleşme sürecine katkıda bulunmuştur?

a)

MALAZGİRT

b)

PASINLER

c)

MİRYOKEFELON

d)

DANDANAKAN

5) Osmanlı Devleti'nin siyasi bir güç olarak ortaya çıkmasında pek çok faktör etkili olmuştur. Aşağıdakilerden hangisi siyasi faktörlerden birisi değildir?

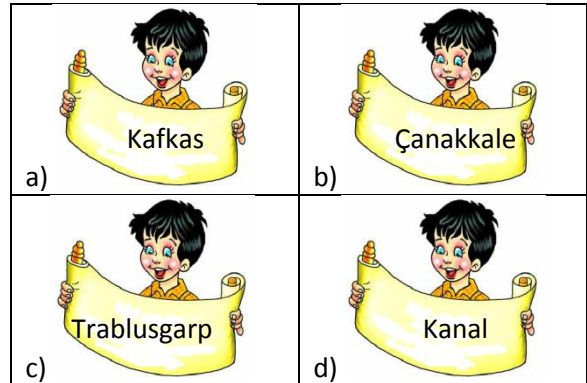
- a) Bizans'ın zayıf durumda bulunması
- b) Anadolu Türk beylikleri ile iyi ilişkiler kurulması
- c) Merkezi otoritenin güçlü tutulması
- d) Güçlü ve disiplinli bir ordusunun olması



6) Yukarıda kendisini tanıtan Osmanlı askeri aşağıdakilerden hangisidir?

- a) Yeniçeri
- b) Tımarlı Sipahi
- c) Akıncı
- d) Azap

7) Aşağıdakilerden hangisi Osmanlı Devleti'nin Birinci Dünya Savaşı'nda savaştığı cephelerden birisi değildir?



8)

Herkes kanun önünde eşittir. Ayrıca her devlet kurumunun görev ve yetkileri anayasa ve yasalarla belirlenmiştir. Hiç kimse anayasa ve yasalara aykırı davranamaz. Devlet vatandaşın canını, malını, temel hak ve hürriyetlerini güvence altına alır. Haksızlığa uğradığına inanan kişi mahkemeye başvurabilir. Kanunlara göre hükümlerin verildiği mahkemeler adaletin gerçekleştiği yerlerdir.

Yukarıda Türkiye Cumhuriyeti'nin niteliklerinden hangisi anlatılmıştır?

- a) Laik Devlet olması
- b) Hukuk Devleti olması
- c) Demokratik Devlet olması
- d) Sosyal Devlet olması

9) Osmanlı Devleti'nde ülke işlerinin görüşüldüğü Divan teşkilatındaki aşağıdaki görevlilerden hangisi mali işlerle ilgilenmektedir?

- a) Nişancı
- b) Kazasker
- c) Defterdar
- d) Sadrazam

10) Matbaa'nın icadı aşağıdaki gelişmelerden hangisi doğrudan veya dolaylı olarak etkilemiş olamaz?

- a) Rönesans
- b) Reform
- c) Coğrafi Keşifler
- d) Kavimler Göçü

11)



? olan yer aşağıdakilerden hangisi yazılmalıdır?

- a) Ülkemizde sanatı destekleyen kuruluşlar
- b) Ülkemizde tarımı destekleyen kuruluşlar
- c) Ülkemizde sağlığı destekleyen kuruluşlar
- d) Ülkemizde eğitimi destekleyen kuruluşlar

12) Aşağıdakilerden hangisi Osmanlı'da uygulanan toprak yönetim sistemi Tımar'ın faydalarından birisi olamaz?

- a) Tımar sistemi ile vakıfların da gelir elde etmesi sağlanmıştır.
- b) Toprağın işlenmesi ve üretimin devamlılığı sağlanmış, toprağın parçalanması önlenmiştir.
- c) Tımar sahiplerinin yetiştirdiği atlı askerler devletin hazineye yük olmadan güçlü ordulara sahip olmasını mümkün kılmıştır.
- d) Tımar sahiplerine maaş ödenmemesi devlet bütçesini rahatlatmıştır.

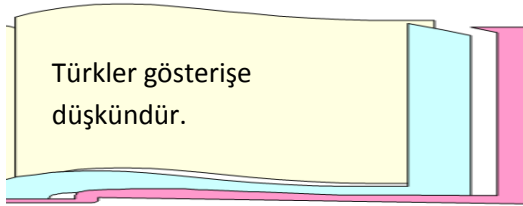
13) Osmanlı Devleti'nin varlığını sürdürdüğü toprakları düşünelim. Üç kıtada 600 yıldan fazla hüküm sürmüş bir devlettir. Birbirinden farklı milletler (Türk, Arap, Rum, Bulgar v.s.) ve farklı din ve mezhebe inanan insanlar (Müslüman, Hristiyan, Yahudi) bir arada yaşadı. Osmanlı Devleti bu farklılıklara rağmen huzur içerisinde bu milletleri yaşattı.

Bunu sağlayan temel politika aşağıdakilerden hangisidir?

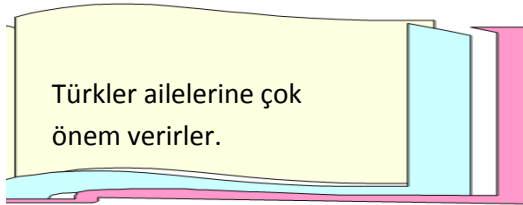
- a) İskân Politikası
- b) Devşirme Politikası
- c) Hoşgörü Politikası
- d) Sancağa Çıkma Politikası

14) 17. Yüzyılda Osmanlı ülkesini ziyaret eden bir yabancı seyyah Seyathamesine aşağıdaki notlardan hangisini almış olamaz?

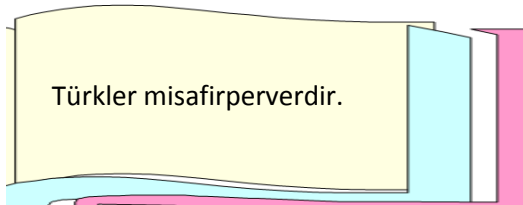
a)



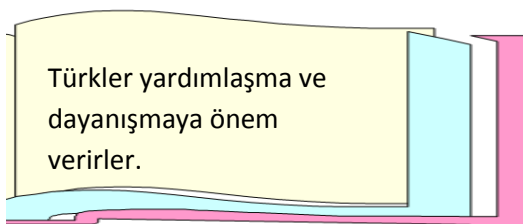
b)



c)



d)



15)

**Bilgi ve kültür aktarımı hızlanmıştır.*

**Eğitim öğretim faaliyetleri kolaylaşmıştır.*

**İnsanlar arasındaki etkileşim artmıştır.*

Yukarıdaki gelişmeler aşağıda buluşlardan hangisini keşfi ile mümkün olmuştur?

- a) Cam
- b) Mürekkep
- c) Barut
- d) Yazı

16) Bilimsel araştırmalara çok küçük yaşta başladı ve 17 yaşında Güneş'i gözlemlemek için bir alet yaptı. Bu gözlemler sonucu dünyanın döndüğünü ve yerçekiminin bulunduğunu söyledi. Dünyanın çevresini hesapladı. Gazneli Mahmut onun için "Sarayımın en değerli hazinesi" demiştir. Hükümdarların himayesinde çalışmalarını sürdüren bu bilim adamının ilgi alanı astronomi ile sınırlı değildi. Coğrafya, matematik, optik, tıp, eczacılık gibi alanlarda 140'ın üzerinde eser bıraktı.

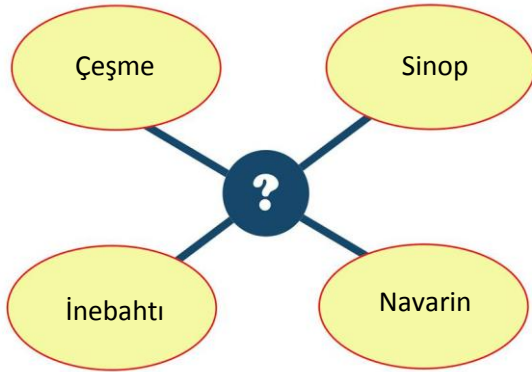
Yukarıda kendisi hakkında bilgi verilen Türk-İslam bilgini aşağıdakilerden hangisidir?

- a) Harezmi
- b) Biruni
- c) Ali Kuşçu
- d) Uluğ Bey

17) Coğrafi Keşifler'in aşağıdaki sonuçlarından hangisini kilise ve din adamlarına duyulan güveni azalttığını savunulabilir?

- a) Dünya'nın düz değil yuvarlak olduğu, kendi etrafında ve Güneş etrafında döndüğü, evrenin merkezi olmadığı gibi bilgilerin ortaya çıkması.
- b) Keşfedilen yerlerde sömürge imparatorlukları kurulması.
- c) Yeni bitki ve canlı türlerinin tanınması
- d) Zenginliğin kaynağının toprak yerine altın ve gümüş olması.

18)



? olan yere aşağıdakilerden hangisi yazılmalıdır?

- a) Osman Donanmasının zafer kazandığı yerler
- b) Osmanlı Donanmasının yakıldığı yerler
- c) Osmanlı Donanmasının sefere çıktığı yerler
- d) Osmanlı Donanmasının tersanesinin olduğu yerler

19) Osmanlılara şehirlere pek çok eser yapmışlar, şehrin planlı, düzenli ve sistemli şekilde büyümesine dikkat etmişlerdir. Şehirlerde halkın refahı ve ihtiyaçlarının karşılanması için her şey düşünülmüştür. Osmanlı şehirlerinde birçok milletten insan huzur içerisinde yaşamıştır. Malazgirt Zaferi ile başlayan Anadolu Türk tarihi içinde yüzyıllar boyunca pek çok eser ve şehirler yaşadıkları değişim ile Türk kültür, sanat ve estetiğini yansıtan yapılarla donatılmıştır. Aynı zamanda Osmanlı'dan kalma pek çok eserin günümüzde de kullanılması Türk mimarisinde neyi gösterir?

- a) Estetiği
- b) Değişimi
- c) Sürekliliği
- d) Etkileşime kapalı olmayı

20) Osmanlı Devleti ile Avrupa devletlerinin etkileşiminde elçilerin önemli katkısı olmuştur. Özellikle Osmanlı elçilerinin ziyaretleri Avrupa'da büyük yankı uyandırdı. Ziyaretler ile kültür ve sanat alanında Osmanlı esintileri Avrupa'ya yayıldı. Osmanlı'nın Avrupa etkilemesine aşağıdaki örneklerden hangisi verilemez?

- a) Mozart'ın mehterden esinlenerek Türk Marşı'nı beslemesi.
- b) Avrupa'da Alla Turka (Türk Usulü) denilen Türk Modası başlaması.
- c) Türk kilim ve halı motiflerinin Avrupalı ressamların resimlerinde yer alması.
- d) XVIII. yüzyıldan itibaren Osmanlı mimarisinde Avrupa tarzı saray ve eserlerin yapılması.

8. SINIFLAR SENE BAŞI SEVİYE TESPİT SINAVI CEVAP ANAHTARI																			
D	A	2	D	3	B	4	C	5	D	6	A	7	C	8	B	9	C	10	D
11	B	12	A	13	C	14	A	15	D	16	B	17	A	18	B	19	C	20	D