

Uzaktan Eđitim

Deneme Sınavı 6

L

G

S

Adı.....:

Soyadı.....:

Sınıf.....:

No.....:

T.C. İNKILAP TARİHİ VE ATATÜRKÇÜLÜK

1. 30 Ekim 1918 tarihinde imzalanan Mondros Ateşkes Antlaşması'ndan sonra Urfa, Antep, Maraş, Samsun, Antalya gibi çeşitli yerler İtilaf Devletleri tarafından işgal edilmiştir.

Bu işgaller Wilson İlkelerinin aşağıdaki maddelerinden hangisine uygun hareket edilmediğini kanıtlamaktadır?

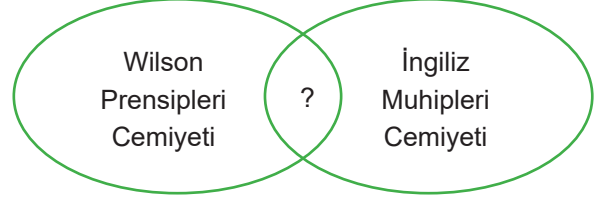
- A) Bugünkü Osmanlı Devleti'nin Türk kesimlerine güvenli bir egemenlik tanınmalı, Türk yönetimindeki öbür uluslara da her türlü kuşkudan uzak yaşam güvenliğiyle özerk gelişmeleri için tam bir özgürlük sağlanmalıdır.
- B) Her ülkede silah gücünün iç güvenliği sağlamaya yetecek en düşük düzeye indirilmesi için yeterli güvenceler karşılıklı olarak verilmelidir.
- C) Barışı onaylayan ve korumak için anlaşılan ülkeler arasındaki bütün ekonomik engeller olabildiğince kaldırılmalı ve ticaretin eşitlik temeline yürütülmesi sağlanmalıdır.
- D) Denizlerin uluslararası sözleşmeler gereğince bütünüyle ya da kısmen kapatılabilmesi dışında, savaşta ve barışta karasuları dışındaki bütün denizlerde mutlak seyrüsefer serbestliği sağlanmalıdır.

2. Sakarya Meydan Zaferi'nden sonra İtilaf Devletleri, TBMM ile Yunan kuvvetleri arasında ateşkes önerisinde bulunmuş ve her iki tarafın askeri bakımdan kendi denetimleri altında olmasını istemişlerdir. TBMM ateşkesi kabul edebileceğini ancak denetim altına girmeyi kabul etmeyeceğini bildirmiştir.

TBMM'nin ordumuzun İtilaf Devletlerinin denetimi altına girmesini istememesi aşağıdakilerden hangisine verdiği önemi göstermektedir?

- A) Ulus egemenliğine
- B) Milli bağımsızlığa
- C) Yunanlarla eşitliğe
- D) Ülke bütünlüğüne

3. Aşağıda yurdun işgalinden sonra kurulan milli varlığa düşman cemiyetlerden ikisi ile ilgili bir diyagram verilmiştir.



Bu diyagramdaki soru işareti ile gösterilen yere aşağıdakilerden hangisi yazılamaz?

- A) İtilaf Devletleri tarafından desteklenmişlerdir.
- B) Yabancı devletlerin güdümünde yaşamak istemişlerdir.
- C) Milli Mücadele'ye destek olmuşlardır.
- D) Milli birlik ve beraberliğin sağlanmasına zarar verecek faaliyetlerde bulunmuşlardır.

4.

İtalya	II. İnönü Savaşı'ndan sonra çekilmeye başlamış ve Sakarya Savaşı'ndan sonra tamamen işgal ettiği Akdeniz kıyılarından çekilmiştir.
Fransa	Sakarya Savaşı'ndan sonra yapılan Ankara Antlaşması ile savaş durumu bitmiş ve işgal ettiği Adana çevresinden çekilmiştir.
Yunanistan	Sakarya Savaşı'ndan sonra İngilizlerin desteği ile Afyon, Kütahya ve Eskişehir taraflarında savunma hattı oluşturmaya başlamıştır.

Tabloda verilen bilgilere göre aşağıdakilerden hangisine ulaşamaz?

- A) Milli Mücadele Dönemi sona ermiştir.
- B) Farklı cephelerde mücadeleler yaşanmıştır.
- C) İşgalci devletler arasında görüş ayrılıkları ortaya çıkmıştır.
- D) Yunanlar savunmaya geçmiştir.

T.C. İNKILAP TARİHİ VE ATATÜRKÇÜLÜK

5.

Milli egemenlik	Milletin kendi geleceğine kendisinin karar vermesi
Tam bağımsızlık	Bir ülkenin başka bir ülkenin etkisi altında olmaması
Ülke bütünlüğü	Milletin ülkesiyle birlikte bölünmez bir bütün olması
Devletler arası denklik	Bir ülkenin başka bir ülkeden üstün olmaması

Misakımillî'nin,

- Osmanlı Devleti'nin Mondros Ateşkes Antlaşması öncesi işgal edilmemiş topraklarının tamamı Türk yurtdur, parçalanamaz.
- Azınlık hakları, komşu ülkelerdeki Müslüman halka aynı hakların verilmesi şartıyla kabul edilecektir.
- Siyasi, adli ve mali gelişmemize engel olan sınırlamalar (kapitülasyonlar) kaldırılacaktır.

maddeleri yukarıda açıklamaları verilen kavramlarla eşleştirildiğinde hangi kavram açıkta kalır?

- A) Milli egemenlik B) Tam bağımsızlık C) Ülke bütünlüğü D) Devletler arası denklik

6.



2016 yılında 15 Temmuz'u 16 Temmuz'a bağlayan gece ülkemizde yaşanan darbe girişimi sırasında Cumhurbaşkanı Erdoğan FaceTime üzerinden CNNTürk sunucusu Hande Fırat'ın telefonuna bağlanmıştı. Canlı yayını bu şekilde gerçekleştiren Erdoğan, vatandaşlara "Milletimizi sokaklara davet ediyorum" çağrısı yapmıştı. Halkımızın meydanlara inmesi ile birlikte darbe girişimi önlenmişti.

Milli Mücadele Dönemi'nde de TBMM'ye karşı ayaklanmalar çıkarılmış ve bu ayaklanmaları önlemek için TBMM bazı tedbirler almıştı.

TBMM'nin aldığı aşağıdaki tedbirlerden hangisi yukarıdaki olayla ilişkilendirilebilir?

- A) İstanbul Hükûmeti ile her türlü ilişkinin kesilmesi
B) Hıyanet-i Vataniye Kanunu'nun çıkarılması ve İstiklal Mahkemelerinin kurulması
C) Anadolu Ajansının kamuoyu oluşturmak için yayınlar yapması
D) İstiklal Mahkemelerinde milletvekillerinin yer alması

7.

Mustafa Kemal, Çanakkale Cephesi'nde düşman kuvvetlerinin nereden çıkarma yapacağını tahmin ederek o bölgelere müdafaa hattı oluşturmuş ve emrindeki birlikleri imkansızlıklara rağmen iyi bir şekilde yöneterek başarılar kazanmıştır.

Bu durum Mustafa Kemal'in aşağıdaki özelliklerinden hangisi ile açıklanamaz?

- A) Mustafa Kemal ileri görüşlüdür.
B) Mesleğinin gereklerini iyi bir şekilde yapmaktadır.
C) Vatansever bir kişiliğe sahiptir.
D) Millet egemenliğinden yanadır.

T.C. İNKILAP TARİHİ VE ATATÜRKÇÜLÜK

8. “Mustafa Kemal 24 Ağustos sabahı Ankara’dan hareket etti. Afyon’un güneyindeki Şuhut kasabasında geceyi geçirdi. 25-26 Ağustos gecesi Kocatepe’nin hemen güneyindeki dere içine Başkomutanlık Karargâhına geldi. Şafakla beraber saldırı emrini verdi.

Ankara’dan hareket edeceği günün akşamını Keçiören’de yakın adamları ile geçirmişti. Ayrıldığı zaman bir hayli yorgundu. Yanındakilere;

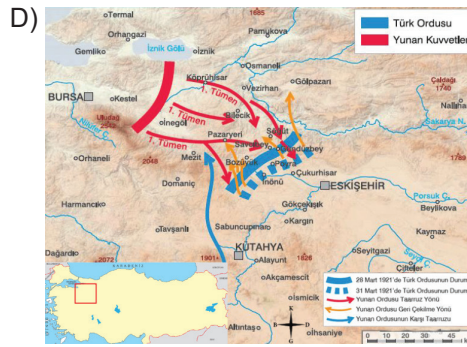
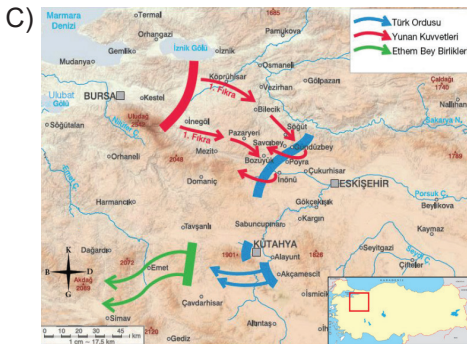
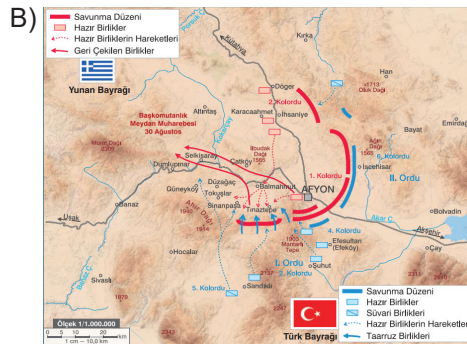
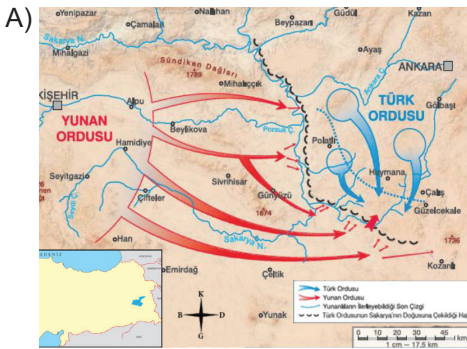
-Taarruz haberini alınca hesap ediniz. On beşinci gün İzmir’deyiz, demişti.

Arkasından hafifçe gülüştüler bile... İzmir’den dönüşünde karşılayıcılar arasında o gece beraber bulunduklarından bir ikisini görünce;

- Bir gün yanılmışım, dedi, ama kusur bende değil, düşmanda!

İzmir’e taarruzun on dördüncü günü girmişti.”

Parçada verilen bilgiler aşağıdaki savaş krokilerinden hangisi ile ilgili olabilir?



9. Mustafa Kemal, 1881’de milliyetçilik isyanlarının ve ayrılıkçı fikirlerin baş gösterdiği Selanik şehrinde doğmuştur.

Milliyetçilik fikrinin Selanik’te etkili olması şehrin aşağıdaki özelliklerinden hangisi ile açıklanamaz?

- Farklı ulusların bir arada yaşıyor olması
- Limanı sayesinde Batı’daki gelişmelere açık olması
- Yabancı gazete ve dergilerin kolayca temin edilebildiği bir yer olması
- Nüfusunun kalabalık olması

10. Başkomutanlık yetkisi Mustafa Kemal’e üç aylığına verilmiştir. Ancak daha sonra iki sefer daha uzatılmış ve en son Milli Mücadele sona erene kadar sınırsız uzatılmıştır.

Meclisin böyle karar almasında aşağıdakilerden hangisinin etkili olduğu söylenebilir?

- Mecliste farklı düşüncede kişilerin bulunması
- Halkın orduyu destekliyor olması
- Mustafa Kemal’e duyulan güven
- Milli egemenliğe geçilmek istenmesi

BU ÇALIŞMA TÖM ÖĖRETÖEN VE ÖĖRENCİLERİMİZİN YARARLANABİLMESİ
AMACIYLA HAZIRLANMIŞTIR. HER TÖRLÖ ÖRTAMDA PAYLAŞABİLİRSİNİZ.

sosyalbilgiler.biz

CEVAP ANAHTARI

1	2	3	4	5	6	7	8	9	10
A	B	C	A	A	C	D	B	D	C