

Adı-Soyadı: Sınıfı: Okul No:

1. SORU (30 Puan)	2. SORU (20 Puan)	3. SORU (20 Puan)	4. SORU (30 Puan)	ALDIĞI PUAN
.....

SB.7.5.4. Tarih boyunca Türklerde meslek edindirme ve meslek etiği kazandırmada rol oynayan kurumları tanıtır.

1) Osmanlı Devleti Dönemi'ndeki meslek edindirme kurumları hakkında verilen bilgileri okuyunuz. Her bilginin ait olduğu kurumun adını yanındaki boşluğa yazınız.


- a) Usta-çırak ilişkisi önemli bir yere sahiptir. Meslek eğitimi verilirken meslek ahlakı da kazandırılırdı.
- b) Dinî ve pozitif bilimlerin okutulduğu bu kurum, Osmanlı'nın en yaygın eğitim kurumuydu.
- c) Devşirme sistemiyle gelen öğrenciler eğitim görmüştür. Osmanlı'nın saray içinde eğitim veren kurumudur.

Ahi Teşkilatı

Medrese

Enderun

SB.7.5.5. Dünyadaki gelişmelere bağlı olarak ortaya çıkan yeni meslekleri dikkate alarak mesleki tercihlerine yönelik planlama yapar.

2)  Burcu, üniversite sınavına hazırlanırken ailesinin yönlendirmesiyle iş imkânı yüksek olduğunu düşündüğü bir bölümü tercih etmiştir. Ancak Burcu; insanlarla sürekli iletişim kurmaktan hoşlanmayan, daha çok laboratuvar ortamında bireysel çalışmayı seven, biyoloji ve fen bilimlerine ilgi duyan bir kişiliğe sahiptir. Çalıştığı meslekte insanlarla sürekli iletişim hâlinde olduğu için zamanla kendisini mutsuz ve verimsiz hissetmeye başlamıştır.

Bu bilgiye göre, Burcu'nun meslek seçiminde yaptığı hatayı açıklayınız.

Kendi ilgi, yetenek ve kişilik özelliklerini dikkate almak yerine ailesinin isteklerine göre hareket etmiştir.

SB.7.5.6. Dijital teknolojilerin üretim, dağıtım ve tüketim alanında meydana getirdiği değişimleri analiz eder.

3) Mal ve hizmetlerin genel ağ ortamı üzerinden yapılmasına e-ticaret denilmektedir.

E-ticaretin yararları ve zararları ile ilgili ikişer tane örnek yazınız.

E-ticaretin Yararları

- 1) Evden çıkmadan alışveriş yapma imkânı sunar.
- 2) Günün her saati alışveriş yapılabilmektedir.

E-ticaretin Zararları

- 1) Alınan ürüne anında sahip olamayız.
- 2) Ürünler bazen görüldüğü gibi çıkmayabilir.

SB.7.6.1. Demokrasinin ortaya çıkışını, gelişim evrelerini ve günümüzde ifade ettiği anlamları açıklar.

4) Verilen ifadelerin demokrasinin hangi ilkesi ile ilişkili olduğunu bularak karşısındaki alana yazınız.

- a) Hiç kimseye dil, din, ırk, cinsiyet ya da düşüncesinden dolayı farklı bir uygulama yapılamaz.
- b) Başkalarına zarar vermediğimiz sürece istediğimiz gibi düşünebilir ve bu düşüncelerimizi söyleyebiliriz.
- c) Ülkede yönetim gücü millete aittir. Yani halk, seçimlerle yöneticilerini seçer.

Eşitlik

Özgürlük

Millî Egemenlik

Adı-Soyadı: Sınıfı: Okul No:

1. SORU (20 Puan)	2. SORU (25 Puan)	3. SORU (20 Puan)	4. SORU (15 Puan)	5. SORU (20 Puan)	ALDIĞI PUAN
.....


SB.7.5.2. Üretim teknolojisindeki gelişmelerin sosyal ve ekonomik hayata etkilerini değerlendirir.

- 1) 18. yüzyılda İngiltere’de başlayan, insan ve hayvan gücünün yerini buhar gücüyle çalışan makinelerin almasına Sanayi İnkılabı denir.

Sanayi İnkılabının “Sosyal” ve “Ekonomik” alandaki sonuçlarına ikiyeşer tane örnek yazınız.

	Sosyal Alandaki Sonuçları	Ekonomik Alandaki Sonuçları
1	Köyden kente doğru göçler olmuştur.	Fabrikalarda makinelerle seri üretim yapılmaya başlanmış ve bunun sonucunda üretim artmıştır.
2	Şehirlere yapılan göçlerin sonucunda konut sıkıntısı yaşanmıştır.	Kömür gibi enerji kaynaklarına ihtiyaç artmıştır.

SB.7.5.5. Dünyadaki gelişmelere bağlı olarak ortaya çıkan yeni meslekleri dikkate alarak mesleki tercihlerine yönelik planlama yapar.

- 2)  “ Burcu, üniversite sınavına hazırlanırken ailesinin yönlendirmesiyle iş imkânı yüksek olduğunu düşündüğü bir bölümü tercih etmiştir. Ancak Burcu; insanlarla sürekli iletişim kurmaktan hoşlanmayan, daha çok laboratuvar ortamında bireysel çalışmayı seven, biyoloji ve fen bilimlerine ilgi duyan bir kişiliğe sahiptir. Çalıştığı meslekte insanlarla sürekli iletişim hâlinde olduğu için zamanla kendisini mutsuz ve verimsiz hissetmeye başlamıştır. ”

Bu bilgiye göre, Burcu’nun meslek seçiminde yaptığı hatayı açıklayınız.

Kendi ilgi, yetenek ve kişilik özelliklerini dikkate almak yerine ailesinin isteklerine göre hareket etmiştir.

SB.7.5.6. Dijital teknolojilerin üretim, dağıtım ve tüketim alanında meydana getirdiği değişimleri analiz eder.

- 3) Mal ve hizmetlerin genel ağ ortamı üzerinden yapılmasına e-ticaret denilmektedir.

E-ticaretin yararları ve zararları ile ilgili ikiyeşer tane örnek yazınız.

E-ticaretin Yararları

- 1) Evden çıkmadan alışveriş yapma imkânı sunar.
- 2) Günün her saati alışveriş yapılabilir.

E-ticaretin Zararları

- 1) Alınan ürüne anında sahip olamayız.
- 2) Ürünler bazen görüldüğü gibi çıkmayabilir.

SB.7.6.1. Demokrasinin ortaya çıkışını, gelişim evrelerini ve günümüzde ifade ettiği anlamları açıklar.

4) Verilen ifadelerin demokrasinin hangi ilkesi ile ilişkili olduğunu bularak karşısındaki alana yazınız.

- a) Hiç kimseye dil, din, ırk, cinsiyet ya da düşüncesinden dolayı farklı bir uygulama yapılamaz.
- b) Başkalarına zarar vermediğimiz sürece istediğimiz gibi düşünebilir ve bu düşüncelerimizi söyleyebiliriz.
- c) Ülkede yönetim gücü millete aittir. Yani halk, seçimlerle yöneticilerini seçer.

Eşitlik

Özgürlük

Millî Egemenlik

SB.7.5.5. Dünyadaki gelişmelere bağlı olarak ortaya çıkan yeni meslekleri dikkate alarak mesleki tercihlerine yönelik planlama yapar.

5)



“ İnsan topluluğu kadın ve erkek denilen iki cins insandan oluşur. Kabil midir bu kütlenin bir parçasını ilerletelim, ötekini ihmal edelim de kütlenin bütünü ilerleyebilsin? Mümkün müdür ki bir cismin yarısı toprağa bağlı kaldıkça, öteki yarısı göklere yükselebsin? ”

”

Atatürk, bu sözü doğrultusunda demokrasiye uygun olarak hangi çalışmayı yapmıştır? Yazınız.

Kadınlara siyasi hakları vermiştir.

Adı-Soyadı: Sınıfı: Okul No:

1.SORU (15 Puan)	2. SORU (15 Puan)	3. SORU (20 Puan)	4. SORU (15 Puan)	5. SORU (15 Puan)	6. SORU (20 Puan)	ALDIĞI PUAN
.....

SB.7.5.3. Kurumların ve sivil toplum kuruluşlarının çalışmalarına ve sosyal yaşamdaki rollerine örnekler verir.

1) Faaliyet alanları verilen sivil toplum kuruluşlarının isimlerini karşısındaki alana yazınız.

- a) Her türlü bağımlılıkla mücadele etmek, her koşulda zaman ve mekân fark etmeksizin bağımlı kişilere yardım etmek için kurulan sivil toplum kuruluşudur.
- b) Erozyonu ve çölleşmeyi önleme ve doğal varlıkların korunması gibi alanlarda faaliyet gösterir.
- c) Yurt içi ve yurt dışında ayırım yapmadan afetlerde barınma ve ilk yardım, muhtaçlara yemek ve erzak yardımı yapmaktadır.

Yeşilay

TEMA

Kızılay

SB.7.5.5. Dünyadaki gelişmelere bağlı olarak ortaya çıkan yeni meslekleri dikkate alarak mesleki tercihlerine yönelik planlama yapar.

2)



“ Burcu, üniversite sınavına hazırlanırken ailesinin yönlendirmesiyle iş imkânı yüksek olduğunu düşündüğü bir bölümü tercih etmiştir. Ancak Burcu; insanlarla sürekli iletişim kurmaktan hoşlanmayan, daha çok laboratuvar ortamında bireysel çalışmayı seven, biyoloji ve fen bilimlerine ilgi duyan bir kişiliğe sahiptir. Çalıştığı meslekte insanlarla sürekli iletişim hâlinde olduğu için zamanla kendisini mutsuz ve verimsiz hissetmeye başlamıştır. ”

Bu bilgiye göre, Burcu'nun meslek seçiminde yaptığı hatayı açıklayınız.

Kendi ilgi, yetenek ve kişilik özelliklerini dikkate almak yerine ailesinin isteklerine göre hareket etmiştir.

SB.7.5.6. Dijital teknolojilerin üretim, dağıtım ve tüketim alanında meydana getirdiği değişimleri analiz eder.

3) Mal ve hizmetlerin genel ağ ortamı üzerinden yapılmasına e-ticaret denilmektedir.

E-ticaretin yararları ve zararları ile ilgili ikişer tane örnek yazınız.

E-ticaretin Yararları

- 1) Evden çıkmadan alışveriş yapma imkânı sunar.
- 2) Günün her saati alışveriş yapılabilir.

E-ticaretin Zararları

- 1) Alınan ürüne anında sahip olamayız.
- 2) Ürünler bazen görüldüğü gibi çıkmayabilir.

SB.7.6.1. Demokrasinin ortaya çıkışını, gelişim evrelerini ve günümüzde ifade ettiği anlamları açıklar.

4) Verilen ifadelerin demokrasinin hangi ilkesi ile ilişkili olduğunu bularak karşısındaki alana yazınız.

- a) Hiç kimseye dil, din, ırk, cinsiyet ya da düşüncesinden dolayı farklı bir uygulama yapılamaz.
- b) Başkalarına zarar vermediğimiz sürece istediğimiz gibi düşünebilir ve bu düşüncelerimizi söyleyebiliriz.
- c) Ülkede yönetim gücü millete aittir. Yani halk, seçimlerle yöneticilerini seçer.

Eşitlik

Özgürlük

Millî Egemenlik

SB.7.5.5. Dünyadaki gelişmelere bağlı olarak ortaya çıkan yeni meslekleri dikkate alarak mesleki tercihlerine yönelik planlama yapar.

5)



“ İnsan topluluğu kadın ve erkek denilen iki cins insandan oluşur. Kabil midir bu kütlenin bir parçasını ilerletelim, ötekini ihmal edelim de kütlenin bütünü ilerleyebilsin? Mümkün müdür ki bir cismin yarısı toprağa bağlı kaldıkça, öteki yarısı göklere yükselebsin? ”

Atatürk, bu sözü doğrultusunda demokrasiye uygun olarak hangi çalışmayı yapmıştır? Yazınız.

Kadınlara siyasi hakları vermiştir.

SB.7.6.3. Türkiye Cumhuriyeti Devleti'nin temel niteliklerini toplumsal hayattaki uygulamalarla ilişkilendirir.

6) Bir ilçede yaşayan ve maddi durumu iyi olmayan bir aile, çocuklarının okul ihtiyaçlarını karşılamakta zorlanmaktadır. Devlet, bu ailenin çocuklarına eğitim hayatlarına devam edebilmeleri için her ay düzenli eğitim bursu bağlamış ve kırtasiye desteği sağlamıştır.

Bu durum, Türkiye Cumhuriyeti Devleti'nin hangi temel niteliği ile doğrudan ilgilidir? Yazınız.

Sosyal devlet anlayışı ile ilgilidir.

Adı-Soyadı: Sınıfı: Okul No:

1. SORU (15 Puan)	2. SORU (15 Puan)	3. SORU (20 Puan)	4. SORU (15 Puan)	5. SORU (15 Puan)	6. SORU (10 Puan)	7. SORU (10 Puan)	ALDIĞI PUAN
.....

SB.7.5.4. Tarih boyunca Türklerde meslek edindirme ve meslek etiği kazandırmada rol oynayan kurumları tanıtır.

1) Osmanlı Devleti Dönemi'ndeki meslek edindirme kurumları hakkında verilen bilgileri okuyunuz. Her bilginin ait olduğu kurumun adını yanındaki boşluğa yazınız.


- a) Usta-çırak ilişkisi önemli bir yere sahiptir. Meslek eğitimi verilirken meslek ahlakı da kazandırılırdı.
- b) Dinî ve pozitif bilimlerin okutulduğu bu kurum, Osmanlı'nın en yaygın eğitim kurumuydu.
- c) Devşirme sistemiyle gelen öğrenciler eğitim görmüştür. Osmanlı'nın saray içinde eğitim veren kurumudur.

Ahi Teşkilatı

Medrese

Enderun

SB.7.5.5. Dünyadaki gelişmelere bağlı olarak ortaya çıkan yeni meslekleri dikkate alarak mesleki tercihlerine yönelik planlama yapar.

2)  Burcu, üniversite sınavına hazırlanırken ailesinin yönlendirmesiyle iş imkânı yüksek olduğunu düşündüğü bir bölümü tercih etmiştir. Ancak Burcu; insanlarla sürekli iletişim kurmaktan hoşlanmayan, daha çok laboratuvar ortamında bireysel çalışmayı seven, biyoloji ve fen bilimlerine ilgi duyan bir kişiliğe sahiptir. Çalıştığı meslekte insanlarla sürekli iletişim hâlinde olduğu için zamanla kendisini mutsuz ve verimsiz hissetmeye başlamıştır.

Bu bilgiye göre, Burcu'nun meslek seçiminde yaptığı hatayı açıklayınız.

Kendi ilgi, yetenek ve kişilik özelliklerini dikkate almak yerine ailesinin isteklerine göre hareket etmiştir.

SB.7.5.6. Dijital teknolojilerin üretim, dağıtım ve tüketim alanında meydana getirdiği değişimleri analiz eder.

3) Mal ve hizmetlerin genel ağ ortamı üzerinden yapılmasına e-ticaret denilmektedir.

E-ticaretin yararları ve zararları ile ilgili ikişer tane örnek yazınız.

E-ticaretin Yararları

- 1) Evden çıkmadan alışveriş yapma imkânı sunar.
- 2) Günün her saati alışveriş yapılabilir.

E-ticaretin Zararları

- 1) Alınan ürüne anında sahip olamayız.
- 2) Ürünler bazen görüldüğü gibi çıkmayabilir.

SB.7.6.1. Demokrasinin ortaya çıkışını, gelişim evrelerini ve günümüzde ifade ettiği anlamları açıklar.

4) Verilen ifadelerin demokrasinin hangi ilkesi ile ilişkili olduğunu bularak karşısındaki alana yazınız.

- a) Hiç kimseye dil, din, ırk, cinsiyet ya da düşüncesinden dolayı farklı bir uygulama yapılamaz.
- b) Başkalarına zarar vermediğimiz sürece istediğimiz gibi düşünebilir ve bu düşüncelerimizi söyleyebiliriz.
- c) Ülkede yönetim gücü millete aittir. Yani halk, seçimlerle yöneticilerini seçer.

Eşitlik

Özgürlük

Millî Egemenlik

SB.7.5.5. Dünyadaki gelişmelere bağlı olarak ortaya çıkan yeni meslekleri dikkate alarak mesleki tercihlerine yönelik planlama yapar.

5)



“ İnsan topluluğu kadın ve erkek denilen iki cins insandan oluşur. Kabil midir bu kütlenin bir parçasını ilerletelim, ötekini ihmal edelim de kütlenin bütünü ilerleyebilsin? Mümkün müdür ki bir cismin yarısı toprağa bağlı kaldıkça, öteki yarısı göklere yükselebilsin? ”

Atatürk, bu sözü doğrultusunda demokrasiye uygun olarak hangi çalışmayı yapmıştır? Yazınız.

Kadınlara siyasi hakları vermiştir.

SB.7.6.3. Türkiye Cumhuriyeti Devleti'nin temel niteliklerini toplumsal hayattaki uygulamalarla ilişkilendirir.

- 6) Bir ilçede yaşayan ve maddi durumu iyi olmayan bir aile, çocuklarının okul ihtiyaçlarını karşılamakta zorlanmaktadır. Devlet, bu ailenin çocuklarına eğitim hayatlarına devam edebilmeleri için her ay düzenli eğitim bursu bağlamış ve kırtasiye desteği sağlamıştır.

Bu durum, Türkiye Cumhuriyeti Devleti'nin hangi temel niteliği ile doğrudan ilgilidir? Yazınız.

Sosyal devlet anlayışı ile ilgilidir.

SB.7.6.4. Demokrasinin uygulanma süreçlerinde karşılaşılan sorunları analiz eder.

- 7) Demokrasiye uygun olmayan düşünce ve uygulamalara antidemokratik uygulama denilmektedir.

Buna göre, antidemokratik uygulamaya bir örnek yazınız.

Bir okulda sınıf başkanı seçimi yapılacaktır. Ancak sınıf öğretmeni, "Sınıfın en başarılı öğrencisi kimse başkan o olsun." diyerek seçimi yapmadan bir öğrenciyi görevlendirmiştir. Bu durum antidemokratik bir uygulamadır.

Adı-Soyadı: Sınıfı: Okul No:

1. SORU (15 Puan)	2. SORU (10 Puan)	3. SORU (20 Puan)	4. SORU (15 Puan)	5. SORU (10 Puan)	6. SORU (10 Puan)	7. SORU (10 Puan)	8. SORU (10 Puan)	ALDIĞI PUAN
.....

SB.7.5.4. Tarih boyunca Türklerde meslek edindirme ve meslek etiği kazandırmada rol oynayan kurumları tanıtır.

1) Osmanlı Devleti Dönemi'ndeki meslek edindirme kurumları hakkında verilen bilgileri okuyunuz. Her bilginin ait olduğu kurumun adını yanındaki boşluğa yazınız.


- a) Usta-çırak ilişkisi önemli bir yere sahiptir. Meslek eğitimi verilirken meslek ahlakı da kazandırılırdı.
- b) Dinî ve pozitif bilimlerin okutulduğu bu kurum, Osmanlı'nın en yaygın eğitim kurumuydu.
- c) Devşirme sistemiyle gelen öğrenciler eğitim görmüştür. Osmanlı'nın saray içinde eğitim veren kurumudur.

Ahi Teşkilatı

Medrese

Enderun

SB.7.5.5. Dünyadaki gelişmelere bağlı olarak ortaya çıkan yeni meslekleri dikkate alarak mesleki tercihlerine yönelik planlama yapar.

- 2)  Burcu, üniversite sınavına hazırlanırken ailesinin yönlendirmesiyle iş imkânı yüksek olduğunu düşündüğü bir bölümü tercih etmiştir. Ancak Burcu; insanlarla sürekli iletişim kurmaktan hoşlanmayan, daha çok laboratuvar ortamında bireysel çalışmayı seven, biyoloji ve fen bilimlerine ilgi duyan bir kişiliğe sahiptir. Çalıştığı meslekte insanlarla sürekli iletişim hâlinde olduğu için zamanla kendisini mutsuz ve verimsiz hissetmeye başlamıştır.

Bu bilgiye göre, Burcu'nun meslek seçiminde yaptığı hatayı açıklayınız.

Kendi ilgi, yetenek ve kişilik özelliklerini dikkate almak yerine ailesinin isteklerine göre hareket etmiştir.

SB.7.5.6. Dijital teknolojilerin üretim, dağıtım ve tüketim alanında meydana getirdiği değişimleri analiz eder.

3) Mal ve hizmetlerin genel ağ ortamı üzerinden yapılmasına e-ticaret denilmektedir.

E-ticaretin yararları ve zararları ile ilgili ikişer tane örnek yazınız.

E-ticaretin Yararları

- 1) Evden çıkmadan alışveriş yapma imkânı sunar.
- 2) Günün her saati alışveriş yapılabilir.

E-ticaretin Zararları

- 1) Alınan ürüne anında sahip olamayız.
- 2) Ürünler bazen görüldüğü gibi çıkmayabilir.

SB.7.6.1. Demokrasinin ortaya çıkışını, gelişim evrelerini ve günümüzde ifade ettiği anlamları açıklar.

4) Verilen ifadelerin demokrasinin hangi ilkesi ile ilişkili olduğunu bularak karşısındaki alana yazınız.

- a) Hiç kimseye dil, din, ırk, cinsiyet ya da düşüncesinden dolayı farklı bir uygulama yapılamaz.
- b) Başkalarına zarar vermediğimiz sürece istediğimiz gibi düşünebilir ve bu düşüncelerimizi söyleyebiliriz.
- c) Ülkede yönetim gücü millete aittir. Yani halk, seçimlerle yöneticilerini seçer.

Eşitlik

Özgürlük

Millî Egemenlik

SB.7.5.5. Dünyadaki gelişmelere bağlı olarak ortaya çıkan yeni meslekleri dikkate alarak mesleki tercihlerine yönelik planlama yapar.

5)



“ İnsan topluluğu kadın ve erkek denilen iki cins insandan oluşur. Kabil midir bu kütlenin bir parçasını ilerletelim, ötekini ihmal edelim de kütlenin bütünü ilerleyebilsin? Mümkün müdür ki bir cismin yarısı toprağa bağlı kaldıkça, öteki yarısı göklere yükselebilsin? ”

Atatürk, bu sözü doğrultusunda demokrasiye uygun olarak hangi çalışmayı yapmıştır? Yazınız.

Kadınlara siyasi hakları vermiştir.

SB.7.6.3. Türkiye Cumhuriyeti Devleti'nin temel niteliklerini toplumsal hayattaki uygulamalarla ilişkilendirir.

6) Bir ilçede yaşayan ve maddi durumu iyi olmayan bir aile, çocuklarının okul ihtiyaçlarını karşılamakta zorlanmaktadır. Devlet, bu ailenin çocuklarına eğitim hayatlarına devam edebilmeleri için her ay düzenli eğitim bursu bağlamış ve kırtasiye desteği sağlamıştır.

Bu durum, Türkiye Cumhuriyeti Devleti'nin hangi temel niteliği ile doğrudan ilgilidir? Yazınız.

Sosyal devlet anlayışı ile ilgilidir.

SB.7.6.4. Demokrasinin uygulanma süreçlerinde karşılaşılan sorunları analiz eder.

7) Demokrasiye uygun olmayan düşünce ve uygulamalara antidemokratik uygulama denilmektedir.

Buna göre, antidemokratik uygulamaya bir örnek yazınız.

Bir okulda sınıf başkanı seçimi yapılacaktır. Ancak sınıf öğretmeni, "Sınıfın en başarılı öğrencisi kimse başkan o olsun." diyerek seçimi yapmadan bir öğrenciyi görevlendirmiştir. Bu durum antidemokratik bir uygulamadır.

SB.7.7.1. Türkiye'nin üyesi olduğu uluslararası kuruluşlara örnekler verir.

8) II. Dünya Savaşı'nın yıkıcı etkilerinden sonra dünya barışını korumak, ulusların ekonomik ve sosyal alanda iş birliği yapmasını sağlamak, insan hak ve özgürlüklerini gerçekleştirmek amacı ile 24 Ekim 1945 tarihinde kurulmuştur. Ülkemiz bu kuruluşun kurucu üyelerinden biridir.

Hakkında bilgi verilen uluslararası kuruluşun adınız yazınız.

Birleşmiş Milletler

Adı-Soyadı: Sınıfı: Okul No:

1. SORU (15 Puan)	2. SORU (10 Puan)	3. SORU (10 Puan)	4. SORU (15 Puan)	5. SORU (10 Puan)	6. SORU (10 Puan)	7. SORU (10 Puan)	8. SORU (10 Puan)	9. SORU (10 Puan)	ALDIĞI PUAN
.....

SB.7.5.4. Tarih boyunca Türklerde meslek edindirme ve meslek etiği kazandırmada rol oynayan kurumları tanıtır.

1) Osmanlı Devleti Dönemi'ndeki meslek edindirme kurumları hakkında verilen bilgileri okuyunuz. Her bilginin ait olduğu kurumun adını yanındaki boşluğa yazınız.

a) Usta-çırak ilişkisi önemli bir yere sahiptir. Meslek eğitimi verilirken meslek ahlakı da kazandırılırdı.

Ahi Teşkilatı


b) Dinî ve pozitif bilimlerin okutulduğu bu kurum, Osmanlı'nın en yaygın eğitim kurumuydu.

Medrese

c) Devşirme sistemiyle gelen öğrenciler eğitim görmüştür. Osmanlı'nın saray içinde eğitim veren kurumudur.

Enderun

SB.7.5.5. Dünyadaki gelişmelere bağlı olarak ortaya çıkan yeni meslekleri dikkate alarak mesleki tercihlerine yönelik planlama yapar.

2)  Burcu, üniversite sınavına hazırlanırken ailesinin yönlendirmesiyle iş imkânı yüksek olduğunu düşündüğü bir bölümü tercih etmiştir. Ancak Burcu; insanlarla sürekli iletişim kurmaktan hoşlanmayan, daha çok laboratuvar ortamında bireysel çalışmayı seven, biyoloji ve fen bilimlerine ilgi duyan bir kişiliğe sahiptir. Çalıştığı meslekte insanlarla sürekli iletişim hâlinde olduğu için zamanla kendisini mutsuz ve verimsiz hissetmeye başlamıştır.

Bu bilgiye göre, Burcu'nun meslek seçiminde yaptığı hatayı açıklayınız.

Kendi ilgi, yetenek ve kişilik özelliklerini dikkate almak yerine ailesinin isteklerine göre hareket etmiştir.

SB.7.5.6. Dijital teknolojilerin üretim, dağıtım ve tüketim alanında meydana getirdiği değişimleri analiz eder.

3) Mal ve hizmetlerin genel ağ ortamı üzerinden yapılmasına e-ticaret denilmektedir.

E-ticaretin yararları ve zararları ile ilgili ikişer tane örnek yazınız.

E-ticaretin Yararları

- 1) Evden çıkmadan alışveriş yapma imkânı sunar.
- 2) Günün her saati alışveriş yapılabilir.

E-ticaretin Zararları

- 1) Alınan ürüne anında sahip olamayız.
- 2) Ürünler bazen görüldüğü gibi çıkmayabilir.

SB.7.6.1. Demokrasinin ortaya çıkışını, gelişim evrelerini ve günümüzde ifade ettiği anlamları açıklar.

4) Verilen ifadelerin demokrasinin hangi ilkesi ile ilişkili olduğunu bularak karşısındaki alana yazınız.

a) Hiç kimseye dil, din, ırk, cinsiyet ya da düşüncesinden dolayı farklı bir uygulama yapılamaz.

Eşitlik

b) Başkalarına zarar vermediğimiz sürece istediğimiz gibi düşünebilir ve bu düşüncelerimizi söyleyebiliriz.

Özgürlük

c) Ülkede yönetim gücü millete aittir. Yani halk, seçimlerle yöneticilerini seçer.


Millî Egemenlik

SB.7.6.2. Atatürk'ün Türk demokrasisinin gelişimine katkılarını açıklar.

- 5) “Mustafa Kemal Atatürk demokrasiye önem vermiş ve ülkemizde demokrasisinin gelişmesi için çeşitli yenilikler yapmıştır.” diyen bir öğretmen bu görüşüne Atatürk'ün yaptığı hangi çalışmaları örnek olarak verebilir? İki tanesini yazınız.

- 1) 23 Nisan 1920'de TBMM'yi açması
2) 29 Ekim 1923 tarihinde cumhuriyeti ilan etmesi

SB.7.5.5. Dünyadaki gelişmelere bağlı olarak ortaya çıkan yeni meslekleri dikkate alarak mesleki tercihlerine yönelik planlama yapar.

- 6)  “İnsan topluluğu kadın ve erkek denilen iki cins insandan oluşur. Kabil midir bu kütlenin bir parçasını ilerletelim, ötekini ihmal edelim de kütlenin bütünü ilerleyebilsin? Mümkün müdür ki bir cismin yarısı toprağa bağlı kaldıkça, öteki yarısı göklere yükselebsin?”



Atatürk, bu sözü doğrultusunda demokrasiye uygun olarak hangi çalışmayı yapmıştır? Yazınız.

Kadınlara siyasi hakları vermiştir.

SB.7.6.3. Türkiye Cumhuriyeti Devleti'nin temel niteliklerini toplumsal hayattaki uygulamalarla ilişkilendirir.

- 7) Bir ilçede yaşayan ve maddi durumu iyi olmayan bir aile, çocuklarının okul ihtiyaçlarını karşılamakta zorlanmaktadır. Devlet, bu ailenin çocuklarına eğitim hayatlarına devam edebilmeleri için her ay düzenli eğitim bursu bağlamış ve kırtasiye desteği sağlamıştır.

Bu durum, Türkiye Cumhuriyeti Devleti'nin hangi temel niteliği ile doğrudan ilgilidir? Yazınız.

Sosyal devlet anlayışı ile ilgilidir.

SB.7.6.4. Demokrasinin uygulanma süreçlerinde karşılaşılan sorunları analiz eder.

- 8) Demokrasiye uygun olmayan düşünce ve uygulamalara antidemokratik uygulama denilmektedir.

Buna göre, antidemokratik uygulamaya bir örnek yazınız.

Bir okulda sınıf başkanı seçimi yapılacaktır. Ancak sınıf öğretmeni, “Sınıfın en başarılı öğrencisi kimse başkan o olsun.” diyerek seçimi yapmadan bir öğrenciyi görevlendirmiştir. Bu durum antidemokratik bir uygulamadır.

SB.7.7.1. Türkiye'nin üyesi olduğu uluslararası kuruluşlara örnekler verir.

- 9) II. Dünya Savaşı'nın yıkıcı etkilerinden sonra dünya barışını korumak, ulusların ekonomik ve sosyal alanda iş birliği yapmasını sağlamak, insan hak ve özgürlüklerini gerçekleştirmek amacı ile 24 Ekim 1945 tarihinde kurulmuştur. Ülkemiz bu kuruluşun kurucu üyelerinden biridir.

Hakkında bilgi verilen uluslararası kuruluşun adınız yazınız.

Birleşmiş Milletler