

ADI:  
SOYADI:  
SINIFI:

2018-2019 EĞİTİM ÖĞRETİM YILI  
ADEL AKADEMİ  
7.SINIF SOSYAL BİLGİLER 2.DÖNEM 1.YAZILI SINAVI

1- Nüfusun dağılışını etkileyen faktörlerin numaralarını ilgili kutucuğa yazınız. (5x2=10puan)

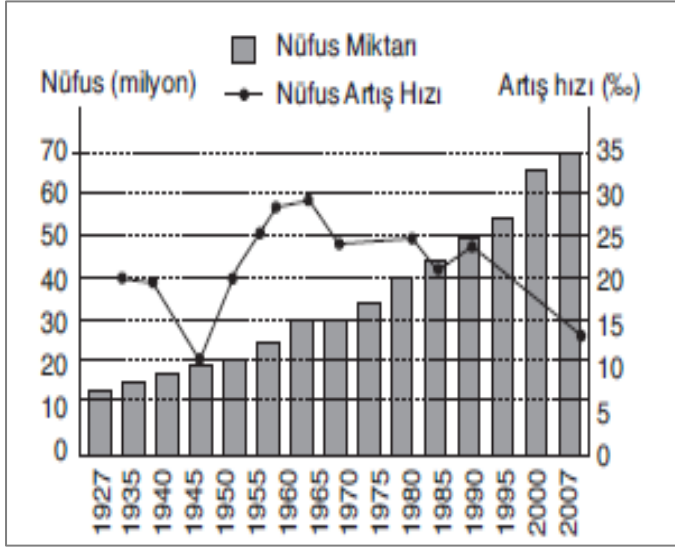
Doğal Faktörler		Beşeri ve Ekonomik Faktörler
	1)Tarım, 2)Bitki Örtüsü,	
	3)Turizm, 4) İklim,	
	5) Sanayileşme, 6) Su Kaynakları,	
	7) Yer Şekilleri, 8) Madencilik,	
	9) Toprak Yapısı, 10) Ulaşım	

2- Yoğun ve seyrek nüfuslu yerleri haritada bularak yandaki kutucuğu doldurup nedenini yazınız. (5x2=10puan)



- 1 numaralı yerde ☐ Yoğun ☐ Seyrek Nedeni;
- 2 numaralı yerde ☐ Yoğun ☐ Seyrek Nedeni;
- 3 numaralı yerde ☐ Yoğun ☐ Seyrek Nedeni;
- 4 numaralı yerde ☐ Yoğun ☐ Seyrek Nedeni;
- 5 numaralı yerde ☐ Yoğun ☐ Seyrek Nedeni;

3- Aşağıda verilen tabloyu yanındaki grafikten faydalanarak doldurunuz. (5x2=10puan)



Nüfus miktarının en az olduğu yıl hangisidir?	
1945 yılında nüfus miktarımız azalmıştır.	<input type="radio"/> Doğru <input type="radio"/> Yanlış
Nüfus artış hızımızın en fazla olduğu yıl aralığı hangisidir?	<input type="radio"/> 1955-1960 <input type="radio"/> 1940-1945 <input type="radio"/> 1985-1990
1990 yılından günümüze kadar nüfus artış hızında azalma olmasının nedeni nedir?	
Grafiğe göre en fazla nüfus artışı erkek nüfusunda olmuştur?	<input type="radio"/> Doğru <input type="radio"/> Yanlış

4- Aşağıda istenilenleri anlaşılır ve yalın bir dille aktarınız. (10puan)

Yerleşme hangi durumlarda devlet tarafından sınırlandırılabilir? 3 tanesini yazınız.	Göçün neden olduğu sorunlardan 3 tanesini yazınız.



Beyin Göçü Nedir? Örnek vererek açıklayınız.

5- Aşağıda özellikleri verilen bilim insanlarının isimlerini yazınız. (5x2=10puan)

<input type="text"/>	Tıp alanında birçok eser kaleme almıştır. Bu alandaki en önemli eseri Kanun Fı't Tıp (Tıp Kanunu) kitabıdır. Avrupalılar "Avicenna" lakabını takmıştır.	<input type="text"/>	Fatih Sultan Mehmet Döneminde İstanbul'a davet edilmiş ve Osmanlı medreselerinde müderrislik yapmaya başlamıştır. Yapmış olduğu çalışmalardan ötürü NASA tarafından Ay 'da bir bölgeye ismi verilmiştir.
<input type="text"/>	Gök bilim, matematik, doğa bilimleri, coğrafya ve tarih alanındaki çalışmaları ile ünlüdür. Yaşadığı dönemdeki asır kendi adıyla anılmıştır. El Hind isimli eseri olup Gazneli Mahmud kendisi için övgü dolu sözler söylemiştir.	<input type="text"/>	Ses olayını ilk defa fiziki yönden açıklayan felsefeci, müzisyen, matematikçi, botanikçidir. Bütün eserlerini Arapça yazmıştır. İslam dinini bilim ile uzlaştırmaya çalışmış ve felsefeye ayrı bir boyut kazandırmıştır. İkinci öğretmen olarak adlandırılır.
<input type="text"/>	Matematik tarihinin en büyük bilim adamı olarak tanımlanan, Sıfır ve cebir kavramlarını matematiğe kazandıran, cebirin ve algoritmanın kurucusudur.		

6- Aşağıdaki bilgilerden doğru olanların sonuna "D" yanlış olanların sonuna "Y" yazınız. (5x2=10puan)

1	Aydınlanma Çağında meydana gelen gelişmeler sonucunda Avrupa'da Skolâstik Düşünce yayılmıştır.	<input type="text"/>
2	Modern anlamda matbaanın mucidi Johann Gutenberg 'dir.	<input type="text"/>
3	Osmanlı'da toprağını üç yıl üst üste ekmeyenlerden çift bozan vergisi alınmıştır.	<input type="text"/>
4	Feodalite sisteminde halkın özgürlüğü korunmuş ve özel mülkiyet yaygınlaştırılmıştır.	<input type="text"/>
5	Günümüzde kullandığımız alfabeyi geliştiren uygarlık Fenikelilerdir.	<input type="text"/>
6	Avrupa'da bilim ve teknolojinin gelişmesi, bilimsel bilginin artması ve üretime etki etmesi sonucunda Avrupa'da Sanayi İnkılabının başlamıştır.	<input type="text"/>
7	Mısırlılar parşömen adını verdikleri bitki liflerinden elde ettikleri kâğıtlara yazılar yazmıştır.	<input type="text"/>
8	Sanayi İnkılabı ilk olarak İngiltere'de başlamış ve daha sonra diğer Avrupa ülkelerine ve ardından diğer kıtılardaki ülkelere yayılmıştır.	<input type="text"/>
9	Selçuklularda toprak mülk, vakıf ve miri arazi olarak üçe ayrılmıştır.	<input type="text"/>
10	Osmanlıda ilk rasathaneyi açan kişi Uluğ Bey'dir.	<input type="text"/>

**Aşağıdaki çoktan seçmeli soruları yanıtlayınız. (10x4=40puan)**

1) İzmir, Türkiye’de nüfusu en kalabalık olan üçüncü büyük ildir. Tarihî bir şehir olan İzmir, demir ve kara yolu ağı ile iç bölgelere bağlıdır. İzmir limanı ülkemizin İstanbul’dan sonraki ikinci büyük limanı olup dış ticaretimizde çok önemli yeri vardır. İzmir’in turizm, kültür, ticaret ve sanayi özellikleri nüfusunun hızla artmasını sağlamıştır.

**Buna göre aşağıdakilerden hangisi İzmir’in nüfusunun artışında etkili olan faktörlerden biri değildir?**

- A) Ulaşımın gelişmiş olması
- B) Ticaretin gelişmiş olması
- C) Sanayinin gelişmiş olması
- D) Maden yatakları bakımından zengin olması

2) Osmanlı Devleti’nde yeni topraklar fethedildiğinde araziye kâtipler gönderilirdi. Kâtipler toprağı, elde edilen gelire ve toprağı işleyen nüfusuna göre kaydederlerdi. Ardından arazi, gelirleri açısından belirli dilimlere bölünürdü. Has, zeamet, tımar olarak adlandırılan bu araziler; vezir, beylerbeyi, sancakbeyi ve sipahilere dirlik olarak verilir. **Metne göre aşağıdakilerden hangisi söylenemez?**

- A) Arazi kâtipleri toprak kayıtlarını tutarlar.
- B) En önemli toprak parçası zeamettir.
- C) Araziler devlet görevlerine dirlik olarak verilir.
- D) Araziler has, zeamet ve tımar olarak ayrılır.

3) **Aşağıdakilerden hangisi sanayi inkılabı ile başlayan sosyal ve ekonomik hayattaki değişimlerden biri değildir?**

- A) Üretim teknolojisinin artmasıyla tarımsal üretimin azalması
- B) Üretimde makinelerin payının artmasıyla işsizliğin ortaya çıkması
- C) Sanayileşme ile hem ülkelerin hem de insanların refah seviyelerinin artması
- D) Üretim teknolojisindeki gelişmeler ile nüfusun belli noktalara toplanması ve şehirleşmenin ortaya çıkması

Bölge adı	Nüfus	Yüzölçümü
Marmara	23.608.079	67.300 km <sup>2</sup>
İç Anadolu	12.381.363	162.000 km <sup>2</sup>
Ege	10.023.549	85.000 km <sup>2</sup>
Akdeniz	9.906.771	122.100 km <sup>2</sup>
Güneydoğu Anadolu	8.250.718	61.000 km <sup>2</sup>
Karadeniz	6.998.998	146.178 km <sup>2</sup>
Doğu Anadolu	5.927.630	171.000 km <sup>2</sup>

4) **Yukarıda verilen tabloya göre aşağıdaki yargılardan hangisine ulaşılabilir?**

- A) Marmara Bölgesi’nin nüfus yoğunluğu Karadeniz Bölgesinden daha fazladır.
- B) Yüz ölçümü en büyük bölge olan Doğu Anadolu Bölgesi’nin nüfus miktarı en azdır.
- C) Yüz ölçümüne göre nüfus yoğunluğunun en fazla olduğu bölge Doğu Anadolu Bölgesidir.
- D) Yüz ölçümü en küçük olan bölge Güneydoğu Anadolu bölgesidir.

5) Günümüzde kullandığımız icatların büyük bir kısmının tarihi eskilere dayanmaktadır. İnsanların günlük hayattaki ihtiyaçlarını karşılamak için ortaya koyduğu icatlar kendiliğinden ortaya çıkmamış aksine buna yönelik yapılan çalışmalar sonucu oluşturulmuştur. Buluşlar sonucu ortaya konulan icatlar insanların günlük yaşamını kolaylaştırırken aynı zamanda üzerinde yapılan çalışmalar sonucu daha pratik bir hale getirilerek kullanılmaya devam edilmiştir. Toplumlar arasında yaşanan ekonomik, toplumsal ve siyasal etkileşimler sonucu bir uygarlığın ortaya koyduğu bir icat başka bir uygarlık tarafından öğrenilmiş böylece icatlar geliştirilerek onlara evrensel bir boyut kazandırılmıştır.

**Yukarıda verilen metne göre aşağıdakilerden hangisine ulaşılabilir?**

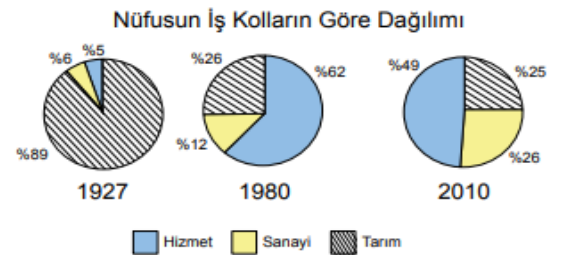
- A) İcatlar insanların günlük ihtiyacına çözüm bulmak için yapılan girişimler sonucu ortaya çıkmıştır.
- B)Günümüzde kullandığımız birçok icadın kökeni eski dönemlere dayanmaktadır.
- C)Uygarlıklar arasında yaşanan bazı etkileşimler sonucu icatlar farklı toplumlar tarafından öğrenilmiştir.
- D) İcatlar zamanla ilk icat edildikleri amaçlar dışında kullanılmaya başlanmıştır.

6) Coğrafi Keşifler sonucunda sanatı seven ve sanatçıları koruyan zengin bir sınıf ortaya çıktı. Bu sınıf Avrupa’da sanatçıları ve bilim insanlarını destekledi. Böylece 16. yüzyılda birçok sanatçı yetişti.

**Bu bilgilere göre bilimsel faaliyetlerin artmasındaki etken aşağıdakilerden hangisidir?**

- A) Özgür düşüncenin egemen olması
- B) Sorgulanamayan bilgilerin kullanılması
- C) Bilim adamlarının maddi ve manevi olarak desteklenmesi
- D) Bilim adamlarının devlet yöneticileri tarafından ödüllendirilmesi

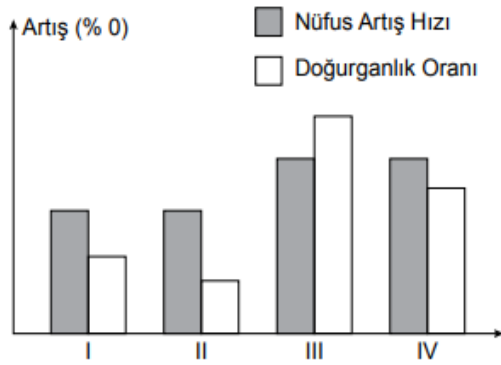
7)



**Türkiye nüfusunun iş kollarına göre dağılımının verildiği yukarıdaki grafiklere göre hangisi söylenemez?**

- A) 1927 yılında nüfusun büyük çoğunluğu tarım sektöründe çalışmıştır.
- B) 1927 ve 2010 yılları arasında Türkiye’nin sanayisi gelişme göstermiştir.
- C) Sanayide çalışan nüfus oranı verilen yıllar arasında sürekli artmıştır.
- D) 1927 ve 2010 yılları arasında tarımda çalışan nüfus oranı sürekli artmıştır.

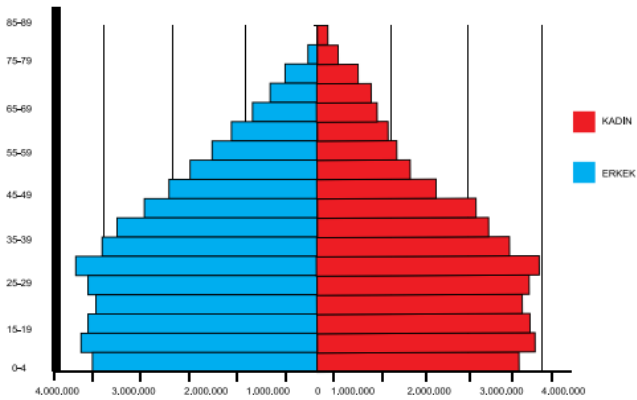
8)



Yukarıda dört bölgeye ait nüfus artış hızı ve doğum artış oranları verilmiştir. Buna göre, hangi bölge dışarıya daha çok göç vermektedir?

- A) I. B) II. C) III. D) IV.

9)



Nüfus piramidine bakılarak hangisi söylenemez?

- A) Kadın ve erkek nüfus birbirine yakındır.  
 B) Nüfusun çoğunluğu 45 yaşın altındadır.  
 C) Yaşlı nüfus oranı fazladır.  
 D) Doğum oranı yüksektir.

10) Tımar, devlete ait arazinin, savaşlarda yararlılığı görülen, kale yapım ve tamirinde bulunan, devlete hizmet eden askerlere ve diğer hizmetlerde bulunan kişilere verilmesidir. Bu sistemde toprağın işlenerek vergilendirilmesi esas alınmıştır.

Buna göre aşağıdakilerden hangisi tımar sisteminin amaçlarından biri değildir?

- A) Hazineye yük olmadan asker yetiştirmek  
 B) Üretimde sürekliliği sağlamak  
 C) Devletin yönetim anlayışını değiştirmek  
 D) Toprağın boş kalmasını önlemek

*Başarılar dilerim.*