

## SINIF İletişim ve İnsan İlişkileri

1. Olumlu iletişime başlamak zor değildir. Sabahları uyan-  
dığımızda, okula gittiğimizde karşılaştığımız insanlara  
"günaydın" diyerek onları selamlamak, onların hal  
hatırlarını sormak olumlu iletişimi başlatmanın en kolay  
yoludur.

**Yukarıdaki metne verilebilecek en uygun başlık  
aşağıdakilerden hangisidir ?**

- A) İletişimin önemi
- B) İletişimin unsurları nelerdir
- C) Dikkatli iletişim nasıl olur
- D) Olumlu iletişim nasıl başlar

2. **Sen dili;**

- Senle başlar veya senle biter
- Yargılayıcı, suçlayıcıdır
- Eleştiricidir
- Kırıcı olabilir.

**Buna göre aşağıdaki cümlelerden hangisi "sen  
dili" ne örnek olabilir?**

- A) Okula neden geç kaldın
- B) Seni göremeyince meraklandım
- C) Yüksek sesle konuştuğunda üzülüyorum
- D) Benimle oynayınca mutlu oldum

3. İyi bir dinleyici olan Ali arkadaşlarıyla son derece başa-  
rılı bir iletişim kurmaktadır. Arkadaş ortamında sevilen  
düşüncelerine önem verilen birisi olmuştur.

**Buna göre iyi bir dinleyici olan Ali'den aşağıdaki-  
lerden hangisi beklenmez?**

- A) Dikkatini karşısındakine verir
- B) Göz teması kurar
- C) Son sözü söylemek için çabalar
- D) Yargılamadan ve suçlamadan dinler.

4. İletişimin bazı teknikleri kullanarak çok sayıda kişiyi et-  
kileyecek biçime getirilmesine kitle iletişimi, bunun için  
kullanılan araçlara ise kitle iletişim araçları denir.

**Buna göre aşağıdakilerden hangisi kitle iletişim  
aracı olamaz?**

- A) Mektup
- B) Televizyon
- C) Radyo
- D) Dergi

5. Bir ülkede yayın yapan kuruluşların belirli ilkeler çerçe-  
vesinde yayın yapmaları gerekmektedir.

**Ülkemizde televizyon ve radyo kanallarını denetle-  
me yetkisine sahip devlet kuruluşu aşağıdakilerden  
hangisidir?**

- A) TRT
- B) RTÜK
- C) TÜİK
- D) AA

6. İnsanlar arası etkileşimde kitle iletişim araçları önemli  
bir etkiye sahiptir.

**Aşağıdakilerden hangisi kitle iletişim araçlarının  
olumsuz yönlerinden biridir?**

- A) Demokrasinin gelişmesini sağlar
- B) İnsanların eğlenmesini sağlar
- C) İnsanların eğitilmesine yardımcı olur
- D) İnsanları karamsarlığa sürükler

## İletişim ve İnsan İlişkileri

7. **Anne:** Telefonda çok konuşuyorsun

**Ayşe:** Anneciğim arkadaşımдан ödevimi alıyorum

**Anne:** Sınıfta dersi dinleseydin hiç gerek kalmazdı, demek ki ders dinlemiyorsun

**Ayşe:** Hayır anneciğim o sırada öğretmen beni görevlendirmişti.

**Yukarıdaki konuşmada Anne hangi iletişim hatası yapmıştır?**

- A) Suçlama B) Alay etme  
C) Yalan söyleme D) Yargılama

8. **Aşağıdakilerden hangisi iyi bir iletişim kurmak için gerekli olan öğelerden değildir?**

- A) Ön yargılı olmak  
B) Empati kurmak  
C) Dikkatli dinlemek  
D) Saygı duymak

9. Etkili bir iletişimde vücut dili, ses tonu, el kol hareketleri, jest ve mimikler çok önemli rol oynar.

**Diyen bir kişi iletişimin hangi önemli etkenini unutmuştur?**

- A) Konunun akışı  
B) Bağırarak konuşma  
C) Göz teması  
D) Ayrıntıya girmek

10. "Etkili iletişim için en önemli etken iletişimi başlatan cümlelerdir"

**Aşağıdakilerden hangisi etkili iletişimi başlatma ifadelerinden biri değildir?**

- A) Merhaba  
B) Teşekkür ederim  
C) Bugün nasılsınız  
D) Günaydın

11. Soğuk çay ve pilavı kabul edebiliriz ama asık suratlılığı asla. (Çin atasözü)

**Bu atasözü iletişimdiki hangi unsuru vurgulamaktadır?**

- A) Dürüstlük  
B) Açık sözlülük  
C) Güler yüzlü olmak  
D) Empati

12. Halk arasında ..... ile ilgili güzel sözler vardır: "benim yerimde sen olsaydın ne yapardın?", kendine yapılmasını istemediğin bir davranışı sende başkasına yapma."

**Buna göre ..... ile gösterilen yere aşağıdaki hangi kelime yazılırsa cümle doğru tamamlanmış olur.**

- A) Empati kurmak  
B) Dürüst olmak  
C) Alay etmek  
D) Dinlemek

ÖLÇME, DEĞERLENDİRME VE SINAV HİZMETLERİ GENEL MÜDÜRLÜĞÜ



Adı : .....  
Soyadı : .....  
Sınıf : .....  
NO : .....

1	2	3	4	5	6	7	8	9	10	11	12
A	A	A	A	A	A	A	A	A	A	A	A
B	B	B	B	B	B	B	B	B	B	B	B
C	C	C	C	C	C	C	C	C	C	C	C
D	D	D	D	D	D	D	D	D	D	D	D

Doğru : .....  
Yanlış : .....  
Boş : .....  
Puan : .....

1. Aşağıdakilerden hangisi iletişim becerilerinden biri değildir?

- A) Güzel konuşma
- B) Empati kurma
- C) İlgili dinleme
- D) Yüksek sesle konuşma

2. Aşağıdakilerden hangisi günümüzde sık kullandığımız kitle iletişim araçlarından biri değildir?

- A) İnternet
- B) Telgraf
- C) Radyo
- D) Televizyon

3. Milli mücadele dönemi örgütlenmesinin kolaylaşması için iletişimin son derece önemli olduğunu bilen Atatürk'ün benim gazetem dediği ve yazılarını yayınladığı gazete aşağıdakilerden hangisidir?

- A) Hakimiyeti Milliye
- B) İrade-i Milliye
- C) Ceride-i Resmîye
- D) Takvîmî Vekâyi

4. Aşağıdakilerden hangisi Atatürk dönemi iletişim araçlarından biri değildir?

- A) Hakimiyet-i Milliye
- B) İrade-i Milliye
- C) Anadolu Ajansı
- D) TRT

5. Atatürk'ün: "Basın hürriyetinden doğan mahzurların giderilme vasıtası, yine basın hürriyetidir." Sözü'nün anlamı aşağıdaki seçeneklerin hangisinde verilmiştir?

- A) Basın hürriyeti mahzurludur.
- B) Basın hürriyeti olmamalıdır.
- C) Basın, özgür olmalıdır
- D) Basın özgürlüğü bir vasıtaadır.

6. • İletişimde kullanılan el kol hareketleri  
• İletişimde kullanılan yüz ifadeleri

İletişimde kullanılan bilgiler sırasıyla hangi şıkta doğru olarak verilmiştir?

	I	II
A)	Jest	Mimik
B)	Tavır	Davranış
C)	Mimik	Görüş
D)	Davranış	Mimik

## İletişim ve İnsan İlişkileri

7. Basının görevleri arasında aşağıdakilerden hangisi yer almaz?

- A) Kamuoyu oluşturmak
- B) Halkı bilinçlendirmek
- C) Yöneticilerin görevlerini hatırlatmak
- D) Halka ön yargı aşılamak



Genel İzleyici Kitle



7 Yaş ve Üzeri için



13 Yaş ve Üzeri için



18 Yaş ve Üzeri için



Şiddet / Korku



Cinsellik



Olumsuz örnek Oluşturabilecek Davranışlar

8. Yukarıda kullanılan akıllı işaretlerin amacı hangi şıkta doğru olarak ifade edilmiştir?

- A) Programları izletmek
- B) Karışıklığı gidermek
- C) İzleyiciyi bilinçlendirmek
- D) Yayın saatlerini belirlemek

9. • Yemek yemeden tatlı yemek yok  
• Akşam geç geleni eve almayacağım  
• Dediklerimi yapmazsan dışarı çıkamazsın

**Bu cümleler iletişim sürecinde yapılan yanlışlıklardan hangisine örnek olabilir?**

- A) Yargılamak
- B) Suçlamak
- C) Eleştirmek
- D) Tehdit etmek

10. Aşağıdakilerden hangisi milli mücadele yıllarında **Büyük Millet Meclisi tarafından alınan kararları hızlı bir şekilde halka duyurmak ve Türk kamuoyunu doğru bilgilendirmek için kurulmuştur**?

- A) Anadolu Ajansı
- B) Türk Dil Kurumu
- C) Türk Tarih Kurumu
- D) TRT

11. Milli mücadele döneminde yayınlanan gazeteler **hangi amaçla çıkarılmıştır**?

- A) Kültürleri birleştirmek
- B) Halkı bilinçlendirmek
- C) Okuryazarlığı artırmak
- D) Eğitime destek sağlamak

12. **Anayasamızın 28. maddesindeki “basın hürdür sansür edilemez” ifadesinin anayasamızda yer almasının amacı aşağıdakilerden hangisidir?**

- A) Basın özgürlüğünü sağlamak
- B) Basını kontrol etmek
- C) Radyo-gazete ve tvleri denetlemek
- D) Basına yasak getirmek



Adı : .....

Soyadı : .....

Sınıf : .....

NO : .....

1	2	3	4	5	6	7	8	9	10	11	12
A	A	A	A	A	A	A	A	A	A	A	A
B	B	B	B	B	B	B	B	B	B	B	B
C	C	C	C	C	C	C	C	C	C	C	C
D	D	D	D	D	D	D	D	D	D	D	D

Doğru : .....

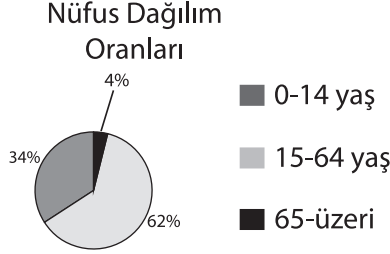
Yanlış : .....

Boş : .....

Puan : .....

## SINIF Ülkemizde Nüfus

1. Tabloda bir ülkenin nüfusunun yaş gruplarına göre dağılımı verilmiştir.



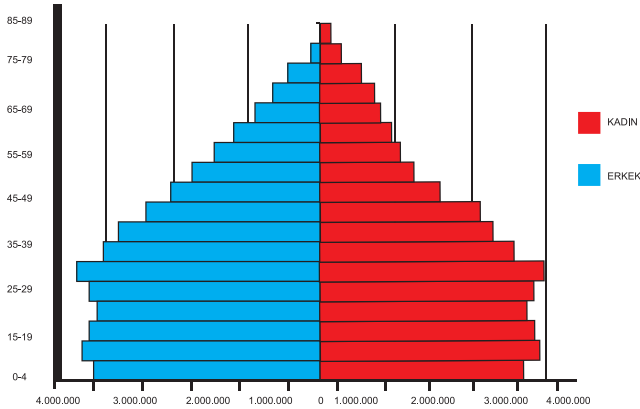
Buna göre aşağıdaki bilgilerden hangisi doğrudur?

- A) Ülke gelişmiş bir ülkedir  
B) En az nüfus 0-14 yaş aralığındadır.  
C) Erkek nüfus en fazladır  
D) En fazla nüfus 15-64 yaş aralığındadır.

2. Nüfusun dağılışında aşağıdakilerden hangisi **daha az** etkilidir?

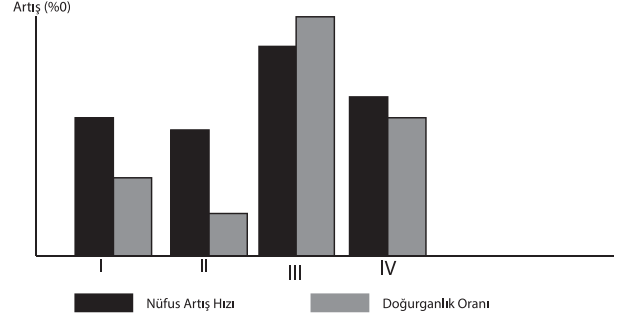
- A) İklim  
B) Sanayi  
C) Bitki örtüsü  
D) Yüzölçümü

3. Aşağıdaki nüfus piramidine bakıldığında hangisi **söylenemez?**



- A) Genç nüfus fazladır.  
B) Üretken nüfus fazladır  
C) Yaşlı nüfus oranı fazladır  
D) Doğum oranı yüksektir

- 4.



Yukarıda dört bölgeye ait nüfus artış hızı ve doğum artış oranları verilmiştir. Buna göre, hangi bölge dışarıya daha çok göç vermektedir ?

- A) I B) II C) III D) IV

5. Yer şekillerinin engebeli olması yerleşim faaliyetlerini olumsuz yönde etkiler.

Yukarıda bahsedilen durum aşağıdaki şehirlerden hangisinde daha çok yaşanır?

- A) Hakkari B) Konya  
C) Kayseri D) Malatya

- 6.



Haritada ülkemizde yoğun nüfuslu olan bazı bölgeler verilmiştir.

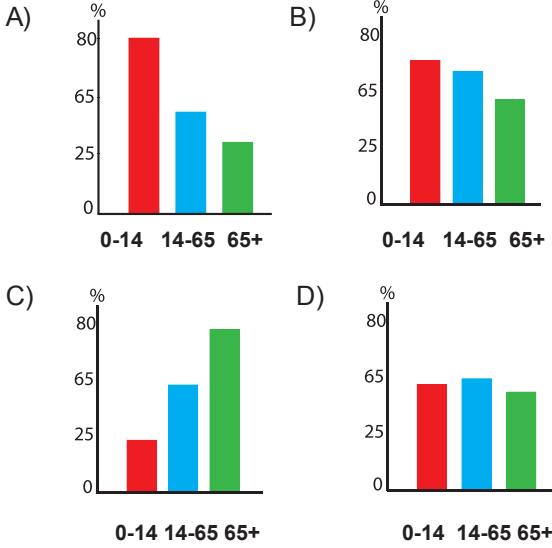
Bu yerleşim yerlerinin yoğun nüfuslu olmasında sanayinin etkisinin en fazla olduğu yer hangisidir?

- A) I B) II C) III D) IV

## Ülkemizde Nüfus

7. Gelişmiş ülkelerde nüfus artış oranı düşük olduğundan yaşlı nüfus oranı fazla, genç oranı azdır.

Buna göre aşağıdaki nüfus ve yaş durumunu gösteren grafiklerden hangisi gelişmiş bir ülkeye aittir?



8. Aşağıdakilerden hangisi nüfus sayımlarından çıkarılacak bir sonuç değildir?

- A) Nüfusun yaş durumu  
B) Nüfusun tarımsal üretime katkısı  
C) Nüfusun eğitim durumu  
D) Nüfusun ihtiyaç duyduğu okul sayısı

9. Ülkemizde nüfusun dağılışını etkileyen etkenleri iki grupta inceleyebiliriz. Bunlar; doğal ve beşerî etkenlerdir.

Aşağıdakilerden hangisi doğal etkenlerdendir?

- A) Sanayi  
B) Tarım  
C) Turizm  
D) Yer Şekilleri

10. Şirin'in yaşadığı yerde yüksek ve engebeli alanlar çoğunlukta olduğu için ekonomik faaliyetler kısıtlı olarak yapılabilmektedir. Bu durum Şirin'in yaşadığı yerin seyrek nüfuslu olmasına yol açmıştır.

Şirin'in yaşadığı yerin seyrek nüfuslu olmasının nedeni aşağıdakilerden hangisidir?

- A) Sanayi  
B) Yerçekilleri  
C) Turizm  
D) Yer altı kaynakları

11. Bir ülkedeki eğitilmiş insan sayısının fazlalığı o ülke için önemli bir güç kaynağıdır.

Bunun başlıca sebebi aşağıdakilerden hangisidir?

- A) Nitelikli üretimin artması  
B) Nüfus artışının sağlanması  
C) Savunmaya ayrılan paranın artması  
D) Eğitime ayrılan kaynağın azalması

- 12.

Dönem	Nüfus Artış Hızı	Neden
1960-1975	Azalma	Yurtdışına İşçi Göçleri
1975-1980	Azalma	Ülke içi sosyal sorunlar
1980-1990	Artma	?
1990-Sonrası	Azalma	Nüfus ve aile planlaması çalışmaları eğitim seviyesinin artması

Tabloda ? ile gösterilen yere aşağıdakilerden hangisi getirilmelidir?

- A) Salgın hastalıkların yaşanması  
B) İç göçlerin yaşanması  
C) Sağlık hizmetlerinin gelişmesi  
D) İşsizlik sorunun yaşanması



Adı : .....  
Soyadı : .....  
Sınıf : .....  
NO : .....

1	2	3	4	5	6	7	8	9	10	11	12
A	A	A	A	A	A	A	A	A	A	A	A
B	B	B	B	B	B	B	B	B	B	B	B
C	C	C	C	C	C	C	C	C	C	C	C
D	D	D	D	D	D	D	D	D	D	D	D

Doğru : .....  
Yanlış : .....  
Boş : .....  
Puan : .....



1. Anayasamızın 23. maddesi herkesin yerleşme ve seyahat hürriyetine sahip olduğunu belirtmektedir. Ancak bu hak bazı durumlarda kısıtlanabilir.

**Aşağıdakilerden hangisi bu duruma örnek olarak gösterilemez?**

- A) Seferberlik
- B) Savaş zamanı
- C) Okul zamanı
- D) Olağanüstü hal

2. Konut yaptırmak isteyen bir vatandaş aşağıdaki yerlerden hangisine konutunu **yaptıramaz**?

- A) Çamlık milli parkı
- B) Cihanbeyli platosu
- C) Antalya deniz kenarı
- D) Van gölü çevresi

3. Ülkemizde son yıllarda ortaya çıkan domuz gribi kuş gribi gibi hastalıklardan dolayı anayasal bazı haklarımız kısıtlanmıştır. Hatta bazı şehirler karantina altına alınarak giriş çıkış yasaklanmıştır.

**Bu olaylar karşısında aşağıdaki haklardan hangisinde kısıtlamaya gidilmiştir?**

- A) Yaşama hakkı
- B) Seyahat hakkı
- C) Seçme hakkı
- D) Yerleşme hakkı

4. Kırsal alanlardan kentlere göç eden insanların ekonomik nedenlerle kentlerin çevresinde plansız bir şekilde kurdukları sağlıksız meskenlere ne ad verilir?

- A) Gecekondu
- B) Apartman
- C) Köy
- D) Mezra

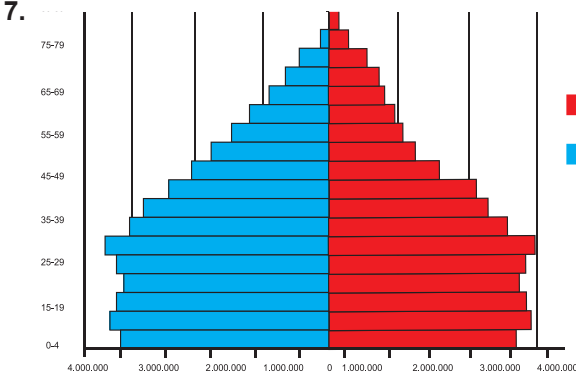
5. Aşağıda verilen haklardan hangisinde bir hak ihlali söz konusu **değildir**?

A)	Özel yaşamın gizliliği	kişinin evinin izinsiz kameralara alınması
B)	Konut dokunulmazlığı	kişinin evine hakim kararı olmadan girilmesi
C)	Doğru haber alma	aynı haberin her kanalda farklı şekilde verilmesi
D)	Basın özgürlüğü	gazete ve dergilerin yayınının durdurulması

6. Aşağıdaki sahip olduğumuz haklarla ilgili ifadelerden hangisi **yanlıştır**?

- A) Kişilerin en temel hakkı yaşama hakkıdır.
- B) Çalışma herkesin hakkı ve ödevidir.
- C) Kız çocuklarının da eğitim hakkı vardır
- D) Çalışanların sosyal güvenliği isteğe bağlıdır.

## Ülkemizde Nüfus



Yukarıdaki nüfus piramidine bakıldığında aşağıdakilerden hangisine ulaşamaz?

- A) Doğum oranı azalmaya başlamıştır.  
B) 85 yaş üzeri nüfus oldukça azdır.  
C) Tüketici nüfus daha fazladır.  
D) Nüfus artış hızı azalmaktadır
8. "Ege Bölgesinde güzel bir sahil kasabasında yaşıyordum hastalığım çok ilerlemişti. Bu yüzden kasabadan ayrılp İzmir'e yerleşmek zorunda kaldım." **diyen birisi için göç etmesinde İzmir'in hangi özelliği etkili olmuştur?**
- A) Güzel bir şehir olması  
B) Eğitim imkanının iyi olması  
C) Ekonomik faaliyetlerin iyi olması  
D) Sağlık olanağının gelişmiş olması
9. Eğitim almış kişilerin daha iyi olanaklar karşısında başka ülkelere yerleşmesine beyin göçü denir.
- Buna göre aşağıdaki kişilerden hangisi beyin göçüne girmez?**
- A) Akademisyenlik için giden kişi  
B) Mühendis olarak giden kişi  
C) Fabrikaya çalışmaya giden kişi  
D) Başarıları üzerine giden kişi

10. İnsanların bir ülkeden başka ülkeye göç etmesine dış göç denir.

**Buna göre aşağıdakilerden hangisi, dış göçlere bir örnektir?**

- A) Yozgat'da oturan Ayşe'nin üniversiteyi kazanması ile İsta'a gitmesi  
B) Bingöl'de yaşayan Ahmet Bey'in çalışma amacıyla Belçika'ya gitmesi  
C) Gaziantep'te yaşayan Ayşe Teyze'nin pamuk toplamak için Adana'ya gitmesi  
D) Ankara'da yaşayan Ali Bey'in yazın bir aylığına Avrupa turuna çıkması

11. Göç hareketleri nüfusun yapısında bazı değişiklikler meydana getirir

**Buna göre aşağıdakilerden hangisi göç alan bir bölgede yaşanabilecek değişikliklerden biridir?**

- A) Nüfus azalır  
B) Kadın nüfusu azalır  
C) Nüfus yoğunluğu artar  
D) Yaşlı nüfus artar

12. Kimse, eğitim ve öğrenim hakkından yoksun bırakılamaz. İlköğretim, kız ve erkek bütün vatandaşlar için zorunludur ve devlet okullarında parasızdır. Devlet, maddî imkânlardan yoksun başarılı öğrencilerin, öğrenimlerini sürdürebilmeleri amacı ile burslar ve başka yollarla gerekli yardımları yapar. Devlet, durumları sebebiyle özel eğitime ihtiyacı olanları topluma yararlı kılacak tedbirleri alır

**Yukarıda Türkiye Cumhuriyeti 1982 Anayasası'nın eğitim öğretim ile ilgili maddesi verilmiştir. Buna göre aşağıdakilerden hangisine ulaşamaz?**

- A) Eğitim-öğretim yalnız başarılı öğrencilerin hakkıdır.  
B) İlköğretim tüm vatandaşlar için zorunludur.  
C) Devlet özel eğitime ihtiyacı olanları dikkate alır.  
D) Devlet maddi imkanı olmayan öğrencilere burs verebilir.

ÖLÇME, DEĞERLENDİRME VE SINAV HİZMETLERİ GENEL MÜDÜRLÜĞÜ



Adı : .....  
Soyadı : .....  
Sınıf : .....  
NO : .....

1	2	3	4	5	6	7	8	9	10	11	12
A	A	A	A	A	A	A	A	A	A	A	A
B	B	B	B	B	B	B	B	B	B	B	B
C	C	C	C	C	C	C	C	C	C	C	C
D	D	D	D	D	D	D	D	D	D	D	D

Doğru : .....  
Yanlış : .....  
Boş : .....  
Puan : .....



## SINIF Türk Tarihine Yolculuk-1

1. Aşağıdakilerden hangisi ticareti canlandırmaya yönelik yapılandırmadır?


A) Cami



B) Medrese



C) Kervansaray



D) Çeşme



2. • Bizans'ın, Türkler'e karşı direncini kıran ve Anadolu'nun Türk yurdu olduğunu kesinleştiren savaştır  
• Türkiye Selçuklu Devleti'ni zayıflatıp yıkılış sürecine sokan savaştır.

Yukarıdaki savaşlar hangi seçenekte doğru verilmiştir?

- A) Miryakefalon → Köseadağ  
B) Malazgirt → Miryakefalon  
C) Köseadağ → Yassıçemen  
D) Malazgirt → Köseadağ

3. Malazgirt Savaşı'ndan sonra Selçuklu hükümdarı Alparslan, komutanlarına Anadolu'da fethettikleri bölgelerin kendilerine ait olacağını söylemiştir..

Alparslan bu emri ile aşağıdakilerden hangisini hedeflemiştir?

- A) Avrupa'yı ele geçirmek  
B) Anadolu'nun fethini hızlandırmak  
C) Siyasi birlik oluşturmak  
D) Ülkeyi eyaletlere bölmek

4. • Mengücekliler zamanında inşa edilmiştir  
• Taş işlemleriyle ünlüdür  
• UNESCO tarafından korunması gereken dünya mirası listesine alınmıştır.

verilen bilgiler aşağıdaki hangi esere aittir?

- A) Tokat Niksar Yağıbasan Medresesi  
B) Diyarbakır Malabadi Köprüsü  
C) Erzincan Mama Hatun Külliyesi  
D) Sivas Divriği Ulu Cami ve Darüşşifası

5. Aşağıdakilerden hangisi Türkiye Selçuklu Devleti dönemindeki gelişmelerden biri değildir?

- A) Haçlılarla mücadele edilmiştir  
B) Balkanlara seferler düzenlenmiştir  
C) Moğollar ile mücadele edilmiştir  
D) Ticaret gelişmiştir

6. Türkiye Selçuklu Devleti döneminde yaptırılan kervansaraylarda yolcuların her türlü ihtiyaçları karşılanmıştır. Burada yolcular hayvanlarıyla birlikte ücretsiz kalabilmişlerdir.

Bu uygulamanın temel nedeni olarak hangisi söylenebilir?

- A) Yerli halkı korumak  
B) Ülke sınırlarını genişletmek  
C) Ticari faaliyetleri geliştirmek  
D) Haçlılara karşı güç oluşturmak

## Türk Tarihine Yolculuk-1

7. Malazgirt Savaşı'ndan sonra Türkleşmeye başlayan Anadolu'da yüzyıllarca Türk, Ermeni ve Rumlar'ın birlikte serbestçe yaşamasının temel nedeni aşağıdakilerden hangisidir?

- A) Kültür değerlerine bağlı olmaları
- B) Avrupa devletleri tarafından korunmaları
- C) Türk devletini benimsemeleri
- D) Türklerin hoşgörülü bir politika izlemesi

8. Büyük Selçuklu Devleti'nin kuruluşundan (1040) Malazgirt zaferine kadar (1071) geçen süre içerisinde Türkler, Anadolu'ya yaptıkları akınlarla Bizans'ın direnme gücünü büyük ölçüde kırdılar.

Büyük Selçuklu Devleti'nin bu faaliyetlerinin aşağıdakilerden hangisine ortam hazırladığı söylenebilir?

- A) Atabeyliklerin kurulmasına
- B) İslam birliğinin sağlanmasına
- C) Moğol akınlarının önlenmesine
- D) Anadolu'nun fethedilmesine

9. Haçlı Seferleri'nin nedenlerinden;

- Hz. İsa'nın doğduğu Kudüs'ün Müslümanlardan alınmak istenmesi
- Avrupa'nın doğudan gelen ticaret yollarına hakim olmak istemesi
- Türkler'i Anadolu, Suriye, Filistin'den uzaklaştırmak istenmesi

verilenler, aşağıdaki alanlardan hangisiyle ilişkili değildir?

- A) Siyasi
- B) Dini
- C) Hukuki
- D) Ekonomik

10. Anadolu'ya gelen ilk Türk toplulukları yerleştikleri bölgelerde kendilerine özgü mimari eserler yapmışlardır.

Bu durum, Türklerin aşağıdakilerden hangisini amaçladıklarını gösterir?

- A) Anadolu'yu ticaret merkezi haline getirmek
- B) Anadolu'yu Türk vatanı haline getirmek
- C) Bizans'a karşı üstünlük sağlamak
- D) Anadolu topraklarının işlemek

11. Aşağıdakilerden hangisi Malazgirt Savaşı'ndan sonra Anadolu'da kurulan ilk Türk Devleti ve Beylikleri'nden biri değildir?

- A) Osmanlılar
- B) Mengücekliler
- C) Saltuklular
- D) Danişmentliler

12. Aşağıdaki olayların hangisi ile Osmanlılar Rumeli'ye ilk kez geçmişlerdir?

- A) Germiyanogulları Beyliği'nin alınmasıyla,
- B) Bursa'nın alınmasıyla
- C) Çimpe Kalesi'nin alınmasıyla
- D) Edirne'nin alınmasıyla



Adı : .....  
Soyadı : .....  
Sınıf : .....  
NO : .....

1	2	3	4	5	6	7	8	9	10	11	12
A	A	A	A	A	A	A	A	A	A	A	A
B	B	B	B	B	B	B	B	B	B	B	B
C	C	C	C	C	C	C	C	C	C	C	C
D	D	D	D	D	D	D	D	D	D	D	D

Doğru : .....  
Yanlış : .....  
Boş : .....  
Puan : .....

1. Osmanlı Devleti'nde "Ülke hanedanın ortak malıdır" anlayışı zamanla "Ülke padişahın ve oğullarının malıdır" şekline dönüşmüştür.

**I. Murat zamanında yapılan bu değişiklik hangi alanla ilgilidir?**

- A) Hukuk  
B) Yönetim  
C) Eğitim  
D) Askeri

2. Osmanlı devlet teşkilatı tarafından oluşturulan aşağıdaki kurumlardan hangisi sosyal amaçları gerçekleştirilmeye yöneliktir?

- A) Divan-ı hümayun  
B) Tımar sistemi  
C) Darüşşifa  
D) Harem

3. Osmanlı Devleti'nin diğer Türk devletlerinden daha uzun süre varlığını devam ettirmesinin temel nedeni aşağıdakilerden hangisidir?

- A) Cihat ve gaza anlayışı  
B) Coğrafi konumunun iyi olması  
C) Diğer Türk devletlerinin desteği  
D) Merkezi otoritenin güçlü olması

4. Osmanlı Devleti Rumeli'de bir yandan fetihler gerçekleştirirken bir yandanda fethettiği yerlere Anadolu'dan Türk halkı getirerek iskan etti (yerleştirdi).

**Aşağıdakilerden hangisi iskan siyasetinin devlete sağladığı faydalardan biri değildir?**

- A) Osmanlı idaresi kalıcı hale geldi  
B) İssız, harap topraklar işlenmeye başlandı  
C) Taht kavgaları önlendi  
D) Bölgenin Türkleşmesi sağlandı

5. Osmanlıdaki denizcilik faaliyetleri bizimle başladı. Elimizdeki donanma gücünden yararlanan Osmanlı tersane ve donanma kurdu. Böylece kısa zamanda denizlerde hakimiyet kurmaya başladı.

**Bu bilgiyi veren deniz askeri (levent) hangi beyliğe ait bir askerdir?**

- A) Hamitoğulları  
B) Candaroğulları  
C) Menteşeoğulları  
D) Karesioğulları

6. İstanbul'un fethi sırasında surların ne kadar sağlam olursa olsun büyük toprak karşısında (şahi) yıkılabileceği anlaşılmıştır. Avrupalı krallarda bu toprakları kullanarak derebeyliklere son vermişlerdir.

**Aşağıdakilerden hangisi bu durumun sonuçlarından biridir?**

- A) Feodalitenin yıkılması  
B) Reform hareketlerinin başlaması  
C) Coğrafi Keşiflerin başlaması  
D) Kilisenin önem kaybetmesi

## Türk Tarihine Yolculuk-2

7. Osmanlı Devleti başlangıçta küçük bir beylik iken kısa sürede güçlü bir devlet haline gelmiştir. Osmanlı Devleti'nin kısa sürede büyümesinin ve güçlenmesinin sebepleri arasında aşağıdakilerden hangisi gösterilemez?

A) Anadolu'da güçlü bir devletin olmaması  
B) Halk üzerinde baskıcı politika izlenmesi  
C) Fetih ve gaza hareketlerine devam edilmesi  
D) Kurulduğu bölgenin coğrafi konumu

8. Osmanlı Devleti'nde "Devşirme Sistemi" ile oluşturulan askeri birlik aşağıdakilerden hangisidir?

A) Kapıkulu Askerleri  
B) Tımarlı Sipahiler  
C) Eyalet Askerleri  
D) Yardımcı Birlikler

9. Osmanlı padişahlarından II. Mahmut tarihimizde ilk nüfus sayımını (1831) yaptırmıştır. Aşağıdakilerden hangisi II. Mahmut'un nüfus sayımı yaptırma amaçlarından biridir?

A) Halkın eğitim durumunu belirlemek  
B) Gayrimüslüm halkın sayısını tespit etmek  
C) Asker sayısı ve vergi verecekleri tespit etmek  
D) Köy nüfusunu belirlemek

10. Osmanlı donanması, 1571'de Venediklilerin elindeki Kıbrıs'ı fethetti. Kıbrıs'a Konya, Karaman, Niğde ve Kayseri'den getirilen Türk aileler yerleştirildi. Ancak Avrupalılar, güçlü bir Haçlı donanması oluşturarak İnebahtı'da Osmanlı donanmasını yenilgiye uğrattılar.

**Bu bilgilere dayanarak,**

- I. Osmanlı Devleti, Kıbrıs'ta kalıcı egemenlik kurmak istemiştir.  
II. Osmanlı Devleti ile Avrupalılar arasında Akdeniz'de egemenlik mücadelesi yaşanmıştır.  
III. Avrupalılar, Osmanlılara karşı birlikte hareket etmişlerdir.

**yargılarından hangilerine ulaşılır?**

A) Yalnız I  
B) I ve II  
C) II ve III  
D) I, II ve III

11. Osmanlı Devleti'nde gelir ve giderlerini düzenleyen kişiye defterdar adı verilir. Osmanlı Devleti'nin hazinesi defterdara emanetti.

**Osmanlı Devletinde defterdarın görevlerini günümüzde hangi bakan yerine getirmektedir?**

A) Maliye Bakanı  
B) Adalet Bakanı  
C) Millî Eğitim Bakanı  
D) Başbakan

12. Fatih İstanbul'un fethinden sonra şehirden ayrılanların geri dönmeleri için gerekli olan tedbirleri almış Ayasofya'da toplanan halka serbestçe korkmadan evlerine ve işlerine dönebileceklerini ilan etmiştir. Onlara can mal ve ırz güvenliği teminatı vermiştir.

**Yukarıda verilen bilgi göz önüne alınarak aşağıdaki yargılardan hangisine varılamaz?**

A) Osmanlının hoşgörü ve birlikte yaşama isteğine önem verdiği  
B) Fatih Sultan Mehmet'in halka kısıtlamalar getirdiği  
C) Osmanlının halkı koruma altına aldığı  
D) Osmanlıda farklılıklara saygı duyulduğu

ÖLÇME, DEĞERLENDİRME VE SINAV HİZMETLERİ GENEL MÜDÜRLÜĞÜ



Adı : .....  
Soyadı : .....  
Sınıf : .....  
NO : .....

1	2	3	4	5	6	7	8	9	10	11	12
A	A	A	A	A	A	A	A	A	A	A	A
B	B	B	B	B	B	B	B	B	B	B	B
C	C	C	C	C	C	C	C	C	C	C	C
D	D	D	D	D	D	D	D	D	D	D	D

Doğru : .....  
Yanlış : .....  
Boş : .....  
Puan : .....



1. Kanuni Sultan Süleyman 16 Ağustos 1560 tarihli fermanında; "Semendire Beyine hüküm ki, huzur içinde yaşayan halkımdan hiç kimseye hiç bir zaman zulmedilmesine rızam yoktur. Vergi toplama görevinde bulunanların kanuna aykırı olarak halktan fazla akça aldıklarını işittim ve buyurdum ki; Her türlü vergiyi sadece kanunlar çerçevesinde toplattırasın. Hiçbir kimseye fazladan bir akça dahi aldirtmayasın. Dinlemeyenleri yazıp bildiresin..."

**verilen fermana aşağıdakilerden hangisi vurgulanmıştır?**

- A) Sağlıklı bir toplum için ne yapılması gerektiği  
B) Ticareti geliştirmek için neler yapılması gerektiği  
C) Adaletli ve hoşgörülü olmak  
D) Vergi toplamının önemi

2. Başbakanlık Devlet Arşivleri Genel Müdürü AA muhabirine yaptığı açıklamada, "Osmanlı Devleti'nin yaklaşık 600 yıllık bir dönemde bünyesinde farklı din, millet, mezhep ve kültüre sahip bir insan topluluğunu adil bir yönetim anlayışıyla barış içinde yönetme kabiliyetini gösterdiğini" söyledi.

**Buna göre Osmanlı Devleti için aşağıdakilerden hangisi söylenemez?**

- A) Irk ayrımı  
B) Birlik beraberlik  
C) Hoşgörü  
D) Adalet

3. Osmanlı Devleti bazı iç ve dış karışıklıklar nedeniyle 17. yüzyılda Duraklama Dönemi'ne girmiştir.

**Aşağıdakilerden hangisi Osmanlı Devleti'nin Duraklama Dönemi'ne girmesinin ekonomik nedenlerinden biri değildir?**

- A) Savaş masraflarının artması  
B) Rüşvet ve adam kayırmancının yaygınlaşması  
C) Tarımsal üretimin azalması  
D) Halktan ağır vergilerin alınması

4. II.Abdülhamid, 18 Eylül 1894 tarihinde binlerce kilometre uzaklıktaki Amerika'da orman yangınlarından zarar görenlere 300 lira yardım gönderdi. Osmanlının bu yardımına karşılık, Washington Sefareti bir yazıyla teşekkürlerini bildirirken, bütün Amerikan gazeteleri de bu yardımdan övgü ile bahsetti. Sultan Abdülmecid, 1847'de İrlanda'da meydana gelen büyük kıtlık nedeniyle bu ülkeye cömert bir yardım yaparak diğer Avrupa devletlerine örnek olurken, II.Abdülhamit 1900 yılında Hindistan'da kıtlık çeken halka Bağdat ve Basra'dan yeterli miktarda zahire satın alınarak gönderilmesi için talimat verdi.

**Metinde asıl anlatılmak istenen aşağıdakilerden hangisidir?**

- A) Osmanlı Avrupa'ya örnek olmuştur.  
B) Osmanlı hoşgörüsü felaket yaşayan ülkelere yardımcı gerektirir.  
C) Avrupalılar Osmanlıdan yardım talebinde bulunmuştur.  
D) Osmanlı yardım göndererek Avrupalıları hakimiyetine almaya çalışmıştır.

5. Lale Devri'nde, Osmanlı Devleti'nin Viyana, Paris ve Londra gibi başkentlere ilk kez elçi göndermesinin gerekçesi aşağıdakilerden hangisidir?

- A) Batı ile ilişkileri düzenlemek  
B) Batıdan borç para talep etmek  
C) Savaşlara son vermek  
D) Avrupa'daki gelişmeleri yakından takip etmek

6. -Osmanlı kültür değerleri Avrupalı ressamalarca resmedilmiştir  
-Mozart'ın saraydan kız kaçırma adlı balesinin konusu Topkapı Sarayı'nda geçmektedir.

**Bu bilgilere dayanarak;**

- I. Avrupalılar bale ve operayı Türklerden öğrenmiştir  
II. Avrupalılar Türk kültürüne ilgi duymuştur  
III. Türk kültürü Avrupalı sanatçıları etkilemiştir.

**Yorumlarından hangilerine ulaşılabilir?**

- A) Yalnız I  
B) Yalnız II  
C) I ve II  
D) II ve III

## Türk Tarihine Yolculuk-3

7. 1718-1730 yılları arasında yaşanan Lale devrinde aşağıdaki gelişmelerden hangisi düşünce ve kültür hayatını daha çok etkileyen bir yenilik olmuştur?

- A) Çiçek aşısının uygulanması
- B) Matbaanın kullanılması
- C) Kağıt fabrikasının kurulması
- D) Tulumbacı Ocağı'nın kurulması

8. Lale Devri'nde;

- Resim minyatür sanatı gelişti
- Avrupa tarzında eserler verilmeye başlandı
- Doğu, Batı eserleri tercüme edildi

yapılan bu yenilikler hangi alanda yapılmıştır.

- A) Askeri
- B) Sanayi
- C) Kültür
- D) Yönetim

9. XIX. yüzyılda Osmanlı topraklarından geçen seyyahlar, gördüklerini şu şekilde anlatmıştır: "... Adalet ve hukuk yoluyla toplum düzenini sağlayan Türkler, Hristiyan ve Müslüman farkı gözetmeksizin adaleti herkese eşit olarak tatbik ederler. Belli başlı kadıların masalarında İncil ve Tevrat birlikte bulunur. Hristiyanları İncil, Yahudileri Tevrat üzerine yemin ettirirler.

Seyyahın anlatımından hareketle, Osmanlı toplumu ile ilgili olarak aşağıdakilerden hangisi söylene-  
mez?

- A) Farklı inanç ve kültürler bir arada yaşamıştır.
- B) Osmanlı toplumu tek millettten oluşmuştur.
- C) İnanç özgürlüğü vardır
- D) Hoşgörü anlayışı gelişmiştir.

10. Türkiye Cumhuriyetinde egemenlik kayıtsız şart-sız millete ait iken Osmanlı Devleti'nde egemenlik ..... aittir.

verilen metinde boş bırakılan yere aşağıdakilerden hangisi getirilebilir?

- A) Divanühümayun
- B) Halka
- C) Tımarlı sipahilere
- D) Padişaha

11. II. Bayezid Dönemi'nde;

- Fetihlerin yavaşlaması
- Devletin iç sorunlarının artması
- Memlûklerle yapılan seferlerde başarılı olunamaması

verilenler aşağıdakilerden hangisinin bir sonucu-  
dur?

- A) Şehzade Cem'in isyan etmesinin
- B) Donanmaya önem verilmemesinin
- C) II. Bayezid'in uzun süre tahtta kalmasının
- D) Padişahın çocuk yaşta olmasının

12. Yavuz Sultan Selim'in Mısır Seferi'nin sonuçlarından olan;

- Halifeliğin Osmanlılar'a geçmesi
- Mısır'daki bilginlerin İstanbul'a getirilmesi
- Baharat Yolu'nun Osmanlı'nın kontrolüne girmesi

gelişmelerine göre, Osmanlı Devleti'nin Mısır Seferi sonrasında hangi alanda daha az etkilendiği söyle-nebilir?

- A) Dini
- B) Bilimsel
- C) Mimari
- D) Ekonomik



Adı : .....  
Soyadı : .....  
Sınıf : .....  
NO : .....

1	2	3	4	5	6	7	8	9	10	11	12
A	A	A	A	A	A	A	A	A	A	A	A
B	B	B	B	B	B	B	B	B	B	B	B
C	C	C	C	C	C	C	C	C	C	C	C
D	D	D	D	D	D	D	D	D	D	D	D

Doğru : .....  
Yanlış : .....  
Boş : .....  
Puan : .....



1. Veziriazam, padişahın en yetkili devlet adamı olup padişahın vekiliydi. Büyük devlet memurlarını atama, iletme, görevden alma yetkilerine sahipti. Padişah sefere çıkmadığı zamanlarda orduyu komuta ederdi. Padişahın mührünü taşıyor, onun adına sözlü ve yazılı emirler verirdi.

**Buna göre veziriazam için aşağıdakilerden hangisi söylenemez?**

- A) Padişahın bazı yetkilerini kullanabildiği  
B) Padişahın en yetkili devlet adamı olduğu  
C) Gerektiğinde ordunun başında savaşa katıldığı  
D) Padişahın emirlerini onayladığı

2. 11-13. yüzyıllar arasında Hristiyan Batı dünyasının Müslümanların elinde bulunan ve Hristiyanlarca kutsal sayılan Kudüs ve çevresini geri almak için düzenledikleri seferlere Haçlı Seferleri denir.

**Aşağıdakilerden hangisi Haçlı Seferleri'nin sonuçlarından biri değildir?**

- A) Matbaanın Avrupalılarca öğrenilmesi  
B) Akdeniz limanlarının önem kazanması  
C) Avrupa'nın kağıt ve pusulayı öğrenmesi  
D) Bilimsel düşüncelerin gerilemesi

3. Osmanlı Devleti'ne bağlı Rumeli'deki Niş kenti Valisi olan Mithat Paşa, çiftçilerin içinde bulundukları zor koşulları görmüş çiftçilerin, yüksek faizle borç veren kişilerin elinden kurtarılması için çözüm yolları aramıştır. Böylece 1863 yılında, çiftçilerin oluşturduğu kaynakla, Mithat Paşa öncülüğünde Memleket Sandıkları kurulmuştur. Mithat Paşa, Memleket Sandıkları'nı oluştururken Türk gelenekleri arasında zaten var olan ve karşılıklı yardımlaşma esasına dayanan imece geleneğinden esinlenmiştir. Zamanla Memleket Sandıkları tüm ülkeye yayılmıştır.

**Bu bilgiler ışığında aşağıdakilerden hangisine ulaşılabılır?**

- A) Memleket Sandıkları bankalardan borç almıştır  
B) Memleket Sandıkları kurulurken Avrupa örnek alınmıştır.  
C) Mithat Paşa çiftçilerin sorunlarını çözmeye çalışmıştır.  
D) Memleket Sandıkları çiftçiye ağır yük getirmiştir.

4. I. Ahmet şehzadelerin sancaklara vali olarak gönderilmesini kaldırarak en yaşlı ve en akıllı şehzadenin padişah olmasını sağlamıştır.

**Bu kuralın uygulanmasının en önemli olumsuz sonucu aşağıdakilerden hangisi olmuştur?**

- A) Avrupadaki gelişmeler takip edilememiştir  
B) Ordu yönetime karışmıştır  
C) Deneyimsiz padişahlar yetişmiştir  
D) İktidar mücadelesi başlamıştır

5. XVIII. yüzyılda Avrupa'dan alınan bir yenilikte Türkçe eserler basacak bir matbaanın kurulmasıdır. Matbaanın ülkeye getirilmesinde Paris'e elçi olarak giden 28 Çelebi Mehmet ve oğlu Mehmet Sait'in emeği büyüktür.

**Bu bilgilere göre aşağıdakilerden hangisine ulaşılabılır?**

- A) İlk matbaayı Türkler bulmuştur  
B) Matbaanın kurulması önemli bir yeniliktir  
C) İlk elçimiz 28 Çelebi Mehmet'tir  
D) Çelebi Mehmet matbaayı bulan kişidir

6. Matbaanın kullanılmaya başlamasıyla halkın hayatında görülen önemli gelişmelerden biri gazetelerin yayımlanmasıdır. Osmanlı'da yayımlanan ilk Türkçe Resmî Gazete aşağıdakilerden hangisidir?

- A) Tercümanı-ı Ahval  
B) Havadis  
C) Takvimivekayi  
D) Ceride-i Havadis

## Türk Tarihine Yolculuk-4

7. Osmanlı Devleti'nde yapılan ıslahatların önemli bir kısmı da ulaşım alanında yapıldı. 1856 yılında ilk demir yolu hattımız İzmir ile Aydın arasında inşa edilmeye başlandı. Zaman içinde Anadolu ve Rumeli topraklarında demir yolu ağı genişledi. 1888'de İstanbul'u Avrupa'ya bağlayan demir yolu hattı açıldı.

**Aşağıdakilerden hangisi ulaşım alanında yapılan bu ıslahatların sağladığı faydalardan biri değildir?**

- A) Ulaşım kolaylaştı ve ucuzladı  
B) Ülke kaynakları farklı bölgelere ulaştı  
C) Ticaret gelişti  
D) Konutlaşma oranı arttı

8. Aşağıdakilerden hangisi II. Mahmut Dönemi'nde yapılan yeniliklerden biri değildir?

- A) Bakanlıkların kurulması  
B) Matbaanın açılması  
C) İlk resmi gazetenin çıkarılması  
D) Yeniçeri Ocağı'nın kapatılması

9. Osmanlı Devleti'nde;

- I. Medreselerin yanında Avrupa tarzında okulların açılması  
II. Avrupa'ya öğrenciler gönderilmesi  
III. Yeniçeri Ocağı'nın kaldırılması

**verilenlerden hangilerinin ülkede kültürel farklılıklara yol açtığı savunulabilir?**

- A) Yalnız I  
B) Yalnız II  
C) I ve II  
D) I ve III

10. "Burada Fransızca olarak tıp bilimi tahsil edeceksiniz. Benim sizlere Fransızca okutmaktaki muradım, Fransızca lisanı tahsil ettirmek değildir. Ancak tıp ilmini öğrenip, zamanla kendi lisanımıza almaktır."

**II. Mahmut'un bu sözlerindeki asıl vurgulanan husus aşağıdakilerden hangisidir?**

- A) Osmanlı tıpta ileri bir düzeydedir  
B) Fransızca öğrenmek amaç değil araçtır.  
C) Tıp ilmi sadece Fransa'da öğrenilmektedir  
D) Beyin göçü ülke için zararlıdır

11. Osmanlı Devleti'nde ilk demir yolu İzmir ile Aydın arasında İngilizler tarafından açılmıştır. Demiryolunu buraya yapmalarının sebebi ise Ege Bölgesi'nde yetiştirilen pamuk, tütün, gibi ham madde ürünlerine kolay ulaşabilmektir.

**Buna göre demir yolu yapımında öncelikle aşağıdakilerden hangisinin göz önünde bulundurulduğu söylenebilir?**

- A) Tarım  
B) Askeri amaçlar  
C) Eğitim  
D) Turizm faaliyetleri

12. Osmanlılarda temel hukuk kuralları, İslam dininin koyduğu hukuk kurallarıydı. Bu kurallara şeriat denirdi. Şeriat ile çelişmemek şartıyla, padişaha kural koyma yetkisi tanınmıştı. Padişahın bu yetkisine dayanarak koyduğu kurallara örfi hukuk adı verilirdi.

**Bu bilgilere bakılarak aşağıdaki yargılardan hangisine varılamaz?**

- A) Padişahın otoritesini artırmaya yönelik bir devlet anlayışı görülmektedir.  
B) Şeriat kuralları, gerektiğinde padişahın yetkisini kısıtlamaktadır.  
C) Devlet yönetimi ile ilgili kurallar tamamen örfi hukuka göre yürütülmektedir.  
D) Padişah, devlet ve memleket işleyişiyle ilgili kanunlar yapabilmektedir.



Adı : .....  
Soyadı : .....  
Sınıf : .....  
NO : .....

1	2	3	4	5	6	7	8	9	10	11	12
A	A	A	A	A	A	A	A	A	A	A	A
B	B	B	B	B	B	B	B	B	B	B	B
C	C	C	C	C	C	C	C	C	C	C	C
D	D	D	D	D	D	D	D	D	D	D	D

Doğru : .....  
Yanlış : .....  
Boş : .....  
Puan : .....

1. Aşağıdakilerden hangisi Osmanlı Devleti'nin tımar sistemini uygulamasındaki amaçlarından biri değildir?

- A) Hazineye yük olmadan asker yetiştirmek
- B) Üretimde sürekliliği sağlamak
- C) Devletin yönetim anlayışını değiştirmek
- D) Toprağın işlenmesini sağlamak

2. Âdem'den bu deme neslim getirdi  
Bana türlü türlü meyve yedirdi  
Her gün beni tepesinde götürdü  
Benim sâdık yârim kara topraktır

Aşık Veysel'in aşağıdakilerden hangisi üzerinde önemle durduğu söylenebilir?

- A) Toprak
- B) Bitkiler
- C) Hayvanlar
- D) Para

3. Aşağıdakilerden hangisi Ahilik teşkilatının görevleri arasında yer almaz?

- A) Malların kalitesini belirlemek
- B) Ticaret ahlakını geliştirmek
- C) Üretimi ihtiyaca göre belirlemek
- D) Esnafı yargılamak

4. Osmanlı Devleti'nde yeni topraklar fethedildiğinde araziye kâtipler gönderilirdi. Kâtipler toprağı, elde edilen geliri ve toprağı işleyen nüfusunu kaydederlerdi. Ardından arazi, gelirleri açısından belirli dilimlere bölünürdü. Has, zeamet, tımar olarak adlandırılan bu araziler; vezir, beylerbeyi, sancakbeyi ve sipahilere dirlik olarak verilirdi.

Metne göre aşağıdakilerden hangisi söylenemez?

- A) Arazi katipleri toprak kayıtlarını yaparlar
- B) Araziler has, zeamet ve tımar olarak ayrılır
- C) Araziler devlet görevlerine dirlik olarak verilir
- D) En önemli toprak parçası zeamettir

5. Osmanlı Devleti'nde ekonominin temeli ve nüfusun büyük çoğunluğunun geçim kaynağı ..... dayanıyordu. Cumhuriyetin ilk yıllarında da üretim büyük ölçüde ..... sağlanıyordu.

Verilen metinde boş bırakılan yere aşağıdakilerden hangisi getirilmelidir?

- A) Hayvancılık
- B) Tarım
- C) Sanayi
- D) Madencilik

6. İlk Çağ'da Frigyalılar, yetiştirdikleri at ve katırlarla ün yaptılar. Tiftik adı verilen keçi kılından yaptıkları dokumaları ve Tapates adlı halı ve kilimleri satarak önemli gelir elde ettiler.

Yukarıda bahsedilen ekonomik faaliyet aşağıdaki-lerden hangisidir?

- A) Ticaret
- B) Sanayi
- C) Tarım
- D) Madencilik

## Ekonomi ve Sosyal Hayat

7.

Tarıma Destek Veren Kuruluşlar	T.C Ziraat Bankası Tarım Kredi Kooperatifi
	GAP Devlet Su İşleri
	.....

Yukarıda verilen diyagramda boş bırakılan yere aşağıdakilerden hangisi yazılmalıdır?

- A) Tüik  
B) Enerji ve Tabii Kaynaklar Bakanlığı  
C) Sağlık Bakanlığı  
D) Türkiye Ziraat Odaları

10. Osmanlı geleneğinde din ve bayındırlık hizmetleri, eğitim, sağlık ve kültürel faaliyetler devlet bütçesine doğrudan bir yük getirmemiştir.

**Bu hizmetlerin giderleri aşağıdakilerden hangisi tarafından karşılanmıştır?**

- A) Bankalar  
B) Mahkemeler  
C) Belediyeler  
D) Vakıflar

11.

- .....  
• Gübreleme  
• Makineleşme  
• Tohum ıslahı  
• Bilinçli çiftçiler

**Yukarıda boş bırakılan yere aşağıdaki başlıklardan hangisi getirilmelidir?**

- A) İthalatı Artırma Yolları  
B) Tarımda Verimliliği Artırma Yolları  
C) GAP'ın Faydaları  
D) Tarım Kredi Kooperatiflerinin Görevleri

8. Sosyal Bilgiler dersinde Osmanlı Devleti'nde toprak sistemini araştıran Mehmet, arkadaşlarına şu bilgileri vermiştir. Bu sistem sayesinde;

- Devlet bütçesine önemli katkı sağlanmıştır.
- Toprak üretimi denetim altına alınmıştır.
- Merkezi ordu güçlenmiştir.

**Mehmet'in hakkında bilgi verdiği sistem aşağıdakilerden hangisi olabilir?**

- A) Tımar Sistemi  
B) Feodal Sistem  
C) Derebeylik Sistemi  
D) Müsadere Sistemi

9. Tarih boyunca devletler verimli topraklara sahip olabilmek için pek çok mücadeleler vermiştir. Aşağıdakilerden hangisi bu durumun sebeplerinden biri olamaz?

- A) Geniş topraklara sahip devletlerin güçlü olması  
B) Toprağın başlıca üretim ve geçim kaynağı olması  
C) Toprağın üretimde olduğu kadar yönetimde de önemli olması  
D) Topraktan çanak ve çömlek yapılması

12. Aşağıdakilerden hangisi tarihteki önemli ticaret yollarından biri değildir?

- A) Kral Yolu  
B) Saman Yolu  
C) Baharat Yolu  
D) İpek Yolu

ÖLÇME, DEĞERLENDİRME VE SINAV HİZMETLERİ GENEL MÜDÜRLÜĞÜ



Adı : .....  
Soyadı : .....  
Sınıf : .....  
NO : .....

1	2	3	4	5	6	7	8	9	10	11	12
A	A	A	A	A	A	A	A	A	A	A	A
B	B	B	B	B	B	B	B	B	B	B	B
C	C	C	C	C	C	C	C	C	C	C	C
D	D	D	D	D	D	D	D	D	D	D	D

Doğru : .....  
Yanlış : .....  
Boş : .....  
Puan : .....

1. I. Lidyalıların kral yolunu açmasıyla çevre ülkelere göre daha gelişmiş olması  
II. İpek yolu ve baharat yolu güzergahında bulunan ülkelerin ticaret sayesinde önemli gelir sağlaması  
III. Coğrafi Keşifler sayesinde yeni yolların bulunmasıyla Osmanlı Devleti'nin ekonomik güç kaybına uğraması

**Verilen durumlar göz önüne alındığında aşağıdakilerden hangisine ulaşılabilir?**

- A) Ticaret yolları devletlerin gelişmesinde etkilidir
- B) Kral yolu en önemli ticaret yoludur
- C) Eğitim devletlerin zenginleşmesinde önemlidir
- D) Yeni keşifler devletlerin en önemli sorunudur

4. Aşağıdakilerden hangisi meslek seçiminde gözetilmesi gereken hususlarda en az etkilidir?

- A) Seçilen mesleğe ilgi duyulması
- B) Mesleğin toplum içinde saygın bir yere sahip olması
- C) Mesleğin ekonomik getirisinin yeterli olması
- D) Mesleğin popüler olması

2. Osmanlı Devleti'nde Lonca Teşkilatı ürünlerin fiyatlarını kontrol etmekteydi. Böylece hem üretici hem de tüketicinin zarar görmesi engellenmekteydi.

**Metinde Lonca teşkilatının hangi özelliği üzerinde durulmuştur?**

- A) Siyasi
- B) Ekonomik
- C) Diplomatik
- D) Kültürel

5. Bireyin; yetenekleri belirlenmeli, ilgi alanları keşfedilmeli, kişilik özellikleri ortaya konmalı, ilgi duyduğu meslekler incelenmeli ve mesleki tercihinin göre alması gereken eğitim araştırılmalıdır.

**Verilen açıklamaya en uygun başlık aşağıdakilerden hangisi olur?**

- A) Meslek seçiminde dikkat edilmesi gereken unsurlar
- B) Günümüzde tercih edilen mesleklerin özellikleri
- C) Mesleki iş bölümünün faydaları
- D) Mesleklerin yaşam biçimlerine olan etkileri

3. Osmanlı Devleti hamamlar, çeşmeler, hastaneler, kütüphaneler, kervansaraylar, mektepler, medreseler, vb vakıflar kurularak halkın ihtiyacı karşılanmıştır.

**Vakıfların aşağıdaki alanlardan hangisinin ihtiyaçlarını karşılamaya yönelik olduğu söylenemez?**

- A) Sağlık
- B) Eğitim
- C) Sanayi
- D) Ticaret

6. Meslek seçiminde doğru karar verebilmek için belli başlı soruları kendimize sormamız gerekmektedir. Aşağıdakilerden hangisi bu sorulardan birisi değildir?

- A) Yeteneklerim neler?
- B) İlgilerim neler?
- C) Ailemin beklentileri neler?
- D) Mesleğin özellikleri neler?



## Ekonomi ve Sosyal Hayat

7. I. Ürünlerin kalitesini belirlemek  
II. Ticaret ahlakını geliştirmek  
III. Müşterilerin haklarını korumak

**Yukarıdakilerden hangileri Lonca teşkilatının görevleri arasındadır?**

- A) Yalnız I  
B) I ve II  
C) II ve III  
D) I, II ve III

8. Ahmet teknolojiyi yakından takip eden bir öğrencidir. Ahmet'in teknolojiye olan ilgisi, isteği ve yeteneği hangi meslekte daha iyi olmasında etkili olabilir?

- A) Polis  
B) Elektrik elektronik mühendisi  
C) Öğretmen  
D) Doktor

9. Ayşe yaşadığı bölgeye uygun olarak tarımsal ürün çeşitliliğini ve tarımsal üretimi artırmak istemektedir.

**İsteklerini gerçekleştirebilmesi için Ayşe'nin hangi mesleği seçmesi daha uygun olur?**

- A) Makine mühendisi  
B) Veterinerlik  
C) Ziraat mühendisliği  
D) Kimya mühendisliği

10. Osmanlı'da devlet adamı yetiştirmek amacıyla Topkapı Sarayında kurulan okul aşağıdakilerden hangisidir?

- A) Medrese  
B) Enderun  
C) Lonca  
D) Ahilik

11. Osmanlı Devleti'nde, esnaflar ürünleri istedikleri fiyatta satamazlardı. Ürünlerin fiyatları esnaf teşkilatları tarafından belirlenirdi.

**Bu uygulamayla doğrudan ulaşılmak istenen amaç aşağıdakilerden hangisidir?**

- A) Ülkede hukuk birliğini sağlamak  
B) Vergi adaletsizliğini önlemek  
C) Haksız rekabeti engellemek  
D) Üretimi arttırmak

12. Osmanlı geleneğinde din ve bayındırlık hizmetleri, eğitim, sağlık ve kültürel faaliyetler devlet bütçesine doğrudan bir yük getirmemiştir. Bu hizmetler, devletin en üst makamında yer alan padişahın vatandaşlara kadar toplumun bütün bireylerinin gönüllü katılımıyla oluşan..... geleneği sayesinde yürütülmüştür..

**Yukarıda verilen paragrafta boş bırakılan yere aşağıdakilerden hangisi getirilmelidir?**

- A) Tımar  
B) Enderun  
C) İmaret  
D) Vakıf

ÖLÇME, DEĞERLENDİRME VE SINAV HİZMETLERİ GENEL MÜDÜRLÜĞÜ



Adı : .....  
Soyadı : .....  
Sınıf : .....  
NO : .....

1	2	3	4	5	6	7	8	9	10	11	12
A	A	A	A	A	A	A	A	A	A	A	A
B	B	B	B	B	B	B	B	B	B	B	B
C	C	C	C	C	C	C	C	C	C	C	C
D	D	D	D	D	D	D	D	D	D	D	D

Doğru : .....  
Yanlış : .....  
Boş : .....  
Puan : .....



1. Mısırlıların papirüs bitkisinden elde edilen kağıtlar üzerine yalnızca edebi metinleri yazmadıkları; antlaşmalar, yemek tarifleri, vergi kayıtları, mevsimleri ve su taşkın zamanlarını da yazdıklarını görmekteyiz.

**Buna göre papirüsler üzerinde araştırma yapan bir öğrenci aşağıdaki alanlardan hangisi hakkında bilgi sahibi olamaz?**

- A) Siyaset ve ekonomi
- B) Müzik ve mimari
- C) Sosyal hayat ve edebiyat
- D) Coğrafya

**2. Mısırlılar;**

- Resimli yazıyı kullanmışlardır
- Nil nehrinin taşma zamanlarını hesaplamışlardır
- Tıp ve eczacılık alanında gelişmişlerdir

**Verilen bilgilere göre Mısırlılar ile ilgili olarak aşağıdakilerden hangisine ulaşılabilir?**

- A) Bilimde ileri gittiklerine
- B) Yazıyı ilk kullanan uygarlık olduğuna
- C) Sağlık alanında çalışmalar yaptıklarına
- D) İnsanlık tarihine önemli katkılarının olduğuna

**3. Aşağıdakilerden hangisi matbaanın kullanılmaya başlamasının sonuçlarından biri değildir?**

- A) Bilgiye kolaylıkla ulaşılması
- B) Kitapların özensiz hazırlanması
- C) Eserlerin ucuza mal olması
- D) Okuma oranının artması

**4. Tarihde ilk defa yazıyı kullanan uygarlık aşağıdakilerden hangisidir?**

- A) Sümerler
- B) Hititler
- C) Babilliler
- D) Frigler

**5. Aşağıda verilen eşleştirmelerden hangisi yanlıştır?**

- A) Coğrafi Keşifler - Yeni kıtaların bulunması
- B) Rönesans - Skolastik düşüncenin yıkılması
- C) Reform - Din alanında yeniliklerin yapılması
- D) Sanayi İnkılabı - Bilim ve sanatta yeniden doğuş

6. Fenikeliler ticaretle uğraşan bir ulustu. MÖ 1000 yıllarında Fenikeli bir din adamı, öğrenmesi ve öğretilmesi çok zor olan çivi yazısının yerine işaret sistemi sadece harflerden oluşan bir alfabe geliştirdi. Çünkü tüccarların alıp sattıkları malların hesabını, gelen gidenin kaydını tutmak için daha basit bir sisteme ihtiyaç vardı

**Metne göre aşağıdaki yargılardan hangisine ulaşılabilir?**

- A) Fenikeli din adamları bilimsel çalışmalara engel olmuştur
- B) İhtiyaçlar bilimsel ve teknolojik gelişmeleri yönlendirmiştir
- C) Alfabenin ortaya çıkmasıyla ticaretle uğraşanların sayısı artmıştır.
- D) Ticari faaliyetler alfabenin gelişmesine engel olmuştur

## Zaman İçinde Bilim - 1

7. İlk uygarlıkların geliştirdikleri bilimsel ve teknolojik yenilikleri ele alan bir sergiyi gezmeye giden bir öğrenci bu sergide hangi uygarlığa ait örnekler göremez?

- A) Sümerler
- B) Mısır
- C) Çin
- D) Japonya

8. Avrupalı devletler keşfettikleri yerleri egemenlikleri altına alarak buralardan bol miktarda altın, gümüş gibi değerli madenler ve çeşitli ham maddeleri Avrupa'ya taşıdı. Keşifleri destekleyen Avrupa'nın denizci ülkeleri kısa sürede zenginleşti.

**Bu durum aşağıdakilerden hangisinin ortaya çıkmasında etkili olmuştur?**

- A) Toprak temel zenginlik kaynağı oldu
- B) Baharat ve ipek yolları önem kazandı
- C) Avrupalılar keşfedilen yerlerde sömürge imparatorlukları kurdular
- D) Kiliseye ve din adamlarına olan güven arttı

9. Ben Martin Luther! Matbaanın icat edilmesiyle çok sayıda İncil basıldı ve birçok dile çevrildi. İncil'i okuyunca rahiplerin bize dayattığı birçok inancın İncil'de olmadığını öğrendik.

**Martin Luther'in sözünü ettiği bu durum, aşağıdakilerden hangisinin ortaya çıkmasında etkili olmuştur?**

- A) Coğrafi Keşifler
- B) Reform
- C) Rönesans
- D) Sanayi İnkılabı

10. Yazının bulunup geliştirilmesinde aşağıdaki uygarlıklardan hangisinin katkısı yoktur?

- A) Sümerliler
- B) Mısırlılar
- C) Fenikeliler
- D) Babilliler

11. • 16. yüzyılda Amerika kıtasını içine alan bir dünya haritası çizdi  
• Kitabı Bahriye adlı eserinde Akdeniz çevresindeki kara ve limanları tanıtırak coğrafya alanına önemli katkıları oldu.

**Hakkında bilgi verilen ünlü bilim insanı aşağıdakilerden hangisidir?**

- A) Uluğ Bey
- B) Biruni
- C) Piri Reis
- D) Ali Kuşçu

12. Tekerleğin Sümerler tarafından icat edilmesi aşağıdaki alanlardan hangisine diğerlerinden daha fazla katkı sağlamıştır?

- A) Ulaşım
- B) Hayvancılık
- C) Eğitim
- D) Tarım

ÖLÇME, DEĞERLENDİRME VE SINAV HİZMETLERİ GENEL MÜDÜRLÜĞÜ



Adı : .....  
Soyadı : .....  
Sınıf : .....  
NO : .....

1	2	3	4	5	6	7	8	9	10	11	12
A	A	A	A	A	A	A	A	A	A	A	A
B	B	B	B	B	B	B	B	B	B	B	B
C	C	C	C	C	C	C	C	C	C	C	C
D	D	D	D	D	D	D	D	D	D	D	D

Doğru : .....  
Yanlış : .....  
Boş : .....  
Puan : .....

1. Geometri, Matematik, Fizik, Astronomi, psikoloji alanlarında eserler verdi. "İhsan'ül Ulüm" (İlimlerin Tasnifi) eseriyle bilimleri sınıflandırdı. Matematikte (0) sıfır sayısını buldu.

**Hakkında bilgi verilen bilim insanı aşağıdakilerden hangisidir?**

- A) Biruni  
B) İbn-i Sina  
C) Farabi  
D) Harezmi

2. Avrupa'da "Avicenna" (Avisenna) adıyla tanınan farklı bilim dallarında eserler vermiş çok yönlü bir insandı. Daha 16 yaşındayken tıp alanında çalışmalar yapmaya başladı. Tıp alanında çalışmalarının yer aldığı "Kanun" isimli eseri Avrupa'da XVII. yüzyıla kadar tıp eğitiminde kullanıldı. Bir başka eseri olan "Şifa" ise felsefeden, matematik ve fiziğe kadar bilimlerin yer aldığı bir ansiklopediydi.

**Yukarıda anlatılan bilim insanı aşağıdakilerin hangisidir?**

- A) Biruni  
B) İbn-i Sina  
C) Farabi  
D) Harezmi

3. Manyetik pusula MS 100 yılında Çinliler tarafından geliştirilmiştir. Araplar onu 1200'li yıllardan itibaren kullanmaya başlamışlardır. Avrupa'nın ilk kutulu pusulası ise 1190 yıllarında geliştirilmiş ve uzun deniz yolculuklarını kolaylaştırmıştır.

**Bu durum aşağıdakilerden hangisinin ortaya çıkmasında etkili olmuştur?**

- A) Rönesans  
B) Haçlı Seferleri  
C) Coğrafi Keşifler  
D) Reform

4. Matbaanın icadı ve kullanımının yaygınlaşmasıyla aşağıdakilerden hangisi arasında doğrudan bir ilişki yoktur?

- A) Okuma yazma oranının artması  
B) Savaşların azalması  
C) Kitap basımının çoğalması  
D) Bilimsel gelişmelerin hızlanması

5. Osmanlı Devleti'nde ilk kez matbaanın kurulmasını sağlayan devlet adamı aşağıdakilerden hangisidir?

- A) IV. Murat  
B) 28. Çelebi Mehmet  
C) İbrahim Müteferrika  
D) Nevşehirli Damat İbrahim

6. Aşağıdakilerden hangisi tekerleğin icadının sonuçlarından biri değildir?

- A) Daha hızlı ulaşım sağlanmıştır  
B) Milletler arası ticaret gelişmiştir  
C) Taşıma işlemi kolaylaşmıştır  
D) Kültürler arası etkileşim azalmıştır

## Zaman İçinde Bilim - 2

7. VIII. ve XI. yüzyıllarda İslam dünyasında yetişen Biruni, Harezmi ve İbni Sina gibi bilim insanlarının eserleri, Avrupa dillerine çevrilerek üniversitelerde okutulmuştur.

**Bu bilgiye göre, aşağıdaki yargılardan hangisine ulaşılabilir?**

- A) İslam bilginleri bilimin gelişmesine katkı sağlamıştır.  
B) İslam dini bilimsel çalışmaları engelleyici olmamıştır.  
C) İslam bilginlerinin eserleri Batı'da kabul görmüştür.  
D) Çağdaş uygarlık tümüyle İslam bilginlerinin eseridir.

8. I. Reform  
II. Coğrafi Keşifler  
III. Rönesans

**Verilen olayların tarihsel sırası aşağıdakilerin hangisinde doğru olarak verilmiştir?**

- A) I – II – III  
B) II – I – III  
C) III – II – I  
D) II – III – I

9. I. Leonardo da Vinci insan anatomisi üzerinde çalışmalar yaparak günümüz biliminin gelişmesine katkıda bulunmuştur.  
II. Galile, kendi yaptığı teleskop ile dünyanın ve yıldızların hareketlerini gözlemlemiş ve günümüzde uzay araştırmalarının yapılmasına zemin hazırlamıştır.

**Verilen bilgilere göre aşağıdaki yargılardan hangisine ulaşılabilir?**

- A) Ortaçağ bilimsel gelişme bakımından karanlık dönem yaşamıştır.  
B) Coğrafi keşifler sonucunda sanatı seven sanatçıları koruyan zengin bir sınıf ortaya çıkmıştır.  
C) Bilimde akıl ve deneyin ön plana çıkmasıyla bilim ve teknik gelişerek günümüze ulaşmıştır.  
D) Aydınlanma çağında doğa bilimleri hızlı bir gelişme göstermiştir

10. Aşağıdakilerden hangisi Aydınlanma Çağını en iyi açıklayan kavramdır?

- A) İlerlemecilik  
B) Laiklik  
C) Demokrasi  
D) Akılcılık

11. Orta Çağ, Avrupa için baskı ve korku dönemi olarak adlandırılır. Bu dönemde din adamları ve soylular her alanda söz sahibiydi. Bilimsel çalışmalar, felsefe, sanat, siyaset ve ekonomide Katolik kilisesinin sözünden çıkmak ve görüşlerini eleştirmek mümkün değildi. Avrupa'daki bu duruma karşılık aynı dönemde İslam dünyasında düşünceler özgürce ifade edilmiş ve bu bölgelerde bilimsel çalışmalar da gelişmiştir.

**Buna göre aşağıdakilerden hangisine ulaşılabilir?**

- A) Avrupa'daki baskılar, düşünce ve ifade özgürlüğünü kısıtlamıştır.  
B) İslam dünyasında, düşünceyi engelleyici tutumlar yoktur.  
C) Avrupa, İslam dünyasından çok ilerdedir.  
D) Katolik kilisesi baskıcı bir tutum sergilemiştir.

12. "Abbasi Halifesi Memun, IX. yüzyılda 70 kadar bilim insanını bir dünya haritası hazırlamaları için görevlendirmiştir".

**Bu bilgiye dayanarak aşağıdakilerden hangisine ulaşılabilir?**

- A) İslam bilginlerinin coğrafya alanında geri olduğuna  
B) İslam dünyasında özgür düşüncenin egemen olduğuna  
C) İslam devletlerinde hükümdarların bilime önem verdiğine  
D) İslam dininin bilimsel gelişmelere açık olduğuna

ÖLÇME, DEĞERLENDİRME VE SINAV HİZMETLERİ GENEL MÜDÜRLÜĞÜ



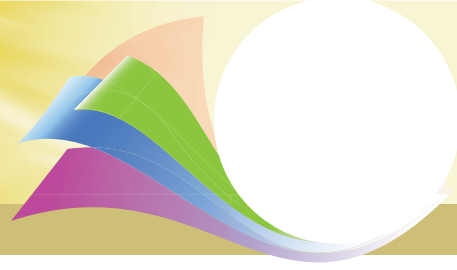
Adı : .....  
Soyadı : .....  
Sınıf : .....  
NO : .....

1	2	3	4	5	6	7	8	9	10	11	12
A	A	A	A	A	A	A	A	A	A	A	A
B	B	B	B	B	B	B	B	B	B	B	B
C	C	C	C	C	C	C	C	C	C	C	C
D	D	D	D	D	D	D	D	D	D	D	D

Doğru : .....  
Yanlış : .....  
Boş : .....  
Puan : .....



# SOSYAL BİLGİLER



SINIF

## CEVAP ANAHTARI

Test 1	1. D	2. A	3. C	4. A	5. B	6. D	7. D	8. A	9. C	10. B	11. C	12. A
Test 2	1. D	2. B	3. B	4. D	5. C	6. A	7. D	8. C	9. D	10. A	11. B	12. A
Test 3	1. D	2. D	3. C	4. C	5. A	6. A	7. C	8. B	9. D	10. B	11. A	12. C
Test 4	1. C	2. A	3. B	4. A	5. C	6. D	7. D	8. D	9. C	10. B	11. C	12. A
Test 5	1. C	2. A	3. B	4. D	5. B	6. C	7. D	8. D	9. C	10. B	11. A	12. C
Test 6	1. B	2. C	3. D	4. C	5. D	6. A	7. B	8. A	9. C	10. D	11. A	12. B
Test 7	1. C	2. A	3. B	4. B	5. D	6. D	7. B	8. C	9. B	10. D	11. A	12. C
Test 8	1. D	2. D	3. C	4. C	5. B	6. C	7. D	8. B	9. C	10. B	11. A	12. C
Test 9	1. C	2. A	3. D	4. D	5. B	6. A	7. D	8. A	9. D	10. D	11. B	12. B
Test 10	1. A	2. B	3. C	4. D	5. A	6. C	7. D	8. B	9. C	10. B	11. C	12. D
Test 11	1. B	2. B	3. B	4. A	5. D	6. B	7. D	8. C	9. B	10. D	11. C	12. A
Test 12	1. D	2. B	3. C	4. B	5. C	6. D	7. D	8. D	9. C	10. D	11. C	12. A