

7.SINIF

SOSYAL BİLGİLER

İbrahim Halil Hoca ile

SOSYAL BİLGİLER

GENEL TEKRAR

TESTLERİ



NOT: BU TEST ÇEŞİTLİ SINAVLARDA ÇIKMIŞ SORULAR, ÖDM SORULARI VE PİYASADAKİ ÇEŞİTLİ SORULARDAN HAZIRLANMIŞTIR. KESİNLİKLE TİCARİ AMAC GÜDÜLMEMİŞTİR.

1. Aşağıdakilerden hangisi sözsüz iletişim türüne örnek olarak gösterilebilir?

- A) Komşumuzu gördüğümüzde günaydın demek
- B) Arkadaşımıza başımızı sallayarak selam vermek
- C) Öğretmenimize sınavdan aldığımız puanı sormak
- D) Hasta olan bir akrabamıza geçmiş olsun demek

2. Kişiler arası ilişkilerde “empati kuran” bir birey için aşağıdakilerden hangisi söylenemez?

- A) İletişimde bulunduğu kişiyi yargılamaz.
- B) Duygu ortaklığı kurarak, insanları anlamaya çalışır.
- C) Konunun gerçekliğini tespit etmeden bir kanıya varır.
- D) Dış dünyayı karşısındaki kişinin penceresinden görmeye çalışır.

3. İletişim bireyler arasında gerçekleşen duygu, düşünce, davranış ve bilgi alışverişidir.

Buna göre bireyler arasında sağlıklı iletişimin gerçekleşmesi aşağıdakilerden hangisine bağlıdır?

- A) Karşılıklı olmasına
- B) Emir cümleleri kullanılmasına
- C) Karşıdaki kişinin sorgulanmasına
- D) Başkalarının duygularına ilgisiz kalınmasına

4. Aşağıdakilerden hangisi sosyal medyanın faydalı kullanımına örnek olarak gösterilebilir?

- A) İhtiyaç sahipleri için yardım kampanyaları düzenlemek
- B) Zamanın çoğunu sosyal medyada geçirmek
- C) Doğruluğundan emin olmadığımız haberleri yaymak
- D) Kişisel bilgilerimizi tanımadığımız kişilerle paylaşmak

Günümüzde yaşanan teknolojik gelişmelerle insanlar dünyanın dört bir yanıyla iki yönlü iletişime girme olanağı bulmuşlardır. Herhangi bir konuda istediği kadar bilgi alma özgürlüğüne sahip olan insanlar, keşifleri anında izlemeye başlamışlardır. Bir bilgi ya da haber bu sayede dünyanın dört bir yanına çok kısa sürede yayılmaya başlamıştır.

5. Bu metinde aşağıda verilen hangi kitle iletişim aracından söz edilmektedir?

- A) Gazete
- B) Telgraf
- C) İnternet
- D) Televizyon

6. Televizyon programlarının içeriği hakkında önceden uyarı veren “akıllı işaretler” aşağıdakilerden hangisi tarafından hazırlanmaktadır?

- A) Türk Dil Kurumu
- B) Radyo ve Televizyon Üst Kurulu
- C) Millî Eğitim Bakanlığı
- D) Türkiye İstatistik Kurumu

7. Duygu, düşünce ve bilgilerin başkalarına aktarılmasına “iletişim” denir. Sağlıklı bir iletişim kurabilmek için olumsuz tutum ve davranışlardan kaçınmak gerekir.

Buna göre aşağıdakilerden hangisi iletişimi olumsuz etkileyecek tutum ve davranışlardandır?

- A) Etkili dinleme
B) Göz teması kurabilme
C) Karşımızdakini yargılama
D) Empati kurma

8. Aşağıdakilerden hangisi kitle iletişim araçlarının olumlu yönüne örnek olarak gösterilebilir?

- A) Zeynep’in internette satışa sunulan kremi kullanması sonucunda cildinde lekeler oluşması
B) Ahmet’in pandemi döneminde uzaktan eğitilerek atılarak derslerini takip etmesi
C) Burçak’ın kaynağı belli olmayan adreslerden yanlış bilgi alması
D) Seda’nın tüm günü televizyon izleyerek geçirmesi.

9. Yapılan haberin yanlış olduğu mahkeme kararıyla kanıtlanınca yayını yapan haber ajansı nasıl bir adım atmalıdır?

- A) Yaptığı haberi savunur
B) Tekzip haberi yapmalı
C) Haberi görmezden gelmeli
D) Haber yapmaya geçici bir süre ara vermeli

10. Babamın Bizans’a karşı yürüttüğü gaza ve cihat anlayışını devam ettirerek bu devletin İnegöl, Yarhisar, Bilecik, Karacahisar gibi pek çok yerleşim yerini fethettim. Taht kavgaları ve iç karışıklıklar içinde olan Bizans İmparatorluğu’nun sınırında yer almamız ve yalnızca bu devletle mücadele etmemiz kısa sürede önemli bir güç olmamızı sağladı. Müslüman olmayan bir devlet olan Bizans ile savaştığım yani gaza ve cihat yaptığım için Moğol baskısından kaçan gazilerin ve komşum olan Türk beyliklerinin desteğini aldım. Topraklarıma gazilerin yanında çok sayıda tüccar, zanaatkar, ilim ve devlet adamı da sığındı. Bunlardan biri de kızıyla evlendiğim Şeyh Edebali idi.

Yukarıda dönemi hakkında bilgi verilen Osmanlı padişahı kimdir?

- A) Ertuğrul Gazi
B) 1.Murad
C) Orhan Gazi
D) Osman Gazi

11. Osmanlı toprak yönetiminde uygulanan tımar sisteminde tımarlı sipahiler, bölgelerinde huzur ve güveni sağlayarak jandarma görevini üstleniyorlardı. Böylece devlet otoritesi, ülkenin en uç noktalarına kadar ulaşıyordu.

Yukarıda verilen bilgide tımar sisteminin hangi alanda rol oynadığı belirtilmiştir?

- A) Ticari ilişkilerde
B) Ülke yönetiminde
C) Kültürel etkinliklerde
D) Tarımsal faaliyetlerde

12. Osmanlı Beyliği’nin kısa sürede güçlenmesini sağlayan aşağıdaki nedenlerden hangisi kurulduğu bölgenin sağladığı avantajlardan biridir?

- A) Yetenekli padişahların iş başına gelmesi
B) Bizans’ın ve Balkanların karışıklık içinde olması
C) Adaletli bir yönetim uygulanması
D) Merkeziyetçi bir devlet anlayışının benimsenmesi

I. Trabzon

II. Kırım

III. Kıbrıs

13. Numaralanmış yerlerden hangilerinin fethi, Karadeniz’de Türk hâkimiyetini güçlendirmiştir?

A) Yalnız I. B) Yalnız II.

C) I ve II. D) II ve III.

14. Aşağıdakilerden hangisi İstanbul’un Fethi’nin “ekonomik” nedenlerindendir?

A) Bizans’ın Osmanlı Devleti’nin batıda ilerleyişine engel olması

B) İstanbul’un kara ve deniz ticaret yolları üzerinde önemli bir konumda bulunması

C) Bizans’ın, Avrupa devletlerini Osmanlı Devleti’ne karşı kışkırtması

D) Osmanlı Devleti’nin Anadolu ve Rumeli toprakları arasındaki bağlantıyı sağlamak istemesi

15. Milliyetçilik akımının etkisiyle her milletin kendi devletini kurma çabası içine girmesi, bütün dünyada ve özellikle Avrupa’da siyasi ve sosyal düzenin değişmesine neden olmuştur.

Bu gelişme, aşağıdakilerden hangisinin sonucudur?

A) Fransız İhtilalinin

B) Coğrafi keşiflerin

C) Sanayi İnkılabının

D) Rönesans Hareketlerinin

16. Aşağıdakilerden hangisi Coğrafi Keşiflerin başlamasında etkili olan “bilimsel” sebeplerdendir?

A) Pusulanın kullanılmaya başlanması

B) Avrupalıların Hristiyanlığı yaymak istemesi

C) Avrupa’da altın ihtiyacının ortaya çıkması

D) İpek ve Baharat yollarının Osmanlı hâkimiyetinde olması

17. Osmanlı ıslahat hareketleri sonucunda;

• Posta Nezareti kuruldu.

• Memleket Sandıkları oluşturuldu.

• Şirketi Hayriye kurularak İstanbul’da düzenli vapur seferleri başladı.

Bu ıslahatlarla;

I. Eğitim II. Ulaşım

III. Ekonomi IV. Haberleşme

alanlarından hangilerinde ülkenin ilerlemesi amaçlanmıştır?

A) I ve IV B) I, II ve III

C) II, III ve IV D) I, II, III ve IV

18. Konuşan sözünü pek kısa tutar, dinleyen de söz bitene kadar güzel bir dikkat hâlidir. Yaşlı ve büyüklere karşı hürmet ile onların haklarına riayet, hayal edilemeyecek bir nezaket içindedir.

Bu metinde Osmanlı kültürünün özelliklerinden hangisi vurgulanmıştır?

A) Dayanışma B) Çalışkanlık

C) Temizlik D) Saygı

19. II. Mahmut döneminde yaşana bazı yenilikler şunlardır:

- Yeniçeri Ocağı kaldırılarak Asakiri Mansure-i Muhammediye adında yeni bir ordu kuruldu.
- Avrupa tarzı eğitim veren okullar açıldı.
- Yerli tüccarlara uygulana gümrük vergileri azaltıldı.

Buna göre aşağıdaki hangi alanla ilgili bir yenilik yaşandığı söylenemez?

- A) Mali B) Askeri C) Siyasi D) Eğitim

20. “İslamiyet Öncesi Dönem’de binicilik ve atıcılıkta usta olan Türk kadınları, savaşırlara erkeklerle birlikte katılmıştır. İslamiyet’e geçişin ardından da bu gelenek sürdürülmüş ve Anadolu’da Ahiliğe denk bir kadınlar teşkilatı kurulmuştur.”

Bu ifadelerde yer alan kadınlar teşkilatını aşağıdaki kavramlardan hangisi karşılamaktadır?

- A) Abdalân-ı Rûm B) Gaziyân- ı Rûm
C) Baciyân-ı Rûm D) Ahiyân-ı Rûm

21. Mısır’a yönelik gerçekleştirdiği seferler sonucunda Baharat Yolu’nu Osmanlı Devleti kontrolüne alan ve yapmış olduğu fetihlerle Osmanlı Hazinesini ağzına kadar doldurduktan sonra hazinenin kapısını mühürletip “Benim altınla doldurduğum hazineyi, torunlarımdan her kim doldurabilirse kendi mührü ile mühürlesin, aksi halde hazine-i hümayun benim mührümle mühürlensin” şeklinde bir vasiyette bulunan Osmanlı padişahı aşağıdakilerden hangisidir?

- A) Yavuz Sultan Selim
B) Fatih Sultan Mehmet
C) Kanuni Sultan Süleyman
D) Osman Bey

Reform	Rönesans	Sanayi İnkılabı	Coğrafi Keşifler
1. Antik Yunan ve Roma dönemine ait eserlerin araştırılıp yayınlanması 2. Kiliseye duyulan güven azaldı, yeni mezhepler ortaya çıktı. 3. Martin Luther	4. Katolik Kilisesi’nde meydana gelen bozulmalar 5. Bilimsel düşünceye verilen önem arttı. 6. Marco Polo, Kristof Colomb	7. Buharlı makinenin icadı 8. Yeni ticaret yolları bulundu. 9. James Watt	10. Ticaret yollarının müslümanların eline geçmesi 11. Ham madde ve pazar ihtiyacı arttığı için Sömürgecilik başladı 12. Leonardo Da Vinci, Shakespeare

22. Öğrenciler Rönesans, Reform, Sanayi İnkılabı ve Coğrafi Keşifler ile ilgili kartlar hazırlamıştır. Kartlarda ilk satırda bazı önemli gelişmelerin sebepleri, ikinci satırda sonuçları ve üçüncü satırda önemli şahsiyetleri numaralar ile gösterilmiştir.

Buna göre kartların doğru olması için hangi numaralar yer değiştirmelidir?

- A) 1-4 ; 8-11; 3-6 B) 1-4; 8-11; 6-12
C) 7-10; 5- 8; 9-12 D) 4-7; 5- 8; 6-12

23.

- Batı dillerinde yazılmış eserler Türkçeye çevrildi.
- Yerli malı kullanımı teşvik edildi.
- Yeniçeri Ocağı kaldırıldı.
- Tımar sistemi kaldırıldı.


Yukarıda Osmanlı Devleti’nde yapılan bazı yeniliklere yer verilmiştir. Bu bilgilerden yola çıkarak aşağıdakilerden hangisi söylenemez?

- A) Batı düşüncesinin ülkeye girişi hızlanmıştır.
B) Ekonominin düzelmesi için önlemler alınmıştır.
C) Askerî alanda yenilik yapılmıştır.
D) Sanayiye dayalı ekonomiye geçilmiştir.

24. Dünyadaki ilk yerleşim alanlarının belirlenmesinde daha çok doğal çevre şartları etkili olmuştur. İlk yerleşimler tarım ve hayvancılık faaliyetlerinin kolay olduğu ılıman iklim bölgesinde, verimli toprakların ve su kaynaklarının yakınında, sel gibi doğal olayların etki alanları dışında kurulmuştur.

Buna göre insanlar yerleşim yeri seçerken aşağıdakilerden hangisine dikkat etmemiştir?

- A) Doğal afetlerin etkisi
B) Uygun iklim koşulları
C) Tarım yapılabilirliği
D) Ormanların varlığı



25. Verilen görsele göre ilk insanların yerleştikleri yerin özellikleri arasında aşağıdakilerden hangisi yoktur?

- A) Tarım yapmaya elverişli olması
B) Ticaret yolları üzerinde bulunması
C) Hayvancılık faaliyetlerine uygun olması
D) Su kaynaklarına ulaşılma imkânının bulunması

26. Göçün nedenlerinden bazıları şunlardır:

- I. Toprakların miras yoluyla küçülmesi sonucu yapılan göç
II. Sağlık hizmetlerinin yetersizliğinden dolayı yapılan göç
III. Hava ve gürültü kirliliğinden dolayı yapılan göç
IV. Daha iyi bir eğitim hizmeti almak için yapılan göç

Buna göre göçlerden hangisinin yönü diğerlerinden farklıdır?

- A) I
B) II
C) III
D) IV

27. Arakan'da 100000'den fazla Müslümanın göçe zorlanarak yerinden edildiğini anlatan gazeteler 2000 Arakanlı Müslümanın da Myanmar-Bangladeş sınırında mahsur kaldığını belirtti.

- I. Yerleşme ve seyahat özgürlüğü
II. Özel yaşamın gizliliği hakkı
III. Konut dokunulmazlığı hakkı

Yukarıdaki genel ağ haberine göre Arakanlı Müslümanların hangi hak veya özgürlüklerinin kısıtlandığı söylenebilir?

- A) Yalnız I
B) I ve II
C) II ve III
D) I, II ve III

28. Aşağıdakilerden hangisi ülke içerisinde köyden kente yapılan göçün sonuçları arasında yer almaz?

- A) Konut sıkıntısının yaşanması
B) Sanayi tesislerinin kent içinde kalması
C) Yatırımların dengeli dağılması
D) Nüfus dağılışının düzensiz olması

29. Aritmetik nüfus yoğunluğu belirli bir alanda yaşayan insan sayısının o alanın yüz ölçümüne bölünmesiyle bulunur.

Tabloda bazı şehirlerimizin nüfus miktarları ve yüzölçümleri verilmiştir.

Şehir İsimleri	Şehrin Nüfusu	Şehrin Yüzölçümü
İzmir	4.400.000	12.000km ²
Konya	2.233.000	39.000km ²
Van	1.137.000	21.335km ²
Sivas	646.609	28.488km ²

Buna göre aşağıdaki şehirlerimizden hangisinin nüfus yoğunluğu daha fazladır?

- A) İzmir B) Konya C) Van D) Sivas

30. Aşağıdakilerden hangisi nüfus artışının olumlu sonuçlarından biri değildir?

- A) Vergi gelirleri artar. B) İç ve dış göçler artar.
C) Yeni iş kolları doğar. D) Mal ve hizmetlere talep artar.

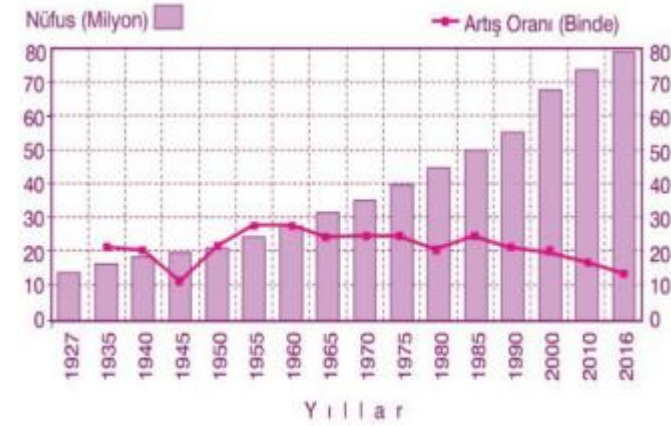
31.

Lozan antlaşması gereği 1 Mayıs 1923 tarihinden itibaren Türkiye ile Yunanistan arasında karşılıklı olarak Yunanistan'daki Türklerin Türkiye'ye, Türkiye'deki Rumların Yunanistan'a göç etmeleri kararlaştırılmıştır

Metinde anlatılan iki ülke arasındaki nüfus hareketi aşağıdaki göç çeşitlerinden hangisine örnek oluşturur?

- A) Mübadele göçü B) Mülteci göçü
C) İşçi göçü D) Beyin göçü

32. Aşağıda Türkiye'nin 1927 -2016 yıllarına ait nüfus miktarların ve nüfus artış hızını gösteren bir grafik verilmiştir.

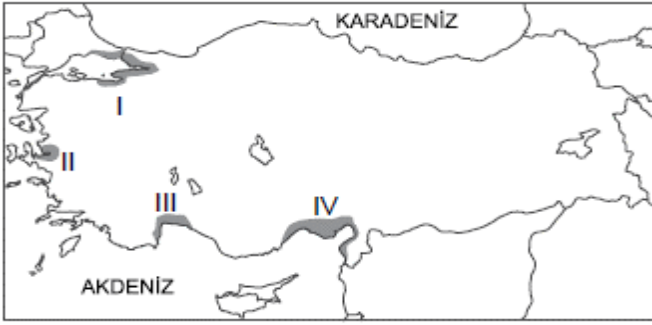


Bu grafikten yararlanarak aşağıdaki sorulardan hangisini cevaplayamayız?

- A) Hangi yıldan sonra nüfus 60 milyonu geçmiştir?
B) Hangi yılda nüfus artış hızı en yüksektir?
C) Nüfus yoğunluğu kaç kişidir?
D) Nüfus miktarı hangi yıl en azdır?

33. Birleşmiş Milletler Bilim, Eğitim ve Kültür Teşkilatı (UNESCO) tarafından Dünya Miras Listesi'ne alınan, günümüzde Şanlıurfa sınırları içerisinde bulunan kazı alanı aşağıdakilerden hangisidir?

- A) Çayönü B) Göbeklitepe
C) Hacılar D) Çatalhöyük



Haritada numaralanmış taralı alanlar ülkemizde sanayi, ticaret, turizm ve ulaştırma hizmetlerinin yoğun ve gelişmiş olduğu yerlerin başında gelmektedir.

34. Taralı alanlarla ilgili aşağıdakilerden hangisi söylenemez?

- A) İş imkânları fazladır. B) Nüfus yoğunlukları fazladır.
C) Sağlık-eğitim hizmetleri gelişmiştir. D) Kömür yatakları bakımından zengindir.

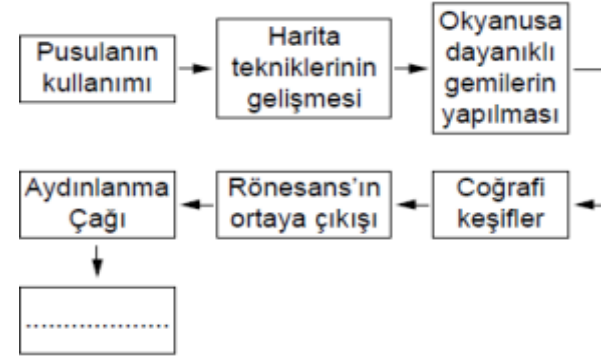
35. Ahmet ve ailesi yaşadıkları şehirden, yılın belli zamanlarında Adana'ya pamuk hasadında çalışmak için gitmektedirler.

Bu örnek aşağıdaki göç türlerinden hangisi ile ilgilidir?

- A) Mevsimlik göç B) Beyin göçü
C) Mülteci göçü D) Sürekli göç

36. "Abbasi Halifesi Memun, IX. yüzyılda 70kadar bilim insanını bir dünya haritası hazırlamaları için görevlendirmiştir". Bu bilgiye dayanarak aşağıdakilerden hangisine ulaşamaz?

- A) İslam bilginlerinin coğrafya alanında geri olduğuna
B) İslam dünyasında özgür düşüncenin egemen olduğuna
C) İslam devletlerinde hükümdarların bilime önem verdiğine
D) İslam dininin bilimsel gelişmelere açık olduğuna



37. Yukarıdaki diyagramda boş bırakılan yere aşağıdakilerden hangisi getirilebilir?

- A) Amerika'nın keşfi B) Barok mimarisindeki ilerleme
C) Yeni makinelerin geliştirilmesi D) Yeni ticaret yollarının keşfi

38. Mısırlılar resimleri simgeleştirerek - - - - denilen yeni bir yazı türünü kullanmaya başlamışlardır. Resim yazısı olarak da bilinen bu yazı 700'den fazla işaretten oluşmaktadır.

Bu metinde boş bırakılan yere aşağıdakilerden hangisinin yazılması uygundur?

- A) Çivi Yazısı B) Fenike Alfabesi
C) Latin Alfabesi D) Hiyeroglif Yazı

39. Evrensel Yer Çekimi Yasası'nı bulan bilim insanı aşağıdakilerden hangisidir?

- A) Galileo B) Newton
C) Kopernik D) Dekart

40. • Ali Kuşçu, gök cisimlerinin Dünya'ya uzaklığını hesapladı. Ay'ın haritasını çıkardı ve bu çalışması nedeniyle NASA, Ay'da bir bölgeye onun ismini verdi.

• İbni Sina'nın tıp alanında yaptığı çalışmalarının yer aldığı "el Kanun Fi't Tıb" adlı eseri 17. yüzyıla kadar Avrupa'da tıp eğitiminde kullanıldı.

Verilen örneklerden hareketle Türk-İslam bilim insanları ile ilgili aşağıdakilerden hangisi söylenemez?

- A) Avrupa'da tanınmış bilim insanlarıdır.
- B) Farklı alanlarda çalışmalar yapmışlardır.
- C) Batı uygarlığının etkisinde kalmışlardır.
- D) Bilimsel çalışmalara katkıda bulunmuşlardır.

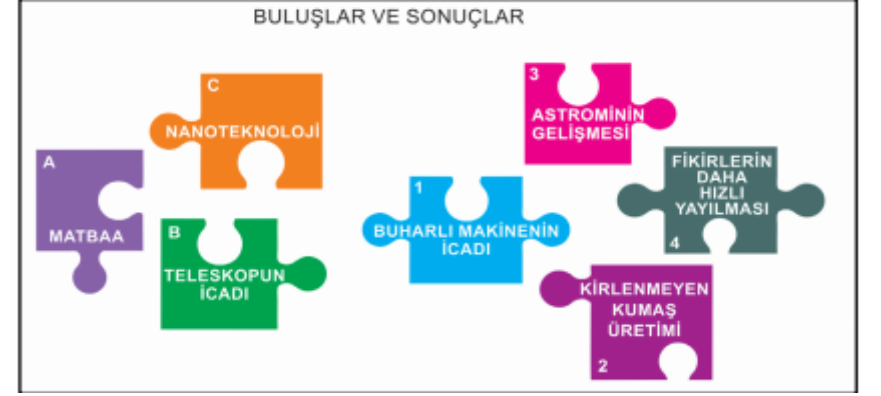
41. Avrupa'da Rönesans ve Reform hareketlerinin öncesinde bilimsel gelişmenin önündeki en büyük engel skolastik düşünce anlayışıdır.

Buna göre aşağıdakilerden hangisi skolastik düşünce anlayışını yansıtan ifadelerden biridir?

- A) Evreni tanımak için araştırmak gerekir.
- B) Bilimsel araştırmalara ihtiyaç vardır.
- C) Kilisenin söylediği her şey doğrudur.
- D) Bilgi; deney ve gözlemle ispat edilebilir.

42. Felsefe alanındaki çalışmalarıyla "birinci öğretmen" kabul edilen İlk Çağ filozofu Aristo'dan sonra "ikinci öğretmen" olarak tanınan Türk-İslam bilgini kimdir?

- A) İbn-i Sînâ
- B) Fârâbi
- C) İbn-i Haldûn
- D) Kâtip Çelebi



43. Görselde bazı bilimsel ve teknik gelişmeler ile gelişmelerin sonuçları verilmiştir. **Bulmaca parçaları birbiriyle eşleştirildiğinde hangi parça boşa kalır?**

- A) 1
- B) 2
- C) 3
- D) 4

44. Friglerde, öküz öldürmenin ve saban kırmanın cezası ölümdü. Ayrıca ekili araziye zarar vermenin cezası da ağırdı.

Yukarıdaki bilgiler Frigler'in en çok aşağıdakilerden hangisine önem verdiğini gösterir?

- A) Ticaret
- B) Ulaşım
- C) Tarım
- D) Madencilik

45. Toprak-insan ilişkisi insanlık tarihi kadar eskidir. Geçmişte olduğu gibi günümüzde de toprak önemini korumaktadır. Bunun en önemli nedeni toprağın tarım ve tarıma dayalı üretim için temel kaynak olmasıdır.

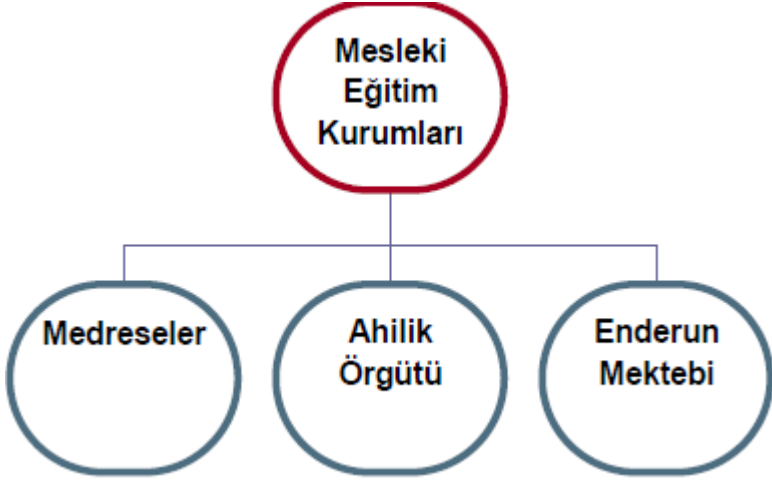
Buna göre toprak ile ilgili olarak aşağıdakilerden hangisi söylenemez?

- A) Tarım toprak sayesinde yapılır.
- B) Toprağın geçmişi eskilere dayanır.
- C) İnsanlar topraktan tarım ürünleri yetiştirirler.
- D) Toprak gelişmiş ülkeler için önemli olmuştur.

46. Elin, kapın ve sofran açık olsun. Gözün kötülöklere, dilin kötü sözlere kapalı olsun. Kimseyi kandırma, yanlış ölçme, eksik tartma.

Ahilik teşkilatının yukarıdaki öğretisi, teşkilatın hangi özelliğini yansıtır?

- A) Katı kuralları olduğu
- B) Ahlak eğitimine önem verdiği
- C) Sadece Müslümanlardan oluşması
- D) Üretimi merkeze alması



47. Osmanlı Devleti'nde faaliyet gösteren yukarıdaki kurumların meslek eğitimi farklı özellikler taşımaktadır.

Aşağıdaki kişilerden hangisi yukarıdaki kurumlardan yetişmiş olamaz?

- A) Sadrazam
- B) Müderris
- C) Tımarlı sipahi
- D) Fırıncı



48. Meslek seçim sürecinde izlenmesi gereken yol hangi seçenekte doğru sıralanmıştır?

- A) I-III-IV-II
- B) III-IV-II-I
- C) III-IV-I-II
- D) IV-III-I-II

49. Devletin ya da gönüllü kişilerin mallarının bir bölümünü tüm canlıların ihtiyaçlarının karşılanması için verildiği mülk ya da parayı ifade eden kavram aşağıdakilerden hangisidir?

- A) Vakıf
- B) Medrese
- C) İmarethane
- D) Enderun

Osmanlı Devleti zamanında bir meslek örgütü olan Ahiliğin etkisi azalınca devlet kontrolünde Lonca Teşkilatı kurulmuştur. Lonca Teşkilatı zaman içerisinde güçlenerek etkin bir rol almaya başlamıştır.

50. Aşağıdakilerden hangisi Lonca Teşkilatı'nın görevleri arasında yer almaz?

- A) Üyeler arasında çıkan anlaşmazlıklara çözüm üretmek
- B) Ürün kalitesini ve fiyatını belirlemek
- C) Yönetim faaliyetlerini denetlemek
- D) Üyelerin ticari faaliyetlerini denetlemek ve düzenlemek

Genel tekrar testiniz bitmiştir. Başarılar Dilerim...