



7. Sınıf

BURSLULUK
SINAVINA
HAZIRLIK



www.sosyalbilgiler.biz

KAZANIMLARA GÖRE BURSLULUK SINAVI SORULARI

1.ÜNİTE: BİREY VE TOPLUM

İLETİŞİM ve İLETİŞİM ÇEŞİTLERİ

1) (2011 İOKBS)

İletişimde en önemli becerilerden biri iyi bir dinleyici olmaktır.

Aşağıdaki davranışlardan hangisini iyi bir dinleyicinin yapmaması gerekir?

- A) Konuşmacıyı, sözünü kesmeden dinlemek
- B) Konuşmacının söylediklerini anlamaya çalışmak
- C) Konuşmacının jest ve mimiklerine dikkat etmek
- D) Konuşmacıyla göz teması kurmaktan kaçınmak

2) (2008 İOKBS)



Emel'in durumunu gözlemleyerek düşüncelerini dile getiren Ece, aşağıda verilen olumlu iletişim kurallarından hangisini uygulamıştır?

- A) Sabırlı olma
- B) Empati kurma
- C) Göz temasında bulunma
- D) Kendini doğru ifade etme

3) (2016 İOKBS)

Sağlıklı bir iletişim kurulması için bireylerin aşağıdaki davranışların hangisinden kaçınması gerekir?

- A) Kişinin kendisini doğru ifade etmesinden
- B) Bireylerin birbirine karşı sürekli eleştirel yaklaşmasından
- C) Bireylerin birbirine empati ile yaklaşmasından
- D) Bireylerin birbirine karşı önyargısız olmasından

4) (2017 İOKBS)

İyi bir dinleyiciyle ilgili

- I. Dikkatini konuşmacıya verir.
- II. Son sözü söylemek için çaba gösterir.
- III. Konuşmacıyla göz göze gelmemeye dikkat eder.

yargılarından hangileri doğrudur?

- A) Yalnız I.
- B) I ve II.
- C) II ve III.
- D) I, II ve III.

5) (2019 İOKBS)

İnsanın kendisini karşısındakinin yerine koyarak onun duygularını ve düşüncelerini doğru olarak anlamaya çalışmasına empati denir.

Bu tanıma göre aşağıdaki örneklerden hangisinde empati kurulduğu söylenebilir?

- A) Annenin 7. sınıfa giden çocuğunu "Hiçbir zaman odanı toplamıyorsun." diyerek eleştirmesi
- B) Öğretmenin bir gün önce okula gelmeyen öğrencisine gelmediğinde onu merak ettiğini söylemesi
- C) Bir konuşmacının dinleyicilerin yerinde kendisi olsa sıkılacağını fark edip toplantı süresini kısaltması
- D) Bir öğrencinin okuldan eve geldikten sonra öğretmenin anlattıklarını tekrar etmesi ve ödevlerini yapması

6) (2019 İOKBS)

Sözlü iletişim, konuşarak kurduğumuz iletişimdir. Yüz yüze veya telefonla yaptığımız görüşmelerde kullanırız.

Bu bilgiye göre aşağıdakilerden hangisi sözlü iletişime örnek olarak gösterilebilir?

- A) Toplantı konuşmaları
- B) Faks mesajları
- C) Elektronik postalar
- D) Mektuplar

7) (2020 İOKBS)

Aşağıdakilerden hangisi sözsüz iletişim türüne örnek olarak gösterilebilir?

- A) Komşumuzu gördüğümüzde günaydın demek
- B) Arkadaşımıza başımızı sallayarak selam vermek
- C) Öğretmenimize sınavdan aldığımız puanı sormak
- D) Hasta olan bir akrabama geçmiş olsun demek

KAZANIMLARA GÖRE BURSLULUK SINAVI SORULARI

8) (2020 İOKBS)

Aşağıdakilerden hangisi “etkili dinleme” yöntemlerinden biri değildir?

- A) Dikkatli bir şekilde dinleme
- B) Dinlediğimizi konuşmacıya hissettirme
- C) Konuşmacının sözünü kesme
- D) Gerektiğinde soru sormak için not alma

9) (2020 İOKBS)

Kişiler arası ilişkilerde “empati kuran” bir birey için aşağıdakilerden hangisi söylenemez?

- A) İletişimde bulunduğu kişiyi yargılamaz.
- B) Duygu ortaklığı kurarak, insanları anlamaya çalışır.
- C) Konunun gerçekliğini tespit etmeden bir kaniya varır.
- D) Dış dünyayı karşısındaki kişinin penceresinden görmeye çalışır.

10) (2020 İOKBS)

Yaşadığımız duyguları dile getiren, suçlayıcı ve değerlendirci olmayan mesajlar içeren dile “ben dili” denir.

Bu tanıma göre aşağıdakilerden hangisi ben diline uygun bir ifade değildir?

- A) Odanı dağınık bıraktığın için üzülüyorum.
- B) Konuşmamın sonunu getiremediğim için rahatsız oluyorum.
- C) Eve geç gelmen beni endişelendiriyor.
- D) Arkadaşlarınla iyi geçinmeyi bir türlü beceremiyorsun.

11) (2021 İOKBS)

Aşağıdakilerden hangisi sözlü iletişim türüne örnek gösterilebilir?

- A) Arkadaşımızın hareketini başımızla onaylamak
- B) Hastalanan yakınlarımıza “geçmiş olsun” demek
- C) Bayramlarda büyüklerimizin elini öpmek
- D) Öğretmenimize gülümseyerek bakmak

12) (2022 İOKBS)

Nasrettin Hoca bir gün ağaçtan düşer ve acıyla kıvrınır. Hocanın başına toplananlar, “Hemen bir doktor çağırın!” diye bağırırken hoca, “Bana doktor değil, ağaçtan düşmüş birini bulun.” der.

Bu fıkrada, aşağıdakilerden hangisi örneklendirilmiştir?

- A) Beden dili
- B) Sen dili
- C) Empati
- D) Ön yargı

13) (2022 İOKBS)

Türk kültüründe Anadolu kadını, el işi iğne oyasıyla sevgi, acı, pişmanlık, öfke, düş kırıklığı ve mutluluk gibi duygularını dile getirir. Örneğin; kayınvalidesine iyi bir mesaj iletmek isteyen yeni gelin, çayır çimen oyası işlenmiş yemeni hediye eder. Özellikle Mudurnu yöresinde yapılan çınar yaprağı oyası, uzun ömür ve bilgelik temennisi için işlenir. Yöre halkı çınar yaprağı oyasını görünce bu mesajı algılar.

Verilen bu örnekler aşağıdakilerden hangisi ile ilişkilidir?

- A) Sözsüz iletişim
- B) Sözlü iletişim
- C) Yazılı iletişim
- D) Olumsuz iletişim

OLUMLU İLETİŞİM

14) (2013 İOKBS)

Aşağıdaki atasözlerinden hangisi, insan ilişkilerinde olumlu iletişimin önemini vurgular?

- A) “Kara haber tez duyulur.”
- B) “Laf ile peynir gemisi yürümez.”
- C) “Tatlı dil yılanı deliğinden çıkarır.”
- D) “Bir ağızdan çıkar, bin ağıza yayılır.”

15) (2015 İOKBS)

Selam Ver!

Yola çıkınca her sabah,
Bulutlara selam ver.
Taşlara kuşlara,
Atlara, otlara
İnsanlara selam ver.
Ne görürsen selam ver...

Şiirde, iletişimi olumlu etkileyen tutum ve davranışlardan hangisi vurgulanmaktadır?

- A) Uzlaşma
- B) Empati kurma
- C) Ön yargısız yaklaşım
- D) Bireysel farklılıklara saygı

16) (2015 İOKBS)

Bir kişinin çevresiyle sağlıklı iletişim kurabilmesinin ilk basamağı, aşağıdakilerden hangisidir?

- A) Kendini tanıma
- B) Hoşgörülü olma
- C) Etkileyici konuşabilme
- D) Jest ve mimikleri kullanabilme

KAZANIMLARA GÖRE BURSLULUK SINAVI SORULARI

KİTLE İLETİŞİMİ

17) (2018 İOKBS)

İletişim bireyler arasında gerçekleşen duygu, düşünce, davranış ve bilgi alışverişidir.

Buna göre bireyler arasında sağlıklı iletişimin gerçekleşmesi aşağıdakilerden hangisine bağlıdır?

- A) Karşılıklı olmasına
- B) Emir cümleleri kullanılmasına
- C) Karşıdaki kişinin sorgulanmasına
- D) Başkalarının duygularına ilgisiz kalınmasına

18) (2019 İOKBS)

Etkili iletişimi olumsuz etkileyen sorunlar kaynaklarına göre dinleyiciden ve konuşmacıdan olmak üzere iki grupta toplanır.

Buna göre aşağıdaki etkili iletişimi olumsuz etkileyen sorunlardan hangisinin konuşmacıdan kaynaklandığı söylenebilir?

- A) Söylenenleri yanlış yorumlama
- B) Ön yargılı dinleme
- C) Söylenenleri yetersiz algılama
- D) Eksik bilgi ve mesaj verme

19) (2020 İOKBS)

Etkili iletişimi olumsuz etkileyen aşağıdaki sorunlardan hangisinin dinleyiciden kaynaklandığı söylenebilir?

- A) İyi hazırlanmamış konuşma metni
- B) Eksik bilgi ve mesaj verme
- C) Yanlış anlaşılılmaya neden olacak ifadeler kullanma
- D) Söylenenleri yetersiz algılama

20) (2021 İOKBS)

Etkili iletişimi olumsuz etkileyen aşağıdaki sorunlardan hangisinin konuşmacıdan kaynaklandığı söylenebilir?

- A) Dikkatsiz dinleme
- B) Yanlış yorumlama
- C) Soru sormama
- D) Aynı ses tonu ile sıkıcı konuşma

21) (2022 İOKBS)

Aşağıdakilerden hangisi etkin dinleyen bir kişinin davranışı olamaz?

- A) Karşısındaki ile göz teması kurmaktan kaçınma
- B) Konuşulanı anladığını belirtmek için geri bildirimde bulunma
- C) Anlamadığı yerlerle ilgili sorular sorma
- D) Ön yargılardan uzak bir şekilde dinleme

22) (2015 İOKBS)

“Basın, milletin genel sesidir. Bir millet aydınlatma ve uyarmada, bir millet gereksindiği fikri gıdayı vermekte, özet olarak bir milletin mutluluk hedefi olan ortak doğrutuda yürümesini teminde basın başlı başına bir kuvvet, bir okul, bir rehberdir.”

Mustafa Kemal ATATÜRK

Atatürk bu sözü ile basının,

- I. yönlendirici
- II. taraf tutucu
- III. bilgilendirici
- IV. kamuoyu oluşturucu

özelliklerinden hangilerini taşıması gerektiğini vurgulamıştır?

- A) Yalnız I.
- B) II. ve III.
- C) II. ve IV.
- D) I, III. ve IV.

23) (2019 İOKBS)

Aşağıdakilerden hangisi sosyal medyanın faydalı kullanımına örnek olarak gösterilebilir?

- A) İhtiyaç sahipleri için yardım kampanyaları düzenlemek
- B) Zamanın çoğunu sosyal medyada geçirmek
- C) Doğruluğundan emin olmadığımız haberleri yaymak
- D) Kişisel bilgilerimizi tanımadığımız kişilerle paylaşmak

24) (2021 İOKBS)

Aşağıdakilerden hangisi sosyal medya kullanımının artmasıyla ortaya çıkan sorunlardan değildir?

- A) Zaman israfı
- B) Dil tahribatı
- C) Doğru bilgiye kolay ulaşma
- D) Geleneklerin unutulmaya başlanması

25) (2021 İOKBS)

Ayşe: “Genel Ağ yoluyla hazırladığım ödevi arkadaşlarım çok beğendi.”

Buna göre Ayşe, Genel Ağ’ı aşağıdaki amaçlardan hangisi için kullanmıştır?

- A) Haber
- B) Sosyal medya takibi
- C) Eğitim
- D) Alışveriş yapmak

KAZANIMLARA GÖRE BURSLULUK SINAVI SORULARI

26) (2021 İOKBS)

Günümüzde bireyler arasındaki iletişim, akıllı telefon ve genel ağ kullanımının artmasıyla değişime uğramıştır. Önceleri aile büyüklerine bayram ziyaretleri yapılırken şimdi birçok akrabamıza bir bayram mesajı yazmakla yetiniyoruz.

Bu bilgide, medya araçlarının hangi alandaki değişime etkisinden söz edilmektedir?

- A) Siyasi
- B) Askerî
- C) Kültürel
- D) Hukuki

İLETİŞİM ÖZGÜRLÜĞÜ

27) (2012 İOKBS)

Bir televizyon kanalı, üç gün önce haberlerde yayımladığı bir haberin yanlış bilgi içerdiğini, bugünkü programında tekzip yayını ile izleyicilere duyurdu.

Bu tekzip yayını, aşağıdakilerden hangisinin ihlali üzerine yapılmış olabilir?

- A) Özel hayatın gizliliğinin
- B) Doğru bilgi alma hakkının
- C) Kitle iletişim özgürlüğünün
- D) Düşünceyi açıklama özgürlüğünün

28) (2012 İOKBS)

İki gün önce meydana gelen Pakistan depreminden sonra çevremdeki insanlar bölgeye yardım gönderiyorlardı. Bense “Ülkemizde de muhtaç insanlar var.” diyordum. Bir haftadır arızalı olan televizyonum o akşam tamirden gelmişti. Haberlerde deprem görüntülerini izledim, çok etkilendim. Ertesi gün bir banka aracılığıyla bende yardım gönderdim.

Parçaya göre bu kişinin, depremzedelere yardım konusunda daha duyarlı hâle gelmesinde aşağıdakilerden hangisi etkili olmuştur?

- A) Komşuları
- B) Arkadaşları
- C) Doğal afetler
- D) Kitle iletişim araçları

29) (2014 İOKBS)

Televizyon, radyo, gazete, dergi ve sinema gibi kitle iletişim araçları, kamuoyunun oluşturulmasında ve fikirlerin serbestçe ifadesinde önemli rol oynamaktadır.

Bu açıklamadan kitle iletişim araçları ile ilgili olarak, aşağıdakilerden hangisi çıkarılamaz?

- A) Fikir paylaşımını sağladıkları
- B) Yargının kararlarını etkiledikleri
- C) Toplumu yönlendiren bilgiler verdikleri
- D) Özgür düşünce ortamını oluşturdukları

30) (2014 İOKBS)

- I. Üretilen bilgiler, dünyanın her yerine kolayca yayılmıştır.
- II. Toplumdan kopuk bireylerin sayısında artış yaşanmıştır.
- III. Uluslar, birbirlerini daha yakından tanıma imkânı bulmuştur.
- IV. Kuşaklar arası kültürel çatışma daha belirgin bir hâle gelmiştir.

Yukarıdaki ifadelerden hangileri, kitle iletişim araçlarının zararlı etkilerini dile getirmektedir?

- A) I ve II
- B) I ve III
- C) II ve IV
- D) III ve IV

31) (2015 İOKBS)

Geçenlerde kız kardeşimle sinemaya gitmiştik. Çıkışta bazı gazetecilerin objektiflerine yakalandık. Ertesi gün gazetelerin magazine sayfalarında “Şarkıcı Semavi kız arkadaşıyla gece geç saatte sinema çıkışı görüldü!” diye yazıldı. Halbuki o, benim kız kardeşimdi. İkimizde üzüldük.

Bu metne göre gazeteciler, aşağıdakilerden hangisini göz ardı ederek haber yapmıştır?

- A) Seyahat hakkını
- B) Basın özgürlüğünü
- C) Özel yaşamın gizliliğini
- D) Telif ve patent haklarını

32) (2016 İOKBS)

XXI. yüzyılda hayatımızın her alanına giren bilgisayarlar çift yönlü bir iletişim sağlayarak televizyonun yerini almıştır. İnsanlar internet sayesinde dünyanın dört bir yanı ile iletişim kurmaya başlamışlardır. Buna karşılık, insanların kitle iletişim araçlarına aşırı bağlanması, iletişim kopukluğu ve kültürel yozlaşma gibi sorunlara da yol açmaktadır.

Bu parçaya dayanarak kitle iletişim araçlarıyla ilgili aşağıdakilerden hangisine ulaşılabılır?

- A) Olumsuz yönlerinin de olduğuna
- B) Sadece tek yönlü iletişim sağladığına
- C) Sınırsız bir şekilde yararlanılması gerektiğine
- D) Yüz yüze ilişkileri artırdığına

KAZANIMLARA GÖRE BURSLULUK SINAVI SORULARI

33) (2017 İOKBS)

(I) İnsan hak ve özgürlükleri, kamu sağlığı ve güvenliği söz konusu olduğunda bile sınırlandırılmaz. (II) Yargı kararı olmadıkça kimsenin özel yaşamına müdahale edilemez. (III) Toplum yararının olmadığı durumlarda gizli bilgiler yayımlanamaz. (IV) Yayın organları kişilerin özel yaşamına saygı duymakla yükümlüdür.

Bu parçada numaralanmış cümlelerin hangisinde “insan hak ve özgürlükleri” ile ilgili yanlış bilgi verilmiştir?

- A) I. B) II. C) III. D) IV.

34) (2018 İOKBS)

Günümüzde yaşanan teknolojik gelişmelerle insanlar dünyanın dört bir yanıyla iki yönlü iletişime girme olanağı bulmuşlardır. Herhangi bir konuda istediği kadar bilgi alma özgürlüğüne sahip olan insanlar, keşifleri anında izlemeye başlamışlardır. Bir bilgi ya da haber bu sayede dünyanın dört bir yanına çok kısa sürede yayılmaya başlamıştır.

Bu metinde aşağıda verilen hangi kitle iletişim aracından söz edilmektedir?

- A) Gazete B) Telgraf
C) İnternet D) Televizyon

35) (2019 İOKBS)

İstediğim herhangi bir iletişim aracını kullanabilirim.” diyen bir kişi temel hak ve özgürlüklerimizden hangisini vurgulamaktadır?

- A) Düşünce özgürlüğü
B) Haberleşme hürriyeti
C) Özel hayatın gizliliği
D) Dernek kurma hakkı

36) (2020 İOKBS)

Televizyon programlarının içeriği hakkında önceden uyarı veren “akıllı işaretler” aşağıdakilerden hangisi tarafından hazırlanmaktadır?

- A) Türk Dil Kurumu
B) Radyo ve Televizyon Üst Kurulu
C) Millî Eğitim Bakanlığı
D) Türkiye İstatistik Kurumu

37) (2021 İOKBS)

Polislerin hâkim kararı olmadan bir evde arama yapmamaları aşağıdakilerden hangisine saygı duyulduğunu gösterir?

- A) Düşünce özgürlüğüne
B) Haber alma hakkına
C) Konut dokunulmazlığı hakkına
D) Bilgi edinme hakkına

38) (2022 İOKBS)

Ünlü bir sanatçı, ailesi ile tatil yaparken gizlice fotoğraflarını çekip bunu haber yapan gazeteci hakkında dava açmıştır. Dava sonucunda gazeteci, sanatçıya tazminat ödemek zorunda kalmıştır.

Bu olay, aşağıdaki haklardan hangisinin ihlal edilmesine örnek gösterilebilir?

- A) Düşünce özgürlüğünün
B) Özel hayatın gizliliğinin
C) Doğru bilgi alma hakkının
D) Konut dokunulmazlığının

OSMANLI DEVLETİ KURULUS DÖNEMİ

39) (2012 İOKBS)

Aşağıdakilerden hangisi, Tımar (İkta) sisteminin yararları arasında gösterilemez?

- A) Özel mülkiyetin gelişmesi
- B) Taşrada güvenliğinin sağlanması
- C) Üretimin, denetim altına alınması
- D) Hazineye yük olmadan donanımlı bir ordu oluşturulması

40) (2012 İOKBS)

Osmanlı Beyliği'nin Bizans sınırında kurulması, aşağıdakilerden hangisi üzerinde doğrudan etkili olmuştur?

- A) Haçlı Seferlerinin yapılmasında
- B) Bizans'la iyi ilişkiler kurulmasında
- C) Anadolu Türk birliğinin sağlanmasında
- D) Osmanlıların batı yönünde genişlemesinde

41) (2012 İOKBS)

Aşağıdakilerden hangisi, atlı askerlerden oluşan askerî sınıftır?

- A) Yeniçeriler
- B) Leventler
- C) Tımarlı sipahiler
- D) Humbaracılar

42) (2013 İOKBS)

"Osmanlı toprak yönetiminde uygulanan Tımar Sistemi'nin işleyişinde görevli olan tımarlı sipahi, bulunduğu bölgede devletin kanunlarını da uygulardı."

Parçada, Tımar Sistemi'nin hangi alanda rol oynadığına vurgu yapılmaktadır?

- A) Ticaret
- B) Tarım
- C) Kültür
- D) Yönetim

43) (2014 İOKBS)

Bir gün Germiyanogulları Beyliği'nden gelen biri, Bilecik Rumlarından bir kişiden bardak satın almış, ancak parasını ödememişti. Parasını alamayan satıcı, Osman Bey'e gelerek şikayette bulundu. Bunun üzerine Osman Bey Germiyanlıyı çağırarak Rum'un hakkını ondan aldı. O günden sonar haksızlığa uğrayanların kendisine müracaat etmesini istedi.

Verilen durum, Osmanlı Beyliği'nin güçlenmesini sağlayan aşağıdaki faktörlerden hangisiyle ilişkilendirilebilir?

- A) Adalet anlayışıyla
- B) Hoşgörü fikriyle
- C) İskân politikasıyla
- D) Yöneticilerin yeteneğiyle

44) (2016 İOKBS)

Osmanlı toprak yönetiminde uygulanan tımar sisteminde tımarlı sipahiler, bölgelerinde huzur ve güveni sağlayarak jandarma görevini üstleniyorlardı. Böylece devlet otoritesi, ülkenin en uç noktalarına kadar ulaşıyordu.

Yukarıda verilen bilgide tımar sisteminin hangi alanda rol oynadığı belirtilmiştir?

- A) Ticari ilişkilerde
- B) Ülke yönetiminde
- C) Kültürel etkinliklerde
- D) Tarımsal faaliyetlerde

45) (2016 İOKBS)

Osmanlı Devleti'nde devlet işleri Divanühümayun adı verilen bir kurulda görüşülüp karara bağlanırdı. Divanda devlet işleriyle ilgili alınan kararların İslam dinine uygun olup olmadığına divan üyelerinden Şeyhülislam karar verirdi.

Bu bilgilere göre Osmanlı devlet yönetimiyle ilgili olarak aşağıdaki sonuçlardan hangisi çıkarılabilir?

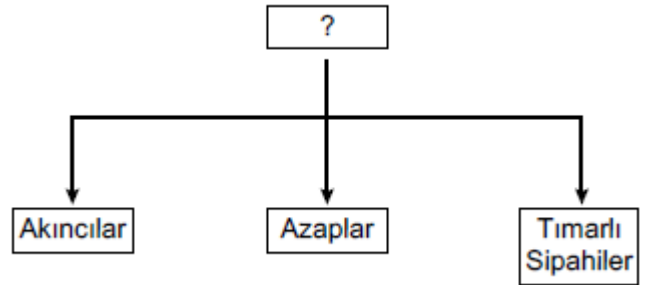
- A) Yargıda örfi hukuk geçerlidir.
- B) Devlet yönetiminde din kuralları etkilidir.
- C) Divana bütün halkın başvurma hakkı vardır.
- D) Devlet yönetiminde padişah tek başına hareket etmektedir.

46) (2017 İOKBS)

Aşağıdakilerden hangisi Orhan Bey dönemi (1324-1362) olaylarından değildir?

- A) Bursa'nın fethi
- B) Fetret Devri'nin başlaması
- C) Türklerin Rumeli'ye geçmesi
- D) Orduda yaya ve müsellemler birliğinin oluşturulması

47) (2017 İOKBS)



Şemaya hangi başlık verilmelidir?

- A) Deniz Kuvvetleri
- B) Cebeci Ocağı
- C) Topçu Ocağı
- D) Eyalet Askerleri

KAZANIMLARA GÖRE BURSLULUK SINAVI SORULARI

48) (2018 İOKBS)

Osman Bey, oğlu Orhan Gazi'ye; "İlim ehli insanlara rağbet et, askerine ve malına güvenip âlimlerden uzaklaşma!" diye vasiyet etmiştir.

Osman Bey'in bu sözleriyle önemini vurguladığı erdem, aşağıdakilerden hangisidir?

- A) Bilgi B) Hoşgörü
C) Cesaret D) İyilikseverlik

49) (2018 İOKBS)

Aşağıdakilerden hangisi Osmanlı hükümdarlarından biri değildir?

- A) Yıldırım Beyazıt B) Orhan Bey
C) Alaaddin Keykubat D) II. Murat

50) (2018 İOKBS)

Aşağıdakilerden hangisi Osmanlı Beyliği'nin Söğüt ve çevresini yurt edinmesinin sağladığı siyasi avantajlardan biri değildir?

- A) Kurulduğu dönemde çevresinde güçlü bir devletin olmayışı
B) Ticari açıdan gelişmiş şehir ve kasabalara komşu bulunması
C) Etrafındaki tekfurlarının birbiriyle mücadele hâlinde olması
D) Bizans İmparatorluğu'nun iç karışıklıklarla uğraşması

51) (2019 İOKBS)

- Gelibolu Yarımadası'ndadır.
-Batı seferlerinde üs olarak kullanılmıştır.
-Osmanlı'nın Rumeli'deki ilk toprağıdır.

Bu bilgiler aşağıdakilerden hangisi ile ilgilidir?

- A) Rumeli Hisarı B) Çimpe Kalesi
C) Yarhisar Kalesi D) Anadolu Hisarı

52) (2019 İOKBS)

Osmanlı nüfusunun önemli bir kısmı köylerde yaşarlardı. Konargöçerler çoğunlukla hayvancılıkla, köylüler ise daha çoktarım ile uğraşırlardı. Köylülerin büyük çoğunluğu devletin kendilerine tahsis ettiği çiftlikleri işleten ailelerden oluşmaktaydı.

Bu metindeki bilgiye getirilebilecek uygun başlık aşağıdakilerden hangisidir?

- A) Osmanlı Devleti'nin Askerî Yapısı
B) Osmanlı Divan Teşkilatı
C) Osmanlı Devleti'nin Toplumsal ve Ekonomik Yapısı
D) Osmanlı İskân Politikası

53) (2020 İOKBS)

Osmanlı Devleti'nde toplum, yönetenler ve yönetilenler olmak üzere ikiye ayrılmaktaydı. Yönetenler; askerî, idari, siyasi ve dinî yetkilere sahip devlet görevlileriydi.

Bu bilgilere göre aşağıdakilerden hangisi yönetenler arasında yer almaz?

- A) Sancak beyi B) Kadı
C) Tımarlı sipahi D) Esnaf

54) (2020 İOKBS)

Osmanlı Beyliği'nin kısa sürede güçlenmesini sağlayan aşağıdaki nedenlerden hangisi kurulduğu bölgenin sağladığı avantajlardan biridir?

- A) Yetenekli padişahların iş başına gelmesi
B) Bizans'ın ve Balkanların karışıklık içinde olması
C) Adaletli bir yönetim uygulanması
D) Merkezîyetçi bir devlet anlayışının benimsenmesi

55) (2020 İOKBS)

Aşağıdakilerden hangisi Osmanlı Devleti'nin Haçlılarla yaptığı savaşılarından biri değildir?

- A) Ankara Savaşı B) I. Kosova Savaşı
C) Varna Savaşı D) Niğbolu Savaşı

56) (2021 İOKBS)

Eskişehir'de kurulan bir pazarda bir Türk'ün Bizanslı tüccardan aldığı bardağın parasını ödememesi üzerine Osman Bey o kişiyi cezalandırarak Bizanslı tüccarın mağduriyetini gidermiştir.

Bu olay Osman Bey'in aşağıdakilerden hangisine verdiği önemi gösterir?

- A) Hoşgörüye B) Vatanseverliğe
C) Cömertliğe D) Adaletle

57) (2021 İOKBS)

Osmanlı Devleti'nde tımar sistemi ile toprağın kullanımı halka, denetimi ise tımarlı sipahilere verilmiştir. Bu sistemde üretimde devamlılık sağlanmıştır. Halk, ürettiği ürünün vergisini tımarlı sipahiye vermiştir. Sipahiler ise çiftçilerin ve tımarların asayişinden sorumlu tutulmuştur.

Bu bilgilere göre aşağıdakilerden hangisi tımar sisteminin faydalarından biri değildir?

- A) Toprağın mülkiyetinin halka verilmesi
B) Vergilerin düzenli olarak toplanması
C) Tarımsal üretime süreklilik kazandırması
D) Bölgenin güvenliğinin sağlanması

KAZANIMLARA GÖRE BURSLULUK SINAVI SORULARI

58) (2021 İOKBS)

Osmanlı Devleti'nde yönetici ve askerî sınıf dışında kalan kesime "reaya" denilirdi.

Bu bilgiye göre aşağıdakilerden hangisi reaya sınıfında yer almaz?

- A) Tüccarlar B) Vezirler
C) Esnaf D) Konargöçerler

59) (2022 İOKBS)

Türkiye Selçuklu Devleti'nin Moğollara Köseadağ Savaşı'nda yenilmesi, Selçukluların otoritesini sarsmış ve bundan dolayı Anadolu'da birçok Türkmen beyliği bağımsızlığını ilan etmiştir.

Bu durum, aşağıdakilerden hangisinin göstergesidir?

- A) Bizans'ın Anadolu'daki hâkimiyetinin zayıfladığının
B) Anadolu Türk siyasi birliğinin bozulduğunun
C) Moğol ilerleyişine karşı Haçlı birliğinin kurulduğunun
D) Türkmenler arasında gaza ve cihat anlayışının sona erdiğinin

60) (2022 İOKBS)

Şeyh Edebali, Osmanlı Devleti'nin kurucusu olan Osman Gazi'ye "İnsanı yaşat ki devlet yaşasın." diyerek nasihatte bulunmuştur.

Aşağıdakilerden hangisi Osmanlıların bu nasihat doğrultusundaki uygulamalarından biri değildir?

- A) İrk ve din farkı gözetmeksizin adalete dayalı bir yönetimin olması
B) Gayrimüslim halka karşı hoşgörü politikasının benimsenmesi
C) Fethedilen yerlere hastane, çeşme ve yol gibi yapıların inşa edilmesi
D) Veraset sistemine göre Osmanlı şehzadelerine hükümdar olma hakkının verilmesi

OSMANLI DEVLETİ YÜKSELME DÖNEMİ

61) (2012 İOKBS)

Aşağıdakilerden hangilerinin fethi, Karadeniz'de ticaretin Osmanlıların denetimine girmesini sağlamıştır?

- I. Amasra
II. Kıbrıs
III. Trabzon

- A) I ve II B) I ve III
C) II ve III D) I, II ve III

62) (2013 İOKBS)

Fatih Sultan Mehmet;

- Cenevizlilerden Amasra'yı almış,
- Trabzon İmparatorluğu'na son vermiş,
- Kırım'ı Osmanlı'ya bağlamıştır.

Fatih Sultan Mehmet'in bu faaliyetleri, Osmanlı Devleti'nin en çok hangi alanda gelişmesine katkı sağlamıştır?

- A) Sanat B) Tarım
C) Bilim D) Ticaret

63) (2013 İOKBS)

Orhan Bey, Bursa'nın fethinden sonra Rumlara şehri teslim etmelerinin sebebini sorduğu zaman onlardan şu cevabı aldı:

"-Sizin devletinizin günden güne büyüdüğünü ve bizim devletimizin zayıfladığını anladık. Babanızın idaresine geçen köylülerin memnun kalıp bizi anmadıklarını gördük. Biz de bu rahatlığa heves ettik."

Rumların cevabı, Osmanlı'nın kısa zamanda büyümesini sağlayan aşağıdaki nedenlerden hangisi ile ilişkilendirilebilir?

- A) Kurulduğu bölgenin coğrafi konumu
B) Adaletli ve hoşgörülü politika izlenmesi
C) Güçlü bir merkezî yönetime sahip olması
D) Başarılı bir iskân siyasetinin uygulanması

64) (2013 İOKBS)

"Tarih boyunca İstanbul, önemli kara ve deniz ticaret yolları üzerinde bulunuyordu."

Verilen bu bilgi doğrultusunda, İstanbul'un fethi Osmanlı Devleti'ne daha çok hangi alanda katkı sağlamıştır?

- A) İdari B) Siyasi
C) Ekonomik D) Askerî

KAZANIMLARA GÖRE BURSLULUK SINAVI SORULARI

65) (2014 İOKBS)

Osmanlı Devleti; Anadolu, Suriye ve Mısır bölgelerine egemen olduğunda, bu bölgeler için stratejik ve merkezî bir üs konumunda olan Kıbrıs Adası, Venedik'in idaresinde bulunuyordu. Bu yıllarda ada, Doğu Akdeniz'de Hristiyanların kalesi durumundaki tek yerleşim yeri idi. Ayrıca Kıbrıs kralı zaman zaman, Osmanlı aleyhine kurulan ittifaklara da yardımlarda bulunuyordu.

Verilen bilgiden hareketle Kıbrıs'ın fethinin, Osmanlı Devleti'ne;

- | | |
|-------------|--------------|
| I. dinî | II. iktisadi |
| III. siyasi | IV. askerî |

alanların hangilerinde katkı sağladığı söylenebilir?

- | | |
|--------------|-----------------|
| A) I ve II | B) II ve III |
| C) III ve IV | D) I, III ve IV |

66) (2015 İOKBS)

Osmanlı Devleti içinde farklı etnik ve dinî unsurlar bulunmaktaydı. Örfi hukuk, bu farklı unsurların duyarlılıklarını gözetten bir hukuk sistemi idi.

Osmanlı Devleti'nde bu örfi hukukun uygulanması aşağıdakilerden hangisinin kanıtıdır?

- A) Osmanlı Devleti'nde hukuk birliğinin sağlandığının
B) Osmanlı Devleti'nin farklı kültürlerden etkilendiğinin
C) Farklı unsurların Osmanlı Devleti üzerinde etkili olduğunun
D) Osmanlı Devleti'nde hoşgörü ve birlikte yaşama fikrinin geliştiğinin

67) (2015 İOKBS)

"Devletli sultanımın yardımıyla Rumeli fethedilmeye başlandı. Düşman zayıftır. Bu tarafta fethedilen hisarlara koymaya çok adam gerek. Lütfedip bana yarar yoldaş gönderiniz."

Orhan Bey'in oğlu Süleyman Paşa, babasından bu isteğiyle aşağıdakilerden hangisini amaçlamış olabilir?

- A) Fethedilen toprakların kalıcı olmasını sağlamayı
B) Rumeli'deki Türk nüfus yoğunluğunu azaltmayı
C) Osmanlı ordusunu güçlendirmeyi
D) Devletin ekonomisini geliştirmeyi

68) (2015 İOKBS)

Yapılan fetihler sonunda önemli kara ve deniz ticaret yollarının Osmanlı Devleti'nin eline geçmesi, aşağıdaki alanlardan hangisine katkı sağlamamıştır?

- | | |
|-------------|------------|
| A) Ekonomi | B) Siyaset |
| C) Askeriye | D) Din |

69) (2016 İOKBS)

Osmanlı Devleti'nin fethettiği şehirlerde farklı dinlere ait ibadet yerleri varlığını devam ettirmiştir. Egemenliği altındaki gayrimüslimler dinlerini serbestçe yaşamışlardır.

Bu durum, Osmanlıların aşağıdakilerden hangisine önem verdiğine kanıt olarak gösterilebilir?

- A) Din birliğine
B) Farklı dinleri tanımaya
C) Kültürlerini kabul ettirmeye
D) İnançlara hoşgörü ile yaklaşıtlarına

70) (2017 İOKBS)

- I. Trabzon
II. Kırım
III. Kıbrıs

Numaralanmış yerlerden hangilerinin fethi, Karadeniz'de Türk hâkimiyetini güçlendirmiştir?

- | | |
|--------------|---------------|
| A) Yalnız I. | B) Yalnız II. |
| C) I ve II. | D) II ve III. |

71) (2018 İOKBS)

- I. Rodos Adasının Fethi
II. Ridaniye Savaşı
III. İstanbul'un Fethi

Verilen olayların kronolojik sıralaması aşağıdakilerden hangisidir?

- | | |
|-------------|-------------|
| A) I-II-III | B) I-III-II |
| C) III-I-II | D) III-II-I |

72) (2018 İOKBS)

Osmanlılarda "Kaptan-ı Derya" unvanı verilen ilk denizci aşağıdakilerden hangisidir?

- A) Kemal Reis
B) Oruç Reis
C) Barbaros Hayrettin Paşa
D) Kılıç Ali Paşa

73) (2020 İOKBS)

Aşağıdakilerden hangisi Osmanlı Devleti'nin uyguladığı "İskân Politikası"nın askerî amaçlarından biridir?

- A) İssiz ve terk edilmiş yerlerde Türk şehirleri oluşturmak
B) Rumeli'deki boş arazileri ekilip biçilen tarlalar hâline dönüştürmek
C) Fethedilen yerlere Türk nüfusu yerleştirerek yeni fetihlere zemin hazırlamak
D) İskân edilen topraklardan vergi geliri elde etmek

KAZANIMLARA GÖRE BURSLULUK SINAVI SORULARI

74) (2020 İOKBS)

Aşağıdakilerden hangisi İstanbul'un Fethi'nin "ekonomik" nedenlerindendir?

- A) Bizans'ın Osmanlı Devleti'nin batıda ilerleyişine engel olması
- B) İstanbul'un kara ve deniz ticaret yolları üzerinde önemli bir konumda bulunması
- C) Bizans'ın, Avrupa devletlerini Osmanlı Devleti'ne karşı kıskırtması
- D) Osmanlı Devleti'nin Anadolu ve Rumeli toprakları arasındaki bağlantıyı sağlamak istemesi

75) (2022 İOKBS)

Aşağıdakilerden hangisi İstanbul'un Fethi'nin siyasî nedenlerinden biridir?

- A) İstanbul'un önemli ticaret yolları üzerinde olması
- B) Bizans'ın Osmanlı taht mücadelelerine karışması
- C) İstanbul'un Ortodoks mezhebinin merkezi olması
- D) Hazreti Muhammed (sav)'in hadisi

AVRUPA'DAKİ GELİŞMELER OSMANLIYA ETKİLERİ

76) (2012 İOKBS)

Sanayi İnkılabı sonucunda Avrupa'da fabrikalaşma başladı ve hızlı üretim artışı yaşandı.

Bu durumun Avrupa'da aşağıdakilerden hangisine yol açtığı söylenebilir?

- A) Sömürgeciliğe
- B) Coğrafi Keşiflere
- C) Demokratikleşmeye
- D) Rönesans Hareketlerine

77) (2012 İOKBS)

15 ve 17. yüzyıl boyunca Avrupa'da görülen reform hareketleri, öncelikle hangi alanda değişikliğe yol açmıştır?

- A) Din
- B) Sanat
- C) Ticaret
- D) Yönetim

78) (2014 İOKBS)

Avrupa'da sanayinin gelişmesiyle fabrikalar kurulmaya başladı. Sanayileşen ülkeler, üretimlerini artırmak için hem ham maddeye hem de yeni pazarlara ihtiyaç duydular. Bu nedenle geri kalmış Asya ve Afrika ülkelerini denetim altına almaya çalıştılar. Bu da sanayileşen ülkeler arasında rekabete neden oldu. Sömürge arayışı da denilen bu yarış, daha sonraki yıllarda I. Dünya Savaşı'nın çıkış nedenlerinden biri olmuştur.

Bu bilgide, I. Dünya Savaşı'nın çıkmasında etkili olan aşağıdaki nedenlerden hangisi vurgulanmıştır?

- A) Sosyal
- B) Dinî
- C) Kültürel
- D) Ekonomik

79) (2015 İOKBS)

Aşağıdakilerden hangisi Sanayi İnkılabı'yla ortaya çıkan işçi sınıfının sorunlarını çözmek ve haklarını korumak amacıyla kurulmuştur?

- A) Şirketler
- B) Sendikalar
- C) Kooperatifler
- D) Üniversiteler

80) (2015 İOKBS)

17.yüzyılda tarıma dayalı olan dünya ekonomisi yerini sanayileşme olgusuna bırakmaya başladı. Bu olgu ile birlikte siyasi, sosyal ve ekonomik alanda gelişmeler yaşandı.

Aşağıdakilerden hangisi bu gelişmelerden biri değildir?

- A) Üretimin hızlanması
- B) Kentlerde işçi sınıfının oluşması
- C) Ulaşım imkanlarının azalması
- D) Sanayileşmiş ülkelerin zenginleşmesi

81) (2016 İOKBS)

I. Tarım sektöründe insan gücüne dayalı üretimin yerini makineler alırken şehirlerde yeni kurulan fabrikalarda iş gücü ihtiyacı doğmuştur.
II. Şehirlerde nüfus hızla artmış ve günümüzün metropol denilen büyük şehirleri oluşmuştur.
III. Köylerde çalışan insanlar hızla şehirlere doğru göç etmişlerdir.
IV. Şehirlerde altyapı sorunları, çevre kirliliği ve çarpık kentleşme gibi sorunlar ortaya çıkmıştır.

Sanayi İnkılabı'nın ortaya çıkardığı yukarıdaki gelişmelerin neden-sonuç ilişkisine göre sıralaması aşağıdakilerin hangisinde doğru verilmiştir?

- A) I, II, III, IV
- B) II, III, I, IV
- C) I, III, II, IV
- D) III, IV, I, II

82) (2016 İOKBS)

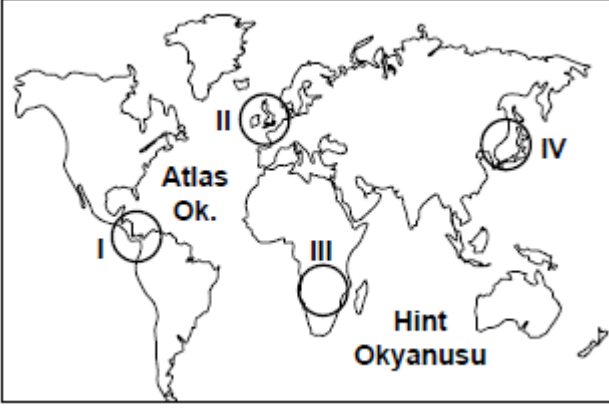
Reform hareketleri sonucunda bazı Avrupa ülkelerinde Katolik Kilisesi'nden ayrılan din adamları yeni mezhepler kurmuşlardır.

Bu bilgiye göre aşağıdaki yargılardan hangisine ulaşılabilir?

- A) Kilisenin otoritesi sarsılmıştır.
- B) Kiliseye duyulan güven azalmıştır.
- C) Avrupa'da mezhep birliği bozulmuştur.
- D) Eğitim kilisenin denetiminden çıkmıştır.

KAZANIMLARA GÖRE BURSLULUK SINAVI SORULARI

83) (2016 İOKBS)



- Ham madde ihtiyacı arttı.
- Sanayi ürünlerinin üretimi arttı.
- İhtiyaç fazlası ürünleri satacak pazar arayışları başladı.

Sanayi İnkılabı'nın sonucunda gerçekleşen yukarıdaki durumlar haritada numaralandırılarak verilen taralı alanlardan hangisinde ilk önce yaşanmıştır?

- A) I B) II C) III D)

84) (2016 İOKBS)

Milliyetçilik akımının etkisiyle her milletin kendi devletini kurma çabası içine girmesi, bütün dünyada ve özellikle Avrupa'da siyasi ve sosyal düzenin değişmesine neden olmuştur.

Bu gelişme, aşağıdakilerden hangisinin sonucudur?

- A) Fransız İhtilalinin
B) Coğrafi keşiflerin
C) Sanayi İnkılabının
D) Rönesans Hareketlerinin

85) (2016 İOKBS)

Aşağıdakilerden hangisi Avrupa'da yaşanan Rönesans Dönemi'nin özelliğini yansıtmaz?

- A) Sanat alanında gelişmelerin yaşanması
B) Din adamlarına duyulan güvenin artması
C) Özgür düşüncenin ön plana çıkması
D) Bilimsel düşüncenin önem kazanması

86) (2017 İOKBS)

Coğrafi Keşifler sonucunda Baharat ve İpek Yolları önemini yitirdi.

Bu durum Osmanlıları daha çok hangi alanda olumsuz etkilemiştir?

- A) Dinî B) Sanatsal
C) Kültürel D) Ekonomik

87) (2018 İOKBS)

Sanayi İnkılabı ilk kez aşağıdaki ülkelerden hangisinde ortaya çıkmıştır?

- A) İngiltere B) Fransa
C) İtalya D) Almanya

88) (2019 İOKBS)

Aşağıdakilerden hangisi Avrupalıların Coğrafi Keşifleri başlatmalarının dinî sebeplerinden biridir?

- A) Coğrafya bilgisinin artması
B) Gemi yapım tekniklerinde ilerlemeleri
C) Yeni ticaret yolu aramak istemeleri
D) Hristiyanlığı yaymak istemeleri

89) (2019 İOKBS)

Aşağıdakilerden hangisi Sanayi İnkılabının sosyal alandaki sonuçlarından biridir?

- A) Üretim alanı genişlemiştir.
B) Üretilen ürün miktarı artmıştır.
C) Çekirdek aile yaygınlaşmıştır.
D) Bilime dayalı teknikler geliştirilmiştir.

90) (2020 İOKBS)

Aşağıdakilerden hangisi Coğrafi Keşiflerin başlamasında etkili olan "bilimsel" sebeplerdendir?

- A) Pusulanın kullanılmaya başlanması
B) Avrupalıların Hristiyanlığı yaymak istemesi
C) Avrupa'da altın ihtiyacının ortaya çıkması
D) İpek ve Baharat yollarının Osmanlı hâkimiyetinde olması

91) (2020 İOKBS)

Sanayi İnkılabı sonucunda şehirlerde çok sayıda fabrika kuruldu. Şehirler hızla artan fabrikaların işçi ihtiyacı nedeniyle göç alarak büyüdü. Daha iyi şartlarda yaşamak isteyen köylüler şehirlere göç etmeye başlayınca köylerde nüfus azalırken şehirlerde nüfus artışı gerçekleşti.

Bu metinde Sanayi İnkılabının aşağıdaki alanlardan hangisine etkisi vurgulanmıştır?

- A) Sosyal B) Dinî
C) Bilimsel D) Siyasi

KAZANIMLARA GÖRE BURSLULUK SINAVI SORULARI

OSMANLI DEVLETİ'NDE YENİLEŞME HAREKETLERİ

92) (2021 İOKBS)

Her konuda akla öncelik tanıyan düşünce sisteminin etkisiyle XVII. ve XVIII. Yüzyıllarda Avrupa'da bilim, sanat, felsefe ve siyaset alanlarında gelişmelerin yaşandığı döneme "Aydınlanma Çağı" denir. Bu dönemde bilimsel araştırmalara önem verilmiştir.

Bu bilgilere göre Aydınlanma Çağı'nda yaşanan gelişmelerin aşağıdakilerden hangisinin temelini oluşturduğu söylenebilir?

- A) Sanayi İnkılabı'nın
- B) Haçlı Seferleri'nin
- C) Reform Hareketleri'nin
- D) Coğrafi Keşifler'in

93) (2021 İOKBS)

Fransız İhtilali'nin aşağıdaki sonuçlarından hangisi dünya siyasi haritasının değişmesinde etkisi olmuştur?

- A) Soylulara tanınmış ayrıcalıklara son verilmesi
- B) Çok uluslu devletlerin yıkılıp yerine yeni devletlerin kurulması
- C) İnsan ve Yurttaş Hakları Bildirgesi'nin yayımlanması
- D) Vatandaşlar arasında eşitlik ilkesinin benimsenmesi

94) (2021 İOKBS)

Aşağıdakilerden hangisi Sanayi İnkılabı'nın ekonomik alandaki sonuçlarındandır?

- A) Köyden kente göçlerin artması
- B) İnsan ilişkilerinin zayıflaması
- C) Çekirdek aile yapısının yaygınlaşması
- D) Seri üretime geçilmesi

95) (2022 İOKBS)

Aşağıdakilerden hangisi başlangıcında etkili Coğrafi Keşiflerin başlamasında etkili olan ekonomik sebeplerdendir?

- A) Avrupalıların yeni ticaret yolları bulmak istemeleri
- B) Avrupalıların Hristiyanlığı yaymak istemeleri
- C) Coğrafya bilgisinin artması ve pusulanın geliştirilmesi
- D) Okyanus şartlarına dayanıklı gemilerin yapılması

96) (2012 İOKBS)

Aşağıdakilerden hangisi, Osmanlı Devleti'nde görülen yönetim kurumları arasında gösterilebilir?

- A) Kurultay
- B) Divan-ı Hümayun
- C) TBMM
- D) Şirket-i Hayriye

97) (2012 İOKBS)

II. Mahmut Dönemi'nde Divan-ı Hümayun'un kaldırılarak bakanlıkların kurulması hangi alanda değişiklik yaşandığını gösterir?

- A) Hukuk
- B) Yönetim
- C) Ekonomi
- D) Din

98) (2012 İOKBS)

- Lale Devrinde matbaanın kurulması
- II. Mahmut Döneminde ilk resmî gazete olan Takvim-i Vekâî'nin yayımlanması

Yapılan bu ıslahatların, Osmanlı'da ortaya çıkaracağı değişim, aşağıdakilerden hangisidir?

- A) Fikir hayatının gelişmesi
- B) Askerî yapının değişmesi
- C) Merkezî otoritenin güçlenmesi
- D) Ekonomik büyümenin gerçekleşmesi

99) (2015 İOKBS)

Aşağıdakilerden hangisi Osmanlı Devleti ile Avrupa'nın kültürel etkileşim içine girdiğine örnek gösterilemez?

- A) Matbaanın kurulması
- B) Divan teşkilatının oluşturulması
- C) Avrupa'da daimî elçiliklerin açılması
- D) Avrupa'dan askerî uzmanların getirilmesi

100) (2016 İOKBS)

Osmanlı ıslahat hareketleri sonucunda;

- Posta Nezareti kuruldu.
- Memleket Sandıkları oluşturuldu.
- Şirket-i Hayriye kurularak İstanbul'da düzenli vapur seferleri başladı.

Bu ıslahatlarla;

- I. Eğitim
- II. Ulaşım
- III. Ekonomi
- IV. Haberleşme

alanlarından hangilerinde ülkenin ilerlemesi amaçlanmıştır?

- A) I ve IV
- B) I, II ve III
- C) II, III ve IV
- D) I, II, III ve IV

KAZANIMLARA GÖRE BURSLULUK SINAVI SORULARI

101) (2017 İOKBS)

18. yüzyılda yapılan

- I. Telgrafın kullanılması
- II. Şirketi Hayriyenin kurulması
- III. İzmir-Aydın arasında ilk demir yolu hattının yapılması

İslahatlarından hangileri haberleşme ile ilgilidir?

- A) Yalnız I.
- B) Yalnız II.
- C) I ve II.
- D) II ve III.

102) (2018 İOKBS)

Geleneksel Osmanlı ordu bandosuna - - - - adı verilir.

Cümle aşağıdakilerden hangisiyle tamamlanmalıdır?

- A) Koro
- B) Orkestra
- C) Senfoni
- D) Mehter

103) (2018 İOKBS)

Aşağıdakilerden hangisi II. Mahmut dönemi ıslahatlarından biri değildir?

- A) İlk nüfus sayımının yapılması
- B) Ziraat Bankası'nın kurulması
- C) İlköğretimin zorunlu olması
- D) İlk resmî gazete olan Takvimivekayfî'nin çıkarılması

104) (2019 İOKBS)

Aşağıdakilerden hangisi Lale Devri'nde eğitim ve kültür alanında yapılan yeniliklerden biridir?

- A) İlk matbaanın kurulması
- B) Çini fabrikasının açılması
- C) İtfaiye teşkilatının kurulması
- D) İlk kez çiçek aşısının uygulanması

105) (2020 İOKBS)

Osmanlı Devleti'nde;

- Takvim-i Vekâyi Gazetesi'nin çıkarılması,
- İlk Türkçe eser basan matbaanın kurulması,

gelişmeleri aşağıdaki alanların hangisi ile ilgilidir?

- A) Ekonomik
- B) Askerî
- C) Kültürel
- D) Mimar

106) (2021 İOKBS)

Aşağıdakilerden hangisi Osmanlı Devleti'nde matbaanın kurulmasıyla birlikte ortaya çıkan sonuçlardan biri değildir?

- A) Bilginin yayılmasının kolaylaşması
- B) Daha çok sayıda insanın kitaplardan yararlanması
- C) Kitap fiyatlarının ucuzlaması
- D) Avrupa başkentlerinde elçilikler açılması

107) (2021 İOKBS)

- I. Takvim-i Vekâyi gazetesi'nin çıkarılması
- II. Osmanlı Bankası'nın kurulması
- III. Viyana, Paris, Varşova, Moskova gibi Avrupa başkentlerinde geçici elçiliklerin açılması

Osmanlı Devleti'ndeki bu gelişmeler ile ilgili olduğu alanlar aşağıdakilerden hangisinde doğru eşleştirilmiştir?

I	II	III
A) Kültürel	Ekonomik	Siyasi
B) Siyasi	Ekonomik	Kültürel
C) Kültürel	Siyasi	Ekonomik
D) Ekonomik	Kültürel	Siyasi

OSMANLI KÜLTÜR VE SANAT ESERLERİ

108) (2013 İOKBS)

19. yüzyılda Osmanlı topraklarından geçen seyyah Sanz, gördüklerini şu şekilde anlatmıştır:

“... Adalet ve hukuk yoluyla toplum düzenini sağlayan Türkler, Hristiyan ve Müslüman farkı gözetmeksizin adaleti herkese eşit olarak tatbik ederler. Belli başlı kadıların masalarında İncil ve Tevrat birlikte bulunur. Hristiyanları İncil, Yahudileri Tevrat üzerine yemin ettirirler...”

(Sanz, Türkiye'nin Dört Yılı, sf: 93)

Seyyah Sanz'ın anlatımından hareketle, Osmanlı toplum yaşamı ile ilgili olarak aşağıdakilerden hangisi söylenemez?

- A) Farklı inanç ve kültürler bir arada yaşamıştır.
- B) Osmanlı toplumu Türklerden oluşmuştur.
- C) Adalet ve hoşgörü anlayışı gelişmiştir.
- D) İnanç hürriyeti sağlanmıştır.

KAZANIMLARA GÖRE BURSLULUK SINAVI SORULARI

109) (2013 İOKBS)

“...İzmir’i, İstanbul’u, Suriye’yi, Lübnan’ı gezin; manastırlara, Hristiyan misafirhanelerine, mabetlere, erkekler ve kadınlar tarafından yönetilen hastane veya din okullarına girin ve içlerinden birinin imparatorluğa karşı saygı duyup duymadığını sorun. Hepsi birden, imparatorlukta uygulanan tarafsızlığı ve Sultan’ın adını takdis edeceklerdir...”

(Lemartine; Aşiretten Devlete; sf:20)

Parçada verilen bilgiden, aşağıdakilerden hangisine ulaşamaz?

- A) Osmanlı halkının Hristiyanlardan oluştuğuna
- B) Ülkede adil bir yönetimin uygulandığına
- C) Farklılıklara saygı gösterildiğine
- D) Padişaha saygı duyulduğuna

110) (2014 İOKBS)

“Yahudilerin toptan öldürüldüğü, Engizisyon Mahkemelerinin ölüm saçtığı bir devirde Osmanlılar, idareleri altındaki çeşitli dinlere bağlı kimseleri barış ve uyum içinde yaşıyorlardı.”

Gibbons Osmanlı Devleti’nin Kuruluşu, s.22

Gibbons’un sözlerinden hareketle, Osmanlı toplumu hakkında, aşağıdakilerden hangisi söylenemez?

- A) Hoşgörü kültürü gelişmiştir.
- B) İnanç birliği kurulmuştur.
- C) Din hürriyeti hayat bulmuştur.
- D) Birlikte yaşama fikri oluşmuştur.

111) (2014 İOKBS)

Bıraktıkları hayratlar hangi çeşit olursa olsun bizdekinden fazladır. Bu yüzden yaşarken bile bizden daha cömerttirler. Dört padişah tarafından yapılan dört büyük caminin etrafı hayrat ile doludur. Kasabalar ve تنها yol kıyılarına yolcular için kervansaraylar yaptırır, yollar açtırır. Su olmayan yerlere çeşmeler ve tuvaletler yaptırır. Halkın ücretsiz faydalandığı bu yapılar öyle muhteşemdir ki saraya benzer.

M. Serrano Y. Sanz
Türkiye’nin Dört Yılı, 1552-1556; s,89

Seyyah Sanz’ın, Osmanlı ile ilgili bu anlatımından Türk kültürüne ait aşağıdaki unsurlardan hangisi çıkarılabilir?

- A) İyilikseverlik
- B) Adaletlilik
- C) Mütevazılık
- D) Eşitlik

112) (2015 İOKBS)

Osmanlı Devleti’nden kalan bazı yapıların günümüzde de kullanılıyor olmasını aşağıdakilerden hangisiyle açıklayabiliriz?

- A) Yenileşme çabalarına önem verilmesiyle
- B) Yerli malı kullanımının teşvik edilmesiyle
- C) Türk mimari eserlerinin sağlam ve kullanışlı olmalarıyla
- D) Osmanlı mimarisinde kullanılan süslemelerin canlılığıyla

113) (2020 İOKBS)

Konuşan sözünü pek kısa tutar, dinleyen de söz bitene kadar güzel bir dikkat hâlinindedir. Yaşlı ve büyüklerle karşı hürmet ile onların haklarına riayet, hayal edilemeyecek bir nezaket içindedir.

Bu metinde Osmanlı kültürünün özelliklerinden hangisi vurgulanmıştır?

- A) Dayanışma
- B) Saygı
- C) Temizlik
- D) Çalışkanlık

114) (2022 İOKBS)

Ünlü seyyah İbn-i Batuta, arkadaşlarıyla birlikte Denizli’den geçerken dükkânlarından çıkan bir ahi grubu, yollarını keserek kendileriyle beraber gelmelerini ister. Başka bir ahi grubunun da aynı yönde istekte bulunması üzerine gruplar arasında tartışma çıkar. İbn-i Batuta ve arkadaşları, ahilerin kendilerini misafir etmek için tartıştıklarını anlayınca çok şaşırırlar.

Bu bilgide, ahilerin hangi özelliği vurgulanmıştır?

- A) Çalışkanlık
- B) Tokgözlülük
- C) Dürüstlük
- D) Konukseverlik

KAZANIMLARA GÖRE BURSLULUK SINAVI SORULARI

3.ÜNİTE: İNSANLAR, YERLER VE ÇEVRELER

ÜLKEMİZDE NÜFUS

115) (2013 İOKBS)

Aşağıdaki ülkelerden hangisinin ekonomik gelişiminde, sahip olduğu petrol yataklarının varlığı etkili olmuştur?

- A) Almanya B) Japonya
C) Yunanistan D) Suudi Arabistan

116) (2014 İOKBS)

Aşağıdakilerden hangisi bir bölgenin nüfus bakımından yoğunlaşmasını olumsuz etkiler?

- A) Gür ormanlar B) Sanayi tesisleri
C) Su kaynakları D) Verimli topraklar

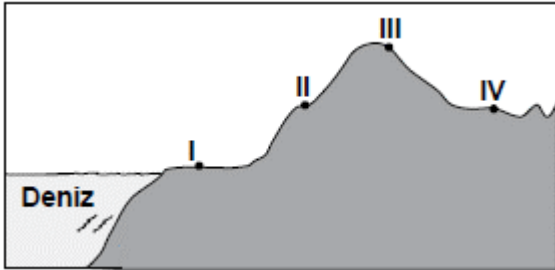
117) (2015 İOKBS)

- I. Şehirli nüfus oranı
II. Nüfusun eğitim durumu
III. Nüfusun cinsiyet özellikleri

Yukardakilerden hangileri bir ülkenin gelişmişliği hakkında bilgi verir?

- A) Yalnız I. B) I. ve II.
C) Yalnız II. D) II. ve III.

118) (2016 İOKBS)



Nüfus dağılışı üzerinde etkili olan faktörler dikkate alındığında yukarıda kesiti verilen arazide numaralandırılan yerlerin hangisinde nüfus yoğunluğunun daha fazla olması beklenir?

- A) I B) II C) III D) IV

119) (2017 İOKBS)

İnsan yaşamına ve faaliyetlerine fazla elverişli olmayan alanlar seyrek nüfuslu yerlerdir.

Buna göre aşağıdaki yerlerin hangisinde nüfusun seyrek olması beklenir?

- A) Enerji kaynakları bol olan
B) Ilıman iklim şartlarına sahip olan
C) Yıl içinde birden fazla ürün alınan
D) Arazisi yüksek ve engebeli olan

120) (2019 İOKBS)

Çatalhöyük'te bulunan kumaş parçaları en eski kumaş örneklerindendir. Burada yaşayanlar, o dönemde Hasan Dağı'ndan elde edilen obsidyen ile tuzu hem kendi ihtiyaçları için kullanmışlar hem de çevrelerindeki yerleşim birimlerinde yaşayan insanlara satmışlardır. İklima uygun tahıl ve bakliyat yetiştirmişlerdir.

Buna göre Çatalhöyük'te aşağıdaki faaliyetlerden hangisinin geliştiği söylenemez?

- A) Sanayi B) Dokumacılık
C) Ticaret D) Tarım

121) (2019 İOKBS)

Geçmişten günümüze insanların yerleşim yeri tercihinde doğal ve beşerî faktörler etkili olmuştur. Doğal faktörler, yeryüzü şekilleri, iklim, su kaynakları, yer altı kaynakları, bitki örtüsü gibi insan eli değmeden var olmuş unsurlardır. Beşerî faktörler ise ekonomik faaliyetler, ticaret, sanayi, madencilik, hayvancılık ve tarım gibi insan müdahalesi sonucu oluşan unsurlardır.

Buna göre aşağıdakilerden hangisi yerleşim yeri tercihini etkileyen doğal faktörlere örnek olarak gösterilebilir?

- A) Hakkâri'de sanayi faaliyetleri gelişmediği için seyrek nüfuslu olması
B) Ardahan'ın yükseltisi fazla ve engebeli olduğundan nüfusunun az olması
C) Antalya'da birçok turistik tesis bulunduğu için nüfusunun kalabalık olması
D) Diyarbakır, kara ve demir yollarının kesişim noktasında olduğundan nüfusunun fazla olması

122) (2020 İOKBS)

Birleşmiş Milletler Bilim, Eğitim ve Kültür Teşkilatı (UNESCO) tarafından Dünya Miras Listesi'ne alınan, günümüzde Şanlıurfa sınırları içerisinde bulunan kazı alanı aşağıdakilerden hangisidir?

- A) Çayönü B) Göbeklitepe
C) Hacılar D) Çatalhöyük

123) (2020 İOKBS)

Yerleşik yaşama geçmeye başlayan insanoğlu öncelikle aşağıdaki özelliklerin hangisine sahip alanlara yerleşmeyi tercih etmiştir?

- A) Maden çeşitliliğine
B) Engebeli arazilere
C) Zengin ormanlara
D) Su kaynaklarına

KAZANIMLARA GÖRE BURSLULUK SINAVI SORULARI

124) (2020 İOKBS)

Aşağıdakilerden hangisi insanların yerleşim yeri tercihinde etkili olan doğal faktörlerdendir?

- A) Ticaret
- B) Madencilik
- C) İklim
- D) Turizm

125) (2021 İOKBS)

Yolların kavşak noktalarında bulunan yerlerin yerleşim için tercih edilmesinde etkili olan beşeri faktör aşağıdakilerden hangisidir?

- A) Sanayi
- B) Turizm
- C) Ulaşım
- D) Madencilik

126) (2022 İOKBS)

Tarih boyunca Mısır'da yerleşim, dünyanın en uzun nehirlerinden biri olan Nil Nehri boyunca yoğunlaşmıştır. Bu nehir sayesinde yağmura ihtiyaç duyulmadan tarım yapılabilmiş ve Mısır'da tarihteki ilk uygarlıklardan biri kurulmuştur.

Bu bilgide, yerleşmeyi etkileyen faktörlerden hangisi vurgulanmıştır?

- A) Bitki örtüsü
- B) Su kaynakları
- C) Yer şekilleri
- D) Madencilik

TABLO VE GRAFİKLERLE NÜFUSUMUZ

127) (2012 İOKBS)

Aşağıda verilen, il ve o ilin nüfusunun artmasında etkili olan en önemli ekonomik faaliyet eşleştirmelerinden hangisi yanlıştır?

İl Ekonomik faaliyet

- A) Adana → Balıkçılık
- B) Ankara → Hizmet
- C) Antalya → Turizm
- D) Zonguldak → Madencilik

128) (2012 İOKBS)

Kasabamız artık eskisi gibi değil, bahçeli tek katlı evlerimizin yakınlarına fabrika ve apartmanlar yapılıyor. Kasaba dışındaki tarım arazilerine sanayi tesisleri kuruluyor. Memleketimizin değişik bölgelerinden insanlar kasabamıza âdeta akın etti. Sokakta artık tanıdıklara daha az rastlıyorum. Son dönemlerde arazi fiyatları da oldukça arttı.

Kasaba nüfusunun artmasının sebebi aşağıdakilerden hangisidir?

- A) Arazi fiyatlarının artması
- B) Tarım alanlarının daralması
- C) Büyük apartmanların yapılması
- D) Sanayi tesislerinin yaygınlaşması

129) (2012 İOKBS)

Kasabamız artık eskisi gibi değil, bahçeli tek katlı evlerimizin yakınlarına fabrika ve apartmanlar yapılıyor. Kasaba dışındaki tarım arazilerine sanayi tesisleri kuruluyor. Memleketimizin değişik bölgelerinden insanlar kasabamıza âdeta akın etti. Sokakta artık tanıdıklara daha az rastlıyorum. Son dönemlerde arazi fiyatları da oldukça arttı.

Kasabada, aşağıdakilerden hangisinin gerçekleşmesi beklenemez?

- A) Yerleşim alanlarının genişlemesi
- B) Ekonomik ve ticari hayatın gerilemesi
- C) Kültürel yapının zenginleşmesi
- D) Nüfus yoğunluğunun artması

130) (2012 İOKBS)

Türkiye Nüfusunun Yaş Gruplarına Göre Dağılımı (2010)

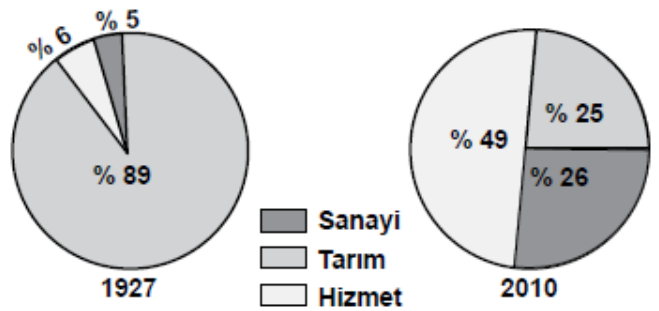
Yaş grubu	Toplam nüfus içindeki oranı (%)
0 - 14	24,6
15 - 64	67,2
65 ve üzeri	8,2

Tablodaki verilere bakarak aşağıdakilerden hangisi söylenbilir?

- A) Genç nüfus oranı düşmektedir.
- B) Yaşlı nüfusu artmaktadır.
- C) Erkek sayısı kadın sayısından fazladır.
- D) Nüfusun yaklaşık 4/1 'i 15 yaşın altındadır

131) (2013 İOKBS)

Aşağıdaki grafiklerde Türkiye'de çalışan nüfusun iş kollarına dağılımı gösterilmiştir.



Bu grafiklere bakarak aşağıdakilerden hangisi söylenbilir?

- A) Hizmet, en az gelişen sektördür.
- B) Tarımın ekonomideki önemi artmıştır.
- C) Sanayi sektöründe istihdam oranı artmıştır.
- D) Turizm, hizmet sektörünün gelişmesini sağlamıştır.

132) (2013 İOKBS)

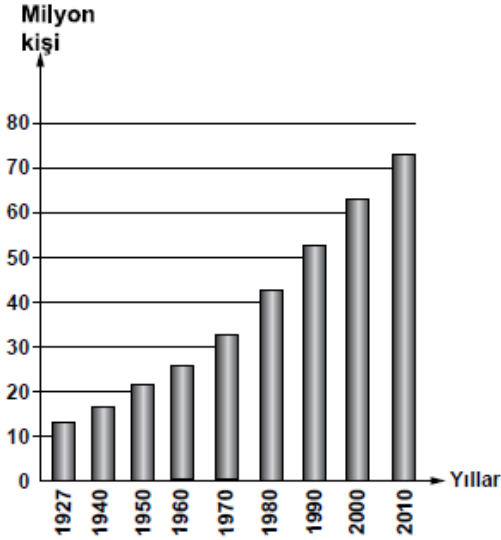
KAZANIMLARA GÖRE BURSLULUK SINAVI SORULARI

Türkiye Nüfus Haritası'nı inceleyen bir öğrenci, nüfusun öncelikle Marmara Denizi çevresinde yer alan illerde (İstanbul-Bursa-Kocaeli) yoğunlaştığını görür.

Bu durumda bölgenin hangi özelliğinin etkisi olduğu söylenemez?

- A) Olumlu iklim özelliklerinin
- B) Coğrafi konum özelliklerinin
- C) Gelişmiş bir sanayiye sahip olmalarının
- D) Fay hatlarının yakınında yer almalarının

133) (2014 İOKBS)

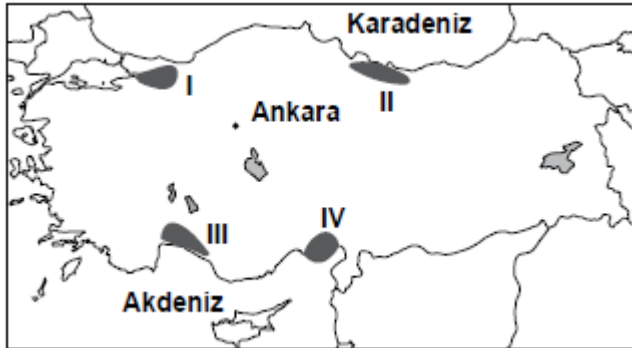


Yukarıdaki grafikte bazı sayım yıllarına göre Türkiye nüfusu gösterilmiştir.

Grafiğe bakarak aşağıdakilerden hangisi söylenebilir?

- A) Her yıl nüfus artış miktarı aynıdır.
- B) Nüfus sürekli olarak artış göstermiştir.
- C) 2010'da nüfusumuz 80 milyondan fazladır.
- D) 1940-1950 arası nüfusumuz 15 milyon artmıştır.

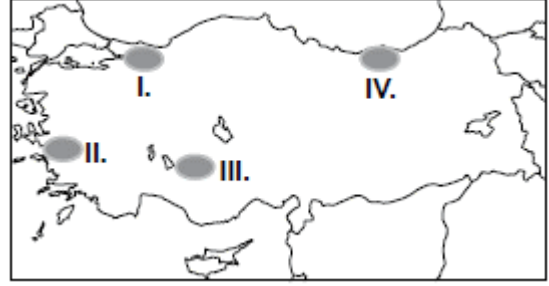
134) (2014 İOKBS)



Haritada numaralandırılarak verilen alanların hangisinde nüfusun artmasında turizm sektörünün etkisi daha fazla olmuştur?

- A) I
- B) II
- C) III
- D) IV

135) (2015 İOKBS)



Haritada numaralandırılmış alanlardan hangisinde temel geçim kaynağı tahıl tarımı olan köylerin sayısı daha fazladır?

- A) I.
- B) II.
- C) III.
- D) IV.

136) (2015 İOKBS)

Ülkemizde aritmetik nüfus yoğunluğunun en fazla olduğu il İstanbul'dur.

İstanbul'da nüfusunun yoğun olmasında aşağıdaki ekonomik faaliyetlerden hangisi daha az etkili olmuştur?

- A) Sanayi
- B) Tarım
- C) Ticaret
- D) Ulaşım

137) (2015 İOKBS)

Ankara, İstanbul ve İzmir gibi büyükşehirlerde nüfusunun hızla artmasında aşağıdakilerden hangisi etkili olmuştur?

- A) Ölüm oranlarının azalması
- B) Doğurganlık oranının fazla olması
- C) Yoğun bir şekilde göç alması
- D) Yeni yerleşim alanlarının açılması

138) (2015 İOKBS)

Aşağıdakilerden hangisi kırsal nüfus oranının azalmasında etkili değildir?

- A) Tarımda makineleşme
- B) Şehirlerde sanayi faaliyetlerinin gelişmesi
- C) Tarımsal sulama projelerinin tamamlanması
- D) Tarım arazilerinin miras yoluyla parçalanması

139) (2016 İOKBS)

KAZANIMLARA GÖRE BURSLULUK SINAVI SORULARI



Haritada noktalanarak gösterilen alan Türkiye ortalamasının üzerinde nüfus yoğunluğuna sahiptir.

Aşağıdakilerden hangisi haritada gösterilen alandaki yerleşim merkezlerinden biridir?

- A) İzmit B) Çanakkale
C) Edirne D) Zonguldak

140) (2016 İOKBS)

- I. Okuryazar nüfus oranı
II. Tarımda çalışan nüfus oranı
III. Şehirde yaşayan nüfus oranı

Ülkemiz nüfusunda 1950 yılından günümüze kadar olan sürede yukarıdakilerin hangilerinde artış olmuştur?

- A) Yalnız I B) Yalnız II
C) I ve III D) II ve III

141) (2017 İOKBS)

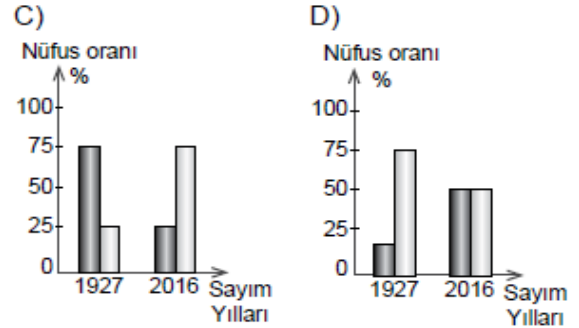
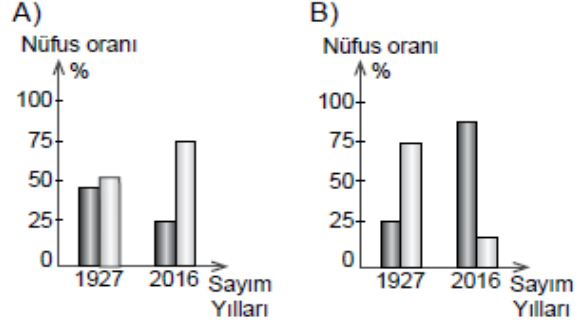
Ülkemizde kent nüfusunun en az olduğu bölge aşağıdakilerden hangisidir?

- A) Akdeniz B) Ege
C) Marmara D) Doğu Anadolu

142) (2017 İOKBS)

1927 yılında kentsel nüfus oranı %25 civarında iken günümüzde bu değer %80'nin üzerine çıkmıştır.

Bu bilgiye ait olan grafik aşağıdakilerden hangisidir? (■ Kentsel Nüfus, □ Kırsal Nüfus)



143) (2017 İOKBS)



Haritada numaralanmış taralı alanlar ülkemizde sanayi, ticaret, turizm ve ulaştırma hizmetlerinin yoğun ve gelişmiş olduğu yerlerin başında gelmektedir.

Taralı alanlarla ilgili aşağıdakilerden hangisi söylenemez?

- A) İş imkânları fazladır.
B) Nüfus yoğunlukları fazladır.
C) Sağlık-eğitim hizmetleri gelişmiştir.
D) Kömür yatakları bakımından zengindir.

144) (2017 İOKBS)

KAZANIMLARA GÖRE BURSLULUK SINAVI SORULARI



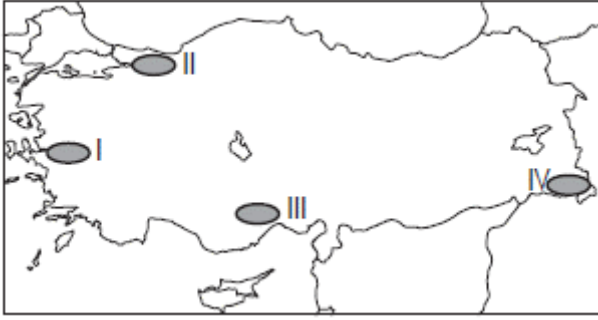
Haritada numaralanmış taralı alanlar ülkemizde sanayi, ticaret, turizm ve ulaştırma hizmetlerinin yoğun ve gelişmiş olduğu yerlerin başında gelmektedir.

Taralı alanların hangisinde kentsel nüfus miktarı en fazladır?

- A) I. B) II. C) III. D) IV.

145) (2018 İOKBS)

Ülkemizin yüksek ve engebeli alanlarında ulaşımın zor, ekonomik faaliyetlerin kısıtlı oluşu nüfus yoğunluğunun düşük olmasına neden olmuştur.



Buna göre harita üzerinde numaralandırılan yerlerin hangisi bu duruma örnektir?

- A) I. B) II. C) III. D) IV.

146) (2019 İOKBS)

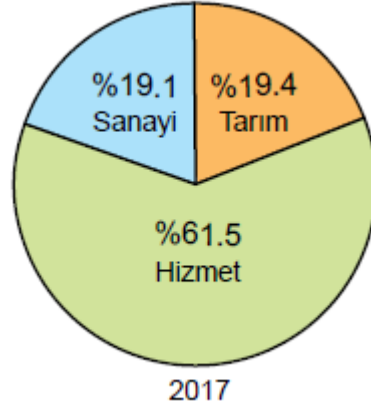
Türkiye’de doğal ve beşerî şartların bölgeden bölgeye farklı özellikler sunması, yerleşmeye uygun olan veya olmayan alanların ortaya çıkmasına neden olmuştur.

Aşağıdakilerden hangisi ülkemizin bu özelliğinin sonucu olarak ortaya çıkan bir durumdur?

- A) Nüfus dağılışınn düzensiz olması
B) Yer altı kaynaklarının belli alanlarda toplanması
C) Karasal iklimin yaygın olarak görülmesi
D) Doğal bitki örtüsünün farklılıklar göstermesi

147) (2020 İOKBS)

Aşağıda Türkiye’ye ait bir grafik verilmiştir.



Bu grafiğın başlığı aşağıdakilerden hangisi olabilir?

- A) Türkiye nüfusunun yaş ortalaması
B) Türkiye’nin eğitim durumu
C) Türkiye’nin kır-kent nüfus oranları
D) Türkiye nüfusunun ekonomik faaliyetlere göre dağılışı

148) (2020 İOKBS)

Aşağıdakilerden hangisi nüfus artışının hızlı olduğu yerlerde yaşanan sorunlardan biri değildir?

- A) Okul ihtiyacının artması
B) Plansız yapılaşma
C) Çevre kirliliği
D) Konut ihtiyacının azalması

149) (2020 İOKBS)

Ülkemizde nüfus, sanayi tesislerinin çevresinde daha çok yoğunlaşmıştır.

Bu durumun nedeni aşağıdakilerden hangisidir?

- A) Sanayi tesislerinin yoğun enerji tüketmesi
B) Sanayi tesislerinin genelde kıyı şehirlerinde yer alması
C) Fabrikaların fazla sayıda insana iş imkânı sağlaması
D) Fabrikaların ulaşım uygun alanlara kurulması

150) (2021 İOKBS)

Nüfus piramitlerine bakılarak nüfusun hangi özelliği hakkında bilgi sahibi olunamaz?

- A) Cinsiyet durumu
B) Kültürel yapı
C) Çalışan nüfus
D) Ortalama ömür

KAZANIMLARA GÖRE BURSLULUK SINAVI SORULARI

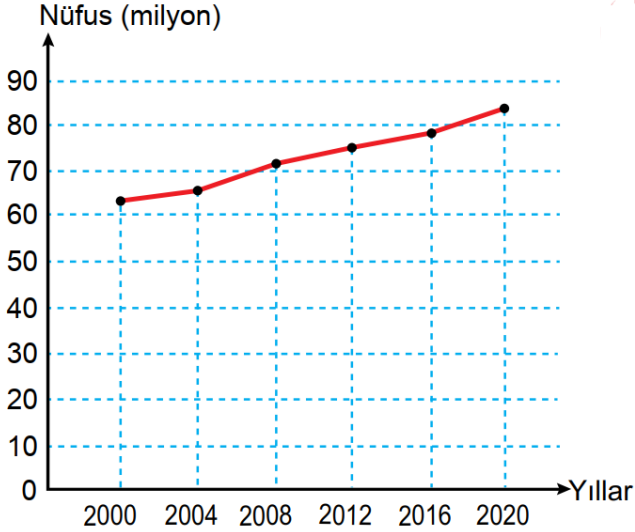
151) (2022 İOKBS)

Türkiye nüfusunun her yıl artması aşağıdakilerden hangisini doğrudan etkiler?

- A) Nüfus yoğunluğunu
- B) Eğitim seviyesini
- C) Kentsel nüfus oranını
- D) Sanayide çalışan sayısını

152) (2022 İOKBS)

Türkiye'nin yıllara göre toplam nüfus miktarı grafikte gösterilmiştir.



Bu grafiğe göre, aşağıdakilerden hangisine ulaşamaz?

- A) Nüfus miktarı yıllara göre artış göstermiştir.
- B) En düşük nüfus miktarı 2000 yılına aittir.
- C) Nüfus artış hızının en fazla olduğu yıl 2008'dir.
- D) Nüfus miktarı 2020 yılında 80 milyonun üzerindedir.

GÖÇLER

Sıradaki iki soruyu aşağıdaki metne göre yapınız.

ALİ: "Ailemle Orta Anadolu'nun güneyinde kurak bir köyde yaşadık. Özellikle yazın kuraklığa bağlı olarak büyük su sıkıntısı çekilirdi. Tarımda sulama yapamadığımız için verim ve gelirimiz düşük olurdu. Zaten altı kardeşlik bu toprak hangi birimizi geçindirecek!... Mecburen en büyük ağabeyim hariç tüm kardeşler Ankara'ya göç ettik, iş gücü sahibi olduk."

153) (2013 İOKBS)

Ali Bey ve kardeşlerinin göç türü aşağıdakilerden hangisidir?

- A) İç göç
- B) Mübadele göçü
- C) Dış göç
- D) Beyin göçü

154) (2022 İOKBS)

Ailenin Ankara'ya göçünün öncelikli sebebi aşağıdakilerden hangisidir?

- A) Sağlık sorunları
- B) Ekonomik sorunlar
- C) Eğitim yetersizliği
- D) Tarımda makineleşme

155) (2014 İOKBS)

- I- Yerleşim alanlarının genişlemesi
- II- Okul, hastane ihtiyacının artması
- III- Konut üretiminin azalması

Yoğun şekilde göç alan bir şehirde yukarıda verilen gelişmelerden hangileri yaşanır?

- A) Yalnız I
- B) Yalnız II
- C) I ve II
- D) II ve III

156) (2016 İOKBS)

Bir ülkedeki yetişmiş bilim insanlarının başka ülkelere göç etmeleri aşağıdakilerden hangisine örnek oluşturur?

- A) Mevsimlik göçe
- B) Zorunlu göçe
- C) İşçi göçüne
- D) Beyin göçüne

157) (2016 İOKBS)

Aşağıdakilerden hangisi köyden kente göçün nedenlerinden değildir?

- A) Tarımda makineleşmenin artması
- B) Toprakların miras yoluyla bölünmesi
- C) Tarıma elverişli toprakların bolluğu
- D) Şehirlerdeki ekonomik ve sosyal imkânların fazlalığı

158) (2018 İOKBS)

Yükseköğrenim görmüş, nitelikli, alanında uzman kişiler daha iyi şartlarda çalışmak ve yaşamak için gelişmiş ülkelere göç etmektedirler.

Yukarıda hangi göç türü anlatılmıştır?

- A) İç göç
- B) Beyin göçü
- C) İşçi göçü
- D) Mübadele göçü

159) (2018 İOKBS)

Aşağıdakilerden hangisi göç alan şehirlerde hızlı nüfus artışına bağlı olarak yaşanan sorunlardan biri değildir?

- A) Konut ihtiyacının artması
- B) Toplu taşıma sistemlerinin gelişmesi
- C) Tarım alanlarının yerleşime açılması
- D) Sanayi tesislerinin şehrin merkezinde kalması

KAZANIMLARA GÖRE BURSLULUK SINAVI SORULARI

160) (2019 İOKBS)

Mete ailesi ile birlikte Mersin’de yaşamaktadır. Mete İstanbul’daki bir üniversitede okumaya hak kazanınca ailesi ile birlikte İstanbul’a taşınmışlardır.

Buna göre Mete’nin yaşadığı göç türü aşağıdakilerden hangisidir?

- A) İç göç
- B) Dış göç
- C) Mülteci göçü
- D) Mevsimlik göç

161) (2020 İOKBS)

Mehmet: “Antalya’daki köyümüzde orman ürünlerini değerlendirerek geçimimizi sağlıyorduk. Ormanımızın büyük bir yangınla yok olmasıyla göç etmek zorunda kaldık. Ailemle birlikte başka bir şehrin yolunu tuttuk.”

Bu metne göre Mehmet ve ailesinin göç etmelerinin sebebi aşağıdakilerden hangisidir?

- A) Sağlık sorunlarının ortaya çıkması
- B) Afet kaynaklı işsizlik
- C) Daha iyi bir eğitim alma amacı
- D) Başka bir ülkede yaşama isteği

162) (2020 İOKBS)

Ahmet ve ailesi yaşadıkları şehirden, yılın belli zamanlarında Adana’ya pamuk hasadında çalışmak için gitmektedirler.

Bu örnek aşağıdaki göç türlerinden hangisi ile ilgilidir?

- A) Mevsimlik göç
- B) Beyin göçü
- C) Mülteci göçü
- D) Sürekli göç

163) (2021 İOKBS)

Aşağıdakilerden hangisi göçün ekonomiye bağlı sebeplerinden biridir?

- A) Köylerde tarım alanlarının miras yoluyla bölünmesi
- B) Yaşanılan yerde yeterli sağlık hizmetinin olmaması
- C) Ülkeler arası anlaşmalar gereği nüfus değişiminin yapılması
- D) Bulundukları yerde can güvenliği kalmayan insanların başka ülkelere sığınması

164) (2020 İOKBS)

Mühendis olan Çağlar, bilgisayar alanında araştırmalar yapmak amacıyla ailesiyle beraber İstanbul’a yerleşmiştir.

Verilen örnekte Çağlar’ın İstanbul’a göç etme sebebi aşağıdakilerden hangisi ile ilişkilendirilebilir?

- A) Sağlık
- B) Eğitim
- C) Doğal afet
- D) Savaş

165) (2022 İOKBS)

“Merhaba. Ben Yusuf. Babam, Zonguldak’ta kömür madeninde çalışmaya başladı. Biz de bu yüzden ailecek yaşadığımız köyden taşınarak Zonguldak’a yerleştik.”

Buna göre, Yusuf ve ailesinin göç etmelerinin sebebi aşağıdakilerden hangisidir?

- A) İş imkânları
- B) Doğal afetler
- C) Sağlık olanakları
- D) Eğitim ihtiyacı

166) (2022 İOKBS)

Aşağıdakilerden hangisi beyin göçüne örnektir?

- A) Sıla’nın ailesinin yaşadıkları şehirden fındık toplamak için Giresun’a gitmesi
- B) Mühendis Tolga’nın otomotiv sanayisinde çalışmak için Bursa’ya göç etmesi
- C) Terzi Burcu’nun İtalya’ya tekstil fabrikasında işçi olarak çalışmaya gitmesi
- D) Fizik alanında çalışan Mehmet’in bilimsel araştırmalar yapmak için Amerika’ya yerleşmesi

KAZANIMLARA GÖRE BURSLULUK SINAVI SORULARI

1. D
2. B
3. B
4. A
5. C
6. A
7. B
8. C
9. C
10. D
11. B
12. C
13. A
14. C
15. C
16. A
17. A
18. D
19. D
20. D
21. A
22. D
23. A
24. C
25. C
26. C
27. B
28. D
29. B
30. C
31. C
32. A
33. C
34. A
35. B
36. B
37. C
38. B
39. A
40. D
41. C
42. D
43. A
44. B
45. B
46. B
47. D
48. A
49. C
50. B
51. B
52. C
53. D
54. B
55. A
56. D
57. A
58. B
59. B
60. D
61. B
62. D
63. B
64. C
65. D
66. D
67. A
68. D
69. D
70. C

71. D
72. C
73. C
74. B
75. B
76. A
77. A
78. D
79. B
80. C
81. C
82. D
83. B
84. A
85. B
86. D
87. A
88. D
89. C
90. A
91. A
92. A
93. B
94. D
95. A
96. B
97. B
98. A
99. B
100. C
101. A
102. D
103. B
104. A
105. C
106. D
107. A
108. B
109. A
110. B
111. A
112. C
113. B
114. D
115. D
116. A
117. B
118. A
119. D
120. A
121. B
122. B
123. D
124. C
125. C
126. B
127. A
128. D
129. B
130. D
131. C
132. D
133. B
134. C
135. C
136. B
137. C
138. C
139. A

140. C
141. D
142. B
143. D
144. A
145. D
146. A
147. D
148. D
149. C
150. C
151. A
152. C
153. A
154. B
155. C
156. D
157. C
158. B
159. B
160. A
161. B
162. A
163. A
164. B
165. A
166. D