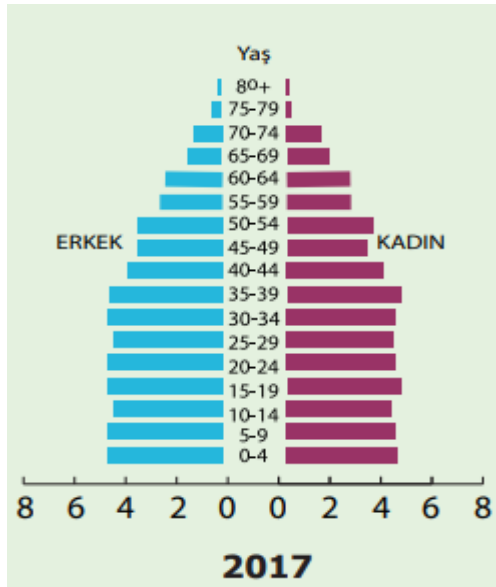


5.



Türkiye'ye ait yukarıdaki nüfus piramidine göre devlet;

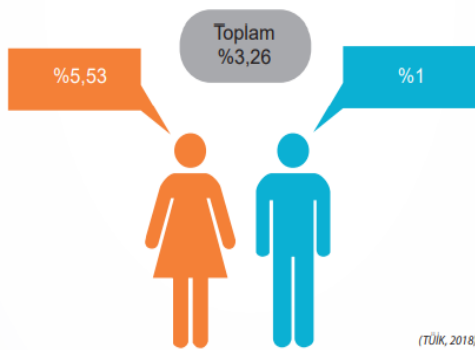
- I. eğitim,
- II. sağlık,
- III. ekonomik,

alanların hangilerinde yapacağı yatırımları planlayabilir?

- A) I-II B) I-III
C) II-III D) I-II-III

6.

Türkiye'de 2017 Yılında, 6 Yaş ve Üzeri Okuma Yazma Bilmeyenlerin Oranı



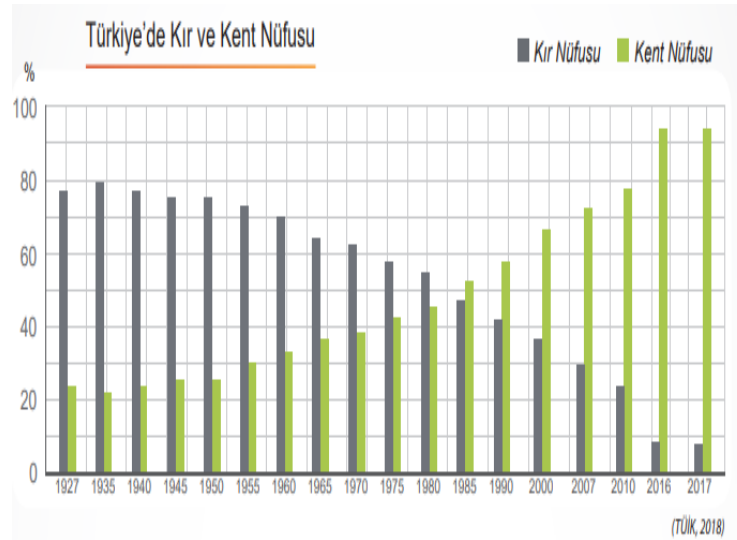
Görseldeki bilgilere göre;

- I. Nüfusumuzun %95'inden fazlası okuryazardır,
- II. Okuma yazma oranı kadınlarda daha düşüktür,
- III. Kadınlarda okuma yazma oranının düşmesinde kız çocukların okula gönderilmemesi etkilidir,

hangilerine ulaşılabilir?

- A) I-II B) I-III
C) II-III D) I-II-III

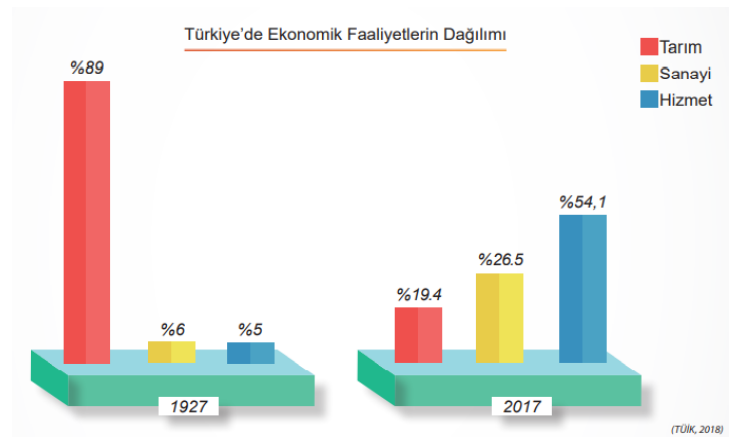
7.



Grafiğe göre hangisine ulaşamaz?

- A) Kırsal nüfus oranı 1935'ten günümüze sürekli düşmüştür.
- B) 1985 yılında kentsel nüfus oranı kırsal nüfus oranını geçmiştir.
- C) 2017 yılındaki kırsal alanda yaşayan insan sayısı 1927 yılında kırsal alanda yaşayan insan sayısından azdır.
- D) Günümüzde nüfusumuzun %80'inden fazlası kentlerde yaşamaktadır.

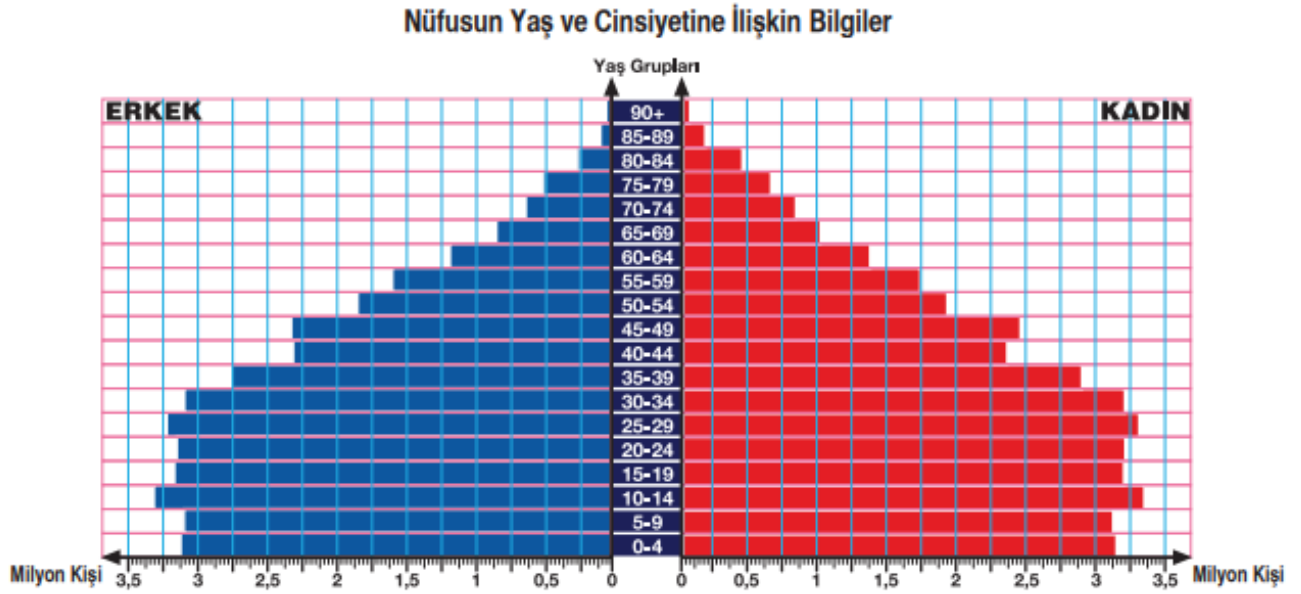
8.



Grafiklere göre hangisine ulaşamaz?

- A) 1927 yılı grafiğine göre çalışan nüfusun büyük bölümü tarımda istihdam edilmektedir.
- B) 2017 yılı grafiğine göre Türkiye gelişmekte olan bir ülkedir,
- C) Günümüzde tarım sektöründe çalışan kişi sayısı azalmış durumdadır.
- D) Günümüzde sanayi ve hizmet sektöründe çalışanların oranı daha fazladır.

9.

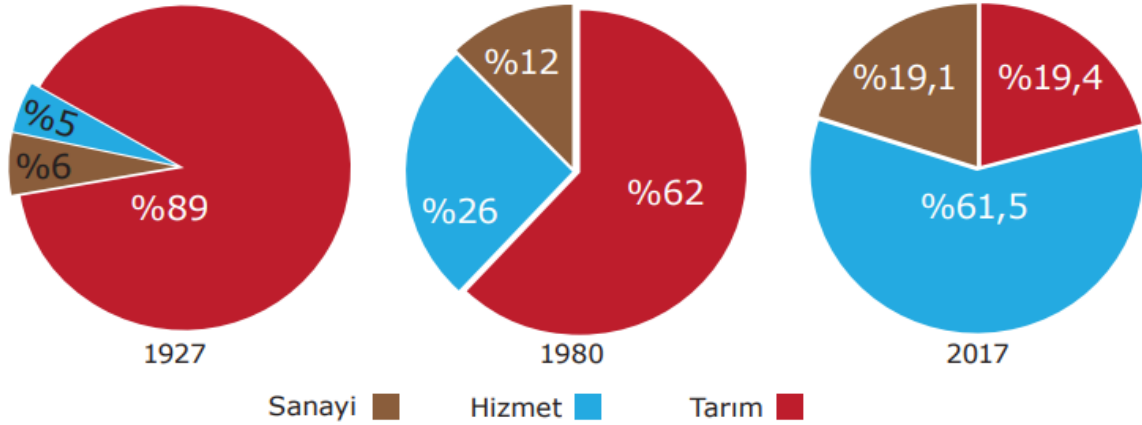


Yukarıdaki nüfus piramidine göre hangisine ulaşamaz?

- A) Türkiye nüfusu genç ve dinamik bir yapıdadır.
- B) Yaşlı nüfus oranı çocuk nüfus oranından fazladır.
- C) Kadın ve erkeklerde en fazla nüfus 10-14 yaş aralığındadır.
- D) Kadın ve erkek nüfusu birbirine yakındır.

10.

Yıllara Göre Türkiye’de Çalışan Nüfusun İş Kollarına Dağılımı



(TÜİK Nüfus ve Demografi İstatistiklerinden Düzenlenmiştir.)

Grafiklerdeki bilgilere göre aşağıdaki ifadeler “DOĞRU (D) ve YANLIŞ (Y)” olarak kodlanmak istenmektedir.

- () 1927 yılında tarım sektöründe çalışanların oranı %90’a yaklaşmıştır.
- () 1980 yılına gelindiğinde sektörlerde eşit bir dağılım gözlenir.
- () 2017’de hizmet sektöründe çalışanların oranı diğer sektörlerin oranından fazladır.
- () Grafiklere göre ülkemiz gelişmekte olan bir ülkedir.

Yukarıdaki ifadeler hangi seçenekte uygun biçimde kodlanmıştır?

- A) DDYD
- B) DYDD
- C) DYDY
- D) DYYD

CEVAPLAR

- | | | | | |
|----|----------------------------------|----------------------------------|----------------------------------|----------------------------------|
| 1 | A | B | <input checked="" type="radio"/> | D |
| 2 | A | B | C | <input checked="" type="radio"/> |
| 3 | <input checked="" type="radio"/> | B | C | D |
| 4 | A | B | C | <input checked="" type="radio"/> |
| 5 | A | B | C | <input checked="" type="radio"/> |
| 6 | <input checked="" type="radio"/> | B | C | D |
| 7 | A | B | <input checked="" type="radio"/> | D |
| 8 | A | B | <input checked="" type="radio"/> | D |
| 9 | A | <input checked="" type="radio"/> | C | D |
| 10 | A | <input checked="" type="radio"/> | C | D |

ÖNEMLİ HATIRLARMA:

UZAKTAN EĞİTİM FAALİYETLERİ
KAPSAMINDA EBA VEYA
WHATSAPP PLATFORMLARINDA
PAYLAŞIMA AÇIKTIR.

TİCARİ AMAÇLI
KULLANILAMAZ.

Not: Soruların hazırlanmasında Milli Eğitim Bakanlığı'na bağlı devlet okullarında okutulan Sosyal Bilgiler ders kitaplarındaki içerik ve görsellerden faydalanılmıştır.