

6.
SINIF



T.C.
MİLLÎ EĞİTİM BAKANLIĞI

B
KİTAPÇIK TÜRÜ

PARASIZ YATILILIK VE BURSLULUK SINAVI
9 HAZİRAN 2013 **Saat: 10.00**

Adı ve Soyadı:

DERS ADI	SORU SAYISI	TOPLAM SORU SAYISI	SINAV SÜRESİ (DAKİKA)
TÜRKÇE	25	100	120
MATEMATİK	25		
FEN ve TEKNOLOJİ	25		
SOSYAL BİLGİLER	25		

ADAYLARIN DİKKATİNE!

1. Sınav başladıktan sonra ilk **30** dakika dolmadan dışarı çıkmayınız.
2. Sınav sırasında sözlük, hesap makinesi, saat fonksiyonu dışında özellikleri bulunan saat veya çağrı cihazı, cep telefonu, telsiz, radyo ve bilgisayar özelliği bulunan elektronik cihazları yanınızda bulundurmuyunuz. Bu araçları kullanmanız veya kopya çekmeye teşebbüs etmeniz hâlinde sınavınız geçersiz sayılacaktır.
3. Soruları ve sorulara verdiğiniz cevapları, yanınızda götürmek amacıyla kaydetmeyiniz; hiçbir şekilde dışarı çıkarmayınız.
4. Sınavın değerlendirilmesi aşamasında, bilgisayar ortamında yapılan kopya analizinde, herhangi bir testten ikili veya toplu kopya tespiti hâlinde ilgili testiniz geçersiz sayılacaktır.
5. Kopya çekmeniz, başka adayın sınav evrakını kullanmanız ve geçerli kimlik belgenizi ibraz edemediğiniz durumlarda sınavınız geçersiz sayılacaktır.

CEVAP KÂĞIDI VE SORU KİTAPÇIĞI İLE İLGİLİ AÇIKLAMALAR

1. Cevap kâğıdınızdaki bilgilerin doğruluğunu kontrol ediniz ve cevap kâğıdınızı imzalayınız.
2. Cevap kâğıdındaki bilgiler size ait değilse veya cevap kâğıdı kullanılmayacak durumdaysa salon görevlilerinin temin edeceği yedek cevap kâğıdına kimliğinizle ilgili bilgileri açıklamalar doğrultusunda yazınız ve kodlayınız.
3. Cevap kâğıdı üzerindeki kodlamaları kurşun kalemle yapınız.
4. Değiştirmek istediğiniz bir cevabı, yumuşak silgiyle cevap kâğıdını örselemeden temizce siliniz ve yeni cevabınızı kodlayınız.
5. Kitapçık türünü cevap kâğıdınızdaki ilgili alana kodlayınız. Bu kodlamayı yapmadığınız veya yanlış yaptığınız takdirde sınavınızın değerlendirilmesi doğru yapılamayacaktır.
6. Cevap kâğıdında **Türkçe, Matematik, Fen ve Teknoloji ve Sosyal Bilgiler** testleri için dört ayrı sütun bulunmaktadır. Cevaplarınızı, cevap kâğıdındaki ilgili sütunlara yuvarlağın dışına taşırmadan kodlayınız.
7. **Soru kitapçığı üzerinde yapılan cevaplandırmalar dikkate alınmayacaktır.**
8. Soru kitapçığının sayfalarını kontrol ediniz, baskı hatası var ise değiştirilmesini sağlayınız.
9. Soruların çözümü için size ayrıca boş kâğıt verilmeyecektir. Soru kitapçığının içindeki boş alanları çözümlerinizi için kullanabilirsiniz.
10. Cevaplamaya istediğiniz testin sorusundan başlayabilirsiniz. Cevabını bilmediğiniz sorular üzerinde fazla zaman kaybetmeden diğer sorulara geçiniz. Zamanınız kalırsa bu sorulara daha sonra dönebilirsiniz.
11. Puanlama; her test için yanlış cevap sayısının **üçte biri, doğru cevap sayısından çıkarılarak** elde edilecek geçerli cevaplar üzerinden yapılacağı için cevap kâğıdı üzerinde rastgele cevaplama yapmayınız.
12. **Sınav bitiminde, soru kitapçığı ve cevap kâğıdını salon görevlilerine teslim ediniz. Sınavın bitiminden bir saat sonra kitapçığınızı okul yetkililerinden alabilirsiniz.**

BAŞLAYINIZ DENİLMEDEN SORU KİTAPÇIĞINIZI AÇMAYINIZ.

1. Aşağıdaki cümlelerin hangisinde, zıt anlamlı sözcükler bir arada kullanılmıştır?

- A) Beyaz gömleğinin üzerindeki siyah mürekkep lekesi, küçük olmasına rağmen dikkat çekiyordu.
 B) Halat gitgide boşalıyor, gemi sola doğru hafif hafif yatıyordu.
 C) Kulak tırmalayan bir gürültü patırtı ile merdivenlerden indiler.
 D) Ben lafımı bitirmeden söze girmeyi alışkanlık hâline getirmişti.

2. Evdeki tahta eşyalar, sıcaklığın da etkisiyle çatırdıyordu. Bazen bu sesler kısa bir patlama hâlini alıyordu. O ise bir şeylerin kırılmış olduğu düşüncesiyle uykusundan uyanıp bu çatırtılara kulak veriyor ama duyduklarına bir anlam veremiyordu.

Bu parçadaki altı çizili kelime grubunun anlamı aşağıdakilerden hangisidir?

- A) Aynı şeyi dinlemekten usanmak
 B) Belli etmemeye çalışarak dinlemek
 C) Merak edip dinlemek, işitmeye çalışmak
 D) Konuşulanları duymak için bütün dikkatini toplamak

3. Yeteneklerin en değerli olanı, bir sözcüğün yettiği yerde iki sözcük kullanmamaktır.

Bu cümleye göre “yeteneklerin en değerlisi” aşağıdakilerden hangisidir?

- A) Kelimeleri doğru telaffuz edebilmek
 B) Sözcükleri kendi anlamında kullanabilmek
 C) Kendini ifade etmek için duygularla kelimeler arasında bağ kurabilmek
 D) Bir konuyu az kelimeyle özlü bir şekilde anlatabilmek

4. Öğle güneşi yükselirken şehrin insanları, sokaklarda görünmeye başladı.

Bu cümledeki altı çizili ifade bir hikâyenin hangi ögesi olabilir?

- A) Olay
 B) Yer
 C) Zaman
 D) Şahıs

5. (1)Hakan, yüz voltluk lambanın tam altında oturuyordu. (2)Ali ise gösteriye hazırlanan bir kuklacı gibi ayakta dikilmişti. (3)Tek kelime etmeden Hakan’a bakıyordu. (4)Bense, can sıkıcı sessizliği bozmak için konuşmaya çalışıyordum.

Bu parçadaki numaralandırılmış cümlelerden hangileri nesneldir?

- A) 1 - 2
 B) 1 - 3
 C) 2 - 3
 D) 2 - 4

6. (1)Oturdukları masadan kalktılar. (2)Ayşe; onun konuşmasını beklemiş gibi susuyor, ona bakıyordu. (3)Ne var ki Ahmet’in düşünceleri, bahçeyi görünce yayladaki evini çevreleyen cılız çayirlara doğru uçup gitti. (4)Orada da güneşli günler yakın olmalıydı. (5)Çünkü cesur küçük bitkiler, çakıllar arasından kafalarını uzatmaya başlamışlardı.

Bu parçada hangi cümleler arasında neden-sonuç ilişkisi vardır?

- A) 1 - 2
 B) 2 - 3
 C) 3 - 4
 D) 4 - 5

7. Alışkanlık pek yaman bir hocadır ve hiç şakası yoktur. Yavaş yavaş, gizli gizli içimize ilk adımını atar; başlangıçta kuzu gibi sevimli, alçak gönüllüdür. Fakat zamanla oraya yerleşip kökleşti mi, öyle azılı öyle amansız bir yüz takınır ki kendisine yan gözle bakmamıza dahi izin vermez.

Bu paragraf aşağıdaki soruların hangisine cevap olarak söylenmiştir?

- A) Alışkanlık nedir, nasıl oluşur?
B) Neleri alışkanlık hâline getirmeliyiz?
C) Alışkanlıklar hangi yaşta ortaya çıkar?
D) Yararlı alışkanlıklar nasıl kazanılır?

8. Bu gök, bu toprak, bu deniz,
Nerde var bu güneşli iz?
Hiçbir şey yok senden aziz,
Sana bin canla kurbanım!..

Halide Nusret Zorlutuna

Bu dördlüğün ana duygusu aşağıdakilerden hangisidir?

- A) Geçmişe özlem
B) Vatan sevgisi
C) Endişe
D) Umut

9. Prizren, Osmanlı kültür mirasını ve etnik çeşitliliğini koruyabilen nadir şehirlerden biri. Yaklaşık 165.000 nüfusa sahip şehrin çoğunluğunu Arnavutlar oluşturuyor. Kosova Türklerinin de yoğun olarak yaşadığı şehir kalesinin eteklerinde Bistrica Irmağı akıyor.

Bu metnin konusu aşağıdakilerden hangisidir?


- A) Kosova Türkleri
B) Prizren'in özellikleri
C) Arnavutların yaşamı
D) Osmanlı kültür mirası

10. (1)Dilimiz bilmeceler yönünden zengindir. (2)Bu zenginlik, doğayla içli dışlı bir toplum oluşumuzdan gelir. (3)Doğadaki varlık ve nesnelere, onların özelliklerine yaslanan özgün bilmeceler oluşturmuşuz. (4)Bunların dil yapılarına baktığımız zaman orijinal buluşlar, somutlaştırma ve karşılaştırmalar ile güçlü bir anlatım görürüz.

Numaralandırılmış cümlelerden hangisi, bu metnin ana fikridir?

- A) 1 B) 2 C) 3 D) 4

- 11.



İnternet'in (Genel Ağ) doğru kullanımını vurgulayan bu afişte, aşağıdaki söz sanatlarından hangisi kullanılmıştır?

- A) Kişileştirme
B) Abartma
C) Benzetme
D) Konuşturma

12. Aşağıdakilerin hangisinde olay, üçüncü kişinin ağzından anlatılmıştır?

- A) Güya sıra bendeydi, güya ben de birkaç söz edecektim ama bir şey engel oldu bana, dilim düğümlendi.
- B) Tüm ısrarlarına rağmen yanlarında kalmayarak evime dönmüştüm ki, çalmaya başladı telefonum.
- C) “Haklısın.” dedim ve devam ettim: “Belki şanslıyım onunla karşılaştığım için. O gerçekten de iyi bir insan.”
- D) Telaşla yerleşti iskemleye. Önemli bir gelişme olduğunu arkadaşlarına söylemek için sabırsızlanıyordu.

13. Televizyonda Asya ülkeleriyle ilgili bir belgeselde Turfan kenti ve insanları tanıtılıyordu. Bu eski kentin deniz seviyesinin 78 metre altında olması ilgimi çekti. Burada yaşayan insanlarla geçmişten gelen bir yakınlığımız olduğunu bazı kelimelerden sezme beni iyice meraklandırdı... Turfan, her tür sebze ve meyvenin yetiştiği çok yeşillik bir yer. Bölgedeki ilk ürün bu kentten çıkıyor. Bu yüzden, kentin kurulduğu günden beri pazarcılar, ürünlerinin taze olduğunu belirtmek için satış yaparken “Turfanda bunlar, turfanda...” diye bağırlar.

Bu paragraftan aşağıdaki yargıların hangisine ulaşılır?

- A) Turfanda kelimesi, Turfan kentinin kuruluşu kadar eskidir.
- B) Pazarcılar, taze ürünler getirmek için Turfan kentine giderler.
- C) Turfan kenti, tarihî eserler yönünden oldukça zengindir.
- D) Deniz seviyesinin altında olması bakımından dünyanın en derin noktasıdır.

14. Kilimi bir cennet gibi donatan ihtiyar neler yahut genç kızlar, yaptıkları işi seve seve yaparlar. Saygı da duyarlar işlerine ama bunu bizim ölçülerimizle tartmazlar. Yani “Bir sanat eseri ortaya koyduk, gelin ellerimizi öpün, bizi sırtınızda taşıyın, bize ayrı muamele edin.” gibi tavırlar takınmazlar. Bu cennet kilimi dokur; sonra da harmana, ekine, kuzularını koyunlarını beslemeye giderler. İşte biz, sanattan çok şey bekleyen şehirli sanatçılar... Bizim, köylümüzden alınacak çok büyük bir dersimiz var. Biz nereden çıkartıyoruz kendimizi üstün görmeyi?

Bu parçada aşağıdakilerin hangisine değilmiştir?

- A) Şehirli sanatçıların kendilerini üstün gördüklerine
- B) Kilim dokuyanların işlerini severek yaptıklarına
- C) Kilim dokuyanların bu işi oldukça iyi yapmalarına rağmen bununla övünmediklerine
- D) Şehirli sanatçıların sanat eseri üretmenin dışında başka işlerle de ilgilendiklerine

15. 1. Bulutların dağılmasıyla gökyüzünün yedi rengi de beliriverdi birdenbire.
2. Büyükler, saçakların altlarına kaçarken çocuklar ıslanmak için gülerek koşuyorlardı.
3. Rüzgârla birlikte gri bulutlar, güneşin ışıklarına yol vermeye başladılar.
4. Gökkuşağının altından geçebilmek için birbirleriyle yarıştılar çocuklar bu sefer de.
5. Yağmur yüklü gri bulutlar her yeri kaplamıştı.
6. Gök gürültüsüyle birlikte sağanak da başladı.

Numaralandırılmış cümleler, olayların oluş sırasına göre nasıl sıralanmalıdır?

- A) 4, 2, 3, 1, 6, 5
- B) 4, 5, 1, 6, 3, 2
- C) 5, 4, 3, 2, 1, 6
- D) 5, 6, 2, 3, 1, 4

16. Bir kez daha dürbünü o esrarlı noktaya doğru çevirdi, uzaktaki ışığı hedefledi, birkaç dakika baktı. Sonra dürbünü kaldırdı ve yıldızları incelemeye başladı. Görülecek bir şeydi, milyonlarca yıldız göğün her yanını kaplamıştı...

Konusu dikkate alındığında bu paragraf, aşağıdakilerin hangisiyle tamamlanmalıdır?

- A) Ertesi gün dürbünü elden ele geçirerek birlikte uzaktaki kaleye baktılar.
B) Kuzeydeki sisler; mevsime, rüzgâra ve ısı derecesine göre çoğalıyor ya da azalıyordu.
C) Ay doğmak üzereydi. Yine de doğuda belli belirsiz bir aydınlığın içinden yıldızları seyredebiliyordu.
D) Ancak bazı akşamlar inen sis, böyle bir şeyin varlığını ortaya çıkarıyordu.

17. Aşağıdaki özlü sözlerin hangisinde “sıfat tamlaması” yoktur?

- A) Dostluk, kanatsız sevgidir.
B) Dost, rahatlık veren bir merhemdir.
C) Dosttur, dal parçası değildir, onu kırma.
D) Dost, iyi insandır.

18. Aşağıdaki altı çizili sözcüklerden hangisi yönelme hâlinindedir?

- A) Oturduğu koltukta uyuyakalmış.
B) Aşağıya kadar gelip beni yolcu etti.
C) Yerleri silmek için masayı kenara çekti.
D) Ankara'dan gelecek misafirleri karşılayacakmış.

19. Necdet Bey, ilçemize Balkanların en büyük

yük iş merkezini açmak istiyormuş. Tarihî Yarımada'nın 2700 yıllık geçmişindeki medeniyetlerin mimarisinden, kültüründen esinlenerek yapılacak bir iş merkezi olacak-

mış burası. Sokaklar, dükkânlar, restoranlar, bahçeler bu farklı medeniyetlerin kültür-

ründen etkilenerek inşa edilecekmiş. Ben maketini gördüm, gerçekten mükemmel bir proje.

Bu parçadaki kaç numaralı kelimenin yerine bir zamir kullanılabilir?

- A) 1 B) 2 C) 3 D) 4

20. Aşağıdaki altı çizili sözcüklerden hangisi topluluk ismidir?

- A) Ağaçlar rüzgârla birlikte sağa sola sallanıyordu.
B) Karadeniz her zamanki gibi dalgalı ve haşmetliydi.
C) Çoban köpekleri, sürüyü otlaklara doğru götürüyordu.
D) Buranın güzel havası onun ruhunu sıkıntılarından arındırmıştı.

21. Aşağıdakilerden hangisi birleşik kelimedir?

- A) Kelebekler B) Kurdeleli
C) Kanepe D) Kavuniçi

22. Aşağıdaki sözcüklerden hangisi, fiil köklüdür?

- | | |
|-------------|-----------|
| A) Ceketler | B) Çürük |
| C) Masadaki | D) Öfkeli |

23. Aşağıdakilerin hangisinde “da/de”nin yazımıyla ilgili bir yanlışlık vardır?

- A) Olanları bana da anlattı.
B) Hepimiz onun evde olduğunu düşünüyorduk.
C) Yarın bize Ayşe’de gelecekmiş.
D) Artık sevincinden konuşur da konuşur.

24. “Bir kelimenin birinci hecesinde kalın bir ünlü bulunuyorsa diğer hecelerdeki ünlüler de kalın, ince bir ünlü bulunuyorsa diğer hecelerdeki ünlüler de ince olur.”

Bu kurala uymayan sözcük, aşağıdakilerden hangisidir?

- | | |
|---------------|------------|
| A) Basit | B) Bilezik |
| C) Boyunduruk | D) Bıçak |

25. Yarın Erciyes’e tırmanacağız() dedi.

Bu cümlede yay ayraçla belirtilen yere, aşağıdaki noktalama işaretlerinden hangisi konmalıdır?


- A) . B) , C) ; D) :

**TÜRKÇE TESTİ BİTTİ.
MATEMATİK TESTİNE GEÇİNİZ.**

1. $5 \times 5 \times 5 \times 5 \times 5$ ifadesi aşağıdakilerden hangisine eşittir?

A) 6×5 B) 6^5
C) 5^6 D) 56

2. Aşağıda verilen kare şeklindeki resim fotokopi ile küçültüldüğünde kenar uzunlukları yarıya inmektedir.



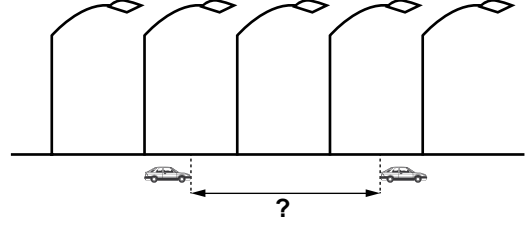
Elde edilen resmin bir kenarının uzunluğu aşağıdakilerden hangisi ile bulunur?

A) $26 : \frac{1}{2}$ B) $26 : 2$
C) $2 : 26$ D) $\frac{1}{2} : 26$

3. 4506 sayısının hangi iki rakamının yerleri değiştirilirse, elde edilen yeni sayı 6 ile tam bölünmez?

A) 5 ile 6 B) 5 ile 0
C) 4 ile 6 D) 4 ile 5

4. Bir sokaktaki aydınlatma direkleri şekildeki gibi eşit aralıklarla sıralanmaktadır. Ardışık iki direk arası 7,9 m olduğuna göre, şekildeki araçlar arasındaki uzaklığın en yakın tahmini aşağıdakilerden hangisidir?



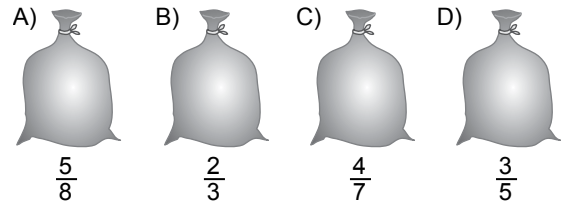
A) 8 m B) 12 m C) 16 m D) 20 m

5. Bir sınıftaki öğrencilerin % 50'si flüt, % 40'ı gitar çalmaktadır. Bu sınıftaki öğrencilerin % 20'si ise bu müzik aletlerinden hiçbirini çalmamaktadır.

Yalnız flüt çalan 8 öğrenci olduğuna göre, bu sınıfın mevcudu kaçtır?

A) 15 B) 17 C) 18 D) 20

6. Aşağıdaki çuvalların her birinde aynı miktarda un bulunmaktadır. Her çuvaldaki unun kaçta kaçının kullanılacağı altında belirtilmiştir. Buna göre, kullanıldıktan sonra en çok un hangisinde kalır?



7. Ölçüsü 27° olan bir açının tümlerinin ölçüsü aşağıdaki işlemlerden hangisi ile bulunur?

A) $100^\circ + 27^\circ$ B) $100^\circ - 27^\circ$
C) $90^\circ + 27^\circ$ D) $90^\circ - 27^\circ$

8. Bir mağazada satılan bazı ürünlerin fiyatları aşağıdaki tabloda verilmiştir.

Tablo: Mağazada Satılan Bazı Ürünler ve Fiyatları

Ürünler	Fiyatlar (Lira)
Tişört	12,70
Şapka	29,90
Cüzdan	15,30
Kemer	11,10

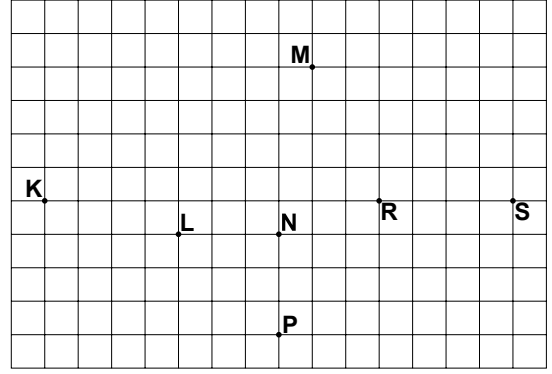
Bu ürünlerden birer tane alan bir müşteriye, tablodaki fiyatlar üzerinden % 30 indirim yapıldığına göre, bu müşteri kaç lira öder?

A) 37,80 B) 40,20
C) 48,30 D) 52,15

9. Bir toptancı 5 gömlek satın alana 1 gömlek hediye etmektedir. Hediye gömleklerle birlikte 110 gömlek alan bir mağaza sahibi hediye olarak kaç gömlek almıştır?

A) 18 B) 20 C) 22 D) 24

10.



Şekle göre aşağıdaki hangi üç nokta doğrudur?

A) M, N, P B) K, L, N
C) L, N, S D) K, R, S

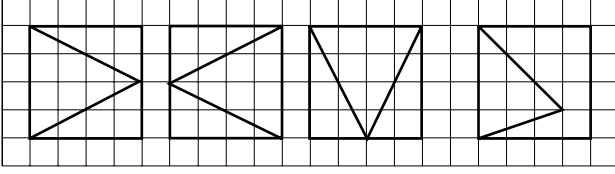
11. 18 000 mL sıvı yağı alabilecek, dikdörtgenler prizması şeklindeki teneke kutunun ayrıt uzunlukları aşağıdakilerden hangisi olabilir?

A) 1 dm, 3 dm, 7 dm B) 1 cm, 2 cm, 9 cm
C) 4 cm, 5 cm, 9 cm D) 1 dm, 2 dm, 4 dm

12. Bir küpün açınımının çevre uzunluğu 98 cm olduğuna göre, yüzey alanı kaç santimetrekaredir?

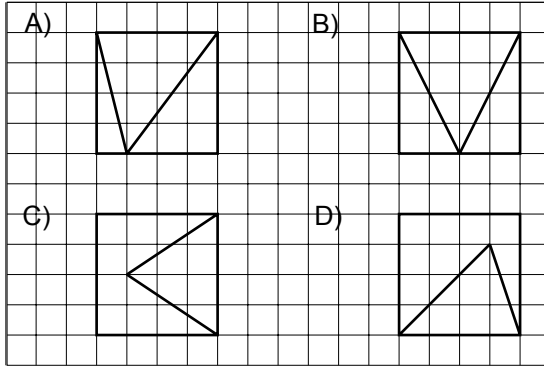
A) 588 B) 294 C) 256 D) 98

13.



Yukarıda verilen zarflardan 3'ü 6. sınıf, farklı olan bir zarf ise 7. sınıf öğrencisine aittir.

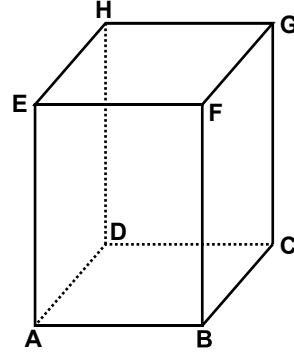
Buna göre aşağıdakilerden hangisi 7. sınıf öğrencisine aittir?



14. Aşağıdakilerden hangisi imkânsız olaydır?

- A) Havaya atılan bir madenî paranın yazı gelmesi
- B) Havaya atılan bir topun yere düşmesi
- C) İçerisindeki topların hepsi kırmızı olan bir torbadan, seçilen bir topun mavi olması
- D) Sabah gördüğümüz ilk arabanın kırmızı renkli olması

15. Verilen dikdörtgenler prizmasının aşağıdaki hangi iki köşesi bir doğru parçası ile birleştirilirse bir cisim köşegeni çizilmiş olur?



- A) B ve H
- C) D ve G

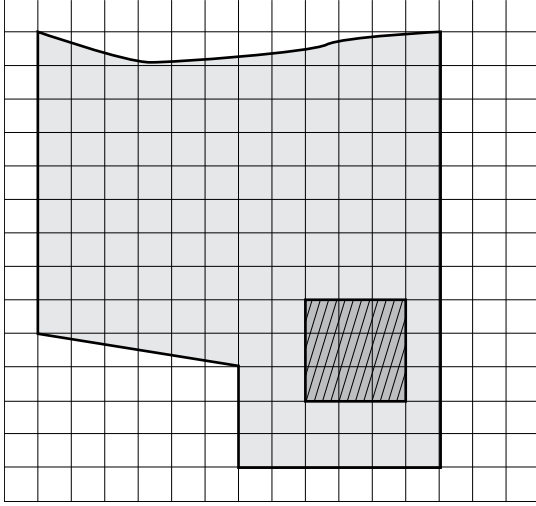
- B) A ve C
- D) E ve D

16. $|-27|$ aşağıdaki sayıların hangisinden büyüktür?

- A) -26
- C) 30

- B) $|-29|$
- D) $|27|$

17.



Yukarıda krokisi verilen buğday tarlasında, belirtilen taralı bölgeden 600 kg buğday elde edilmektedir. Bu tarlanın tamamından elde edilen buğday miktarının en yakın tahmini kaç kilogramdır?

- A) 4000 B) 8500
C) 40 000 D) 85 000

18. Ayşegül Hanım'ın çantasında 4 tane 10 liralık, 6 tane 20 liralık, birer tane 50 liralık ve 100 liralık kâğıt para bulunmaktadır. Ayşegül Hanım'ın, çantasından rastgele çıkardığı bir kâğıt para ile fiyatı 18 lira olan vazoyu alma olasılığı nedir?

- A) $\frac{1}{6}$ B) $\frac{5}{12}$ C) $\frac{3}{7}$ D) $\frac{2}{3}$

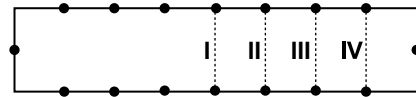
19. Bir okuldaki sporcuların yarışmalarda kazandığı madalya sayıları tabloda görülmektedir. Elif ve Ali toplam kaç madalya kazanırsa okuldaki sporcuların kazandıkları madalya sayılarının ortalaması 2 olur?

Tablo: Sporcuların Kazandıkları Madalya Sayıları

Sporcular	Kazandıkları Madalya Sayıları
Selen	1
Kerem	3
Cenk	2
Ali	?
Nevin	1
Serap	4
Elif	?
Mehmet	3

- A) 1 B) 2 C) 3 D) 4

20. Uzun kenarı 1 m olan dikdörtgen şeklindeki kartonun çevresi noktalarla eş parçalara ayrılmıştır. Bu karton hangi kesikli çizgiden kesilirse çevresi 2 m olan bir karton parçası elde edilir?

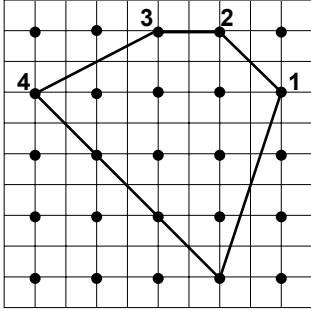


- A) I B) II C) III D) IV

21. Aşağıdakilerden hangisinin cebirsel ifadesi $\frac{3x}{2} + 5$ 'tir?

- A) Bir sayının 5 fazlasının 3 katının yarısı
B) Bir sayının 3 katının 5 fazlasının yarısı
C) Bir sayının yarısının 5 fazlasının 3 katı
D) Bir sayının yarısının 3 katının 5 fazlası

22. Şekildeki geometri tahtası üzerinde bazı çiviler numaralandırılmıştır. Lastik, hangi numaralı çividen çıkarılırsa bir yamuk oluşur?



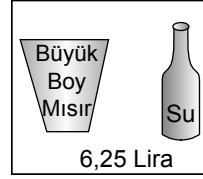
- A) 4 B) 3 C) 2 D) 1

23. Dengede olan bir terazinin bir kefesinde her biri 4 kg olan 3 kabak, diğer kefesinde ise bir kavun ile her biri 5 kg olan 2 karpuz vardır. Buna göre, kavun kaç kilogramdır?

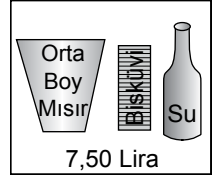
- A) 1 B) 2 C) 3 D) 4

24. 20 lirası olan Hale, sinema biletine 13,75 lira ödüyor. Hale kalan parası ile aşağıdaki menülerden hangisini alabilir?

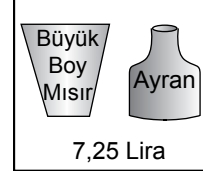
A) 1. Menü



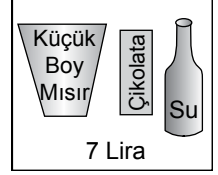
B) 2. Menü



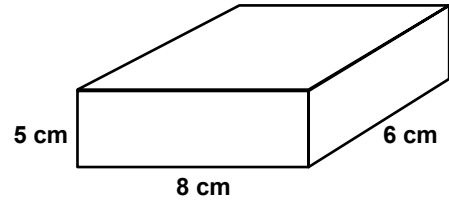
C) 3. Menü



D) 4. Menü



25.



Yukarıdaki kutu, içine bir ayrıtının uzunluğu 2 cm olan küp şeklindeki çikolatalar konularak paketlenecektir. Bu kutu en fazla kaç çikolata alır?

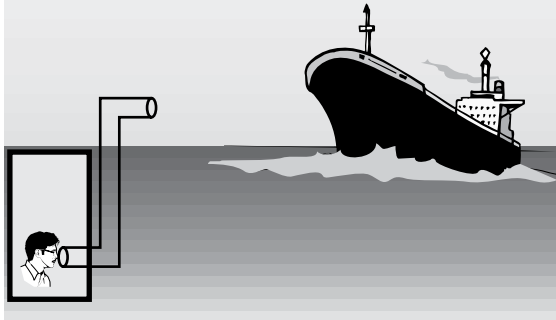
- A) 19 B) 24 C) 30 D) 70

MATEMATİK TESTİ BİTTİ.
FEN VE TEKNOLOJİ TESTİNE GEÇİNİZ.

1. Kapalı alanda yankı oluşumunu önlemek için, bu alanların iç yüzeyi nasıl bir madde ile kaplanmalıdır?

- A) Yumuşak ve pürüzlü
B) Yumuşak ve pürüzsüz
C) Sert ve pürüzlü
D) Sert ve pürüzsüz

2. Şekildeki gözlemci, su yüzeyindeki gemiyi periskop ile görmek istiyor.



Buna göre gözlemci, periskop içindeki düzlem aynaları aşağıdakilerin hangisindeki gibi yerleştirmelidir?

- A) B) C) D)

3. İçinde ayna bulunan, dış yüzeyinde ise aynanın ve oluşturduğu görüntünün belli özellikleri yazılı K, L ve M kutuları şeklindeki gibidir.

K	Oluşturduğu görüntü : Düz	
	Görüntü boyu	: Her durumda cisimden küçük
	Kullanıldığı yer	: Otomobil yan aynaları

L	Oluşturduğu görüntü : Düz	
	Görüntü boyu	: Cismin boyuna eşit
	Kullanıldığı yer	: Ev ve berber salonları

M	Oluşturduğu görüntü : Düz veya ters	
	Görüntü boyu	: Cisimden küçük, büyük veya eşit
	Kullanıldığı yer	: Makyaj aynaları

Buna göre kutu içindeki aynaların cinsi, aşağıdakilerin hangisinde doğru verilmiştir?

K	L	M
A) Tümsek	Çukur	Düz
B) Çukur	Düz	Tümsek
C) Tümsek	Düz	Çukur
D) Düz	Tümsek	Çukur


4. Ön yüzünde toprağın özelliği, arka yüzünde ise ismi yazılı K, L ve M kartları hazırlanıyor.

Bitki ve hayvan kalıntılarının çürümesiyle oluşan, koyu renkli, yumuşak ve su tutabilen topraktır.	Açık renkli, su tutmayan, üzerine boşaltılan suyun etkisiyle kalın bir kabuk bağlayan, gevşek yapıya sahip bir topraktır.
K	L
Ağır, ince taneli, su tutan, zor işlenen, ısıya çok dayanıklı bir topraktır.	
M	

Kartların ön yüzü yukarıdaki gibi olduğuna göre, arka yüzlerinde aşağıdakilerden hangisi yazılıdır?

K	L	M
A) Kumlu	Kireçli	Killi
B) Killi	Humuslu	Kireçli
C) Humuslu	Kireçli	Killi
D) Humuslu	Kireçli	Kumlu

5. Panodaki anıtlarla ilgili resimler aşağıdaki gibidir.



Buna göre, panodaki resimlerden hangileri doğal anıtlara örnek olabilir?

- A) Boğaz Köprüsü
B) Peri Bacaları ve Pamukkale Travertenleri
C) Peri Bacaları ve Boğaz Köprüsü
D) Pamukkale Travertenleri ve Boğaz Köprüsü

6. Selin ve Metin, bir cismi şekilde görüldüğü gibi birbirlerine doğru itmektedirler.



Buna göre, Selin ve Metin'in cisme uyguladıkları kuvvetle ilgili, doğrultu ve yönleri dikkate alınarak yapılan aşağıdaki açıklamalardan hangisi doğrudur?

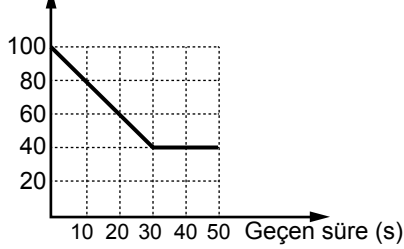
- A) Aynı doğrultuda olan, zıt yönlü kuvvetlerdir.
B) Aynı doğrultuda olan, aynı yönlü kuvvetlerdir.
C) Farklı doğrultuda olan, zıt yönlü kuvvetlerdir.
D) Farklı doğrultuda olan, aynı yönlü kuvvetlerdir.

7. Sude, okul bahçesinde bir baştan diğer başa hiç ara vermeden sabit süratle koşuyor. Öğretmeni de Sude'nin aldığı yolu ve geçen süreyi tabloya kaydediyor.

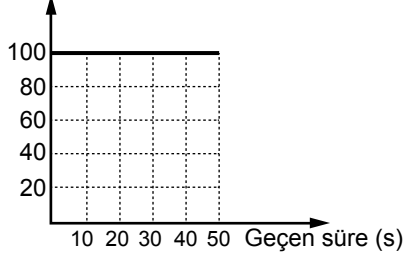
Alınan Yol (m)	Geçen Süre (s)
20	10
40	20
60	30
80	40
100	50

Buna göre, alınan yolun geçen zamana göre grafiği, aşağıdakilerin hangisinde doğru çizilmiştir?

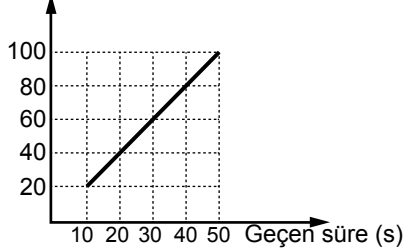
A) Alınan yol (m)



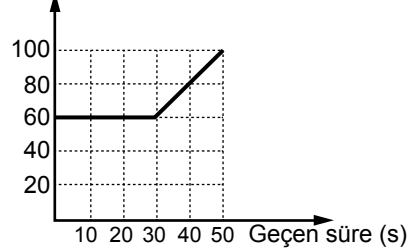
B) Alınan yol (m)



C) Alınan yol (m)



D) Alınan yol (m)



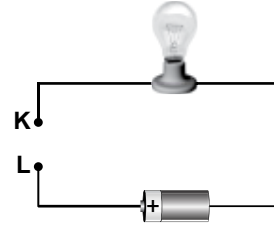
8. Üç farklı cismin yaptığı hareket aşağıda verilmiştir:

- Dalda hareketsiz duran bir elma
- Daldan yere düşen bir armut
- Sabit sürat ile çembersel kavşağı dönen bir araba

Bu cisimlerden hangileri dengelenmemiş kuvvetler altındadır?

- A) Yalnız elma B) Yalnız araba
C) Elma ve armut D) Armut ve araba

9. Öğretmen, ışık veren elektrik devresindeki iletken teli K ve L noktalarından keser.



Bir grup öğrenciden K ve L noktalarını iletken bir tel kullanmadan nasıl bağlayabileceklerini sorar.

Ali : KL uçlarına plastik boru bağlarım.

Selin : KL uçlarını aynı kaptaki tuzlu su içine daldırırım.

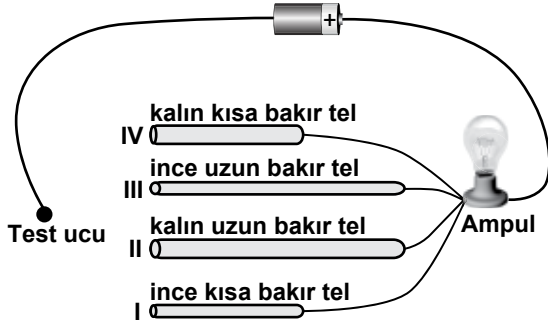
Suna : KL uçlarını aynı kaptaki saf su içine daldırırım.

Murat: KL uçlarını alüminyum folyo ile birleştiririm.

Hangi öğrencilerin ifadesi gerçekleşirse devredeki ampul ışık verir?

- A) Ali ve Selin'in B) Selin ve Murat'ın
C) Suna ve Murat'ın D) Ali ve Suna'nın

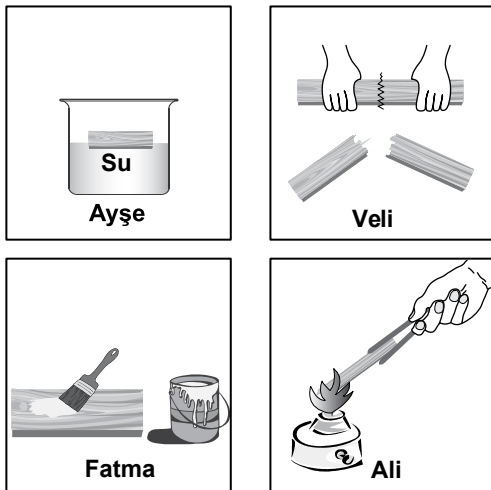
10. Melda, bir elektrik devresinde bulunan ampulün parlaklığının, devredeki iletken telin direncine bağlı olup olmadığını araştırmak için şekildeki devreyi kuruyor.



Buna göre test ucu, elektrik devresinde I, II, III ve IV uçlarından hangisine dokundurulursa ampul en parlak ışık verir?

- A) I'e B) II'ye C) III'e D) IV'e

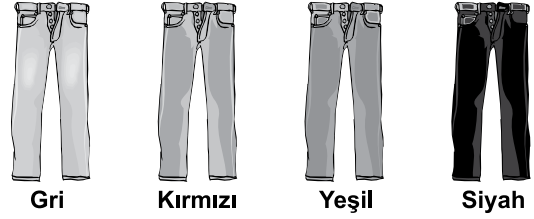
11. Dört öğrenci, birer tahta parçasına aşağıdaki gibi işlem uygulayarak tahtanın yapısını değiştirmek istiyor.



Hangi öğrencinin yaptığı işlem sonucunda tahtanın yapısı değişir?

- A) Ayşe B) Veli C) Fatma D) Ali

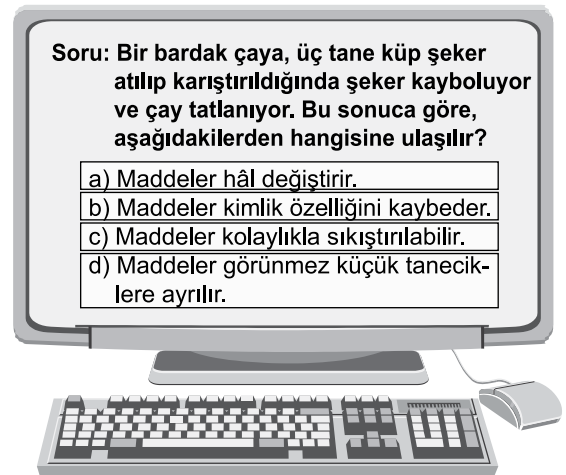
12. Ahmet, girdiği bir mağazada aynı kumaştan dikilmiş farklı renkteki kışlık pantolonlardan bir tanesini almak istiyor.



Ahmet, hangi renkteki pantolonu alıp giyerse daha sıcak tutar?

- A) Gri B) Siyah
C) Yeşil D) Kırmızı

13. Bilgisayarda test sorularını cevaplandıran Mehmet, doğru seçeneği tıkladığında yeşil ışık yanıyor.



Mehmet ekrandaki sorunun hangi seçeneğine tıkladığında yeşil ışık yanar?

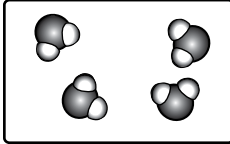
- A) d seçeneğine B) c seçeneğine
C) b seçeneğine D) a seçeneğine

14. Hasan odasında, arkadaşı Alp gelmeden önce kendisine parfüm sıkıyor. Alp gelince aralarında aşağıdaki konuşma geçiyor:


Alp : Aaa! Parfüm mü sıktın? Odan ne güzel kokuyor.
 Hasan: Evet sen gelmeden az önce sıktım. Beğendiğine sevindim. Sana sözlü sınav sorusu: Kokunun odaya yayılmasını nasıl açıklarsın?
 Alp :
 Hasan: Evet, doğru 100 puanı hakettin.
 Alp'in, arkadaşının sorusuna yaptığı açıklama aşağıdakilerden hangisidir?

- A) Gazların tanecikli yapıda olması
 B) Gazların kolaylıkla sıkıştırılabilmesi
 C) Gaz tanecikleri arasında boşluk olması
 D) Gaz taneciklerinin bağımsız hareket etmesi

15. Öğretmen Elif'e, kartlara çizdiği tanecik modellerini gösterir:



1. model



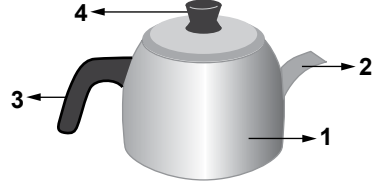
2. model

Elif'e, "Bu modeller arasındaki farklılıklar nelerdir?" sorusunu yöneltir.

Elif'in verdiği aşağıdaki cevaplardan hangisi yanlıştır?

- A) 1. model bileşiğe, 2. model elemente aittir.
 B) 1. modelde farklı, 2. modelde aynı tür atomlar vardır.
 C) 1. modelde atomlar, 2. modelde moleküller vardır.
 D) 1. model moleküllü yapıdadır, 2. model moleküllü yapıda değildir.

16. Şekilde verilen çaydanlığın üretiminde ısıyı iyi ileten ve iyi iletmeyen iki madde kullanılmıştır.



Bu çaydanlığın numaralandırılan kısımlarının hangilerinde iletken madde kullanılmıştır?

- A) 1 ve 2 B) 1 ve 4 C) 3 ve 4 D) 2 ve 3

17. • Tohumlarını, besin olarak kullanırız.
 • Tohumları ekilerek oluşan bitkiden, tekrar tohumu elde edilir.
 • Ürün almak için her yıl yeniden ekimi yapılır.

Verilen özellikler aşağıdaki bitkilerden hangisine aittir?

- A) Buğday B) Papatya
 C) Elma D) Ceviz


18. Bir öğrenci, canlıların çoğalma şeklini işaretleyeceği aşağıdaki tabloyu hazırlıyor:

Çoğalma şekli	Doğurarak çoğalma	Yumurtlayla çoğalıp başkalaşım geçirme	Tohumla çoğalma
Canlı			
Kelebek			
Tavuk			
Fasulye bitkisi			
Koyun			

Bu tabloda hangi canlının çoğalma şekli ile ilgili bölüm yoktur?

- A) Kelebek B) Tavuk
 C) Fasulye bitkisi D) Koyun

19. Şekilde, bir oyun parkındaki insanlar görülmektedir:



Bu parkta, aşağıdaki özelliklerden hangisine sahip bireylerin sayısı daha fazladır?

- A) Beslenme ve bakımı tamamen annesi tarafından yapılan bebeklerin
- B) Hareketli olup, oyun oynamayı seven bireylerin
- C) Bedensel faaliyetleri yavaşlamış olan yaşlı bireylerin
- D) Ergenlik çağındaki bireylerin

20. Ergenlik dönemindeki Zeynep, bu dönemle birlikte gelişen ruhsal ve bedensel değişimlerini gruplandırmak istiyor. Buna göre;

- I- Boy ve kütlesinde artış olması
- II- Kendi başına hareket etme ve karar verme isteğinde artış olması
- III- Sesinde değişim olması
- IV- Dikkat çekme isteğinde artış olması

olaylarını, aşağıdakilerin hangisindeki gibi gruplarsa doğru olur?

	Bedensel	Ruhsal
A)	III ve IV	I ve II
B)	II ve III	I ve IV
C)	I ve II	III ve IV
D)	I ve III	II ve IV

21. Bir öğrenci papatya ve sincap canlılarının resimlerini kartlara şekildeki gibi yapıştırmıştır. Bu canlıların hücre yapılarını kartlara yazacaktır.



Buna göre aşağıdakilerden hangisi, bu hücrelerden yalnız birinde yer alır?

- A) Mitokondri
- B) Ribozom
- C) Hücre duvarı
- D) Çekirdek

22.

Solunum sistemindeki
yapı ve organlar

Görevler

• Burun

• Gırtlak

• Bronş

- Havayı akciğere iletmek
- Hava ve kan arasında gaz alışverişini sağlamak
- Alınan havayı nemlendirmek
- Havayı soluk borusuna iletmek

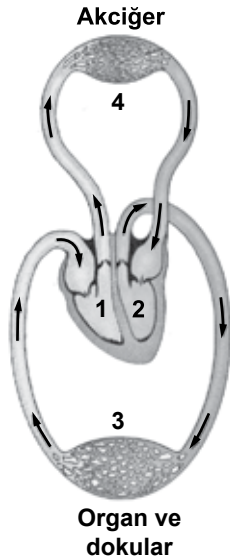
İnsan solunum sisteminde yukarıda verilen yapı ve organlar, görevleri ile eşleştirilecektir.

Bu görevlerin hepsinin eşleştirilmesi için aşağıdakilerden hangisinin, yapı ve organlar kısmına eklenmesi gerekir?

- A) Yutak
C) Diafram

- B) Alveol
D) Kaburga kası

23.



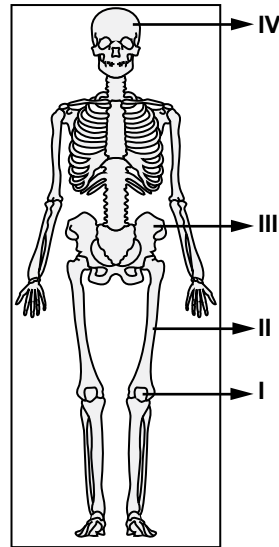
Şekilde vücudumuzda kanın dolaşımı verilmiştir. Kana oksijenin alınıp, kandan karbondioksitin uzaklaştırıldığı kısım hangi numara ile gösterilmiştir?

- A) 1 B) 2 C) 3 D) 4

24. Ayşe yürüyerek bahçeye gitti. Ağaçtan elma kopardı. Elmayı yıkadıktan sonra yedi. Bu faaliyeti sırasında Ayşe'nin vücut kaslarının çalışması ile ilgili olarak ne söylenebilir?

- A) Kol ve bacak kasları isteği ile, mide kası istek dışı çalışmıştır.
B) Parmak ve ağız kasları istek dışı, mide kası isteği ile çalışmıştır.
C) Sadece ağız kasları istek dışı çalışmıştır.
D) Sadece kol kasları isteği ile çalışmıştır.

25. Aşağıda bir insan iskeleti şekli verilmiştir. Numarayla gösterilmiş kemiklerin hangisinde "sarı ilik" bulunur?



- A) IV B) III C) II D) I

FEN VE TEKNOLOJİ TESTİ BİTTİ.
SOSYAL BİLGİLER TESTİNE GEÇİNİZ.

1. Orta Asya'da kurulmuş olan ilk Türk devletlerinde;

I- taşınabilir sanat eserlerinin yapılması,
II- hayvancılığın temel geçim kaynağı olması,
III- insanların savaşçı ve mücadeleci bir yapıya sahip olması


durumlarından hangilerinin oluşumunda coğrafi şartların etkili olduğu söylenebilir?

- A) Yalnız I
B) I ve II
C) II ve III
D) I, II ve III

2.



I



II

İslam tarihinde halifeler, yaptıkları faaliyetler ve yönetimde gösterdikleri davranışlardan dolayı, kişilikleri, bazı sembollerle özdeşleşmiştir.

Buna göre, yukarıdaki görsellerin İslam halifeleriyle doğru eşleştirilmesi, aşağıdaki-lerin hangisinde sırasıyla yapılmıştır?

- | | |
|------------------|---------------|
| I | II |
| A) Hz. Ali | Hz. Osman |
| B) Hz. Ömer | Hz. Ebu Bekir |
| C) Hz. Osman | Hz. Ömer |
| D) Hz. Ebu Bekir | Hz. Ali |

3. İpek Yolu, iki bin yıldır pek çok ülkeden geçerek Asya'dan Avrupa'ya uzanan bir köprü olmuştur. Bu köprüden sadece mallar değil, kültürler ve insanlar da geçmiştir. Zenginliğin ve bilginin taşındığı bu yol, kontrolünü elinde tutan devletlere ekonomik, askerî, kültürel ve siyasi imkânlar sağlamıştır.

Yukarıdaki paragrafta, İpek Yolu'nun hangi özelliğine değininilmemiştir?

- A) Devletler arası savaşa neden olmasına
B) Farklı coğrafyalardan geçişine
C) Kültür köprüsü oluşuna
D) Ekonomik değerine

4. Kök Türkler, yılın belirli zamanlarında kutladıkları bayram ve şöenlerde tanrı adına kurbanlar keserek beraberce eğlenirlerdi. Bu kutlamalarda şarkılar söylerler, çeşitli yarışmalar düzenlerlerdi. En sevilen ve beğenilen yarışma ise at yarışlarıydı.

Verilen parçaya göre, Türklerin yaptıkları bu faaliyetlerde, aşağıdaki kültür unsurlarından hangisine ait bir örnek yoktur?

- A) Dil
B) Din
C) Spor
D) Yönetim

5. Her yıl 23 Nisan'da ülkemizde uluslararası kutlamalar düzenlenmektedir. Farklı ülkelerden gelen çocuklar, ülkemizde Türk ailelerinin yanında misafir edilmektedirler. Misafirler, 23 Nisan kutlamaları boyunca kendi kültürlerinden örnekler sergilerler.

Verilen bu bilgiye göre aşağıdakilerden hangisi, 23 Nisan kutlamalarının toplumlar arasında sağlayacağı katkılardan olamaz?

- A) Yeni arkadaşlıkların kurulması
- B) Millî kültürlerin benimsetilmesi
- C) Ülkeler arası dostlukların pekiştirilmesi
- D) Toplumlar arasında etkileşimin sağlanması

6. Semavi ile Leyla, Anadolu'da kurulan ilk uygarlıklardan biri olan Urartularla ilgili araştırma yapıyorlardı. Araştırmalarını yaparken aralarında şöyle bir konuşma geçer:

Semavi: Urartular, Doğu Anadolu Bölgesi'nde yani dağlık bir bölgede kurulmuşlardır.

Leyla : Öyleyse, arazi tarıma elverişli olmadığı için hayvancılık yapmış olmalıdır.

Semavi: Evet, hayvancılık çok gelişmiş. Hatta buna bağlı olarak

.....

Aşağıdakilerden hangisi, Semavi'nin cümlesini en uygun biçimde tamamlar?

- A) sulama kanalları açmışlardır.
- B) savunma sistemleri gelişmiştir.
- C) demir işleme sanatında ilerlemişlerdir.
- D) deri işçiliği ve dokumacılıkta ileri gitmişlerdir.

7. Atatürk'ün;

- I- Türkiye İş Bankasını kurması,
- II- Dil ve Tarih - Coğrafya Fakültesini açması,
- III- Türk Tarih Kurumunu kurması

uygulamalarından hangisi ya da hangileri, sosyal bilimlere geliştirmeye yöneliktir?

- A) Yalnız I
- B) Yalnız II
- C) II ve III
- D) I, II ve III

8. Uygurlardan günümüze; mal edinme, satış protokolü, iş sözleşmeleri, ortaklık kurma, vakıfnameler, vasiyetnameler, ipotek senetleri gibi çeşitli belgeler kalmıştır.

Bu bilgiye göre Uygurlarla ilgili olarak, aşağıdakilerden hangisi söylenebilir?

- A) Askerliği kanunlarla düzenlemişlerdir.
- B) Sanatın geliştirilmesine özel bir önem vermişlerdir.
- C) Uygurlar, İlk Çağ Anadolu uygarlıklarındandır.
- D) Yönetim anlayışlarında hukuki düzenlemelerin önemli bir yeri vardır.

9. Arkadaşının bilgisayarından “Parasız Yatılılık ve Bursluluk Sınavına Hazırlık Eğitim Seti” ile ilgili çalışma CD’lerini izleyen Buket, eğitim setinin soru çözümlerini çok beğenir. Hemen evine yakın bir elektronik markete giderek beğendiği eğitim setinden satın alır.

Buket, bu davranışı ile aşağıdakilerden hangisine saygı göstermiş olur?

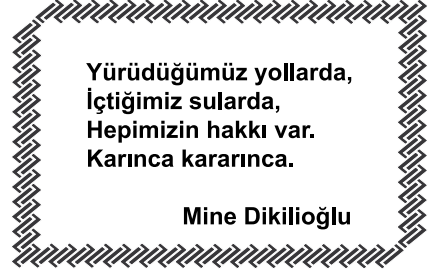
- A) Telif hakkına
B) Patent hakkına
C) Çoğaltma hakkına
D) Bandrol uygulamasına

10. I- Ülkemiz doğal güzellikleriyle tam bir cennettir.
II- Türkiye’nin en çok turist çeken ili Antalya’dır.
III- Türkiye, üç tarafı denizlerle kaplı bir yarımadadır.
IV- Ülkemize en çok Rusya ve Almanya’dan turist gelmektedir.

Verilen cümlelerden hangileri görüş bildirir?

- A) Yalnız I
B) Yalnız III
C) II ve IV
D) I, III ve IV

11.



Bu dördlükte, vatandaşlık görevlerimizden hangisine vurgu yapılmıştır?

- A) Oy kullanma
B) Vergi verme
C) Askerlik yapma
D) Seçimlere katılma

12.



Ben, Babil Kralı Hammurabi’yim. Sümerlerin hukuk kurallarını geliştirdim, cezaları artırdım ve ilk anayasayı yaptım. Göze göz, dişe diş kuralları savunuyordum. Yoksa, başkent Babil’den ülkemin her köşesini denetlemem mümkün olmuyordu.

Buna göre Hammurabi’nin sert cezalar içeren hukuk kurallarını benimsemesinin nedeni, aşağıdakilerden hangisidir?

- A) Ticareti geliştirmek
B) Orduyu güçlendirmek
C) Merkezî otoriteyi sağlamak
D) Tarımsal üretimi artırmak

13 ve 14. soruları aşağıda verilen metne göre cevaplayınız.

Rusya Federasyonu, Avrupa ve Asya kıtalarında toprakları olan bir devlettir. Yüzölçümü Türkiye'nin 22 katı büyüklüğünde olmasına rağmen nüfusu sadece 2 katıdır. Yüzölçümünün yarısına yakın kısmını kutup bölgesindeki donmuş topraklar oluştururken orta kısımlarında iklim sert karasal, güneybatısında ise ılımandır. Nüfusunun % 10'u tarımda çalışan ülke, dünya kereste rezervinin % 25'ine sahip ve enerji kaynakları (kömür, petrol, doğal gaz) bakımından da çok zengindir.

13. Rusya'da nüfus yoğunluğunun çok düşük olmasının temel sebebi aşağıdakilerden hangisidir?

- A) İki kıtada topraklarının olması
- B) Maden bakımından zengin olması
- C) Olumsuz iklim özelliklerine sahip olması
- D) Tarımda çalışan nüfusun az olması

14. Türkiye'nin kendi kaynakları dikkate alındığında, Rusya'dan aşağıdakilerden hangisini ithal (dış alım) etmesi beklenir?

- A) Taşıt araçları
- B) Tarımsal ürün
- C) Mobilya
- D) Enerji kaynağı

15.



Yükselti faktörü göz önüne alındığında haritada verilen merkezlerden hangileri arasında, sıcaklık farkının daha fazla olması beklenir?

- A) Ordu - Ağrı
- B) Ankara - Ağrı
- C) Manisa - Ankara
- D) Gaziantep - Ordu

16. Mobilya fabrikası kurmayı planlayan bir işadamı, tesisinin ham madde kaynağına yakın olmasını istemektedir.

Bunun için, aşağıdaki illerden hangisini tercih etmelidir?

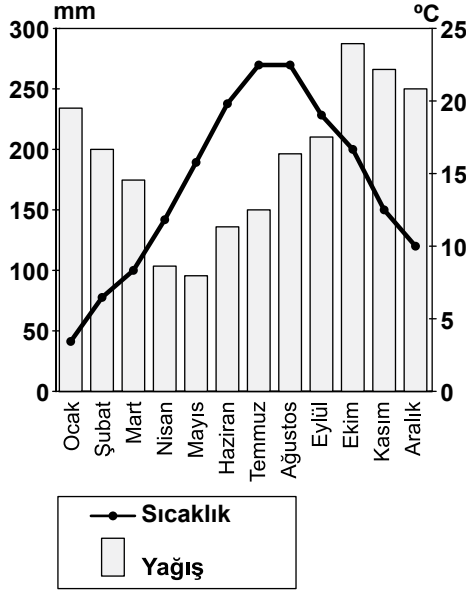
- A) Mardin
- B) Elazığ
- C) Giresun
- D) Nevşehir

17. Toprak, sanayi sektörü için önemli bir ham madde kaynağıdır.

Buna göre aşağıdakilerden hangisi, üretiminde ham madde olarak toprağı kullanmaz?

- A) Seramik sanayi
- B) Çimento sanayi
- C) Tuğla sanayi
- D) Mobilya sanayi

18 ve 19. soruları aşağıda verilen grafiğe göre cevaplayınız.



18. Yağış ve sıcaklık grafiği verilen merkez için aşağıdakilerden hangisi söylenebilir?

- A) Şubat en soğuk aydır.
- B) Her mevsim yağış alır.
- C) En kurak ay ekimdir.
- D) Bazı aylarda yağış 400 mm'yi aşar.

19. Yağış ve sıcaklık grafiği verilen merkez aşağıdakilerden hangisi olabilir?

- A) Rize
- B) Kars
- C) Ankara
- D) Konya

20. Aşağıda verilen yerlerin haritaları aynı boyutta olan dört ayrı kâğıda (tam sıgacak biçimde) çizilmiştir.

Buna göre, hangi haritanın ölçeği daha büyük olur?

- A) Türkiye
- B) Balıkesir ili
- C) Asya Kıtası
- D) Güneydoğu Anadolu Bölgesi

DİN KÜLTÜRÜ VE AHLAK BİLGİSİ DERSİNİ OKUYANLAR AŞAĞIDAKİ SORULARI CEVAPLAYACAKLARDIR.

21. "... Anne ve babaya, akrabaya, yetimlere, yoksullara, yakın komşuya, uzak komşuya, yakın arkadaş, yolcuya, sorumluluğunuz altında bulunanlara iyi davranın. Allah kendini beğenen ve övünüp duran kimseleri sevmez." (Nisâ suresi, 36. ayet.)

Bu ayet, Kur'an-ı Kerim'in ana konularından hangisinin kapsamında değerlendirilebilir?

- A) İnanç
- B) İbadet
- C) Ahlak
- D) Kıssa

22. "Sadık dost, arkadaşının ayıbını görünce sadece onu uyarır; bu ayıbını başkalarına yaymaz."

Bu söz, İslam'ın yasakladığı kötü davranışlardan hangisini engellemeye yöneliktir?

- A) Kıskançlık
- B) İftira
- C) Kibir
- D) Gıybet

23. Sıdk, emanet, fetanet, ismet ve tebliğ; peygamberlerde bulunan ortak niteliklerdir.

Aşağıdaki ayetlerin hangisinde bu niteliklerden herhangi birine yer verilmemiştir?

- A) “(Ey Muhammed!) Güçlü bir iradeye ve keskin bir kavrayış yeteneğine sahip olan İbrahim, İshak ve Yakup’u hatırla!” (Sâd suresi, 45. ayet.)
 B) “O peygamberler ki Allah’ın gönderdiği emirleri duyururlar, Allah’tan korkarlar ve ondan başka kimseden korkmazlar...” (Ahzâb suresi, 39. ayet.)
 C) “Size Rabb’imin mesajlarını duyuruyorum ve ben sizin için güvenilir bir öğüt vericiyim.” (A’râf suresi, 68. ayet.)
 D) “Andolsun, Allah’ın Resulü’nde sizin için; Allah’a ve ahiret gününe kavuşmayı uman, Allah’ı çok zikreden kimseler için güzel bir örnek vardır.” (Ahzâb suresi, 21. ayet.)

24.

DİYANET TAKVİMİ		ANKARA	
22 Recep 1434		İmsak : 03 22	
16 Mayıs 1429	Ay Dolun : 1 07	Güneş : 05 15	
27	Ay Baki : 13 18	Öğle : 12 53	
6 Ay - 20 Sani - Yıl 102 - Cilt - Kâğıt 212		İkindi : 16 48	
• Türk İslam Kurumlarında Kurulmuş Olarak (18 2)		Akşam : 20 20	
• Açıkla 2014’de Halka		Yatsı : 22 03	
• Açıkla 2014’de Halka		Kible s. : 12 19	

Ankara’da yaşayan Enes, sabah namazını yukarıdaki takvime göre hangi zaman aralığında kılmalıdır?

- A) 03:22 - 05:15 B) 03:22 - 12:53
 C) 05:15 - 12:53 D) 05:15 - 20:20

25. • Mescid-i Nebi’nin yanında inşa edilmiştir.
 • Genellikle ilim öğrenmek isteyen kimse-
 rin kaldığı yerdir.
 • Burada yetişen kişiler, başka topluluklara öğretmen olarak gönderilmiştir.

Hz. Peygamber tarafından eğitim ve öğretim için yaptırılan bu bölüm aşağıdakilerden hangisidir?

- A) Divan B) Suffa
 C) Dâru’l-Kütüb D) Dâru’l-Kurra

DİN KÜLTÜRÜ VE AHLAK BİLGİSİ DERSİNİ OKUMAYANLAR AŞAĞIDAKİ SORULARI CEVAPLAYACAKLARDIR.

21. Dünya nüfus artışına rağmen tarım alanlarının artmaması, gelecekte öncelikle aşağıdaki sorunlardan hangisinin ortaya çıkmasına neden olur?

- A) Su kirliliğinin
 B) Hava kirliliğinin
 C) Açlık - kıtlık tehlikesinin
 D) Plansız kentleşmenin

22. Aşağıda verilenlerden hangisi Türkiye’nin konumuna ait bir özelliktir?

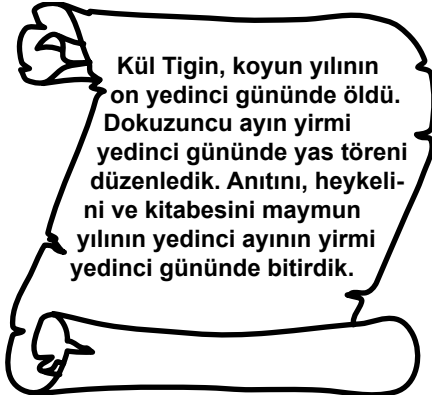
- A) Almanya ve İtalya sınır komşusudur.
 B) Yer şekilleri düz ve sadedir.
 C) Büyük Okyanus kıyısındadır.
 D) Kuzey Yarım Küre’de yer alır.

23. Çevre kirliliğinin en önemli sebeplerinden biri de su kirliliğidir. İnsanlar tarafından kirlenen su; doğal hayatı, turizmi, insan sağlığını ve tarımı da olumsuz etkilemektedir. Bu sorunun çözümünde yerel yönetimlere, sanayi kuruluşlarına ve tüm insanlara büyük görevler düşmektedir.

Parçadaki bilgidan çıkarılabilecek en kapsamlı yargı, aşağıdakilerden hangisidir?

- A) Sanayi atıkları, su kirliliğinin nedenlerinden biridir.
B) Turizm gelirlerinin azalma sebebi su kirliliğidir.
C) Su kirliliğini önlemek belediyelerin görevidir.
D) Su kirliliği çok boyutlu bir sorundur.

24.



Orhun Kitabelerinden alınan bu parçadan Kök Türklerle ilgili, aşağıdaki bilgilerden hangisine ulaşamaz?

- A) Uygurlar tarafından yıkıldıklarına
B) Taş işçiliğiyle uğraştıklarına
C) Cenazeleri için tören düzenlediklerine
D) 12 Hayvanlı Türk Takvimi'ni kullandıklarına

25. Osmanlı Devleti'nde 1876 yılında kabul edilen Kanunuesasi'nin aşağıdaki maddelerinden hangisi, hukukun üstünlüğü ilkesini vurgulamaktadır?

- A) Osmanlı Devleti'nin resmî dili Türkçedir.
B) Kanuna dayalı olmadığı sürece kimseden vergi alınamaz.
C) Herkesin mal ve mülk edinme hakkı vardır.
D) İşkence ve her türlü eziyet kesinlikle yasaktır.

TEST BİTTİ.

CEVAPLARINIZI KONTROL EDİNİZ.

SINAV SÜRESİNCE UYULACAK KURALLAR

- 1. Adaylar, sınav kurallarına ve salon görevlilerinin tüm uyarılarına uymak zorundadırlar. Kurallara ve uyarılara uymayan adayların sınavları geçersiz sayılacaktır.**
- 2. Sınav başladıktan sonra adayların salon görevlileri ve birbirleri ile konuşmaları, kalem, silgi vb. şeyleri istemeleri yasaktır.**
- 3. Adaylar sınav süresince, sınav giriş belgesi ile birlikte kimlik belgelerinden birini (nüfus cüzdanı veya pasaport) masalarının üzerinde bulundurmamak zorundadırlar.**
- 4. Sınav evraklarını teslim etmeyen, soru kitapçıklarının sayfalarından bir kısmını eksik teslim edenlerin sınavları geçersiz sayılacaktır.**

SALON GÖREVLİLERİNCE SINAV BAŞLAMADAN ÖNCE ADAYLARA YAPILACAK SON UYARI

- Soracağınız bir şey var mı? Varsa, şimdi sorunuz.
- Sınav başladıktan sonra sorularınıza cevap verilmeyecektir.
- Başlama zilini bekleyiniz.
- Hepinize başarılar dileriz.

(Salon başkanı başlama ve bitiş saatini tahtaya yazacaktır.)

Bu kitapçığın her hakkı saklıdır. Hangi amaçla olursa olsun, kitapçığın tamamının veya bir kısmının Millî Eğitim Bakanlığı Yenilik ve Eğitim Teknolojileri Genel Müdürlüğünün yazılı izni olmadan kopya edilmesi, fotoğraflarının çekilmesi, bilgisayar ortamına alınması, herhangi bir yolla çoğaltılması, yayımlanması veya başka bir amaçla kullanılması yasaktır. Bu yasağa uymayanlar, doğabilecek cezai sorumluluğu ve kitapçığın hazırlanmasındaki mali külfeti peşinen kabullenmiş sayılır.

9 HAZİRAN 2013 TARİHİNDE YAPILAN PARASIZ YATILILIK VE BURSLULUK SINAVI
6. SINIFLAR “B” KİTAPÇIĞI CEVAP ANAHTARI

TÜRKÇE	MATEMATİK	FEN ve TEKNOLOJİ	SOSYAL BİLGİLER
1. A	1. C	1. A	1. C
2. C	2. B	2. D	2. B
3. D	3. A	3. C	3. A
4. C	4. C	4. C	4. D
5. B	5. D	5. B	5. B
6. D	6. C	6. A	6. D
7. A	7. D	7. C	7. C
8. B	8. C	8. D	8. D
9. B	9. A	9. B	9. A
10. A	10. D	10. D	10. A
11. C	11. A	11. D	11. B
12. D	12. B	12. B	12. C
13. A	13. D	13. A	13. C
14. D	14. C	14. D	14. D
15. D	15. A	15. C	15. A
16. C	16. A	16. A	16. C
17. C	17. B	17. A	17. D
18. B	18. D	18. B	18. B
19. A	19. B	19. B	19. A
20. C	20. C	20. D	20. B
21. D	21. D	21. C	21. C
22. B	22. B	22. B	22. D
23. C	23. B	23. D	23. D
24. A	24. A	24. A	24. A
25. B	25. B	25. C	25. B