

Adı-Soyadı: Sınıfı: Okul No:

1.SORU (20 Puan)	2. SORU (25 Puan)	3. SORU (20 Puan)	4. SORU (15 Puan)	5. SORU (20 Puan)	ALDIĞI PUAN
.....


SB.6.4.3. Vatandaşlık haklarının kullanımında dijitalleşme ve teknolojik gelişmelerin etkilerini sorgulayabilme

- 1) Ece Hanım, yoğun işleri nedeniyle şehir merkezindeki tapu müdürlüğüne gitmeye vakit bulamamaktadır. Oğlu Emir'in yardımıyla e-Devlet uygulamasını kullanarak işlemlerini kısa sürede tamamlamıştır. Buna göre, Ece Hanım'ın dijital vatandaşlık örneği göstermesinin ona sağladığı iki temel avantajı yazınız.

- 1) İşlemlerini kısa sürede tamamlayarak zaman tasarrufu sağlamıştır.
2) Kuruma gitmeden işlem yapabildiği için ulaşım masrafından tasarruf etmiştir.

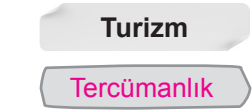
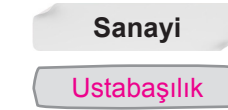
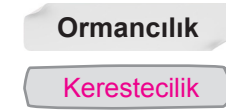
SB.6.5.1. Ülkemizin kaynakları ile ekonomik faaliyetler arasındaki ilişkiyi çözümlayebilme

- 2) Verilen görsellerin hangi ekonomik faaliyetle ilgili olduğunu görsellerin altındaki alanlara yazınız.



SB.6.5.2. Ekonomik faaliyetler ve meslekler arasındaki ilişki hakkında çıkarımda bulunabilme

- 3) Aşağıda verilen ekonomik faaliyetlere bağlı olarak gelişebilecek mesleklere birer tane örnek yazınız.



SB.6.5.2. Ekonomik faaliyetler ve meslekler arasındaki ilişki hakkında çıkarımda bulunabilme

- 4) Gelecekte büyük önem taşıyacağı tahmin edilen mesleklere üç tane örnek yazınız.

- 1) ..Yapay Zeka Uzmanlığı..... 2) ..Veri Bilimciliği..... 3) ..Siber Güvenlik Uzmanlığı.....

SB.6.5.3. Tasarladığı bir ürün için yatırım ve pazarlama proje önerisi hazırlayabilme

- 5) Ar-Ge; yeni bilgi üretmek, mevcut teknolojileri geliştirmek veya yeni ürün, hizmet ve süreçler oluşturmak için yapılan bilimsel çalışmalardır. İnovasyon; mevcut bir ürün, hizmet veya fikri geliştirerek yeni ve faydalı bir hâle getirme ya da tamamen yenisini ortaya koyma sürecidir.

Buna göre, aşağıdaki örneklerin Ar-Ge mi yoksa inovasyon mu olduğunu karşılarındaki kutulara yazınız.

a İlk telefonların sadece konuşma amaçlıyken; günümüzdeki akıllı telefonların kamera, genel ağ ve uygulama kullanımı gibi çok fonksiyonlu hâle gelmesi

.....İnovasyon.....

b Gıdaların bozulmasını geciktiren yeni maddelerin laboratuvar ortamında geliştirilmesi

.....Ar-Ge.....

Adı-Soyadı: Sınıfı: Okul No:

1.SORU (15 Puan)	2. SORU (20 Puan)	3. SORU (25 Puan)	4. SORU (15 Puan)	5. SORU (15 Puan)	6. SORU (10 Puan)	ALDIĞI PUAN
.....

SB.6.4.2. Toplumsal düzenin sürdürülmesinde temel hak ve sorumlulukların önemini yorumlayabilme

- 1) Ceren, akşam evde çok sevdiği bir şarkıyı yüksek sesle dinlemek istemektedir. Ancak alt komşusu bu durumdan rahatsız olup Selin'i uyarmıştır. Selin ise "Kendi evimde istediğim müziği dinleme özgürlüğüne sahibim." diyerek tepki vermiştir.

Ceren'in bu düşüncesini, anayasamızda yer alan "hakların sınırı" çerçevesinde değerlendiriniz.

Özgürlük başkalarının huzur içinde yaşama ve dinlenme hakkının başladığı yerde biter. Komşuları rahatsız etmemek hem yasal bir sorumluluktur hem de toplumsal barışın gereğidir.

SB.6.4.3. Vatandaşlık haklarının kullanımında dijitalleşme ve teknolojik gelişmelerin etkilerini sorgulayabilme

- 2) Ece Hanım, yoğun işleri nedeniyle şehir merkezindeki tapu müdürlüğüne gitmeye vakit bulamamaktadır. Oğlu Emir'in yardımıyla e-Devlet uygulamasını kullanarak işlemlerini kısa sürede tamamlamıştır.

Buna göre, Ece Hanım'ın dijital vatandaşlık örneği göstermesinin ona sağladığı iki temel avantajı yazınız.

1) İşlemlerini kısa sürede tamamlayarak zaman tasarrufu sağlamıştır.

2) Kuruma gitmeden işlem yapabildiği için ulaşım masrafından tasarruf etmiştir.

SB.6.5.1. Ülkemizin kaynakları ile ekonomik faaliyetler arasındaki ilişkiyi çözümleyebilme

- 3) Verilen görsellerin hangi ekonomik faaliyetle ilgili olduğunu görsellerin altındaki alanlara yazınız.



Tarım



Balıkçılık



Mobilyacılık



Madencilik



Turizm

SB.6.5.2. Ekonomik faaliyetler ve meslekler arasındaki ilişki hakkında çıkarımda bulunabilme

- 4) Aşağıda verilen ekonomik faaliyetlere bağlı olarak gelişebilecek mesleklere birer tane örnek yazınız.

Tarım

Hayvancılık

Ormancılık

Sanayi

Turizm

Çiftçi

Veterinerlik

Kerestecilik

Ustabaşılık

Tercümanlık

SB.6.5.2. Ekonomik faaliyetler ve meslekler arasındaki ilişki hakkında çıkarımda bulunabilme

5) Gelecekte büyük önem taşıyacağı tahmin edilen mesleklere üç tane örnek yazınız.

- 1) Yapay Zeka Uzmanlığı 2) Veri Bilimciliği 3) Siber Güvenlik Uzmanlığı

SB.6.5.3. Tasarladığı bir ürün için yatırım ve pazarlama proje önerisi hazırlayabilme

6) Ar-Ge; yeni bilgi üretmek, mevcut teknolojileri geliştirmek veya yeni ürün, hizmet ve süreçler oluşturmak için yapılan bilimsel çalışmalardır. İnovasyon; mevcut bir ürün, hizmet veya fikri geliştirerek yeni ve faydalı bir hâle getirme ya da tamamen yenisini ortaya koyma sürecidir.

Buna göre, aşağıdaki örneklerin Ar-Ge mi yoksa inovasyon mu olduğunu karşılarındaki kutulara yazınız.

a İlk telefonların sadece konuşma amaçlıyken; günümüzdeki akıllı telefonların kamera, genel ağ ve uygulama kullanımı gibi çok fonksiyonlu hâle gelmesi

İnovasyon

b Gıdaların bozulmasını geciktiren yeni maddelerin laboratuvar ortamında geliştirilmesi

Ar-Ge

Adı-Soyadı: Sınıfı: Okul No:

1. SORU (15 Puan)	2. SORU (20 Puan)	3. SORU (15 Puan)	4. SORU (10 Puan)	5. SORU (15 Puan)	6. SORU (15 Puan)	7. SORU (10 Puan)	ALDIĞI PUAN
.....

SB.6.4.2. Toplumsal düzenin sürdürülmesinde temel hak ve sorumlulukların önemini yorumlayabilme

- 1) Ceren, akşam evde çok sevdiği bir şarkıyı yüksek sesle dinlemek istemektedir. Ancak alt komşusu bu durumdan rahatsız olup Selin'i uyarmıştır. Selin ise "Kendi evimde istediğim müziği dinleme özgürlüğüne sahibim." diyerek tepki vermiştir.

Ceren'in bu düşüncesini, anayasamızda yer alan "hakların sınırı" çerçevesinde değerlendiriniz.

Özgürlük başkalarının huzur içinde yaşama ve dinlenme hakkının başladığı yerde biter. Komşuları rahatsız etmek hem yasal bir sorumluluktur hem de toplumsal barışın gereğidir.

SB.6.4.3. Vatandaşlık haklarının kullanımında dijitalleşme ve teknolojik gelişmelerin etkilerini sorgulayabilme

- 2) Ece Hanım, yoğun işleri nedeniyle şehir merkezindeki tapu müdürlüğüne gitmeye vakit bulamamaktadır. Oğlu Emir'in yardımıyla e-Devlet uygulamasını kullanarak işlemlerini kısa sürede tamamlamıştır.

Buna göre, Ece Hanım'ın dijital vatandaşlık örneği göstermesinin ona sağladığı iki temel avantajı yazınız.

1) **İşlemlerini kısa sürede tamamlayarak zaman tasarrufu sağlamıştır.**

2) **Kuruma gitmeden işlem yapabildiği için ulaşım masrafından tasarruf etmiştir.**

SB.6.5.1. Ülkemizin kaynakları ile ekonomik faaliyetler arasındaki ilişkiyi çözümleyebilme

- 3) Verilen görsellerin hangi ekonomik faaliyetle ilgili olduğunu görsellerin altındaki alanlara yazınız.



Tarım



Balıkçılık



Mobilyacılık



Madencilik



Turizm

SB.6.5.1. Ülkemizin kaynakları ile ekonomik faaliyetler arasındaki ilişkiyi çözümleyebilme

- 4) Kastamonu ve Bolu gibi illerimizde kereste fabrikalarının ve mobilya atölyelerinin yaygın olmasının temel sebebi nedir? Doğal kaynak-ekonomik faaliyet ilişkisi çerçevesinde açıklayınız.

Temel sebebi ham maddeye yakınlıktır. Kastamonu ve Bolu, orman varlığı bakımından zengin illerimiz olduğu için kerestecilik ve mobilya sanayisi bu illerde doğal olarak gelişmiştir.

SB.6.5.2. Ekonomik faaliyetler ve meslekler arasındaki ilişki hakkında çıkarımda bulunabilme

5) Aşağıda verilen ekonomik faaliyetlere bağlı olarak gelişebilecek mesleklere birer tane örnek yazınız.

Tarım

Hayvancılık

Ormancılık

Sanayi

Turizm

Çiftçi

Veterinerlik

Kerestecilik

Ustabaşılık

Tercümanlık

SB.6.5.2. Ekonomik faaliyetler ve meslekler arasındaki ilişki hakkında çıkarımda bulunabilme

6) Gelecekte büyük önem taşıyacağı tahmin edilen mesleklere üç tane örnek yazınız.

- 1) Yapay Zeka Uzmanlığı 2) Veri Bilimciliği 3) Siber Güvenlik Uzmanlığı

SB.6.5.3. Tasarladığı bir ürün için yatırım ve pazarlama proje önerisi hazırlayabilme

7) Ar-Ge; yeni bilgi üretmek, mevcut teknolojileri geliştirmek veya yeni ürün, hizmet ve süreçler oluşturmak için yapılan bilimsel çalışmalardır. İnovasyon; mevcut bir ürün, hizmet veya fikri geliştirerek yeni ve faydalı bir hâle getirme ya da tamamen yenisini ortaya koyma sürecidir.

Buna göre, aşağıdaki örneklerin Ar-Ge mi yoksa inovasyon mu olduğunu karşılarındaki kutulara yazınız.

a İlk telefonların sadece konuşma amaçlıyken; günümüzdeki akıllı telefonların kamera, genel ağ ve uygulama kullanımı gibi çok fonksiyonlu hâle gelmesi

..... İnovasyon

b Gıdaların bozulmasını geciktiren yeni maddelerin laboratuvar ortamında geliştirilmesi

..... Ar-Ge

Adı-Soyadı: Sınıfı: Okul No:

1. SORU (20 Puan)	2. SORU (10 Puan)	3. SORU (10 Puan)	4. SORU (15 Puan)	5. SORU (10 Puan)	6. SORU (10 Puan)	7. SORU (15 Puan)	8. SORU (10 Puan)	ALDIĞI PUAN
.....

SB.6.4.1. Yönetimin karar alma sürecini etkileyen unsurları çözümleyebilme

- 1) Bir mahallede çocukların oyun oynayabileceği bir park bulunmamaktadır. Mahalle sakinleri bu sorunu çözmek için kendi aralarında birleşerek belediyeye yazılı bir başvuru yapmaya karar verirler. Ayrıca bu durumu yerel bir gazeteciye anlatarak haber yapılmasını sağlarlar.

- a) Mahalle sakinlerinin belediyeye yazılı başvuru yaparak kullandıkları anayasal hak hangisidir?
- b) Gazetede haber yapılması yönetimin karar alma sürecini etkileyen unsurlardan hangisinin kullanıldığını gösterir?

Dilekçe Hakkı

Medya

SB.6.4.2. Toplumsal düzenin sürdürülmesinde temel hak ve sorumlulukların önemini yorumlayabilme

- 2) Ceren, akşam evde çok sevdiği bir şarkıyı yüksek sesle dinlemek istemektedir. Ancak alt komşusu bu durumdan rahatsız olup Selin'i uyarmıştır. Selin ise "Kendi evimde istediğim müziği dinleme özgürlüğüne sahibim" diyerek tepki vermiştir.

Ceren'in bu düşüncesini, anayasamızda yer alan "hakların sınırı" çerçevesinde değerlendiriniz. Özgürlük başkalarının huzur içinde yaşama ve dinlenme hakkının başladığı yerde biter. Komşuları rahatsız etmek hem yasal bir sorumluluktur hem de toplumsal barışın gereğidir.

SB.6.4.3. Vatandaşlık haklarının kullanımında dijitalleşme ve teknolojik gelişmelerin etkilerini sorgulayabilme

- 3) Ece Hanım, yoğun işleri nedeniyle şehir merkezindeki tapu müdürlüğüne gitmeye vakit bulamamaktadır. Oğlu Emir'in yardımıyla e-Devlet uygulamasını kullanarak işlemlerini kısa sürede tamamlamıştır. Buna göre, Ece Hanım'ın dijital vatandaşlık örneği göstermesinin ona sağladığı iki temel avantajı yazınız.
- 1) İşlemlerini kısa sürede tamamlayarak zaman tasarrufu sağlamıştır.
- 2) Kuruma gitmeden işlem yapabildiği için ulaşım masrafından tasarruf etmiştir.

SB.6.5.1. Ülkemizin kaynakları ile ekonomik faaliyetler arasındaki ilişkiyi çözümleyebilme

- 4) Verilen görsellerin hangi ekonomik faaliyetle ilgili olduğunu görsellerin altındaki alanlara yazınız.



SB.6.5.1. Ülkemizin kaynakları ile ekonomik faaliyetler arasındaki ilişkiyi çözümleyebilme

- 5) Kastamonu ve Bolu gibi illerimizde kereste fabrikalarının ve mobilya atölyelerinin yaygın olmasının temel sebebi nedir? Doğal kaynak-ekonomik faaliyet ilişkisi çerçevesinde açıklayınız.
Temel sebebi ham maddeye yakınlıktır. Kastamonu ve Bolu, orman varlığı bakımından zengin illerimiz olduğu için kerestecilik ve mobilya sanayisi bu illerde doğal olarak gelişmiştir.

SB.6.5.2. Ekonomik faaliyetler ve meslekler arasındaki ilişki hakkında çıkarımda bulunabilme

- 6) Aşağıda verilen ekonomik faaliyetlere bağlı olarak gelişebilecek mesleklere birer tane örnek yazınız.

Tarım	Hayvancılık	Ormancılık	Sanayi	Turizm
Çiftçi	Veterinerlik	Kerestecilik	Ustabaşılık	Tercümanlık

SB.6.5.2. Ekonomik faaliyetler ve meslekler arasındaki ilişki hakkında çıkarımda bulunabilme

- 7) Gelecekte büyük önem taşıyacağı tahmin edilen mesleklere üç tane örnek yazınız.
1) Yapay Zeka Uzmanlığı 2) Veri Bilimciliği 3) Siber Güvenlik Uzmanlığı

SB.6.5.3. Tasarladığı bir ürün için yatırım ve pazarlama projesi önerisi hazırlayabilme

- 8) Ar-Ge; yeni bilgi üretmek, mevcut teknolojileri geliştirmek veya yeni ürün, hizmet ve süreçler oluşturmak için yapılan bilimsel çalışmalardır. İnovasyon; mevcut bir ürün, hizmet veya fikri geliştirerek yeni ve faydalı bir hâle getirme ya da tamamen yenisini ortaya koyma sürecidir.

Buna göre, aşağıdaki örneklerin Ar-Ge mi yoksa inovasyon mu olduğunu karşılarındaki kutulara yazınız.

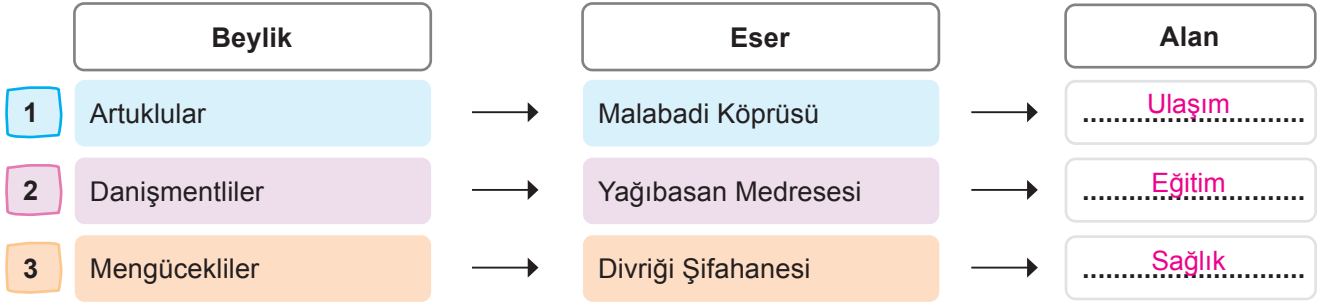
- a İlk telefonların sadece konuşma amaçlıyken; günümüzdeki akıllı telefonların kamera, genel ağ ve uygulama kullanımı gibi çok fonksiyonlu hâle gelmesi İnovasyon
- b Gıdaların bozulmasını geciktiren yeni maddelerin laboratuvar ortamında geliştirilmesi Ar-Ge

Adı-Soyadı: Sınıfı: Okul No:

1. SORU (15 Puan)	2. SORU (10 Puan)	3. SORU (10 Puan)	4. SORU (10 Puan)	5. SORU (10 Puan)	6. SORU (5 Puan)	7. SORU (15 Puan)	8. SORU (15 Puan)	9. SORU (10 Puan)	ALDIĞI PUAN
.....

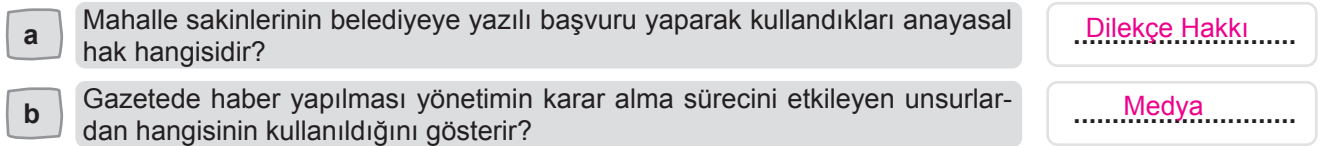
SB.6.3.4. XI-XIII. yüzyıllar arasında meydana gelen siyasi faaliyetler ve askerî mücadelelerin Anadolu'nun Türkleşmesi ve İslamlaşmasına etkisini özetleyebilme

- 1) Anadolu'da kurulan ilk Türk beylikleri, fethettikleri bölgelerde birçok önemli eser bırakmışlardır. Aşağıdaki şemada verilen beyliklerin yaptırdığı eserlerin hangi alana ait olduğunu ilgili bölümlere yazınız.



SB.6.4.1. Yönetimin karar alma sürecini etkileyen unsurları çözümleyebilme

- 2) Bir mahallede çocukların oyun oynayabileceği bir park bulunmamaktadır. Mahalle sakinleri bu sorunu çözmek için kendi aralarında birleşerek belediyeye yazılı bir başvuru yapmaya karar verirler. Ayrıca bu durumu yerel bir gazeteciye anlatarak haber yapılmasını sağlarlar.



SB.6.4.2. Toplumsal düzenin sürdürülmesinde temel hak ve sorumlulukların önemini yorumlayabilme

- 3) Ceren, akşam evde çok sevdiği bir şarkıyı yüksek sesle dinlemek istemektedir. Ancak alt komşusu bu durumdan rahatsız olup Selin'i uyarmıştır. Selin ise "Kendi evimde istediğim müziği dinleme özgürlüğüne sahibim" diyerek tepki vermiştir.

Ceren'in bu düşüncesini, anayasamızda yer alan "hakların sınırı" çerçevesinde değerlendiriniz.
Özgürlük başkalarının huzur içinde yaşama ve dinlenme hakkının başladığı yerde biter. Komşuları rahatsız etmek hem yasal bir sorumluluktur hem de toplumsal barışın gereğidir.

SB.6.4.3. Vatandaşlık haklarının kullanımında dijitalleşme ve teknolojik gelişmelerin etkilerini sorgulayabilme

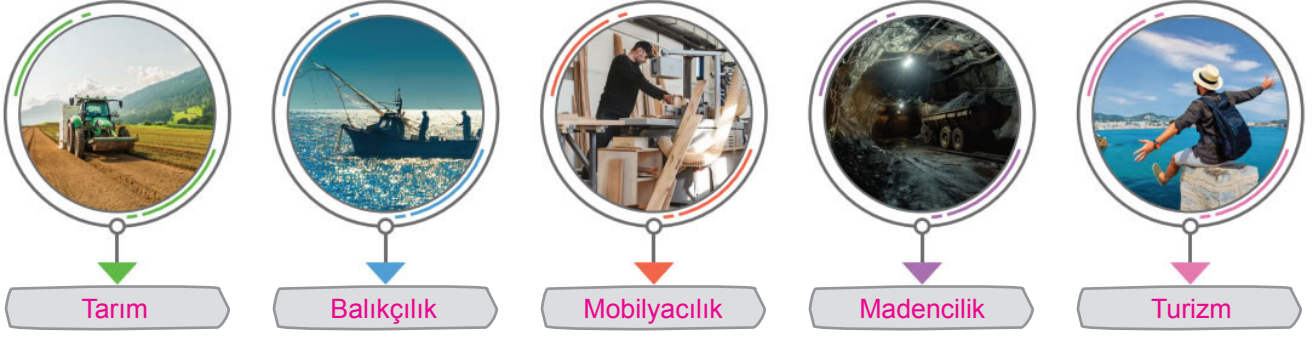
- 4) Ece Hanım, yoğun işleri nedeniyle şehir merkezindeki tapu müdürlüğüne gitmeye vakit bulamamaktadır. Oğlu Emir'in yardımıyla e-Devlet uygulamasını kullanarak işlemlerini kısa sürede tamamlamıştır.

Buna göre, Ece Hanım'ın dijital vatandaşlık örneği göstermesinin ona sağladığı iki temel avantajı yazınız.

- 1) İşlemlerini kısa sürede tamamlayarak zaman tasarrufu sağlamıştır.
- 2) Kuruma gitmeden işlem yapabildiği için ulaşım masrafından tasarruf etmiştir.

SB.6.5.1. Ülkemizin kaynakları ile ekonomik faaliyetler arasındaki ilişkiyi çözümleyebilme

5) Verilen görsellerin hangi ekonomik faaliyetle ilgili olduğunu görsellerin altındaki alanlara yazınız.



SB.6.5.1. Ülkemizin kaynakları ile ekonomik faaliyetler arasındaki ilişkiyi çözümleyebilme

6) Kastamonu ve Bolu gibi illerimizde kereste fabrikalarının ve mobilya atölyelerinin yaygın olmasının temel sebebi nedir? Doğal kaynak-ekonomik faaliyet ilişkisi çerçevesinde açıklayınız.
Temel sebebi ham maddeye yakınlıktır. Kastamonu ve Bolu, orman varlığı bakımından zengin illerimiz olduğu için kerestecilik ve mobilya sanayisi bu illerde doğal olarak gelişmiştir.

SB.6.5.2. Ekonomik faaliyetler ve meslekler arasındaki ilişki hakkında çıkarımda bulunabilme

7) Aşağıda verilen ekonomik faaliyetlere bağlı olarak gelişebilecek mesleklere birer tane örnek yazınız.

Tarım	Hayvancılık	Ormancılık	Sanayi	Turizm
Çiftçi	Veterinerlik	Kerestecilik	Ustabaşılık	Tercümanlık

SB.6.5.2. Ekonomik faaliyetler ve meslekler arasındaki ilişki hakkında çıkarımda bulunabilme

8) Gelecekte büyük önem taşıyacağı tahmin edilen mesleklere üç tane örnek yazınız.

1) Yapay Zekâ Uzmanlığı 2) Veri Bilimciliği 3) Siber Güvenlik Uzmanlığı

SB.6.5.3. Tasarladığı bir ürün için yatırım ve pazarlama proje önerisi hazırlayabilme

9) Ar-Ge; yeni bilgi üretmek, mevcut teknolojileri geliştirmek veya yeni ürün, hizmet ve süreçler oluşturmak için yapılan bilimsel çalışmalardır. İnovasyon; mevcut bir ürün, hizmet veya fikri geliştirerek yeni ve faydalı bir hâle getirme ya da tamamen yenisini ortaya koyma sürecidir.

Buna göre, aşağıdaki örneklerin Ar-Ge mi yoksa inovasyon mu olduğunu karşılarındaki kutulara yazınız.

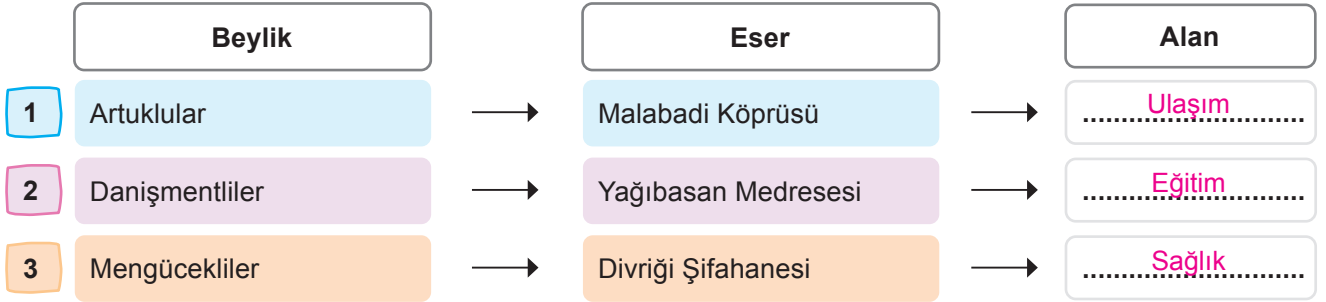
a	İlk telefonların sadece konuşma amaçlıyken; günümüzdeki akıllı telefonların kamera, genel ağ ve uygulama kullanımı gibi çok fonksiyonlu hâle gelmesiİnovasyon.....
b	Gıdaların bozulmasını geciktiren yeni maddelerin laboratuvar ortamında geliştirilmesiAr-Ge.....

Adı-Soyadı: Sınıfı: Okul No:

1.SORU (15 Puan)	2. SORU (10 Puan)	3. SORU (5 Puan)	4. SORU (10 Puan)	5. SORU (10 Puan)	6. SORU (5 Puan)	7. SORU (10 Puan)	8. SORU (15 Puan)	9. SORU (10 Puan)	10 SORU (10 Puan)	ALDIĞI PUAN
.....

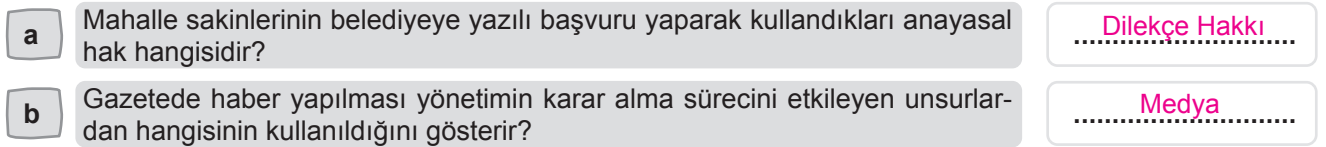
SB.6.3.4. XI-XIII. yüzyıllar arasında meydana gelen siyasi faaliyetler ve askerî mücadelelerin Anadolu'nun Türkleşmesi ve İslamlaşmasına etkisini özetleyebilme

- 1) Anadolu'da kurulan ilk Türk beylikleri, fethettikleri bölgelerde birçok önemli eser bırakmışlardır. Aşağıdaki şemada verilen beyliklerin yaptırdığı eserlerin hangi alana ait olduğunu ilgili bölümlere yazınız.



SB.6.4.1. Yönetimin karar alma sürecini etkileyen unsurları çözümlayebilme

- 2) Bir mahallede çocukların oyun oynayabileceği bir park bulunmamaktadır. Mahalle sakinleri bu sorunu çözmek için kendi aralarında birleşerek belediyeye yazılı bir başvuru yapmaya karar verirler. Ayrıca bu durumu yerel bir gazeteciye anlatarak haber yapılmasını sağlarlar.



SB.6.4.2. Toplumsal düzenin sürdürülmesinde temel hak ve sorumlulukların önemini yorumlayabilme

- 3) Ceren, akşam evde çok sevdiği bir şarkıyı yüksek sesle dinlemek istemektedir. Ancak alt komşusu bu durumdan rahatsız olup Selin'i uyarmıştır. Selin ise "Kendi evimde istediğim müziği dinleme özgürlüğüne sahibim." diyerek tepki vermiştir.

Ceren'in bu düşüncesini, anayasamızda yer alan "hakların sınırı" çerçevesinde değerlendiriniz.

Özgürlük başkalarının huzur içinde yaşama ve dinlenme hakkının başladığı yerde biter. Komşuları rahatsız etmek hem yasal bir sorumluluktur hem de toplumsal barışın gereğidir.

SB.6.4.3. Vatandaşlık haklarının kullanımında dijitalleşme ve teknolojik gelişmelerin etkilerini sorgulayabilme

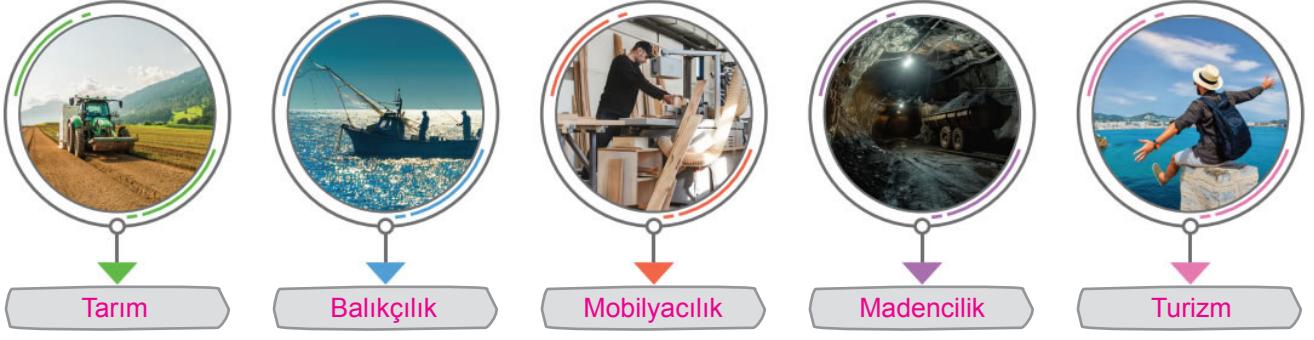
- 4) Ece Hanım, yoğun işleri nedeniyle şehir merkezindeki tapu müdürlüğüne gitmeye vakit bulamamaktadır. Oğlu Emir'in yardımıyla e-Devlet uygulamasını kullanarak işlemlerini kısa sürede tamamlamıştır.

Buna göre, Ece Hanım'ın dijital vatandaşlık örneği göstermesinin ona sağladığı iki temel avantajı yazınız.

- 1) İşlemlerini kısa sürede tamamlayarak zaman tasarrufu sağlamıştır.
2) Kuruma gitmeden işlem yapabildiği için ulaşım masrafından tasarruf etmiştir.

SB.6.5.1. Ülkemizin kaynakları ile ekonomik faaliyetler arasındaki ilişkiyi çözümleyebilme

5) Verilen görsellerin hangi ekonomik faaliyetle ilgili olduğunu görsellerin altındaki alanlara yazınız.



SB.6.5.1. Ülkemizin kaynakları ile ekonomik faaliyetler arasındaki ilişkiyi çözümleyebilme

6) Kastamonu ve Bolu gibi illerimizde kereste fabrikalarının ve mobilya atölyelerinin yaygın olmasının temel sebebi nedir? Doğal kaynak-ekonomik faaliyet ilişkisi çerçevesinde açıklayınız.

Temel sebebi ham maddeye yakınlıktır. Kastamonu ve Bolu, orman varlığı bakımından zengin illerimiz olduğu için kerestecilik ve mobilya sanayisi bu illerde doğal olarak gelişmiştir.

SB.6.5.2. Ekonomik faaliyetler ve meslekler arasındaki ilişki hakkında çıkarımda bulunabilme

7) Aşağıda verilen ekonomik faaliyetlere bağlı olarak gelişebilecek mesleklere birer tane örnek yazınız.

Tarım	Hayvancılık	Ormancılık	Sanayi	Turizm
Çiftçi	Veterinerlik	Kerestecilik	Ustabaşılık	Tercümanlık

SB.6.5.2. Ekonomik faaliyetler ve meslekler arasındaki ilişki hakkında çıkarımda bulunabilme

8) Gelecekte büyük önem taşıyacağı tahmin edilen mesleklere üç tane örnek yazınız.

1) Yapay Zekâ Uzmanlığı 2) Veri Bilimciliği 3) Siber Güvenlik Uzmanlığı

SB.6.5.3. Tasarladığı bir ürün için yatırım ve pazarlama proje önerisi hazırlayabilme

9) Ar-Ge; yeni bilgi üretmek, mevcut teknolojileri geliştirmek veya yeni ürün, hizmet ve süreçler oluşturmak için yapılan bilimsel çalışmalardır. İnovasyon; mevcut bir ürün, hizmet veya fikri geliştirerek yeni ve faydalı bir hâle getirme ya da tamamen yenisini ortaya koyma sürecidir.

Buna göre, aşağıdaki örneklerin Ar-Ge mi yoksa inovasyon mu olduğunu karşılarındaki kutulara yazınız.

a	İlk telefonların sadece konuşma amaçlıyken; günümüzdeki akıllı telefonların kamera, genel ağ ve uygulama kullanımı gibi çok fonksiyonlu hâle gelmesi	İnovasyon
b	Gıdaların bozulmasını geciktiren yeni maddelerin laboratuvar ortamında geliştirilmesi	Ar-Ge

SB.6.6.1. Ulaşım ve iletişim teknolojilerindeki gelişmelerin kültürel etkileşimdeki rolünü yapılandırabilme

10) Sosyal medya; genel ağın popülerliğini sürdüren, bireyler ve kurumların çevrim içi platformlar üzerinden bilgi ve iletişim amacıyla kullandığı yeni nesil dijital medya alanıdır.

Buna göre, sosyal medyanın yararlarına iki tane örnek yazınız.

1) Hızlı ve kolay iletişim imkânı sunar.
2) Bilgiye anında erişim ve eğitimde kolaylık sağlar.