

Adı-Soyadı: Sınıfı: Okul No:

1.SORU (20 Puan)	2. SORU (25 Puan)	3. SORU (20 Puan)	4. SORU (15 Puan)	5. SORU (20 Puan)	ALDIĞI PUAN
.....

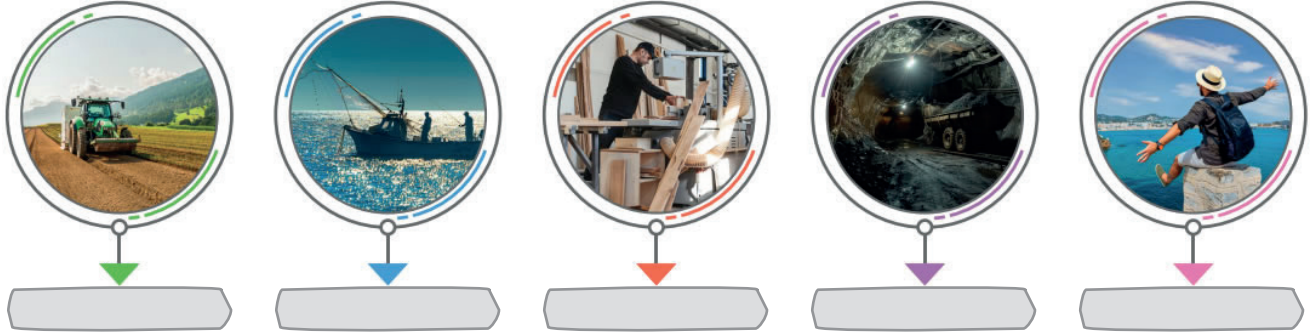
SB.6.4.3. Vatandaşlık haklarının kullanımında dijitalleşme ve teknolojik gelişmelerin etkilerini sorgulayabilme

- 1) Ece Hanım, yoğun işleri nedeniyle şehir merkezindeki tapu müdürlüğüne gitmeye vakit bulamamaktadır. Oğlu Emir'in yardımıyla e-Devlet uygulamasını kullanarak işlemlerini kısa sürede tamamlamıştır. Buna göre, Ece Hanım'ın dijital vatandaşlık örneği göstermesinin ona sağladığı iki temel avantajı yazınız.

- 1)
2)

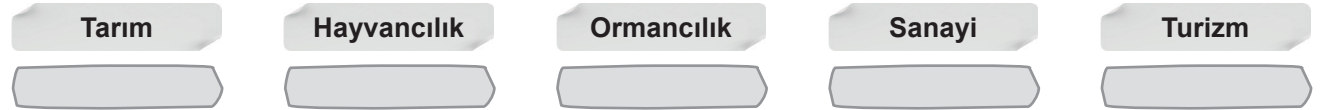
SB.6.5.1. Ülkemizin kaynakları ile ekonomik faaliyetler arasındaki ilişkiyi çözümleyebilme

- 2) Verilen görsellerin hangi ekonomik faaliyetle ilgili olduğunu görsellerin altındaki alanlara yazınız.



SB.6.5.2. Ekonomik faaliyetler ve meslekler arasındaki ilişki hakkında çıkarımda bulunabilme

- 3) Aşağıda verilen ekonomik faaliyetlere bağlı olarak gelişebilecek mesleklere birer tane örnek yazınız.



SB.6.5.2. Ekonomik faaliyetler ve meslekler arasındaki ilişki hakkında çıkarımda bulunabilme

- 4) Gelecekte büyük önem taşıyacağı tahmin edilen mesleklere üç tane örnek yazınız.

- 1) 2) 3)

SB.6.5.3. Tasarladığı bir ürün için yatırım ve pazarlama proje önerisi hazırlayabilme

- 5) Ar-Ge; yeni bilgi üretmek, mevcut teknolojileri geliştirmek veya yeni ürün, hizmet ve süreçler oluşturmak için yapılan bilimsel çalışmalardır. İnovasyon; mevcut bir ürün, hizmet veya fikri geliştirerek yeni ve faydalı bir hâle getirme ya da tamamen yenisini ortaya koyma sürecidir.

Buna göre, aşağıdaki örneklerin Ar-Ge mi yoksa inovasyon mu olduğunu karşılarındaki kutulara yazınız.

- a İlk telefonların sadece konuşma amaçlıyken; günümüzdeki akıllı telefonların kamera, genel ağ ve uygulama kullanımı gibi çok fonksiyonlu hâle gelmesi
b Gıdaların bozulmasını geciktiren yeni maddelerin laboratuvar ortamında geliştirilmesi

Adı-Soyadı: Sınıfı: Okul No:

1.SORU (15 Puan)	2. SORU (20 Puan)	3. SORU (25 Puan)	4. SORU (15 Puan)	5. SORU (15 Puan)	6. SORU (10 Puan)	ALDIĞI PUAN
.....

SB.6.4.2. Toplumsal düzenin sürdürülmesinde temel hak ve sorumlulukların önemini yorumlayabilme

- 1) Ceren, akşam evde çok sevdiği bir şarkıyı yüksek sesle dinlemek istemektedir. Ancak alt komşusu bu durumdan rahatsız olup Selin'i uyarmıştır. Selin ise "Kendi evimde istediğim müziği dinleme özgürlüğüne sahibim." diyerek tepki vermiştir.

Ceren'in bu düşüncesini, anayasamızda yer alan "hakların sınırı" çerçevesinde değerlendiriniz.

.....
.....

SB.6.4.3. Vatandaşlık haklarının kullanımında dijitalleşme ve teknolojik gelişmelerin etkilerini sorgulayabilme

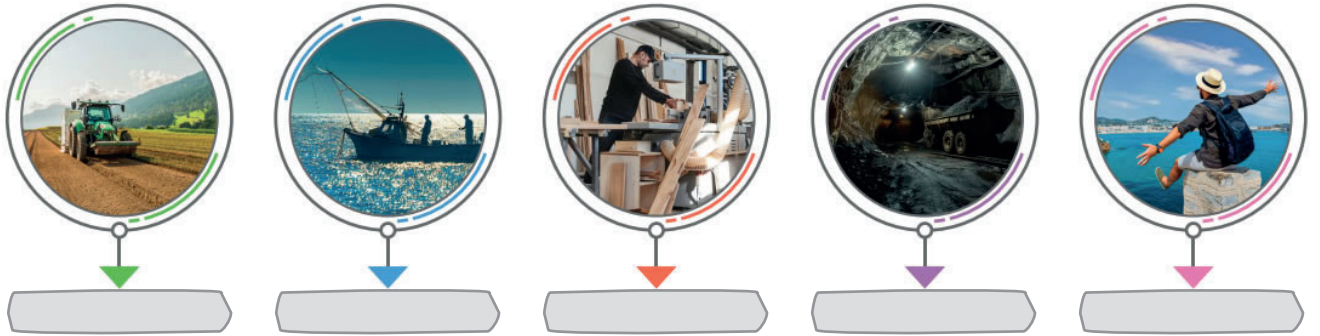
- 2) Ece Hanım, yoğun işleri nedeniyle şehir merkezindeki tapu müdürlüğüne gitmeye vakit bulamamaktadır. Oğlu Emir'in yardımıyla e-Devlet uygulamasını kullanarak işlemlerini kısa sürede tamamlamıştır.

Buna göre, Ece Hanım'ın dijital vatandaşlık örneği göstermesinin ona sağladığı iki temel avantajı yazınız.

- 1)
2)

SB.6.5.1. Ülkemizin kaynakları ile ekonomik faaliyetler arasındaki ilişkiyi çözümleyebilme

- 3) Verilen görsellerin hangi ekonomik faaliyetle ilgili olduğunu görsellerin altındaki alanlara yazınız.



SB.6.5.2. Ekonomik faaliyetler ve meslekler arasındaki ilişki hakkında çıkarımda bulunabilme

- 4) Aşağıda verilen ekonomik faaliyetlere bağlı olarak gelişebilecek mesleklere birer tane örnek yazınız.

Tarım	Hayvancılık	Ormancılık	Sanayi	Turizm
.....

SB.6.5.2. Ekonomik faaliyetler ve meslekler arasındaki ilişki hakkında çıkarımda bulunabilme

5) Gelecekte büyük önem taşıyacağı tahmin edilen mesleklere üç tane örnek yazınız.

1) 2) 3)

SB.6.5.3. Tasarladığı bir ürün için yatırım ve pazarlama proje önerisi hazırlayabilme

6) Ar-Ge; yeni bilgi üretmek, mevcut teknolojileri geliştirmek veya yeni ürün, hizmet ve süreçler oluşturmak için yapılan bilimsel çalışmalardır. İnovasyon; mevcut bir ürün, hizmet veya fikri geliştirerek yeni ve faydalı bir hâle getirme ya da tamamen yenisini ortaya koyma sürecidir.

Buna göre, aşağıdaki örneklerin Ar-Ge mi yoksa inovasyon mu olduğunu karşılarındaki kutulara yazınız.

- a İlk telefonların sadece konuşma amaçlıyken; günümüzdeki akıllı telefonların kamera, genel ağ ve uygulama kullanımı gibi çok fonksiyonlu hâle gelmesi
- b Gıdaların bozulmasını geciktiren yeni maddelerin laboratuvar ortamında geliştirilmesi

Adı-Soyadı: Sınıfı: Okul No:

1. SORU (15 Puan)	2. SORU (20 Puan)	3. SORU (15 Puan)	4. SORU (10 Puan)	5. SORU (15 Puan)	6. SORU (15 Puan)	7. SORU (10 Puan)	ALDIĞI PUAN
.....

SB.6.4.2. Toplumsal düzenin sürdürülmesinde temel hak ve sorumlulukların önemini yorumlayabilme

- 1) Ceren, akşam evde çok sevdiği bir şarkıyı yüksek sesle dinlemek istemektedir. Ancak alt komşusu bu durumdan rahatsız olup Selin'i uyarmıştır. Selin ise "Kendi evimde istediğim müziği dinleme özgürlüğüne sahibim." diyerek tepki vermiştir.

Ceren'in bu düşüncesini, anayasamızda yer alan "hakların sınırı" çerçevesinde değerlendiriniz.

.....
.....

SB.6.4.3. Vatandaşlık haklarının kullanımında dijitalleşme ve teknolojik gelişmelerin etkilerini sorgulayabilme

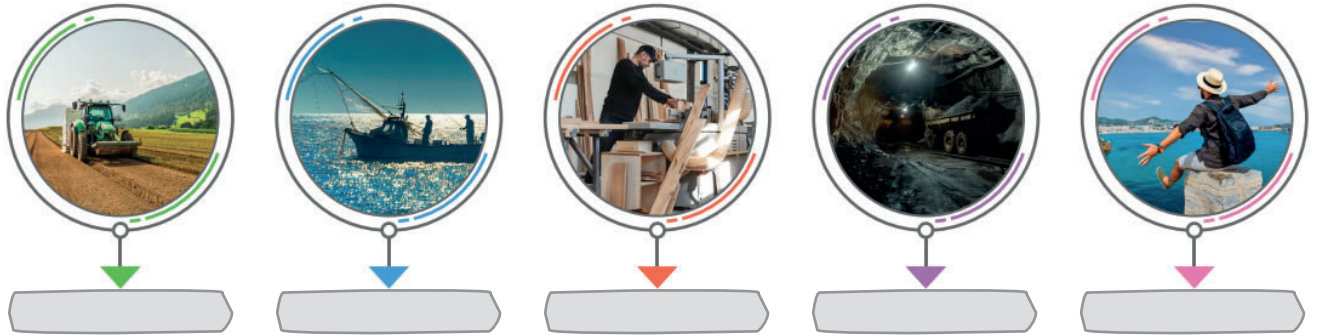
- 2) Ece Hanım, yoğun işleri nedeniyle şehir merkezindeki tapu müdürlüğüne gitmeye vakit bulamamaktadır. Oğlu Emir'in yardımıyla e-Devlet uygulamasını kullanarak işlemlerini kısa sürede tamamlamıştır.

Buna göre, Ece Hanım'ın dijital vatandaşlık örneği göstermesinin ona sağladığı iki temel avantajı yazınız.

- 1)
2)

SB.6.5.1. Ülkemizin kaynakları ile ekonomik faaliyetler arasındaki ilişkiyi çözümleyebilme

- 3) Verilen görsellerin hangi ekonomik faaliyetle ilgili olduğunu görsellerin altındaki alanlara yazınız.



SB.6.5.1. Ülkemizin kaynakları ile ekonomik faaliyetler arasındaki ilişkiyi çözümleyebilme

- 4) Kastamonu ve Bolu gibi illerimizde kereste fabrikalarının ve mobilya atölyelerinin yaygın olmasının temel sebebi nedir? Doğal kaynak-ekonomik faaliyet ilişkisi çerçevesinde açıklayınız.

.....
.....

SB.6.5.2. Ekonomik faaliyetler ve meslekler arasındaki ilişki hakkında çıkarımda bulunabilme

5) Aşağıda verilen ekonomik faaliyetlere bağlı olarak gelişebilecek mesleklere birer tane örnek yazınız.

Tarım

Hayvancılık

Ormancılık

Sanayi

Turizm

SB.6.5.2. Ekonomik faaliyetler ve meslekler arasındaki ilişki hakkında çıkarımda bulunabilme

6) Gelecekte büyük önem taşıyacağı tahmin edilen mesleklere üç tane örnek yazınız.

1) 2) 3)

SB.6.5.3. Tasarladığı bir ürün için yatırım ve pazarlama proje önerisi hazırlayabilme

7) Ar-Ge; yeni bilgi üretmek, mevcut teknolojileri geliştirmek veya yeni ürün, hizmet ve süreçler oluşturmak için yapılan bilimsel çalışmalardır. İnovasyon; mevcut bir ürün, hizmet veya fikri geliştirerek yeni ve faydalı bir hâle getirme ya da tamamen yenisini ortaya koyma sürecidir.

Buna göre, aşağıdaki örneklerin Ar-Ge mi yoksa inovasyon mu olduğunu karşılarındaki kutulara yazınız.

a İlk telefonların sadece konuşma amaçlıyken; günümüzdeki akıllı telefonların kamera, genel ağ ve uygulama kullanımı gibi çok fonksiyonlu hâle gelmesi

.....

b Gıdaların bozulmasını geciktiren yeni maddelerin laboratuvar ortamında geliştirilmesi

.....

Adı-Soyadı: Sınıfı: Okul No:

1. SORU (20 Puan)	2. SORU (10 Puan)	3. SORU (10 Puan)	4. SORU (15 Puan)	5. SORU (10 Puan)	6. SORU (10 Puan)	7. SORU (15 Puan)	8. SORU (10 Puan)	ALDIĞI PUAN
.....

SB.6.4.1. Yönetimin karar alma sürecini etkileyen unsurları çözümleyebilme

- 1) Bir mahallede çocukların oyun oynayabileceği bir park bulunmamaktadır. Mahalle sakinleri bu sorunu çözmek için kendi aralarında birleşerek belediyeye yazılı bir başvuru yapmaya karar verirler. Ayrıca bu durumu yerel bir gazeteciye anlatarak haber yapılmasını sağlarlar.

a) Mahalle sakinlerinin belediyeye yazılı başvuru yaparak kullandıkları anayasal hak hangisidir?

.....

b) Gazetede haber yapılması yönetimin karar alma sürecini etkileyen unsurlardan hangisinin kullanıldığını gösterir?

.....

SB.6.4.2. Toplumsal düzenin sürdürülmesinde temel hak ve sorumlulukların önemini yorumlayabilme

- 2) Ceren, akşam evde çok sevdiği bir şarkıyı yüksek sesle dinlemek istemektedir. Ancak alt komşusu bu durumdan rahatsız olup Selin'i uyarmıştır. Selin ise "Kendi evimde istediğim müziği dinleme özgürlüğüne sahibim" diyerek tepki vermiştir.

Ceren'in bu düşüncesini, anayasamızda yer alan "hakların sınırı" çerçevesinde değerlendiriniz.

.....

.....

SB.6.4.3. Vatandaşlık haklarının kullanımında dijitalleşme ve teknolojik gelişmelerin etkilerini sorgulayabilme

- 3) Ece Hanım, yoğun işleri nedeniyle şehir merkezindeki tapu müdürlüğüne gitmeye vakit bulamamaktadır. Oğlu Emir'in yardımıyla e-Devlet uygulamasını kullanarak işlemlerini kısa sürede tamamlamıştır.


Buna göre, Ece Hanım'ın dijital vatandaşlık örneği göstermesinin ona sağladığı iki temel avantajı yazınız.

1)

2)

SB.6.5.1. Ülkemizin kaynakları ile ekonomik faaliyetler arasındaki ilişkiyi çözümleyebilme

- 4) Verilen görsellerin hangi ekonomik faaliyetle ilgili olduğunu görsellerin altındaki alanlara yazınız.



SB.6.5.1. Ülkemizin kaynakları ile ekonomik faaliyetler arasındaki ilişkiyi çözümleyebilme

- 5) Kastamonu ve Bolu gibi illerimizde kereste fabrikalarının ve mobilya atölyelerinin yaygın olmasının temel sebebi nedir? Doğal kaynak-ekonomik faaliyet ilişkisi çerçevesinde açıklayınız.

.....

.....

SB.6.5.2. Ekonomik faaliyetler ve meslekler arasındaki ilişki hakkında çıkarımda bulunabilme

- 6) Aşağıda verilen ekonomik faaliyetlere bağlı olarak gelişebilecek mesleklere birer tane örnek yazınız.

Tarım	Hayvancılık	Ormancılık	Sanayi	Turizm
<input type="text"/>	<input type="text"/>	<input type="text"/>	<input type="text"/>	<input type="text"/>

SB.6.5.2. Ekonomik faaliyetler ve meslekler arasındaki ilişki hakkında çıkarımda bulunabilme

- 7) Gelecekte büyük önem taşıyacağı tahmin edilen mesleklere üç tane örnek yazınız.

1) 2) 3)

SB.6.5.3. Tasarladığı bir ürün için yatırım ve pazarlama projesi önerisi hazırlayabilme

- 8) Ar-Ge; yeni bilgi üretmek, mevcut teknolojileri geliştirmek veya yeni ürün, hizmet ve süreçler oluşturmak için yapılan bilimsel çalışmalardır. İnovasyon; mevcut bir ürün, hizmet veya fikri geliştirerek yeni ve faydalı bir hâle getirme ya da tamamen yenisini ortaya koyma sürecidir.

Buna göre, aşağıdaki örneklerin Ar-Ge mi yoksa inovasyon mu olduğunu karşılarındaki kutulara yazınız.

a	İlk telefonların sadece konuşma amaçlıyken; günümüzdeki akıllı telefonların kamera, genel ağ ve uygulama kullanımı gibi çok fonksiyonlu hâle gelmesi	<input type="text"/>
b	Gıdaların bozulmasını geciktiren yeni maddelerin laboratuvar ortamında geliştirilmesi	<input type="text"/>

Adı-Soyadı: Sınıfı: Okul No:

1. SORU (15 Puan)	2. SORU (10 Puan)	3. SORU (10 Puan)	4. SORU (10 Puan)	5. SORU (10 Puan)	6. SORU (5 Puan)	7. SORU (15 Puan)	8. SORU (15 Puan)	9. SORU (10 Puan)	ALDIĞI PUAN
.....

SB.6.3.4. XI-XIII. yüzyıllar arasında meydana gelen siyasi faaliyetler ve askerî mücadelelerin Anadolu'nun Türkleşmesi ve İslamlaşmasına etkisini özetleyebilme

- 1) Anadolu'da kurulan ilk Türk beylikleri, fethettikleri bölgelerde birçok önemli eser bırakmışlardır. Aşağıdaki şemada verilen beyliklerin yaptırdığı eserlerin hangi alana ait olduğunu ilgili bölümlere yazınız.

Beylik	Eser	Alan
1 Artuklular	Malabadi Köprüsü
2 Danişmentliler	Yağlıbasan Medresesi
3 Mengücekliler	Divriği Şifahanesi

SB.6.4.1. Yönetimin karar alma sürecini etkileyen unsurları çözümleyebilme

- 2) Bir mahallede çocukların oyun oynayabileceği bir park bulunmamaktadır. Mahalle sakinleri bu sorunu çözmek için kendi aralarında birleşerek belediyeye yazılı bir başvuru yapmaya karar verirler. Ayrıca bu durumu yerel bir gazeteciye anlatarak haber yapılmasını sağlarlar.

a Mahalle sakinlerinin belediyeye yazılı başvuru yaparak kullandıkları anayasal hak hangisidir?
b Gazetede haber yapılması yönetimin karar alma sürecini etkileyen unsurlardan hangisinin kullanıldığını gösterir?

SB.6.4.2. Toplumsal düzenin sürdürülmesinde temel hak ve sorumlulukların önemini yorumlayabilme

- 3) Ceren, akşam evde çok sevdiği bir şarkıyı yüksek sesle dinlemek istemektedir. Ancak alt komşusu bu durumdan rahatsız olup Selin'i uyarmıştır. Selin ise "Kendi evimde istediğim müziği dinleme özgürlüğüne sahibim" diyerek tepki vermiştir.

Ceren'in bu düşüncesini, anayasamızda yer alan "hakların sınırı" çerçevesinde değerlendiriniz.

.....

.....

SB.6.4.3. Vatandaşlık haklarının kullanımında dijitalleşme ve teknolojik gelişmelerin etkilerini sorgulayabilme

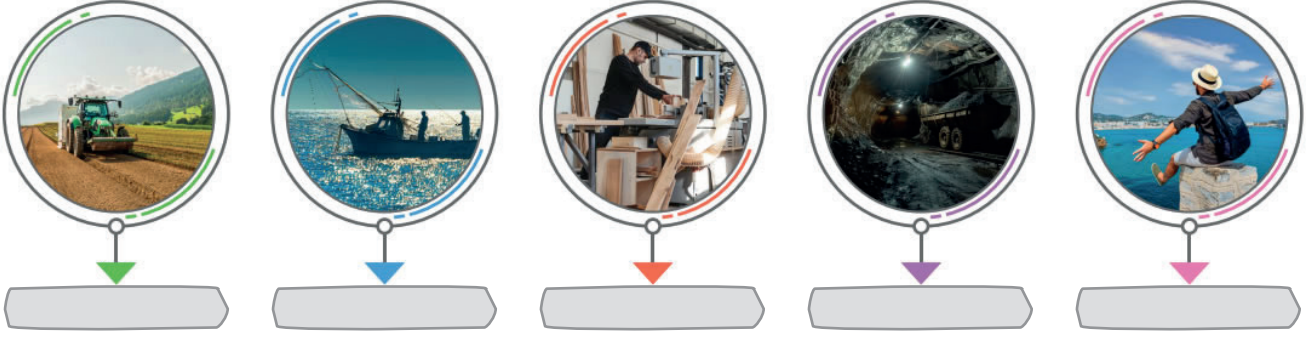
- 4) Ece Hanım, yoğun işleri nedeniyle şehir merkezindeki tapu müdürlüğüne gitmeye vakit bulamamaktadır. Oğlu Emir'in yardımıyla e-Devlet uygulamasını kullanarak işlemlerini kısa sürede tamamlamıştır.

Buna göre, Ece Hanım'ın dijital vatandaşlık örneği göstermesinin ona sağladığı iki temel avantajı yazınız.

- 1)
- 2)

SB.6.5.1. Ülkemizin kaynakları ile ekonomik faaliyetler arasındaki ilişkiyi çözümleyebilme

5) Verilen görsellerin hangi ekonomik faaliyetle ilgili olduğunu görsellerin altındaki alanlara yazınız.



SB.6.5.1. Ülkemizin kaynakları ile ekonomik faaliyetler arasındaki ilişkiyi çözümleyebilme

6) Kastamonu ve Bolu gibi illerimizde kereste fabrikalarının ve mobilya atölyelerinin yaygın olmasının temel sebebi nedir? Doğal kaynak-ekonomik faaliyet ilişkisi çerçevesinde açıklayınız.

.....
.....

SB.6.5.2. Ekonomik faaliyetler ve meslekler arasındaki ilişki hakkında çıkarımda bulunabilme

7) Aşağıda verilen ekonomik faaliyetlere bağlı olarak gelişebilecek mesleklere birer tane örnek yazınız.

Tarım	Hayvancılık	Ormancılık	Sanayi	Turizm
.....

SB.6.5.2. Ekonomik faaliyetler ve meslekler arasındaki ilişki hakkında çıkarımda bulunabilme

8) Gelecekte büyük önem taşıyacağı tahmin edilen mesleklere üç tane örnek yazınız.

1) 2) 3)

SB.6.5.3. Tasarladığı bir ürün için yatırım ve pazarlama proje önerisi hazırlayabilme

9) Ar-Ge; yeni bilgi üretmek, mevcut teknolojileri geliştirmek veya yeni ürün, hizmet ve süreçler oluşturmak için yapılan bilimsel çalışmalardır. İnovasyon; mevcut bir ürün, hizmet veya fikri geliştirerek yeni ve faydalı bir hâle getirme ya da tamamen yenisini ortaya koyma sürecidir.

Buna göre, aşağıdaki örneklerin Ar-Ge mi yoksa inovasyon mu olduğunu karşılarındaki kutulara yazınız.

a	İlk telefonların sadece konuşma amaçlıyken; günümüzdeki akıllı telefonların kamera, genel ağ ve uygulama kullanımı gibi çok fonksiyonlu hâle gelmesi
b	Gıdaların bozulmasını geciktiren yeni maddelerin laboratuvar ortamında geliştirilmesi

Adı-Soyadı: Sınıfı: Okul No:

1.SORU (15 Puan)	2. SORU (10 Puan)	3. SORU (5 Puan)	4. SORU (10 Puan)	5. SORU (10 Puan)	6. SORU (5 Puan)	7. SORU (10 Puan)	8. SORU (15 Puan)	9. SORU (10 Puan)	10. SORU (10 Puan)	ALDIĞI PUAN
.....

SB.6.3.4. XI-XIII. yüzyıllar arasında meydana gelen siyasi faaliyetler ve askerî mücadelelerin Anadolu'nun Türkleşmesi ve İslamlaşmasına etkisini özetleyebilme

- 1) Anadolu'da kurulan ilk Türk beylikleri, fethettikleri bölgelerde birçok önemli eser bırakmışlardır. Aşağıdaki şemada verilen beyliklerin yaptırdığı eserlerin hangi alana ait olduğunu ilgili bölümlere yazınız.

Beylik	Eser	Alan
1 Artuklular	Malabadi Köprüsü
2 Danişmentliler	Yağlıbasan Medresesi
3 Mengücekliler	Divriği Şifahanesi

SB.6.4.1. Yönetimin karar alma sürecini etkileyen unsurları çözümleyebilme

- 2) Bir mahallede çocukların oyun oynayabileceği bir park bulunmamaktadır. Mahalle sakinleri bu sorunu çözmek için kendi aralarında birleşerek belediyeye yazılı bir başvuru yapmaya karar verirler. Ayrıca bu durumu yerel bir gazeteciye anlatarak haber yapılmasını sağlarlar.

a) Mahalle sakinlerinin belediyeye yazılı başvuru yaparak kullandıkları anayasal hak hangisidir?
b) Gazetede haber yapılması yönetimin karar alma sürecini etkileyen unsurlardan hangisinin kullanıldığını gösterir?

SB.6.4.2. Toplumsal düzenin sürdürülmesinde temel hak ve sorumlulukların önemini yorumlayabilme

- 3) Ceren, akşam evde çok sevdiği bir şarkıyı yüksek sesle dinlemek istemektedir. Ancak alt komşusu bu durumdan rahatsız olup Selin'i uyarmıştır. Selin ise "Kendi evimde istediğim müziği dinleme özgürlüğüne sahibim." diyerek tepki vermiştir.

Ceren'in bu düşüncesini, anayasamızda yer alan "hakların sınırı" çerçevesinde değerlendiriniz.

.....
.....

SB.6.4.3. Vatandaşlık haklarının kullanımında dijitalleşme ve teknolojik gelişmelerin etkilerini sorgulayabilme

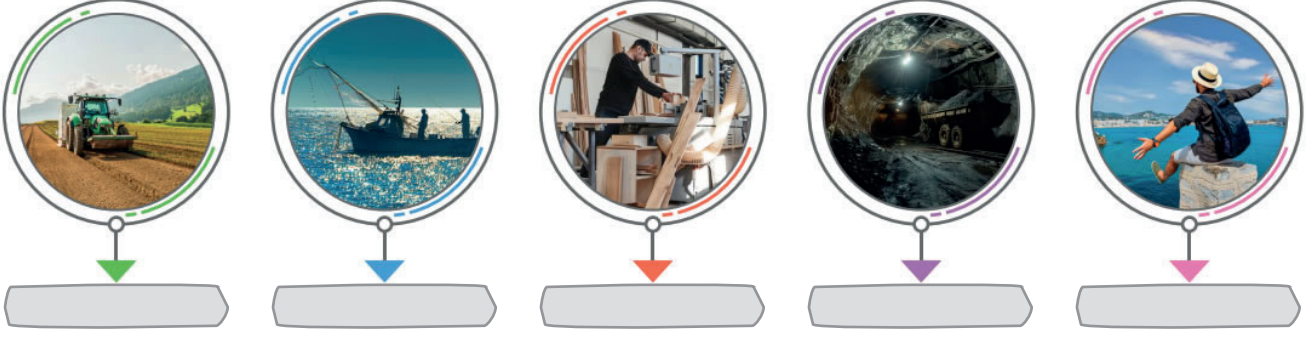
- 4) Ece Hanım, yoğun işleri nedeniyle şehir merkezindeki tapu müdürlüğüne gitmeye vakit bulamamaktadır. Oğlu Emir'in yardımıyla e-Devlet uygulamasını kullanarak işlemlerini kısa sürede tamamlamıştır.

Buna göre, Ece Hanım'ın dijital vatandaşlık örneği göstermesinin ona sağladığı iki temel avantajı yazınız.

- 1)
2)

SB.6.5.1. Ülkemizin kaynakları ile ekonomik faaliyetler arasındaki ilişkiyi çözümleyebilme

5) Verilen görsellerin hangi ekonomik faaliyetle ilgili olduğunu görsellerin altındaki alanlara yazınız.



SB.6.5.1. Ülkemizin kaynakları ile ekonomik faaliyetler arasındaki ilişkiyi çözümleyebilme

6) Kastamonu ve Bolu gibi illerimizde kereste fabrikalarının ve mobilya atölyelerinin yaygın olmasının temel sebebi nedir? Doğal kaynak-ekonomik faaliyet ilişkisi çerçevesinde açıklayınız.

.....
.....

SB.6.5.2. Ekonomik faaliyetler ve meslekler arasındaki ilişki hakkında çıkarımda bulunabilme

7) Aşağıda verilen ekonomik faaliyetlere bağlı olarak gelişebilecek mesleklere birer tane örnek yazınız.

Tarım	Hayvancılık	Ormancılık	Sanayi	Turizm
.....

SB.6.5.2. Ekonomik faaliyetler ve meslekler arasındaki ilişki hakkında çıkarımda bulunabilme

8) Gelecekte büyük önem taşıyacağı tahmin edilen mesleklere üç tane örnek yazınız.

1) 2) 3)

SB.6.5.3. Tasarladığı bir ürün için yatırım ve pazarlama projesi hazırlayabilme

9) Ar-Ge; yeni bilgi üretmek, mevcut teknolojileri geliştirmek veya yeni ürün, hizmet ve süreçler oluşturmak için yapılan bilimsel çalışmalardır. İnovasyon; mevcut bir ürün, hizmet veya fikri geliştirerek yeni ve faydalı bir hâle getirme ya da tamamen yenisini ortaya koyma sürecidir.

Buna göre, aşağıdaki örneklerin Ar-Ge mi yoksa inovasyon mu olduğunu karşılarındaki kutulara yazınız.

a	İlk telefonların sadece konuşma amaçlıyken; günümüzdeki akıllı telefonların kamera, genel ağ ve uygulama kullanımı gibi çok fonksiyonlu hâle gelmesi
b	Gıdaların bozulmasını geciktiren yeni maddelerin laboratuvar ortamında geliştirilmesi

SB.6.6.1. Ulaşım ve iletişim teknolojilerindeki gelişmelerin kültürel etkileşimdeki rolünü yapılandırabilme

10) Sosyal medya; genel ağın popülerliğini sürdüren, bireyler ve kurumların çevrim içi platformlar üzerinden bilgi ve iletişim amacıyla kullandığı yeni nesil dijital medya alanıdır.

Buna göre, sosyal medyanın yararlarına iki tane örnek yazınız.

1)
2)