

## 6.SINIF SOSYAL BİLGİLER DENEME SINAVI

1) Roller ile ilgili aşağıda verilen bilgilerden hangisi doğru değildir ?

- A) Bireyler girdikleri ortama göre çeşitli rollere bürünürler
- B) Kişilerin aynı ortamda birden fazla role girebilir
- C) Bazı rollerimiz hayatımız boyunca bizimledir
- D) Roller bireylere sadece sorumluluk yükler

2)

Emre'nin eğitim-öğrenim almak için okula gitmesi


Fatma Hanım'ın trafikte kurallara uygun davranması

Ercan'nın bu yaz tatilinde Antalya'ya gitmeye karar vermesi

Yukarıda verilen örnek cümlelerde sırasıyla nelerden bahsedilmiştir ?

- A) Özgürlük-Hak-Sorumluluk
- B) Sorumluluk-Özgürlük-Hak
- C) Hak-Sorumluluk-Özgürlük
- D) Sorumluluk-Hak-Özgürlük

3)



- Tarihte bilinen ilk Türk devletidir
- Bilinen ilk hükümdarı Teomandır
- En parlak dönemini Mete Han zamanında yaşamışlardır

Yukarıda Bilgileri verilen Orta Asya devleti hangisidir?

- A) Köktürkler
- B) Asya(Büyük) Hun
- C) Uygurlar
- D) Avarlar

4) Köktürklerle ait olan Ergenekon Destanının da ebedi düşmanları olan Çinlilere karşı vermiş oldukları mücadeleden bahsedilir. Çin hakimiyetine boyun eğmemek için Köktürklerin , etrafı dağlarla çevrili olan adına Ergenekon dedikleri bir yere yerleştikleri anlatılır hatta sonrasında buradan çıkabilmek için demirden bir dağı erittikleri anlatılır.

Ergenekon destanından edinilen bilgiler ışığında Köktürkler hakkında hangisi söylenebilir ?

- A) Köktürklerde edebi eserler önemlidir
- B) Köktürklerde Gök Tanrı inancı hakimdir
- C) Köktürkler Orta Asya'nın en zengin devletidir
- D) Köktürkler bağımsızlık için çetin mücadele vermişlerdir

5) Orta Asya da yerleşik yaşama geçen ilk Türk devletinin Uygurlar olduğu bilinir. Buna göre Uygurlardan önce yaşamış Türk devletleri için ;

I- Göçebe yaşam tarzı benimsemişlerdir

II- Tarımla yoğun ilgilenmişlerdir

III-Hayvancılıkla ilgilenmişlerdir

Hangilerini söyleyebiliriz ?

- A) I- III
- B) Yalnız II
- C) II-III
- D) Yalnız I

6) 751 yılında Abbasiler ile Çinliler arasında yapılan Talas Savaşı sırasında Türkler Abbasileri desteklemiştir ve bunun sonucunda Abbasilerle Türkler arasında yaşanan olumlu ilişkiler Türklerin müslüman olmasında etkili olmuştur.

Türklerin müslüman olmasında aşağıdakilerden hangisinin etkili olduğu söylenemez ?

- A) Abbasilerin hoşgörü politikası izlemeleri
- B) İslamiyetteki ahiret inancının Türklerde de olması
- C) Abbasilerin bilim ve sanata önem vermesi
- D) Gök Tanrı inancı ile İslamiyetteki Allah inancının benzemesi

## 6.SINIF SOSYAL BİLGİLER DENEME SINAVI

7) 1- 1040 Dandanakan Savaşı

2- 1048 Pasinler Savaşı

3- 1071 Malazgirt Savaşı

4- 1176 Miryokefalon Savaşı

a-Anadolunun kapıları Türklere açıldı

b-Anadolu kesin olarak Türk yurdu oldu

c-Bizans ile Selçuklu arasındaki ilk savaş

d-Büyük Selçuklu'nun kuruluşu

Anadolu coğrafyası için büyük önem taşıyan olaylar ve sonuçları eşleştirmesi yapılacak olursa hangi seçenekteki eşleştirme doğru verilmiştir?

A) 1-c 2-a 3-b 4-d

B) 1-d 2-c 3-a 4-b

C) 1-a 2-b 3-c 4-d

D) 1-b 2-c 3-d 4-a

8)

Paralel ve Meridyenlerin özellikleri şöyledir;

a) İki paralel arası uzaklık 111 km dir

b) Paralellerin boyları her yerde aynıdır

c) İki meridyen arasındaki zaman farkı 4 dakikadır

d) Meridyenlerin boyları eşittir

Yukarıda verilen bilgilerden kaç tanesi doğrudur?

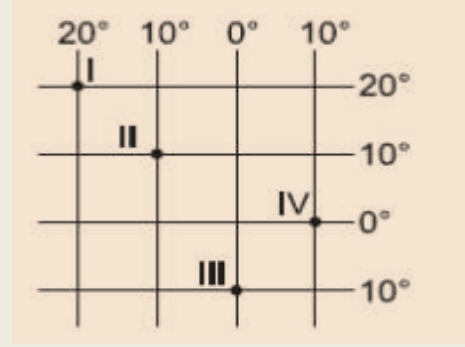
A)- 1

B)-2

C)-3

D)-4

9)



Kordinat sistemi üzerinde gösterilen '10 Batı Meridyeni ile 10 Kuzey paraleli ' kaç numaralı alandır?

A) I

B) II

C) III

D) IV

10)



Türkiye'de görülen iklimlerden hangisi en geniş alanda etkili olur ?

A) Karasal iklim

B) Muson iklimi

C) Akdeniz iklimi

D) Karadeniz iklimi

## 6.SINIF SOSYAL BİLGİLER DENEME SINAVI

**11)** Merhaba benim adım 'Amir ' Hindistan'da yaşıyorum benim yaşadığım yerde yaz ve sonbahar aylarında aşırı yağış görülür bu sebeple sel ve su taşkınları sık yaşanır. Suyu seven pirinç,çay gibi tarım ürünleri oldukça fazladır

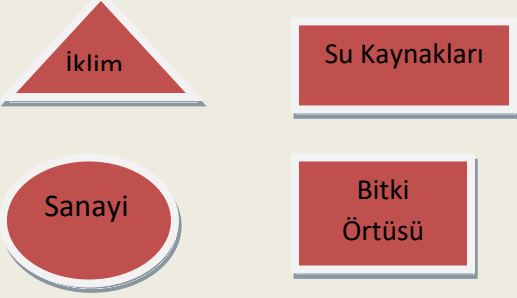
**Amir'in anlattıklarına göre yaşadığı yerde hangi iklim görülür?**

- A) Kutup iklimi
- B) Muson iklimi
- C) Akdeniz iklim
- D) Ekvatorial iklim

**12)** Nüfusun dağılışını etkileyen doğal ve beşeri faktörler vardır.

Doğal Faktör: Doğal olarak kendiliğinden ortaya çıkan faktörlerdir.

Beşeri Faktör:İnsan eliyle gerçekleşen faktörlerdir.



**Yukarıda verilen geometrik şekillerden hangisinde beşeri faktör yazılıdır?**

- A)
- B)
- C)
- D)

**13)** Toplumu ve insanı sosyal ve kültürel faaliyetleri açısından değerlendiren ve bu konularda araştırma yapan bilimlere **Sosyal Bilimler** denir.Soyal Bilimler içerisinde olan ..... insan davranışlarını ve zihinsel süreçleri inceleyen bilim dalıdır.

**Yukarıdaki parçada boş bırakılan yere hangisi getirilmelidir ?**

- A) Psikoloji B) Felsefe C) Sosyoloji D) Antropoloji

**14)** Dünya üzerinde herhangi bir yerin paralel, meridyen,enlem, ve boylam dereceleriyle belirtilen konumuna **matematik** (mutlak) **konum** denir.

**Verilen bilgilere göre aşağıdaki ifadelerden hangisi matematik (mutlak) konum ile ilgili değildir?**

- A) Türkiye ekvatorun kuzeyinde yer alır
- B) Ülkemizin doğusu ile batı arasında 76 dk zaman farkı vardır
- C) Türkiye Çanakkale ve İstanbul Boğazlarına sahiptir
- D) Ülkemiz 36°-42° kuzey paralelleri arasında yer alır

**15)** Malazgirt Savaşı'ndan sonra Anadolu da ilk beylikler dönemi başlamıştır. Beylikler kuruldukları yerlere cami, medrese, köprü, gibi kalıcı mimari eserler yapmışlardır.

**Sadece bu bilgilere bakılarak aşağıdakilerden hangisi söylenir ?**

- A) En fazla eseri Artuklular bırakmıştır
- B) Beylikler arasında sürekli mücadeleler olmuştur
- C) Beylikler en fazla ticaretle uğraşmışlardır
- D) Anadoluyu bayındır hale getirmeye çalışmışlardır

İsmail AKTAŞ  
Sosyal Bilgiler Öğretmeni

## 6.SINIF SOSYAL BİLGİLER DENEME SINAVI

### Cevap Anahtarı

1-D	9-B
2-C	10-A
3-B	11-B
4-D	12-C
5-A	13-A
6-C	14-C
7-B	15-D
8-C	