



@sosyalhocasimustafa



@sosyalhocasimustafakarakus

6. SINIF SOSYAL BİLGİLER

7. ÜNİTE 1. KAZANIM AÇIK UÇLU SORULAR

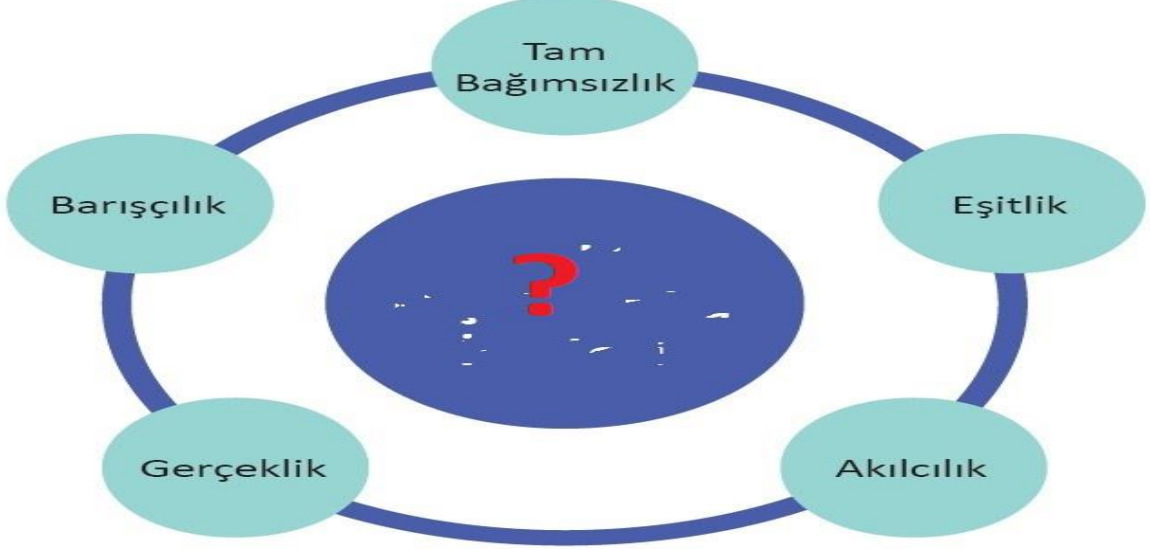
YÖNERGE

**** Aşağıdaki açık uçlu soruların cevaplarını sorunun karşısındaki cevap yazan sütuna yazınız.

**** Birden çok cevabı olan sorular için numaralandırma yapılmıştır. Tüm numaralandırılan yerler doldurulmalıdır.

**** Sorular kolaylık ve takip açısından her kazanım için ayrı ayrı hazırlanmıştır.

KAZANIM: SB.6.7.1. Ülkemizin Türk Cumhuriyetleri ve komşu devletlerle olan kültürel, sosyal, siyasi ve ekonomik ilişkilerini analiz eder.

S. NO	SORULAR	CEVAPLAR
1	 <p>Görselde ? işareti ile ilgili yere yazılabilecek başlığı yazınız.</p> <p>.....</p>	
2	<p>1- Uluslararası ilişkilerde devletlerin siyasi olarak eşit olması</p> <p>2- Uluslararası ilişkilerde karşılıklı güven ve saygıyı hedef tutmak</p> <p>3- Millî sınırlar içinde bağımsız yaşamak</p> <p>Verilen dış politika ilkelerinin adlarını yazınız.</p>	<p>1-</p> <p>2-</p> <p>3-</p>




@sosyalhocasimustafa



@sosyalhocasimustafakarakus



S. NO	SORULAR	CEVAPLAR
3	<p>Türkiye bölgesel ve milletlerarası güven ve istikrar ortamının oluşturulması için her zaman çaba sarf etmektedir. Bunlar yapılırken Türkiye geçmişten kalan meselelerin esiri olmamış, tüm ülkelere dostluk, kardeşlik ve iş birliği elini uzatmıştır.</p> <p>Metinde hangi dış politika ilkesi açıklanmıştır?</p>	
4	<ul style="list-style-type: none">* Musul meselesi,* Hatay sorunu,* Boğazlar Meselesi* Milletler Cemiyetine üye olma <p>Türkiye bu sorunları ve üyeliği hangi dış politika ilkesine uygun olarak çözmüş ve cemiyete katılım sağlamıştır?</p>	
5	 <p>Bosna Hersek'te bulunan ve 2007 yılında Dünya Miras Listesi'ne alınan Sokullu Mehmet Paşa Köprüsü'nün yapısal unsurları tespit edilerek yenileme projesinin hazırlanması çalışmalarına devam ediyor.</p> <p>(Genel Ağ haberinden düzenlenmiştir.)</p> <p>Verilen görsel ve açıklamadaki çalışmayı yapan kuruluş hangisidir?</p>	
6	<p>21 Mart 2009 tarihinde yayın hayatına başlayan Türkiye Cumhuriyeti ile Türkçe konuşan geniş coğrafya arasında bir kültür köprüsü olmayı hedeflemektedir.</p> <p>Metinde verilen televizyon kanalının adı nedir?</p>	





S. NO	SORULAR	CEVAPLAR
7	Türkiye Almanya ve İtalya'nın saldırgan politikalarına karşı 1934 yılında Türkiye, Yunanistan, Yugoslavya ve Romanya ile Balkan Antantını imzalayarak neyi amaçlamıştır?	
8	Türkiye Almanya ve İtalya'nın saldırgan politikalarına karşı 1937 yılında Türkiye, İran, Irak ve Afganistan ile Sadabat Paketi'nı imzalayarak neyi amaçlamıştır?	
9	<p>Ülkemizin dış politikada izlediği yolu belirleyen Atatürk, Sovyetler Birliği'nin dağılacığını tahmin etmiştir. Bunun için Sovyetler Birliği'nde yaşayan kardeşlerimizle manevi köprülerimizi sağlam tutarak yakınlaşmamızı söylemiştir. 1991 yılına gelindiğinde bağımsızlığını kazanan Türk Cumhuriyetleri (Azerbaycan, Türkmenistan, Kırgızistan, Özbekistan, Kazakistan) ile Türkiye arasında kültürel, sosyal, siyasi ve ekonomik ilişkiler hızla gelişmiştir. Azerbaycan ile Türkiye arasındaki Bakü-Tiflis-Ceyhan Boru Hattı iki kardeş ülkenin ekonomik dayanışmasının bir göstergesidir.</p> <p>İsmet BOZDAĞ, “ Atatürk’ün Sofrası”</p> <p>1- Metne göre Mustafa Kemal’in hangi kişisel özelliğine ulaşılabilir?</p> <p>2- “Manevi köprüleri sağlam tutmak” ile ne amaçlanmıştır?</p> <p>3- Azerbaycan ile Türkiye arasındaki ekonomik dayanışma göstergesi olan olay nedir?</p> <p>Metne göre soruları cevaplayınız.</p>	<p>1-</p> <p>2-</p> <p>3-</p>





S. NO	SORULAR	CEVAPLAR	
10	<div>TÜİK 2018</div> <div><div>İhracat Verileri/TL</div><div><div>Azerbaycan</div><div>7.800.306.02</div></div><div><div>Özbekistan</div><div>5.033.593.70</div></div><div><div>Kazakistan</div><div>3.678.068.23</div></div><div><div>Türkmenistan</div><div>2.471.530.32</div></div><div><div>Kırgızistan</div><div>1.995.007.12</div></div></div>	<div>TÜİK 2018</div> <div><div>İthalat Verileri/TL</div><div><div>Azerbaycan</div><div>2.003.502.86</div></div><div><div>Özbekistan</div><div>4.208.433.05</div></div><div><div>Kazakistan</div><div>7.777.659.53</div></div><div><div>Türkmenistan</div><div>1.380.663.55</div></div><div><div>Kırgızistan</div><div>250.439.18</div></div></div>	
	1- İhracat ve ithalat farkı en fazla olan ülke hangisidir?	*	
	2- İhracat ve ithalat farkı en az olan ülke hangisidir?	*	
	3- Ülkemize göre ithalatı ihracatından fazla olan ülke hangisidir?	*	
	11	1- Moğolistan'da Orhun Abidelerinin bulunduğu alanın TİKA tarafından Orhun Müzesi hâline getirilmesi	1-
		2- Ülkemizin dış politikada " Yurtta Barış Dünyada Barış " ilkesini uygulaması	2-
		3- Bakü-Tiflis-Kars demir yolu projesinin uygulanması	3-
		4- Ülkemizin Suriyeli mültecilere kucak açması	4-
		Verilen ülkemizin komşuları ve Türk Cumhuriyetleri ile ilgili ilişkilerin hangi alanlarda olduğunu yazınız.	





S. NO	SORULAR	CEVAPLAR
12	<p>Türk İşbirliği ve Koordinasyon Ajansı Başkanlığı (TİKA)</p> <p>TİKA 24 Ocak 1992 yılında T.C. Dışişleri Bakanlığına bağlı olarak kurulmuştur. Kuruluş amacı özellikle Türk dilinin konuşulduğu ülkeler, komşu ülkeler ve gelişmekte olan ülkelerle ekonomik, sosyal, kültürel iş birliği oluşturmaktır. TİKA yurt dışında Türkçe öğrenimini destekler. TİKA Türkoloji Projesi buna örnektir. TİKA, Orhun Anıtlarının bölgedeki olumsuz koşullardan korunması ve gelecek kuşaklara aktarılması amacıyla Orhun Müzesi'ni inşa etmiştir. Özellikle Türk Cumhuriyetlerinden hem okumak hem de staj yapmak için gelen öğrenciler TİKA projeleri sayesinde karşılıklı eğitim ve öğretim almaktadırlar.</p> <p>Genel Ağ haberi 11/12/2017 (Düzenlenmiştir.)</p> <p>1- TİKA'nın kurulma amacı nedir?</p> <p>2- TİKA'nın yurt dışında Türkçe öğrenimini desteklemesi hangi alandaki çalışmalarındandır?</p> <p>3- Orta Asya Türk devletlerinden kalan hangi eser için çalışmalar yapmıştır?</p>	<p>1-</p> <p>2-</p> <p>3-</p>
13	<p>Yunanistan, Bulgaristan, Ermenistan, Gürcistan, Azerbaycan'a bağlı Nahcivan Özerk Cumhuriyeti, İran, Irak ve Suriye</p> <p>Verilen devletlerin ülkemizle ilgili konumu ile ilgili ne söylenebilir?</p>	





6. SINIF SOSYAL BİLGİLER

7. ÜNİTE 2. KAZANIM AÇIK UÇLU SORULAR

YÖNERGE

**** Aşağıdaki açık uçlu soruların cevaplarını sorunun karşısındaki cevaplar yazan sütuna yazınız.

**** Birden çok cevabı olan sorular için numaralandırma yapılmıştır. Tüm numaralandırılan yerler doldurulmalıdır.

**** Sorular kolaylık ve takip açısından her kazanım için ayrı ayrı hazırlanmıştır.

KAZANIM: SB.6.7.2. Ülkemizin diğer ülkelerle olan ekonomik ilişkilerini analiz eder.

S. NO	SORULAR	CEVAPLAR
1	Ülkelerin tarım, sanayi, madencilik, enerji vb. yer altı ve yer üstü kaynaklarından ihtiyaç fazlası olanların başka ülkelere satılmasına ne ad verilir?	
2	Ülkelerin tarım, sanayi, madencilik, enerji vb. yer altı ve yer üstü kaynaklarından ihtiyacı olanları başka ülkelerden almasına ne ad verilir?	
3	Kâr elde etmek amacıyla üretilen her türlü mal ve hizmetin alınıp satılmasına ne ad verilir?	
4	Bir ülke dışarıdan fazla mal alıp dışarıya az mal satıyorsa nasıl bir sonuç ortaya çıkar?	
5	Ülkemizin dünyada birinci sırada olduğu, Karadeniz’de üretilen ve ihraç edilen ürünün adı nedir?	
6	Ülkemizin dünyada birinci sırada olduğu, Malatya’da üretilen ve ihraç edilen ürünün adı nedir?	
7	Evlerde ve sanayide kullanılan ülkemizdeki üretimi az olduğu için ithal edilen yer altı kaynaklarının adlarını yazınız.	* *
8	Ülkemizin dünyada birinci sırada olduğu, Eskişehir, Kütahya, Balıkesir civarında çıkarılan ve ihraç edilen madenin adı nedir?	





S. NO	SORULAR	CEVAPLAR																																																
9	<table><thead><tr><th colspan="3">İhracat (Dış Satım)</th></tr></thead><tbody><tr><td>1</td><td>Almanya</td><td>15.118.910.000 dolar</td></tr><tr><td>2</td><td>İngiltere</td><td>9.603.189.000 dolar</td></tr><tr><td>3</td><td>BAE</td><td>9.184.157.000 dolar</td></tr><tr><td>4</td><td>Irak</td><td>9.054.612.000 dolar</td></tr><tr><td>5</td><td>ABD</td><td>8.654.268.000 dolar</td></tr><tr><td>6</td><td>İtalya</td><td>8.473.471.000 dolar</td></tr><tr><td>7</td><td>Fransa</td><td>6.584.199.000 dolar</td></tr></tbody></table>	İhracat (Dış Satım)			1	Almanya	15.118.910.000 dolar	2	İngiltere	9.603.189.000 dolar	3	BAE	9.184.157.000 dolar	4	Irak	9.054.612.000 dolar	5	ABD	8.654.268.000 dolar	6	İtalya	8.473.471.000 dolar	7	Fransa	6.584.199.000 dolar	<table><thead><tr><th colspan="3">İthalat (Dış Alım)</th></tr></thead><tbody><tr><td>1</td><td>Çin</td><td>23.370.620.000 dolar</td></tr><tr><td>2</td><td>Almanya</td><td>21.301.869.000 dolar</td></tr><tr><td>3</td><td>Rusya</td><td>19.514.094.000 dolar</td></tr><tr><td>4</td><td>ABD</td><td>11.951.744.000 dolar</td></tr><tr><td>5</td><td>İtalya</td><td>11.304.715.000 dolar</td></tr><tr><td>6</td><td>Fransa</td><td>8.070.897.000 dolar</td></tr><tr><td>7</td><td>İran</td><td>7.492.104.000 dolar</td></tr></tbody></table>	İthalat (Dış Alım)			1	Çin	23.370.620.000 dolar	2	Almanya	21.301.869.000 dolar	3	Rusya	19.514.094.000 dolar	4	ABD	11.951.744.000 dolar	5	İtalya	11.304.715.000 dolar	6	Fransa	8.070.897.000 dolar	7	İran	7.492.104.000 dolar
	İhracat (Dış Satım)																																																	
	1	Almanya	15.118.910.000 dolar																																															
	2	İngiltere	9.603.189.000 dolar																																															
	3	BAE	9.184.157.000 dolar																																															
	4	Irak	9.054.612.000 dolar																																															
	5	ABD	8.654.268.000 dolar																																															
	6	İtalya	8.473.471.000 dolar																																															
	7	Fransa	6.584.199.000 dolar																																															
	İthalat (Dış Alım)																																																	
1	Çin	23.370.620.000 dolar																																																
2	Almanya	21.301.869.000 dolar																																																
3	Rusya	19.514.094.000 dolar																																																
4	ABD	11.951.744.000 dolar																																																
5	İtalya	11.304.715.000 dolar																																																
6	Fransa	8.070.897.000 dolar																																																
7	İran	7.492.104.000 dolar																																																
1- En çok ihracat ve ithalat yapılan ülkelerin adlarını yazınız.																																																		
2- En az ihracat ve ithalat yapılan ülkelerin adlarını yazınız.																																																		
3- Hem ihracat hem de ithalat yaptığımız ülkelerin adlarını yazınız																																																		
Görsele göre verilen soruları cevaplayınız.																																																		
1-																																																		
* En çok ihracat yapılan ülke:																																																		
* En çok ithalat yapılan ülke:																																																		
2-																																																		
* En az ihracat yapılan ülke:																																																		
* En az ithalat yapılan ülke:																																																		
3- * * *																																																		
10	Genellikle tarımsal ve hayvansal ürünleri ihraç edip, çeşitli makine ve elektrik ürünlerini ithal eden ülkelerin ekonomisinin hangi ekonomik faaliyete dayandığı söylenebilir?																																																	
11	Tarımsal ürünlerle çeşitli ham maddeler alıp, otomobil, elektronik eşya ve çeşitli sanayi ürünlerini ihraç eden ülkelerin ekonomisinin hangi ekonomik faaliyete dayandığı söylenebilir?																																																	





6. SINIF SOSYAL BİLGİLER

7. ÜNİTE 3. KAZANIM AÇIK UÇLU SORULAR

YÖNERGE

**** Aşağıdaki açık uçlu soruların cevaplarını sorunun karşısındaki cevaplar yazan sütuna yazınız.

**** Birden çok cevabı olan sorular için numaralandırma yapılmıştır. Tüm numaralandırılan yerler doldurulmalıdır.

**** Sorular kolaylık ve takip açısından her kazanım için ayrı ayrı hazırlanmıştır.

KAZANIM: SB.6.7.3. Ülkemizin sahip olduğu siyasi, askerî, ekonomik ve kültürel özelliklere bağlı olarak uluslararası alanda üstlendiği rolleri analiz eder.

S. NO	SORULAR	CEVAPLAR
1	Bir ülkenin, coğrafi konumundan dolayı elde ettiği ekonomik, siyasi, askerî ve kültürel güçle dış siyasetini oluşturup yönlendirmesine ne ad verilir?	
2	Birleşmiş Milletler Mülteci Örgütü'nün (UNHCR) 2019 yılı verilerine göre Türkiye, 4 milyon mülteciye kucak açmış durumdadır. Aynı zamanda TİKA, AFAD vb. kuruluşlar aracılığıyla dünyanın dört bir tarafında yardım faaliyetlerinde bulunmaktadır. Yukarıdaki bilgilerden hareketle Türkiye'nin bölgesinde üstlendiği rolle ilgili neler söyleyebilirsiniz?	
3	Türkiye'nin, Atatürk Dönemi'nde esas alınan ve barışçı bir politika izlediği ilke nedir?	
4	1969'dan bu yana faaliyet gösteren İslam İşbirliği Teşkilatı (İİT) nın 13. İslam Zirvesi Toplantısı, 10-15 Nisan 2016 tarihlerinde İİT üyesi ülkeler devlet ve hükûmet başkanlarının katılımı ile İstanbul'da yapılmıştır. Bu toplantı ile kuruluşun dönem başkanlığı Mısır'dan Türkiye'ye geçmiştir. Metinde Türkiye'nin hangi alanda üstlendiği rol belirtilmiştir?	





S. NO	SORULAR	CEVAPLAR
5	<p>Türkiye'nin üzerinde kurulduğu Anadolu toprakları tarihte birçok uygarlığa ev sahipliği yapmıştır. Bu bakımdan Türkiye tarihî mekân, tarihî eser ve tarihî nesneler yönünden zengin ülkeler arasında yer almaktadır. Dünyanın birçok yerinden insanlar ülkemizi turist olarak ziyaret etmektedir. Böylece ülkemiz hem ekonomik kazanç elde etmekte hem de Dünyada önemli uluslararası rol üstlenmektedir.</p> <p>Metinde Türkiye'nin hangi alanda üstlendiği rol belirtilmiştir?</p>	
6	<p>TSK birlikleri, Somali'den Gürcistan'a, Bosna-Hersek'ten Kosova'ya, Afganistan'dan Lübnan'a kadar dünyanın dört bir yanında barış gücü operasyonlarında görev almıştır.</p> <p>Ordumuz hangi uluslararası kuruluşlara üyeliğin getirdiği sorumluluklara karşı bu görevleri yerine getirmiştir?</p>	<p>*</p> <p>*</p>
7	<p>Ülkemiz bulunduğu konum itibarıyla petrol ve doğal gaz zengini Orta Doğu ülkeleri ile Avrupa'daki tüketici pazarları arasında stratejik bir konuma sahiptir. Türkiye enerji ihracatı yapan doğu ülkeleri ile ithalatçı batı ülkelerinin enerji yollarının kesişim noktasında yer almaktadır. Türkiye, uluslararası boru hatları ile enerji ihtiyacını karşılayarak gelir sağlamakla birlikte kaynakların taşınmasına aracılık ederek stratejik önemini arttırmaktadır. Uluslararası boru hattı projeleriyle Orta Asya, Hazar ve Orta Doğu bölgelerinin petrol ve doğal gazını Avrupa'ya ulaştıran Türkiye'nin önemi daha da artacaktır.</p> <p>Metinde ülkemizin jeopolitik konumunun hangi alana katkısı belirtilmiştir?</p>	





S. NO	SORULAR	CEVAPLAR
8	<p>UNESCO, Türk Millî Komisyonunun girişimleri sonucu Matrakçı Nasuh'un ölümünün 450. yılını, Evliya Çelebi'nin doğumunun 400. yıl dönümünü ve Mevlânâ Celâleddini Rûmî'nin 800. Doğum yıl dönümünü dünya çapında anmıştır. Ayrıca UNESCO tarafından 2016-2017 Ahmet Yesevi ve Fuat Köprülü yılı ilan edilmiştir.</p> <p>Metinde UNESCO'nun hangi alandaki faaliyetlerinden bahsedilmiştir?</p>	
9	<p>Türkiye'nin dört yıl süreyle Birleşmiş Milletler Eğitim, Bilim ve Kültür Teşkilatının Yürütme Kurulunda yer alması</p> <p>hangi alandaki uluslararası rolüyle ilgilidir?</p>	
10	<p>Ülkemiz zengin yer altı kaynaklarına sahiptir. Örneğin, dünyadaki bor madeni rezervlerinin yaklaşık %65'i Türkiye'de bulunmaktadır. Ülkemizin "geleceğin petrolü" olarak nitelendirilen bor madeni rezervlerine sahip olması, gelecekte ülkemizin daha da güçlü bir konuma gelmesini sağlayacaktır.</p> <p>Metinde Türkiye'nin hangi alanda üstlendiği rol belirtilmiştir?</p>	
11	<p>Ülkemiz sahip olduğu güçlü ordusuyla hâkimiyet sürdüğü topraklarda barış ve huzurun teminatı durumundadır. Orta Doğu, Balkanlar ve Kafkaslar 'da meydana gelen sorunların çözümünde etkin bir rol oynamaktadır.</p> <p>Metinde Türkiye'nin hangi alanda üstlendiği rol belirtilmiştir?</p>	





S. NO	SORULAR	CEVAPLAR
12	<p>1945 yılında kurulmuştur. Merkezi ABD'nin New York şehrinde bulunan teşkilata 193 ülke üyedir. Türkiye, kurucu üyeler arasında yer almaktadır. Teşkilatın temel amaçları;</p> <ul style="list-style-type: none"><input type="checkbox"/> Savaşları ve barışa yönelik tehditleri önlemek,<input type="checkbox"/> Ülkeler arasında dostane ilişkiler kurmak,<input type="checkbox"/> Uluslararası ekonomik ve sosyal iş birliğini sağlamaktır. <p>Bilgileri verilen uluslararası kuruluşun adı nedir?</p>	
13	<p>1952 yılından bu yana ülkemiz bu kuruluşa üyedir. Ülkemizin güvenliğinin temininde merkezi bir role sahip olmuştur. Bunun karşılığında ülkemiz diğer müttefikleriyle ortak değerlerin savunulması yönünde üzerine düşen sorumluluğu yerine getirmiştir. Türkiye, kuruluşun dünya çapında yaptığı faaliyetlere yeri geldiğinde askeri gücüyle destek vermektedir.</p> <p>Bilgileri verilen uluslararası kuruluşun adı nedir?</p>	
14	<p>Uluslararası sistemde başlıca gelişmiş ülkeler ile önemi ve ağırlığı hızla artan gelişmekte olan ülkeler arasında ekonomik ilişkileri artırmak amacıyla kurulmuştur. Türkiye, siyasi ve ekonomik özellikleri bakımından bu ülkeler arasında koordinasyonu sağlayabilen önemli bir ülkedir. Bu nedenle ülkemiz çalışmalara aktif katkılar sağlamaktadır. Türkiye, 1 Aralık 2014 yılında üstlendiği dönem başkanlığını 15-16 Kasım 2015 tarihlerinde Antalya'da düzenlenen Liderler Zirvesi'nde başarıyla tamamlamıştır.</p> <p>Bilgileri verilen uluslararası kuruluşun adı nedir?</p>	





S. NO	SORULAR	CEVAPLAR
15	<p>İslam dünyasının hak ve çıkarlarını korumak, üye devletler arasında iş birliği ve dayanışmayı güçlendirmek amacıyla 25 Eylül 1969 tarihinde kurulmuştur. Merkezi, Suudi Arabistan'ın Cidde şehrinde yer almaktadır. Teşkilata 57 ülke üyedir. Türkiye, teşkilatın kurucu üyeleri arasında olup aktif bir şekilde faaliyet göstermektedir.</p> <p>Bilgileri verilen uluslararası kuruluşun adı nedir?</p>	
16	<p>Petrus Gyllius (Petrus Gilius) İstanbul için "İki denizi ve iki dünyayı tek anahtarla açmaktadır." sözüyle İstanbul'un hangi özelliğine vurgu yapmıştır?</p>	
17	<p>"Umudu Ol" kampanyası çerçevesinde Mersin Taşucu Limanı'ndan yola çıkan yardım gemisi Somali'nin başkenti Mogadişu'ya ulaştı. Kızılay, AFAD (Afet ve Acil Durum Yönetimi Başkanlığı), TİKA (Türk İşbirliği ve Koordinasyon Ajansı Başkanlığı) ve sivil toplum kuruluşlarının iş birliğiyle hazırlanan 13 bin ton gıda maddesi 3 milyon kişinin bir aylık ihtiyacını karşılayacak boyutta. Gemide ayrıca ilaç, tıbbi malzeme, teşhis laboratuvarı ve iş makineleri de bulunuyor.</p> <p>(Genel Ağ haberinden düzenlenmiştir.)</p> <p>1- Yardım kampanyasına katılan ulusal kuruluşların adlarını yazınız.</p> <p>2- Yardım kampanyasına katılan uluslararası kuruluşun adını yazınız.</p> <p>3- Yardım maddeleri hangi alanlarda sağlanmıştır?</p> <p>Metne göre soruları cevaplayınız.</p>	<p>1-</p> <p>*</p> <p>*</p> <p>2-</p> <p>3-</p> <p>*</p> <p>*</p> <p>*</p>





6. SINIF SOSYAL BİLGİLER

7. ÜNİTE 4. KAZANIM AÇIK UÇLU SORULAR

YÖNERGE

**** Aşağıdaki açık uçlu soruların cevaplarını sorunun karşısındaki cevaplar yazan sütuna yazınız.

**** Birden çok cevabı olan sorular için numaralandırma yapılmıştır. Tüm numaralandırılan yerler doldurulmalıdır.

**** Sorular kolaylık ve takip açısından her kazanım için ayrı ayrı hazırlanmıştır.

KAZANIM: SB.6.7.4. Popüler kültürün, kültürümüz üzerindeki etkilerini sorgular.

S. NO	SORULAR	CEVAPLAR
1	Bir toplumu diğer toplumlardan farklı kılan, geçmişten beri değişerek devam eden, kendine özgü sanatı, inançları, örf ve âdetleri, anlayış ve davranışları ile onun kimliğini oluşturan yaşayış ve düşünüş tarzına ne ad verilir?	
2	Toplunun ayırt edici niteliklerinden oluşan kültür, 1-Günümüzde hangi kavram ile iç içe geçmiş durumdadır? 2- Kültürümüze ait olmayan unsurlar hangi araçlar yoluyla millî kültürümüzü ve toplum hayatını etkilemektedir? Verilen soruları cevaplayınız.	1- 2-
3	Belli bir dönem için geçerli olan, hızlı üretilen ve hızlı tüketilen kültürel öğelerin bütününe ne ad verilir?	
4	Bir dönem tüm dünyada özellikle gençler arasında sıkça dinlenen bir şarkı tüketilmiş ve ortadan kaybolmuş, onun yerini başka şarkılar almıştır. Bu durum, yiyecek, giyecek, eğlence vb. yaşamımızın içerisindeki tüm alanlarda geçerlidir. Verilen örneklerde yaşanan durumlarda etkili olan nedir?	









S. NO	SORULAR	CEVAPLAR
5	“Popüler kültürün toplumu etkilemesinde en etkili araç medyadır.” diyen bir öğrenci bu cümleye hangi araçları örnek vermelidir?	* * *
6	Geçmişte yayınlanan bir yerli dizide Türk örf ve âdetlerine, kültür, kimlik ve yaşam şekline uygun olmayan bir aile yaşantısı, Türk toplumunda varmış gibi anlatılmaktadır. Bu dizide kültürümüze uygun olmayan bir mimariyle yapılmış evde çocukların bakıcısı, ev halkıyla birlikte yaşamakta, çocuklar bakıcılarına ismiyle hitap etmektedir. Buna benzer yaşantı örnekleri, ana babaya saygı, aile içi ilişkiler vb. anlamda olumsuz örnek teşkil etmektedir. Metinde popüler kültüre etki eden hangi medya aracından bahsedilmektedir?	
7	Organize bir şekilde önce dizi, sinema filmi vb. yollarla pazarlanacak ürünün kullanılacağı yaşam şekli topluma özendirilmekte, ardından ürünler piyasaya sürülmektedir. Böylece ürünü kullanan kişiler, pazarlayanların istediği yaşam şekline girmek zorunda kalmaktadır. Ayrıca markaların tanıtımı popüler kişilerin aracılığıyla yapılarak tüketicilerde marka tutkusu oluşturulmaktadır. Metinde popüler kültürün yayılmasında etkili olan hangi kavramdan bahsedilmektedir?	
8	Yapılan bir araştırmada popüler kültür ürünü olarak yerli durum komedilerinden olan bir dizinin sadece üç bölümünde Türkçe kelimelerin 317 kez yanlış veya bozuk kullanıldığı tespit edilmiştir. Yine dizi ve sinema filmi, sosyal medya vb. yerlerde “trend”, “ikon” vb. popüler kelimeler sıkça kullanılır olmuştur. Bu durum kültürel açıdan neye yol açmıştır?	
9	Battal Gazi, Malkoçoğlu, Keloğlan, Nasreddin Hoca vb. kahramanlarımız hangi kültüre örnektir?	





S. NO	SORULAR	CEVAPLAR
10	Medya araçları insanları sürekli yeni model cep telefonu almaya teşvik etmektedir. Bu etkiler sonucunda çalışır durumdaki cep telefonunu kullanmayıp her sene yeni cep telefonu alan kişiler için hangi yorum yapılabilir?	
11	<p>* Türk Halk Müziği * Rap Müzik</p> <p>* Hip-hop Müzik * Türk Sanat Müziği</p> <p>Verilen örneklerden popüler kültür özelliği taşımayanları yazınız.</p>	<p>*</p> <p>*</p>
12	<p>Çevresi izleyicilerle dolu bir alan içinde oynanan, yazılı bir metne dayanmayan doğaçlama bir oyundur. Yüzyıllar boyunca Türk halkı tarafından büyük ilgi görmüştür. Ancak günümüzde popüler kültürün etkisiyle unutulmaya yüz tutmuştur.</p> <p>Metinde bahsedilen “ <u>unutulmaya yüz tutmuş</u>” oyunun adı nedir?</p>	
13	<div style="display: flex; justify-content: space-around;"> <div style="text-align: center;">  <p>(1)</p> </div> <div style="text-align: center;">  <p>(2)</p> </div> </div> <div style="display: flex; justify-content: space-around;"> <div style="text-align: center;">  <p>(3)</p> </div> <div style="text-align: center;">  <p>(4)</p> </div> </div> <p>Popüler kültüre karşı kültürümüzü korumak isteyen bir kişi verilen görsellerden hangi numaralı olanı <u>tercih etmemelidir?</u></p>	
14	<p>* Cips * Hamburger * Manti</p> <p>* Köfte * Pizza * Baklava</p> <p>Popüler kültür unsuru olan ürünlere karşı olan bir esnaf işyerinde hangilerini satmalıdır?</p>	<p>*</p> <p>*</p> <p>*</p>





@sosyalhocasimustafa



@sosyalhocasimustafakarakus

7. ÜNİTE AÇIK UÇLU SORULAR CEVAP ANAHTARI

7. ÜNİTE 1. KAZANIM CEVAP ANAHTARI			
S. NO	CEVAPLAR	S. NO	
1	Milli Dış Politika İlkeleri	8	Doğu sınırını güvenlik altına almayı amaçlamıştır.
2	1- Devletlerin eşitliği 2-Karşılıklılık (mütekabiliyet) 3- Tam bağımsızlık	9	1- İleri görüşlülük 2- Milli birlik ve beraberliği güçlü tutmak amaçlanmıştır. 3- Bakü-Tiflis-Ceyhan Boru Hattı
3	Barışçılık	10	1- Azerbaycan 2- Özbekistan 3- Kazakistan
4	Barışçılık	11	1- Kültürel 2- Siyasi 3- Ekonomik 4- Sosyal
5	Türk İşbirliği ve Koordinasyon Ajansı Başkanlığı (TİKA)	12	1-Türk dilinin konuşulduğu ülkeler, komşu ülkeler ve gelişmekte olan ülkelerle ekonomik, sosyal, kültürel iş birliği oluşturmaktır. 2- Kültürel 3- Orhun Abideleri
6	TRT AVAZ	13	Ülkemizin sınır komşularıdır.
7	Batı sınırını güvenlik altına almayı amaçlamıştır.		



@sosyalhocasimustafa



@sosyalhocasimustafakarakus



@sosyalhocasimustafa



@sosyalhocasimustafakarakus

7. ÜNİTE 2. KAZANIM CEVAP ANAHTARI

S. NO	CEVAPLAR	S. NO	
1	İhracat (dış satım)	7	* Petrol * Doğal gaz
2	İthalat (dış alım)	8	Bor
3	Ticaret	9	1- * En çok ihracat yapılan ülke: Almanya * En çok ithalat yapılan ülke: Çin 2- * En az ihracat yapılan ülke: Fransa * En az ithalat yapılan ülke: İran 3- * Almanya * ABD * İtalya * Fransa
4	Ülkede dış ticaret açığı ortaya çıkar.	10	Tarım
5	Fındık	11	Sanayi
6	Kayısı		



@sosyalhocasimustafa



@sosyalhocasimustafakarakus

7. ÜNİTE 3. KAZANIM CEVAP ANAHTARI

S. NO	CEVAPLAR	S. NO	
1	Jeopolitik konum	10	Ekonomik
2	Türkiye mültecilere ev sahipliği yaptığı, yut içi ve yurt dışı kuruluşlar vasıtasıyla dünyadaki ihtiyaç olan her yere yardım etmektedir.	11	Askeri
3	"Yurtta barış dünyada barış!"	12	Birleşmiş Milletler Teşkilatı (BM)
4	Siyasi	13	Kuzey Atlantik Antlaşması Örgütü (NATO)
5	Kültürel	14	Gelişmekte Olan 20 Ülke (G-20)
6	* Birleşmiş Milletler (BM) * Kuzey Atlantik Antlaşması Teşkilatı (NATO)	15	İslam İşbirliği Teşkilatı (İİT)
7	Ekonomi	16	Jeopolitik (stratejik) konumuna vurgu yapmıştır.
8	Kültürel	17	1- * Kızılay * AFAD (Afet ve Acil Durum Yönetimi Başkanlığı) 2- TİKA (Türk İşbirliği ve Koordinasyon Ajansı Başkanlığı) 3- * Beslenme * Sağlık * Sanayi
9	Siyasi		



@sosyalhocasimustafa



@sosyalhocasimustafakarakus

7. ÜNİTE 4. KAZANIM CEVAP ANAHTARI

S. NO	CEVAPLAR	S. NO	
1	Kültür	8	Kültür erozyonu
2	1- İletişim 2- Medya	9	Geleneksel kültür
3	Popüler kültür	10	Popüler kültürün etkisinde kalmıştır, denilebilir.
4	Popüler kültür	11	* Türk Halk Müziği * Türk Sanat Müziği
5	*Televizyon, * Genel Ağ, * Gazete	12	Orta oyunu
6	Televizyon	13	3 numaralı olan tercih edilmemelidir.
7	Reklam	14	* Manti * Köfte * Baklava



@sosyalhocasimustafa



@sosyalhocasimustafakarakus



@sosyalhocasimustafa



@sosyalhocasimustafakarakus

**DİĞER DERS İÇERİKLERİ İÇİN AŞAĞIDAKİ KANAL
LİNKLERİME TIKLAYINIZ.**

YOUTUBE ABONE OL LİNKİ:

<https://www.youtube.com/@sosyalhocasimustafa>

İNSTAGRAM HESABIM:

<https://www.instagram.com/sosyalhocasimustafa/>

TELEGRAM HESABIM:

<https://t.me/sosyalhocasimustafakarakus>

WHATSAPP HESABIM:

<https://whatsapp.com/channel/0029VaA9Dzy4o7qDiBoEdD0z>



@sosyalhocasimustafa



@sosyalhocasimustafakarakus