

1. Birey olarak dünyaya geldiğimiz andan itibaren çeşitli sosyal roller üstleniriz. Rollerimizin bir kısmı doğuştan sahip olduğumuz rollerdir.

Buna göre aşağıdakilerden hangisi doğuştan sahip olduğumuz rollerden biridir?

- A) Öğrenci B) Oyuncu C) Anne D) Evlat

2. Hatay'da aynı sokakta hem Müslümanların ibadethanesi cami, hem Yahudilerin ibadethanesi olan havra hem de Hristiyanların ibadethanesi olan kilise bulunmaktadır. İnsanlar özgürce kendi inançlarına göre ibadet edebilmektedir.

Yukarıdaki bilgiye göre ön yargılı olunmayan ve saygı duyulan farklılık hangisidir?

- A) Din B) Dil C) Irk D) Cinsiyet

3. **Rol:** Bir işte bir kimsenin üstüne düşen görevdir.

Aşağıdakilerden hangisi rolün özelliklerinden biri değildir?

- A) Yıllar içinde rolümüz aynı kalsa da sorumluluklarımız değişebilir.
B) Roller değiştikçe sorumluluklarda değişir.
C) Aynı rol farklı toplumlarda farklı sorumluluklar gerektirebilir.
D) Yaşımız ilerledikçe rollerimiz azalır.

4. Ortaokul 6.sınıf öğrencisi olan Mustafa sabah yatağından kalktı, yatağını düzeltti. Annesi, babası, babaannesi ve küçük kardeşiyle kahvaltısını yaptıktan sonra okul servisine binip okula gitti, derse başladı.

Yukarıdaki metne göre aşağıdakilerden hangisi Mustafa'nın sahip olduğu rollerden değildir?

- A) Öğrenci B) Evlat C) Torun D) Müşteri

5. Demokratik ülkelerde insan hakları, çocuk hakları ve vatandaşlık hakları uluslararası belgeler ve anayasalarla koruma altına alınmıştır.

Buna göre aşağıdaki belgelerden hangisi çocuk haklarının korunmasında etkili olan uluslararası belgelerdendir?

- A) Türk Medeni Kanunu
B) Fikir ve Sanat Eserlerini Koruma Kanunu
C) Birleşmiş Milletler Çocuk Haklarına Dair Sözleşme
D) Sorunlar karşısında kamuoyu oluşturmak

6. Geçmişimizi bilmek, atalarımızı tanımak, gelecek nesillere aktarmak, geçmişte yaptığımız hatalardan ders çıkarmak oldukça önemlidir. Bu durum hem geleceğe sağlam adımlarla yürümemizi sağlar hem de kültürel birlikteliğimizi güçlendirir.

Yukarıda hangi birlik beraberliğimizi sağlayan kültürel faktörden bahsetmektedir?

- A) Din B) Dil
C) Gelenekler D) Tarih

7. Kültürün nesilden nesile aktarılması, yaşaması ve gelişmesi dil yoluyla olur. Böylece millet hayatındaki devamlılık dil sayesinde sağlanmış olur. Kültürün bazı unsurları varlığını ve devamlılığını dile borçludur. Toplumsal yaşamın vazgeçilmezi olan değerler, örf ve âdetler, gelenek ve görenekler dil vasıtası ile nesilden nesile aktarılır. Bu yüzden Türkçemizin korunması ve geliştirilmesi, kültürün yaşaması için önemlidir.

Yukarıdaki metinde kültürümüzün önemli öğelerinden olan dilin kültür üzerindeki hangi etkisi vurgulanmıştır?

- A) Kültürel yozlaşma B) Kültürel süreklilik
C) Kültürel çatışma D) Kültürel etkileşim

8. Ülkemizde bakıma muhtaç insanların ve kimsesiz çocukların kalacağı yerler olması, eğitim konusunda desteğe ihtiyacı olanlar için kampanyalar düzenlenmesi, birçok konuda sivil toplum kuruluşlarının olması Türk toplumunda önemli olan hangi değerleri yaşatma konusunda etkili olmaktadır?

- A) Tarihimize sahip çıkma
B) Yardımlaşma ve dayanışma
C) Ön yargılı olma
D) Kurallara uyma

9. Hemşirelik, terzilik, temizlikçi gibi meslekler denince akla kadınların; futbolcu, çiftçi, pilot denince akla erkeklerin gelmesi ne olarak adlandırılır?

- A) Farklılıklara karşı ön yargı B) Kalıp yargı
C) Saygı D) Irk ayrımcılığı

10. Aynı devlet üzerinde bir arada yaşayan ve temel çıkarlarını sağlamak amacı ile işbirliği yapan insanların tümüne toplum denir.

Buna göre, aşağıdakilerden hangisi toplumu oluşturan unsurlar arasında yer almaz?

- A) Ortak bir toprak parçası
B) Bireylerin birlikte yaşama isteği
C) Bireylerin iş birliği yapması
D) Etnik ve dini ayrımcılığın bulunması

11. Araçlarınızı kaldırımlara park edince bizler kaldırımları kullanamıyoruz. Lütfen yaya kaldırımlarını üzerine araçlarınızı park etmeyin.

Engelli vatandaşımızın uyarısını dikkate alan bir araç sürücüsü için ;

- I. Empati kurduğu
II. Kendinden başka kimseyi umursamadığı
III. Sorumluluklarını yerine getirdiği

hangisi ya da hangileri söylenebilir?

- A) Yalnız I B) I ve III
C) II ve III D) I, II ve III

12. Bir toplumu oluşturan bireylerin duygu, düşünce ve ortak çıkar birliği ile birbirlerine bağlanmaları ve her konuda birbirlerine destek olmalarına "**dayanışma**" denir.

Buna göre aşağıdakilerden hangisi dayanışmaya örnek olarak gösterilebilir?

- A) Ahmet'in babasının bir fabrikada işçi olarak çalışması
B) Kırsal kesimlerde işlerin el birliğiyle yapılması
C) Özgür Bey'in yurtiçi satışların yanı sıra yurtdışı satışları da yapması
D) Yeliz Hanım'ın her sabah çocuğunu okula bırakması

13. Aşağıdakilerden hangisi 6.sınıf öğrencisinin sahip olduğu haklardan biri değildir?

- A) Eğitim almak
B) Hastanelerde tedavi olmak
C) Düşüncelerini özgürce ve istediği yolla açıklamak
D) Komşularını rahatsız etmemek

14. Türkler ana yurtları olan Orta Asya'da besledikleri hayvanların etinden sütünden yararlanmış, yünlerinden halı kilim dokumuşlar ve göçebe yaşam sürmüşlerdir. Ayrıca madenleri işleyerek savaş aletleri ve süs eşyaları yapmışlardır.

Yukarıdaki bilgiyi okuyan Zeynep, Türklerin hangi ekonomik faaliyeti yaptığını düşünmez?

- A) Dokumacılık B) Tarım
C) Hayvancılık D) Madencilik

15. Çin esaretinden kaçan Göktürklerin uzun zaman dağlarla çevrili bir yerde kalıp çoğaldıklarını buraya sığamaz hale gelince çıkmak için demir madeni olan dağı eriterek bir yol açıp yeniden tarih sahnesine çıkarak devlet kurduklarını anlatan destan hangisidir?

- A) Oğuz Kağan Destanı B) Ergenekon Destanı
C) Türeyiş Destanı D) Göç Destanı

16.

- I. Yerleşik hayat II. Mimari eserler
III. Oğuz Kağan Destanı IV. Mani dini

Yukarıdakilerden hangisi ya da hangileri Uygurlar ile ilgilidir?

- A) I ve II B) I, II ve III C) Yalnız III D) I, II ve IV

17.

- I. Türk adıyla kurulan ilk Türk devletidir.
II. Tarihte bilinen ilk Türk devletidir.
III. Yerleşik hayata geçen ilk Türk devletidir.

Yukarıda verilen devletler sırasıyla aşağıdakilerden hangisinde doğru olarak verilmiştir?

- | <u>I</u> | <u>II</u> | <u>III</u> |
|-----------------|--------------|--------------|
| A) Göktürkler | Asya Hunları | Uygurlar |
| B) Uygurlar | Göktürkler | Asya Hunları |
| C) Asya Hunları | Göktürkler | Uygurlar |
| D) Göktürkler | Uygurlar | Asya Hunları |

18. Orta Asya Türk toplumlarında askerlik bir meslek olmaktan çok savaşa her an hazır olunan normal bir yaşam biçimi olarak görülürdü. Diğer toplumlar Türkler için "**Ordu Millet**" tanımlaması yapmıştır.

Verilen bilgiye göre, Türk ordu teşkilatı ile ilgili aşağıdakilerden hangisi söylenemez?

- A) Askerlik toplumsal bir görevdir.
B) Türklerde ordu millet anlayışı yerleşmiştir.
C) Türkler toplum olarak her an savaşa hazırdır.
D) Türklerde sadece erkekler savaşa katılabilir

19. Orta Asya Türk devletlerinden Hunlar ve Göktürkler döneminde;

- Sanat eserlerinin taşınabilir olması
- Çadır tarzı yerleşmenin yaygın olması,
- Hayvancılığın ekonomik faaliyet olarak benimsenmesi,

hangi özellikleri ile açıklanabilir?

- A) Gök tanrı dinine inanmaları ile
B) Hükümdarlığın babadan oğula geçmesiyle
C) Töre denilen yazısız kurallar benimsemeleri
D) Yarı göçebe bir yaşam sürmeleri ile

20. Eski Türklerde ölen kişi "kurgan" denilen mezara değerli eşyaları ile birlikte gömülürdü. Koruma amaçlı üzerine toprak ya da taş yığılmış olan kurganların önemli bir özelliği de etrafının taş parçaları ile çevrilmiş olmasıdır.

Bu bilgiye göre Orta Asya Türkleri ile ilgili hangi yargıya ulaşabiliriz?

- A) Bu uygulama yarı göçebeliliğin bir gereğidir.
B) Orta Asya Türkleri ahirete inanmaktadırlar
C) Cenaze törenleri Çin kültüründen etkilenmiştir.
D) Mani dininden bu uygulamayı öğrenmişlerdir

21. Aşağıdakilerden hangisi ilk Türklerde göçebe yaşam tarzının bir sonucu değildir?

- A) Sanat eserlerinin taşınabilir malzemenin olması
B) Tarımda ileri seviyelere ulaşılması
C) Bağımsızlık ve özgürlük duygularının gelişmesi
D) Geçimlerinin hayvancılık ve ticarete dayanması

22. Kök Türk Yazıtlarında Bilge Kağan, "Tanrı beni kağan olarak oturttu." diyerek bize Gök Tanrı inancı hakkında ipuçları verir. Türklerle göre tanrı, mutlak güç sahibi, ulu ya da yüksek ve sonsuzdur.

Metinde geçen "Tanrı beni kağan olarak oturttu." ifadesini hangi kavramla açıklarız?

- A) Kut B) Töre C) Toy D) Yuğ

23. 751 Yılında Çinlilerle Abbasiler İpek yolunun hâkimiyeti için karşı karşıya geldiler. Orta Asya'da ise zamanla güçsüzleşen ve Çin egemenliğine giren Türk kabileler vardı. Bu savaşta Türkler, Abbasîlerin tarafına geçerek askeri yeteneklerinin de etkisiyle, Abbasîlere katkı sağlamış ve Çinlileri ağır bir mağlubiyete uğratmışlardır. Bu savaş sonrasında Türkler kitleler halinde İslamiyet'i kabul etmişlerdir

Yukarıda bilgileri verilen savaş aşağıdakilerden hangisidir?

- A) Bedir savaşı B) Mekke'nin fethi
C) Talas savaşı D) Malazgirt savaşı

24. Türklerin İslamiyet'i kabul etmelerinden sonra yaşanan değişimlerden hangisi siyasi alanda değişim meydana geldiğinin bir göstergesidir?

- A) Türkler cami, medrese, türbe gibi yapılar inşa etti.
B) Göçebe yaşamdan yerleşik yaşama geçiş sağlandı.
C) Devlet işleri kurultay denilen meclis yerine divanda görüşülmeye başladı.
D) Türk İslam edebiyatı ürünleri yazılmaya başlandı.

25. Orta Asya'nın coğrafi özellikleri, bozkır kültürünün ortaya çıkmasında etkili olmuştur. Bozkır kültürü, Türkler arasındaki sosyal ve ekonomik yapıyı şekillendiren temel faktör olmuştur.

Buna göre Türklerin ekonomik faaliyetlerinden hangisi daha çok bozkır kültürünün sonucu ortaya çıkmıştır?

- A) Mimarlık B) Hayvancılık
C) Ticaret D) Tarım

26. Sürekli hareket hâlinde bulunan Türk toplumunda aile ve soy birliği ön plandaydı. Sınırlı otlakları kullanma mecburiyet aile ve grup ilişkilerini güçlendirmişti. Toplumun en küçük birimi aile idi. Aileler sülaleleri, sülaleler boyları, boylar millet, millet de devlet oluştururdu.

Yukarıdaki metinde İslamiyet Öncesi Türk devletlerinin daha çok hangi yapısı hakkında bilgi verilmektedir?

- A) Siyasi B) Askeri
C) İktisadi D) Sosyal

27. Uygurların tarımda ve ticaretle daha çok ilerlemelerini, ayrıca ev, tapınak vb yapıları yapmış olmalarını hangi yargı ile açıklayabiliriz?

- A) Gök tanrı dinini terk etmeleriyle
B) Yazıyı kullanmalarıyla
C) Yerleşik yaşama geçmiş olmalarıyla
D) Çinlilerden etkilenmeleriyle

28. Kağanlık, Türklerle Tanrı tarafından verildiğine inanılan bir görevdi. Bu anlayış Kut olarak adlandırılmıştı. Kut'un kanda olduğuna ve kan yoluyla babadan oğula geçtiğine inanılırdı. Bu da hükümdar öldükten sonra hanedan üyelerinin taht üzerinde hak iddia etmelerine ve kağanlık mücadelesinin çıkmasına neden olurdu. Bu durum ülkenin zayıflamasına veya yıkılmasına yol açabilirdi. Devlet meclisi diyebileceğimiz toy (kurultay), kağanın başkanlığında yapılan boy beylerinin katıldığı toplantıydı. Devlet işlerinin görüşülüp karara bağlandığı toya kağanın eşi hatun da katılırdı.

Metne bakarak aşağıdaki yargılardan hangisine ulaşılamaz?

- A) Kut inancının devletin parçalanmasında etkili olabildiğine
B) Kadınların devlet işlerinde söz sahibi olduğuna
C) Kurultayda siyasi, askeri ve sosyal alanda kararlar alındığına
D) Hükümdar olmanın dinsel bir kaynağa dayandırıldığına

29. Diplomatik belgeleri, sözleşmeleri, vasiyetleri vb. belgeleri sakladıkları ciddi bir birikimleri vardır. Tahta oyma kalıplı matbaa tekniğini kullanmışlardır. Birçok el yazması eser yanında Çinlilerin bulduğu matbaayı kullanarak eserler ortaya koymuşlardır. Siyah ve kırmızı mürekkep kullanarak kâğıt üzerine yazmışlardır. Uygur medeniyetine ait izler devlet teşkilatının çok gelişmiş olduğunun bir göstergesidir. Posta teşkilatı, vergi sistemleri kurmuşlardır.

Bu metne bakarak Uygurlar hakkında aşağıdakilerden hangisine ulaşılamaz?

- A) Hukuksal alanda belgelere sahiptirler.
B) Teknik anlamda Çinlilerden etkilenmişlerdir.
C) Bilgilerin kalıcı olması için çeşitli yöntemler kullanmışlardır.
D) Ekonomik sistemlerini bozkır kültürüne göre oluşturmuşlardır.

30. Orta Asya'da yaşayan Türkler, yabancı bir devletin esareti altına girmektense başka bir bölgeye göç etmeyi tercih etmişlerdir.

Bu durum Türklerde aşağıdakilerden hangisine önem verildiğinin kanıtıdır?

- A) Sınırların genişletilmesine
B) Hukuk kurallarına
C) Yerleşik yaşama
D) Bağımsızlığa

31. İlk Türk devletlerinde ikili devlet teşkilatı vardır. Ülke doğu ve batı olarak ikiye ayrılırdı. Doğu'da "hakan", batıda ise "yabgu" otururdu. Hakan ülkenin siyasi kanadından sorumlu olurken, yabgu ise askeri işlerden sorumlu olurdu. Ancak bu durum çoğu zaman ülkeye büyük zararlar verirdi.

Aşağıdakilerden hangisi ikili devlet teşkilatının zararlarından biridir?

- A) Yerleşik hayata geçilmesi
- B) Ülke yönetimini kolaylaştırması
- C) Ülkenin bölünmesine neden olması
- D) Yönetme sorumluluğunun paylaşılması

32. Peygamberimiz Hz. Muhammed eğitime oldukça önem vermiştir.

Aşağıdakilerden hangisi Hz. Muhammed'in eğitime verdiği önemin kanıtıdır?

- A) İslam dinini halka anlatması
- B) Farklı dinlere inanan kişilere hoşgörülü davranması
- C) Savaşta esir alınanların okuma yazma bilmeyenlere okuma yazma öğretmesi karşılığında serbest bırakılması
- D) Bütün herkese eşit yaklaşarak kardeşçe yaşamanın önemini anlatması

33. Dört Halife Dönemi içinde fetihlerin en çok yapıldığı dönemdir. Kudüs, Suriye-Filistin, İran bu dönemde fethedilmiştir. Sınırlar genişleyip nüfus arttığı için siyasi, hukuki, sosyal alanlarda düzenlemeler yapılmıştır. Peygamberimizin hicretini başlangıç kabul eden Hicri Takvim bu dönemde hazırlanmıştır.

Yukarıda verilen bilgiler hangi halife döneminde gerçekleştirilmiştir?

- A) Hz. Ebubekir
- B) Hz. Ömer
- C) Hz. Osman
- D) Hz. Ali

34.

- Hz. Muhammed'in Bedir Savaşı'nda esir düşen Mekkelileri okuma yazma bilenlerin 10 kişiye okuma yazma öğretmesi karşılığında serbest bırakması
- Abbasi'lerin başkentleri Bağdat'da Beytül Hikme adında dönemin en gelişmiş bilim çalışmalarının yapıldığı merkezi kurması
- Gazneli hükümdarı Sultan Mahmud'un bilim insanı Biruni için sarayının en değerli hazinesi demesi

Yukarıda verilen bilgiler İslam devletlerinde neye önem verildiğini gösterir.

- A) Eğitim-Bilim
- B) Ticaret-Ekonomi
- C) Askerlik-Ordu
- D) Sanat-Edebiyat

35. Türklerin İslamiyeti kabul etmelerinde etkili olan durumlardan hangisi yanlış verilmiştir?

- A) Abbasilerin eşitlikçi ve adaletli bir politika izlemesi
- B) Türklerdeki Gök Tanrı inancı ile İslamiyetteki Allah inancının birbirine benzemesi
- C) İslamiyetteki cihan hakimiyeti ile Türklerdeki cihat hakimiyeti anlayışının benzemesi
- D) Türklerin puta tapması İslamiyette Allah inancının olması

36. Türklerin İslamiyeti kabulünden sonra meydana gelen değişikliklerden hangisi İslam kültürü ile beraber Türk kültüründe devam ettiğini gösterir?

- A) İslami kurallar ile Türk devletlerine kullanılan örf'i hukuk kurallarının birlikte kullanılması
- B) Mimari eser olarak cami yapmaları
- C) Kurban ve Ramazan bayramlarının kutlanması
- D) Resmi dil olarak Arapçayı kullanmaları

37. Aşağıda özellik ve devlet adının verildiği eşleştirme tablosunda hangi iki devlet yer değiştirse tablodaki bilgiler doğru olur?

İlk Türk İslam devletidir.	Karahanlılar
Orta Asya'da kurulan ilk Türk devletidir.	Asya Hun Devleti
Yerleşik hayata geçen ilk Türk devletidir.	Gazneliler
Hindistan'a 17 kez sefer düzenleyen Türk-İslam devletidir.	Uygurlar

- A) Karahanlılar - Gazneliler
- B) Asya Hun devleti-Uygurlar
- C) Gazneliler-Uygurlar
- D) Asya Hun Devleti-Karahanlılar

38. Emevi devletine son veren Abbasiler, 750 yılında Bağdat merkezli bir devlet kurdular. Onların döneminde Emevilerin ırkçı tutumlarından vazgeçildi. Eşitlik ve adaletle önem verildi. Bu durum İslamiyet'in diğer milletler arasında daha hızlı yayılmasında etkili oldu. Harun Reşid döneminde ziraat, ticaret, bilim ve eğitim düzeyi arttı. Bağdat, doğunun büyük ve önemli bilim ve ticaret merkezlerinden biri hâline geldi. İslam kültür ve medeniyeti bu dönemde çok büyük ilerlemeler kaydetti.

Yukarıdaki paragrafa göre Abbasi Devleti ile ilgili hangi bilgiye ulaşamayız?

- A) Abbasilerin ırkçı politikaları, diğer milletlerin İslam'a geçişini yavaşlatmıştır.
- B) Ekonomi ve bilim alanında önemli çalışmalar yapmışlardır.
- C) Devlet yönetiminde adalet ve hoşgörüyü benimsemeleri İslam'a katılımı artırmıştır.
- D) İslam kültür ve medeniyeti bu dönemde çok büyük ilerlemeler kaydetmiştir.

39. Talas Savaşı Türkler için bir dönüm noktasıdır. Bu savaştan sonra Türkler İslamiyet'i kabul etmişlerdir. Türkler arasında İslam dini hızla yayılmıştır. İslam kültürü, Türk kültürünü etkilemiştir. Özellikle de Abbasiler örnek alınarak birçok yeni kurum meydana getirilmiştir. Sosyal, siyasal, kültürel ve ekonomik alanda değişimler yaşanmıştır.

Aşağıdakilerden hangisi eğitim alanında etkilenmeye örnek olarak gösterilebilir?

- A) Kervansarayların inşa edilmesi
- B) Ülkeyi hükümdarın yönetmesi
- C) Birçok medresenin açılması
- D) Şehirler arasında yollar inşa edilmesi

40. İpek Yolu'nu kullanan kervanların konakladığı yerlerde zamanla büyük şehirler kurulmuştur.

Bu şekilde kurulan şehirlerde öncelikle aşağıdakilerden hangisinin gelişmesi beklenir?

- A) Tarım
- B) Ticaret
- C) Denizcilik
- D) Hayvancılık

41. Aşağıdakilerden hangisi İpek Yolu için söylenemez?

- A) Çin'den başlayan bir ticaret yoludur.
- B) Kültürel etkileşime neden olmuştur
- C) Devletlerarası ilişkileri etkilemiştir.
- D) Sadece ipek taşınmıştır.

42. İlk Müslüman Türk devleti olan Karahanlılar, her ne kadar Arap kültüründen etkilendilerse de dillerini korumayı başarmışlardır. Yazdıkları eserleri Türkçe olarak yazmışlar ve her yerde Türkçe konuşmuşlardır.

Buna göre, Karahanlılar ile ilgili aşağıdakilerden hangisine ulaşılamaz?

- A) Milli benliklerini korumuşlardır.
- B) İslam dünyasının siyasi lideri olmuşlardır.
- C) Türk diline sahip çıkmışlardır.
- D) Kendi kültürel değerlerini de yaşatmışlardır.

43.

- İlk Türkçe sözlük sayılır.
- Kaşgarlı Mahmut tarafından yazılmıştır.
- Araplara Türkçeyi öğretmek için yazılmıştır.

Yukarıda özellikleri verilen eser aşağıdakilerden hangisidir?

- A) Siyasetname
- B) Orhun Abideleri
- C) Kutadgu Bilig
- D) Divan-ı Lügati't Türk

44. Malazgirt Meydan Savaşı'nın Türkler tarafından kazanılmasından sonra Anadolu'da I. Beylikler Dönemi başlamış oldu. Anadolu'da kurulan ilk Türk beylikleri Saltuklular, Artuklular, Danişmentliler, Mengücekliiler, Çaka Beyliği ve Anadolu Selçukluları idi.

Anadolu'da kurulan ilk Türk beyliklerinin hangi faaliyetleri Anadolu'nun Türkleşmesi sürecinde daha çok etkili olmuştur?

- A) Yeni fethedilen yerlerde hamam, köprü, kervansaray, darüşşifa gibi yapılar inşa etmeleri
- B) Bizans halkını zorla Müslümanlaştırmaları
- C) Türk beylikleri arasında yaşanan mücadeleler
- D) Haçlı Seferleri'nin başlamasına sebep olmaları

45. Hristiyanların, Müslümanlar üzerine düzenlediği Haçlı Seferlerinin;

- I. Hristiyanların kutsal kabul ettikleri Kudüs'ü ele geçirmek istemesi
- II. İpek ve Baharat yollarının Müslümanların kontrolünde olması
- III. Yoksul Avrupalıların Doğu'nun zenginliklerine kavuşmak istemesi

sebeplerinden hangisi yada hangilerini, bu seferlerin ekonomik nedenlere örnek gösterilebilir?

- A) Yalnız I
- B) Yalnız II
- C) I ve II
- D) II ve III

46. Anadolu Selçuklu Devleti zamanında birçok kervansaray yapılmıştır. Bu kervansaraylarda üç gün boyunca konaklamak bedava yapılmıştır. Konaklayanlardan hasta olanları tedavi edilir, hayvanlarının bakımı yapılırdı. Burada kalanların her türlü ihtiyacı karşılanırdı.

Anadolu Selçuklu Devleti'nde böyle bir uygulamanın olmasının amacı aşağıdakilerden hangisidir?

- A) Yardımlaşma ve dayanışmayı arttırmak
- B) Anadolu'yu imar hale getirmek
- C) Eğitim seviyesini arttırmak
- D) Ticareti geliştirmek

47.

- Türklere Anadolu'nun kapıları açıldı.
- Türkler Anadolu'ya göç etmeye başladı.
- Anadolu'da Türk devletleri kurulmaya başladı.

Yukarıda verilen bilgiler hangi olay sonrasında ortaya çıkmıştır?

- A) Pasinler Savaşı
- B) Dandanakan Savaşı
- C) Köseadağ savaşı
- D) Malazgirt Savaşı

48. Aşağıdakilerden hangisi Haçlı Seferlerinin ekonomik nedenleri arasında yer almaz?

- A) Doğunun zenginliklerini ele geçirmek
- B) Kudüs'ü Müslümanların elinden almak
- C) Avrupa halkının yoksulluk içinde olması
- D) Önemli ticaret yollarının Müslümanların elinde olması

49. Türkiye Selçuklu Devleti hükümdarlarının aşağıdaki faaliyetlerinden hangisi Anadolu'da ticareti geliştirmeye yönelik değildir?

- A) Şehirlerde çok sayıda cami, medrese ve türbe inşa ettirmeleri
B) Antalya, Alanya, Sinop gibi liman kentlerini ele geçirmeleri
C) Konya, Kayseri, Malatya gibi şehirlerarasına kervansaray yaptırmaları
D) Yabancı tüccarlara gümrüklerde indirim yapmaları

50. Türkler Anadolu'ya yerleşmeye başladığında pek çok zanaatkar, şeyh, derviş de Anadolu'ya gelmiştir. Bu kişiler Anadolu'nun Türkleşme sürecinde önemli rol oynamıştır.

Sözü edilen kişiler arasında aşağıdakilerden hangisi yer almaz?

- A) Yunus Emre B) Mevlana
C) Hacı Bektaş Veli D) Aşık Veysel

51. 1243 yılında Türkiye Selçuklu Devleti ile Moğollar arasında gerçekleşen ve Türkiye Selçuklu Devleti'nin yıkılma sürecine girdiği savaş aşağıdakilerden hangisidir?

- A) Pasinler B) Malazgirt
C) Köseadağ D) Miryokefalon

52.

Türkler tarih boyunca Anadolu'da birçok;

- I. Medrese II. Şifahane
III. Kale IV. Kervansaray
inşa etmişlerdir.

Bu mekânların yapılış amaçları, aşağıdakilerden hangisinde sırasıyla doğru verilmiştir?

	I	II	III	IV
A	Eğitim	Ticaret	Sağlık	Savunma
B	Savunma	Sağlık	Ticaret	Eğitim
C	Eğitim	Sağlık	Savunma	Ticaret
D	Sağlık	Savunma	Ticaret	Eğitim

53. Anadolu'nun fethine katılan beyler burada fethettikleri yerlere yerleştiler ve beylikler kurdular. Kurulan bu ilk Türk beylikleri, Anadolu'nun bayındır hale getirilmesinde ve farklı alanlarda katkıda bulunmuşlardır.

Aşağıdakilerden hangisi beyliklerin Anadolu'ya katkılarının biri değildir?

- A) Anadolu'nun Türk yurdu olmasını sağladılar.
B) Cami, medrese, türbe, kervansaray yaparak Anadolu'yu bayındır hale getirdiler.
C) Ele geçirdikleri yerlere Türkçe adlar vererek Anadolu'yu Türkleştirdiler.
D) Moğollar ile dostane ilişkiler geliştirdiler.

54.

- Ticaret yolları üzerindeki konak yerleridir.
- Sağlık hizmeti verilen ve bu amaçla gerektiğinde hastaların yatarak tedavi oldukları kurumdur.
- Orta ve yükseköğretimin yapıldığı eğitim kurumlarının genel adıdır.

Yukarıdaki bilgiler, Türkiye Selçuklu Devleti döneminde var olan kurumlarla eşleştirildiğinde hangisi açıkta kalır?

- A) Kümbet B) Darüşşifa
C) Kervansaray D) Medrese

55. İlk Türk Beylikleri Malazgirt Savaşı'ndan sonra Anadolu'da kurulmuştur. Anadolu'da kurulan Türk beylikleri siyasi ekonomik ve kültürel faaliyetleri ile Anadolu'yu daha zengin bir hale getirmişlerdir.

Bu bilgiye göre aşağıdakilerden hangisi Anadolu'da kurulan ilk beyliklerden biri değildir?

- A) Artuklular B) Saltuklular
C) Karahanlılar D) Çaka Beyliği

56. Malazgirt Zaferi'nden sonra Anadolu'da kurulan ilk Türk beyliklerine ait;

- Tokat Niksar'da Anadolu'daki ilk medreselerden biri olan Yağıbasan Medresesi,
- Erzincan Tercan'da içerisinde kervansaray, hamam, mescit ve türbe olan Mama Hatun Külliyesi,
- Sivas'ta taş işlemeleri ile ünlü Divriği Ulu Camii,
- Diyarbakır'da dünyanın en büyük taş kemerine sahip olan Malabadi Köprüsü yapılmıştır.

Buna göre Anadolu'da kurulan İlk Türk beylikleri ile ilgili aşağıdaki yargılardan hangisine ulaşılamaz?

- A) Askerî yapıların inşa edilmesine önem vermişlerdir.
B) Ticaretin gelişmesine yönelik yapılar inşa etmişlerdir.
C) Mimari alandaki çalışmalarla Anadolu'yu bayındır hâle getirmişlerdir.
D) Anadolu'da bilim ve eğitim hayatının gelişmesine yönelik faaliyetlerde bulunmuşlardır.

57. İpek Yolu, iki bin yıldır pek çok ülkeden geçerek Asya'dan Avrupa'ya uzanan bir köprü olmuştur. Bu köprüden sadece mallar değil, kültürler ve insanlar da geçmiştir. Zenginliğin ve bilginin taşındığı bu yol, kontrolünü elinde tutan devletlere ekonomik, askerî, kültürel ve siyasi imkânlar sağlamıştır.

Yukarıdaki paragrafta, İpek Yolu'nun hangi özelliğine değinilmemiştir?

- A) Devletlerarası savaşa neden olmasına
B) Farklı coğrafyalardan geçişine
C) Kültür köprüsü oluşuna
D) Ekonomik değerine

58. Aşağıdakilerden hangisi Türkiye'nin mutlak konumuyla ilgili bir ifadedir?

- A) Türkiye Asya ve Avrupa kıtaları arasında yer alır.
- B) Türkiye de kuzeyden esen rüzgarlar sıcaklığı düşürür.
- C) Üç tarafı denizlerle çevrili bir yarımada'dır.
- D) İstanbul ve Çanakkale Boğazlarına sahiptir.

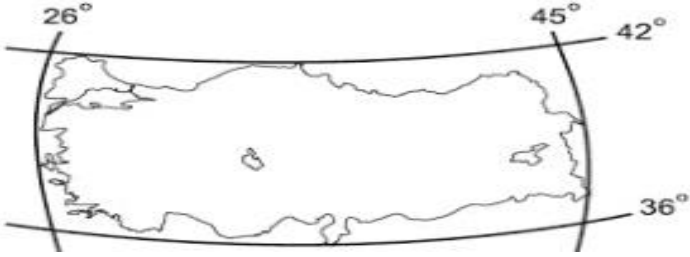
59. Aşağıdakilerden hangisi Dünya üzerindeki bir yerin matematik konumunu belirlemek için kullanılacak bilgiler arasında yer alır?

- A) Bölgenin yer altı kaynakları
- B) Bölgenin başlangıç paraleli ve meridyenine uzaklığı
- C) Bölgenin doğal güzellikleri
- D) Bölgenin denizlere göre konumu

60. Dünya üzerin de kuzey yarımkürede orta kuşakta yer alan kıtaların kuzeyinden esen rüzgarların soğuk, güneyinden esen rüzgarların ise sıcak olmasının nedeni aşağıdakilerden hangisi ile açıklanabilir?

- A) Bakı etkisi
- B) Yükselti
- C) Denizellik
- D) Rüzgarların yönü

61.



Yukarıdaki Türkiye mutlak konumu incelendiğinde hangisi söylenemez?

- A) Türkiye Ekvator'un kuzeyindedir.
- B) Türkiye Güney Yarımküre'de yer alır.
- C) Türkiye Başlangıç Meridyeninin doğusundadır.
- D) Türkiye'nin kuzeyi ile güneyi arasında 666 km mesafe vardır.

62. Ekvatordan kutuplara gittikçe paralellerin boyları kısalmır.

Bu durumun temel nedeni hangisidir?

- A) Dünyanın yuvarlak şekle sahip olması
- B) Karaların daha az yer kaplaması
- C) Güneş ışınlarının geliş açısı
- D) Kuzey Yarım Küre'nin daha sıcak olması

63. Aşağıdakilerden hangisi paralellerin özellikleri arasında yer almaz?

- A) Enine çizgilerdir.
- B) Başlangıç paraleli Greenwich'tir.
- C) Ardışık iki paralel arası mesafe 111 km'dir.
- D) 90 güneyde 90 kuzeyde toplam 180 tanedir.

64. Bir yerin coğrafi konumu matematik (mutlak) konum ve özel (göreceli) konum olmak üzere ikiye ayrılır. Göreceli konum herhangi bir yerin kıtalara, okyanuslara, denizlere, yer şekillerine, yer altı kaynaklarına, ulaşım yollarına ve komşu ülkelere göre belirlenen konumudur.

Buna göre aşağıdakilerden hangisi Türkiye'nin özel(göreceli) konumuyla açıklanamaz?

- A) Orta kuşakta olduğundan dört mevsim belirgin olarak yaşanmaktadır.
- B) Ülkemiz Asya, Avrupa ve Afrika kıtalarının birbirine en çok yaklaştığı yerdedir.
- C) Üç tarafı denizlerle çevrilidir.
- D) Petrol zengini ülkelere yakın bir yerde yer alır

65. Ülkemizin okyanuslara ve denizlere, komşu ülkelere, önemli ticaret turizm, sanayi ve ulaşım yerlerine göre bulunduğu yer özel konumunu ifade eder.

Buna göre aşağıdakilerden hangisi ülkemizin özel konumunun bir sonucu değildir?

- A) Asya ve Avrupa kıtalarının kesişiminde yer alması
- B) İstanbul ve Çanakkale Boğaz'larına sahip olması
- C) Yıl boyunca dört mevsimin görülmesi
- D) Üç tarafının denizlerle çevrili bir yarım ada olması

66. Fiziki haritalarda deniz seviyesinden 500 metreye kadar olan yükseklikler hangi renk ile gösterilir?

- A) Yeşil
- B) Beyaz
- C) Kahverengi
- D) Mavi

67.

Ayşe: Kışlar ılık geçer.

Elif: Bitki örtüsü makidir.

Zeynep: En çok yağışı kış mevsiminde alır.

Aşağıda verilen illerden hangisi bu özelliğe uymaz?

- A) Antalya
- B) Mersin
- C) İzmir
- D) Erzurum

68.

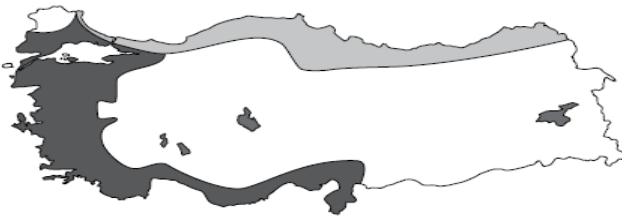


Karasal iklimin özelliklerinden biri de yaz ve kış mevsimleri arasındaki sıcaklık farkının yüksek olmasıdır.

Buna göre, haritada gösterilen şehirlerden hangisi karasal iklimin etkisi altındadır?

- A) İzmir B) Sivas
C) Mersin D) Trabzon

69.



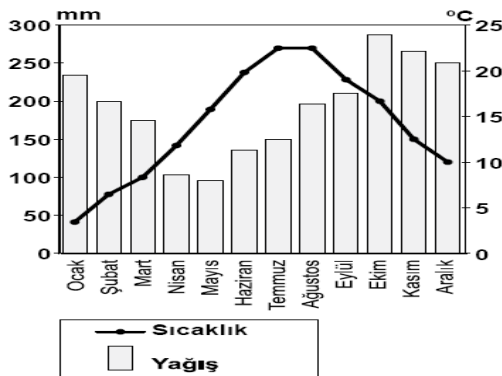
□ Karasal İklim ■ Karadeniz İklimi ■ Akdeniz İklimi

Türkiye'nin iklim haritası incelendiğinde, güneyde dar bir şerit hâlinde uzanan Akdeniz ikliminin batıda kıyıda iç kesimlere daha çok sokulduğu görülmektedir.

Bu durum aşağıdakilerden hangisiyle açıklanabilir?

- A) Dağların uzanış şekliyle
B) Bitki örtüsünün dağılışıyla
C) Su kaynaklarının dağılışıyla
D) Doğuya doğru yükseltinin artmasıyla

70.

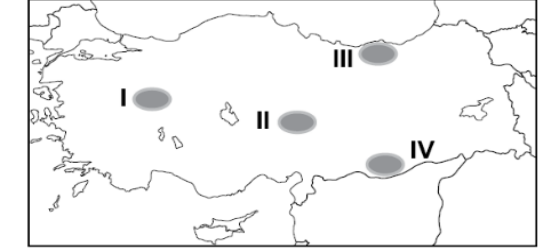


Yağış ve sıcaklık grafiği verilen merkez için aşağıdakilerden hangisi söylenebilir?

- A) Şubat en soğuk aydır.
B) Her mevsim yağış alır.
C) En kurak ay Ekimdir.
D) Bazı aylarda yağış 400 mm'yi aşar.

71. Ülkemizdeki dağların güney yamaçlarında yerleşmelerin daha çok ve tarım ürünlerinin daha verimli olmasının nedeni aşağıdakilerden hangisi ile açıklanabilir?

- A) Bakı durumu B) Yükselti
C) Denizellik -Karasallık D) Rüzgarların Yönü

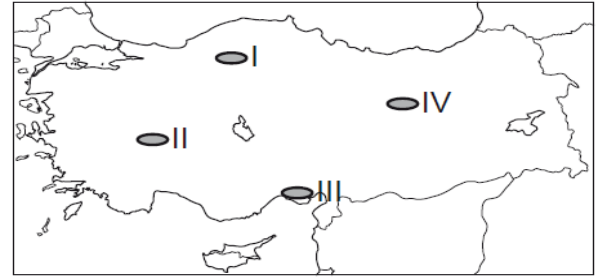


Kurak ve yarı kurak bölgelerde ağaçlandırma yapıldıktan sonra fidanların sulanması zorunlu iken bu zorunluluk nemli bölgelerde daha azdır.

Buna göre, haritada taralı alanlardan hangisinde dikilen fidanların sulanmasına duyulan ihtiyaç daha azdır?

- A) I B) II C) III D) IV

73.



Yazları sıcak ve kurak, kışları ılık ve yağışlıdır. Kar yağışı ve don olayı ender yaşanır. Bitki örtüsü makidir.

Yukarıda anlatılan iklim tipi harita üzerinde numaralandırılarak gösterilen yerlerin hangisinde görülür?

- A) I B) II C) III D) IV

74.



Yeryüzü şekilleri ve iklim koşullarının elverişli olduğu yerlerde genellikle nüfus yoğunluğu fazladır.

Buna göre, haritada verilen illerden hangisinde nüfus yoğunluğu daha azdır?

- A) Zonguldak B) Siirt
C) Samsun D) İzmir

75. Aşağıdakilerden hangisi Türkiye’de nüfus yoğunluğu yüksek olan yerlerin genel özelliklerinden biridir?

- A) Yer şekillerinin dağlık olması
- B) Yeraltı kaynaklarınca fakir olması
- C) Ilıman iklim özelliklerine sahip olması
- D) Tarım topraklarının verimsiz olması

76. İklim şartları ve yer şekillerinin uygun olduğu, ulaşım ağı ile iş imkânlarının geliştiği yerlerde nüfus yoğunluğu yüksektir.

Buna göre, aşağıdaki bölgelerimizin hangisinde nüfus yoğunluğu daha yüksektir?

- A) İç Anadolu Bölgesi
- B) Karadeniz Bölgesi
- C) Marmara Bölgesi
- D) Güneydoğu Anadolu Bölgesi

77. Ali turizm haftası için yaşadığı yer ile ilgili aşağıdaki bilgi notunu hazırlamıştır. “Yaşadığım yer Türkiye’nin orman bakımından en zengin alanlarından birisi ve son yıllarda yayla turizmi ve şenlikleriyle önem kazanmış bir alandır. Her mevsim yağışlı olduğundan gür akan derelere de sahiptir.”

Buna göre Ali’nin yaşadığı il aşağıdakilerden hangisidir?

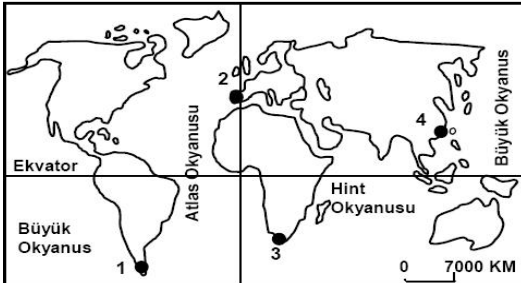
- A) Şanlıurfa B) Rize C) Kırşehir D) Edirne

78. Nüfusun dağılışını etkileyen unsurları doğal ve beşeri olmak üzere iki grupta toplamak mümkündür.

Aşağıdaki unsurlardan hangisi beşeridir?

- A) Toprak Yapısı B) Yeryüzü Şekilleri
- C) İklim D) Madencilik

79.



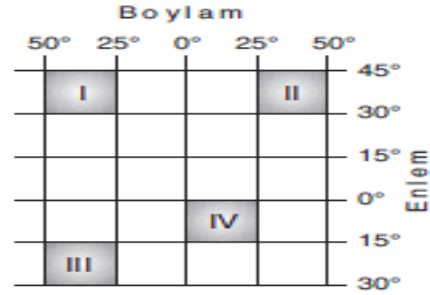
Ekvatorun kuzeyinde ve Büyük Okyanusun kenarında sakin bir sahilde tatil yapmak isteyen Mehmet Öğretmen kaç numaralı yere gitmelidir?

- A) 1 B) 2 C) 3 D) 4

80. Aşağıdakilerden hangisi Türkiye’nin bulunduğu bölgede önemini (Jeopolitik) artırmaz?

- A) Asya ve Avrupa arasında köprü olması
- B) Zengin yer altı ve yer üstü kaynaklarının olması
- C) Yükseltinin batıdan doğuya doğru gidildikçe artması
- D) Akdeniz ve Karadeniz’i bağlayan boğazlara sahip olması

81.



35° Kuzey Paraleli ile 40° Batı Meridyenin kesiştiği noktaya gitmek isteyen bir kişi şekilde verilen numaralarda hangisinde kendini bulur?

- A) I B) II C) III D) IV

82.

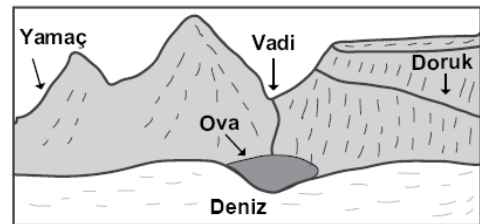


Kışın

ısınma probleminin yaşanmadığı, yazların sıcak ve kurak geçtiği kırsal alanlarda görülen taş evler aşağıda numaralandırılarak verilen alanların hangisinde yaygındır?

- A) I B) II C) III D) IV

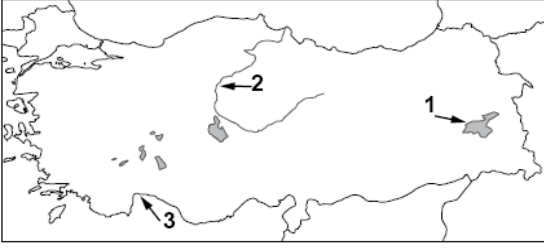
83.



Yukarıdaki görsel üzerinde gösterilen yer şekillerinden hangisinin adı yanlış verilmiştir?

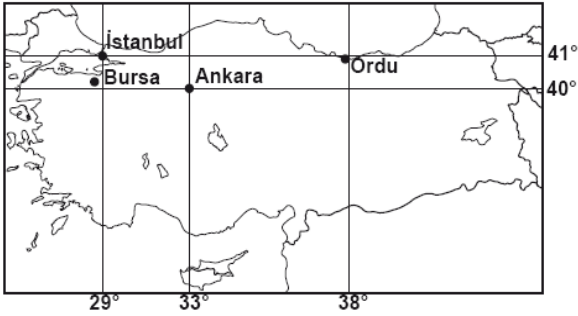
- A) Yamaç B) Doruk C) Vadi D) Ova

84. Haritada numaralandırılarak verilen yeryüzü şekilleri aşağıdakilerin hangisinde doğru eşleştirilmiştir?



- 1 2 3
- A) Akarsu Göl Körfez
- B) Göl Körfez Akarsu
- C) Körfez Akarsu Göl
- D) Göl Akarsu Körfez

85.



Bora: Yaz tatilini geçireceğim şehir, 29° doğu meridyeni ile 40° kuzey paralelinin kesiştiği yere en yakın konumdadır.

Buna göre Bora yaz tatilini hangi şehirde geçirecektir?

- A) İstanbul B) Ordu
- C) Ankara D) Bursa

CEVAP ANAHTARI

1	2	3	4	5	6	7	8	9	10
D	A	D	D	C	D	B	B	B	D
11	12	13	14	15	16	17	18	19	20
B	B	D	B	B	D	A	D	D	B
21	22	23	24	25	26	27	28	29	30
B	A	C	C	B	D	C	C	D	D
31	32	33	34	35	36	37	38	39	40
C	C	B	A	D	A	C	A	C	B
41	42	43	44	45	46	47	48	49	50
D	B	D	A	D	D	D	B	A	D
51	52	53	54	55	56	57	58	59	60
C	C	D	A	C	A	A	B	B	D
61	62	63	64	65	66	67	68	69	70
B	A	B	A	C	A	D	B	A	B
71	72	73	74	75	76	77	78	79	80
A	C	C	B	C	C	B	D	D	C
81	82	83	84	85					
A	C	B	D	D					



sosyalciniz.wordpress.com



[SosyalBilgilerOgretmenleri](https://www.facebook.com/SosyalBilgilerOgretmenleri)



[ZekiDOĞANSosyalciniz](https://www.youtube.com/channel/UCZekiDOGAN)

NOT: Sorular sosyalbilgiler.biz'deki paylaşımlardan derlenmiştir...
Emeği geçen tüm zümrelerime teşekkür ederim...

**CEVAP ANAHTARINDA HATA VARSA
DÖNÜŞ YAPABİLİRSİNİZ...**