

Adı & Soyadı:..... Sınıfı:

Doğru mu? Yanlış mı?



1	Ekvator ile kuzey kutup noktası arasındaki yarım küre güney yarım küredir. Ekvator ile güney kutup noktası arasındaki yarım küre kuzey yarım küredir.		
2	Dünya üzerinde bulunan herhangi bir yerin paralel ve meridyenlere göre belirtilmesine Mutlak (Matematik) konum denir.		
3	Bir yerde meridyenlerin dereceleri sağa doğru artıyorsa bu yer doğu meridyenlerinde, sola doğru artıyorsa batı meridyenlerinde yer almaktadır.		
4	Herhangi bir ülkenin, bölgenin ya da şehrin dünya üzerinde bulunduğu yerin belirtilmesine coğrafi konum adı verilir.		
5	Dünya batıdan doğuya doğru dönmektedir bu yüzden batıdaki saat doğuya göre daha ileridedir.		

.....Boşluk Doldurma.....

Meridyen / Ekvator / Yer eksenini / Geoit / Paralel

1haritalarda doğu batı doğrultusunda enlemesine uzanan çizgilerdir.
2	Dünya'nın Ekvator'dan şişkin, kutuplardan basık olan kendine özgü şeklineadı verilir
3haritalarda kuzey güney doğrultusunda boylamasına uzanan çizgilerdir.
4	Dünya'yı tam ortadan ikiye ayırdığı varsayılan hayalî çizgiye..... adı verilir.
5	Dünya'nın çevresinde döndüğü kabul edilen doğru parçasına.....denir.

! Unutmayalım !

1	Mutlak (Matematik) konum günlük hayatımızı kolaylaştırmaktadır. Bir uçağın veya geminin, rotadan sapmadan istenilen yere varabilmesi; dağda kaybolan bir insanın telefon sinyaliyle nerede olduğunun tespit edilmesi; herhangi bir adresin navigasyon sistemiyle bulunması buna örnek olarak verilebilir.
2	Bir yerin kıtalara, okyanuslara, denizlere, boğazlara olan uzaklığına o yerin göreceli (özel) konumu denir. Ayrıca bir yerin komşu olduğu ülkeler, yer altı ve yer üstü kaynakları, yükseltisi, yeryüzü şekilleri gibi özellikleri de o yerin göreceli (özel) konumunu belirler.
3	Bir bölgenin veya ülkenin coğrafi konumu, büyüklüğü, iklimi, yer altı ve yer üstü kaynakları gibi özelliklerinin ülkeler arası politikada oynadığı rollerden kaynaklanan konumuna jeopolitik konum adı verilir
4	Kıtalar: Asya, Avrupa, Afrika, Kuzey Amerika, Güney Amerika, Okyanusya, Antarktika Okyanuslar: Pasifik Okyanusu, Atlas Okyanusu, Hint Okyanusu



Cözelim



1) Aşağıdakilerden hangisi paralellerin özellikleri arasında yer almaz?

- A) 90 kuzey, 90 güney olmak üzere toplam 180 tane paralel dairesi vardır.
- B) Bir yerde paralellerin dereceleri yukarı doğru artıyorsa bu yer kuzey yarım kürededir.
- C) Bir yerde paralellerin dereceleri aşağı doğru artıyorsa bu yer güney yarım kürededir.
- D) Paralellerin dereceleri Ekvator'dan kutuplara doğru gittikçe küçülmektedir.

2) Aşağıdakilerden hangisi paralellerin özellikleri arasında yer almaz?

- A) Ekvator'dan kutuplara doğru gidildikçe paralellerin uzunluğu kısalmaktadır.
- B) İki ardışık paralel arası mesafe 85 kilometredir.
- C) Kutup dairelerinde nokta halini alır ve 0 (sıfır) kilometredir.
- D) En uzun paralel 40.076 km ile başlangıç paraleli olan Ekvator'dur.

3) Aşağıdakilerden hangisi meridyenlerin özellikleri arasında yer almaz?

- A) Meridyenler bir kutuptan başlayıp diğer kutba giden çizgilerdir.
- B) Başlangıç meridyeni İngiltere'den geçen Greenwich çizgisi kabul edilmektedir.
- C) Meridyenler yarım daire yaylardır.
- D) 150 tane doğuda, 150 tane de batıda olmak üzere toplam 300 meridyen vardır.

4) Aşağıdakilerden hangisi meridyenlerin özellikleri arasında yer almaz?

- A) Meridyenlerin boyları birbirine eşittir.
- B) Meridyenler arası mesafe Ekvator'da 111 km'dir. Ekvator'dan kutuplara doğru gidildikçe mesafe azalır.
- C) Ardışık iki meridyen arasında 5 dakikalık zaman farkı vardır.
- D) Meridyenler kutuplarda birleşerek iki meridyen arası 0 km olur.



SIRA SİZDE



Türkiye'nin göreceli konumu ile ilgili olan cümleleri (G), mutlak konumu ile ilgili olan cümleleri ise (M) harfi şeklinde işaretleyiniz.

- *Ülkemiz 36°- 42° kuzey paralelleri ile 26°- 45° doğu meridyenleri arasında yer alır. ()
- *Güney kıyılarımız kuzey kıyılarımıza göre daha sıcaktır. Sıcaklık güneyden kuzeye azalır. ()
- *Ülkemiz Asya, Avrupa ve Afrika kıtalarının birbirine en çok yaklaştığı yerdedir. ()
- *Ekvator'dan kutuplara doğru gidildikçe sıcaklık azalır. ()
- *Dağlarımızın güneşe bakan güney yamaçları kuzey yamaçlarından daha sıcaktır. ()
- *Orta kuşakta yer almasından dolayı ülkemizde dört mevsim belirgin şekilde yaşanır. ()
- *Üç tarafı denizlerle çevrili olan ülkemiz, İstanbul Boğazı ve Çanakkale Boğazı ile kıtaları birbirine bağlayan önemli geçiş yollarını oluşturur. ()
- *Ekvator'un kuzeyindedir ve kuzey yarım kürede yer almaktadır. ()
- *Ülkemizin batıdan doğuya doğru yükseltisinin artmasından dolayı doğuya doğru sıcaklıklar azalır. Ayrıca dağların doğu-batı yönünde uzanması ulaşımın da doğu-batı yönünde gelişmesine sebep olmuştur. ()
- *En kuzeyi ile en güneyi arasında 6 paralel vardır ve en kuzeyi ile en güneyi arasında 666 km mesafe vardır. ()
- *Yer altı ve yer üstü kaynakları bakımından zengin olan ülkemiz aynı zamanda petrol zengini ülkelere yakın bir yerde yer alır. Bu nedenle petrol ve doğal gaz boru hatlarının geçiş noktasını oluşturur. ()
- *Kuzeyden esen rüzgârlar sıcaklığı düşürür, güneyden esen rüzgârlar sıcaklığı artırır. ()
- *En doğusu ile en batısı arasında 19 meridyen bulunur ve 76 dakika zaman farkı vardır. ()

SB.6.3.1. Konum ile ilgili kavramları kullanarak kıtaların, okyanusların ve ülkemizin coğrafi konumunu tanımlar.

Adı & Soyadı:..... Sınıfı:

Doğru mu? Yanlış mı?



1	Nemin olduğu yerler geç ısınır geç soğur. Bu yüzden ülkemizin kıyı kesimleri iç kesimlere göre daha ılıman bir iklime sahiptir.		
2	Türkiye, ortalama yükseltisi fazla olan bir ülkedir. Bu nedenle ülkemizde yükseltisi fazla olan yerler, yükseltisi az olan yerlere göre daha sıcaktır.		
3	Ülkemizde kuzeyden esen rüzgarlar sıcaklığı artırır, güneyden esen rüzgarlar ise sıcaklığı düşürür.		
4	Ülkemizin batısında dağlar kıyıya dik uzandığı için deniz üzerinden gelen hava kütleleri, iç kesimlere sokulabilir.		
5	Ülkemizde bakı etkisinin görüldüğü güney yamaçlarda sıcaklık daha fazladır. Bu durum Türkiye'nin kuzey yarım kürede yer aldığını gösterir.		

.....Boşluk Doldurma.....

Denizler / Paralel / Enlem / Sıcaklık / Ulaşım

1	Dünya'nın şekli ve Güneş ışınlarının geliş açısından dolayı Ekvator'dan kutuplara doğru gidildikçe sıcaklık azalır. Bu duruma.....etkisi denilmektedir.
2	Karalar erken ısınır erken soğur, denizler ise geç ısınır geç soğur. kış mevsiminde ılıman, yaz mevsiminde serin bir etki yaparak sıcaklığı dengeler.
3	Karadeniz iklimi Karadeniz'in kıyı kesimi boyunca dar bir alanda görülür. Bunun sebebi dağların kıyıya uzanmasıdır
4	Türkiye'de dağların uzanış doğrultusuna bağlı olarak genellikle doğu batı yönünde yapılmaktadır.
5	Türkiye kuzey yarım kürede yer aldığı için güneyden kuzeye gittikçe düşmektedir.

! Unutmayalım !

1	Ülkemizde; dağların uzanış doğrultusu, yer şekillerinin engebeli olması, yükseltinin batıdan doğuya doğru artması, üç tarafının denizlerle çevrili olması gibi etmenlerin etkisiyle sıcaklık ve yağış bölgelere göre değişir.Ülkemizin çeşitli yer şekillerine sahip olması; iklim tipleri, bitki toplulukları ve tarım ürünleri bakımından zengin olmasını sağlamıştır. Yükselti ve engebelerin fazla olduğu yerlerde tarım alanları parçalı ve dağınıktır.
2	Enlem, bakı, rüzgarlar, denizellik-karasallık, yükselti ve dağların uzanış yönü bir yerdeki iklimi etkiler.



Çözelim



1) Aşağıdakilerden hangisi yanlıştır?

- A) Ülkemizde sıcaklığın güneyden kuzeye azalması enlem ile ilgilidir.
 B) Ülkemizde sıcaklığın batıdan doğuya doğru azalması ve en soğuk bölgenin Doğu Anadolu bölgesi olması hem yükselti hem de denizellik-karasallıkla ilgilidir.
 C) Ülkemizde sıcaklığın kıyılardan iç kesime doğru azalması denizellik, kışın en sıcak bölgenin Akdeniz olması hem denizellik hem de enlem ile ilgilidir.
 D) Ülkemizde sıcaklığın güney yamaçtan kuzey yamaca doğru azalması dağların uzanış yönü ve yükselti ile ilgilidir.

2) Ülkemizde yükselti ve engebenin fazla olduğu bölgelerle ilgili aşağıdakilerden hangisi söylenemez?

- A) Yıllık sıcaklık ortalaması düşüktür.
 B) Diğer bölgelerden göç alır.
 C) Tarım alanları dardır.
 D) Ulaşım olanakları zordur.

(DPY 2020)

3) Kars ile Iğdır arasındaki mesafe yakın olmasına rağmen Iğdır'ın yıllık ortalama sıcaklığı yaklaşık 7°C daha fazladır. Bu farklılığın nedeni aşağıdakilerden hangisidir?

- A) Bitki örtüsü B) Yükselti değerleri
 C) Toprak özellikleri D) Yağış miktarları

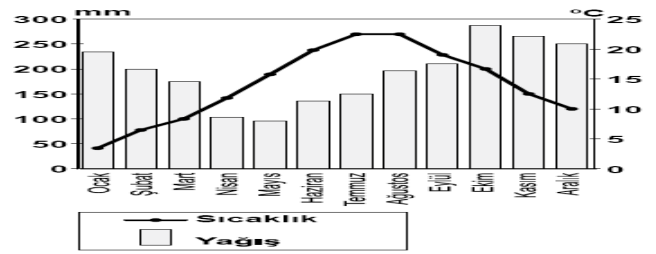
(DPY 2018)

4) Hakan Bey: İlk görev yerimizde kışlar çok sert ve soğuk, yazlar ise serin ve yağışlı geçmekteydi. Şimdi yaşadığımız şehirde ise kışları ılık, bitki örtüsü gür ve her mevsim yağışlı geçmektedir.

Hakan Bey'in görev yaptığı şehirler sırasıyla aşağıdakilerden hangileri olabilir?

- A) Kars - Rize B) Van - Konya
 C) Ordu - Gaziantep D) Mersin - Eskişehir

(DPY 2016)

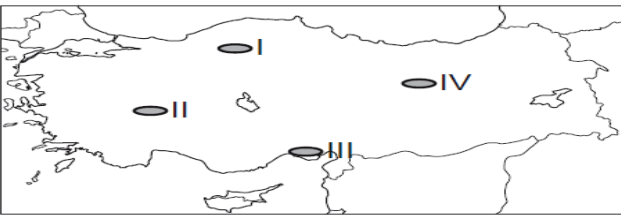


Yağış ve sıcaklık grafiği verilen merkez aşağıdakilerden hangisi olabilir?

- A) Rize B) Kars C) Ankara D) Konya

(DPY 2013)

6) Yazları sıcak ve kurak, kışları ılık ve yağışlıdır. Kar yağışı ve don olayı ender yaşanır. Bitki örtüsü makidir.

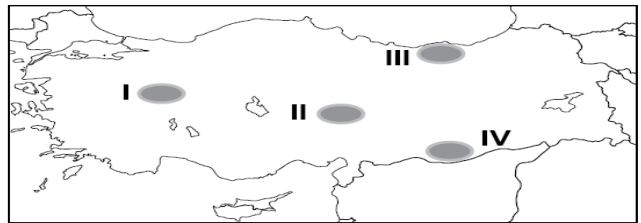


Yukarıda anlatılan iklim tipi harita üzerinde numaralandırılarak gösterilen yerlerin hangisinde görülür?

- A) I. B) II. C) III. D) IV.

(DPY 2018)

7) Kurak ve yarı kurak bölgelerde ağaçlandırma yapıldıktan sonra fidanların sulanması zorunlu iken bu zorunluluk nemli bölgelerde daha azdır.



Buna göre, haritada taralı alanlardan hangisinde dikilen fidanların sulanmasına duyulan ihtiyaç daha azdır?

- A) I B) II C) III D) IV

(DPY 2016)



SIRA SİZDE



1

Atlasınızda yer alan Türkiye fiziki haritası, Türkiye iklim haritası ve Türkiye doğal bitki örtüsü haritalarından yararlanarak ülkemizin temel fiziki özelliklerini açıklayınız.

SB.6.3.2. Türkiye'nin temel fiziki coğrafya özelliklerinden yer şekillerini, iklim özelliklerini ve bitki örtüsünü ilgili haritalar üzerinde inceler.

Adı & Soyadı:..... Sınıfı:

Doğru mu? Yanlış mı?



1	Ülkemizde nüfusun az olduğu yerlerin çevresinde özellikle kümes ve büyükbaş besi hayvancılığı yapılmaktadır.		
2	Ülkemiz maden çeşitliliği bakımından zengin bir ülkedir. Maden çıkarılan yerlerde ekonomik faaliyet gelişir ve buna bağlı olarak nüfus artar.		
3	Su kaynakları bakımından zengin olan ülkemizde su kaynakları tarımda sulama, içme suyu ve enerji üretimi gibi amaçlarla kullanılır.		
4	Ülkemizde yer şekilleri sade, iklimi ılıman, tarım, sanayi, ticaret, turizm vb. ekonomik faaliyetleri gelişmiş olan yerlerde nüfus azdır.		
5	Tarım, iklimin ve yeryüzü şekillerinin uygun olduğu kıyı kesimlerde daha yoğun yapılmaktadır.		

.....Boşluk Doldurma.....

Beşerî coğrafya / Doğal / Nüfus Yoğunluğu / Beşeri / Nüfus

1	Sınırları belli bir alanda yaşayan insan sayısına adı verilir.
2	Kilometrekareye düşen insan sayısına denir.
3,insanların tarım, sanayi, ulaşım, yerleşme, nüfus, vb. faaliyetler ile çevre üzerinde yaptığı ya da yapmakta olduğu değişiklikleri inceleyen bilim dalıdır.
4	Nüfusun dağılışında insan etkisinin olmadığı faktörlere faktörler denir.
5	Nüfusun dağılışında insan etkisinin olduğu faktörlerefaktörler denir.

! Unutmayalım !

1	Ege kıyılarında dağların denize dik uzanması sıcak ve nemli havanın iç kesimlere ulaşmasını sağlar. Akdeniz ve Karadeniz kıyı kesiminde dağlarımızın genellikle doğu-batı yönünde uzanması, sıcak ve nemli deniz etkisinin iç kesimlere ulaşmasını engellemektedir. Bu durum kıyı ile iç kesimler arasında tarımsal faaliyetleri etkilediği gibi ulaşımı da zorlaştırmaktadır.
2	Batıdan doğuya doğru gidildikçe yükseltinin artması, ulaşımın zor olması, sıcaklık ortalamasının düşmesi, tarım, sanayi, ticaret gibi ekonomik faaliyetlerin azalması bölgeler arası göçlerin artmasına ve bu bölgelerde nüfusun azalmasına neden olur.
3	Ülkemiz doğal koşullar itibariyle hayvancılık için elverişlidir. Hayvancılık sadece et, süt, yumurta üretiminin olduğu bir faaliyet değil aynı zamanda, dokuma ve deri sanayisine ham madde sağlayan bir ekonomik faaliyettir.



Çözelim



1) Aşağıdakilerden hangisi nüfusun dağılışını etkileyen doğal sebepler arasında yer almaz?

- A) Yeryüzü şekilleri B) İklim
C) Su kaynakları D) Sanayi ve ticaret

2) Aşağıdakilerden hangisi nüfusun dağılışını etkileyen beşeri unsurlar arasında yer almaz?

- A) Tarım B) Bitki örtüsü
C) Ulaşım D) Eğitim ve Sağlık

3) Aşağıdakilerden hangisi “beşerî coğrafya”nın inceleme konularından biridir?

- A) Karadeniz ormanlarındaki ağaç türleri
B) Akdeniz kıyılarındaki turizm faaliyetleri
C) Doğu Anadolu’nun iklim özellikleri
D) Türkiye’deki yer altı kaynaklarının dağılışı

(DPY 2020)

4) Aşağıdaki kaynak ve yararlanma şekli eşleştirmelerinden hangisi yanlıştır?

Kaynak

Yararlanma Şekli

- | | |
|-----------|----------------|
| A) Orman | Kâğıt |
| B) Demir | Enerji üretimi |
| C) Akarsu | Balıkçılık |
| D) Toprak | Seramik |

(DPY 2018)



5) Yandaki resim belli bir yöreye ait doğal kaynak ve elde edilen ürün ilişkisini göstermektedir. Bu yörede aşağıdaki sanayi tesislerinden hangisinin kurulması uygundur?

- A) Çimento B) Konfeksiyon
C) Mobilya-Kağıt D) Demir-Çelik

(SBS 2010)

6) Beşerî coğrafya, insanların yeryüzünde yaptıkları değişimleri inceleyen bilimdir. Tarım, sanayi, ulaşım, turizm, nüfus, yerleşme ve kentleşme gibi insan faaliyetlerini inceler. Buna göre aşağıdakilerden hangisi beşerî coğrafyanın konusu değildir?

- A) Bölgelerde görülen iklim türleri
B) İnsanların geçim kaynakları
C) Tarım faaliyetleri ve türleri
D) Bölgelere göre nüfus dağılışı

(DPY 2019)



SIRA SİZDE



Aşağıdaki bilgilerden doğru olanlarını (D), yanlış olanlarını (Y) olarak işaretleyiniz.

- *Erzurum-Kars platosunda, toprak verimli olmasına rağmen iklim ve yeryüzü şekilleri yerleşime uygun değildir. ()
- *Sanayinin yeterince gelişmediği Hakkari, Tunceli, Ardahan, Şırnak, Bayburt gibi şehirlerimizde nüfus fazladır. Ülkemizde genellikle sanayinin geliştiği şehirlerden bu şehirlere doğru göç hareketi yaşanmaktadır. ()
- *Ülkemizde yeryüzü şekillerinin çeşitlilik göstermesi, yer üstü ve yer altı zenginliklerinin çeşitli olması, gelişmiş bir ulaşım ağına sahip olması, iklim şartlarının elverişli olması ve farklı iklimlerin görülmesi çeşitli ekonomik faaliyetler görülmesine imkan sağlamıştır. ()
- *Su kaynaklarının bulunduğu alanların çevresinde nüfus azdır. Denizler turizm, balıkçılık ve ulaşım gibi amaçlarla kullanıldığından ülkemizin kıyı kesimlerinde nüfus azdır. ()
- *Kış aylarında Uludağ (Bursa), Palandöken (Erzurum) ve Kartalkaya’da (Bolu) yapılan kış turizmi nüfusu artıran önemli ekonomik faaliyetlerdendir. ()
- *Otomotiv, gıda, deri ve kimya sanayisinin geliştiği İstanbul; otomotiv ve mobilya sanayisinin geliştiği Bursa; petrol sanayisinin geliştiği Kocaeli, Batman ve Kırıkkale iş olanaklarının fazla olmasından dolayı dışarıdan göç almakta ve nüfusları artmaktadır. ()
- *Zonguldak’ta taş kömürü, Batman’da petrol, Soma’da (Manisa) linyit kömürü, Divriği’de (Sivas) demirin çıkarılması bu şehirlerdeki nüfusun artmasında etkili olmuştur. ()
- *Çukurova, Bafra ve Çarşamba ovaları nüfusun seyrek olduğu yerlerdir. ()

SB.6.3.3. Türkiye’nin temel beşerî coğrafya özelliklerini ilgili haritalar üzerinde gösterir.

SOSYAL BİLGİLER

(Farklı İklimler Farklı Yaşamlar)

Adı & Soyadı:..... Sınıfı:

Doğru mu? Yanlış mı?



1	Kutuplar soğuk ve bitki örtüsünden yoksun olduğu için seyrek nüfusludur. Bu durum iklimin nüfus ve yerleşme üzerindeki olumlu etkisine örnektir.		
2	Akdeniz ikliminin bitki örtüsü kısa bodur ağaçlar (zeytin, keçiboynuzu, defne, zakkum vb.) ve çalılıklardan oluşan makidir.		
3	Sıcak ve yağışlı iklim bölgesinde yaşayan insanlar ince kıyafetleri, soğuk iklim bölgesinde yaşayan insanlar ise kalın kıyafetleri tercih ederler.		
4	Ekvatorial ikliminde toprak, kar ve buzlarla kaplı olduğu için tarım yapılamaz. Bundan dolayı temel geçim kaynağı avcılık ve balıkçılıktır.		
	Pirinç, bol su isteyen bir bitki olduğu için Akdeniz ikliminin olduğu yerlerde daha fazla yetişir.		

.....Boşluk Doldurma.....

Çöl / Kutup / Ekvatorial / Akdeniz / Muson

1 iklimi, güney kutbundaki Antarktika kıtası ile kuzey kutbuna yakın olan Grönland Adası'nda görülür. Kar ve buzlarla örtülüdür ve bitki örtüsü yoktur.
2 iklimi, kuzey ve güney yarım kürede 30 ve 40 derece enlemlerinde görülür. Yazları sıcak ve kurak, kışları ise ılık ve yağışlı geçmektedir.
3 iklim Ekvator'a yakın olan ülkelerde görülür. Sıcaklığının fazla ve yağışın bol olmasından dolayı buralarda gür ormanlar bulunur.
4 ikliminde yazlar çok yağışlı, kışlar ise kuraktır. Sıcaklık yıl boyunca genellikle 15-20°C olur. Yaz aylarında sık sık sel felaketleri meydana gelir.
5 iklimi nem ve yağışın çok az görüldüğü bir iklimdir. Bitki örtüsü çalı ve kurakçıl otlardan oluşur. Günlük sıcaklık farkları fazladır.

! Unutmamalım !

1	Dünya üzerinde farklı iklimler görülmesinin sebepleri şunlardır: Enlem, Yükselti, Dağların uzanış yönü, Rüzgarlar, Denizellik-Karasallık, Bakı
2	İklimin Etkilediği Faktörler: Bitki örtüsü, Nüfus ve Yerleşme, Sanayi ve Turizm, Beslenme Alışkanlıkları, Konut Tipi, Yetiştirilen Tarım Ürünleri, Hayvan Türleri, Giyilen Kıyafetler, Ulaşım, Isınma Şekli
3	Yeryüzünde birbirinden farklı doğal ortamlar vardır. Doğal ortamların insan yaşamı üzerinde etkisi oldukça fazladır. İklim, insanların yaşantısını ve ekonomik faaliyetlerini belirleyen önemli bir unsurdur.



Çözelim



1) Aşağıdakilerden hangisi iklimin konutların malzemesi ve şeklini etkilediğine kanıt olarak gösterilemez?

- A) Bol yağışlı Muson ikliminde evlerin kazık üzerine oturtulması ve ahşaptan yapılması
- B) Bitki örtüsü olmayan kutuplarda iglo denilen kardan evler yapılması
- C) Akdeniz ikliminde evlerin genelde taştan yapılması ve açık renge boyanması.
- D) Bitki örtüsünün fazla olduğu yerlerde nüfus ve yerleşmenin az olması

2) Aşağıdakilerden hangisi iklimin ulaşımı etkilediğine kanıt olarak gösterilemez?

- A) Çölde develerle yolculuk yapılması
- B) Kutuplarda köpeklerin çektiği kızaklarla yolculuk yapılması
- C) Ulaşımı kolaylaştırmak için dağların içine tüneller açılması
- D) Muson iklimin görüldüğü yerlerde sandallar ile bir yerden bir yere gidilmesi

3) “Yaşadığım yer her gün sıcak ve bol yağışlıdır. Burada tropikal yağmur ormanları bulunmaktadır. Ormanların fazla olmasına bağlı olarak ahşap evler yaygındır. Ayrıca bu bölgede bol miktarda Hindistan cevizi, mango, kakao gibi tarım ürünleri yetiştirilmektedir.”

Bu kişinin yaşadığı yerde hangi iklim tipi görülmektedir?

- A) Ekvatorial B) Çöl C) Kutup D) Karasal

(DPY 2020)

4) “Yaşadığım bölgede toprak sürekli donmuş halde olduğu için bitki örtüsü yoktur. Bu yüzden tarım ürünleri yetiştirilemez. Avcılık ve balıkçılık önemli geçim kaynağımızdır. Kış aylarında buzdan ve balina kemiklerinden yapılmış evlerde yaşarız.” Buna göre yukarıdaki ifadeleri kullanan kişinin yaşadığı yerde görülen iklim tipi hangisidir?

- A) Çöl B) Kutup C) Muson D) Ekvatorial

(DPY 2019)



SIRA SİZDE



Aşağıdaki tabloda verilen iklimlerin insan hayatına etkilerini yazınız.

	Kutup	Çöl	Akdeniz	Muson	Ekvatorial
Nüfus ve yerleşme					
Giyim					
Ulaşım					
Tarım Ürünleri					
Konut Tipi ve Malzemesi					

SB. 6.3.4. Dünyanın farklı doğal ortamlarındaki insan yaşantılarından yola çıkarak iklim özellikleri hakkında çıkarımlarda bulunur.