



6. Sınıf

BURSLULUK
SINAVINA
HAZIRLIK



www.sosyalbilgiler.biz

KAZANIMLARA GÖRE BURSLULUK SINAVI SORULARI

1.ÜNİTE: BİREY VE TOPLUM

DEĞİŞEN ROLLERİM

1) (2008 İOKBS)

İlköğretim 5. sınıfta okuyan Ayşe, okulun tiyatro kulübüne oyuncu olarak katılıyor. Hafta sonları da mahallelerindeki basketbol oyun sahasında anne, baba ve kardeşiyle birlikte basketbol oynuyor.

Yukarıdaki açıklamada Ayşe'nin aşağıda verilen gruplardan hangisine katıldığı belirtilmemiştir?

- A) Okul B) Mahalle arkadaşlığı
C) Aile D) Okul tiyatro kulübü

2) (2009 İOKBS)

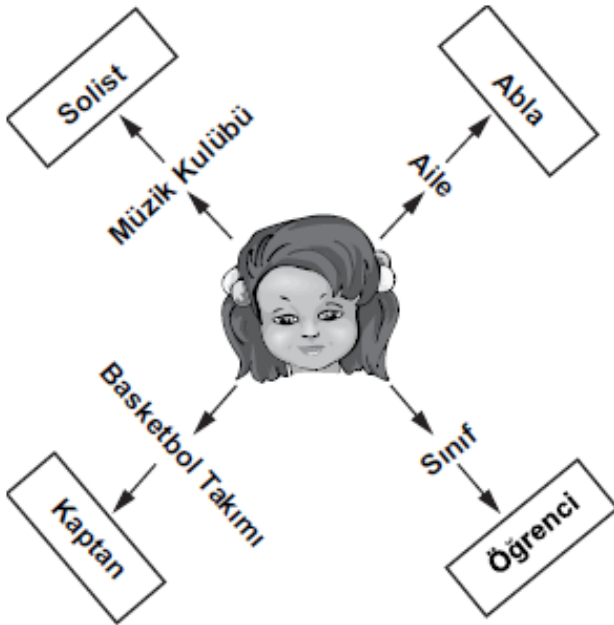
Serap, anne ve babasından izin alarak izci kamplarından birine katılıyor. Burada hem doğayı tanıyor hem de hoşça vakit geçiriyor.

Yukarıdaki açıklamada Serap'ın yerine getirdiği belirtilen roller hangisinde birlikte verilmiştir?

- A) Öğrenci-İzci B) Abla-Çocuk
C) Çocuk-İzci D) Öğrenci-Abla

3) (2011 İOKBS)

Kutucuk içinde verilenleri aşağıdakilerden hangisi ile ifade edebiliriz?



- A) Kalabalık B) Kurum
C) Grup D) Rol

4) (2012 İOKBS)

Murat evli ve iki çocuk babası bir öğretmendir.

Buna göre, aşağıdakilerden hangisi Murat'ın üstlenebileceği rollerden biri olamaz?

- A) Baba B) Eş
C) Öğretmen D) Kardeş

5) (2015 İOKBS)

Yaşlı anne ve babasıyla yaşayan Belkis Hanım, okuldaki öğrencilerinin tavsiyesiyle katıldığı müzik kursunda çok mutlu olmuştu.

Belkis Hanım'ın sahip olduğu roller aşağıdakilerin hangisinde doğru verilmiştir?

- A) Evlat-Öğretmen-Öğrenci
B) Anne-Evlat-Öğretmen
C) Müdür-Anne-Öğrenci
D) Anne-Öğrenci-Öğretmen

6) (2017 İOKBS)

Merhaba, adım Çiçek. Ailemle birlikte Ankara'da yaşıyoruz. Büyükanmem de bizimle kalıyor. Evde birbirimizle yardımlaşmaya özen gösteriyoruz. Ablam ihtiyacım olduğunda ödevlerime yardım ediyor. Ben de boş zamanlarımda büyükanmeme sevdiği kitapları okuyorum.

Bu parçaya göre aşağıdakilerden hangisi Çiçek'in rollerinden biri değildir?

- A) Abla B) Torun
C) Kardeş D) Öğrenci

7) (2019 İOKBS)

Tabloda grup ve gruba ait rol eşleştirmesi verilmiştir:

	Grup	Rol
I	Futbol takımı	Futbolcu
II	Aile	Kardeş
III	Akraba	Yeğen
IV	Arkadaş	Amca

Bu eşleştirmelerden kaç tanesi doğrudur?

- A) 1 B) 2 C) 3 D) 4

KAZANIMLARA GÖRE BURSLULUK SINAVI SORULARI

8) (2019 İOKBS)

Birey olarak dünyaya geldiğimiz andan itibaren çeşitli roller üstleniriz. Rollerimizin bir kısmı doğuştan sahip olduğumuz rollerdir. Bunları seçme olanağımız yoktur. Bu roller biyolojik özelliklerimizden kaynaklanan, herhangi bir ilgi ve yetenek gerektirmeyen rollerimizdir.

Buna göre aşağıdakilerden hangisi doğuştan sahip olduğumuz rollerden biridir?

- A) Başkan B) Kaptan
C) Pilot D) Evlat

KÜLTÜRÜMÜZLE YASİYORUZ

9) (2019 İOKBS)

“Toplumsal tüm kesimlerinin bir su teknesinin başında, bir araya gelebileceğinin ispatıdır.” cümlesinde ebru sanatının hangi özelliği vurgulanmaktadır?

- A) Ekonomiye katkı sağlaması
B) Zor bir sanat olması
C) Birleştirici olması
D) Millî özellikler taşıması

10) (2019 İOKBS)

Konuşulan dil, inanç, gündelik hayat ve toplumun geçmişten günümüze kadar geçirdiği ortak yaşantı millî kültürü oluşturmaktadır.

Bu bilgide millî kültür ile ilgili aşağıdakilerden hangisine değilinmemiştir?

- A) Ekonomik faaliyetleri etkilediğine
B) Oluşumunun uzun zaman aldığına
C) Birden fazla unsurdan oluştuğuna
D) Nesilden nesle aktarıldığına

11) (2019 İOKBS)

“Hiçbir millet, aynen diğer bir milletin taklitçisi olmamalıdır. Çünkü böyle bir millet, ne taklit ettiği milletin aynısı olabilir, ne kendi milliyeti içinde kalabilir.”

Atatürk bu sözleriyle aşağıdakilerden hangisinin önemini vurgulamıştır?

- A) Demokrasi bilincini geliştirmenin
B) Millî kültüre sahip çıkmanın
C) Saygı ve hoşgörü ortamı oluşturma
D) Bilimsel gelişmeleri desteklemenin

12) (2021 İOKBS)

Aşağıdaki ifadelerle Türk kültürünü oluşturan öğelerden hangisi yanlış eşleştirilmiştir?

	İfadeler	Türk Kültürünü Oluşturan Öğeler
A)	Yiyecek, giyecek, el sanatları, spor müsabakaları gibi bizi bir araya getirip ortak duygularda buluşmamızı sağlar.	Din
B)	Düğün merasimleri dost ve akrabaların bir araya toplanmasını sağlar.	Gelenek ve görenekler
C)	Çanakkale Zaferi'nde milletçe destan yazdık.	Tarih
D)	Birliğimizi ve dirliğimizi sağlayan önemli iletişim aracıdır.	Dil

13) (2022 İOKBS)

Ülkemizde her yıl Orta Asya'da yaşayan Türk topluluklarının yaptıkları sporların, oynadıkları oyunların, kaldıkları çadırların ve yaşam biçimlerinin tanıtıldığı “Etnospor Festivali” düzenlenmektedir. Bu festivale Türk devletlerinden sporcular ve misafirler katılmaktadır. Katılımcılar, Etnospor Festivali sayesinde aynı sporları yaparak, aynı oyunları oynayarak ve aynı kıyafetleri giyerek bir araya gelmektedir.

Bu bilgide, kültürü oluşturan öğelerden hangisi ile ilgili bir faaliyetten bahsedilmektedir?

- A) Din B) Dil
C) Mimari D) Gelenek ve görenekler

KAZANIMLARA GÖRE BURSLULUK SINAVI SORULARI
ÖN YARGILARI KIRIYORUM

14) (2021 İOKBS)

Bir grubun bütün üyelerine yönelik abartılan, genelleştirilen olumlu veya olumsuz değerlendirmelere kalıp yargı adı verilir.

Buna göre aşağıdakilerden hangisi kalıp yargıya örnektir?

- A) Erkekler yemek pişirmez.
- B) Bu sene kesin bizim takım şampiyon olacak.
- C) Bu problemi Mehmet'ten başkası çözemez.
- D) Eminim ki bugün yine okula geç kalacak.

BİRLİKTE DAHA GÜÇLÜYÜZ

15) (2020 İOKBS)

Atatürk Ortaokulu öğretmen ve öğrencileri, ihtiyaç sahiplerine destek olmak amacıyla bir bağış kampanyası düzenlemişlerdir.

Bu durum aşağıdakilerden hangisine örnek gösterilebilir?

- A) Dürüstlüğe
- B) Yardımlaşma ve dayanışmaya
- C) Misafirperverliğe
- D) Adalet

16) (2020 İOKBS)

“Baş başa vermeyince taş yerinden kalkmaz.” atasözü aşağıdakilerden hangisine verilen önemi vurgulamaktadır?

- A) Cömertlik
- B) Merhamet
- C) Yardımlaşma
- D) Hoşgörü

17) (2021 İOKBS)

Aşağıdakilerden hangisi yardımlaşma ve dayanışmanın faydalarından biri değildir?

- A) Toplumsal barışa katkı sağlar.
- B) Birlik ve beraberliği güçlendirir.
- C) Kardeşlik ve dostluk duygularını geliştirir.
- D) Beyin göçüne neden olur.

18) (2022 İOKBS)

Havza'da ev hanımları, kış mevsiminde tüketecekleri yiyecekleri imece usulüyle hazırlıyorlar. İlçedeki ev hanımları; “Her yıl kış öncesi yiyeceğimiz yufkayı birlikte yapıyoruz. Mahallede birkaç kadın kime yufka açacaksak onun evinde toplanıyoruz. Kimimiz hamuru yoğuruyor, kimimiz yufka açıyor, kimimiz yufkaları pişiriyor, kimimiz de iş yapanlara yemek hazırlıyor.” dedi.

Bu durum, aşağıdakilerden hangisine örnek gösterilebilir?

- A) Yardımlaşma ve dayanışmaya
- B) Ayrımcılığa
- C) Hoşgörü anlayışına
- D) Farklılıklara saygı duymaya

SORUNLARA ÇÖZÜM BULUYORUM

19) (2019 İOKBS)

Hak ve özgürlüklerimiz Anayasamız tarafından güvence altına alınmıştır. Ancak bizim de hak ve özgürlükler konusunda yerine getirmemiz gereken çeşitli sorumluluklarımız bulunmaktadır.

Buna göre aşağıdaki sorumluluklardan hangisi eğitim hakkı ile ilişkilidir?

- A) Doktorun verdiği ilaçları zamanında kullanma
- B) Okul kurallarına uyarak düzenli ders çalışma
- C) Evdeki çöpleri belirtilen saatte dışarı çıkarma
- D) Karşıdan karşıya geçerken trafik kurallarına uyma

20) (2020 İOKBS)

Okul bahçesinde arkadaşının yere çöp attığını gören Fatma “Yaşadığımız çevreyi temiz tutmak hepimizin görevidir. Bu konuda duyarlı olmalı ve örnek davranışlar sergilemeliyiz.” diyerek arkadaşını uyarmıştır.

Buna göre Fatma ile ilgili aşağıdakilerden hangisine ulaşılabilir?

- A) Sorumluluk sahibi bir öğrenci olduğuna
- B) Arkadaşları arasında sevildiğine
- C) Derslerinde başarı gösterdiğine
- D) Spor faaliyetlerinde görev aldığına

KAZANIMLARA GÖRE BURSLULUK SINAVI SORULARI

21) (2021 İOKBS)

Vatandaşlar kendileriyle veya kamu ile ilgili dilek ve şikâyetleri hakkında, yetkili makamlara yazı ile başvurma hakkına sahiptir.

Bu hak aşağıdakilerden hangisidir?

- A) Sağlık
- B) Yaşama
- C) Dilekçe
- D) Çalışma

22) (2021 İOKBS)

Altıncı sınıf öğrencisi Tuğçe, yaşadığı çevreyi temiz tutmaya özen göstermekte ve okulda kurulan çevre kulübü faaliyetlerindeki görevlerini zamanında yapmaktadır.

Buna göre Tuğçe'nin davranışları aşağıdaki kavramlardan hangisine örnektir?

- A) Hak
- B) Özgürlük
- C) Ön yargı
- D) Sorumluluk

23) (2022 İOKBS)

Bireyin yaptığı davranışların sonuçlarını üstlenmesine sorumluluk denir.

Buna göre, aşağıdakilerden hangisi sorumluluk ile ilgili bir davranıştır?

- A) Haberleşme imkânlarını kullanmak
- B) Seyahat etmek
- C) Trafik kurallarına uymak
- D) Okulda öğrenim görmek

24) (2022 İOKBS)

Merve Hanım'ın bir mağazadan aldığı yeni fırın arızalı çıkmıştır. Merve Hanım, ürünü aldığı mağazaya durumu bildirmesine rağmen, mağaza bu sorunla ilgilenmemiştir.

Buna göre, Merve Hanım'ın bilinçli bir vatandaş olarak aşağıdakilerden hangisini yapması doğrudur?

- A) Mağaza yetkilisiyle tartışması
- B) Tüketici haklarını kullanması
- C) Durumu kabullenmesi
- D) Ürünü çöpe atması

25) (2022 İOKBS)

Yasal olarak bireylere tanınan yetkilere hak denir.
Buna göre, aşağıdakilerden hangisi hak ile ilgili bir davranıştır?

- A) Sağlık hizmetlerinden yararlanmak
- B) Okul kurallarına uymak
- C) Çevreyi temiz tutmak
- D) Komşulara saygı göstermek

KAZANIMLARA GÖRE BURSLULUK SINAVI SORULARI

2.ÜNİTE: KÜLTÜR VE MİRAS

ORTA ASYA TÜRK DEVLETLERİ

26) (2011 İOKBS)

Kök-Türk hakanının huzuruna çıkan Bizanslı Tarihçi Zemarhos'un anlattıklarına göre;

“Büyük hükümdar süslü ve altın yaldızlı bir taht üzerinde oturuyordu. Onu selamladım hediyelerimi sundum. Ertesi gün daha süslü bir çadırda toplandık. Onun içi de ipek halılar döşeli, heykelciklerle donatılmış idi. Kağan som altından yapılmış bir sedir üzerinde oturuyordu.”

Aşağıdakilerden hangisi Zemarhos'un söylediklerinden çıkarılamaz?

- A) Kök Türklerin yerleşik hayata geçtiği
- B) Devletin mali durumunun iyi olduğu
- C) Maden işletmeciliğinin yapıldığı
- D) Hakanın sanatsal faaliyetlere önem verdiği

27) (2011 İOKBS)

İlk Türk devletlerinde, Türklerin genellikle çadırda yaşamaları ve hayvancılıkla uğraşmaları aşağıdakilerden hangisinin göstergesidir?

- A) Ticaretle ilgilendiklerinin
- B) Yerleşik hayata geçtiklerinin
- C) Tarımsal faaliyetlerle uğraştıklarının
- D) Göçebe yaşam tarzını benimsediklerinin

28) (2011 İOKBS)

Tonyukuk Abidesi'nde : *“Türk milleti yok olmasın, millet olsun diye babam İltiş Kağan'ı, annem İl Bilge Hatun'u Tanrı halk içinde seçip tahta çıkardı.”* bilgisi yer almaktadır.

Bu bilgiye göre aşağıdakilerden hangisine ulaşamaz?

- A) Tonyukuk Abidesi'nin Türk tarihine ait bilgi verdiği
- B) Türklerde, yöneticileri tanrının seçtiğine inanıldığı
- C) Türklerin çok tanrılı dinlere inandığı
- D) Hatun'un devlet yönetiminde yer aldığı

29) (2012 İOKBS)

“Çinliler ve Moğollar birleşerek Türkleri bozguna uğrattılar. Kurtulabilenler bir dağa kaçtı. Ortasında otlakları, ağaçları, nehirleri ve gölleri olan bir ovada yaşamaya başladılar. Zamanla sayıları çoğaldı. Buradan çıkmak için dağın içindeki demir madenini eriterek yol açtılar.”

Okuduğunuz bölüm hangi Türk destanına ait olabilir?

- A) Göç B) Manas C) Ergenekon D) Türeyiş

30) (2013 İOKBS)

Uygurlardan günümüze; mal edinme, satış protokolü, iş sözleşmeleri, ortaklık kurma, vakıfnameler, vasiyetnameler, ipotek senetleri gibi çeşitli belgeler kalmıştır.

Bu bilgiye göre Uygurlarla ilgili olarak, aşağıdakilerden hangisi söylenebilir?

- A) Askerliği kanunlarla düzenlemişlerdir.
- B) Sanatın geliştirilmesine özel bir önem vermişlerdir.
- C) Uygurlar, İlk Çağ Anadolu uygarlıklarındandır.
- D) Yönetim anlayışlarında hukuki düzenlemelerin önemli bir yeri vardır.

31) (2013 İOKBS)

Orta Asya'da kurulmuş olan ilk Türk devletlerinde;

- I. taşınabilir sanat eserlerinin yapılması,
- II. hayvancılığın temel geçim kaynağı olması,
- III. insanların savaşçı ve mücadeleci bir yapıya sahip olması

durumlarından hangilerinin oluşumunda coğrafi şartların etkili olduğu söylenebilir?

- A) Yalnız I B) I ve II
- C) II ve III D) I, II ve III

32) (2013 İOKBS)

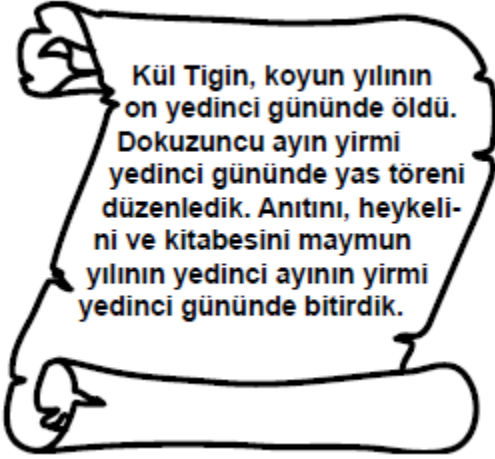
Kök Türkler, yılın belirli zamanlarında kutladıkları bayram ve şölenlerde tanrı adına kurbanlar keserek beraberce eğlenirlerdi. Bu kutlamalarda şarkılar söylerler, çeşitli yarışmalar düzenlerlerdi. En sevilen ve beğenilen yarışma ise at yarışlarıydı.

Verilen parçaya göre, Türklerin yaptıkları bu faaliyetlerde, aşağıdaki kültür unsurlarından hangisine ait bir örnek yoktur?

- A) Dil B) Din
- C) Spor D) Yönetim

KAZANIMLARA GÖRE BURSLULUK SINAVI SORULARI

33) (2013 İOKBS)



Orhun Kitabelerinden alınan bu parçadan Kök Türklerle ilgili, aşağıdaki bilgilerden hangisine ulaşamaz?

- A) Uygurlar tarafından yıkıldıklarına
- B) Taş işçiliğiyle uğraştıklarına
- C) Cenazeleri için tören düzenlediklerine
- D) 12 Hayvanlı Türk Takvimi'ni kullandıklarına

34) (2014 İOKBS)

Uygurlar, surlarla çevirdikleri şehirlerde saraylar, tapınaklar, evler ve dükkânlar inşa etmişlerdir. Kaynaklarda, başkent Karabalasagun şehrinin demirden yapılmış on iki büyük kapısından söz edilmektedir. Başka bir kaynakta da Uygurların, topraklarından geçen bir nehrin yönünü değiştirerek kanallarla bahçelerini ve tarlalarını suladıkları, buralarda her türlü tahılı yetiştirdikleri anlatılmaktadır.

Verilen parçadan Uygurlarla ilgili aşağıdaki yargılardan hangileri çıkarılabilir?

- I. Yerleşik yaşam sürmüşlerdir.
- II. Mimari alanda gelişmişlerdir.
- III. Yaşamlarında tarım önemli bir yer tutmaktadır.
- IV. Doğal şartlara boyun eğmişlerdir.

- A) I ve III
- B) II ve IV
- C) I, II ve III
- D) I, II, III ve IV

35) (2015 İOKBS)

İlk Türk devletlerinden Kök Türklerde Orhun Anıtları'nın ve Ergenekon Destanı'nın varlığı, onların aşağıdaki alanların hangisinde ürünler verdiklerini kanıtlar?

- A) Din
- B) İktisat
- C) Kültür
- D) Astronomi

36) (2015 İOKBS)

Çok sayıda ulusun tarihî kaynaklarında Türklerle ilgili bilgilere rastlanması durumu, aşağıdakilerden hangisiyle açıklanabilir?

- A) Türk boy ve hanlıklar arasındaki siyasi çekişmelerle
- B) İslamiyet'i kabul ederek Müslüman olmalarıyla
- C) Çinlilerle uzun yıllar mücadele etmeleriyle
- D) Yeni ülkeler fethetmeleriyle

37) (2015 İOKBS)

Türk devletlerinde hükümdar öldüğünde hanedandaki tüm erkek üyelerin başa geçme hakkı vardı.

Aşağıdakilerden hangisi verilen bu durumun bir sonucudur?

- A) Kara ticaretinin gelişmesi
- B) Taht kavgalarının çıkması
- C) Sözlü edebiyatın oluşması
- D) Halkın boylar hâlinde yaşaması

38) (2016 İOKBS)

Kavimler Göçü'nün aşağıdaki sonuçlarından hangisi göçün kültürel etkileşime neden olduğuna kanıttır?

- A) Avrupa'da Türk ordu sisteminin benimsenmesi
- B) Roma İmparatorluğu'nun "Batı" ve "Doğu" olarak ikiye ayrılması
- C) İlk Çağ'ın sona erip Orta Çağ'ın başlaması
- D) Hunların, Avrupa Hun Devleti'ni kurması

39) (2016 İOKBS)

(I) Çin, yöneticileri birbirine düşürdüğü, beyleri ve halkı birbirine karşı kışkırttığı için, Türk halkının ülke toprakları elinden çıkmış, Çin hükümdarına bağlanmış. (II) Daha sonra Tanrı, Türk halkı yok olmasın diye, millet olsun diye babam İltiş Kağanı, annem İlbilge Hatun'u göndermiş. (III) Babam, ülkesiz ve hakansız kalmış olan halkı bir araya getirmiş. (IV) Babamın vefatından sonra amcam Kapgan Kağan ile atalarımızın, dedelerimizin sahip olduğu topraklardaki az halkı düzene sokup, örgütleyip halk hâline getirdik...

Orhun Anıtları'ndan alınan numaralanmış bu cümlelerden hangisi "kut" anlayışını yansıtmaktadır?

- A) I
- B) II
- C) III
- D) IV

KAZANIMLARA GÖRE BURSLULUK SINAVI SORULARI

40) (2016 İOKBS)

Orta Asya Türk devletlerinde görülen aşağıdaki durumlardan hangisi coğrafi şartların bir sonucudur?

- A) Ülkenin hükümdar ailesinin ortak malı sayılması
- B) Gök Tanrı inancına sahip olunması
- C) Kut anlayışının benimsenmesi
- D) Hayvancılıkla uğraşılması

41) (2016 İOKBS)

“ ...Oğuz Kağan büyük kurultayı topladı. Büyük bir ziyafet verdi. Ülkesini oğulları arasında bölüştürdü...”

Oğuz Kağan Destanı’ndan yapılan bu alıntıya göre ilk Türk devletleri devlet yönetiminde aşağıdaki anlayışlardan hangisini benimsemiştir?

- A) Ordu-millet işbirliğinin sağlanması
- B) Ülkenin hükümdar ailesinin ortak malı sayılması
- C) Devlet yönetiminde hakan eşlerinin söz sahibi olması
- D) Hükümdara devlet yönetme yetkisinin tanrı tarafından verilmesi

42) (2016 İOKBS)

- I. Bilge Kağan
- II. Kültigin
- III. Oğuz Kağan

Orhun Kitabeleri yukarıdaki devlet adamlarından hangileri adına yazılmıştır?

- A) Yalnız I
- B) Yalnız II
- C) I ve II.
- D) II ve III.

43) (2016 İOKBS)

Uygurlar; Hunlar ve Kök Türklerden farklı olarak - - -

Bu cümle aşağıdakilerden hangisiyle tamamlanmalıdır?

- A) Yerleşik hayata geçmişlerdir.
- B) Orta Asya’da kurulmuşlardır.
- C) Çin’le ilişki içinde olmuşlardır.
- D) Türk boylarını yönetimleri altında toplamışlardır.

44) (2017 İOKBS)

Türk ordu teşkilatındaki onlu sistem ilk defa hangi Türk hükümdarı tarafından uygulanmıştır?

- A) Mukan Kağan
- B) Atilla
- C) Bilge Kağan
- D) Mete Han

45) (2017 İOKBS)

İlk Türk devletlerinde devlet işlerinin görüşüldüğü meclise ----- adı verilirdi.

Bu cümlede boş bırakılan yere aşağıdakilerden hangisi getirilmelidir?

- A) kut
- B) kurultay
- C) kurgan
- D) töre

46) (2018 İOKBS)

Türk milleti! Kendine gel, aklını başına dev-şir! İtaatsizliğin yüzünden, seni kalkındırmış bilgili kağanına ve zenginleşmiş, kalkınmış güzel yurduna karşı kendin yanıldın, kötülük getirdin.

Bu metne göre Bilge Kağan Türk milletine aşağıdakilerden hangisini öğütlemektedir?

- A) Dürüstlüğü
- B) Çalışkanlığı
- C) Devlete bağlılığı
- D) Hoşgörüyü

47) (2018 İOKBS)

Uygur ülkesi ile Çin arasında sayıları altmış sekize ulaşan gümrük kapıları açılmış, bu kapılara atlarla gıda maddeleri getirilmiştir. Satılan mal üzerinden gümrük vergisi alınması bir düzene bağlanmıştır.

Bu bilgiye göre Uygurlarla ilgili olarak aşağıdakilerden hangisi söylenebilir?

- A) Uygur ekonomisinde ticaretin büyük bir payı olmuştur.
- B) Çin kültürü ve inançları Uygurları derinden etkilemiştir.
- C) Uygurlar her zaman Çinlilerle barış içinde yaşamışlardır.
- D) Çinliler Uygurlara canlı hayvan ve ipek satmışlardır.

48) (2018 İOKBS)

Tarihimizdeki ilk minyatür örnekleri hangi Türk topluluğu dönemine aittir?

- A) Kök Türkler
- B) Gazneliler
- C) Karahanlılar
- D) Uygurlar

49) (2019 İOKBS)

Kağanlığın Tanrı tarafından verilen bir görev olarak görüldüğü ve kan yoluyla babadan oğula geçtiğine inanılan anlayış aşağıdakilerden hangisidir?

- A) Kut
- B) Gök Tanrı
- C) Töre
- D) Yuğ

KAZANIMLARA GÖRE BURSLULUK SINAVI SORULARI

50) (2019 İOKBS)

“Hun sanatının temeli konargöçer yaşam tarzına dayanır.” diyen bir tarihçiye göre aşağıdaki eserlerden hangisinin bu döneme ait olması beklenemez?

- A) Pazırık halısı B) Demir savaş aletleri
C) Deri çizmeler D) Dinî tapınaklar

51) (2019 İOKBS)

“Yapılan arkeolojik kazılarda Altay bölgesinde Hunlar zamanında açılmış sulama kanallarına rastlanmıştır. Kök Türkler zamanında da kullanıldığı anlaşılan Tötü Kanalı’nın boyu 10 km’ye yakındı ve o kadar yüksek teknik bilgiye dayanmakta idi ki Ruslar 1935 yılında bu kanalı aynen kullanmaya devam ettiler.”

İbrahim Kafesoğlu

Bu bilgiye göre Tötü Kanalı’nın kullanılması Kök Türklerin hangisiyle uğraştıklarına kanıt olarak gösterilebilir?

- A) Ticaret B) Tarım
C) Sanayi D) Madencilik

52) (2020 İOKBS)

Aşağıdakilerden hangisi Orta Asya’da Türklerin konargöçer bir yaşam sürdürdüklerine kanıt olarak gösterilebilir?

- A) Devleti ikili sistemle yönetmeleri
B) Vatan sevgisinin gelişmiş olması
C) Taşınabilir eşyalar kullanmaları
D) Çinliler ile savaşlar yapmaları

53) (2020 İOKBS)

İlk Türk devletlerinde önemli meselelerin görüşüldüğü danışma meclisine ne ad verilmiştir?

- A) Kurultay B) Sagu
C) Kut D) Budun

54) (2020 İOKBS)

Orhun Abideleri günümüzde hangi ülke sınırları içerisinde?

- A) Rusya B) Hindistan
C) İran D) Moğolistan

55) (2020 İOKBS)

Altay Dağları eteklerindeki Pazırık kurganından çıkarılan ve dünyanın en eski halılarından biri olan Pazırık Halısı’nın, Asya Hun Türklerine ait olduğu kabul edilmektedir.

Buna göre Asya Hun Türkleri ile ilgili aşağıdakilerden hangisi söylenebilir?

- A) Madencilikte geliştikleri
B) Tarımla uğraştıkları
C) Dokumacılıkla ilgilendikleri
D) Ticaret sayesinde zenginleştikleri

56) (2020 İOKBS)

İlk Türk topluluklarında ölen kişi kıymetli eşyalarıyla beraber “kurgan” adı verilen mezarlara gömülürdü.

Bu bilgiye göre ilk Türk topluluklarıyla ilgili aşağıdakilerden hangisi söylenebilir?

- A) Yerleşik yaşama geçtikleri
B) Savaşçılık özelliklerini kaybettikleri
C) İdari teşkilatlanmada geliştikleri
D) Ölümden sonraki yaşama inandıkları

57) (2021 İOKBS)

Orta Asya’da Türkler, yazın su ve otlak alanların bol olduğu yaylaklarda, kışın ise hayvanları için daha elverişli olan kışlaklarda yaşarlardı.

Bu durum Türklerin aşağıdakilerden hangisini benimsediğini gösterir?

- A) İkili yönetim sistemini
B) Konargöçer yaşam biçimini
C) Ordu-millet anlayışını
D) Sosyal devlet düşüncesini

58) (2021 İOKBS)

Hun hükümdarı Mete Han’ın aşağıdaki faaliyetlerinden hangisi Hun ekonomisini güçlendirmeye yöneliktir?

- A) Dağınık halde yaşayan Türkleri bir çatı altında toplaması
B) Orduda ilk defa onlu sistemi kurması
C) Çinlilere karşı Türk millî kültürünü korumaya çalışması
D) Ticari önemi olan İpek Yolu’nun denetimini ele geçirmesi

KAZANIMLARA GÖRE BURSLULUK SINAVI SORULARI

59) (2021 İOKBS)

Orta Asya'da yaşayan Türkler, ekip biçme zamanını ve göç tarihlerini belirlemek için gök ile ilgili olaylara bakarak "On İki Hayvanlı Türk Takvimi"ni oluşturmuşlardır. Bu sayede zamanı sistemli hâlde kullanmaya başlamışlardır.

Buna göre Türkler ile ilgili aşağıdakilerden hangisi söylenebilir?

- A) Gök Tanrı inancını benimsemişlerdir.
- B) Astronomi alanında çalışmalar yapmışlardır.
- C) Askerî alanda ilerlemişlerdir.
- D) Madencilikle uğraşmışlardır.

60) (2022 İOKBS)

Orta Asya'da yapılan arkeolojik kazılarda savaş aletlerinin, çanak çömleklerin, kilimlerin ve süs eşyalarının bulunması Türklerin aşağıdakilerden hangisiyle uğraştıklarını göstermez?

- A) Tarım
- B) Sanat
- C) Dokumacılık
- D) Askerlik

61) (2022 İOKBS)

Orta Asya'da sert karasal iklim özelliklerinin görülmesi ve bozkır alanların hâkim olması Türklerin göçebe bir yaşam tarzı benimsemelerine neden olmuştu. Türkler, hayvanları için yazın su ve otlak alanlarının bol olduğu yaylaklarda, kışın ise hava sıcaklığının daha elverişli olduğu kışlaklarda yaşarlardı.

Bu bilgiye göre, Türklerin yaşayışı ve ekonomik faaliyetleri üzerinde aşağıdakilerden hangisi etkili olmuştur?

- A) Siyasi mücadeleler
- B) Coğrafi şartlar
- C) Dinî inançlar
- D) Töre kuralları

İSLAMİYETİN DOĞUŞU VE YAYILIŞI

62) (2014 İOKBS)

Hiz. Osman Dönemi'nde;

- Kıbrıs adası, Bizans'tan alındı.
- Halkının bir bölümü Türk olan Horasan bölgesinin fethine başlandı.
- Kur'an-ı Kerim çoğaltılarak önemli şehirlere gönderildi.

Bu bilgilere göre, Hiz. Osman Dönemi ile ilgili olarak aşağıdakilerden hangisi söylenemez?

- A) İslam donanması kurulmuştur.
- B) İslam Devleti'nin sınırları genişlemiştir.
- C) Müslümanlar Akdeniz'e hâkim olmuştur.
- D) İslamiyet, Arap Yarımadası'nın dışında yayılmaya başlamıştı.

63) (2017 İOKBS)

Hangi halife döneminde Kur'an-ı Kerim çoğaltılarak önemli şehirlere gönderilmiştir?

- A) Hiz. Ali
- B) Hiz. Ömer
- C) Hiz. Ebubekir
- D) Hiz. Osman

64) (2017 İOKBS)

1. Mekke'nin fethi
2. Hudeybiye Antlaşması
3. Bedir Savaşı
4. Hicret

Numaralanmış olaylar, oluş sırasına göre aşağıdakilerin hangisinde doğru olarak verilmiştir?

- A) 4-3-2-1
- B) 2-1-4-3
- C) 3-2-1-4
- D) 1-4-3-2

65) (2020 İOKBS)

Hiz. Ömer Dönemi'nde sınırların genişlemesinden dolayı ülke illere ayrılmış ve bu illere valiler atanmıştır.

Bu uygulamanın temel amacı aşağıdakilerden hangisidir?

- A) Devlet yönetimini kolaylaştırmak
- B) Ordunun güçlenmesini sağlamak
- C) Tarımsal üretimi yaygınlaştırmak
- D) Hazine gelirlerini artırmak

66) (2020 İOKBS)

Abbasilerde Beytül Hikme'nin kuruluş amacı aşağıdakilerden hangisidir?

- A) Askerî faaliyetleri denetlemek
- B) Bilimsel araştırmalar yapmak
- C) Büyük davalara bakmak
- D) Ulaşımı geliştirmek

67) (2021 İOKBS)

Müslümanlarla Mekkeli müşrikler arasında yapılan Bedir Savaşı'nı, Müslümanlar kazandı. Savaş sırasında ele geçirilen esirlere, Müslümanlara okuma yazma öğretmeleri şart koşuldu. Müslümanlara okuma yazma öğreten esirler serbest bırakıldı.

Bu durum İslamiyet'in aşağıdakilerden hangisine verdiği önemi gösterir?

- A) Mimariye
- B) Orduya
- C) Eğitime
- D) Ekonomiye

KAZANIMLARA GÖRE BURSLULUK SINAVI SORULARI
İSLAMİYET VE TÜRKLER

68) (2014 İOKBS)

“Yönetici; akıllı, bilgili ve adil olmalıdır. Cesur ve tedbirli davranmalıdır. Halkını ve ülkesini koruyabilmesi için iyi, merhametli, gözü tok, sabırlı, alçak gönüllü, şefkatli, sakın tabiatlı ve yumuşak huylu olmalıdır. Yönetici adaletle iş görmelidir.”

“Kutadgu Bilig” adlı eserinde, hükümdara bu şekilde öğüt veren Türk büyüğü, aşağıdakilerden hangisidir?

- A) Yunus Emre
- B) Ahmet Yesevî
- C) Kaşgarlı Mahmut
- D) Yusuf Has Hacı

69) (2015 İOKBS)

“Divan-ı Lügati't Türk” adlı eser, aşağıdakilerden hangisi tarafından yazılmıştır?

- A) Firdevsi
- B) Nizamülmülk
- C) Kaşgarlı Mahmut
- D) Yusuf Has Hacı

70) (2015 İOKBS)

Türk kültüründe görülen,

- 12 hayvanlı Türk takviminin yanında Hicri takviminin de kullanılmaya başlanması
- Hutbe okutmanın hükümdarlık sembolleri arasına girmesi

gibi değişikliklerin, aşağıdaki alanların hangisinde yaşanan değişimin sonucu olduğu söylenebilir?

- A) Din
- B) Hukuk
- C) Sanat
- D) Mimari

71) (2016 İOKBS)

- I. Cami
- II. Kervansaray
- III. Medrese
- IV. Darüşşifa

Yukarıdaki mimari eserlerden hangileri, Türklerin Müslüman olduğuna doğrudan kanıttır?

- A) I ve II
- B) I ve III
- C) II ve IV
- D) I, II, III ve IV

72) (2018 İOKBS)

Türkler hangi savaştan sonra kitleler hâlinde Müslüman olmuşlardır?

- A) Bedir
- B) Talas
- C) Malazgirt
- D) Pasinler

73) (2019 İOKBS)

Kaşgarlı Mahmud tarafından Abbasi halifesine sunulan, Araplara Türk dilini öğretmek amacıyla yazılmış, birçok Türk lehçesine ait örnekler bulunan eser aşağıdakilerden hangisidir?

- A) Kutadgu Bilig
- B) Dîvânü Lugâti't Türk
- C) Divân-ı Hikmet
- D) Atabetü'l Hakâyık

74) (2020 İOKBS)

Karahanlılar, İslamiyet'i resmî din olarak benimsemiştir. Ancak İslamiyet öncesi döneme ait kut inancını, devletin hanedanın ortak malı sayılmasını ve ikili yönetim anlayışını devam ettirmişlerdir.

Buna göre Karahanlılar ile ilgili aşağıdakilerden hangisi söylenebilir?

- A) Kültürel kimliklerini kaybetmişlerdir.
- B) Yöneticiler halk tarafından seçilmiştir.
- C) Hükümdarın yetkileri sınırlandırılmıştır.
- D) Türk devlet geleneğini sürdürmüşlerdir.

75) (2022 İOKBS)

Aşağıdakilerden hangisi Türklerin İslamiyet'i kabul etmesinin siyasi sonuçlarından biridir?

- A) Göçebe yaşam tarzından yerleşik hayata geçmeleri
- B) Dil, edebiyat ve sanat alanında bilim insanları yetiştirmeleri
- C) Bizans saldırılarına karşı İslam dünyasının koruyuculuğunu yapmaları
- D) Semerkant, Buhara, Taşkent ve Horasan'ı ilmî açıdan İslamiyet'i temsil edecek şehirler hâline getirmeleri

76) (2022 İOKBS)

- Türk-İslam tarihindeki ilk medreseyi, ilk vakfı ve ilk posta teşkilatını kurdular.
- Ticaretin canlanması ve güvenliği için ribat adıyla ilk kervansarayları yaptılar.

Bu bilgiler, aşağıdaki Türk devletlerinden hangisine aittir?

- A) Gaznelilere
- B) Kök Türklerle
- C) Uygurlara
- D) Karahanlılara

KAZANIMLARA GÖRE BURSLULUK SINAVI SORULARI
ANADOLUNUN YURT OLMASI

77) (2011 İOKBS)

Selçuklulara ait bazı çinilerde Uygur duvar resimlerinin özellikleri görülmektedir.

Bu durum aşağıdakilerden hangisinin göstergesidir?

- A) Türklerde minyatür sanatının ilk defa Uygurlarca kullanıldığının
- B) Uygur duvar resimlerinde Çin etkisinin görüldüğünün
- C) Uygur minyatüründe İslami etkilerin görüldüğünün
- D) Uygur sanatının Türk-İslam sanatını etkilediğinin

78) (2012 İOKBS)

Türk-İslam mimarisinde, cami çevresinde oluşan okul, kütüphane, aşevi, hamam gibi eserlerden meydana gelen yapılara adı verilir.

Cümlede boş bırakılan yere aşağıdakilerden hangisi yazılmalıdır?

- A) külliye
- B) ribat
- C) imaret
- D) darüşşifa

79) (2012 İOKBS)

Aşağıdaki savaşlardan hangileri Anadolu'nun fethine yöneliktir?

- I. Pasinler
- II. Dandanakan
- III. Malazgirt

- A) Yalnız I
- B) Yalnız II
- C) I ve III
- D) I ve II

80) (2012 İOKBS)

Melikşah, kurdurduğu rasathane ile gök cisimlerinin ve gökyüzü olaylarının gözlemlenmesini sağlamış ve Celali Takvimi'ni hazırlatmıştır.

Bu bilgiye göre Melikşah zamanında aşağıdaki bilimlerden hangisinde gelişme olmuştur?

- A) Matematik
- B) Astronomi
- C) Felsefe
- D) Tarih

81) (2012 İOKBS)

“Ey askerlerim!

Eğer şehid olursam bu beyaz elbise kefenim olsun. O zaman ruhum göklere çıkacaktır. Melikşah'ı yerime tahta çıkarınız ve ona bağlı kalınız. Zaferi kazanırsak önümüzde çok güzel günler olacaktır.”

Bu konuşmayı aşağıdakilerden hangisi yapmıştır?

- A) Nizamülmülk
- B) Tuğrul Bey
- C) Alparslan
- D) Gazneli Mahmut

82) (2017 İOKBS)

Kervansaraylar aşağıdakilerden hangisini geliştirmek amacıyla yapılmıştır?

- A) Ticareti
- B) Tarımı
- C) Eğitimi
- D) Sanatı

83) (2018 İOKBS)

Malazgirt Savaşı'nda Bizans ordusunu yenilgiye uğratarak Anadolu kapılarını Türklere açan Selçuklu hükümdarı aşağıdakilerden hangisidir?

- A) Melikşah
- B) Tuğrul Bey
- C) Alparslan
- D) Sultan Sencer

84) (2018 İOKBS)

Büyük Selçuklu Devleti aşağıdaki savaşların hangisinden sonra kurulmuştur?

- A) Talas
- B) Pasinler
- C) Malazgirt
- D) Dandanakan

85) (2020 İOKBS)

Aşağıdakilerden hangisi Haçlı Seferlerinin “siyasi nedenlerinden” biridir?

- A) Müslümanların elindeki kutsal yerleri alma düşüncesi
- B) Avrupalıların Hristiyanlığı yayma amacı
- C) Bizans'ın Türklere karşı Avrupalılardan yardım istemesi
- D) Doğu'nun zenginliklerini ele geçirme arzusu

86) (2020 İOKBS)

Türkiye Selçuklu Devleti'nde kervansaraylar aşağıdakilerden hangisini geliştirmek amacıyla yapılmıştır?

- A) Eğitimi
- B) Ticareti
- C) Sanatı
- D) Hukuku

KAZANIMLARA GÖRE BURSLULUK SINAVI SORULARI

87) (2021 İOKBS)

Türkiye Selçuklu Devleti Dönemi'nde darüşşifa veya şifahane adı verilen yapıların inşa edilmesi aşağıdakilerden hangisine verilen önemi gösterir?

- A) Askerliğe
- B) Ekonomiye
- C) Sağlığa
- D) Sanata

88) (2021 İOKBS)

Malazgirt Savaşı ile Anadolu'ya giren Türkler, fethettikleri yerlerde kervansaray, medrese, cami, han, külliye gibi yapılar inşa ederek kalıcı eserler bıraktılar. Anadolu'da ticaret yapan tüccarların konaklayabileceği kervansaraylar sayesinde yolların güvenliğini sağladılar.

Medreselerde bilim ve sanata önem vererek Caca Bey, El Cezeri gibi bilim insanları ve Ahi Evran, Mevlana gibi düşünürlerin yetişmesini sağladılar.

Buna göre Anadolu'yu yurt edinen Türkler ile ilgili olarak aşağıdakilerden hangisi söylenemez?

- A) İmar faaliyetlerine önem vermişlerdir.
- B) Ticaretin gelişmesini sağlamışlardır.
- C) İlmî çalışmaları desteklemişlerdir.
- D) Yazılı hukuk kuralları oluşturmuşlardır.

89) (2022 İOKBS)

Türkiye Selçukluları, birçok medrese inşa ettirmişlerdir. Konya'da İnce Minareli Medrese, Kırşehir'de Cacabey Medresesi, Erzurum'da Yakutiye Medresesi ve Anadolu'da inşa edilen birçok medrese buna örnektir.

Bu bilgi, Türkiye Selçuklularının aşağıdakilerden hangisine verdiği önemi göstermektedir?

- A) Orduya
- B) Ticarete
- C) Bilime
- D) Ulaşım

İPEK YOLU

90) (2011 İOKBS)

İpek Yolu'na ait verilen aşağıdaki bilgilerden hangisi yanlıştır?

- A) İsmi 19. yüzyılda almıştır.
- B) Sadece ipek ürünleri taşınmıştır.
- C) Doğu-batı arasında köprü olmuştur.
- D) Üzerinde Hami, Aksu gibi şehirler kurulmuştur.

91) (2013 İOKBS)

İpek Yolu, iki bin yıldır pek çok ülkeden geçerek Asya'dan Avrupa'ya uzanan bir köprü olmuştur. Bu köprüden sadece mallar değil, kültürler ve insanlar da geçmiştir. Zenginliğin ve bilginin taşındığı bu yol, kontrolünü elinde tutan devletlere ekonomik, askerî, kültürel ve siyasi imkânlar sağlamıştır.

Yukarıdaki paragrafta, İpek Yolu'nun hangi özelliğine değinilmemiştir?

- A) Devletler arası savaşa neden olmasına
- B) Farklı coğrafyalardan geçişine
- C) Kültür köprüsü oluşuna
- D) Ekonomik değerine

KAZANIMLARA GÖRE BURSLULUK SINAVI SORULARI

3.ÜNİTE: İNSANLAR, YERLER VE ÇEVRELER

COĞRAFİ KONUM

92) (2011 İOKBS)

Türkiye hangi boylamlar arasında yer alır?

- A) 26° - 45° doğu B) 36° - 42° batı
C) 19° - 26° doğu D) 40° - 45° batı

93) (2012 İOKBS)

Aşağıda verilenlerden hangisi Avrupa Kıtası'nın konumuna ait bir özelliktir?

- A) Güneyinde Akdeniz yer alır.
B) Güney Yarım Küre'de yer alır.
C) Amerika Kıtası ile sınır oluşturur.
D) Doğusunda Afrika Kıtası bulunur.

94) (2013 İOKBS)

Aşağıda verilenlerden hangisi Türkiye'nin konumuna ait bir özelliktir?

- A) Almanya ve İtalya sınır komşusudur.
B) Yer şekilleri düz ve sadedir.
C) Büyük Okyanus kıyısındadır.
D) Kuzey Yarım Küre'de yer alır.

95) (2014 İOKBS)

Türkiye'nin coğrafi konumu ile ilgili olarak aşağıdakilerden hangisi söylenebilir?

- A) Afrika kıtasında toprakları vardır.
B) Atlas Okyanusu'na kıyısı vardır.
C) 26° - 45° kuzey paralelleri arasında yer alır.
D) Başlangıç meridyeninin doğusunda yer alır.

96) (2017 İOKBS)

Aşağıdakilerden hangisi Türkiye'nin bulunduğu bölgede önemini artırmaz?

- A) Asya ve Avrupa arasında köprü olması
B) Zengin yer altı ve yer üstü kaynaklarının olması
C) Yükseltinin batıdan doğuya doğru gidildikçe artması
D) Akdeniz ve Karadeniz'i bağlayan boğazlara sahip olması

97) (2018 İOKBS)

Türkiye'nin boğazlara sahip olması aşağıdaki konulardan hangisinde önemini artırmıştır?

- A) Tarım B) Madencilik
C) Ulaşım D) Sanayi

98) (2019 İOKBS)

Ülkemiz 36° - 42° kuzey paralelleri ile 26° - 45° doğu meridyenleri arasında yer alır.

Yalnızca bu bilgiye dayanarak ülkemiz ile ilgili aşağıdaki çıkarımlardan hangisi yapılamaz?

- A) Üç tarafı denizlerle çevrilidir.
B) Ekvator, ülkemizin güneyinde yer alır.
C) Greenwich meridyeni batı yönümüzde bulunur.
D) Türkiye'nin güneyi ile kuzeyi arasında 6 paralel vardır.

99) (2020 İOKBS)

Aşağıdaki haritada bazı kıtalar numaralandırılarak gösterilmiştir.



Haritada I, II ve III olarak numaralanmış kıtaların isimleri aşağıdakilerin hangisinde doğru olarak verilmiştir?

I	II	III
A) Asya	Avrupa	Afrika
B) Avrupa	Asya	Afrika
C) Avrupa	Afrika	Asya
D) Asya	Afrika	Avrupa

100) (2020 İOKBS)

Mutlak konum; bir yerin paralel ve meridyenler ile ifade edilen, yani ekvatora ve başlangıç meridyenine göre belirlenen konumudur.

Buna göre Türkiye'nin aşağıdaki özelliklerinden hangisi mutlak konum ile ilgilidir?

- A) Kuzey Yarımküre'de yer alması
B) Asya ve Avrupa kıtalarını birbirine bağlaması
C) Batısından doğusuna doğru dağların yükseltisinin artması
D) Üç tarafının denizlerle çevrili olması

101) (2020 İOKBS)

Yüz ölçümü en küçük olan kıta aşağıdakilerden hangisidir?

- A) Okyanusya B) Güney Amerika
C) Antarktika D) Avrupa

KAZANIMLARA GÖRE BURSLULUK SINAVI SORULARI

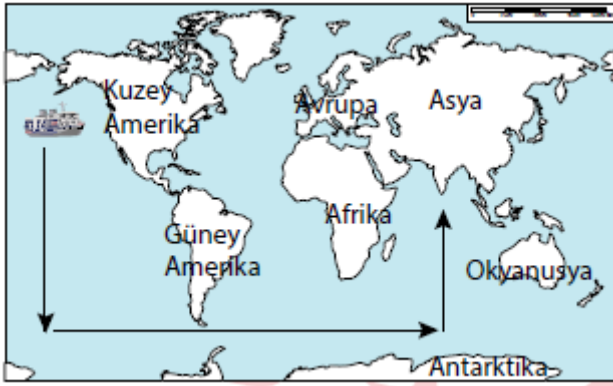
102) (2021 İOKBS)

Göreceli konum; bir yerin kıtalara, okyanuslara, denizlere, yer şekillerine, yeraltı kaynaklarına, ulaşım yollarına ve komşu ülkelere göre belirlenen konumudur.

Buna göre aşağıdakilerden hangisi Türkiye'nin göreceli konumu ile ilgilidir?

- A) Asya, Avrupa ve Afrika kıtalarının kesişme noktasında bulunması
- B) Ekvator'un kuzeyinde, başlangıç meridyeninin ise doğusunda yer alması
- C) Dört mevsimin belirgin olarak yaşanması
- D) Dağların kuzey yamaçlarının güney yamaçlarından daha soğuk olması

103) (2022 İOKBS)



Verilen haritada oklar yönünde hareket eden bu gemi, sırayla hangi okyanuslardan geçer?

- A) Büyük Okyanus-Atlas Okyanusu
- B) Büyük Okyanus-Hint Okyanusu
- C) Atlas Okyanusu-Hint Okyanusu
- D) Atlas Okyanusu-Büyük Okyanus

ÜLKEMİZİN FİZİKİ ÖZELLİKLERİ

104) (2011 İOKBS)

Denizden uzaklık ve yükseltinin fazla olması karasallığı artırır. Bu tür bölgelerde gece gündüz arasındaki sıcaklık farkı da fazladır.

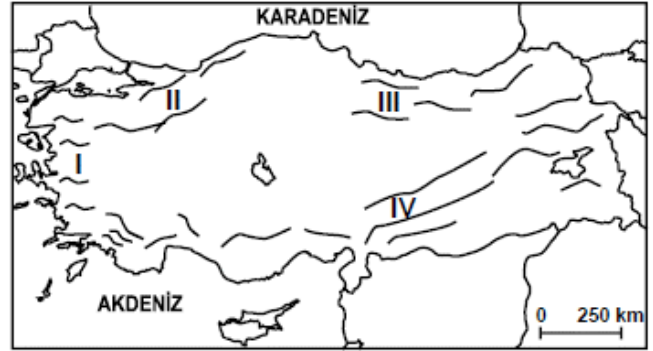
Buna göre verilen haritadaki yerleşim birimlerinin hangisinde gece-gündüz sıcaklık farkı en fazladır?



- A) İzmir
- B) Samsun
- C) Ağrı
- D) Antalya

105) (2011 İOKBS)

Haritada, Türkiye'deki başlıca dağların kıyı çizgisine göre uzanış yönleri verilmiştir.



Buna göre numaralandırılmış alanlardan hangisinde deniz ikliminin içerilere sokulması beklenir?

- A) I
- B) II
- C) III
- D) IV

106) (2011 İOKBS)

Buğday, yazları sıcak ve kurak, kışları soğuk ve kar yağışlı bölgelerde yetiştirilen başlıca tarım ürünüdür.

Buna göre aşağıdaki iklim tiplerinden hangisinde buğday tarımı daha yaygın olarak yapılır?

- A) Akdeniz iklimi
- B) Karasal iklim
- C) Karadeniz iklimi
- D) Marmara iklimi

KAZANIMLARA GÖRE BURSLULUK SINAVI SORULARI

107) (2012 İOKBS)



□ Karasal İklim □ Karadeniz İklimi ■ Akdeniz İklimi

Türkiye'nin iklim haritası incelendiğinde, güneyde dar bir şerit hâlinde uzanan Akdeniz ikliminin batıda kıyından iç kesimlere daha çok sokulduğu görülmektedir.

Bu durum aşağıdakilerden hangisiyle açıklanabilir?

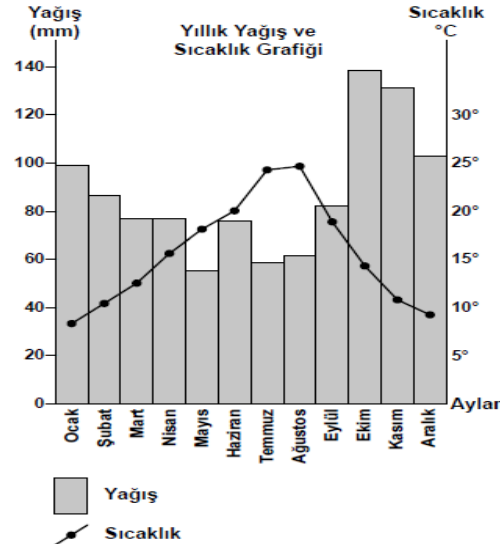
- A) Dağların uzanış şekliyle
- B) Bitki örtüsünün dağılışıyla
- C) Su kaynaklarının dağılışıyla
- D) Doğuya doğru yükseltinin artmasıyla

108) (2012 İOKBS)

Karadeniz'de ahşap, iç bölgelerde kerpiç, Akdeniz'de taş evlerin yaygın oluşunda etkili olan faktör aşağıdakilerden hangisidir?

- A) Kültürel yapı
- B) Yeryüzü şekilleri
- C) Nüfus yoğunluğu
- D) Çevresindeki doğal malzemeler

109) (2012 İOKBS)



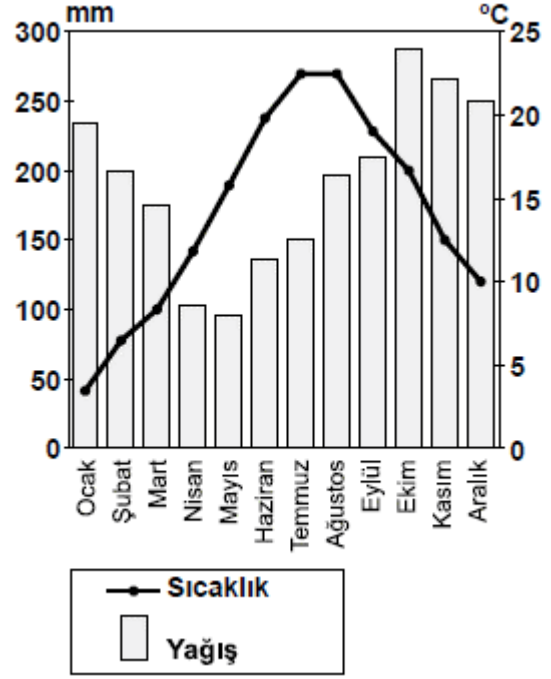
Yukarıdaki grafik Türkiye'de bir merkeze aittir.

Bu merkezde hangi iklimin görüldüğü söylenebilir?

- A) Karasal iklimin
- B) Akdeniz ikliminin
- C) Karadeniz ikliminin
- D) Şiddetli karasal iklimin

Sıradaki 2 soruyu verilen grafiğe göre yapınız.

110) (2013 İOKBS)



Yağış ve sıcaklık grafiği verilen merkez için aşağıdakilerden hangisi söylenebilir?

- A) Şubat en soğuk aydır.
- B) Her mevsim yağış alır.
- C) En kurak ay ekimdir.
- D) Bazı aylarda yağış 400 mm'yi aşar.

111) (2013 İOKBS)

Yağış ve sıcaklık grafiği verilen merkez aşağıdakilerden hangisi olabilir?

- A) Rize
- B) Kars
- C) Ankara
- D) Konya

112) (2013 İOKBS)



Yükselti faktörü göz önüne alındığında haritada verilen merkezlerden hangileri arasında, sıcaklık farkının daha fazla olması beklenir?

- A) Ordu-Ağrı
- B) Ankara-Ağrı
- C) Manisa-Ankara
- D) Gaziantep-Ordu

KAZANIMLARA GÖRE BURSLULUK SINAVI SORULARI

113) (2014 İOKBS)

Ülkemizin iç kesimlerinde deniz etkilerinin görülmeyişi aşağıdakilerden hangisiyle ilgilidir?

- A) Yer şekilleriyle
- B) Enlem etkisiyle
- C) Su kaynaklarıyla
- D) Rüzgarların yönüyle

14 ve 15. soruları, aşağıda verilen paragrafa göre cevaplayınız.

Köyümüz yurdumuzun denizden uzak iç kesimlerindedir. Yaz döneminde kuraklık hakimdir, gündüz sıcaklıklar 35 °C'ye yaklaşırken gece 10 °C nin altına düşer. Kış mevsimi ise soğuk ve kar yağışlıdır. Köyümüzde çoğunlukla buğday tarımı ve küçük baş hayvancılık yapılır. Nisanda her tarafı saran yeşil otlar, Haziran da sararır ve kurur ...

114) (2014 İOKBS)

Verilen bilgilere göre bu köy ve çevresinde aşağıdaki iklimlerden hangisi görülmektedir?

- A) Karadeniz
- B) Akdeniz
- C) Karasal
- D) Muson

115) (2014 İOKBS)

Köy aşağıdaki illerden hangisinin sınırları içinde olabilir?

- A) Nevşehir
- B) Mersin
- C) İstanbul
- D) Rize

116) (2015 İOKBS)

Ege bölgesinde deniz kıyısında yetişen bir tarım ürünü, bölgenin iç kesimlerinde de yetişebilmektedir. Karadeniz bölgesinde ise bu durumun tam tersi yaşanmaktadır.

Ege ve Karadeniz bölgelerindeki bu farklılığın sebebi aşağıdakilerden hangisidir?

- A) Yükselti farkı
- B) Kıyı uzunlukları
- C) Dağların uzanışı
- D) Deniz suyu sıcaklığı

117) (2015 İOKBS)

Ankara ile Erzurum Ekvator çizgisine yaklaşık olarak aynı uzaklıktadır. Ancak Erzurum'da sıcaklık ortalaması daha düşüktür.

Bu durumun sebebi nedir?

- A) Yükselti
- B) Bakı
- C) Rüzgarlar
- D) Dağların uzanışı

118) (2015 İOKBS)

Bir bölgenin doğal bitki örtüsü ile hayvancılık faaliyetleri arasında yakın bir ilişki vardır.

Aşağıda verilen bitki örtüsü ve hayvancılık faaliyetleri eşleştirmelerinden hangisi yanlıştır?

Bitki örtüsü	Hayvan türü
A) Bozkır	Koyun
B) Çayır	Sığır
C) Maki	Kıl keçisi
D) Çam ormanları	İpek böceği

119) (2016 İOKBS)

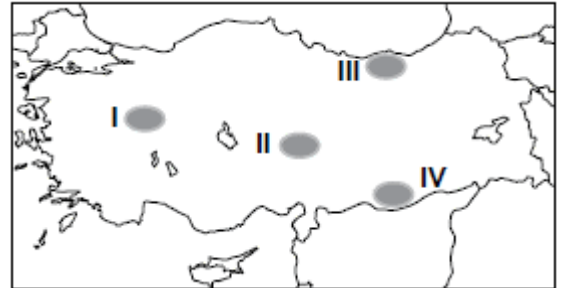
Hakan Bey: İlk görev yerimizde kışlar çok sert ve soğuk, yazlar ise serin ve yağışlı geçmekteydi. Şimdi yaşadığımız şehirde ise kışları ılık, bitki örtüsü gür ve her mevsim yağışlı geçmektedir.

Hakan Bey'in görev yaptığı şehirler sırasıyla aşağıdakilerden hangileri olabilir?

- A) Kars-Rize
- B) Van-Konya
- C) Ordu-Gaziantep
- D) Mersin-Eskişehir

120) (2016 İOKBS)

Kurak ve yarı kurak bölgelerde ağaçlandırma yapıldıktan sonra fidanların sulanması zorunlu iken bu zorunluluk nemli bölgelerde daha azdır.



Buna göre, haritada taralı alanlardan hangisinde dikilen fidanların sulanmasına duyulan ihtiyaç daha azdır?

- A) I
- B) II
- C) III
- D) IV

121) (2016 İOKBS)

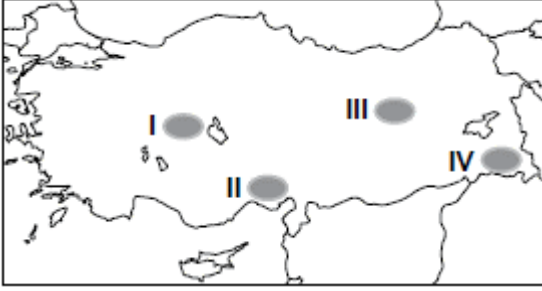
Aşağıdakilerden hangisi Türkiye'de dağların kıyıya paralel uzanmasının sonuçlarındanıdır?

- A) Kuzeyden esen rüzgârların sıcaklığı düşürmesi
- B) Denizel etkilerin iç kesimlere sokulamaması
- C) Yükselti ortalamasının batıdan doğuya doğru artması
- D) Sıcaklık ortalamalarının güneyden kuzeye doğru azalması

KAZANIMLARA GÖRE BURSLULUK SINAVI SORULARI

122) (2016 İOKBS)

Toprak ve iklim koşullarının uygun olması yetiştirilen ürün miktarı ve çeşitliliği üzerinde etkili olmaktadır.



Buna göre, haritada verilen yerlerden hangisinde toprak ve iklim koşulları yetiştirilen ürün çeşitliliğini daha çok artırmıştır?

- A) I B) II C) III D) IV

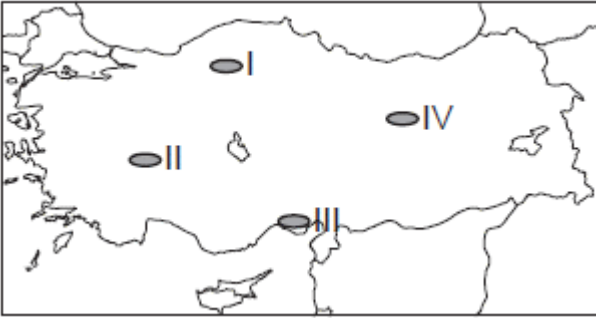
123) (2017 İOKBS)

Aşağıdakilerden hangisi Akdeniz ikliminin özelliklerinden biri değildir?

- A) Bitki örtüsü bozkırdır.
B) Kışlar ılık ve yağışlıdır.
C) Yazlar sıcak ve kuraktır.
D) Kar yağışı çok az görülür.

124) (2018 İOKBS)

Yazları sıcak ve kurak, kışları ılık ve yağışlıdır. Kar yağışı ve don olayı ender yaşanır. Bitki örtüsü makidir.



Yukarıda anlatılan iklim tipi harita üzerinde numaralandırılarak gösterilen yerlerin hangisinde görülür?

- A) I. B) II. C) III. D) IV.

125) (2018 İOKBS)

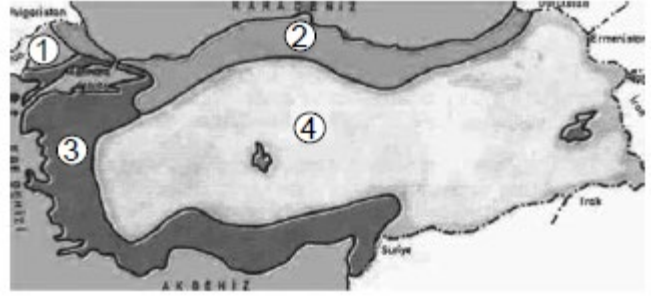
Kars ile Iğdır arasındaki mesafe yakın olmasına rağmen Iğdır'ın yıllık ortalama sıcaklığı yaklaşık 7°C daha fazladır.

Bu farklılığın nedeni aşağıdakilerden hangisidir?

- A) Bitki örtüsü B) Yükselti değerleri
C) Toprak özellikleri D) Yağış miktarları

126) (2019 İOKBS)

Türkiye haritası üzerinde belirli bölgeler numaralandırılarak verilmiştir.



Buna göre, numaralanmış yerlerin hangilerinde karasal iklim görülmektedir?

- A) 1 ve 2. B) 2 ve 3.
C) 1 ve 4. D) 2, 3 ve 4.

127) (2020 İOKBS)

Türkiye fiziki haritasını kullanarak aşağıdaki bilgilerden hangisine ulaşabiliriz?

- A) Eğitim durumu
B) Sağlık hizmetleri
C) Madenlerin dağılışı
D) Yeryüzü şekilleri

128) (2020 İOKBS)

Ülkemizde yükselti ve engebenin fazla olduğu bölgelerle ilgili aşağıdakilerden hangisi söylenemez?

- A) Yıllık sıcaklık ortalaması düşüktür.
B) Diğer bölgelerden göç alır.
C) Tarım alanları dardır.
D) Ulaşım olanakları zordur.

129) (2020 İOKBS)

Karadeniz iklimi ile ilgili aşağıdakilerden hangisi söylenbilir?

- A) Pamuk üretimine uygundur.
B) Yaz mevsimi sıcak ve kuraktır.
C) Genel bitki örtüsü bozkırdır.
D) Her mevsim yağışlıdır.

130) (2020 İOKBS)

Akarsular tarafından derince yarılmış çevresine göre yüksekte olan geniş düzlüklere ne ad verilir?

- A) Vadi B) Ova
C) Plato D) Dağ

KAZANIMLARA GÖRE BURSLULUK SINAVI SORULARI

131) (2020 İOKBS)

Fiziki haritada kullanılan yeşil, sarı, kahverengi gibi renkler ve tonları aşağıdakilerden hangisini gösterir?

- A) İklim türlerini
- B) Yükselti basamaklarını
- C) Yeraltı kaynaklarını
- D) Bitki örtüsünü

132) (2021 İOKBS)

Ülkemiz kuzey yarım kürede yer aldığı için dağların kuzey yamaçları soğuk, güney yamaçları ise sıcak olmaktadır.

Aşağıdakilerden hangisi bu durumun sebebidir?

- A) Yükselti
- B) Bakı
- C) Dağların uzanış yönü
- D) Denizellik ve karasallık

133) (2021 İOKBS)

Ankara'da yaşayan Veysel, yaz tatilinde Rize'de çay tarımı ile uğraşan amcasının yanına gitmiştir. Burada bol yağışın olduğunu, ormanların geniş yer tuttuğunu, yaylacılık faaliyetlerinin ve büyükbaş hayvancılığın yapıldığını gözlemlemiştir.

Buna göre Veysel'in gittiği Rize ve çevresinde hangi iklim tipi görülmektedir?

- A) Akdeniz
- B) Karadeniz
- C) Karasal
- D) Muson

134) (2021 İOKBS)

- Yazları sıcak ve kurak, kışları ılık ve yağışlıdır.
- Yağışlar daha çok kış mevsiminde görülür.
- Kar yağışı nadiren görülür.
- Bitki örtüsü makidir.
- Güneşli gün sayısı fazla olduğu için deniz turizmi gelişmiştir.

Verilen özellikler ülkemizin hangi coğrafi bölgesine aittir?

- A) Karadeniz
- B) Akdeniz
- C) İç Anadolu
- D) Doğu Anadolu

135) (2022 İOKBS)

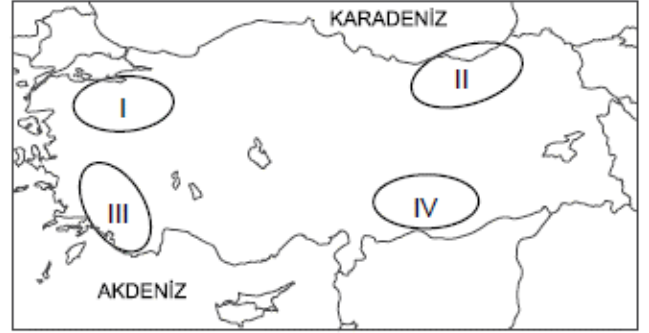
Aşağıdakilerden hangisi Türkiye'de farklı iklim tiplerinin görülmesinin nedenlerinden biri değildir?

- A) Yükseltinin batıdan doğuya doğru artması
- B) Çeşitli yer altı kaynaklarına sahip olması
- C) Üç tarafının denizlerle çevrili olması
- D) Yer şekillerinin engebeli olması

ÜLKEMİZİN BEŞERİ ÖZELLİKLERİ

136) (2017 İOKBS)

Ayşe sınıf arkadaşlarına tatilde Uzungöl'de bir pansiyonda kaldığını, Sümela Manastırı'nı gezdiğini, dünyaca ünlü Anzer balını tattığını söylemiştir.



Buna göre Ayşe, Türkiye haritasında numaralandırılmış yerlerden hangisine gitmiştir?

- A) I.
- B) II.
- C) III.
- D) IV.

137) (2019 İOKBS)

Beşerî coğrafya, insanların yeryüzünde yaptıkları değişimleri inceleyen bilimdir. Tarım, sanayi, ulaşım, turizm, nüfus, yerleşme ve kentleşme gibi insan faaliyetlerini inceler.

Buna göre aşağıdakilerden hangisi beşerî coğrafyanın konusu değildir?

- A) Bölgelerde görülen iklim türleri
- B) İnsanların geçim kaynakları
- C) Tarım faaliyetleri ve türleri
- D) Bölgelere göre nüfus dağılışı

138) (2019 İOKBS)

Ülkemizde büyükbaş hayvancılık faaliyetlerinin dağılımında yaz yağışlarının fazla olması, bitki örtüsünün gür çayır ve meralardan oluşması etkilidir.

Buna göre aşağıdaki yerlerin hangisinde büyükbaş hayvancılığın yaygın olması beklenir?

- A) Bursa
- B) İzmir
- C) Kars
- D) Aydın

139) (2020 İOKBS)

Aşağıdakilerden hangisi "beşerî coğrafya"nın inceleme konularından biridir?

- A) Karadeniz ormanlarındaki ağaç türleri
- B) Akdeniz kıyılarındaki turizm faaliyetleri
- C) Doğu Anadolu'nun iklim özellikleri
- D) Türkiye'deki yer altı kaynaklarının dağılışı

KAZANIMLARA GÖRE BURSLULUK SINAVI SORULARI

140) (2021 İOKBS)

Aşağıdakilerden hangisi nüfusun dağılışını etkileyen beşerî faktörlerden biridir?

- A) İklim özellikleri
- B) Yer şekilleri
- C) Sanayi faaliyetleri
- D) Toprak özellikleri

141) (2022 İOKBS)

Adana şehri;

- Türkiye'nin en verimli ovalarından biri olan Çukurova içindedir.
- Önemli limanlara yakın bir konumdadır.
- Dokumacılık alanında gelişmiştir.

Bu bilgilere göre, Adana'nın aşağıdaki ekonomik faaliyetlerden hangisi açısından elverişli olduğu söylenemez?

- A) Madencilik
- B) Sanayi
- C) Ticaret
- D) Tarım

142) (2022 İOKBS)

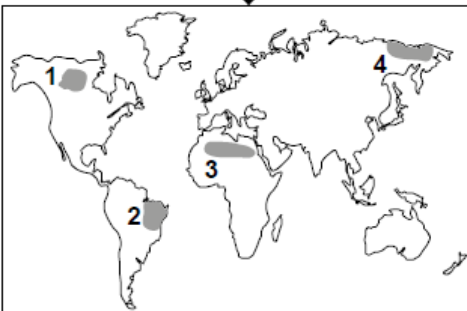
Türkiye'de taş kömürünün en fazla çıkarıldığı ve madenciliğin geliştiği il aşağıdakilerden hangisidir?

- A) Çanakkale
- B) Manisa
- C) Zonguldak
- D) Kahramanmaraş

İKLİMİN İNSAN YAŞANTISINA ETKİSİ

143) (2012 İOKBS)

Aşağıda verilen resim, haritada numaralandırılarak gösterilen alanlardan hangisiyle ilişkilendirilebilir?



- A) 1
- B) 2
- C) 3
- D) 4

144) (2013 İOKBS)

Rusya Federasyonu, Avrupa ve Asya kıtalarında toprakları olan bir devlettir. Yüzölçümü Türkiye'nin 22 katı büyüklüğünde olmasına rağmen nüfusu sadece 2 katıdır. Yüzölçümünün yarısına yakın kısmını kutup bölgesindeki donmuş topraklar oluştururken orta kısımlarında iklim sert karasal, güneybatısında ise ılımandır. Nüfusunun % 10'u tarımda çalışan ülke, dünya kereste rezervinin % 25'ine sahip ve enerji kaynakları (kömür, petrol, doğal gaz) bakımından da çok zengindir.

Rusya'da nüfus yoğunluğunun çok düşük olmasının temel sebebi aşağıdakilerden hangisidir?

- A) İki kıtada topraklarının olması
- B) Maden bakımından zengin olması
- C) Olumsuz iklim özelliklerine sahip olması
- D) Tarımda çalışan nüfusun az olması

145) (2014 İOKBS)

- Sıcaklık yıl boyunca 0°C'nin altındadır.
- Yağışlar az ve kar şeklindedir.
- Toprak sürekli don olduğu için bitki örtüsü yoktur.



Yukarıda verilen özellikler haritada taranarak numaralandırılmış yerlerin hangisinde görülür?

- A) I
- B) II
- C) III
- D) IV

146) (2015 İOKBS)

Geçim kaynakları, ulaşım araçları, giyinme ve beslenme gibi özelliklerin tümü yaşama şekillerini oluşturur.

Yaşam şekli üzerinde en belirleyici olan coğrafi özellik aşağıdakilerden hangisidir?

- A) Yer şekilleri
- B) İklim özellikleri
- C) Bitki örtüsü
- D) Yer altı kaynakları

KAZANIMLARA GÖRE BURSLULUK SINAVI SORULARI

147) (2017 İOKBS)



Haritada numaralandırılmış alanlardan hangisi seyrek nüfusludur?

- A) I. B) II. C) III. D) IV.

148) (2017 İOKBS)

“Yaşadığımız yerde yılın her ayı yağışlı ve sıcaktır. Bitkiler gür ve uzun boylu olduğundan gökyüzü neredeyse görünmez hâldedir. Bu nedenle etrafımızdaki ormanlara “balta girmemiş ormanlar” denir. Yabani hayvanların saldırısından ve selden korunmak için evlerimizi kazıklar üzerine inşa ederiz.”

Bunları söyleyen kişinin yaşadığı yerde hangi iklim tipi görülür?

- A) Muson B) Çöl
C) Karasal D) Ekvatorial

149) (2018 İOKBS)

“Yaşadığım yerde insanlar eskiden beri ulaşım için develeri kullanırlar. Develer çok sıcak ve kurak hava şartlarında su içmeden uzun mesafe kat edebilirler. Yolculuk sırasında yaşanabilen kum fırtınaları yönümüzü bulmamızı zorlaştırır.”

Bu kişinin yaşadığı yerde hangi iklim tipi görülmektedir?

- A) Çöl B) Muson
C) Kutup D) Ekvatorial

150) (2019 İOKBS)

“Yaşadığım bölgede toprak sürekli donmuş halde olduğu için bitki örtüsü yoktur. Bu yüzden tarım ürünleri yetiştirilemez. Avcılık ve balıkçılık önemli geçim kaynağımızdır. Kış aylarında buzdan ve balina kemiklerinden yapılmış evlerde yaşarız.”

Buna göre yukarıdaki ifadeleri kullanan kişinin yaşadığı yerde görülen iklim tipi hangisidir?

- A) Çöl B) Kutup
C) Muson D) Ekvatorial

151) (2020 İOKBS)

“Yaşadığım yer her gün sıcak ve bol yağışlıdır. Burada tropikal yağmur ormanları bulunmaktadır. Ormanların fazla olmasına bağlı olarak ahşap evler yaygındır. Ayrıca bu bölgede bol miktarda Hindistan cevizi, mango, kakao gibi tarım ürünleri yetiştirilmektedir.”

Bu kişinin yaşadığı yerde hangi iklim tipi görülmektedir?

- A) Ekvatorial B) Çöl
C) Kutup D) Karasal

152) (2022 İOKBS)

“Yaşadığım yerde soğuk hava şartları nedeniyle yıl boyunca kürklü ve kalın kıyafetler giyiniriz. Ayrıca buzdan yaptığımız iglo adı verilen evlerde barınarak soğuklardan korunuyoruz. Burada iklim özelliklerinden dolayı tarım yapamıyoruz. Ancak suların üzerindeki buzları kırıp balık avlayarak geçimimizi sağlıyoruz.”

Bu ifadeleri kullanan kişi, yaşadığı yerdeki iklimin aşağıdakilerin hangisine etkisinden söz etmemiştir?

- A) Konut tipine B) Ekonomik faaliyetlere
C) Ulaşım D) Giyilen elbiselere

KAZANIMLARA GÖRE BURSLULUK SINAVI SORULARI

4.ÜNİTE: BİLİM, TEKNOLOJİ VE TOPLUM

SOSYAL BİLİMLER VE TOPLUM

153) (2014 İOKBS)

I
Kazı vb. yöntemlerle ortaya çıkarılan eski kültür ve uygarlıkları, onlardan kalan maddi kalıntıları (her türlü alet, malzeme, ev eşyaları ve sanat yapıtları) inceleyen kazı bilimidir.

II
İnsan ırklarını, kalıntılarını, iskelet, kafatası gibi fiziki yapılarını inceleyen insan bilimidir.

Kutucuklardaki tanımlar, aşağıdakilerden hangisinde ilgili olduğu sosyal bilim dalıyla doğru olarak eşleştirilmiştir?

- | I | II |
|----------------|-------------|
| A) Arkeoloji | Antropoloji |
| B) Antropoloji | Sosyoloji |
| C) Psikoloji | Arkeoloji |
| D) Antropoloji | Arkeoloji |

154) (2015 İOKBS)

Yeni geldiğim bu okulda kendimi uzun süre yabancı hissettim. İnsanlarla konuşmakta zorlandım. Yanlış yaparım korkusuyla hiçbir şey yapamıyordum. Öğretmenlerim ve arkadaşlarımla desteğiyle okula alıştım.



Ayşe

Ayşe'nin yaşadıkları aşağıdaki sosyal bilimlerden hangisinin inceleme alanına girer?

- | | |
|--------------|--------------|
| A) Sosyoloji | B) Psikoloji |
| C) Hukuk | D) Ekonomi |

155) (2016 İOKBS)

"Büyük devletler kuran atalarımız, büyük ve kapsamlı uygarlıklara da sahip olmuştur. Bunu aramak, incelemek, Türklüğe ve dünyaya bildirmek bizler için bir borçtur. Türk çocuğu, atalarını tanıdıkça daha büyük işler yapmak için kendinde kuvvet bulacaktır."

ATATÜRK

Aşağıdaki bilim dallarından hangisiyle ilgili yapılan çalışmalar, Atatürk'ün bu sözünü destekler niteliktedir?

- | | |
|--------------|-------------|
| A) Astronomi | B) Coğrafya |
| C) Tarih | D) Hukuk |

156) (2018 İOKBS)

Atatürk, Türk tarihinin bilimsel yöntemlerle araştırılması ve bu konularda çalışmalar yapılması için Türk Tarih Kurumunun açılmasına öncülük etmiş ve çalışmalara bizzat katılmıştır.

Buna göre Atatürk'le ilgili aşağıdakilerden hangisi söylenebilir?

- A) Sosyal bilimlerin gelişmesine önem gösterdiği
- B) Ekonomik ve askerî gelişmelere öncelik verdiği
- C) Türk dilinin gelişmesi için çalıştığı
- D) Teknolojik gelişmeleri desteklediği

157) (2019 İOKBS)

Yapılan kazılar sonucunda Şanlıurfa'nın Örencik köyü yakınlarında dünyanın bilinen ilk tapınağı olan Göbeklitepe ortaya çıkarılmıştır.

Buna göre Göbeklitepe'nin ortaya çıkarılmasında aşağıdaki sosyal bilim dallarından hangisi etkili olmuştur?

- | | |
|--------------|--------------|
| A) Sosyoloji | B) Psikoloji |
| C) Filoloji | D) Arkeoloji |

158) (2021 İOKBS)

İnsanın duygu, düşünce ve davranışlarını inceleyen bilim dalı aşağıdakilerden hangisidir?

- | | |
|--------------|-------------|
| A) Biyoloji | B) Hukuk |
| C) Psikoloji | D) Coğrafya |

GELECEKTE YAŞAM

159) (2022 İOKBS)

Bilgisayar destekli üç boyutlu bir tasarım atölyesinde öğrenim gören öğrenciler; bilim ve sanat merkezi, teknoloji ve tasarım öğretmenleri koordinasyonunda hayal güçlerini kullanarak üç boyutlu çalışmaları hayata geçirmektedirler. Öğrencilerin bu çalışmalar kapsamında hazırladığı protez, doğuştan sol eli olmayan bir kişi tarafından kullanılmaya başlanmıştır. Protez eliyle bardak tutabilen, kapı açabilen, saçlarını tarayabilen, çantasını ve elbiselerini asabilen bu kişinin en büyük hayâlinin ise bisiklet kullanmak olduğu belirtilmiştir.

Buna göre, teknolojik çalışmalarla ilgili aşağıdakilerden hangisi söylenebilir?

- A) Ekonomik maliyeti oldukça yüksektir.
- B) İnsanlar tarafından ön yargı ile karşılanmaktadır.
- C) Öğrencilerin sosyal hayatlarını kısıtlamaktadır.
- D) İnsan hayatını birçok yönden kolaylaştırmaktadır.

KAZANIMLARA GÖRE BURSLULUK SINAVI SORULARI

KAZANIMLARA GÖRE BURSLULUK SINAVI SORULARI

1. B
2. C
3. D
4. D
5. A
6. A
7. C
8. D
9. C
10. A
11. B
12. A
13. D
14. A
15. B
16. C
17. D
18. A
19. B
20. A
21. C
22. D
23. C
24. B
25. A
26. A
27. D
28. C
29. C
30. D
31. B
32. D
33. A
34. C
35. C
36. D
37. B
38. A
39. B
40. D
41. B
42. C
43. A
44. D
45. B
46. C
47. A
48. D
49. A
50. D
51. B
52. C
53. A
54. D
55. C
56. D
57. B
58. D
59. B
60. A
61. B
62. C
63. D
64. A
65. A
66. B
67. C
68. D
69. C

70. A
71. B
72. B
73. B
74. D
75. C
76. D
77. D
78. A
79. C
80. B
81. C
82. A
83. C
84. D
85. C
86. B
87. C
88. D
89. C
90. B
91. A
92. A
93. A
94. D
95. D
96. C
97. C
98. A
99. C
100. A
101. A
102. A
103. B
104. C
105. A
106. B
107. A
108. D
109. C
110. B
111. A
112. A
113. A
114. C
115. A
116. C
117. A
118. D
119. A
120. C
121. B
122. B
123. A
124. C
125. B
126. C
127. D
128. B
129. D
130. C
131. B
132. B
133. B
134. B
135. B
136. B
137. A
138. C

139. B
140. C
141. A
142. C
143. C
144. C
145. B
146. B
147. C
148. D
149. A
150. B
151. A
152. C
153. A
154. B
155. C
156. A
157. D
158. C
159. D