




2023-2024 Eğitim-Öğretim Yılı
Şehit Üsteğmen Konuralp Özcan Ortaokulu
Sosyal Bilgiler Dersi 6.Sınıf 1.Dönem 2.Yazılı Yoklama Sınavı

Ad-Soyad:
Numara:
Sınıf:

Soru No	Sorular	Cevaplar
1	İlk Müslüman Türk Devletidir. Maveraünnehir bölgesinde kurulan bu devletin zamanında Kaşgarlı Mahmut tarafından Araplara Türkçe dilini öğretmek amacıyla Divan-ı Lügat'it Türk adlı eser yazılmıştır. Sözü edilen ilk Müslüman Türk devleti hangisidir?	
2	Bizans İmparatorluğu ile Büyük Selçuklu Devleti arasında 1071 yılında yapılan savaştır. Söz konusu savaştan sonra Anadolu'nun kapıları Türklere açılmıştır. Yukarıda anlatılan savaşın ismini yazınız.	
3	Hindistan'dan başlayıp İstanbul ve Doğu Akdeniz Limanlarında son bulan ticaret yolunun ismini yazınız.	
4	Türkiye'nin Matematik konumunu yazınız.	
5	 Dünyayı iki eşit parçaya ayıran, yaklaşık 40.000 km uzunluğundaki, kuzeyinde ve güneyinde 90'ar adet paralel bulunan hayali çizgiye verilen ismi yazınız.	
6	Akdeniz iklimin görüldüğü bölgelerde yetişen bitki örtüsüdür. Söz konusu bitki örtüsünün adını yazınız.	
7	 Yazları çok sıcak ve kurak, kışları kar yağışlı ve soğuk geçen bir iklimdir. Bitki örtüsü bozkırdır. Sözü edilen iklimi yazınız.	
8	Türkiye'de nüfusun yoğun olduğu şehirlerden 3 tanesini yazınız.	
9	 Türkiye'de yandaki haritada karalanmış bölgelerden yoğun nüfuslu yerlerin özelliklerini kısaca anlatınız.	
10	Yılın her günü çok sıcak ve kuraktır. Önemli bitki örtüsü kaktüslerdir. Genellikle karaların iç kısımlarında görülür. Sözü edilen iklimin adını yazınız.	