

1. “Aslında Türükler (Türkler), kendilerini “güçlüler” olarak adlandırmakta haklıydılar. Ülke şartları oldukça acımasızdı ancak buna uyanlar yaşayabilirdi. Çünkü bu bölge ortalama yükseltisi 1200 ile 1400 metre arasında değişen bir yayladır. Dağların yükseltisi ise 4000 metrenin üzerindedir. Büyük çöküntüler ve yüksekliklerden oluşur. Bölge çok az yağış almaktadır. Kışın şiddetli soğuklar olur, sıcaklık -50 0C’ye kadar düşer, akarsular ve göller donar.” (Jean Paul Roux, “Türklerin Tarihi Pasifikten Akdenize 2000 Yıl”, s.118)

Yukarıda Türklerin ilk yurdu ile ilgili verilen bilgilere göre aşağıdakilerden hangisine ulaşamayız?

- A) Kış mevsimleri şiddetli geçmektedir
- B) Ortalama yükseltisi fazladır
- C) Bölge bol miktarda yağış almaktadır
- D) Bölgede yaşam şartları oldukça zordur

2. Türklerin bilinen ilk yurdudır. Bölge batıda Hazar Denizi, doğuda Kingan Dağları, kuzeyde Altay Dağları, güneyde ise Tibet Platosu ve Hindukuş Dağları arasında yer alır.

Yukarıda boş bırakılan yere aşağıdakilerden hangisi gelmelidir?

- A) Güneydoğu Asya
- B) Orta Asya
- C) Anadolu
- D) Ortadoğu

3.



Yukarıda verilen fotoğrafta Türklerin yaşam tarzıyla ilgili hangi bilgiye ulaşamayız ?

- A) Temel geçim kaynakları tarımdır.
- B) Çadırlarda yaşamaktadırlar
- C) Hayvancılık faaliyeti yapmışlardır
- D) Konargöçer bir hayat tarzları vardır

4. Masmavi gökyüzünün örttüğü Avrasya'da Türkler, sayısız maceralar yaşadılar. Ekonomik ve siyasi sebeplerden dolayı bilinmeyen ufuklara doğru göç etmek zorunda kaldılar. Zorlandıkları anda sığındıkları "Gök" idi. Türkler mavi gökyüzünün altında devamlı mücadele ile geçen bir hayat sürdürdüler. Uçsuz bucaksız bozkırda yaşayan bir Türk için gökyüzü birbirini tamamlayan nesnelerden oluşuyordu. Gök aynı zamanda Türk'ün bütün evrenini çevreleyen çadır gibiydi. Gök kubbede karanlığı kovan güneş, ay ve yıldızlar vardı. O yüzden inandıkları yaratıcıya "Gök Tanrı" adını verdiler. Kök Türk Yazıtlarında Bilge Kağan, "Tanrı beni kağan olarak oturttu." diyerek bize Gök Tanrı inancı hakkında ipuçları verir. Türklere göre tanrı, mutlak güç sahibi, ulu ya da yüksek ve sonsuzdur. (Ahmet Taşağıl, "Kök Tengri'nin Çocukları" , s.18)

Yukarıda verilen paragrafa göre aşağıdakilerden hangisine ulaşamayız?

- A) Türkler çeşitli nedenlerden dolayı göç etmek zorunda kalmışlardır
- B) Türkler mücadeleyle geçen bir hayat sürmüşlerdir
- C) Türklerde çok tanrılı bir inanç vardır
- D) Türklere göre tanrı mutlak güç sahibidir

5. Türklerde ülkeyi kağan yönetirdi. Kağanlık, Türklere Tanrı tarafından verildiğine inanılan bir görevdi. Bu anlayış Kut olarak adlandırılmıştı. Kut'un kanda olduğuna ve kan yoluyla babadan oğula geçtiğine inanılırdı. Bu da hükümdar öldükten sonra hanedan üyelerinin taht üzerinde hak iddia etmelerine ve kağanlık mücadelesinin çıkmasına neden olurdu. Bu durum ülkenin zayıflamasına veya yıkılmasına yol açabilirdi. Devlet meclisi diyebileceğimiz toy (kurultay), kağanın başkanlığında yapılan boy beylerinin katıldığı toplantıydı. Devlet işlerinin görüşülüp karara bağlandığı toya kağanın eşi (hatun) de katılırdı.

Yukarıdaki bilgilere göre aşağıdakilerden hangisi çıkarılamaz?

- A) Türklerde ülkeyi yönetecek kişi seçimle belirlenmiştir
- B) Kardeşler arasındaki taht mücadeleleri ülkenin zayıflamasına yol açmıştır
- C) Devlet meselelerinin görüşüldüğü bir meclis vardır
- D) Ülke yönetiminde kağanın eşi de söz sahibidir

Tarihte bilinen ilk Türk devletidir. Devletin bilinen ilk hükümdarı Teoman'dır.

6. Yukarıda açıklaması verilen Türk devleti aşağıdakilerden hangisidir?

- A) Göktürk Devleti
- B) Uygur Devleti
- C) Avrupa Hun Devleti
- D) Asya Hun Devleti

7. Altay ve Orhun bölgesinde yapılan arkeolojik kazılarda giyim eşyalarına, halı ve kilim örneklerine rastlanmıştır.

Yukarıda verilen açıklamaya göre Türklerle ilgili hangi ekonomik faaliyetle uğraştıkları çıkarılabilir?

- A) Tarımsal B) Dokumacılık
C) Madencilik D) Ticaret

8. Aşağıdaki doğru yanlış sorularını cevaplarken doğru olan cümlelere (D) yanlış olan cümlelere (Y) işaretleyiniz.(Her soru 2 puandır)

Doğru/Yanlış	Soru Cümleleri
D	Türk adıyla kurulan ilk devlet Göktürklerdir
Y	Türkler yerleşik bir hayat tarzı yaşamışlardır
D	Çinliler Türklere saldırmak amacıyla Çin Seddi'ni yapmışlardır
D	İlk Türk devletlerinde ölümler kurgan adı verilen mezarlara gömülürdü
Y	İslamiyet'in kabulünden önce Türklerde çok tanrılı anlayış vardı

Yukarıda verilen yazılıya giren 6.sınıf öğrencisi Yavuz, bu sorulara yukarıdaki gibi cevaplar vermiştir. **Yavuz, verdiği bu cevaplarla doğru yanlış sorularından aldığı puan aşağıdakilerden hangisinde doğru verilmiştir?**

- A) 8 B)6 C)4 D)2

9. İslamiyet'in kabulünden önceki Türk devletlerinde saray, tapınak gibi eserlere pek rastlanmazdı

Bunun temel sebebi aşağıdakilerden hangisidir?

- A) Hayvancılık faaliyetiyle uğraştıklarından
B) Sağlam eserler yapmadıklarından
C) Savaşçılık özellikleri olduğu için
D) Konargöçer bir hayat yaşadıkları için

10. Türkler, ölen kahramanlarının mezarları başına hayattayken yendiği ve öldürdüğü düşmanlarının heykellerini dikerlerdi. Çünkü öldürdükleri kişilerin diğer dünyada kendilerine hizmet edeceği inancındaydılar

Yukarıda açıklaması verilen mezar başlarındaki heykellere ne ad verilirdi?

- A)Balbal
C)Kopuz
B)Kurgan
D)Anıt

11. “Ey hükümdar! Biz cahiliye zihniyetine sahip bir kavimdik. Putlara tapar, ölü hayvan eti yer, akrabalık bağlarına riayet etmez, komşularımıza kötülük ederdik, güçlü olanlarımız zayıfları ezerdi.” (İslam Ansiklopedisi, TDV Yayınları, c.7, s.18)

Hz. Cafer’in bu sözlerini dikkate aldığınızda İslamiyet’ten önce Arap Yarımadası’nın sosyal durumu hakkında aşağıdakilerden hangisi söylenemez?

- A) Akrabalık bağları güçlü değildir
B) Çok tanrılı inanış vardır
C) İnsanlar birbirlerine kötü davranırlardı
D) Komşuluk haklarına önem verilmiştir

12. I. Müslümanlarla Mekkeli müşrikler arasında yapılan ilk savaş

II. Peygamberimizin yaralandığı, Amcası Hz. Hamza’nın şehit düştüğü savaş

III. Mekkeli müşriklerin son saldırı savaşı

Buna göre

- a) Uhud
b)Hendek
c) Bedir

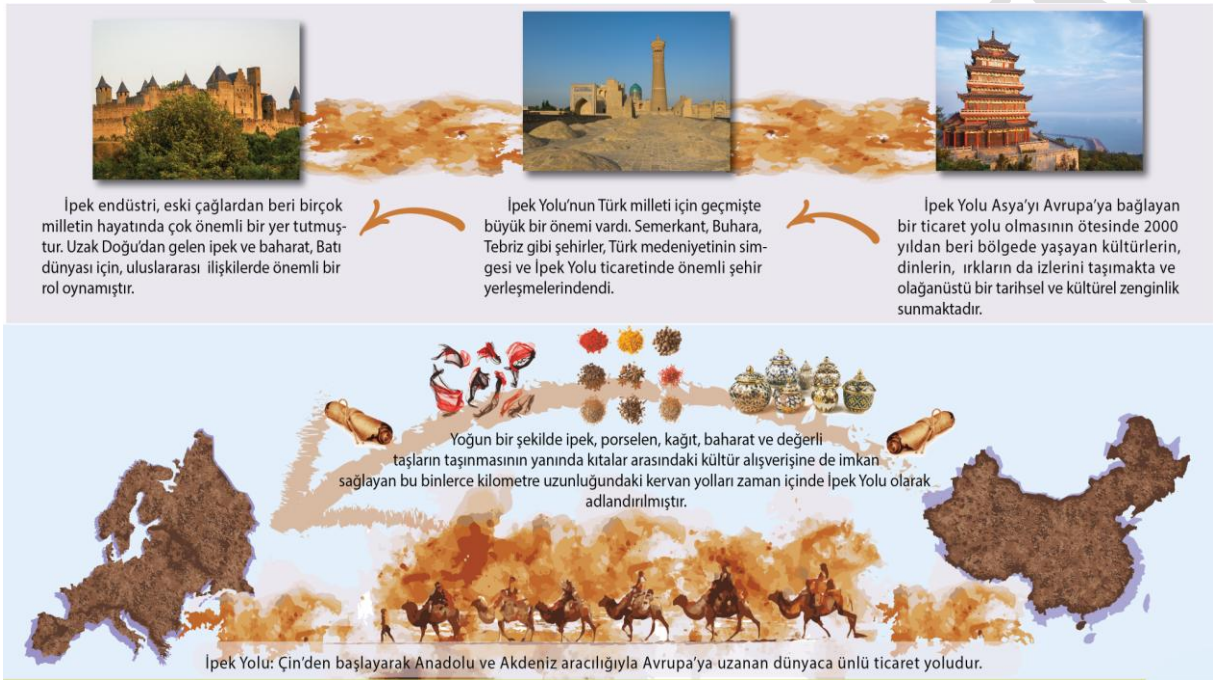
eşleştirildiğinde hangisi doğru olur?

	<u>I</u>	<u>II</u>	<u>III</u>
A)	a	b	c
B)	b	a	c
C)	c	b	a
D)	c	a	b

13. I. Hz. Ömer
II. Hz. Osman
III. Hz. Ali
IV. Hz. Ebubekir

Peygamberimizin vefatından sonra göreve gelen halifelerin kronolojik sıralaması aşağıdakilerden hangisidir?

- A) I - II - III - IV
B) II - IV - I - III
C) IV - I - II - III
D) III - I - II - IV



14. Yukarıda verilen İpek Yolu ile ilgili grafiğe göre aşağıdakilerden hangisine ulaşılamaz?

- A) İpek Yolu Doğu ile Batı arasındaki ilişkilerde önemli bir rol oynamıştır
B) İpek Yolu'nda sadece ipek ticareti yapılmıştır
C) İpek Yolu'nun geçmişte Türk milleti içinde büyük önemi vardı
D) İpek Yolu ekonomik ticaretin yanında kültürel bir zenginlikte sunmaktadır

15.

	İslamiyet'ten Önce		İslamiyet ile Birlikte
a	Putlara taparlardı.	I	Toplumsal birlik, huzur ve güven sağlandı.
b	Okuma yazma yaygın değildi.	II	Eğitim alanında gelişmeler sağlandı.
c	Kabile savaşları ve kan davaları yaygındı.	III	Allah'ın birliği inancı hâkim oldu.
d	Kadına önem verilmezdi.	IV	Cinsiyet alanındaki haksızlıklara son verildi.

Yukarıda verilen tabloda İslamiyet'ten önceki ve İslamiyet ile birlikte gelen değişim eşleştirildiğinde aşağıdakilerden hangisi doğru olur?

	<u>a</u>	<u>b</u>	<u>c</u>	<u>d</u>
A)	I	IV	III	II
B)	IV	III	II	I
C)	II	I	IV	III
D)	III	II	I	IV

16. Türklerin İslamiyet'i kabul etmelerinin nedenleri arasında birçok faktör etkili olmuştur.

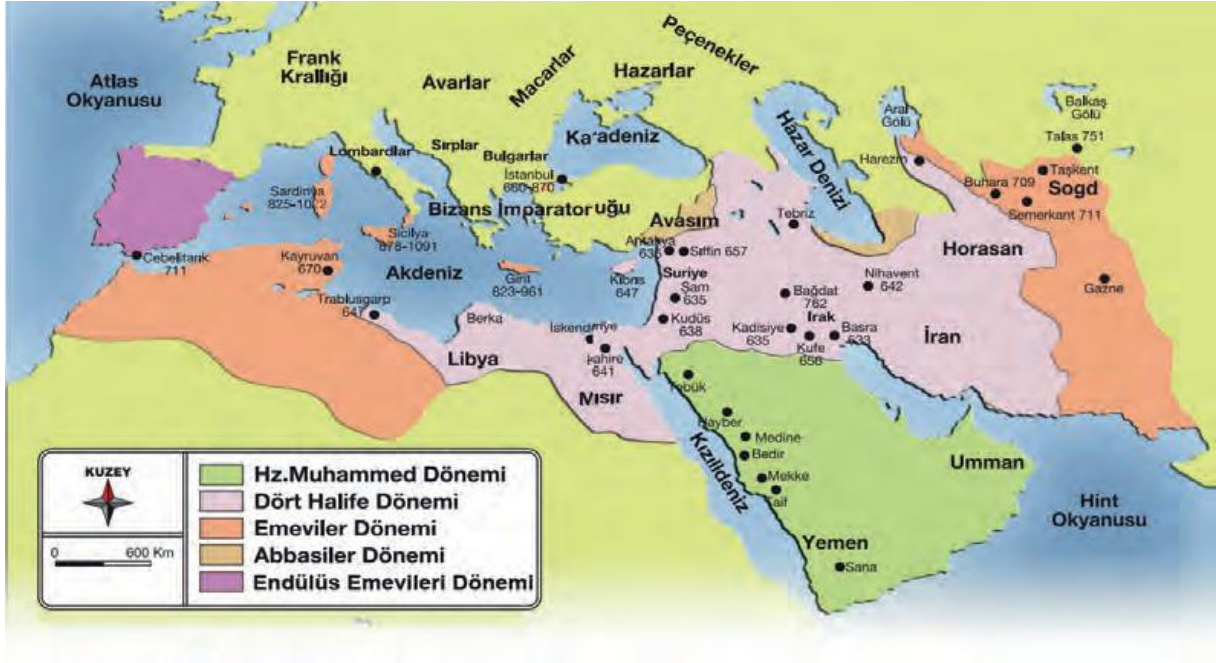
Aşağıdakilerden hangisi bu faktörlerden birisi değildir?

- A) Gök Tanrı inancıyla İslamiyet arasındaki benzerlikler
- B) Türklerdeki Cihan hakimiyetiyle İslamiyet'teki Cihat anlayışının birbirine benzemesi
- C) Emevilerin Arapları üstün tutan ırkçı politikaları
- D) Türklerin de ölümden sonra hayata inanmaları

17. Türklerin İslamiyet'i kabulü ile birlikte yönetim alanında da bazı değişiklikler olmuştur.

Aşağıdakilerden hangisi bu değişikliklerden birisi değildir?

- A) Ülkeyi yönetme yetkisi seçimle belirlenmeye başlandı
- B) Hükümdarlar İslami isim ve unvanlar aldılar.
- C) Devlet meseleleri divan adı verilen mecliste görüşülmeye başlandı
- D) Hükümdarlar halife tarafından onaylanmaya başlandı.



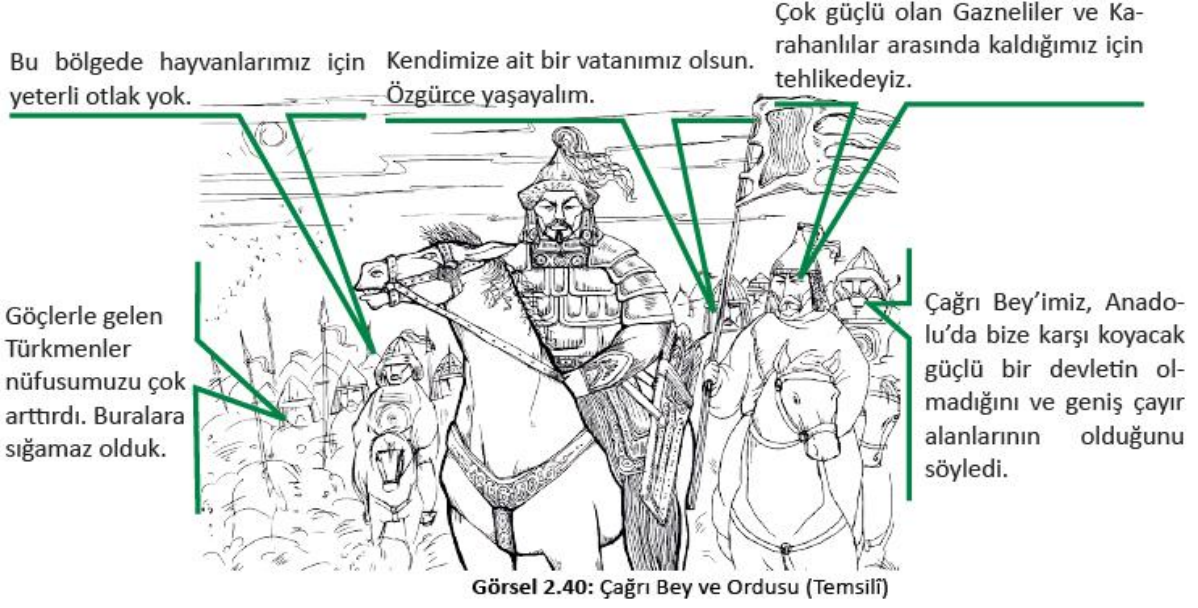
18. Yukarıda verilen haritaya göre aşağıdakilerden hangisi çıkarılamaz?

- A) Emevilerin ırkçı politikası sonucu sınırlar fazla genişlememiştir.
- B) Peygamberimiz döneminde Arap Yarımadası'nda İslamiyet yayılmıştır
- C) İslamiyet'in sınırları Avrupa kıtasına kadar yayılmıştır
- D) Abbasiler Dönemi'nde Avasım adı verilen sınır şehirleri oluşturulmuştur

Kaşgarlı Mahmud tarafından Abbasi halifesine sunulan eser, Araplara Türk dilini öğretmek amacıyla yazılmış önemli bir eserdir. Kitapta Bizans sınırından Çin sınırına kadar çeşitli Türk topluluklarının lehçelerinden örnekler verilmiştir. Türklerin yaşadığı coğrafyaya, ekonomisine, sosyal hayatına ve inançlarına ait önemli bilgiler içerir. Ayrıca Türk dünyasını gösteren bir harita bulunur.

19. Yukarıda açıklaması verilen Kaşgarlı Mahmud tarafından yazılan bu eserimizin adı nedir?

- A) Kutadgu Bilig
- B) Dîvânü lugâtî't-Türk
- C) Divan-ı Hikmet
- D) Atabetü'l Hakâyık



20. Yukarıda Çağrı Bey ile ordusu arasında geçen konuşmaya göre Türklerin yeni yurt arayışının nedenleri arasında aşağıdakilerden hangisi gösterilemez.

- A) Göçlerle gelen nüfus artışı
- B) Özgür ve bağımsız bir şekilde yaşama isteği
- C) Fethedecekleri yerlerin zenginliklerini ele geçirmeyi amaçlamaları
- D) Güçlü devletler arasında tehlikeli bir durumda kalmaları

CEVAPLAR:

1.C

2.B

3.A

4.C

5.A

6.D

7.B

8.A

9.D

10.A

11.D

12.D

13.C

14.B

15.D

16.C

17.A

18.A

19.B

20.C