

Adı:	CUMHURİYET ORTAOKULU	
Soyadı:	2017 - 2018 EĞİTİM ÖĞRETİM YILI	
Sınıf:6/ No:	SOSYAL BİLGİLER 6.SINIF II. DÖNEM II. SINAV	

1-)



Yukarıdaki tabloda yönetim biçimi ve özelliklerinin doğru eşleştirilmesi için aşağıdaki hangi ikisinin yer değiştirmesi gerekir?

- A) I - II                      B) I - III  
C) II - III                    D) II - IV

2-)




Çocuklar, meslek seçimlerinde dikkatli olmalıyız. Her meslek grubunun bilgi, beceri ve kişilik özellikleri farklıdır. Bunun için .....

Öğretmenin anlattıklarına göre, cümlesini aşağıdakilerden hangisi ile tamamlamış olamaz?

- A) Yetenek ve ilginize göre meslek seçmelisiniz.  
B) Kişilik özelliklerinizle, seçilen meslek uyumlu olmalıdır.  
C) Kazancı en yüksek olan mesleği seçmelisiniz.  
D) Kişilik özelliklerinize uygun kendi seçtiğiniz bir mesleğin eğitimini görmelisiniz.

3-)

### İhracat Ürünlerimiz



Türkiye'nin ihraç ettiği (sattığı) ürünleri taşıyan trenin vagonunda, aşağıdakilerden hangisi bulunmaz?

- A) Petrol ve doğalgaz  
B) Tekstil ürünleri  
C) Sebze, meyve ürünleri  
D) Mobilya ürünleri

4-) Aşağıdaki haklardan hangisi güvence altına alınmazsa diğer hakların bir anlamı olmaz?

- A) Eğitim hakkı  
B) Konut dokunulmazlığı  
C) Yaşama hakkı  
D) Özel yaşamın gizliliği

5-) Aşağıda ülkemizde yapılan bazı hayvancılık faaliyetleri gösterilmiştir.



Verilen hayvancılık faaliyetleri aşağıdaki bölgelerden hangisinde, sırasıyla daha yoğun yapılmaktadır?

	Küçükbaş	İpek Böceği	Büyükbaş
A)	Ege	Karadeniz	İç Anadolu
B)	Karadeniz	İç Anadolu	Akdeniz
C)	İç Anadolu	Marmara	Doğu Anadolu
D)	Marmara	Akdeniz	Karadeniz

6-) ◇ Geniş ve verimli ovalar

- Dağlık ve yüksek alanlardaki gür otlaklar  
■ Deniz ve kumsallara sahip yerler

Yukarıda sembollerle gösterilen yerlerde yapılabilecek ekonomik faaliyetler hangi seçenekte doğru olarak verilmiştir?

	◇	●	■
A)	Turizm	Tarım	Hayvancılık
B)	Tarım	Ticaret	Hayvancılık
C)	Hayvancılık	Turizm	Tarım
D)	Tarım	Hayvancılık	Turizm

7-Aşağıdakilerden hangisinin, ormanların yararları arasında olduğu söylenemez?

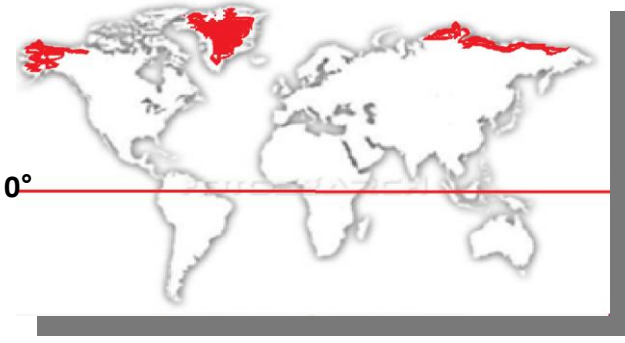
- A) Erozyonu ve heyelanı önler  
B) Meyve üretimi sağlar  
C) Depremi önler  
D) Mobilya ürünleri yapılır.

8-) Cumhuriyet, halkın kendisini yöneteceği kişiyi kendisinin seçmesi demektir.

Ülkemizde Cumhuriyet yönetimi ne zaman ilan edilmiştir?

- A) 23 Nisan 1920                      B) 29 Ekim 1923  
C) 29 Ekim 1920                      D) 10 Kasım 1938

9-)



Yukarıdaki haritada nüfusun az olduğu alanlar karalanmıştır.

**Aşağıdakilerden hangisi bu yerlerin nüfusunun az olmasının temel nedenidir?**

- A) İklimin elverişsiz ve soğuk oluşu
- B) Sanayinin gelişmemesi
- C) Yer şekillerinin uygun olmaması
- D) Tarımın gelişmemesi

**10-) Ulaşım, eğitim, sağlık, alt yapı ve güvenlik gibi hizmetlerin devlet tarafından insanların yararına sunulması ve bu hizmetlerden bize ulaşması için her vatandaşın üzerine düşen vatandaşlık görevimiz aşağıdakilerden hangisidir?**

- A) Askerlik yapmak
- B) Kanunlara uymak
- C) Oy kullanmak
- D) Vergi vermek

11-)

Dünya rezervleri bakımından Türkiye birinci sıradadır.

Roket yakıtından fotoğrafçılığa kadar bir çok alanda kullanılmaktadır.

Balıkesir, Bursa, Kütahya ve Eskişehir çevresinde çıkarılmaktadır.

**Hakkında yukarıdaki bilgiler verilen maden aşağıdakilerden hangisidir?**

- A) Demir
- B) Bor
- C) Civa
- D) Mermer

**12-) Orta Asya'nın coğrafi yapısı oradaki Türk Devletleri'nin yaşam biçimini etkilemiştir.**

**Aşağıdakilerden hangisi buna örnek olarak gösterilemez?**

- A) Göçebe yaşamları
- B) Savaşçı yapıları
- C) Hayvancılığa ağılık vermeleri
- D) Sanatla uğraşmaları

14-)

Medrese(okul)



Cami



Kervansaray



Yukarıdaki görsellerde ilk Müslüman Türk devletlerine ait mimari eserler verilmiştir.

**Verilen mimari eserlerin ilgili oldukları alanlarla doğru eşleştirildiği seçenek aşağıdakilerden hangisidir?**

	Medrese	Cami	Kervansaray
A)	Din	Ticaret	Eğitim
B)	Eğitim	Din	Ticaret
C)	Ticaret	Din	Eğitim
D)	Eğitim	Ticaret	Din

15-)



Ben, Babil Kralı Hammurabi'yim. cezaları artırdım ve ilk anayasayı yaptım. Göze göz diş diş yani kısasa kısas kuralını uygulayarak kim suç işlediyse aynısını ona uyguladım.

**Buna göre Hammurabi'nin sert cezalar içeren hukuk kurallarını benimsemesinin nedeni nedir?**

- A) Ticareti geliştirmek
- B) Orduyu güçlendirmek
- C) Merkezî otoriteyi kurma ve düzeni sağlamak
- D) Tarımsal üretimi artırmak

**16-) Mobilya fabrikası kurmayı planlayan bir işadımı, ormanların çok olduğu bir bölgede yani ham madde kaynağına yakın olan yerler aramaktadır.**

**Buna göre iş adamı hangi şehre mobilya fabrikası kuramaz?**

- A) Rize
- B) Trabzon
- C) Giresun
- D) Nevşehir

**17-)Aşağıda verilenlerden hangisi Türkiye'nin konumuna ait bir özelliktir?**

- A) Güney yarım kürede yer alır.
- B) Atlas okyanusununsa kıyısı vardır.
- C) Büyük Okyanus kıyısındadır.
- D) Kuzey Yarım Küre'de yer alır

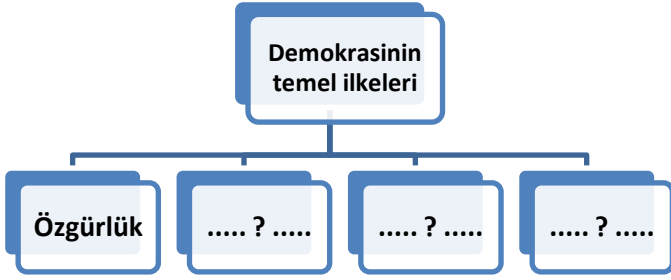
18-) Aşağıdaki sözleşme ve bildirilerden hangisi insan haklarından bahsetmez?

- A) Veda Hutbesi - Hz. Muhammed
- B) Manga Carta - İngiltere
- C) Kanunname - Kanuni Sultan Süleyman
- D) Ekonomik İşbirliği Sözleşmesi - Avrupa

19.)Aşağıdakilerden hangisi İnsan Hakları Evrensel Bildirgesi içinde yer alan bir madde olamaz?

- A) Bütün İnsanlar özgürdür ve eşittir.
- B) Hiç kimsenin işkence yapma ve incitme hakkı yoktur.
- C) Güçlü kimseler devlet imkanlarından daha çok yararlanır.
- D) Herkesin düşündüğünü söyleme ve bilgi alıp vermeye hakkı vardır

20.)



Yukarda ? işaretli yerlere aşağıdakilerden hangisi yazılamaz?

- A) Eşitlik
- B) Katılımcılık
- C) Çoğulculuk
- D) Bir kişinin egemenliği

21-) Aşağıda verilen yerlerin haritaları aynı boyutta olan dört ayrı kâğıda (tam sığacak biçimde) aynı ölçekle çizilirse hangi harita daha ayrıntılı görünür?

- A) Türkiye
- B) Konya İli
- C) Asya Kıtası
- D) İç Anadolu Bölgesi

22.)Aşağıdaki ülkelerden hangisi Türkiye ile ithalat veya ihracatta ilk 5 sırada bulunmaz?

- A) Almanya
- B) Rusya
- C) Şili
- D) Çin

23.)

- İngiltere kralı Küçük John tarafından imzalanmıştır.
- Bir Kral ilk defa yetkilerini sınırlandırmıştır.
- MS 1215 yılında İngiltere’de kabul edilmiştir.
- Büyük Şart anlamında gelmektedir.

Yukarıda özellikleri verilen ve demokrasinin ilk adımlarından sayılan olay aşağıdakilerden hangisidir?

- A) Magna Carta Libertatum
- B) İnsan Hakları Evrensel Bildirgesi
- C) Fransız İnsan ve Yurttaş Hakları Bildirgesi
- D) Veda Hutbesi

B-Aşağıdaki sorular “BOŞLUK DOLDURMA” sorularıdır. Boş bırakılan yere uygun olan sözcükleri, kavramları yazınız.

(8 PUAN)

Fransız / Din / İthalat / İhracat / Veda Hutbesi  
Asya Hunları / Göktürkler / Karahanlılar

1-) Bir ülkenin başka ülkelere mal satmasına ..... denir.

2-) .....Hz. Muhammed’in Mekke’de insan hakları ve kadın hakları konusunda Müslümanlara verdiği öğütlerdir.

3-) .....İhtilalı’ndan sonra Kral devrildi Cumhuriyet kuruldu. Demokrasi yönetimi tüm dünyada yaygınlaştı.

4-) Teokrasi, devletin ..... kurallarına göre yönetilmesidir.

5-) Bir ülkenin başka ülkelere mal almasına..... denir.

6) İlk Müslüman Türk devleti.....

7-) Tarihte Türk adıyla kurulan ilk devlet.....

8-) Orta Asya’da kurulan ilk Türk devleti.....

TEST SORULARI 23X4=92 PUANDIR.

DOĞRU YANLIŞ 8 X1=8 PUANDIR.

Ömer ÖZTÜRK  
SOSYAL BİLGİLER ÖĞRETMENİ  
BAŞARILAR DİLERİM.