

6.
SINIF



T.C.
MİLLÎ EĞİTİM BAKANLIĞI

A
KİTAPÇIK TÜRÜ

PARASIZ YATILILIK VE BURSLULUK SINAVI (GÖRME ENGELLİLER)
9 HAZİRAN 2013 **Saat: 10.00**

DERS ADI	SORU SAYISI	TOPLAM SORU SAYISI	SINAV SÜRESİ (DAKİKA)
TÜRKÇE	25	100	120+30=150
MATEMATİK	25		
FEN ve TEKNOLOJİ	25		
SOSYAL BİLGİLER	25		

SALON GÖREVLİLERİNİN DİKKATİNE!

1. Salon görevlisi olarak sınav başlamadan önce, özel eğitime ihtiyacı olan öğrenciler için hazırlanan uygulama kılavuzunu okuyarak, belirtilen açıklamalar doğrultusunda hareket ediniz.
2. Öğrenciyi, sınav başladıktan sonra ilk 30 dakika dolmadan dışarı çıkarmayınız.
3. Öğrencinin, sınav sırasında sözlük, hesap makinesi, saat fonksiyonu dışında özellikleri bulunan saat veya çağrı cihazı, cep telefonu, telsiz, radyo ve bilgisayar özelliği bulunan elektronik cihazları yanında bulundurmasına izin vermeyiniz. Bu araçları kullanması veya kopya çekmeye teşebbüs etmesi hâlinde sınavının geçersiz sayılacağını hatırlatınız.
4. Sınavla ilgili soruları ve sorulara verdiği cevapları not etmeyiniz, ettirmeyiniz.
5. Öğrenci, geçerli kimlik belgesini ibraz edemediği durumda sınava almayınız.

CEVAP KÂĞIDI VE SORU KİTAPÇIĞI İLE İLGİLİ AÇIKLAMALAR

1. Cevap kâğıdındaki bilgilerin doğruluğunu kontrol ediniz ve cevap kâğıdını öğrenciye imzalattırınız.
2. Cevap kâğıdındaki bilgiler öğrenciye ait değilse veya cevap kâğıdı kullanılmayacak durumdaysa Bina Sınav Komisyonundan temin edeceğiniz yedek cevap kâğıdına öğrencinin kimliğiyle ilgili bilgileri yazınız ve kodlayınız.
3. Cevap kâğıdı üzerindeki kodlamaları kurşun kalemle yapınız.
4. Öğrencinin değiştirmek istediği bir cevabı, yumuşak silgiyle cevap kâğıdını örselemeden temizce siliniz ve yeni cevabını kodlayınız.
5. Kitapçık türünü cevap kâğıdındaki ilgili alana kodlayınız. Bu kodlamayı yapmadığınız veya yanlış yaptığınız takdirde öğrencinin sınavının değerlendirilmesi doğru yapılamayacaktır.
6. Cevap kâğıdında **Türkçe, Matematik, Fen ve Teknoloji ve Sosyal Bilgiler** testleri için dört ayrı sütun bulunmaktadır. Öğrencinin doğru cevap olarak kabul ettiği seçeneği, cevap kâğıdının ilgili sütununa aynı soru numarasını dikkate alarak yuvarlağın dışına taşırmadan kodlayınız.
7. **Soru kitapçığı üzerinde yapılan cevaplandırmalar dikkate alınmayacaktır.**
8. Soru kitapçığının sayfalarını kontrol ediniz, baskı hatası var ise değiştirilmesini sağlayınız.
9. Cevabını bilmediği sorular üzerinde fazla zaman kaybetmeden diğer sorulara geçmesi için öğrenciyi uyarınız. Zamanı kalırsa bu sorulara daha sonra dönebileceğini hatırlatınız.
10. Puanlama; her test için yanlış cevap sayısının **üçte biri, doğru cevap sayısından çıkarılarak** elde edilecek geçerli cevaplar üzerinden yapılacağı için öğrencinin cevap kâğıdı üzerinde rastgele cevaplama yapma isteğinde bulunması hâlinde kendisini uyarınız.
11. Öğrenciye, sınavın bitiminden bir saat sonra kitapçığını okul yetkililerinden alabileceğini hatırlatınız.

BAŞLAYINIZ DENİLMEDEN SORU KİTAPÇIĞINIZI AÇMAYINIZ.

1. Evdeki tahta eşyalar, sıcaklığın da etkisiyle çatırdıyordu. Bazen bu sesler kısa bir patlama hâlini alıyordu. O ise bir şeylerin kırılmış olduğu düşüncesiyle uykusundan uyanıp bu çatırtılara kulak veriyor ama duyduklarına bir anlam veremiyordu.

Bu parçadaki altı çizili kelime grubunun anlamı aşağıdakilerden hangisidir?

- A) Aynı şeyi dinlemekten usanmak
B) Belli etmemeye çalışarak dinlemek
C) Merak edip dinlemek, işitmeye çalışmak
D) Konuşulanları duymak için bütün dikkatini toplamak

2. Aşağıdaki cümlelerin hangisinde, zıt anlamlı sözcükler bir arada kullanılmıştır?

- A) Beyaz gömleğinin üzerindeki siyah mürekkep lekesi, küçük olmasına rağmen dikkat çekiyordu.
B) Halat gitgide boşalıyor, gemi sola doğru hafif hafif yatıyordu.
C) Kulak tırmalayan bir gürültü patırtı ile merdivenlerden indiler.
D) Ben lafımı bitirmeden söze girmeyi alışkanlık hâline getirmişti.

3. Yeteneklerin en değerli olanı, bir sözcüğün yettiği yerde iki sözcük kullanmamaktır.

Bu cümleyle göre “yeteneklerin en değerlisi” aşağıdakilerden hangisidir?

- A) Kelimeleri doğru telaffuz edebilmek
B) Sözcükleri kendi anlamında kullanabilmek
C) Kendini ifade etmek için duygularla kelimeler arasında bağ kurabilmek
D) Bir konuyu az kelimeyle özlü bir şekilde anlatabilmek

4. (1)Hakan, yüz voltluk lambanın tam altında oturuyordu. (2)Ali ise gösteriye hazırlanan bir kuklacı gibi ayakta dikilmişti. (3)Tek kelime etmeden Hakan’a bakıyordu. (4)Bense, can sıkıcı sessizliği bozmak için konuşmaya çalışıyordum.

Bu parçadaki numaralandırılmış cümlelerden hangileri nesneldir?

- A) 1 - 2 B) 1 - 3 C) 2 - 3 D) 2 - 4

5. (1)Oturdukları masadan kalktılar. (2)Ayşe; onun konuşmasını beklemiş gibi susuyor, ona bakıyordu. (3)Ne var ki Ahmet’in düşünceleri, bahçeyi görünce yayladaki evini çevreleyen cılız çayirlara doğru uçup gitti. (4)Orada da güneşli günler yakın olmalıydı. (5)Çünkü cesur küçük bitkiler, çakıllar arasından kafalarını uzatmaya başlamışlardı.

Bu parçada hangi cümleler arasında neden-sonuç ilişkisi vardır?

- A) 1 - 2 B) 2 - 3 C) 3 - 4 D) 4 - 5

6. Öğle güneşi yükselirken şehrin insanları, sokaklarda görünmeye başladı.

Bu cümledeki altı çizili ifade bir hikâyenin hangi ögesi olabilir?

- A) Olay B) Yer
C) Zaman D) Şahıs

7. “İnternet (Genel Ağ) de bazen bir örümcek ağı gibi engelleyici olabilir. Bu yüzden Genel Ağ’ı doğru kullan, ağına takılma.”

Bu sözde aşağıdaki sanatlardan hangisi vardır?

- A) Kişileştirme B) Abartma
C) Benzetme D) Konuşturma

8. Prizren, Osmanlı kültür mirasını ve etnik çeşitliliğini koruyabilen nadir şehirlerden biri. Yaklaşık 165.000 nüfusa sahip şehrin çoğunluğunu Arnavutlar oluşturuyor. Kosova Türklerinin de yoğun olarak yaşadığı şehir kalesinin eteklerinde Bistrica Irmağı akıyor.

Bu metnin konusu aşağıdakilerden hangisidir?

- A) Kosova Türkleri
B) Prizren’in özellikleri
C) Arnavutların yaşamı
D) Osmanlı kültür mirası

9. (1)Dilimiz bilmeceleer yönünden zengindir. (2)Bu zenginlik, doğayla içli dışlı bir toplum oluşumuzdan gelir. (3)Doğadaki varlık ve nesnelere, onların özelliklerine yaslanan özgün bilmeceleer oluşturmuşuz. (4)Bunların dil yapılarına baktığımız zaman orijinal buluşlar, somutlaştırma ve karşılaştırmalar ile güçlü bir anlatım görürüz.

Numaralandırılmış cümleleerden hangisi, bu metnin ana fikridir?

- A) 1 B) 2 C) 3 D) 4

10. Bu gök, bu toprak, bu deniz,
Nerde var bu güneşli iz?
Hiçbir şey yok senden aziz,
Sana bin canla kurbanım!..

Halide Nusret Zorlutuna

Bu dörütlüğün ana duygusu aşağıdakilerden hangisidir?

- A) Geçmişe özlem B) Vatan sevgisi
C) Endişe D) Umut

11. Alışkanlık pek yaman bir hocadır ve hiç şakası yoktur. Yavaş yavaş, gizli gizli içimize ilk adımını atar; başlangıçta kuzu gibi sevimli, alçak gönüllüdür. Fakat zamanla oraya yerleşip kökleşti mi, öyle azılı öyle amansız bir yüz takınır ki kendisine yan gözle bakmamıza dahi izin vermez.

Bu paragraf aşağıdaki soruların hangisine cevap olarak söylenmiştir?

- A) Alışkanlık nedir, nasıl oluşur?
B) Neleri alışkanlık hâline getirmeliyiz?
C) Alışkanlıklar hangi yaşta ortaya çıkar?
D) Yararlı alışkanlıklar nasıl kazanılır?

12. Bir kez daha dürbünü o esrarlı noktaya doğru çevirdi, uzaktaki ışığı hedefledi, birkaç dakika baktı. Sonra dürbünü kaldırdı ve yıldızları incelemeye başladı. Görülecek bir şeydi, milyonlarca yıldız göğün her yanını kaplamıştı...

Konusu dikkate alındığında bu paragraf, aşağıdakilerin hangisiyle tamamlanmalıdır?

- A) Ertesi gün dürbünü elden ele geçirerek birlikte uzaktaki kaleye baktılar.
B) Kuzeydeki sisler; mevsime, rüzgâra ve ısı derecesine göre çoğalıyor ya da azalıyordu.
C) Ay doğmak üzereydi. Yine de doğuda belli belirsiz bir aydınlığın içinden yıldızları seyredebiliyordu.
D) Ancak bazı akşamlar inen sis, böyle bir şeyin varlığını ortaya çıkarıyordu.

13. Kilimi bir cennet gibi donatan ihtiyar neler yahut genç kızlar, yaptıkları işi seve seve yaparlar. Saygı da duyarlar işlerine ama bunu bizim ölçülerimizle tartmazlar. Yani “Bir sanat eseri ortaya koyduk, gelin ellerimizi öpün, bizi sırtınızda taşıyın, bize ayrı muamele edin.” gibi tavırlar takınmazlar. Bu cennet kilimi dokur; sonra da harmana, ekine, kuzularını koyunlarını beslemeye giderler. İşte biz, sanattan çok şey bekleyen şehirli sanatçılar... Bizim, köylümüzden alınacak çok büyük bir dersimiz var. Biz nereden çıkartıyoruz kendimizi üstün görmeyi?

Bu parçada aşağıdakilerin hangisine değinilmemiştir?

- A) Şehirli sanatçıların kendilerini üstün gördüklerine
B) Kilim dokuyanların işlerini severek yaptıklarına
C) Kilim dokuyanların bu işi oldukça iyi yapmalarına rağmen bununla övünmediklerine
D) Şehirli sanatçıların sanat eseri üretmenin dışında başka işlerle de ilgilendiklerine

14. 1. Bulutların dağılmasıyla gökyüzünün yedi rengi de beliriverdi birdenbire.
2. Büyükler, saçakların altlarına kaçarken çocuklar ıslanmak için gülerek koşuyorlardı.
3. Rüzgârla birlikte gri bulutlar, güneşin ışıklarına yol vermeye başladılar.
4. Gökkuşağının altından geçebilmek için birbirleriyle yarıştılar çocuklar bu sefer de.
5. Yağmur yüklü gri bulutlar her yeri kaplamıştı.
6. Gök gürültüsüyle birlikte sağanak da başladı.

Numaralandırılmış cümleler, olayların oluş sırasına göre nasıl sıralanmalıdır?

- A) 4, 2, 3, 1, 6, 5
B) 4, 5, 1, 6, 3, 2
C) 5, 4, 3, 2, 1, 6
D) 5, 6, 2, 3, 1, 4

15. Televizyonda Asya ülkeleriyle ilgili bir belgeselde Turfan kenti ve insanları tanıtılıyordu. Bu eski kentin deniz seviyesinin 78 metre altında olması ilgimi çekti. Burada yaşayan insanlarla geçmişten gelen bir yakınlığımız olduğunu bazı kelimelerden sezme beni iyice meraklandırdı... Turfan, her tür sebze ve meyvenin yetiştiği çok yeşillik bir yer. Bölgedeki ilk ürün bu kentten çıkıyor. Bu yüzden, kentin kurulduğu günden beri pazarcılar, ürünlerinin taze olduğunu belirtmek için satış yaparken “Turfanda bunlar, turfanda...” diye bağırırlar.

Bu paragraftan aşağıdaki yargıların hangisine ulaşılır?

- A) Turfanda kelimesi, Turfan kentinin kuruluşu kadar eskidir.
B) Pazarcılar, taze ürünler getirmek için Turfan kentine giderler.
C) Turfan kenti, tarihî eserler yönünden oldukça zengindir.
D) Deniz seviyesinin altında olması bakımından dünyanın en derin noktasıdır.

16. Aşağıdakilerin hangisinde olay, üçüncü kişinin ağzından anlatılmıştır?

- A) Güya sıra bendeydi, güya ben de birkaç söz edecektim ama bir şey engel oldu bana, dilim düğümlendi.
- B) Tüm ısrarlarına rağmen yanlarında kalmayarak evime dönmüştüm ki, çalmaya başladı telefonum.
- C) “Haklısın.” dedim ve devam ettim: “Belki şanslıyım onunla karşılaştığım için. O gerçekten de iyi bir insan.”
- D) Telaşla yerleşti iskemleye. Önemli bir gelişme olduğunu arkadaşlarına söylemek için sabırsızlanıyordu.

17. Aşağıdaki sözcüklerden hangisi, fiil köklüdür?

- A) Ceketler
- B) Çürük
- C) Masadaki
- D) Öfkeli

18. Aşağıdakilerden hangisi birleşik kelimedir?

- A) Kelebekler
- B) Kurdeleli
- C) Kanepe
- D) Kavuniçi

19. Aşağıdaki altı çizili sözcüklerden hangisi topluluk ismidir?

- A) Ağaçlar rüzgârla birlikte sağa sola sallanıyordu.
- B) Karadeniz her zamanki gibi dalgalı ve haşmetliydi.
- C) Çoban köpekleri, sürüyü otlaklara doğru götürüyordu.
- D) Buranın güzel havası onun ruhunu sıkıntılardan arındırmıştı.

20. Necdet Bey, ilçemize Balkanların en büyük

1

yük iş merkezini açmak istiyormuş. Tarihî Yarımada'nın 2700 yıllık geçmişindeki medeniyetlerin mimarisinden, kültüründen esinlenerek yapılacak bir iş merkezi olacak-

2

mış burası. Sokaklar, dükkânlar, restoranlar, bahçeler bu farklı medeniyetlerin kültü-

3

ründen etkilenecek inşa edilecekmış. Ben maketini gördüm, gerçekten mükemmel bir proje.

4

Bu parçadaki kaç numaralı kelimenin yerine bir zamir kullanılabilir?

- A) 1
- B) 2
- C) 3
- D) 4

21. Aşağıdaki altı çizili sözcüklerden hangisi yönelme hâlinedir?

- A) Oturduğu koltukta uyuyakalmış.
- B) Aşağıya kadar gelip beni yolcu etti.
- C) Yerleri silmek için masayı kenara çekti.
- D) Ankara'dan gelecek misafirleri karşılayacakmış.

22. Aşağıdaki özlü sözlerin hangisinde “sıfat tamlaması” yoktur?

- A) Dostluk, kanatsız sevgidir.
- B) Dost, rahatlık veren bir merhemdir.
- C) Dosttur, dal parçası değildir, onu kırma.
- D) Dost, iyi insandır.

23. “Bir kelimenin birinci hecesinde kalın bir ünlü bulunuyorsa diğer hecelerdeki ünlüler de kalın, ince bir ünlü bulunuyorsa diğer hecelerdeki ünlüler de ince olur.”

Bu kurala uymayan sözcük, aşağıdakilerden hangisidir?

- A) Basit
- B) Bilezik
- C) Boyunduruk
- D) Bıçak

24. Yarın Erciyes’e tırmanacağız() dedi.

Bu cümlede yay ayraçla belirtilen yere, aşağıdaki noktalama işaretlerinden hangisi konmalıdır?

- A) .
- B) ,
- C) ;
- D) :

25. Aşağıdakilerin hangisinde “da/de”nin yazımıyla ilgili bir yanlışlık vardır?

- A) Olanları bana da anlattı.
- B) Hepimiz onun evde olduğunu düşünüyorduk.
- C) Yarın bize Ayşe’de gelecekmiş.
- D) Artık sevincinden konuşur da konuşur.

TÜRKÇE TESTİ BİTTİ.
MATEMATİK TESTİNE GEÇİNİZ.

1. Bir toptancı 5 gömlek satın alana 1 gömlek hediye etmektedir. Hediye gömleklerle birlikte 110 gömlek alan bir mağaza sahibi hediye olarak kaç gömlek almıştır?

A) 18 B) 20 C) 22 D) 24

2. 3200 metrekarelik bir arazi üzerine bir park kurulmuştur. Parkın 14 arlık kısmına çocuk oyun alanları, 7 arlık kısmına çay bahçeleri yapılmıştır. Parkın geri kalan kısmı yeşil alan olarak düzenlendiğine göre, yeşil alan kaç metrekaredir?

A) 3179 B) 2990 C) 2100 D) 1100

3. Eksi 27'nin mutlak değeri aşağıdaki sayıların hangisinden büyüktür?

A) Eksi 26
B) 30
C) 27'nin mutlak değeri
D) Eksi 29'un mutlak değeri

4. Dört kavanozun her birinde aynı miktarda un bulunmaktadır. Birinci kavanozdaki unun sekizde beşi, ikincisinin üçte ikisi, üçüncüsünün yedide dördü, dördüncüsünün beşte üçü kullanılmıştır.

Buna göre, en çok un hangi kavanozda kalmıştır?

A) Birinci B) İkinci
C) Üçüncü D) Dördüncü

5. Bir mağazada satılan bazı ürünlerin fiyatları aşağıdaki tabloda verilmiştir.

Tablo: Mağazada Satılan Bazı Ürünler ve Fiyatları

Ürünler	Fiyatlar (Lira)
Tişört	12,70
Şapka	29,90
Cüzdan	15,30
Kemer	11,10

Bu ürünlerden birer tane alan bir müşteriye, tablodaki fiyatlar üzerinden yüzde 30 indirim yapıldığına göre, bu müşteri kaç lira öder?

A) 37,80 B) 40,20
C) 48,30 D) 52,15

6. Kare şeklindeki bir resmin bir kenar uzunluğu 26 santimetredir. Bu resim fotokopi ile küçültüldüğünde kenar uzunlukları yarıya inmektedir. Elde edilen resmin bir kenarının uzunluğu aşağıdakilerden hangisi ile bulunur?

A) 26 bölü $\frac{1}{2}$ B) 26 bölü 2
C) 2 bölü 26 D) $\frac{1}{2}$ bölü 26

7. Bir sınıftaki öğrencilerin yüzde 50'si flüt, yüzde 40'ı gitar çalmaktadır. Bu sınıftaki öğrencilerin yüzde 20'si ise bu müzik aletlerinden hiçbirini çalmamaktadır.

Yalnız flüt çalan 8 öğrenci olduğuna göre, bu sınıfın mevcudu kaçtır?

- A) 15 B) 17 C) 18 D) 20

8. Sıfır tam on binde dört ondalık kesri aşağıdaki işlemlerden hangisinin sonucudur?

- A) Sıfır tam yüzde dört çarpı on
B) Sıfır tam yüzde dört çarpı yüz
C) Sıfır tam yüzde dört bölü yüz
D) Sıfır tam yüzde dört bölü on

9. Ölçüsü 27 derece olan bir açının tümlerinin ölçüsü aşağıdaki işlemlerden hangisi ile bulunur?

- A) 100 derece artı 27 derece
B) 100 derece eksi 27 derece
C) 90 derece artı 27 derece
D) 90 derece eksi 27 derece

10. Kenarlarının uzunlukları birer doğal sayı olan dikdörtgen şeklindeki bir bahçenin bir kenarının uzunluğu 3 metredir. Bu bahçenin alanı kaç metrekare olabilir?

- A) 46 B) 42 C) 29 D) 25

11. 4506 sayısının hangi iki rakamının yerleri değiştirilirse, elde edilen yeni sayı 6 ile tam bölünmez?

- A) 5 ile 6 B) 5 ile 0
C) 4 ile 6 D) 4 ile 5

12. Aşağıdakilerden hangisi, bir kenar uzunluğu 12 santimetre olan eşkenar üçgene benzerdir?

- A) Çevresinin uzunluğu 36 santimetre olan çeşitkenar üçgen
B) Kenarlarından birinin uzunluğu 12 santimetre olan çeşitkenar üçgen
C) İkizkenarlarından birinin uzunluğu 24 santimetre olan ikizkenar üçgen
D) Çevresinin uzunluğu 60 santimetre olan eşkenar üçgen

13. Aşağıdakilerden hangisi imkânsız olaydır?

- A) Havaya atılan bir madenî paranın yazı gelmesi
- B) Havaya atılan bir topun yere düşmesi
- C) İçerisindeki topların hepsi kırmızı olan bir torbadan, seçilen bir topun mavi olması
- D) Sabah gördüğümüz ilk arabanın kırmızı renkli olması

14. Aşağıdakilerden hangisi dikdörtgenler prizmasının özelliğidir?

- A) Ayrıt sayısı 12'dir.
- B) 4 köşesi vardır.
- C) Eş yüzlerinin sayısı 6'dır.
- D) Bir tek cisim köşegeni bulunur.

15. Altı tane beşin çarpımı aşağıdakilerden hangisi ile ifade edilir?

- A) 6 çarpı 5
- B) 6 üssü 5
- C) 5 üssü 6
- D) 56

16. Şule'nin yapacağı kekin tarifine göre iki tam bir bölü üç bardak un kullanması gerekiyor. Bunun için iki kez üçte bir bardak un kullanan Şule, tarife göre kaç bardak daha un kullanmalıdır?

- A) Bir tam bir bölü iki
- B) Bir tam iki bölü üç
- C) Üç bölü dört
- D) Bir bölü üç

17. Taban ayrıtlarının uzunlukları 6 santimetre ve 8 santimetre, yüksekliği 5 santimetre olan bir kutu, içine bir ayrıt uzunluğu 2 santimetre olan küp şeklindeki çikolatalar konularak paketlenecektir. Bu kutu en fazla kaç çikolata alır?

- A) 19
- B) 24
- C) 30
- D) 70

18. Ayşegül Hanım'ın çantasında 4 tane 10 liralık, 6 tane 20 liralık, birer tane 50 liralık ve 100 liralık kâğıt para bulunmaktadır. Ayşegül Hanım'ın, çantasından rastgele çıkardığı bir kâğıt para ile fiyatı 18 lira olan vazoyu alma olasılığı nedir?

- A) 1 bölü 6
- B) 5 bölü 12
- C) 3 bölü 7
- D) 2 bölü 3

19. 18 000 mililitre sıvı yağı alabilecek, dikdörtgenler prizması şeklindeki teneke kutunun ayrıt uzunlukları aşağıdakilerden hangisi olabilir?

- A) 1 desimetre, 3 desimetre, 7 desimetre
- B) 1 santimetre, 2 santimetre, 9 santimetre
- C) 4 santimetre, 5 santimetre, 9 santimetre
- D) 1 desimetre, 2 desimetre, 4 desimetre

20. Bir küpün açınıminin çevre uzunluğu 98 santimetre olduğuna göre, yüzey alanı kaç santimetrekaredir?

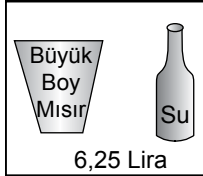
A) 588 B) 294 C) 256 D) 98

21. Spor yarışmalarında madalya kazanan bir okuldaki 8 sporcudan altısının kazandıkları madalya sayıları 1, 3, 2, 1, 4 ve 3'tür. Bu 8 sporcunun kazandığı madalya sayılarının ortalaması 2 olduğuna göre, diğer iki sporcu toplam kaç madalya kazanmıştır?

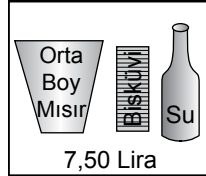
A) 1 B) 2 C) 3 D) 4

22. 20 lirası olan Hale, sinema biletine 13,75 lira ödüyor. Hale kalan parası ile aşağıdaki menülerden hangisini alabilir?

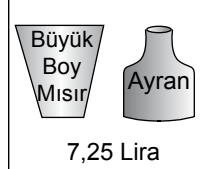
A) 1. Menü



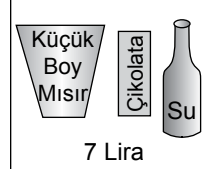
B) 2. Menü



C) 3. Menü



D) 4. Menü



23. Kare şeklindeki bir karton kesilerek dört eş karesel bölgeye ayrılıyor. Kartonun çevre uzunluğu 96 santimetre olduğuna göre, parçalardan birinin çevre uzunluğu kaç santimetredir?

A) 72 B) 60 C) 48 D) 24

24. Aşağıdakilerden hangisinin cebirsel ifadesi $\frac{3a}{2} + 5$ 'tir?

A) Bir sayının 5 fazlasının 3 katının yarısı
B) Bir sayının 3 katının 5 fazlasının yarısı
C) Bir sayının yarısının 5 fazlasının 3 katı
D) Bir sayının yarısının 3 katının 5 fazlası

25. Dengede olan bir terazinin bir kefesinde her biri 4 kilogram olan 3 kabak, diğer kefesinde ise bir kavun ile her biri 5 kilogram olan 2 karpuz vardır. Buna göre, kavun kaç kilogramdır?

A) 1 B) 2 C) 3 D) 4

MATEMATİK TESTİ BİTTİ.
FEN VE TEKNOLOJİ TESTİNE GEÇİNİZ.

1. Sude, 20 metrelik yolu hiç ara vermeden sabit süratle 10 saniyede yürüdüğüne göre, aynı süratle durmadan 100 metrelik yolu kaç saniyede yürür?

A) 20 B) 40 C) 50 D) 60

2. Selin ve Metin masa üstünde duran tahta bloğu karşılıklı birbirlerine doğru itmektedirler.

Buna göre Selin ve Metin'in bloğa uyguladıkları kuvvetlerle ilgili, doğrultu ve yönleri dikkate alınarak yapılan aşağıdaki açıklamalardan hangisi doğrudur?

- A) Aynı doğrultuda olan, zıt yönlü kuvvetlerdir.
B) Aynı doğrultuda olan, aynı yönlü kuvvetlerdir.
C) Farklı doğrultuda olan, zıt yönlü kuvvetlerdir.
D) Farklı doğrultuda olan, aynı yönlü kuvvetlerdir.

3. Üç farklı cismin yaptığı hareket aşağıda verilmiştir:

- Dalda hareketsiz duran bir elma
- Daldan yere düşen bir armut
- Sabit sürat ile çembersel kavşağı dönen bir araba

Bu cisimlerden hangileri dengelenmemiş kuvvetler altındadır?

- A) Yalnız elma B) Yalnız araba
C) Elma ve armut D) Armut ve araba

4. Öğretmen; pil, ampul ve iletken tellerden oluşan devrede, ampul ışık verirken, iletken teli bir yerinden keserek iki uç oluşturur. Daha sonra öğrencilerine, iki ucu, iletken bir tel kullanmadan nasıl bağlayabileceklerini sorar.

Ali : İki uca plastik boru bağlarım.

Selin : İki ucu aynı kaptaki tuzlu su içine daldırırım.

Suna : İki ucu aynı kaptaki saf su içine daldırırım.

Murat: İki ucu alüminyum folyo ile birleştiririm.

Hangi öğrencilerin ifadesi gerçekleşirse devredeki ampul ışık verir?

- A) Ali ve Selin'in B) Selin ve Murat'ın
C) Suna ve Murat'ın D) Ali ve Suna'nın

5. Bir iletkenin direnci;

I- İletkenin kesit alanına

II- İletkenin cinsine

III- İletkenin uzunluğuna

niceliklerinden hangilerine bağlıdır?

- A) Yalnız I'e B) I ve II'ye
C) II ve III'e D) I, II ve III'e

6. Düzlem aynalarla ilgili;

I- Düzlem ayna üzerine düşürülen ışık, yansıyan ışık ve yüzeyin normali aynı düzlemedir.

II- Düzlem aynaya gelen ışığın gelme açısı ile yansıyan ışığın yansıma açısı birbirine eşittir.

III- Düzlem aynaya gelen ışığın ayna ile yaptığı açı, yansıyan ışığın ayna ile yaptığı açıya eşittir.

İfadelerinden hangileri doğrudur?

- A) Yalnız I
B) I ve II
C) II ve III
D) I, II ve III

7. İçinde ayna bulunan, dış yüzeyinde ise aynanın ve oluşturduğu görüntünün belli özellikleri yazılı K ve L kutuları verilmiştir.

K'nin dış yüzeyinde yazılanlar

Oluşturduğu görüntü : Düz
Görüntü boyu : Her durumda cisimden küçük
Kullanıldığı yer : Otomobil yan aynaları

L'nin dış yüzeyinde yazılanlar

Oluşturduğu görüntü : Düz
Görüntü boyu : Cismin boyuna eşit
Kullanıldığı yer : Ev ve berber salonları

Buna göre, kutu içindeki aynaların cinsi, aşağıdakilerin hangisinde doğru verilmiştir?

- A) K'de tümsek, L'de çukur
B) K'de çukur, L'de tümsek
C) K'de tümsek, L'de düz
D) K'de çukur, L'de düz

8. Kapalı alanda yankı oluşumunu önlemek için, bu alanların iç yüzeyi nasıl bir madde ile kaplanmalıdır?

- A) Yumuşak ve pürüzlü
B) Yumuşak ve pürüzsüz
C) Sert ve pürüzlü
D) Sert ve pürüzsüz

9. Ön yüzünde toprağın özelliği, arka yüzünde ise ismi yazılı K ve L kartları hazırlanıyor.

K'nin ön yüzünde

“Bitki ve hayvan kalıntılarının çürümesiyle oluşan, koyu renkli, yumuşak ve su tutabilen topraktır.” yazılıdır.

L'nin ön yüzünde

“Açık renkli, su tutmayan, üzerine boşaltılan suyun etkisiyle kalın bir kabuk bağlayan, gevşek yapıya sahip bir topraktır.” yazılıdır.

Kartların ön yüzü yukarıdaki gibi olduğuna göre, arka yüzlerinde aşağıdakilerden hangisi yazılıdır?

- A) K'de kumlu, L'de kireçli
B) K'de killi, L'de humuslu
C) K'de humuslu, L'de kireçli
D) K'de humuslu, L'de killi

10. Aşağıda bazı anıtların isimleri verilmiştir:

I- Peri Bacaları

II- Pamukkale Travertenleri

III- Boğaz Köprüsü

Buna göre hangi anıtlar, doğal anıtlara örnek olabilir?

- A) Boğaz Köprüsü
- B) Peri Bacaları ve Pamukkale Travertenleri
- C) Peri Bacaları ve Boğaz Köprüsü
- D) Pamukkale Travertenleri ve Boğaz Köprüsü

11. Bir bardak çaya, üç tane küp şeker atılıp karıştırıldığında şeker kayboluyor ve çay tatlanıyor. Bu sonuca göre, aşağıdakilerden hangisine ulaşılır?

- A) Maddeler görünmez küçük taneciklere ayrılır.
- B) Maddeler kimlik özelliğini kaybeder.
- C) Maddeler kolaylıkla sıkıştırılabilir.
- D) Maddeler hâl değiştirir.

12. İki saf maddeye ait bilgiler aşağıda verilmiştir:

- Birinci madde moleküllü yapıdadır, yapısında iki tür atom bulunur.
- İkinci madde moleküllü yapıda değildir, yapısında tek tür atom bulunur.

Buna göre, maddelerle ilgili aşağıda verilenlerden hangisi doğrudur?

- A) İki madde de bileşiktir.
- B) İki madde de elementtir.
- C) Birinci madde bileşik, ikinci madde elementtir.
- D) Birinci madde element, ikinci madde bileşiktir.

13. Ayşe, bir tahta parçasına işlem uygulayarak tahtanın yapısını değiştirmek istiyor.

Buna göre Ayşe, aşağıda verilen işlemlerden hangisini yaparsa tahtanın yapısını değiştirir?

- A) Fırçayla boyarsa
- B) Eliyle iki parçaya bölerse
- C) Bir kaptaki suyun içine atarsa
- D) Tahtanın ucunu ocakta yakarsa

14. Hasan odasında, arkadaşı Alp gelmeden önce kendisine parfüm sıkıyor. Alp gelince aralarında aşağıdaki konuşma geçiyor:

Alp : Aaa! Parfüm mü sıktın? Odan ne güzel kokuyor.

Hasan: Evet sen gelmeden az önce sıktım. Beğendiğine sevindim. Peki, parfüm kokusunun odaya yayılmasını nasıl açıklarsın?

Alp bu soruya doğru yanıt verdiği göre, Hasan'a aşağıdakilerden hangisini söylemiştir?

- A) Gazların tanecikli yapıda olması
- B) Gazların kolaylıkla sıkıştırılabilmesi
- C) Gaz tanecikleri arasında boşluk olması
- D) Gaz taneciklerinin bağımsız hareket etmesi

15. Güneşli bir yere bırakılan buz parçası bir süre sonra eriyor. Buna göre buzun erimesini sağlayan ısı, buz parçasına hangi yolla ulaşmıştır?

- A) İletim
- B) Işıma
- C) Konveksiyon
- D) İletim ve konveksiyon

16. Aşağıdakilerden hangisinin üretiminde ısı yalıtım malzemelerinin kullanılması tercih edilmez?

- A) Kalorifer peteği
- B) Yer döşemesi
- C) Kışlık palto
- D) Tava sapı

17. Bir öğrenci hazırladığı kartların birine “papatya bitkisi”, diğerine “sincap” yazmıştır. Bu canlıların hücre yapılarını, isimlerinin altına yazacaktır.

Buna göre aşağıdakilerden hangisi, bu kartların yalnız birine yazılabilir?

- A) Mitokondri
- B) Ribozom
- C) Hücre duvarı
- D) Çekirdek

18. Bir oyun parkında;

- 30, 65 ve 70 yaşlarında üç kişi oturarak dinlenmekte,
- 4, 5, 6 yaşlarında üç kişi kaydırdan kaymakta,
- Bir anne bebeğini kucağında gezdirmekte,
- 16 yaşında iki kişi kitap okumaktadır.

Bu parkta hangi gelişim döneminde daha fazla sayıda insan vardır?

- A) Bebeklik dönemi
- B) Çocukluk dönemi
- C) Yaşlılık dönemi
- D) Yetişkinlik dönemi

19. Ergenlik dönemindeki Zeynep, bu dönemle birlikte gelişen ruhsal ve bedensel değişimlerini gruplandırmak istiyor. Buna göre;

- I- Boy ve kütlesinde artış olması
- II- Kendi başına hareket etme ve karar verme isteğinde artış olması
- III- Sesinde değişim olması
- IV- Dikkat çekme isteğinde artış olması

olaylarını, aşağıdakilerin hangisindeki gibi gruplarsa doğru olur?

	<u>Bedensel</u>	<u>Ruhsal</u>
A)	III ve IV	I ve II
B)	II ve III	I ve IV
C)	I ve II	III ve IV
D)	I ve III	II ve IV

20. Bir öğrenci, canlılar ile çoğalma şekillerini eşleştirmek için aşağıdaki canlıların isimlerini yazıyor:

- Kelebek
- Tavuk
- Fasulye bitkisi
- Koyun

Daha sonra da bunlardan üç tanesinin karşısına,

- Yumurtayla çoğalıp başkalaşım geçirme
- Tohumla çoğalma
- Doğurarak çoğalma

yazıyor. Buna göre öğrenci, hangi canlının çoğalma şeklini yazmamıştır?

- | | |
|--------------------|----------|
| A) Kelebek | B) Tavuk |
| C) Fasulye bitkisi | D) Koyun |

21. • Tohumlarını, besin olarak kullanırız.
• Tohumları ekilerek oluşan bitkiden, tekrar tohumu elde edilir.
• Ürün almak için her yıl yeniden ekimi yapılır.

Verilen özellikler aşağıdaki bitkilerden hangisine aittir?

- | | |
|-----------|------------|
| A) Buğday | B) Papatya |
| C) Elma | D) Ceviz |

22. İnsan iskeletinde aşağıdaki kemiklerin hangisinde “sarı ilik” bulunur?

- A) Kafatası kemiğinde
- B) Kalça kemiğinde
- C) Bacaktaki uzun kemikte
- D) Diz kapağı kemiğinde

23. Ayşe yürüyerek bahçeye gitti. Ağaçtan elma kopardı. Elmayı yıkadıktan sonra yedi.

Bu faaliyeti sırasında Ayşe'nin vücut kaslarının çalışması ile ilgili olarak ne söylenebilir?

- A) Kol ve bacak kasları isteği ile, mide kası istek dışı çalışmıştır.
- B) Parmak ve ağız kasları istek dışı, mide kası isteği ile çalışmıştır.
- C) Sadece ağız kasları istek dışı çalışmıştır.
- D) Sadece kol kasları isteği ile çalışmıştır.

24. Dolaşım sistemimizde, aşağıdaki damarlardan hangisindeki kanda, oksijen oranı daha fazladır?

- A) Karaciğerden kalbe kan götüren toplardamarda
- B) Böbrekten kalbe kan götüren toplardamarda
- C) Kalbin sağ karıncığından akciğere kan götüren atardamarda
- D) Kalbin sol karıncığından vücuda kan götüren atardamarda

25. İnsan solunum sisteminde yer alan aşağıdaki yapı ve organlardan hangisinin görevi yanlış verilmiştir?

- A) Burun → Alınan havayı nemlendirmek
- B) Bronş → Hava ve kan arasında gaz alışverişini gerçekleştirmek
- C) Gırtlak → Alınan havayı soluk borusuna iletmek
- D) Diyafram → Kasılıp gevşeyerek göğüs boşluğunun hacmini değiştirmek

FEN VE TEKNOLOJİ TESTİ BİTTİ.
SOSYAL BİLGİLER TESTİNE GEÇİNİZ.

1. Atatürk'ün;

- I- Türkiye İş Bankasını kurması,
- II- Dil ve Tarih - Coğrafya Fakültesini açması,
- III- Türk Tarih Kurumunu kurması

uygulamalarından hangisi ya da hangileri, sosyal bilimleri geliştirmeye yöneliktir?

- A) Yalnız I
- B) Yalnız II
- C) II ve III
- D) I, II ve III

2. Semavi ile Leyla, Anadolu'da kurulan ilk uygarlıklardan biri olan Urartularla ilgili araştırma yapıyorlardı. Araştırmalarını yaparken aralarında şöyle bir konuşma geçer:

Semavi: Urartular, Doğu Anadolu Bölgesi'nde yani dağlık bir bölgede kurulmuşlardır.

Leyla : Öyleyse, arazi tarıma elverişli olmadığı için hayvancılık yapmış olmalıdır.

Semavi: Evet, hayvancılık çok gelişmiş. Hatta buna bağlı olarak

.....

Aşağıdakilerden hangisi, Semavi'nin cümlesini en uygun biçimde tamamlar?

- A) sulama kanalları açmışlardır.
- B) savunma sistemleri geliştirmiştir.
- C) demir işleme sanatında ilerlemişlerdir.
- D) deri işçiliği ve dokumacılıkta ileri gitmişlerdir.

3. Her yıl 23 Nisan'da ülkemizde uluslararası kutlamalar düzenlenmektedir. Farklı ülkelerden gelen çocuklar, ülkemizde Türk ailelerinin yanında misafir edilmektedirler. Misafirler, 23 Nisan kutlamaları boyunca kendi kültürlerinden örnekler sergilerler.

Verilen bu bilgiye göre aşağıdakilerden hangisi, 23 Nisan kutlamalarının toplumlar arasında sağlayacağı katkılardan olamaz?

- A) Yeni arkadaşlıkların kurulması
- B) Millî kültürlerin benimsetilmesi
- C) Ülkeler arası dostlukların pekiştirilmesi
- D) Toplumlar arasında etkileşimin sağlanması

4. Uygurlardan günümüze; mal edinme, satış protokolü, iş sözleşmeleri, ortaklık kurma, vakıfnameler, vasiyetnameler, ipotek senetleri gibi çeşitli belgeler kalmıştır.

Bu bilgiye göre Uygurlarla ilgili olarak, aşağıdakilerden hangisi söylenebilir?

- A) Askerliği kanunlarla düzenlemişlerdir.
- B) Sanatın geliştirilmesine özel bir önem vermişlerdir.
- C) Uygurlar, İlk Çağ Anadolu uygarlıklarındandır.
- D) Yönetim anlayışlarında hukuki düzenlemelerin önemli bir yeri vardır.

5. Orta Asya'da kurulmuş olan ilk Türk devletlerinde;

I- taşınabilir sanat eserlerinin yapılması,
II- hayvancılığın temel geçim kaynağı olması,
III- insanların savaşçı ve mücadeleci bir yapıya sahip olması

durumlarından hangilerinin oluşumunda coğrafi şartların etkili olduğu söylenebilir?

- A) Yalnız I
B) I ve II
C) II ve III
D) I, II ve III

6. İpek Yolu, iki bin yıldır pek çok ülkeden geçerek Asya'dan Avrupa'ya uzanan bir köprü olmuştur. Bu köprüden sadece mallar değil, kültürler ve insanlar da geçmiştir. Zenginliğin ve bilginin taşındığı bu yol, kontrolünü elinde tutan devletlere ekonomik, askerî, kültürel ve siyasi imkânlar sağlamıştır.

Yukarıdaki paragrafta, İpek Yolu'nun hangi özelliğine değinilmemiştir?

- A) Devletler arası savaşa neden olmasına
B) Farklı coğrafyalardan geçişine
C) Kültür köprüsü oluşuna
D) Ekonomik değerine

7. Mekke'nin ileri gelenleri; kendilerini, yoksullar ve kölelerle bir tutan İslam dinine karşı çıkıyorlardı.

Bu duruma göre Mekkeliler, İslamiyet'in getirdiği aşağıdaki prensiplerden hangisini çıkarlarına aykırı bularak bu dini reddetmişlerdir?

- A) Dürüstlük
B) Eşitlik
C) Misafirperverlik
D) Yardım severlik

8. Kök Türkler, yılın belirli zamanlarında kutladıkları bayram ve şölenlerde tanrı adına kurbanlar keserek beraberce eğlenirlerdi. Bu kutlamalarda şarkılar söylerler, çeşitli yarışmalar düzenlerlerdi. En sevilen ve beğenilen yarışma ise at yarışlarıydı.

Verilen parçaya göre, Türklerin yaptıkları bu faaliyetlerde, aşağıdaki kültür unsurlarından hangisine ait bir örnek yoktur?

- A) Dil
B) Din
C) Spor
D) Yönetim

9.



Ben, Babil Kralı Hammurabi'yim. Sümerlerin hukuk kurallarını geliştirdim, cezaları artırdım ve ilk anayasayı yaptım. Göze göz, dişe diş kurallını savunuyordum. Yoksa, başkent Babil'den ülkemin her köşesini denetlemem mümkün olmuyordu.

Buna göre Hammurabi'nin sert cezalar içeren hukuk kurallarını benimsemesinin nedeni, aşağıdakilerden hangisidir?

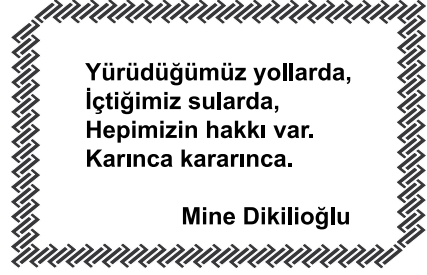
- A) Ticareti geliştirmek
- B) Orduyu güçlendirmek
- C) Merkezî otoriteyi sağlamak
- D) Tarımsal üretimi artırmak

10. I- Ülkemiz doğal güzellikleriyle tam bir cennettir.
 II- Türkiye'nin en çok turist çeken ili Antalya'dır.
 III- Türkiye, üç tarafı denizlerle kaplı bir yarımadadır.
 IV- Ülkemize en çok Rusya ve Almanya'dan turist gelmektedir.

Verilen cümlelerden hangileri görüş bildirir?

- A) Yalnız I
- B) Yalnız III
- C) II ve IV
- D) I, III ve IV

11.



Yürüdüğümüz yollarda,
 İçtiğimiz sularda,
 Hepimizin hakkı var.
 Karınca kararınca.

Mine Dikilioğlu

Bu dördlükte, vatandaşlık görevlerimizden hangisine vurgu yapılmıştır?

- A) Oy kullanma
- B) Vergi verme
- C) Askerlik yapma
- D) Seçimlere katılma

12. Arkadaşının bilgisayarından "Parasız Yatılılık ve Bursluluk Sınavına Hazırlık Eğitim Seti" ile ilgili çalışma CD'lerini izleyen Buket, eğitim setinin soru çözümlerini çok beğenir. Hemen evine yakın bir elektronik markete giderek beğendiği eğitim setinden satın alır.

Buket, bu davranışı ile aşağıdakilerden hangisine saygı göstermiş olur?

- A) Telif hakkına
- B) Patent hakkına
- C) Çoğaltma hakkına
- D) Bandrol uygulamasına

13. Aşağıda verilen yerlerin haritaları aynı boyutta olan dört ayrı kâğıda (tam sığacak biçimde) çizilmiştir.

Buna göre, hangi haritanın ölçeği daha büyük olur?

- A) Türkiye
B) Balıkesir ili
C) Asya Kıtası
D) Güneydoğu Anadolu Bölgesi

14. Toprak, sanayi sektörü için önemli bir ham madde kaynağıdır.

Buna göre aşağıdakilerden hangisi, üretiminde ham madde olarak toprağı kullanmaz?

- A) Seramik sanayi
B) Çimento sanayi
C) Tuğla sanayi
D) Mobilya sanayi

15. Aşağıdaki özelliklerden hangisi Karadeniz iklimine aittir?

- A) Mart, en soğuk aydır.
B) Her mevsim yağışlıdır.
C) Yıllık sıcaklık farkı fazladır.
D) Temmuz ayı sıcaklık ortalaması 40 °C dir.

16. Aşağıdaki illerden hangisinin yıllık sıcaklık ortalaması daha düşüktür?

- A) Sivas
B) Adana
C) İzmir
D) Zonguldak

17 ve 18. soruları aşağıda verilen metne göre cevaplayınız.

Rusya Federasyonu, Avrupa ve Asya kıtalarında toprakları olan bir devlettir. Yüzölçümü Türkiye'nin 22 katı büyüklüğünde olmasına rağmen nüfusu sadece 2 katıdır. Yüzölçümünün yarısına yakın kısmını kutup bölgesindeki donmuş topraklar oluştururken orta kısımlarında iklim sert karasal, güneybatısında ise ılımandır. Nüfusunun % 10'u tarımda çalışan ülke, dünya kereste rezervinin % 25'ine sahip ve enerji kaynakları (kömür, petrol, doğal gaz) bakımından da çok zengindir.

17. Rusya'da nüfus yoğunluğunun çok düşük olmasının temel sebebi aşağıdakilerden hangisidir?

- A) İki kıtada topraklarının olması
B) Maden bakımından zengin olması
C) Olumsuz iklim özelliklerine sahip olması
D) Tarımda çalışan nüfusun az olması

18. Türkiye'nin kendi kaynakları dikkate alındığında, Rusya'dan aşağıdakilerden hangisini ithal (dış alım) etmesi beklenir?

- A) Taşıt araçları
B) Tarımsal ürün
C) Mobilya
D) Enerji kaynağı

19.



Yükselti faktörü göz önüne alındığında haritada verilen merkezlerden hangileri arasında, sıcaklık farkının daha fazla olması beklenir?

- A) Ordu - Ağrı B) Ankara - Ağrı
C) Manisa - Ankara D) Gaziantep - Ordu

20. Mobilya fabrikası kurmayı planlayan bir işadamı, tesisinin ham madde kaynağına yakın olmasını istemektedir.

Bunun için, aşağıdaki illerden hangisini tercih etmelidir?

- A) Mardin B) Elazığ
C) Giresun D) Nevşehir

DİN KÜLTÜRÜ VE AHLAK BİLGİSİ DERSİNİ OKUYANLAR AŞAĞIDAKİ SORULARI CEVAPLAYACAKLARDIR.

21. Sıdk, emanet, fetanet, ismet ve tebliğ; peygamberlerde bulunan ortak niteliklerdir.

Aşağıdaki ayetlerin hangisinde bu niteliklerden herhangi birine yer verilmemiştir?

- A) "(Ey Muhammed!) Güçlü bir iradeye ve keskin bir kavrayış yeteneğine sahip olan İbrahim, İshak ve Yakup'u hatırla!" (Sâd suresi, 45. ayet.)
B) "O peygamberler ki Allah'ın gönderdiği emirleri duyururlar, Allah'tan korkarlar ve ondan başka kimseden korkmazlar..." (Ahzâb suresi, 39. ayet.)
C) "Size Rabb'imın mesajlarını duyuruyorum ve ben sizin için güvenilir bir öğüt vericiyim." (A'râf suresi, 68. ayet.)
D) "Andolsun, Allah'ın Resulü'nde sizin için; Allah'a ve ahiret gününe kavuşmayı uman, Allah'ı çok zikreden kimseler için güzel bir örnek vardır." (Ahzâb suresi, 21. ayet.)

22. Sabah namazının vakti ne zaman sona erer?

- A) Güneş doğunca
B) Öğle vakti girince
C) Güneş tam tepe noktasına gelince
D) Güneşin doğuşundan kırk beş dakika sonra

23. • Mescid-i Nebi'nin yanında inşa edilmiştir.
• Genellikle ilim öğrenmek isteyen kimse-
lerin kaldığı yerdir.
• Burada yetişen kişiler, başka topluluklara
öğretmen olarak gönderilmiştir.

Hz. Peygamber tarafından eğitim ve öğre-
tim için yaptırılan bu bölüm aşağıdakiler-
den hangisidir?

- A) Divan B) Suffa
C) Dâru'l-Kütüb D) Dâru'l-Kurra

24. "... Anne ve babaya, akrabaya, yetimlere,
yoksullara, yakın komşuya, uzak komşuya,
yakın arkadaşına, yolcuya, sorumluluğunuz
altında bulunanlara iyi davranın. Allah ken-
dini beğenen ve övünüp duran kimseleri
sevmez." (Nisâ suresi, 36. ayet.)

Bu ayet, Kur'an-ı Kerim'in ana konularından
hangisinin kapsamında değerlendirilebilir?

- A) İnanç B) İbadet
C) Ahlak D) Kıssa

25. "Sadık dost, arkadaşının ayıbını görünce
sadece onu uyarır; bu ayıbını başkalarına
yaymaz."

Bu söz, İslam'ın yasakladığı kötü davranış-
lardan hangisini engellemeye yöneliktir?

- A) Kıskançlık B) İftira
C) Kibir D) Gıybet

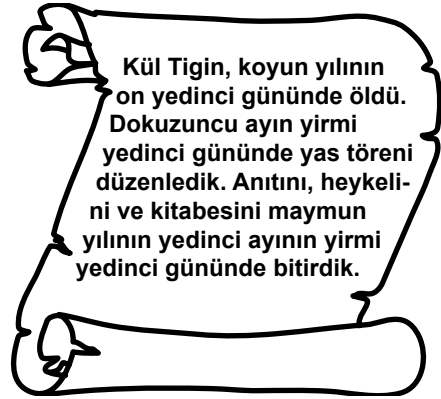
DİN KÜLTÜRÜ VE AHLAK BİLGİSİ DERSİNİ
OKUMAYANLAR AŞAĞIDAKİ SORULARI CE-
VAPLAYACAKLARDIR.

21. Çevre kirliliğinin en önemli sebeplerinden
biri de su kirliliğidir. İnsanlar tarafından
kirlatilen su; doğal hayatı, turizmi, insan
sağlığını ve tarımı da olumsuz etkilemekte-
dir. Bu sorunun çözümünde yerel yönetim-
lere, sanayi kuruluşlarına ve tüm insanlara
büyük görevler düşmektedir.

Parçadaki bilgiden çıkarılabilecek en kap-
samlı yargı, aşağıdakilerden hangisidir?

- A) Sanayi atıkları, su kirliliğinin nedenlerinden
birdir.
B) Turizm gelirlerinin azalma sebebi su kirliliğidir.
C) Su kirliliğini önlemek belediyelerin görevidir.
D) Su kirliliği çok boyutlu bir sorundur.

22.



Orhun Kitabelerinden alınan bu parçadan
Kök Türklerle ilgili, aşağıdaki bilgilerden
hangisine ulaşılabilir?

- A) Uygurlar tarafından yıkıldıklarına
B) Taş işçiliğiyle uğraştıklarına
C) Cenazeleri için tören düzenlediklerine
D) 12 Hayvanlı Türk Takvimi'ni kullandıklarına

23. Osmanlı Devleti'nde 1876 yılında kabul edilen Kanunuesasi'nin aşağıdaki maddelerinden hangisi, hukukun üstünlüğü ilkesini vurgulamaktadır?

- A) Osmanlı Devleti'nin resmî dili Türkçedir.
- B) Kanuna dayalı olmadığı sürece kimseden vergi alınamaz.
- C) Herkesin mal ve mülk edinme hakkı vardır.
- D) İşkence ve her türlü eziyet kesinlikle yasaktır.

24. Dünya nüfus artışına rağmen tarım alanlarının artmaması, gelecekte öncelikle aşağıdaki sorunlardan hangisinin ortaya çıkmasına neden olur?

- A) Su kirliliğinin
- B) Hava kirliliğinin
- C) Açlık - kıtlık tehlikesinin
- D) Plansız kentleşmenin

25. Aşağıda verilenlerden hangisi Türkiye'nin konumuna ait bir özelliktir?

- A) Almanya ve İtalya sınır komşusudur.
- B) Yer şekilleri düz ve sadedir.
- C) Büyük Okyanus kıyısındadır.
- D) Kuzey Yarım Küre'de yer alır.

TEST BİTTİ.

CEVAPLARINIZI KONTROL EDİNİZ.

SINAV SÜRESİNCE UYULACAK KURALLAR

- 1. Adaylar, sınav kurallarına ve salon görevlilerinin tüm uyarılarına uymak zorundadırlar. Kurallara ve uyarılara uymayan adayların sınavları geçersiz sayılacaktır.**
- 2. Sınav başladıktan sonra adayların salon görevlileri ve birbirleri ile konuşmaları, kalem, silgi vb. şeyleri istemeleri yasaktır.**
- 3. Adaylar sınav süresince, sınav giriş belgesi ile birlikte kimlik belgelerinden birini (nüfus cüzdanı veya pasaport) masalarının üzerinde bulundurmamak zorundadırlar.**
- 4. Sınav evraklarını teslim etmeyen, soru kitapçıklarının sayfalarından bir kısmını eksik teslim edenlerin sınavları geçersiz sayılacaktır.**

SALON GÖREVLİLERİNCE SINAV BAŞLAMADAN ÖNCE ADAYLARA YAPILACAK SON UYARI

- Soracağınız bir şey var mı? Varsa, şimdi sorunuz.
- Sınav başladıktan sonra sorularınıza cevap verilmeyecektir.
- Başlama zilini bekleyiniz.
- Hepinize başarılar dileriz.

(Salon başkanı başlama ve bitiş saatini tahtaya yazacaktır.)

Bu kitapçığın her hakkı saklıdır. Hangi amaçla olursa olsun, kitapçığın tamamının veya bir kısmının Millî Eğitim Bakanlığı Yenilik ve Eğitim Teknolojileri Genel Müdürlüğünün yazılı izni olmadan kopya edilmesi, fotoğraflarının çekilmesi, bilgisayar ortamına alınması, herhangi bir yolla çoğaltılması, yayımlanması veya başka bir amaçla kullanılması yasaktır. Bu yasağa uymayanlar, doğabilecek cezai sorumluluğu ve kitapçığın hazırlanmasındaki mali külfeti peşinen kabullenmiş sayılır.

9 HAZİRAN 2013 TARİHİNDE YAPILAN PARASIZ YATILILIK VE BURSLULUK SINAVI
6. SINIFLAR GÖRME ENGELLİLER “A” KİTAPÇIĞI CEVAP ANAHTARI

TÜRKÇE	MATEMATİK	FEN ve TEKNOLOJİ	SOSYAL BİLGİLER
1. C	1. A	1. C	1. C
2. A	2. D	2. A	2. D
3. D	3. A	3. D	3. B
4. B	4. C	4. B	4. D
5. D	5. C	5. D	5. C
6. C	6. B	6. D	6. A
7. C	7. D	7. C	7. B
8. B	8. C	8. A	8. D
9. A	9. D	9. C	9. C
10. B	10. B	10. B	10. A
11. A	11. A	11. A	11. B
12. C	12. D	12. C	12. A
13. D	13. C	13. D	13. B
14. D	14. A	14. D	14. D
15. A	15. C	15. B	15. B
16. D	16. B	16. A	16. A
17. B	17. B	17. C	17. C
18. D	18. D	18. B	18. D
19. C	19. A	19. D	19. A
20. A	20. B	20. B	20. C
21. B	21. B	21. A	21. D
22. C	22. A	22. C	22. A
23. A	23. C	23. A	23. B
24. B	24. D	24. D	24. C
25. C	25. B	25. B	25. D