

## ÜNİTE 3 YERYÜZÜNDE YAŞAM

1.



Merhaba adım John (Con). Brezilya'da yaşıyorum. Yaşadığım yer yıl boyunca düzenli yağış alıyor. Isınmada problem yaşanmıyor. İnsanlar ince kıyafetleri tercih ediyor. Havanın sıcak olması ve yağışın fazla olmasından dolayı gür ormanlar geniş yer kaplıyor. Her mevsim yeşil kalabilen bu ormanlar dünyadaki canlı çeşitliliğinin en fazla olduğu doğal yaşam alanı kabul ediliyor.

Yukarıdaki açıklamaya göre John (Con) aşağıdaki iklim bölgelerinin hangisinde yaşıyordur?

- A) Muson B) Kutup  
C) Ekvatorial D) Akdeniz

2.

Akdeniz ikliminin karaların kıyı kesimlerinde görülmesi ve yaz sıcaklığının fazla olması turizmin gelişmesinde etkili olmuştur.

Kutup ikliminde toprak donmuş olduğundan tarım ürünleri yetiştirilemez. Avcılık ve balıkçılık insanların önemli geçim kaynağıdır.

Buna göre;

- I. Turizm Akdeniz ikliminin etkili olduğu alanlardaki en önemli etkinliktir.  
II. Kutup ikliminde modern tarım yöntemleriyle üretim yapılmaktadır,  
III. İklim ekonomik faaliyetleri etkilemektedir,

hangilerine ulaşılabilir?

- A) I-II-III B) II-III  
C) I-II D) Yalnız III

3.



Yukarıdaki görsellerde kutup ikliminin hangi alanlar üstündeki etkileri örneklendirilmiştir?

- A) Ulaşım / Yerleşme  
B) İklim / Bitki örtüsü  
C) Ulaşım/ Üretim  
D) Ekonomi/ Kıyafet

4.

## HABERLER

Hindistan'ın Gucurat eyaletinde şiddetli yağmurların etkili olduğu selde 120 kişi yaşamını kaybetti. Şehrin tüm altyapısı kullanılamaz hale geldi. Binlerce çiftçinin tarlası su altında kaldı.

(Genel Ağ haberinden düzenlenmiştir.)

Genel Ağ haberinde bahsedilen durumun yaşanmasında etkili olan iklim tipi hangisidir?

- A) Ekvatorial iklim  
B) Muson iklimi  
C) Akdeniz iklimi  
D) Kutup iklimi

## ÜNİTE 3 YERYÜZÜNDE YAŞAM

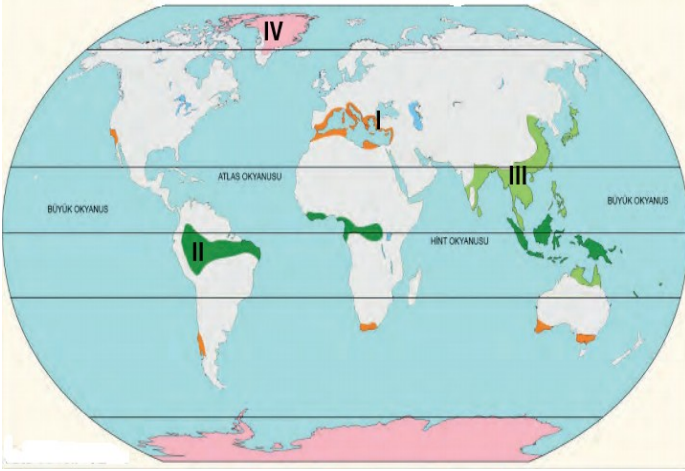
5. İnsanlar bulundukları bölgenin doğal ortamına uyum sağlamaya çalışmışlardır. Bölgenin iklim özellikleri insanların yaşayışlarını büyük ölçüde etkilemiştir.

Buna göre aşağıdakilerden hangisi yukarıdaki açıklamaya örnek gösterilemez?

- A) Kutup ikliminde yaşayan insanların buz ve balina kemiklerinden iglo denilen geleneksel evler yapmaları.
- B) Muson ikliminin görüldüğü alanlarda pirinç tarımının yaygın olması.
- C) Ekvatorial iklim bölgesinde ulaşım da salların kullanılması.
- D) Doğal kaynakların aşırı tüketimi sonucu iklim koşullarının değişime uğraması.

6.

Dünya İklim Haritası



Bu iklim tipi 30°- 40° enlemleri arasında görülür. Yazlar sıcak ve kurak, kışlar ılık ve yağışlı geçer. Doğal bitki örtüsü kuraklığa dayanıklı bodur ağaçlardan oluşan makidir.

Hakkında bazı özellikleri ifade edilen iklim numaralı alanların hangisinde görülmektedir?

- A) I
- B) II
- C) III
- D) IV

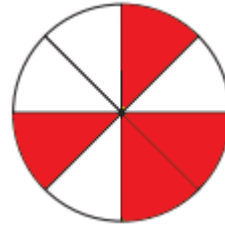
7.



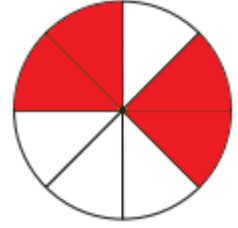
Ozan, kutup iklimiyle ilgili bilgilerin olduğu bölümleri kırmızı renge boyayacaktır.

Buna göre aşağıdaki şekillerden hangisi ortaya çıkar?

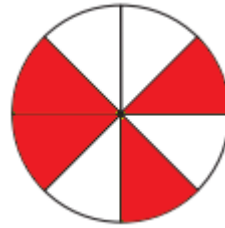
A)




B)



C)



D)



## CEVAPLAR

- |   |                                  |                                  |                                  |                                  |
|---|----------------------------------|----------------------------------|----------------------------------|----------------------------------|
| 1 | A                                | B                                | <input checked="" type="radio"/> | D                                |
| 2 | A                                | B                                | C                                | <input checked="" type="radio"/> |
| 3 | <input checked="" type="radio"/> | B                                | C                                | D                                |
| 4 | A                                | <input checked="" type="radio"/> | C                                | D                                |
| 5 | A                                | B                                | C                                | <input checked="" type="radio"/> |
| 6 | <input checked="" type="radio"/> | B                                | C                                | D                                |
| 7 | A                                | <input checked="" type="radio"/> | C                                | D                                |

## ÖNEMLİ HATIRLARMA:

UZAKTAN EĞİTİM FAALİYETLERİ  
KAPSAMINDA EBA VEYA  
WHATSAPP PLATFORMLARINDA  
PAYLAŞIMA AÇIKTIR.

TİCARİ AMAÇLI  
KULLANILAMAZ.

Not: Soruların hazırlanmasında Milli Eğitim Bakanlığı'na bağlı devlet okullarında okutulan Sosyal Bilgiler ders kitaplarındaki içerik ve görsellerden faydalanılmıştır.