

ÜNİTE 3 YERYÜZÜNDE YAŞAM

Konu: Dünyanın Neresindeyiz

1. Dünyayı ortadan iki eşit parçaya ayırdığı kabul edilen hayali çizginin adıdır.

Haritalarda kullanılan küçültme oranıdır.

Yeryüzünün ya da bir parçasının kuşbakışı görünüşüyle belli bir orana göre küçültülüp bir düzlem üzerine geçirilmesidir.

Yukarıdaki tanımlarda aşağıdaki kavramlardan hangisine yer verilmemiştir?

- A) Ölçek B) Harita
C) Ekvator D) Konum

2.

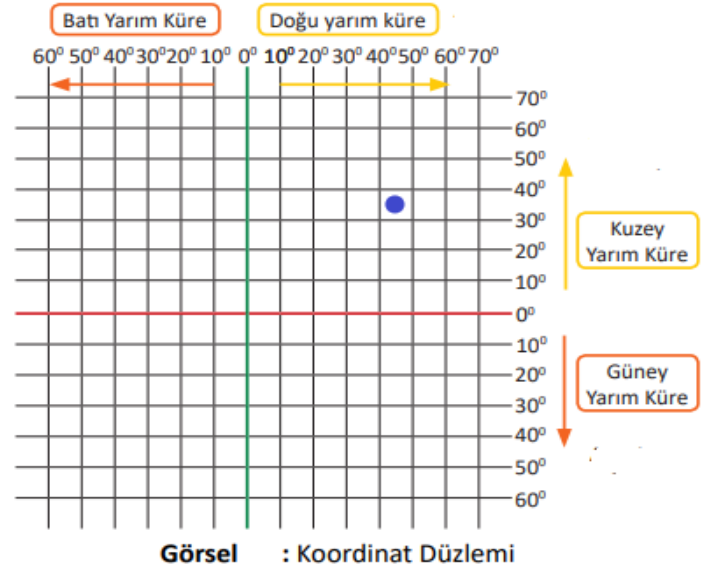


Yukarıdaki arabalar aynı anda aynı yöne doğru hareket ediyor. Arabalar 600 km yol aldıktan sonra "SARI" arabanın daha fazla meridyen geçmiş olduğu gözlemleniyor.

Sarı arabanın daha fazla meridyen geçmiş olması aşağıdakilerden hangisiyle açıklanabilir?

- A) Dünyanın şekli
B) Paraleller arası mesafenin eşit olması
C) Meridyenlerin boylarının eşit olması
D) Arabaların ekvatora eşit mesafede bulunması

3.



Yukarıdaki görselde mavi renk ile işaretlenen alanın kordinat sistemine göre yerini aşağıdakilerden hangisi tanımlar?

- A) 30°- 40° güney paralelleri ile 40° - 50° batı meridyenleri
B) 30°- 40° kuzey paralelleri ile 40° - 50° doğu meridyenleri
C) 40°- 50° kuzey paralelleri ile 30° - 40° batı meridyenleri
D) 40°- 50° güney paralelleri ile 30° - 40° doğu meridyenleri

4. Aşağıdaki ifadeler "DOĞRU (D) ve YANLIŞ (Y)" olma durumuna göre değerlendirilecektir.

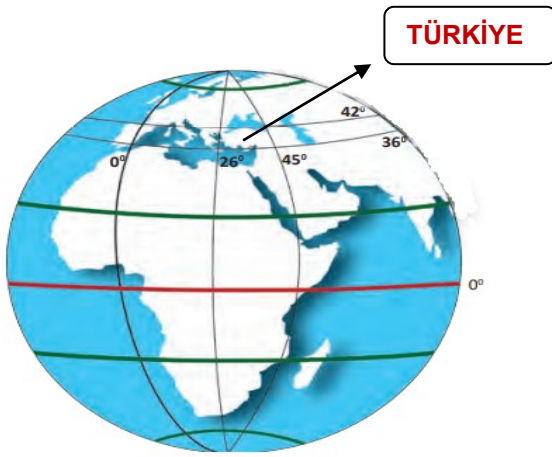
Ekvator dünyayı iki eşit parçaya böler.	
Dünya üstünde 360 paralel dairesi bulunur.	
Başlangıç meridyeni ekvatordur.	
Meridyenlerin boyları eşittir.	

Buna göre hangi seçenekte uygun biçimde kodlanmıştır?

- A) DDYY B) DYDY
C) DYYD D) DYDD

ÜNİTE 3 YERYÜZÜNDE YAŞAM

5.



Yukarıdaki görsele göre;

- I. Ülkemiz 36° ve 42° kuzey paralelleri arasında yer alır,
- II. Ülkemiz topraklarından 19 meridyen geçer,
- III. Ülkemizin güney yarım kürede toprakları bulunur,

bilgilerinden hangilerine ulaşılabilir?

- | | |
|-------------|-----------|
| A) I-II | B) II-III |
| C) I-II-III | D) I-III |

6.



Yukarıdaki haritada ülkemizin mutlak konum değerleri gösterilmiştir.

Buna göre Türkiye;

- I. Başlangıç meridyeninin batısında yer alır,
- II. Ekvatora göre kuzeydedir,
- III. Dağların güney yamaçları daha çok güneş alır,

bilgilerinden hangilerine ulaşılabilir?

- | | |
|-------------|-----------|
| A) I-II | B) II-III |
| C) I-II-III | D) I-III |

Konu: Dünyanın Neresindeyiz

7. Dünya üzerindeki bir yerin kıtalara, okyanuslara, geçitlere, ticaret yollarına vb. olan uzaklığı o yerin göreceli (özel) konumunu verir.

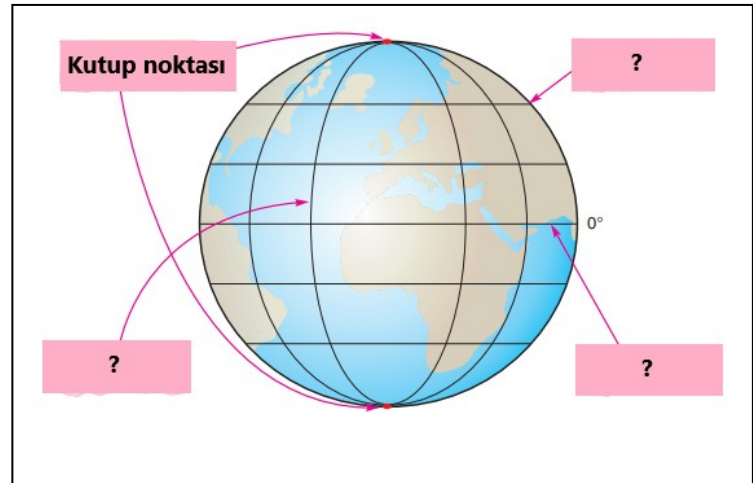
Buna göre;

- I. Ülkemizin üç tarafının sularla çevrili olması,
- II. Önemli yeraltı kaynaklarına sahip olması,
- III. Aynı anda farklı iklim özelliklerinin yaşanabilmesi,

özelliklerinden hangileri göreceli konumunun sonuçları arasında yer alır?

- | | |
|-------------|-----------|
| A) I-II-III | B) II-III |
| C) I-II | D) I-III |

8.



Yukarıdaki görselde “?” ile boş bırakılan alanlara aşağıdaki kavramlardan hangisi yazılamaz?

- A) Meridyen
- B) Ekvator
- C) Geoid
- D) Paralel

ÜNİTE 3 YERYÜZÜNDE YAŞAM

9.



Yukarıdaki dünya haritasına göre kıtaların konumlarına bakarak;

- I. Kuzey yarım kürede bulunan kıtalar hangileridir?
- II. Her iki yarım kürede toprağı bulunan kıtalar nelerdir?
- III. Nüfusu en fazla olan kıta hangisidir?

sorularından hangilerine yanıt bulunabilir?

- A) I-II-III B) II-III C) I-II D) Yalnız I

10.

PARALELLERİN ÖZELLİKLERİ

MERİDYENLERİN ÖZELLİKLERİ

I. Aralarındaki mesafe 111 km'dir ve dünyanın her yerinde eşittir.	Ardışık iki meridyen arasında 4 dakika zaman farkı bulunur.
II. Boyları eşittir.	Boyları kutuplara gidildikçe kısalır.
III. Ekvatorun kuzeyinde bulunanlar kuzey paralelleri olarak isimlendirilir.	Başlangıç meridyeni Griniç'tir.
IV. Toplam 180 tanedir.	Toplam 360 tanedir.

Tablodaki bilgilerin doğru olabilmesi için hangi satırdaki bilgilerin yer değiştirmesi gerekir?

- A) I B) II C) III D) IV

CEVAPLAR

1	A	B	C	<input checked="" type="radio"/>
2	<input checked="" type="radio"/>	B	C	D
3	A	<input checked="" type="radio"/>	C	D
4	A	B	<input checked="" type="radio"/>	D
5	<input checked="" type="radio"/>	B	C	D
6	A	<input checked="" type="radio"/>	C	D
7	<input checked="" type="radio"/>	B	C	D
8	A	B	<input checked="" type="radio"/>	D
9	A	B	<input checked="" type="radio"/>	D
10	A	<input checked="" type="radio"/>	C	D

ÖNEMLİ HATIRLARMA:

UZAKTAN EĞİTİM FAALİYETLERİ
KAPSAMINDA EBA VEYA
WHATSAPP PLATFORMLARINDA
PAYLAŞIMA AÇIKTIR.

**TİCARİ AMAÇLI
KULLANILAMAZ.**