

ADI VE SOYADI :

SINIF :/..... NO:.....

	A	B	C	D
1				
2				
3				
4				
5				
6				
7				
8				
9				
10				

000

BAŞARILAR

000

1

Aşağıdakilerden hangisi tüketim aşamasıdır?

A)



B)



C)



D)



2

Yunus Bey, ülkemizde sanayisi en gelişmiş ve nüfusu en fazla olan şehrimiz İstanbul'un da içinde bulunduğu bölgemizde iş bulmuştur.

Buna göre Yunus Bey hangi bölgede yaşıyordu?

A

Marmara Bölgesi

B

Akdeniz Bölgesi

C

Karadeniz Bölgesi

D

Doğu Anadolu Bölgesi

3

Aşağıdaki doğal afetlerden hangisi Türkiye'de can ve mal kaybına daha çok sebep olur?

A) Kuraklık



B) Toprak Kayması



C) Sel



D) Deprem



4

HAVA DURUMU



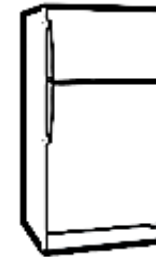
Günlük hava durumunu öğrenmek isteyen bir kişi en doğru bilgiye ulaşmak için aşağıda yer alan internet adreslerinden hangisinden faydalanmalıdır?

A) Türk Dil Kurumu (www.tdk.gov.tr)B) Meteoroloji Genel Müdürlüğü (www.mgm.gov.tr)C) Millî Eğitim Bakanlığı (www.meb.gov.tr)D) Merkezî Hekim Randevu Sistemi (www.mhrs.gov.tr)

5

Aşağıdaki teknolojik ürünlerden hangisi toplumsal yaşamda düzeni sağlamaya yöneliktir?

A)



Buzdolabı

B)



Otomobil

C)




Trafik Lambası


D)





Telefon

Aşağıdaki öğrencilerden hangisi ifadesinde teknolojik ürünlerin zararlarından söz etmiştir?

- A)  Öğretmenimizin verdiği ödevi internette araştırdım.

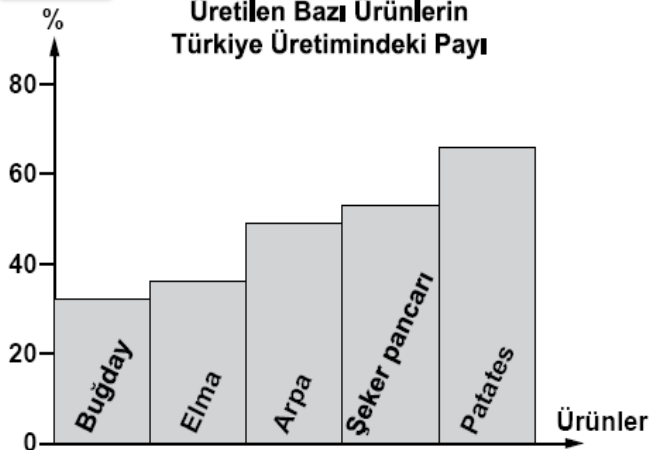
B)  Televizyonda güzel bir dizi vardı. Onu izledim, ödevlerimi yapamadım.

C)  Çamaşırlarım makinede kısa sürede temizlendi.

D)  Yemek buzdolabında taze kalmış, yemek yapmaya gerek yok.

7

**İç Anadolu Bölgesi'nde
Üretilen Bazı Ürünlerin
Türkiye Üretimindeki Payı**



Grafikte verilenler, hangi ekonomik faaliyetten elde edilirler?

- A) Tarım
B) Hizmet
C) Madencilik
D) Sanayi

8



Fiziki haritalarda kullanılan mavi renk ve tonları aşağıdakilerden hangisini gösterir?

- A) Dağ ve tepeleri
B) Ova ve platoları
C) Deniz, göl ve akarsuları
D) Orman, çayır ve meraları

9



GÜÇLÜ ŞİFRE İÇİN

*Tahmini zor ve farklı karakterlerden oluşan şifreler kullanılmalıdır.

*Doğum tarihi, 1234567 gibi ardışık sayılar ya da kendinizle ilgili kolay tahmin edilecek şifreler kullanılmamalıdır.

*Şifreler kimseyle paylaşılmamalı ve 6 ayda bir değiştirilmelidir.

Buna göre sanal ortamda şifre almak isteyen Nil için aşağıdakilerden hangisi daha güvenli olur?

- A) 1234NiL B) NiL2012
- C) 6543210 D) 3+5Hb9*

10

Aşağıda hammaddesi ve ürünü verilen eşleştirmelerden hangisi yanlıştır?

- A) Domates - Salça



- B) Pamuk - Tişört



- C) Ayçiçeği - Tereyağı



- D) Buğday - Ekmek



Ekrem ÜÇTEPE Sami MİNTEMUR
Sosyal Bilgiler Öğretmenleri

