










ADI:	SOYADI:	SINIF/NO:	PUAN:
		A	○
<b>5. SINIFLAR 2. DÖNEM 2. YAZILI SORULARI</b>			
<ul style="list-style-type: none"> <li>• Yol, su, kanalizasyon gibi altyapı çalışmaları yaparım.</li> <li>• Satılan ürünlerin sağlığa uygunluğunu denetlerim.</li> <li>• Çöpleri toplar, çevrenin temizliği için gerekli tedbirleri alırım.</li> <li>• Parklar inşa eder, bunların bakımını yaparım.</li> </ul>		 <p><b>1-Yandaki metinde kendisini tanıtan hangi yerel yöneticidir?</b>  A-MUHTAR                      B-BELEDİYE BAŞKANI  C-VALİ                              D-KAYMAKAM</p>	
Akdeniz Bölgesi'nin geniş kıyılara sahip olması, bölgede yaz mevsiminin uzun sürmesi turizm faaliyetlerinin gelişmesini sağlamıştır.		<p><b>2-Açıklamaya göre Akdeniz Bölgesinde hangi Ekonomik Faaliyet ve Mesleğin gelişmesi beklenilir?</b>  A-Otel işletmeciliği-Madenci                      B-Ormancılık – Keresteci  C-Otel işletmeciliği- Turist Rehberi                      D- Hayvancılık-Veteriner</p>	
Karadeniz Bölgesi dört mevsim yağış aldığı için orman bakımından en zengin bölgemizdir. Bu nedenle ormancılık bölgenin önemli bir ekonomik faaliyetidir		<p><b>3-Açıklamaya göre Karadeniz Bölgesinde hangi Ekonomik Faaliyet ve Mesleğin gelişmesi beklenilir?</b>  A-Otel işletmeciliği-Madenci                      B-Ormancılık – Keresteci  C-Otel işletmeciliği- Turist Rehberi                      D- Hayvancılık-Veteriner</p>	
Doğu Anadolu Bölgesi'nde yaz mevsiminin yağışlı geçmesi nedeniyle otlaklar geniş yer kaplar		<p><b>4-Açıklamaya göre Doğu Anadolu bölgesinde hangi ekonomik faaliyet ve mesleğin gelişmesi beklenilir?</b>  A-Otel işletmeciliği-Madenci                      B-Ormancılık – Keresteci  C-Otel işletmeciliği- Turist Rehberi                      D- Hayvancılık-Veteriner</p>	
Arda peyniri atmak zorunda olduklarını ve paralarının boşa gittiğini düşünerek üzüldü. Bunun üzerine annesi Arda ile birlikte markete gitti. Marketteki görevli peyniri incelediğinde gerçekten bozuk olduğunu anladı. Arda'nın alışveriş esnasında aldığı fişi kontrol ederek peyniri yenisi ile değiştirdi.		<p><b>5-Arda'nın metinde geçen açıklamalarda alışverişte, hangi kuralı ihlal etmesi, bozuk bir peynirle karşılaşmalarına yol açmış olabilir?</b>  a-Alışverişi küçük bir marketten yapmaları  b-Tüketici haklarına dilekçe yazmamaları  c-Ürünün son kullanma tarihine bakmamaları  d- Ürünü , eve gelince hemen açmaları</p>	
Tüketici Hakları Kanunu. Kanundan yararlanabilmek için bazı sorumluluklarımızı yerine getirmeliyiz . Öncelikle ürünü nereden ve ne zaman aldığımızı kanıtlamamız gerekir. Bunun içinde bize verilen ..... saklamalıyız		<p><b>6-Boş bırakılan yere gelmesi gereken bilgi nedir?</b>  A-Dilekçeyi    B-Nüfus Cüzdanını  C- Para Üstünü    D- Fiş Veya Faturayı</p>	
Mehmet not alırken hangi bilgiyi hangi kaynaktan aldığını yazmayı da unutmadı. Çünkü derste kaynakları belirtmenin yapılan araştırmanın bilimsel ve güvenilir olduğunu gösterdiğini öğrenmişti. Öğretmenin söylediği: <b>“Eşyalar gibi fikirlerde değerlidir. Nasıl bir eşyayı sahibinden izinsiz kullanmıyorsak, kitaplardan da yararlanırken yazarını belirtmeliyiz. Çünkü bu eserler yazarların fikirleridir.”</b> sözünü hatırladı.		<p><b>7-Bilimsel bir araştırma veya proje ödevlerimizde yararlandığımız kaynakları belirtmenin veya dipnot kullanmanın önemi nedir?</b>  a-Çalışmamızın bilimselliği ve yazarın emeğine saygı için  b-Dersten daha iyi puan almak için  c-Kendi çalışmamızın diğerinden güzel olması için  d-Ödül alabilmek için</p>	
 <p><i>Küçük yaşta matematik, astronomi, fizik, felsefe, kimya ve tıp gibi farklı bilimleri merak etmeye başladım. Zamanımın büyük bölümünü kitap okumaya ayırdım. Öğrendiklerimi sorguladım, doğruluğunu araştırdım. Bunun için farklı bitkileri kullanarak deneyler yaptım. Tıp alanında çalışmalara ağırlık verdim. Hastaları iyileştirmek için gece geç saatlere kadar sabırla yılmadan çalıştım. Hükümdarın hasta oğlunu iyileştirdiğimde hükümdardan yalnızca sarayın kütüphanesinde çalışmama izin vermesini istedim. Hiçbir zaman başarısızlıktan korkmadım ve çalışmaktan vazgeçmedim.</i></p>		 <p><b>8-Parçada tanıtılan El Kanun Fit Tıp kitabının da yazarı olan Türk İslam Bilgini Kimdir?</b>  a-İbni Sina    b- Edison  c-İbni Haldun    d-Cezeri</p>	
Akşam oturmaları dediğimiz bir güzellik vardı. Benim bile hatırlayabileceğim bir geçmiş zamana dayanan bu güzellikte komşulara gidilir ve gerçekten sohbet edilirdi. Çocuklar oyunlar oynar, büyükler demli çay kıvamında sıcak sohbetler ederdi. Ne zaman ki evlerin başköşesini televizyonlar almaya başladı, yavaş yavaş kopmaya başladık kendimizden.		 <p>1. Telefonda Mesaj geç</p> 	
<p><b>9-Parçada anlatılmak istenen ana fikir nedir?</b>  a- Teknolojik cihazlar sayesinde bilgiye kolay ve hızlı ulaşılması  b- Uzaktaki ülkelerde olup bitenleri öğrenmemizin mümkün olması  c- Yüz yüze iletişimin ve komşuluk ilişkilerinin zayıflaması  d- Teknolojik aletlerle zamandan tasarruf sağlanması</p>			

<p>İyi bilinen, güvenilir sitelerden alışveriş yapıyorlar. Ödeme sayfasının güvenli olduğunu anlamak için adres çubuğunda “https” yazdığından emin oluyorlar. Parola ve şifre gibi bilgilerini kimseyle paylaşmıyorlar. Ödemede kişisel bilgileri girilirken sanal klavye kullanıyorlar.</p>	<p>10-Yandaki metinde verilen bilgiler hangi soruya cevap olarak yazılmıştır?  <b>a-İnternette ucuza ürün alabilir miyim?</b>  <b>b-İnternet faturamı fiyatını nasıl azaltırım?</b>  <b>c- İnternette doğru ve güvenilir alışveriş nasıl olmalı?</b>  <b>d-İnternette neden alışveriş yapılmaması gerektiği?</b></p>
<p>11- Aşağıdakilerden hangisi sivil toplum kuruluşlarının faaliyet alanlarından biri değildir?  A) Hayvanların korunması B) İhtiyaç sahiplerine yardım  C) Suçluların cezalandırılması D) Eğitim faaliyetlerinin desteklenmesi</p>	
<p>Toprağın, suyun veya rüzgârın etkisi ile aşınıp taşınmasıdır. Bu sırada değerli ve verimli toprak kaybedilir. Ülkemizde bu afet daha çok yoğun olarak İç Anadolu ve Güneydoğu Anadolu’da görülmektedir. Bunun nedeni, bu bölgelerin bitki örtüsünün zayıf olmasıdır.</p>	<p>12-Hangi <b>Doğal afet</b>in tanımı yapılmaktadır?  A-HEYELAN B-SEL C-EROZYON D- ÇİĞ</p>
<p>13-Marmara bölgesi ile ilgili hangi bilgi doğrudur?  a-Her mevsimi yağışlı bir bölgemizdir  b-Ülkemizin en çok göç veren bölgesidir  c-Bölgenin sosyal ve ekonomik yaşam gelişmiştir  d- En önemli madenler bu bölgeden çıkarılır</p>	<div data-bbox="699 719 839 913" data-label="Image"> </div> <p>Ben Marmara Bölgesi’nde yaşıyorum. Marmara Bölgesi yükseltisi en az olan bölgedir, bu nedenle ulaşım kolaydır. Verimli tarım alanlarının yanı sıra ılıman bir iklime sahiptir. Sanayisi en gelişmiş bölgedir. Ticaret, bankacılık, ulaşım ve turizmin merkezidir. İş imkanlarının fazlalığı nedeniyle bölgemiz sürekli göç alır. Bunda bölgenin sahip olduğu eğitim, sağlık imkânları ve sosyal imkanlar etkilidir. İstanbul hem bölgenin hem de ülkemizin en kalabalık kentidir.</p>
<p>14-  Çay üretimi için ılıman iklim ve bol yağışa ihtiyaç vardır. Ülkemizde bu bitki sadece bu Bölgesi’nin doğusunda yetişir. BU İKLİM HANGİSİDİR?  .....</p>	<div data-bbox="699 1010 839 1207" data-label="Image"> </div> <p>Bu ikliminin görüldüğü yerler turuncgillerin üretimi için elverişlidir. Turuncgiller kış aylarında sıcaklığın çok düştüğü yerlerde yetişemez. BU İKLİM HANGİSİDİR?</p> <div data-bbox="1401 981 1528 1196" data-label="Image"> </div>
<p>15-Sümerler Ziggurat adı verilen çok katlı, tapınaklar inşa etmişler. Bu yapıları aynı zamanda tahıl ürünleri için depo ve gök cisimlerini gözlemlemek için kullanmışlardır. Buna göre Sümerlerle ilgili aşağıdaki yargılardan hangisine <b>ULAŞILAMAZ</b>?  A) Tarımla uğraşmışlardır.  B) Bilimsel çalışmalar yapmışlardır.  C) Mimari eserler inşa etmişlerdir.  D) Komşularıyla barış içinde yaşamışlardır</p>	
<p>I. Sultan Ahmet Çeşmesi II. İznik çinisi III. Kayseri mantısı  16-Yukarıdaki kültürel öğeler sırasıyla aşağıdakilerden hangilerine örnektir?  A) I El sanatı , II Giyim, III Festival, şenlik  B) I Mimari, II El sanatı , III Yemek  C) I Mimari, II Türkü, III Halk oyunu  D) I Halk oyunu II El sanatı , III Yemek</p>	
<p>17-Tatilde çok sayıda <b>tarihî eser</b> gördüğünü söyleyen biri aşağıdakilerden hangisini örnek verebilir?  A) Tortum şelalesi B) Kaz dağları C) Van Gölü D) Sümela Manastırı</p>	
<p><b>EĞİTİM</b></p> 	<p><b>SAĞLIK</b></p>   
<p>18-Resimde verilen kurumların ortak özelliği nedir?  <b>a-Sivil toplum kuruluşu olmaları</b>  <b>b-Resmi kurumlar olmaları</b>  <b>c- Eğitime destek vermeleri</b>  <b>d- Kanunlarımızı hazırlamaları</b></p>	

19-Aşağıda yazılı olan bilgilerin yanına doğru bilgileri yazınız

( **BAŞBAKAN-BELEDİYE BAŞKANI-MUHTAR-VALİ-KAYMAKAM-HAKİM-TBMM BAŞKANI**)

- İçişleri Bakanlığı tarafınca görevlendirilirim. Bir İli yönetirim, merkeze bağlı bir yöneticiyim. Ben KİMİM? .....
- Halkın oylarıyla seçilirim köy veya mahallerin çeşitli iş ve sorunlarını takip eden yerel bir yöneticiyim. Ben KİMİM? .....
- İçişleri Bakanlığı tarafından görevlendirilirim. İlçeyi ben yönetirim. Merkeze bağlı bir yöneticiyim. Ben KİMİM? .....
- İl, ilçe ve beldelerde Seçimle göreve gelirim, yol, su ,çevre temizliği, park ve bahçeler vb altyapı hizmetlerini yürüten yerel bir yöneticiyim. Ben KİMİM? .....

Atalarım gökten yere  
İndirmişler ay yıldızı  
Bir buluta sarmışlar ki  
Rengi şafaktan kırmızı  
Hasan Âli Yücel

20-Yukarıdaki şiirde şair **bağımsızlık** sembollerimizin hangisinden söz etmektedir?

**A) TBMM**                      **B) Bayrak**                      **C) Millî marş**                      **D) Başkent**

21-Yerel ve genel seçimlerde oy kullanmak için sandık başına giden bir kişi aşağıdaki haklarından hangisi kullanmıştır?

**A) Sosyal güvenlik**                      **B) Haberleşme**                      **C) Toplantı**                      **D) Katılım**

22- Çocuk Haklarına Dair Sözleşme'nin 12. Maddesi 'Çocuğun Katılım Hakkı' kendi görüşlerini oluşturma yeteneği olan her çocuğun kendini etkileyecek her konuda görüşlerini serbestçe ifade etmesi anlamını taşımaktadır. Buna göre aşağıdakilerden hangisi katılım hakkına örnek gösterilemez?

- A) Okul öğrenci temsilcisi seçimlerinde aday olmak
- B) Hastalığımızın tedavisi için hastaneye gitmek
- C) Okulda yaşamımızı etkileyen konularda görüşlerimizi belirtmek
- D) Çevremizdeki sorunlarla ilgili düşüncelerimizi yetkililere iletmek

23-Türkiye'de ulusal egemenliğin yönetime yansıdığı ve yasaların yapıldığı kurum aşağıdakilerden hangisidir?

- A) Türk Dil Kurumu                      B) Türk Tarih Kurumu
- C) Türkiye Büyük Millet Meclisi                      D) Merkez Bankası

24-Doğal çevrede meydana gelen değişimlerin bazıları doğal yolla gerçekleşirken, bazıları da beşeri etkilerle ortaya çıkmaktadır. Bir yeri yaşam alanı olarak seçen insanlar o yerdeki doğal kaynakları kullanır. İnsanlar bunu yaparken bazen çevreye zarar verirler, doğal dengeyi bozarlar. Doğal dengenin bozulmasıyla da çevre sorunları ortaya çıkar. Hangisi çevreye zarar veren bir davranış **OLAMAZ**?

- a-Fabrika atıklarının su ve toprağa bırakılması**
- b-Atık pillerin çevreye bırakılması**
- c- Çöplerin ayrıştırılarak geri dönüşüm tesislerinde işlenmesi**
- d-Orman arazilerinin tarlaya dönüştürülmesi**

25-Madde 26- Herkes, düşünce ve kanaatlerini söz, yazı, resim veya başka yollarla tek başına veya toplu olarak açıklama ve yayma hakkına sahiptir. Aşağıdakilerden hangisi anayasa maddesine **uygun olmayan** bir durumdur?

- a- Derste söz alıp konuşmamız
- b- Bir sorun hakkında görüşlerimizi açıklamamız
- c- Büyüklerin olduğu ortamlarda sohbete katılmamalıyız

d- İhtiyacımız olan bir eşyanın ne olduğunu söylememiz